



**PREFEITURA MUNICIPAL DE ITAPEVI**  
ESTADO DE SÃO PAULO

CONCURSO PÚBLICO

**032. PROVA OBJETIVA**

**ANALISTA EM GESTÃO PÚBLICA**

- ◆ Você recebeu sua folha de respostas e este caderno contendo 50 questões objetivas.
- ◆ Confira seus dados impressos na capa deste caderno e na folha de respostas.
- ◆ Quando for permitido abrir o caderno, verifique se está completo ou se apresenta imperfeições. Caso haja algum problema, informe ao fiscal da sala.
- ◆ Leia cuidadosamente todas as questões e escolha a resposta que você considera correta.
- ◆ Marque, na folha de respostas, com caneta de tinta preta, a letra correspondente à alternativa que você escolheu.
- ◆ A duração da prova é de 3 horas, já incluído o tempo para o preenchimento da folha de respostas.
- ◆ Só será permitida a saída definitiva da sala e do prédio após transcorridos 75% do tempo de duração da prova.
- ◆ Ao sair, você entregará ao fiscal a folha de respostas e este caderno, podendo levar apenas o rascunho de gabarito, localizado em sua carteira, para futura conferência.
- ◆ Até que você saia do prédio, todas as proibições e orientações continuam válidas.

**AGUARDE A ORDEM DO FISCAL PARA ABRIR ESTE CADERNO DE QUESTÕES.**

Nome do candidato \_\_\_\_\_

RG \_\_\_\_\_

Inscrição \_\_\_\_\_

Prédio \_\_\_\_\_

Sala \_\_\_\_\_

Carteira \_\_\_\_\_



## CONHECIMENTOS GERAIS

### LÍNGUA PORTUGUESA

Leia o texto para responder às questões de números **01** a **09**.

*“Tire suas próprias conclusões”*

Essa é a frase que mais tenho ouvido recentemente. Passada a euforia de uma notícia qualificada como “bomba”, logo os atores de uma das partes corriam a público para disponibilizar a íntegra daquilo que antes foi veiculado em partes.

É preciso saber de tudo e entender de tudo. É preciso tirar as próprias conclusões para não depender de ninguém, e é esse o grande e contraditório imperativo dos nossos tempos. É uma ordem a uma experimentação libertária, e uma quase contradição do termo. O imperativo que liberta também aprisiona: você só passa a ser, ou a pertencer, se tiver uma conclusão. Sobre qualquer coisa.

Nas últimas décadas psicanalistas se debruçaram sobre as mudanças nos arranjos produtivos e sociais de cada período histórico para compreender e nomear as formas de sofrimento decorrentes delas. A revolução industrial, a divisão social do trabalho, a urbanização desenfreada e as guerras, por exemplo, fizeram explodir o número de sujeitos impacientes, irritadiços e perturbados com a velocidade das transformações e suas consequentes perdas de referências simbólicas.

Pensando sobre o imperativo “Leia/Veja/Assista” e “Tire suas próprias conclusões”, começo a desconfiar de que estamos diante de uma nova forma de sofrimento relacionado a um mal-estar ainda não nomeado.

Afinal, que tipo de sujeito está surgindo de nossa nova organização social? O que a vida em rede diz sobre as formas como nos relacionamos com o mundo? Que tipos de valores surgem dali? E, finalmente, que tipo de sofrimento essa vida em rede tem causado?

Vou arriscar e sair correndo, já sob o risco de percorrer um campo que não é meu: estamos vendo surgir o sujeito preso à ideia da obrigação de ter algo a dizer. Ao longo dos séculos essa angústia era comum aos chamados formadores de opinião e artistas, responsáveis por reinterpretar o mundo. Hoje basta ter um celular com conexão 3G para ser chamado a opinar sobre qualquer coisa. Pensamos estar pensando mesmo quando estamos apenas terceirizando convicções ao compartilhar aquilo que não escrevemos.

É uma nova versão de um conflito descrito por Clarice Lispector a respeito da insuficiência da linguagem. Algo como: “Não só não consigo dizer o que penso como o que penso passa a ser o que digo”. Se vivesse nas redes que atribuem a ela frases que jamais disse, o “dizer” e o “pensar” teriam a interlocução de um outro verbo: “compartilhar”.

(Matheus Pichonelli, *Carta Capital*. 18.03.2016.  
www.cartacapital.com.br. Adaptado)

- 01.** Na opinião do autor, o mal-estar provado pelos indivíduos atualmente está relacionado com
- (A) a obrigação de produzir conteúdos que sejam instigantes e inéditos.
  - (B) o imperativo de consultar fontes de informação dignas de credibilidade.
  - (C) a exigência de ter de emitir uma opinião sobre qualquer assunto.
  - (D) a perda de referências simbólicas que impulsionou a revolução industrial.
  - (E) o fato de não haver valores éticos sólidos balizando os formadores de opinião.
- 02.** No contexto do segundo parágrafo, a “experimentação libertária” refere-se
- (A) a uma pretensa liberdade de interpretação sem intermediários.
  - (B) ao acesso aos canais de comunicação mais atualizados.
  - (C) a uma característica peculiar às notícias impactantes.
  - (D) à experiência de criar publicações que gerem controvérsia.
  - (E) à liberdade que a imprensa tem de defender sua ideologia.
- 03.** No sexto parágrafo, o verbo **pensar** em “Pensamos estar pensando...” veicula, em cada ocorrência respectivamente, sentidos que equivalem a
- (A) lembrar e corroborar uma opinião.
  - (B) refutar uma ideia e elucidar.
  - (C) induzir a erro e suscitar uma impressão.
  - (D) fantasiar e agir com intransigência.
  - (E) supor e conceber uma ideia.
- 04.** Da menção ao conflito descrito por Clarice Lispector, no último parágrafo, deduz-se o seguinte:
- (A) para o autor, Clarice Lispector estava equivocada ao ignorar a importância do “compartilhar” como intermediário entre o “dizer” e o “pensar”.
  - (B) ao se exprimir com exatidão o pensamento, a insuficiência da linguagem é superada, ainda que provisoriamente.
  - (C) quando o pensamento é traduzido em palavras, e essas palavras são partilhadas, exaltam-se os valores morais da sociedade.
  - (D) não é possível expressar com exatidão o que pensamos, e nos iludimos ao crer que o que dizemos equivale ao que pensamos.
  - (E) o “pensar” adquire valor a partir do momento em que encontra um equivalente no “dizer” e assume forma ao ser compartilhado.

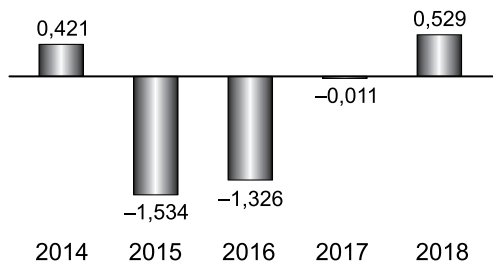
05. Assinale a alternativa em que a segunda expressão destacada denota, no contexto, um evento posterior ao designado pela primeira expressão destacada.
- (A) Passada a euforia de uma notícia **qualificada** como “bomba”, logo os atores de uma das partes **corriam** a público para disponibilizar a íntegra daquilo que antes foi veiculado em partes. (1º parágrafo)
  - (B) É preciso **saber** de tudo e **entender** de tudo. (2º parágrafo)
  - (C) O imperativo que **liberta** também **aprisiona**: você só passa a ser, ou a pertencer, se tiver uma conclusão. (2º parágrafo)
  - (D) **Pensando** sobre o imperativo “Leia/Veja/Assista” e “Tire suas próprias conclusões”, começo a desconfiar de que **estamos** diante de uma nova forma de sofrimento relacionado a um mal-estar ainda não nomeado. (4º parágrafo)
  - (E) O que a vida em rede **diz** sobre as formas como **nos relacionamos** com o mundo? (5º parágrafo)
06. No trecho – ... **você só** passa a ser, ou a pertencer, **se** tiver uma conclusão. (2º parágrafo) –, os vocábulos **você, só e se** contêm, respectivamente, os seguintes sentidos:
- (A) especificação; limitação; concessão.
  - (B) indeterminação; isolamento; modo.
  - (C) identificação; condição; reciprocidade.
  - (D) indefinição; restrição; condição.
  - (E) apelo; ênfase; finalidade.
07. A passagem do texto que, após o acréscimo da vírgula, está de acordo com a norma-padrão é:
- (A) Essa é a frase que, mais tenho ouvido recentemente. (1º parágrafo)
  - (B) É preciso tirar as próprias conclusões, para não depender de ninguém... (2º parágrafo)
  - (C) Nas últimas décadas psicanalistas se debruçaram, sobre as mudanças nos arranjos produtivos e sociais de cada período histórico... (3º parágrafo)
  - (D) Ao longo dos séculos essa angústia era comum aos chamados, formadores de opinião e artistas, responsáveis por reinterpretar o mundo. (6º parágrafo)
  - (E) Hoje basta ter um celular com conexão 3G para ser chamado, a opinar sobre qualquer coisa. (6º parágrafo)
08. Assinale a alternativa em que o trecho entre colchetes substitui o destacado, independentemente do sentido e de acordo com a norma-padrão de concordância.
- (A) Essa é a frase que mais **tenho ouvido** recentemente. [tem sido ouvido por mim]
  - (B) ... corriam a público para disponibilizar a íntegra **daquilo que antes foi veiculado** em partes. [das notícias que antes se veicularam]
  - (C) **Nas últimas décadas** psicanalistas se debruçaram sobre as mudanças... [Fazem algumas décadas que]
  - (D) Que tipos de valores **surgem** dali? [são possível surgir]
  - (E) Pensamos estar pensando mesmo quando **estamos apenas terceirizando convicções**... [houverem apenas convicções sendo terceirizadas]
09. Considere o trecho: O imperativo que **liberta** também **aprisiona**: você só passa a ser, ou a pertencer, se tiver uma conclusão. **Sobre** qualquer coisa. (2º parágrafo)
- Respeitando-se as regras de regência nominal e preservando-se o sentido original, o vocábulo destacado pode ser substituído por
- (A) De acordo com
  - (B) De encontro a
  - (C) Acima de
  - (D) Em virtude de
  - (E) A respeito de
10. Assinale a alternativa redigida em conformidade com a norma-padrão quanto às regras de regência e à ocorrência da crase.
- (A) Telejornais apresentam à população um resumo dos eventos que lhe despertaram interesse nas redes sociais.
  - (B) Indivíduos são chamados à tirar suas conclusões sobre fatos que os são apresentados diariamente.
  - (C) Cada vez mais têm chegado à mim frases das quais me fazem refletir sobre os valores da sociedade atual.
  - (D) É inegável que às redes sociais influenciam o modo como interagimos com o mundo e o damos sentido.
  - (E) Tem sido comum pessoas compartilharem informações de maneira instantânea, sem analisar-lhes à fundo.

11. Um reservatório continha, inicialmente,  $x$  litros de água. Com a adição de mais 150 litros, a quantidade de água inicial foi aumentada em  $\frac{3}{5}$  e passou a ser igual a  $\frac{2}{5}$  da capacidade total do reservatório. A capacidade total desse reservatório é de
- (A) 1250 litros.
  - (B) 1150 litros.
  - (C) 1000 litros.
  - (D) 950 litros.
  - (E) 900 litros.
12. A quantidade de metros de fio elétrico de um rolo, que não chega a 40 m, deverá ser dividida em pedaços iguais, de mesmo comprimento. Sabe-se que se os pedaços tiverem comprimento de 4 m, ou de 6 m, ou de 9 m, sempre restarão 2 m de fio no rolo. Se o electricista decidir obter o número máximo de pedaços iguais, com 7,5 m de comprimento cada um, a quantidade de fio que restará no rolo será igual a
- (A) 0,5 m.
  - (B) 1 m.
  - (C) 1,5 m.
  - (D) 1,75 m.
  - (E) 2,5 m.
13. Determinada mistura é formada por 1,6 kg do componente A e por 0,9 kg do componente B. Sabendo-se que cada 200 gramas de A e cada 200 gramas de B custam, respectivamente, R\$ 4,50 e R\$ 6,00, é correto afirmar que o custo de 0,75 kg dessa mistura é igual a
- (A) R\$ 18,90.
  - (B) R\$ 26,50.
  - (C) R\$ 33,75.
  - (D) R\$ 40,50.
  - (E) R\$ 47,25.

14. De acordo com o monitoramento por satélites feito pelo Instituto Nacional de Pesquisas Espaciais, de agosto de 2017 a julho de 2018 foram desmatados 6675 km<sup>2</sup> no bioma Cerrado, configurando uma redução de 11% em relação à área desmatada de agosto de 2016 a julho de 2017 que, por sua vez, havia apresentado um crescimento de 9% em relação à área desmatada de agosto de 2015 a julho de 2016.

A área desmatada no Cerrado, de agosto de 2015 a julho de 2016 foi de, aproximadamente,

- (A) 5980 km<sup>2</sup>.  
(B) 6250 km<sup>2</sup>.  
(C) 6760 km<sup>2</sup>.  
(D) 6880 km<sup>2</sup>.  
(E) 7170 km<sup>2</sup>.
15. No gráfico a seguir estão representados, em milhões de vagas, os saldos anuais (criação menos fechamento) do número de postos de trabalho com carteira assinada no Brasil, referentes aos anos de 2014 a 2018.

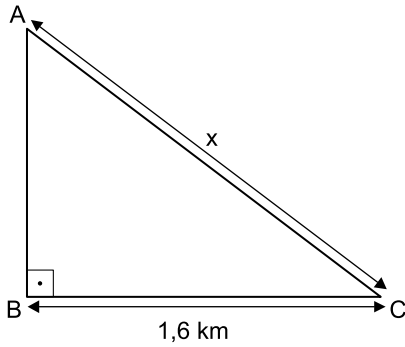


(Cadastro Geral de Empregados e Desempregados.  
*O Estado de S.Paulo*, 24.01.2019)

De acordo com os dados do gráfico, é correto afirmar que, no período considerado, o valor da média aritmética dos saldos anuais de postos de trabalho representa o fechamento de

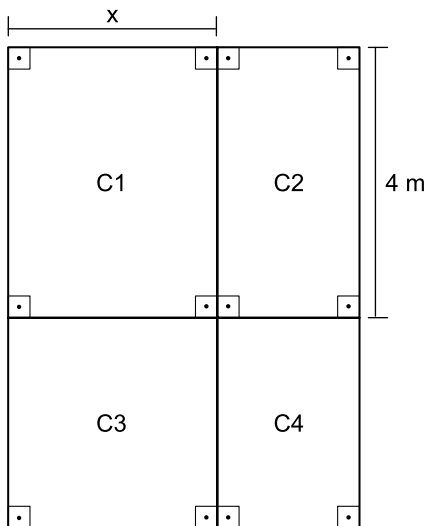
- (A) 957 000 vagas.  
(B) 764 200 vagas.  
(C) 574 200 vagas.  
(D) 479 000 vagas.  
(E) 384 200 vagas.

16. Uma gleba destinada a reflorestamento tem a forma de um triângulo retângulo ABC, conforme mostra a figura.



Se a área dessa gleba é  $0,96 \text{ km}^2$ , então a medida do lado AC, indicada por x na figura, é igual a

- (A) 2,2 km.  
 (B) 2,1 km.  
 (C) 2 km.  
 (D) 1,9 km.  
 (E) 1,8 km.
17. Um jardim, de formato retangular, é formado por 4 canteiros distintos, C1, C2, C3 e C4, sendo C3 quadrado e C1, C2 e C4, retangulares, conforme mostra a figura, cujas dimensões indicadas estão em metros.



Sabe-se que a área do canteiro C4 é igual à metade da área do canteiro C1, e que a soma das áreas de ambos é igual a  $18 \text{ m}^2$ . Nessas condições, é correto afirmar que o perímetro desse jardim é igual a

- (A) 26 m.  
 (B) 24 m.  
 (C) 22 m.  
 (D) 20 m.  
 (E) 18 m.

18. Ricardo abasteceu o tanque de combustível de seu carro com gasolina e etanol, na razão de 1 para 4, nessa ordem. Se ele tivesse colocado 4 litros de gasolina a mais e 4 litros de etanol a menos, a razão entre o número de litros de gasolina e o número de litros de etanol passaria a ser  $\frac{1}{2}$ .

O número total de litros de combustível colocados nesse abastecimento foi

- (A) 40.  
 (B) 36.  
 (C) 32.  
 (D) 30.  
 (E) 28.
19. Uma comissão formada por professores de Matemática e de Português, num total de 26 professores, elaborou um total de 150 questões para treinamento de vestibulandos. Sabe-se que cada professor de português elaborou 7 questões e cada professor de Matemática elaborou 5 questões. Nessa comissão, o número de professores de Português corresponde, do número de professores de Matemática, a
- (A) 38,5%  
 (B) 44%  
 (C) 50,5%  
 (D) 56%  
 (E) 62,5%
20. Considere um recipiente cúbico e um recipiente com formato de bloco reto retangular, ambos inicialmente vazios, cujas medidas das arestas internas estão mostradas nas figuras 1 e 2, respectivamente.

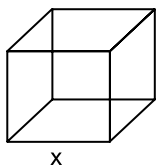


Figura 1

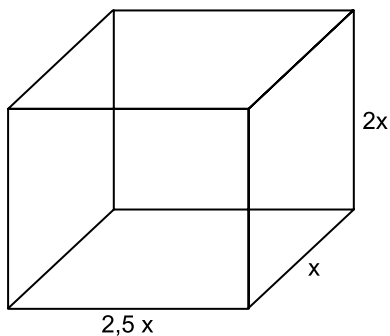


Figura 2

Com vazão constante, uma torneira enche totalmente o recipiente cúbico, sem transbordar, em 40 minutos. Aberta nas mesmas condições, essa mesma torneira irá encher totalmente o recipiente com formato de bloco retangular, sem transbordar, em

- (A) 3 horas e 40 minutos.  
 (B) 3 horas e 20 minutos.  
 (C) 3 horas e 10 minutos.  
 (D) 2 horas e 40 minutos.  
 (E) 2 horas e 20 minutos.



## ATUALIDADES

**21.** Entre 311 concorrentes, o prêmio Nobel da Paz de 2018 foi concedido hoje [05.out] a uma dupla: o congolês Denis Mukwege e a ativista do povo yazidi Nadia Murad.

(Agência Brasil. <https://bit.ly/2Nr3oAK>. Acesso em 25.jan.2019. Adaptado)

Os ganhadores do prêmio tiveram destaque

- (A) na defesa das liberdades individuais e, principalmente, dos imigrantes e refugiados africanos.
- (B) no combate à pobreza das populações que habitam os países subdesenvolvidos.
- (C) na defesa dos direitos humanos das minorias étnicas em países em conflitos armados.
- (D) nos esforços para acabar com o uso da violência sexual como arma de guerra e conflito armado.
- (E) nas campanhas de erradicação do analfabetismo entre crianças trabalhadoras.

**22.** Em 14 de novembro, a máquina mais cara e sofisticada da ciência brasileira começou a testar suas turbinas. O projeto já consumiu cerca de R\$ 1,3 bilhão (de um total previsto de R\$ 1,8 bilhão) e, quando ficar pronto, colocará o país na vanguarda das pesquisas que utilizam esse tipo de artefato, como as que envolvem a visualização em altíssima resolução de estruturas de vírus e proteínas (em busca de novas vacinas), de solo (com a ideia de aprimorar fertilizantes) e de rochas e de novos materiais (para melhorar a exploração de gás e petróleo), entre outras.

(Folha de S.Paulo. <https://bit.ly/2G1oHbX>. Acesso em 25.jan.2019. Adaptado)

O texto destaca a inauguração do acelerador de partículas que está sendo construído

- (A) em Campinas (SP).
- (B) na Base de Alcântara (MA).
- (C) no Rio de Janeiro (RJ).
- (D) em Curitiba (PR).
- (E) em Porto Alegre (RS).

**23.** “Este é o melhor acordo possível.”

A premiê britânica, Theresa May, tem repetido há semanas essa frase na tentativa de convencer o Parlamento de seu país a aprovar o acordo que ela negociou com a União Europeia, estabelecendo os termos do *Brexit* - o processo de saída do Reino Unido do bloco.

Mas, na segunda-feira [17.dez], a premiê adiou indefinidamente a votação do acordo no Parlamento, reconhecendo que ele seria rejeitado pela maioria dos parlamentares britânicos

(G1. <https://glo.bo/2FTOmUF>. Acesso em 24.jan.2019. Adaptado)

Tem sido considerado como o ponto mais delicado do acordo para viabilizar o *Brexit*

- (A) o retorno imediato dos cidadãos europeus que vivem no Reino Unido para os seus países de origem, fato que provocaria forte déficit de mão de obra no Reino Unido.
- (B) a rápida desvalorização da libra nos mercados europeu e mundial, fato que provocaria forte abalo econômico-financeiro para todo o Reino Unido.
- (C) o fechamento da fronteira entre a Irlanda do Norte (parte do Reino Unido) e a Irlanda, fato que retomaria antigas tensões entre norte-irlandeses e irlandeses.
- (D) a perda do prestígio político do Reino Unido frente à Europa, o que inviabilizaria a permanência do país na OTAN (Organização do Tratado do Atlântico Norte).
- (E) a obrigação do governo britânico em continuar recebendo grupos de refugiados do Oriente Médio e África mesmo após a saída do bloco econômico europeu.

**24.** Em 05 de dezembro, o Instituto Brasileiro de Geografia e Estatística (IBGE) divulgou uma pesquisa denominada Síntese de Indicadores Sociais (SIS) que utiliza e compara dados socioeconômicos dos dois últimos anos para retratar a situação atual da população brasileira.

(G1. <https://glo.bo/2KX2fRR>. Acesso em 29.jan.2019. Adaptado)

A pesquisa mostrou que

- (A) o trabalho com carteira assinada cresceu entre os jovens.
- (B) a diferença salarial entre homens e mulheres foi reduzida.
- (C) o trabalho infantil apresentou expressivo declínio.
- (D) a proporção de crianças no conjunto da população aumentou.
- (E) a desigualdade social e a pobreza tiveram aumento.

25. O recém-empossado presidente da República, Jair Bolsonaro, assinou, nesta terça-feira (02.01), três decretos e uma medida provisória. Dentre as primeiras ações tomadas está a Medida Provisória (MP) que reestrutura a Esplanada dos Ministérios e estabelece a organização básica dos órgãos da presidência da República e dos ministérios. O documento confirma a estrutura de governo já anunciada, com 22 pastas, algumas delas com competências ampliadas.

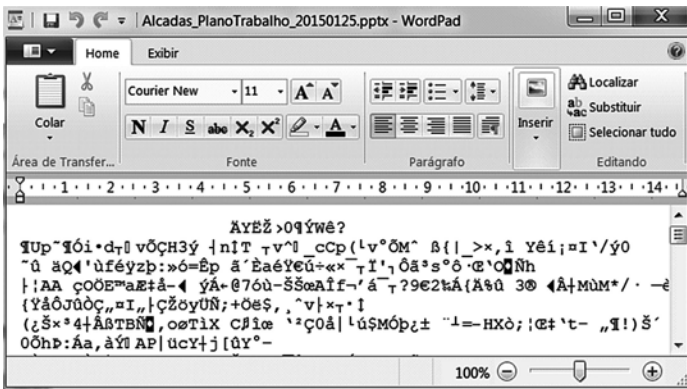
(UOL. <https://bit.ly/2Upz5hO>. Acesso em 25.jan.2019. Adaptado)

Na nova estrutura ministerial destaca-se o Ministério

- (A) da Agricultura, Pecuária e Abastecimento que incorpora as políticas de criação e conservação da infraestrutura.
- (B) da Cidadania que incorpora as ações que envolvem o desenvolvimento social, a cultura e os esportes.
- (C) das Relações Exteriores que incorpora o comércio internacional e os estudos sobre a balança comercial.
- (D) da Justiça que incorpora a regulamentação das políticas dos direitos humanos e a demarcação de terras indígenas.
- (E) do Meio Ambiente que incorpora setores da tecnologia e pesquisa de fontes de energia renováveis.


### NOÇÕES DE INFORMÁTICA

26. Considere a janela do WordPad no MS-Windows 7, em sua configuração original, apresentada a seguir na qual se verifica a tentativa de se editar um arquivo.



O WordPad não conseguiu interpretar o arquivo porque se trata de um(a)

- (A) planilha eletrônica do Excel e o WordPad entende documentos XML.
- (B) documento do Word e o WordPad entende documentos de texto sem formatação.
- (C) apresentação do PowerPoint e o WordPad entende documentos com extensão RTF.
- (D) página Web e o WordPad entende imagens JPG.
- (E) imagem JPG e o WordPad entende páginas Web.

27. Assinale a alternativa que contém pelo menos uma palavra formatada pelo ícone , encontrado no grupo Fonte da guia Página Inicial, e sublinhada no MS-Word 2010, em sua configuração padrão.

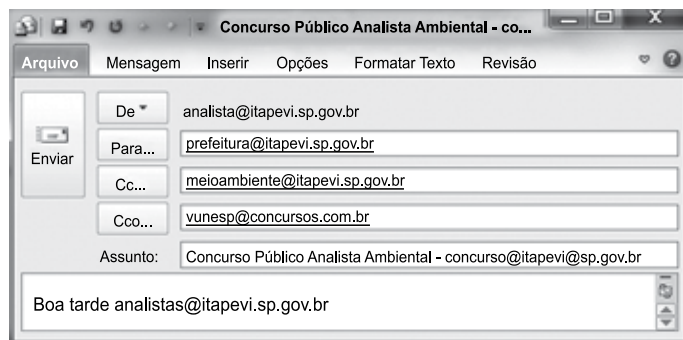
- (A) Prefeitura <sup>Municipal</sup> de Itapevi.
- (B) Prefeitura Municipal de Itapevi.
- (C) Prefeitura ~~Municipal~~ de Itapevi.
- (D) Analista Ambiental.
- (E) Analista Ambiental.

28. No MS-Excel 2010, na sua configuração padrão, assinale a alternativa que contém a situação da região norte após aplicação da fórmula =SE(D5>0;"Atrasado";SE(D5<0;"Adiantado";"No Prazo")) na célula E5 da planilha a seguir.

	A	B	C	D	E
1	<b>Laudos Ambientais</b>				
2	<b>Região</b>	<b>Data Original</b>	<b>Nova Data</b>	<b>Var Dias</b>	<b>Situação</b>
3	Leste	20/jan	02/fev	13	
4	Oeste	05/fev	25/jan	-11	
5	Norte	14/abr	14/abr	0	
6	Sul	25/jan	30/mar	64	

- (A) "Adiantado"
- (B) Adiantado
- (C) Atrasado
- (D) No Prazo
- (E) "No Prazo"

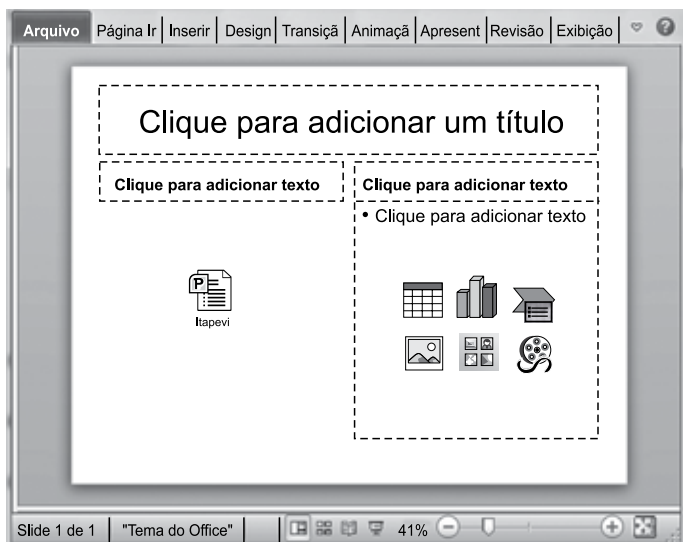
29. Observe a mensagem de correio eletrônico que está sendo digitada no MS-Outlook 2010, na sua configuração padrão, apresentada a seguir.



Assinale a alternativa que contém a conta de e-mail que também receberá a mensagem e que estará visível para o destinatário prefeitura@itapevi.sp.gov.br.

- (A) analista@itapevi.sp.gov.br
- (B) vunesp@concursos.com.br
- (C) concurso@itapevi@sp.gov.br
- (D) analistas@itapevi.sp.gov.br
- (E) meioambiente@itapevi.sp.gov.br

30. Considere o slide do MS-PowerPoint 2010, em sua configuração original, exibido na figura a seguir:



Assinale a alternativa que contém o ícone da guia Inserir que foi usado para incluir a apresentação Itapevi no slide.



- (A) Objeto
- (B) Tabela
- (C) Clip-Art
- (D) SmartArt
- (E) Formas

## CONHECIMENTOS ESPECÍFICOS

31. A atividade de protocolo se constitui em algo fundamental no setor público no que se refere à gestão documental. Assinale a alternativa que reúne atividades típicas do setor de protocolo.
- (A) Recepção, codificação, manuseio, alocação e eliminação de protocolos.
  - (B) Registro, classificação, emissão, controle e logística.
  - (C) Recepção, análise, critério de urgência, destinação e envio documental.
  - (D) Recebimento, registro, distribuição, tramitação e expedição.
  - (E) Recebimento, encaminhamento, eficiência da informação e registro de dados.
32. O Poder Executivo, de acordo com as suas atribuições, é o responsável por elaborar Portarias. Assinale a alternativa que apresenta exemplos de Portarias.
- (A) Compra de bens e serviços, emissão de normas e regulamentos dos órgãos públicos, alocação de recursos materiais.
  - (B) Contratos diversos, horários e funcionamento de órgãos públicos, mudança de leis e procedimentos.
  - (C) Nomeações, demissões, licenças por luto, saúde ou casamento de funcionários públicos.
  - (D) Emissão de pareceres, licenças diversas, medidas de ordem interna e externa, contratos e parcerias.
  - (E) Designação de chefias, demissões, promoções, compra de máquinas e equipamentos, proposição de leis.
33. Para que a gestão documental seja eficiente e eficaz, entre outras atividades, adota-se uma classificação conhecida como "teoria das três idades", na qual os arquivos recebem a seguinte denominação:
- (A) primário, secundário e terciário.
  - (B) cotidiano, específico e morto.
  - (C) único, sequencial e processual.
  - (D) curto prazo, médio prazo e longo prazo.
  - (E) corrente, intermediário e permanente.

- 34.** Os documentos redigidos de acordo com as normas de redação oficial possuem determinadas características. Assinale a alternativa que apresenta corretamente algumas dessas características.
- (A) Tratamento formal, clareza, precisão e linguagem tri-  
vial, culta e requintada.
  - (B) Impessoalidade, uso do padrão culto da língua, formalidade, clareza e concisão.
  - (C) Impessoalidade, formalidade, linguagem figurada e textos claros e extensos.
  - (D) Tratamento formal e de cortesia, linguagem requintada, clareza e extensão padrão.
  - (E) Padrão culto de linguagem, pronomes de uso padrão, linguagem figurada e clareza.
- 35.** Assinale a alternativa que apresenta, respectivamente, as características essenciais das comunicações feitas a partir de um Ofício e de um Memorando.
- (A) Comunicação expedida exclusivamente para tratar de assuntos oficiais entre órgãos da Administração Pública ou a particulares; comunicação eminentemente interna entre unidades administrativas de um mesmo órgão.
  - (B) Comunicação formal dos governos com a sociedade civil e o mercado (eminentemente externa); comunicação entre órgãos e departamentos de um mesmo setor ou área (eminentemente interna).
  - (C) Comunicação entre órgãos e departamentos de um mesmo setor ou área (eminentemente interna); comunicação formal dos governos com a sociedade civil e o mercado (eminentemente externa).
  - (D) Comunicação de projetos e ações governamentais para o âmbito externo e interno; comunicação de fatos e atos administrativos em um contexto interno e entre departamentos de uma mesma área funcional.
  - (E) Comunicação formal e entre diferentes níveis governamentais, inclusive entre governos estrangeiros; comunicação externa, mas em âmbito nacional, entre órgãos, setores e áreas administrativas da gestão pública.
- 36.** A Administração Pública pode ser classificada como direta e indireta. Assinale a alternativa cujas organizações pertencem à Administração Pública indireta.
- (A) Organizações da sociedade civil de interesse público, autarquias e empresas.
  - (B) Empresas de economia mista, fundações, organizações não governamentais e organizações da sociedade civil de interesse público.
  - (C) Autarquias, empresas públicas e fundações públicas.
  - (D) Institutos, fundações, empresas públicas e organizações da sociedade civil de interesse público.
  - (E) Empresas públicas, autarquias e organizações da sociedade civil de interesse público.
- 37.** Os Conselhos Participativos Municipais têm se constituído como espaços relevantes de debate e encaminhamento de ideias e propostas. Assinale a alternativa que apresenta algumas das principais características dos Conselhos Participativos.
- (A) Eles são formados por cidadãos eleitos pela sociedade civil e que sugerem políticas públicas, participam e fiscalizam as ações e os gastos públicos.
  - (B) Eles são formados por cidadãos, empresários e representantes do governo, que deliberam sobre as políticas públicas e vetam eventuais medidas do poder executivo.
  - (C) Eles são constituídos por técnicos e especialistas e possuem caráter consultivo no sentido de legitimar as políticas públicas propostas pelo executivo.
  - (D) Eles são constituídos por membros dos poderes executivo, legislativo e judiciário locais e membros da sociedade civil e deliberam sobre assuntos de interesse comum.
  - (E) Eles são constituídos por assessores técnicos e parlamentares locais e possuem competência técnica para emitir pareceres sobre as políticas públicas.
- 38.** No contexto da Administração de Recursos Humanos na área pública, há a investidura. Trata-se do ato de preenchimento de cargo ou emprego público, com a designação de seu titular.
- Assinale a alternativa que apresenta corretamente alguns dos requisitos para a investidura num cargo ou emprego público da União, de autarquias e de fundações públicas federais.
- (A) Ser brasileiro nato; gozar dos direitos políticos; ter nível de escolaridade exigido para o cargo e idade mínima de 21 anos.
  - (B) Possuir nacionalidade brasileira; ter competência técnica demonstrada em concurso público; ter idade mínima de 18 anos e nível de escolaridade compatível com o cargo.
  - (C) Residir em território nacional; apresentar quitação das obrigações militares e eleitorais; ter idade mínima de 20 anos e nível de escolaridade compatível com o cargo.
  - (D) Residir em território nacional; estar em dia com as obrigações civis, militares e com a receita federal; ter idade mínima de 18 anos e aptidão física e mental.
  - (E) Possuir nacionalidade brasileira; apresentar quitação das obrigações militares e eleitorais; ter idade mínima de 18 anos e aptidão física e mental.

39. Um prefeito recém-eleito de um pequeno município paulista, disposto a melhorar a educação, decidiu que deveria agir adotando como prioridade a contratação de novos professores. Nesse sentido, entrou em contato com o gestor de Recursos Humanos da Secretaria Municipal de Educação que argumentou, corretamente, o seguinte:
- (A) é possível a contratação imediata, porque foi realizado um concurso para professores há mais de 4 anos, mas não se chegou à convocação dos aprovados.
  - (B) é possível a contratação imediata, pois foi realizado um concurso para professores há menos de 2 anos da atual gestão.
  - (C) não é possível a contratação imediata de novos professores porque os concursos para docentes ocorreram há 1 ano do atual mandato.
  - (D) não é possível a contratação imediata de novos professores, pois o último concurso para docentes ocorreu há 1 ano e meio do atual mandato.
  - (E) a contratação imediata de professores depende da habilidade de o prefeito vender a ideia de “urgência” dessa demanda aos vereadores e governador.
40. Na modalidade de licitação pregão, busca-se adquirir “bens e serviços comuns”, os quais devem ser descritos de maneira suficiente e clara, sendo vedadas especificações que, por excessivas, irrelevantes ou desnecessárias, limitem a competição. Assinale a alternativa que apresenta corretamente os “bens e serviços comuns” no âmbito do pregão.
- (A) Todo e qualquer produto ou serviço que tenha serventia para a execução dos serviços públicos e atividades correlatas.
  - (B) São aqueles demandados pelo setor público, ou seja, de usufruto comum e cotidiano de funcionários públicos.
  - (C) Trata-se de produtos ou serviços que sejam eficientes e eficazes aos propósitos da gestão pública.
  - (D) Produtos e serviços cujos padrões de desempenho e qualidade possam ser objetivamente definidos pelo edital, por meio de especificações usuais no mercado.
  - (E) São aqueles que não carecem de especificações detalhadas, pois se trata de bens e serviços correntes na administração pública.
41. Os Convênios e Parcerias celebram diferentes tipos de acordos. Assinale a alternativa que descreve, correta e respectivamente, os acordos relativos aos Convênios e às Parcerias.
- (A) Os Convênios são acordos firmados entre a Administração Pública com organizações da sociedade civil de interesse público e organizações sociais, e as Parcerias se constituem a partir de acordos firmados entre distintos entes da Administração Pública.
  - (B) Os Convênios são acordos de órgãos públicos com organizações da sociedade civil e empresas, e as Parcerias são caracterizadas por aproximar diferentes entes federativos em projetos comuns.
  - (C) Os Convênios podem ser internos e externos e envolvem entes públicos e privados, e as Parcerias se caracterizam por reunir distintos entes federativos em torno de políticas públicas.
  - (D) Os Convênios caracterizam-se por acordos firmados entre distintos entes da Administração Pública, e as Parcerias são acordos firmados entre a Administração Pública e as organizações da sociedade civil de interesse público e organizações sociais.
  - (E) Os Convênios são quaisquer acordos entre o poder público e a sociedade civil, e as Parcerias se formam a partir de projetos comuns de organizações nacionais e internacionais, públicas e privadas.
42. No âmbito do financiamento público e do repasse de recursos, busca-se articular os interesses comuns e coincidentes nos diferentes níveis da gestão pública (Governos Federal, Estaduais e Municipais), assim como os dos governos com os das organizações da sociedade civil sem fins lucrativos. Como se denominam esses repasses de recursos?
- (A) Transferências voluntárias, pelas quais se transferem recursos da União para os outros entes da Federação, e transferências de recursos a entidades sem fins lucrativos.
  - (B) Transferências compulsórias, pelas quais se transferem recursos da União para os outros entes federativos, e transferências voluntárias a entidades sem fins lucrativos.
  - (C) Transferências intergovernamentais, pelas quais os recursos públicos são compartilhados, e transferências civis para organizações não governamentais.
  - (D) Repasse involuntário, pelo qual se transferem recursos da União para os outros entes federativos, e transferência de recursos para organizações públicas não estatais.
  - (E) Repasse vinculado de recurso, pelo qual as políticas públicas são executadas de forma articulada, e repasse livre para organizações da sociedade civil sem fins lucrativos.

43. Um dos direitos dos usuários dos serviços públicos se refere à obtenção de informações precisas e de fácil acesso nos locais de prestação do serviço, assim como na internet. Assinale a alternativa que reúne corretamente algumas das informações essenciais aos usuários, as quais os órgãos públicos buscam seguir em suas comunicações.

- (A) Tipos de serviços prestados pelo órgão ou entidade; formas de acesso a esses serviços (presencial, virtual ou ambas) e o nome do dirigente máximo do órgão ou entidade.
- (B) Horário de funcionamento; serviços prestados pelo órgão ou entidade; acesso ao agente público encarregado de receber as manifestações e valor de taxas e tarifas.
- (C) Abrangência dos serviços prestados; horário e locais de atendimento; tempo de espera estimado do serviço e custos pelo serviço prestado.
- (D) Formas e horários de atendimento; nome de cada membro da equipe de funcionários; indicação de prazos estimados para cada serviço prestado.
- (E) Tipos de serviços prestados; tempo estimado para entrega das solicitações; canais para reclamação e divulgação de tabela de preços.

44. A Lei de Acesso à Informação busca oferecer, de forma ampla e transparente, o acesso às informações produzidas no âmbito da gestão pública e das demais organizações que se relacionam com os governos. Entretanto, há informações que são consideradas sigilosas, ou seja, apresentam restrição quanto ao acesso público temporariamente. Qual é o critério que define as informações sigilosas?

- (A) Indissociabilidade entre a informação e o impacto social e político.
- (B) Repercussão negativa a partir da exposição desnecessária de pessoas e organizações.
- (C) Imprescindibilidade para a segurança da sociedade e do Estado.
- (D) Impacto social, político, econômico e cultural gerado pela informação em questão.
- (E) Possíveis controvérsias vinculadas às informações de pessoas e organizações públicas.

45. Considere a charge.

#### DIVULGAÇÃO DOS GASTOS NA INTERNET



(Bruno. <http://chargesbruno.blogspot.com>. Adaptado)

Com a Lei de Acesso à Informação, o Estado assume o compromisso de garantir o direito de acesso à informação. Entretanto, nem sempre isso ocorre, tal como sugere a charge. De que forma o Estado busca garantir tal compromisso?

- (A) Adoção de novas tecnologias que possibilitem a escala necessária de acesso à informação.
- (B) Adoção de punições aos que descumprirem a Lei e recompensas a quem seguir a legislação.
- (C) Investimento em recursos humanos, materiais e tecnológicos junto aos órgãos públicos e com as demais organizações com as quais se relaciona.
- (D) A partir de um regimento interno, controle dos agentes públicos e, finalmente, do investimento em infraestrutura tecnológica.
- (E) Utilização de procedimentos objetivos e ágeis, de forma transparente, clara e em linguagem de fácil compreensão.

46. Considere o caso hipotético de um funcionário público atender amigos e familiares “furando a fila”, ou seja, dar um “jeitinho” para “acelerar” um determinado serviço público a fim de que amigos e familiares não precisem aguardar a vez na fila de espera. Tal funcionário agiu de maneira incorreta e incompatível com o esperado no contexto do atendimento ao público.

Quais são o princípio e o tipo de conduta que teriam evitado tal situação?

- (A) Civilidade, ou seja, o reconhecimento de que as pessoas nascem iguais perante a Lei e, por isso, devem ser tratadas de forma igualitária.
- (B) Legalidade, pois as pessoas são portadoras de direitos e deveres e, devido a isso, devem respeitar as Leis.
- (C) Impessoalidade, ou seja, um atendimento eficiente, ético e transparente a todos sem qualquer favorecimento.
- (D) Protocolar, pois cabe ao funcionário público agir de forma equilibrada e cordial à medida do possível.
- (E) Moralidade, ou seja, o tratamento deve ser frio e calculista a todas as pessoas, inclusive amigos e colegas.

47. O processo de planejamento e orçamento público é algo complexo e envolve diversos atores. No âmbito federal, de quem é a responsabilidade pela análise e pela aprovação do orçamento público, especificamente da Lei de Diretrizes Orçamentárias (LDO)?
- (A) Do Congresso Nacional, ou seja, dos deputados e senadores.
  - (B) Do Ministério Público, ou seja, dos procuradores designados para esse fim.
  - (C) Do Ministério da Fazenda e do Planejamento.
  - (D) Do Executivo, do Legislativo e do Judiciário.
  - (E) Da área econômica e fiscal do Executivo e do Legislativo.
48. O processo de planejamento do orçamento público envolve três etapas, as quais ocorrem em sequência, conforme expresso, correta e respectivamente, na alternativa:
- (A) Lei Orçamentária Anual (LOA), Lei de Diretrizes Orçamentárias (LDO) e Lei do Plano Plurianual (PPA).
  - (B) Lei do Plano Plurianual (PPA), Lei Orçamentária Anual (LOA) e Lei de Diretrizes Orçamentárias (LDO).
  - (C) Lei de Diretrizes Orçamentárias (LDO), Lei do Plano Plurianual (PPA) e Lei Orçamentária Anual (LOA).
  - (D) Lei Orçamentária Anual (LOA), Lei do Plano Plurianual (PPA) e Lei de Diretrizes Orçamentárias (LDO).
  - (E) Lei do Plano Plurianual (PPA), Lei de Diretrizes Orçamentárias (LDO) e Lei Orçamentária Anual (LOA).
49. O Programa de Metas tem se apresentado como uma inovação na gestão pública municipal. Assinale a alternativa que aponta corretamente melhorias propiciadas pelo Programa de Metas.
- (A) Colabora no controle e no acompanhamento das políticas públicas pelos gestores, permite mais transparência e garante a eficácia e a efetividade nas ações do governo.
  - (B) Contribui para o planejamento municipal, fortalece o controle social das políticas públicas e torna mais preciso e qualifica o que foi debatido nas eleições.
  - (C) Oferece concretude às ideias apresentadas durante as eleições, introduz ferramentas de gestão e controle do setor privado e melhora os resultados governamentais.
  - (D) Atribui indicadores claros de resultados e responsáveis, possibilita a reunião de ações e atividades de forma racional e reduz a interferência da sociedade.
  - (E) Incrementa as atividades dos gestores públicos a partir de dados e informações, colabora no controle e nos resultados e delimita as ações da sociedade.
50. Com as recentes transformações da Administração Pública e da própria sociedade civil no Brasil nas últimas décadas, o conceito de uma Contabilidade Pública que registra de forma passiva as informações contábeis tem dado espaço para outras formas de compreensão para essa atividade. Nesse contexto, assinale a alternativa que indica corretamente a situação à qual os gestores públicos estão cada vez mais sujeitos no contexto da Contabilidade Pública, especialmente quanto aos pagamentos que efetuam.
- (A) Aumento da eficiência, da eficácia e da efetividade da aplicação dos recursos arrecadados e correção dos serviços públicos.
  - (B) Exposição aos processos administrativos e penais em função da gestão dos recursos e do aumento do patrimônio público.
  - (C) Realização de auditorias e controles internos e externos, ou seja, de uma gestão fiscal cada vez mais ética, íntegra e com um impacto social superior.
  - (D) Processo de prestação de contas e de responsabilização (*accountability*) da arrecadação e do gasto público.
  - (E) Avaliação de desempenho de suas funções e também análise da variação de recursos financeiros e patrimônio pessoal.

