



CÂMARA MUNICIPAL DE SANTANA DE PARNAÍBA

CONCURSO PÚBLICO – EDITAL 01/2022

CADERNO DE PROVA OBJETIVA

CARGO DE NÍVEL SUPERIOR CNS201 (MANHÃ)

AGENTE DE CONTRATAÇÃO PÚBLICA

LEIA ATENTAMENTE AS SEGUINTE INSTRUÇÕES

1. Este caderno de prova contém **50 (cinquenta) questões objetivas**, enumeradas de 01 a 50 e distribuídas da seguinte forma:
 - a) De 01 a 15 – Língua Portuguesa;
 - b) De 16 a 25 – Noções de Informática;
 - c) De 26 a 50 – Conhecimentos Específicos.
2. Confira se a quantidade e a ordem das questões deste caderno de prova estão de acordo com as instruções anteriores. Caso o caderno esteja incompleto, tenha defeito ou apresente qualquer divergência, comunique imediatamente ao fiscal de sala para que ele tome as providências cabíveis.
3. Para cada uma das questões objetivas, são apresentadas **4 (quatro)** opções de resposta. Apenas **1 (uma)** resposta responde corretamente à questão.
4. O tempo disponível para esta prova é de **4 (quatro) horas**.
5. Reserve tempo suficiente para marcar o sua folha de respostas.
6. Os rascunhos e as marcações assinaladas neste caderno **não** serão considerados na avaliação.
7. O candidato somente poderá se retirar do local da aplicação das provas após **60 (sessenta)** minutos de seu início.
8. Quando terminar, chame o fiscal de sala, entregue este **caderno de prova** e a **folha de respostas**.
9. O candidato somente poderá retirar-se do local da aplicação levando consigo o caderno de provas a partir dos últimos **30 (trinta) minutos** para o término da prova.
10. **Boa prova!**

Língua Portuguesa



Leia atentamente o texto a seguir e responda às questões de 1 a 15.

Um bilhão de pessoas vivem em favelas e moradias precárias no mundo com 8 bilhões

De cada 8 habitantes do planeta, 1 mora hoje em favelas ou casas inadequadas, apontam dados da ONU. A questão é ainda mais preocupante porque a maior parte do crescimento da humanidade previsto para as próximas décadas se dará nas cidades, onde faltam áreas adequadas para receber mais moradias. Nesta terça (15), as Nações Unidas preveem que o mundo chegará à marca de 8 bilhões de habitantes.

A entidade define como casa inadequada uma que tenha ao menos uma das seguintes condições: é feita de materiais pouco resistentes; não conta com acesso adequado a água potável e esgoto; e abriga mais de três pessoas por cômodo.

Nas últimas décadas, de todo modo, a tendência vinha sendo de alguma melhora. Em 2000, 31,2% dos moradores do planeta que viviam em cidades estavam sob essas condições. Depois de 20 anos, o percentual caiu para 24,2% – na América Latina, a queda foi maior, de 31,9% para 17,7% nesse período, mas o índice ainda se mantém distante do observado na Europa e na América do Norte (que, pela ONU, exclui o México), onde só 0,7% da população urbana vive de forma inadequada.

Ao mesmo tempo, o crescimento das cidades segue acelerado. Em 2000, o mundo tinha 371 municípios com mais de 1 milhão de moradores; em 2018, eram 548; e até 2030 devem ser 706.

As megacidades, conglomerados com mais de 10 milhões de habitantes, também se multiplicam. Eram 33 em 2018, que devem se tornar 43 em 2030. A região metropolitana de São Paulo é a quarta maior metrópole global, com população atual estimada em 21,8 milhões de pessoas, segundo o site *World Population Review*. O top 3 global tem Tóquio (37,4 milhões), Nova Déli (29,3 milhões) e Xangai (26,3 milhões).

Já grandes conglomerados urbanos europeus, bem como alguns nos EUA, estão em processo de encolhimento devido ao envelhecimento acelerado, à baixa natalidade e à migração interna em busca de moradias mais baratas – mesmo em países ricos, o preço dos imóveis vem subindo, o que dificulta a compra por jovens adultos.

Acompanhando o crescimento populacional, a maior parte do crescimento das cidades se dará no chamado Sul Global, que reúne América Latina, África, Oriente Médio e Sudeste Asiático.

A lista de municípios a atingir o patamar de megacidade nos próximos anos inclui Luanda (Angola), Dar es Salaam (Tanzânia), Teerã (Irã) e Ho Chi Minh (antiga Saigon, no Vietnã). China e Índia, os países mais populosos do mundo, possuem seis e cinco megacidades, respectivamente. E, do 1 bilhão de pessoas que vivem em favelas hoje, 85% estão na Ásia (ao menos 665 milhões) e na África (230 milhões).

"A gente acha que há um crescimento desordenado [das cidades] e que isso é algo inexorável. Não. O problema é entender que a ordem é essa. Há um crescimento de baixa

qualidade, em regiões sem infraestrutura, devido ao preço da terra", aponta Valter Caldana, professor da Faculdade de Arquitetura e Urbanismo da Universidade Presbiteriana Mackenzie.

Com a crise econômica gerada pela pandemia de coronavírus, o acesso à moradia ficou mais difícil em muitas partes do mundo. O fechamento de atividades levou muita gente a ficar sem dinheiro para pagar o aluguel, acabar despejada ou tendo de buscar moradias mais baratas. Ao mesmo tempo, falhas nas cadeias de suprimento e períodos de lockdown atrasaram a produção de novos imóveis, o que também gerou uma alta de preços em muitos países.

Sem planejamento urbano adequado, muitas metrópoles deixam os pobres sem opção de moradia acessível e, na prática, fingem que não veem a criação de favelas e habitações inadequadas nas periferias.

"O preço das casas é fortemente direcionado pelo valor dos terrenos – que representa entre um quarto e um terço do valor final, mas pode alcançar 90% em lugares onde o mercado está muito aquecido", diz Christophe Lalande, especialista em habitação da ONU Habitat, programa das Nações Unidas para os assentamentos humanos.

Ele defende que governos tomem ações para evitar que o preço dos terrenos suba demais e criem regulações para o uso da terra, como vetar que os espaços fiquem ociosos esperando valorização. "Na ausência de regulação pública, o mercado imobiliário fica distante de entregar casas a preços acessíveis nas cidades, mesmo em países de alta renda."

Fernando Túlio, presidente do departamento paulista do IAB (Instituto de Arquitetos do Brasil), avalia que seria preciso investir algo em torno de US\$ 3,5 trilhões para resolver a questão da falta de habitação de qualidade para 1 bilhão de pessoas no mundo. Ele considerou um custo médio de US\$ 10 mil por moradia para prover os serviços urbanos necessários, com cada casa abrigando três pessoas.

"Recursos existem. Mas como os bilionários mais ricos do planeta não devem doar esse dinheiro, os governos precisam investir em reformas políticas e tributárias", diz. "Os governos dos países ricos também precisam transferir recursos para ajudar os do Sul Global, seja como reparação pela colonização ou para ajudar no combate às mudanças climáticas."

Túlio lembra que as pessoas sem moradia adequada são as mais vulneráveis a eventos extremos como inundações e tempestades.

"Habitação de interesse social não é só prover moradia para quem não tem. É elevar a qualidade de vida de todos", aponta Caldana. "Em uma cidade onde muita gente não mora bem e alguns estão na rua, a cidade toda é doente e vive mal. São Paulo é um exemplo disso."

(Rafael Balago. 13.nov.2022. *Folha de S. Paulo*.)

<https://www1.folha.uol.com.br/mundo/2022/11/no-mundo-de-8-bilhoes-de-habitantes-1-bilhao-vive-em-favelas-e-moradias-precarias.shtml>

Questão 1

Em relação à leitura do texto e suas possíveis inferências, analise as afirmativas a seguir:

- I. Para ser oficialmente considerada inadequada, a ONU estabelece que já suficiente não haver estrutura adequada de água e esgoto.
- II. Ao passo que as cidades crescem cada vez mais, as condições inadequadas de vida vêm diminuindo quantitativamente, embora ainda haja grande distância entre o que se observa na Europa e no restante do mundo.
- III. Todos os conglomerados urbanos, com seu processo irrefreado de crescimento constante, acabam afastando os jovens para as periferias, diante da dificuldade de encontrar espaço adequado de moradia.

Assinale

- (A) se apenas as afirmativas I e II estiverem corretas.
- (B) se apenas as afirmativas I e III estiverem corretas.
- (C) se apenas as afirmativas II e III estiverem corretas.
- (D) se todas as afirmativas estiverem corretas.

Questão 2

Por *inexorável* (L.50), deve-se entender

- (A) lábil.
- (B) efêmero.
- (C) inelutável.
- (D) perecedor.

Questão 3

Em relação à saúde das cidades, de que fala o texto, é correto afirmar que

- (A) somente com a doação dos bilionários mundiais será possível a reforma das grandes cidades em locais harmônicos para se viver.
- (B) sem os recursos dos países ricos, os moradores das periferias sofrerão com inundações e tempestades.
- (C) toda casa que abrigue mais de três pessoas é entendida pelo IAB como moradia inadequada.
- (D) a especulação imobiliária precisa sofrer uma regulação estatal a fim de que os imóveis urbanos sejam possíveis de aquisição a preços acessíveis.

Questão 4

Ele defende que governos tomem ações para evitar que o preço dos terrenos suba demais e criem regulações para o uso da terra, como vetar que os espaços fiquem ociosos esperando valorização. (L.74-77)

Em relação à primeira oração do período acima, é correto classificar a oração sublinhada como

- (A) subordinada substantiva subjetiva.
- (B) subordinada substantiva objetiva direta.
- (C) coordenada sindética aditiva.
- (D) subordinada adverbial final.

Questão 5

Na linha 6, o pronome N(*esta*) exerce papel

- (A) anafórico.
- (B) catafórico.
- (C) dêitico.
- (D) epanafórico.

Questão 6

A entidade define como casa inadequada uma que tenha ao menos uma das seguintes condições: é feita de materiais pouco resistentes; não conta com acesso adequado a água potável e esgoto; e abriga mais de três pessoas por cômodo. (L.8-11)

O termo sublinhado no período acima se classifica sintaticamente como

- (A) predicativo do sujeito.
- (B) predicativo do objeto.
- (C) objeto direto.
- (D) aposto.

Questão 7

"O preço das casas é fortemente direcionado pelo valor dos terrenos – que representa entre um quarto e um terço do valor final, mas pode alcançar 90% em lugares onde o mercado está muito aquecido", diz Christophe Lalande, especialista em habitação da ONU Habitat, programa das Nações Unidas para os assentamentos humanos. (L.68-73)

O parágrafo acima apresenta, em relação ao texto como um todo, um exemplo de argumento de

- (A) autoridade.
- (B) causalidade.
- (C) consequência.
- (D) exclusão.

Questão 8

A entidade define como casa inadequada uma que tenha ao menos uma das seguintes condições: é feita de materiais pouco resistentes; não conta com acesso adequado a água potável e esgoto; e abriga mais de três pessoas por cômodo. (L.8-11)

O segmento sublinhado no período acima, em relação ao imediatamente anterior, apresenta uma

- (A) explicação.
- (B) explicitação.
- (C) exemplificação.
- (D) enumeração.

Questão 9

Assinale a alternativa em que a palavra indicada **não** tenha sido formada por composição.

- (A) megacidades (L.25)
- (B) metrópole (L.28)
- (C) infraestrutura (L.52)
- (D) coronavírus (L.57)

Questão 10

Assinale a alternativa em que a palavra indicada tenha sido acentuada seguindo regra **distinta** da das demais.

- (A) potável (L.11)
- (B) Tóquio (L.30)
- (C) reúne (L.40)
- (D) coronavírus (L.57)

Questão 11

Depois de 20 anos, o percentual caiu para 24,2% – na América Latina, a queda foi maior, de 31,9% para 17,7% nesse período, mas o índice ainda se mantém distante do observado na Europa e na América do Norte (que, pela ONU, exclui o México), onde só 0,7% da população urbana vive de forma inadequada. (L.15-20)

Assinale a alternativa que apresente pontuação igualmente correta para o período acima.

- (A) Depois de 20 anos, o percentual caiu para 24,2% – na América Latina, a queda foi maior, de 31,9% para 17,7% nesse período – mas o índice ainda se mantém, distante do observado na Europa e na América do Norte – que, pela ONU, exclui o México –, onde só 0,7% da população urbana vive de forma inadequada.
- (B) Depois de 20 anos, o percentual caiu para 24,2% – na América Latina, a queda foi maior, de 31,9% para 17,7% nesse período –, mas o índice ainda se mantém distante do observado na Europa e na América do Norte (que, pela ONU, exclui o México), onde só 0,7% da população urbana vive de forma inadequada.
- (C) Depois de 20 anos, o percentual caiu para 24,2% (na América Latina, a queda foi maior, de 31,9% para 17,7% nesse período) mas o índice ainda se mantém distante do observado na Europa e na América do Norte – que, pela ONU, exclui o México – onde só 0,7% da população urbana vive de forma inadequada.
- (D) Depois de 20 anos o percentual caiu para 24,2% – na América Latina, a queda foi maior (de 31,9% para 17,7% nesse período) – mas o índice ainda se mantém distante do observado na Europa e na América do Norte (que pela ONU exclui o México) – onde só 0,7% da população urbana vive de forma inadequada.

Questão 12

"Em uma cidade onde muita gente não mora bem e alguns estão na rua, a cidade toda é doente e vive mal. São Paulo é um exemplo disso." (L.98-100)

É correto afirmar que, no período acima, há

- (A) dois advérbios.
 (B) três advérbios.
 (C) quatro advérbios.
 (D) cinco advérbios.

Questão 13

E, do 1 bilhão de pessoas que vivem em favelas hoje, 85% estão na Ásia (ao menos 665 milhões) e na África (230 milhões). (L.46-48)

Assinale a alternativa em que, alterando-se o período acima, tenha-se mantido a correção gramatical.

- (A) E, do 1 bilhão que vivem em favelas hoje, 85% estão na Ásia (ao menos 665 milhões) e na África (230 milhões).
- (B) E, do 1 bilhão de pessoas que vive em favelas hoje, 85% está na Ásia (ao menos 665 milhões) e na África (230 milhões).
- (C) E, do 1 bilhão que vivem em favelas hoje, 85% está na Ásia (ao menos 665 milhões) e na África (230 milhões).
- (D) E, do 1 bilhão que vive em favelas hoje, 85% das pessoas estão na Ásia (ao menos 665 milhões) e na África (230 milhões).

Questão 14

De cada 8 habitantes do planeta, 1 mora hoje em favelas **ou** casas inadequadas, apontam dados da ONU. (L.1-2)

No período acima, a conjunção OU apresenta papel semântico de

- (A) retificação.
 (B) alternância.
 (C) equivalência.
 (D) exclusão.

Questão 15

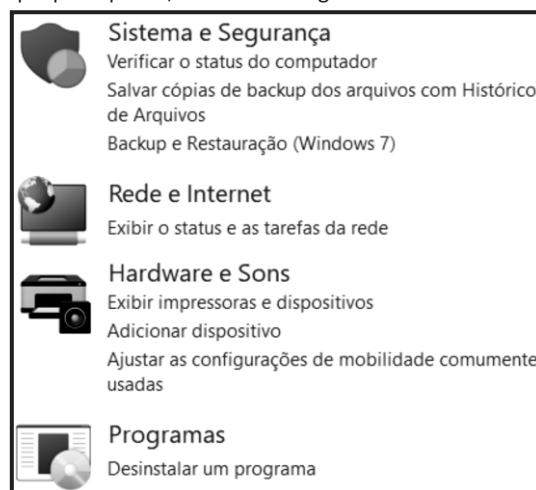
O texto se classifica predominantemente como

- (A) descritivo.
 (B) narrativo.
 (C) dissertativo-expositivo.
 (D) dissertativo-argumentativo.

Noções de Informática

Questão 16

Nas versões do Windows 10/11 BR, o acionamento de um recurso exibe uma janela de diálogo, que mostra diversos ícones para realização de ajustes na configuração do computador, com destaque para quatro, indicadas na figura abaixo:



Esse recurso é conhecido como

- (A) Gerenciador de Dispositivos.
 (B) Gerenciador de Arquivos.
 (C) Paineis de Ferramentas.
 (D) Paineis de Controle.

Questão 17

Um texto foi digitado no Word 2019 BR e, nessa atividade, foi usado um recurso que inseriu a referência

SANTANA DE PARNAÍBA

no título, e que tem por significado adicionar um toque artístico a uma citação. Para finalizar, todo o título foi selecionado e um atalho de teclado foi executado, que aplicou o tipo de alinhamento centralizado.

Nessas condições, o recurso e o atalho de teclado são, respectivamente,

- (A) TextArt e Ctrl + C.
 (B) TextArt e Ctrl + E.
 (C) WordArt e Ctrl + C.
 (D) WordArt e Ctrl + E.

Questão 18

No funcionamento das “distros” Linux, são utilizados diversos diretórios, com funções bem definidas. Dois deles são descritos a seguir:

- I. Nesse diretório ficam os arquivos de configuração que podem ser usados por todos os softwares, além de *scripts* especiais para iniciar ou interromper módulos e programas diversos. É nele que se encontra, por exemplo, o arquivo *resolv.conf*, com uma relação de servidores *DNS* que podem ser acessados pelo sistema, com os parâmetros necessários para isso.
- II. Nesse diretório ficam os arquivos pessoais, como documentos e fotos, sempre dentro de pastas que levam o nome de cada usuário. Vale notar que o diretório pessoal do administrador não fica no mesmo local, e sim em */root*.

Os diretórios descritos em I e II são conhecidos, respectivamente, como

- (A) */etc* e */home*.
- (B) */cfg* e */home*.
- (C) */etc* e */user*.
- (D) */cfg* e */user*.

Questão 19

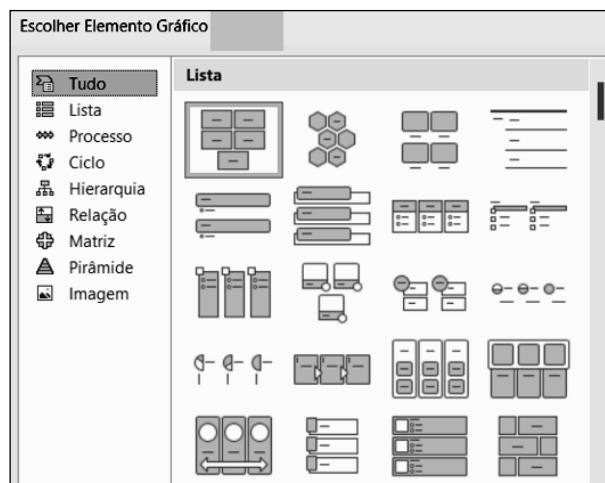
A planilha da figura foi criada no Excel 2019 BR. Nela foram realizados os procedimentos listados a seguir:

	A	B	C	D
1	 Câmara Municipal de Santana de Parnaíba			
2				
3	25		MAIOR =	37
4	37			
5	33		MÉDIA =	29
6	21			
7	29		SE =	?





- I. Em D3 foi inserida uma expressão que determina o maior número inserido nas células A3, A4, A5, A6 e A7, usando a função MAIOR.
- II. Em D5 foi inserida uma expressão para determinar a média aritmética entre todos os números nas células A3, A4, A5, A6 e A7.
- III. Em D7 foi inserida a expressão =SE(MOD(D3;2)=1;"SP";"MG"). Nessas condições, as expressões inseridas em A3 e A5 e o conteúdo mostrado em D7 são, respectivamente,
 - (A) =MAIOR(A3:A7;1), =MED(A3:A7) e MG.
 - (B) =MAIOR(A3:A7;1), =MÉDIA(A3:A7) e SP.
 - (C) =MAIOR(A3:A7), =MÉDIA(A3:A7) e MG.
 - (D) =MAIOR(A3:A7), =MED(A3:A7) e SP.

Questão 20

Um funcionário da Câmara Municipal de Santana de Parnaíba está elaborando uma apresentação de slides no Powerpoint do pacote MS Office 2019 BR e acionou um ícone da Faixa de Opções, na guia Inserir, que exibiu uma janela com os elementos gráficos da figura abaixo:



O ícone acionado é

- (A)  Ícones
- (B)  Gráfico
- (C)  SmartArt
- (D)  Modelos

Questão 21

No que se relaciona aos conceitos básicos sobre internet, atualmente é comum os internautas baixarem arquivos de sites especializados como o *Adobe Reader* para leitura de arquivos em formato PDF, bem como fazer a recepção de mensagens de correio da internet para os usuários da grande rede, em um sentido do servidor para o cliente.

Essas atividades estão associadas a um termo em inglês conhecido por

- (A) *outsourcing*.
- (B) *insourcing*.
- (C) *download*.
- (D) *upload*.

Questão 22

No uso dos recursos do *browser Google Chrome* em um *notebook*, a execução do atalho de teclado Ctrl + J tem por finalidade

- (A) fechar a janela do *browser*.
- (B) exibir histórico de *downloads*.
- (C) visualizar o histórico de navegação.
- (D) ativar ou desativar a barra de favoritos.

Questão 23

Atualmente, a implementação de redes de computadores é executada por meio de um equipamento de rede de nível 3, que possibilita a conexão via cabos UTP com conector RJ45, como também transmissão *wifi*, que, por sua vez, emprega um serviço que atribui dinamicamente um endereço IP aos diversos dispositivos conectados, sejam computadores, notebooks, celulares e televisores.

As imagens abaixo em (a) e (b) ilustram esse equipamento.

Imagem (a)



Imagem (b)



Esse equipamento é conhecido por

- (A) switch.
- (B) router.
- (C) bridge.
- (D) hub.

Questão 24

Segurança da informação é definida como um conjunto de ações e estratégias que buscam proteger os dados produzidos e armazenados em uma empresa. Para isso, são implementadas boas práticas visando controlar os riscos e evitar qualquer tipo de ameaça aos dados. A segurança da informação é baseada em pilares, dos quais um trata da preservação dos dados, tendo por objetivo evitar que eles sejam alterados, danificados ou corrompidos, gerando prejuízos para a empresa. A preservação dos dados é garantida por meio de *backups* automáticos, controle nas alterações feitas em um documento, manutenção periódicas de hardwares de armazenamento, entre outras ações.

O pilar descrito é denominado

- (A) confidencialidade.
- (B) irretratabilidade.
- (C) autenticidade.
- (D) integridade.

Questão 25

Backup é uma cópia de segurança dos dados gravados em dispositivos de armazenamento, como celulares, notebooks, microcomputadores e tablets, ou sistemas, como aplicativos, softwares ou jogos, visando garantir a integridade e a restauração das informações, em caso de necessidade. Atualmente pode-se utilizar a nuvem como o local físico onde serão armazenadas as informações, havendo vários serviços de nuvem domésticos e gratuitos.

Dois exemplos desses serviços de nuvem são

- (A) Google Drive e OneDrive.
- (B) Google Docs e LinkedIn.
- (C) Google Meet e Dropbox.
- (D) Google Team e Thunderbird.

Conhecimentos Específicos

Questão 26

Com relação à nova Lei de Licitações e Contratos Administrativos (Lei 14.133/21), é **incorreto** afirmar que

- (A) ela entra em vigor na data de sua publicação.
- (B) a nova regra revoga imediatamente os crimes na licitação previstos na Lei 8.666.
- (C) a nova regra revoga parcialmente, em dois anos, a Lei 8.666 e a Lei 10.520.
- (D) os contratos assinados antes da entrada em vigor da nova lei seguem a regra velha.

Questão 27

Segundo a Lei 14.133/21, são objetivos do processo licitatório o listado nas alternativas a seguir, **à exceção de uma**. Assinale-a.

- (A) assegurar a seleção da proposta apta a gerar o resultado de contratação mais vantajoso para a Administração Pública, inclusive no que se refere ao ciclo de vida do objeto
- (B) assegurar tratamento isonômico entre os licitantes, bem como a justa competição
- (C) evitar contratações com sobrepreço ou com preços manifestamente inexequíveis e superfaturamento na execução dos contratos
- (D) assegurar a escolha da proposta mais vantajosa

Questão 28

Assinale o ente sobre o qual a Lei 14.133/21, em regra, **não** se aplica.

- (A) Empresas Públicas
- (B) União
- (C) Municípios e Distrito Federal
- (D) Fundações Públicas

Questão 29

Assinale o objeto ao qual se aplica a Lei 14.133/21.

- (A) contratos de operação de crédito
- (B) locação
- (C) gestão da dívida pública
- (D) contratações sujeitas à legislação pátria

Questão 30

De acordo com o princípio do planejamento, é correto afirmar que

- (A) a Administração deve sempre, na prática de seus atos, prezar pela utilização racional do dinheiro público.
- (B) A Administração deve buscar equilíbrio entre os meios de que se utiliza e os fins que pretende alcançar.
- (C) A Administração deve buscar garantir o alinhamento com seu planejamento estratégico e subsidiar a elaboração das respectivas leis orçamentárias.
- (D) os atos da Administração devem observar as consequências com mudanças de entendimento, não podendo alterar situações consolidadas sem a devida fundamentação.

Questão 31

A designação do mesmo agente público para atuação simultânea de funções na contratação viola o seguinte princípio:

- (A) segregação de funções.
- (B) vinculação ao edital.
- (C) impessoalidade.
- (D) julgamento objetivo.

Questão 32

Nas alternativas a seguir estão agentes que conduzem a licitação na Lei 14.133/21, à exceção de um. Assinale-o.

- (A) agente de contratação
- (B) comitiva de contratação
- (C) banca
- (D) leiloeiro

Questão 33

Assinale a alternativa em que se indique corretamente um aspecto do agente de contratação.

- (A) responsabilidade pessoal, exceto se induzido a erro
- (B) responsabilidade solidária (exceto para os que registrarem voto divergente)
- (C) seleção discricionária
- (D) responsabilidade subsidiária

Questão 34

Ressalvados os casos previstos em lei, é vedado ao agente público designado para atuar na área de licitações e contratos

- (A) admitir, prever, incluir ou tolerar, nos atos que praticar, situações que sejam impertinentes ou irrelevantes para o objeto específico do contrato.
- (B) instituir instrumentos que permitam, preferencialmente, a centralização dos procedimentos de aquisição e contratação de bens e serviço.
- (C) criar catálogo eletrônico de padronização de compras, serviços e obras, admitida a adoção do catálogo do Poder Executivo federal por todos os entes federativos.
- (D) instituir sistema informatizado de acompanhamento de obras, inclusive com recursos de imagem e vídeo.

Questão 35

Na hipótese de contratação direta indevida, o contratado e o agente público responsável responderão solidariamente pelo dano causado ao erário, sem prejuízo de outras sanções legais cabíveis, se ocorrida com

- (A) culpa ou dolo.
- (B) dolo ou fraude.
- (C) culpa ou erro grosseiro.
- (D) fraude ou contradição aparente.

Questão 36

Acerca do Portal Nacional de Contratações Públicas (PNCP) e a Lei 14.133/21, assinale a alternativa correta.

- (A) Trata-se de sítio eletrônico destinado à divulgação centralizada e facultativa dos atos exigidos pela lei e à realização obrigatória das contratações pelos órgãos e entidades dos Poderes Executivo, Legislativo e Judiciário de todos os entes federativos.
- (B) Trata-se de endereço eletrônico destinado à divulgação centralizada e obrigatória dos atos exigidos pela lei e à realização facultativa das contratações pelos órgãos e entidades dos Poderes Executivo, Legislativo e Judiciário de todos os entes federativos.
- (C) Trata-se de sítio eletrônico destinado à divulgação centralizada e obrigatória dos atos exigidos pela lei e à realização facultativa das contratações pelos órgãos e entidades dos Poderes Executivo, Legislativo e Judiciário de todos os entes federativos.
- (D) Trata-se de sítio eletrônico destinado à divulgação difusa e obrigatória dos atos facultados pela lei e à realização facultativa das contratações pelos órgãos e entidades dos Poderes Executivo, Legislativo e Judiciário de todos os entes federativos.

Questão 37

Acerca das licitações, assinale a alternativa correta.

- (A) Serão realizadas emergencialmente sob a forma eletrônica, admitida a utilização da forma remota, desde que motivada, devendo a sessão pública ser registrada em ata e gravada em áudio e vídeo.
- (B) Serão realizadas preferencialmente sob a forma eletrônica, admitida a utilização da forma presencial, desde que motivada, devendo a sessão pública ser registrada em ata e gravada em áudio e vídeo.
- (C) Serão realizadas preferencialmente sob a forma presencial, admitida a utilização da forma eletrônica, desde que motivada, devendo a sessão pública ser registrada em ata e gravada em áudio e vídeo.
- (D) Serão realizadas subsidiariamente sob a forma eletrônica, admitida a utilização da forma presencial, desde que motivada, devendo a sessão pública ser registrada em ata e gravada em áudio e vídeo.

Questão 38

O parcelamento poderá ser adotado quando

- (A) a economia de escala, a redução de custos de gestão de contratos ou a maior vantagem na contratação recomendar a compra do item do mesmo fornecedor.
- (B) o objeto a ser contratado configurar sistema único e integrado e houver a possibilidade de risco ao conjunto do objeto pretendido.
- (C) o processo de padronização ou de escolha de marca levar a fornecedor exclusivo.
- (D) for tecnicamente viável e economicamente vantajoso.

Questão 39

Uma das modalidades de licitação previstas na Lei 14.133/21 é assim descrita: "modalidade de licitação obrigatória para aquisição de bens e serviços comuns, cujo critério de julgamento poderá ser o de menor preço ou o de maior desconto".

Tal descrição se refere a

- (A) concorrência.
- (B) concurso.
- (C) pregão.
- (D) diálogo competitivo.

Questão 40

O julgamento das propostas será realizado de acordo com os critérios listados nas alternativas a seguir, à exceção de uma. Assinale-a.

- (A) melhor técnica ou conteúdo artístico
- (B) técnica e preço
- (C) maior lance, no caso de concorrência
- (D) maior retorno econômico

Questão 41

Acerca do modo de disputa e respectiva definição, é correto afirmar que ele é

- (A) aberto, hipótese em que as propostas permanecerão em sigilo até a data e hora designadas para sua divulgação.
- (B) fechado, hipótese em que os licitantes apresentarão suas propostas por meio de lances públicos e sucessivos, crescentes ou decrescentes.
- (C) aberto, hipótese em que os licitantes apresentarão suas propostas por meio de lances sigilosos e sucessivos, de forma decrescente.
- (D) fechado, hipótese em que as propostas permanecerão em sigilo até a data e hora designadas para sua divulgação.

Questão 42

A habilitação é a fase da licitação em que se verifica o conjunto de informações e documentos necessários e suficientes para demonstrar a capacidade do licitante de realizar o objeto da licitação, dividindo-se em

- (A) jurídica; técnica; fiscal, social e trabalhista; econômico-financeira.
- (B) jurídica; intelectual; fiscal, social e empresarial; econômico-financeira.
- (C) documental; técnica; fiscal, empresarial e trabalhista; econômico-financeira.
- (D) documental; técnica; fiscal, ambiental e trabalhista; econômico-financeira.

Questão 43

Na fiscalização de controle será observado o listado nas alternativas a seguir, à exceção de uma. Assinale-a.

- (A) viabilização de oportunidade de manifestação aos gestores
- (B) adoção de procedimentos objetivos e imparciais e elaboração de relatórios tecnicamente fundamentados
- (C) definição de objetivos, nos regimes de empreitada por preço global, empreitada integral, contratação semi-integrada e contratação integrada
- (D) comunicação entre a população e representantes da Administração e do contratado designados para prestar as informações e esclarecimentos pertinentes

Questão 44

É dispensável a licitação nos casos de

- (A) contratação que envolva valores inferiores a R\$ 50.000,00 (cinquenta mil reais), no caso de outros serviços e compras.
- (B) aquisição de materiais, de equipamentos ou de gêneros ou contratação de serviços que só possam ser fornecidos por produtor, empresa ou representante comerciais exclusivos.
- (C) contratação de profissional do setor artístico, diretamente ou por meio de empresário exclusivo, desde que consagrado pela crítica especializada ou pela opinião pública.
- (D) contratação dos seguintes serviços técnicos especializados de natureza predominantemente intelectual com profissionais ou empresas de notória especialização.

Questão 45

De acordo com a Lei 14.133/21, assinale a alternativa que defina corretamente o *catálogo eletrônico de padronização de compras, serviços e obras*.

- (A) Sistema informatizado, de gerenciamento centralizado e com indicação de preços, destinado a permitir a padronização de itens a serem adquiridos pela Administração Pública e que estarão disponíveis para a licitação.
- (B) Sítio da internet, certificado digitalmente por autoridade certificadora, no qual o ente federativo divulga de forma centralizada as informações e os serviços de governo digital dos seus órgãos e entidades.
- (C) Contrato cujo objeto é a prestação de serviços, que pode incluir a realização de obras e o fornecimento de bens, com o objetivo de proporcionar economia ao contratante, na forma de redução de despesas correntes, remunerado o contratado com base em percentual da economia gerada.
- (D) Produtos para pesquisa e desenvolvimento: bens, insumos, serviços e obras necessários para atividade de pesquisa científica e tecnológica, desenvolvimento de tecnologia ou inovação tecnológica, discriminados em projeto de pesquisa.

Questão 46

Assinale a alternativa correta correspondente à seguinte definição: "conjunto de procedimentos para realização, mediante contratação direta ou licitação nas modalidades pregão ou concorrência, de registro formal de preços relativos a prestação de serviços, a obras e a aquisição e locação de bens para contratações futuras".

- (A) sistema de custo definido
- (B) sistema de tecnologia de informação
- (C) sistema único e integrado
- (D) sistema de registro de preços

Questão 47

São condições para contratação por registro de preço o listado nas alternativas a seguir, **à exceção de uma**. Assinale-a.

- (A) desenvolvimento obrigatório de rotina de controle
- (B) atualização periódica dos preços registrados
- (C) realização posterior de ampla pesquisa de mercado
- (D) definição do período de validade do registro de preços

Questão 48

O prazo de vigência da ata de registro de preços, desde que comprovado o preço vantajoso, será de

- (A) dois anos, e poderá ser prorrogado, por igual período.
- (B) um ano, e poderá ser prorrogado, por igual período.
- (C) um ano, e não poderá ser prorrogado.
- (D) dois anos, e poderá ser prorrogado por um ano.

Questão 49

Sobre o cadastro de fornecedores, assinale a alternativa correta correspondente à seguinte definição: "módulo informatizado que compõe o Sistema Integrado de Administração de Serviços Gerais – Siasg, regulamentado pelo Decreto 3.722, de 9 de janeiro de 2001, criado para viabilizar o cadastramento de fornecedores de materiais e serviços no âmbito da Administração Pública Federal direta, autárquica e fundacional, em licitações e contratações".

- (A) SISREF
- (B) SEI
- (C) SISGP
- (D) SICAF

Questão 50

São funcionalidades no Comprasnet as listadas nas alternativas a seguir, **à exceção de uma**. Assinale-a.

- (A) AntecipaGov
- (B) Painel de Preços
- (C) Painel de Compras
- (D) SouGov

Instituto
ACCESS