

PREFEITURA MUNICIPAL DE NOBRES



**CONCURSO PÚBLICO DE PROVAS PARA PROVIMENTO EFETIVO DE
CARGOS DO QUADRO PERMANENTE DA PREFEITURA MUNICIPAL DE
NOBRES**

EDITAL Nº. 01/2022 - PMN

NÍVEL DE ESCOLARIDADE: SUPERIOR

CARGO: TURISMÓLOGO

Caderno de Prova

Nome do Candidato

INSTRUÇÕES

LEIA COM ATENÇÃO

1. Este Caderno de Prova, com páginas numeradas de **1 a 17**, é constituído de **40 (quarenta)** questões objetivas, cada uma com **4 (quatro)** alternativas, assim distribuídas:

01 a 10 – Língua Portuguesa

11 a 15 – Informática Básica

16 a 20 – Legislação Básica

21 a 40 – Conhecimentos Específicos

2. Caso o Caderno de Prova esteja incompleto ou tenha qualquer defeito de impressão, solicite ao fiscal que o substitua.

3. Sobre a Marcação do Cartão de Respostas

As respostas deverão ser, obrigatoriamente, transcritas com caneta esferográfica de tinta azul ou preta não porosa, fabricada em material transparente, para o Cartão de Respostas, que será o único documento válido para correção. Não haverá substituição do Cartão de Respostas por erro do candidato.

- 3.1.** Para cada questão existe apenas uma alternativa que a responde acertadamente. Para a marcação da alternativa escolhida no **CARTÃO DE RESPOSTAS**, pinte completamente o círculo correspondente.

Exemplo: Suponha que para determinada questão a alternativa C seja a escolhida.

Nº da Questão
<input type="radio"/> A
<input type="radio"/> B
<input checked="" type="radio"/>
<input type="radio"/> D

- 3.2.** Marque apenas uma alternativa para cada questão.
 - 3.3.** Será invalidada a questão em que houver mais de uma marcação, marcação rasurada ou emendada, ou não houver marcação.
 - 3.4.** Não rasure nem amasse o **CARTÃO DE RESPOSTAS**.
4. Todos os espaços em branco, neste caderno, podem ser utilizados para rascunho.
 5. A duração da prova é **4 (quatro)** horas, já incluído o tempo destinado ao preenchimento do **CARTÃO DE RESPOSTAS**.
 6. Somente após decorridas **2 horas e 30 minutos** do início da prova, o candidato, depois de entregar seu Caderno de Prova e seu Cartão de Respostas, poderá retirar-se da sala de prova. O candidato que insistir em sair da sala de prova antes desse tempo deverá assinar **Termo de Ocorrência** declarando sua desistência do processo seletivo.
 7. Na página **17** deste Caderno de Prova, encontra-se a **Folha de Anotação do Candidato**, a qual poderá ser utilizada para a transcrição das respostas das questões objetivas. Essa folha poderá ser levada pelo candidato para posterior conferência com o gabarito somente após decorridas **2 horas e 30 minutos** do início da prova.
 8. Será permitida a saída de candidatos levando o Caderno de Prova somente **na última meia hora** de prova.
 9. Após o término da prova, o candidato deverá, obrigatoriamente, entregar ao fiscal o **CARTÃO DE RESPOSTAS** devidamente assinado e preenchido.
-

LÍNGUA PORTUGUESA

Instrução: Leia o texto a seguir para responder às questões de 01 a 04.

Quem se pergunta por que de repente velhos conhecidos começam a tagarelar sobre *chemtrails*, ou a acusar Bill Gates de querer, furtivamente, implantar chips na humanidade através da vacinação, encontram aqui pelo menos parte da resposta.

Quando os algoritmos recomendam novos conteúdos, para eles tanto faz quanta verdade contenham e o que desencadeiem nos usuários. Decisivo é apenas: o usuário permanece no site? Para monetizar nossa atenção, conteúdos cada vez mais extremos tendem a ser mais reforçados, numa espécie de espiral descendente movida à tecnologia. E a "voz da razão", talvez um tanto mais monótona, fica de fora.

Ativistas designaram esse modelo de negócios com a fórmula *hate for profit* – ódio traz lucro. Mesmo que apenas um indivíduo em cada 100 seja receptivo a teorias de conspiração, o Facebook tem mais de 2 bilhões de usuários em todo o mundo, e o Youtube, quase isso.

No entanto, as redes sociais, enquanto distribuidoras de informação centrais, direcionam o modo como vemos o mundo. E enquanto, por um lado, conteúdos não comprovados e extremos são varridos das margens da sociedade para seu interior; por outro, cada vez mais as informações pesquisadas e verificadas das mídias estabelecidas desaparecem por trás dos *paywalls* de acesso pago.

(Disponível em: <https://www.dw.com/pt-br/opini%C3%A3o-redes-sociais-o-monstro-digital>. Acesso em: 05/07/2022)

QUESTÃO 01

Infere-se da leitura desse texto:

- [A] Os algoritmos são seletivos ao recomendar novos conteúdos nas redes sociais.
- [B] Os algoritmos estimulam o consumo de conteúdos acessados nas redes sociais.
- [C] Os ativistas que combatem a fórmula *hate for profit* disseminam a cultura do ódio.
- [D] Nas redes sociais, os algoritmos facilitam acesso somente a conteúdos devidamente comprovados.

QUESTÃO 02

O enunciador desse texto tem como intencionalidade:

- [A] defender os ativistas que são contrários à fórmula *hate for profit*.
- [B] divulgar mecanismos de controle usados pelas redes sociais.
- [C] questionar o uso de algoritmos pelas redes sociais.
- [D] refutar argumento de senso comum acerca de controle da mente humana.

QUESTÃO 03

Considere as afirmativas referentes à concordância verbal, à pontuação, à função sintática e semântica das palavras no texto.

- I - No primeiro parágrafo, a forma verbal *tagarelar* sugere discurso falacioso.
- II - Em *o Facebook tem mais de 2 bilhões de usuários em todo o mundo, e o Youtube, quase isso.*, a segunda vírgula indica a supressão da forma verbal *tem*.
- III - No período *Quem se pergunta por que de repente velhos conhecidos começam a tagarelar sobre chemtrails*, o pronome interrogativo *Quem* exerce a função de sujeito, e o pronome pessoal oblíquo *se*, usado para expressar ação reflexiva, exerce a função de objeto indireto da forma verbal *pergunta*.
- IV - Em *as informações pesquisadas e verificadas das mídias estabelecidas desaparecem*, a forma verbal *desaparecem* concorda em número e pessoa com o sujeito *mídias*.

Está correto o que se afirma em

- [A] I, II e III, apenas.
- [B] III e IV, apenas.
- [C] II e IV, apenas.
- [D] I e II, apenas.

QUESTÃO 04

Sobre os elementos da textualidade responsáveis pela coesão e coerência, visando à construção de sentido, marque V para as afirmativas verdadeiras e F para as falsas.

- () Em ... *encontram aqui pelo menos parte da resposta.*, o elemento sublinhado faz referência ao contexto situacional.
- () No terceiro parágrafo, os elementos *esse modelo de negócio* retomam todas as informações apresentadas no segundo parágrafo, sintetizando-as.
- () No período ... *o Facebook tem mais de 2 bilhões de usuários em todo o mundo, e o Youtube, quase isso.*, os elementos referenciais *quase isso* retomam o trecho *2 bilhões de usuários em todo o mundo*, relativizando-o.
- () A conjunção *No entanto* estabelece entre o segundo e terceiro parágrafo uma relação de adversidade.

Assinale a sequência correta.

[A] V, F, V, V

[B] F, V, F, V

[C] V, F, F, F

[D] F, V, V, F

Instrução: Leia atentamente o texto a seguir para responder às questões de 05 a 08.

Os algoritmos estão em toda parte. Quando a bolsa sobe ou desce, eles geralmente estão envolvidos. Segundo dados divulgados em 2016 pelo Instituto de Pesquisa Econômica Aplicada (Ipea), robôs investidores programados para reagir instantaneamente ante determinadas situações são responsáveis por mais de 40% das decisões de compra e venda no mercado de ações no país – nos Estados Unidos, o percentual chegou a 70%. O sucesso de uma simples pesquisa no Google depende de uma dessas receitas escritas em linguagem de programação computacional, que é capaz de filtrar em segundos bilhões de páginas na web – a importância de uma página, definida por um algoritmo, baseia-se na quantidade e na boa procedência de links que remetem a ela. [...]

Embora influenciem até mesmo atividades cotidianas prosaicas, como a procura de atalhos no trânsito com a ajuda de aplicativos de celular, os algoritmos costumam ser vistos como objetos intangíveis pela população em geral – que sente seus efeitos, mas não conhece ou compreende seu formato e modo de ação. Um algoritmo nada mais é do que uma sequência de etapas para resolver um problema ou realizar uma tarefa de forma automática, quer ele tenha apenas uma dezena de linhas de programação ou milhões delas empilhadas em uma espécie de pergaminho virtual. “É o átomo de qualquer processo computacional”, define o cientista da computação Roberto Marcondes Cesar Junior, pesquisador do Instituto de Matemática e Estatística da Universidade de São Paulo (IME-USP).

Tome-se o exemplo da sequência de passos realizada pelo algoritmo do Facebook. A escolha do que vai aparecer no feed de notícias de um usuário depende, em primeiro lugar, do conjunto de postagens produzidas ou que circulam entre os amigos. Em linhas gerais, o algoritmo analisa essas informações, descarta posts denunciados como de conteúdo violento ou impróprio, os que pareçam spam ou os que tenham uma linguagem identificada como “caça-cliques”, com exageros de marketing. Por fim, o algoritmo atribui uma nota para cada uma das publicações com base no histórico da atividade do usuário, tentando supor o quanto ele seria suscetível a curtir ou compartilhar aquela informação.

(Disponível em: <https://revistapesquisa.fapesp.br/o-mundo-mediado-por-algoritmos/>. Acesso em: 05/07/2022)

QUESTÃO 05

Esse texto pertence ao gênero textual socialmente reconhecido como

- [A] notícia, porque tem como objetivo relatar um fato socialmente relevante para um público amplo.
- [B] artigo de opinião, pois objetiva persuadir o leitor sobre o ponto de vista do enunciador.
- [C] reportagem, pois tem o propósito de expor informações sobre o assunto em pauta.
- [D] relatório, pois tem como finalidade divulgar resultado de um estudo para um público restrito.

QUESTÃO 06

Sobre elementos composicionais desse gênero textual e linguagem usada, marque a afirmativa **INCORRETA**.

- [A] Nesse gênero textual, predomina a linguagem formal com elementos que funcionam como suporte à informação.
- [B] O gênero textual, estruturado de um ponto de vista marcado pela subjetividade, apresenta citação do discurso indireto.
- [C] As informações são interpretadas por meio de uma linguagem formal clara e objetiva.
- [D] Nesse texto elaborado em terceira pessoa, o discurso direto é usado para dar voz a uma autoridade no assunto em pauta.

QUESTÃO 07

NÃO ocorreria prejuízo de sentido se o adjetivo *prosaicas*, usado no segundo parágrafo, fosse substituído por

- [A] banais.
- [B] ignóbeis.
- [C] rudes.
- [D] triviais.

QUESTÃO 08

Assinale a alternativa em que a relação de sentido expressa pela oração negritada está **INCORRETA**.

- [A] ... *os algoritmos costumam ser vistos como objetos intangíveis pela população em geral – que sente seus efeitos, **mas não conhece ou compreende seu formato e modo de ação.*** Relação de oposição e alternância, respectivamente, à informação apresentada na oração anterior.
- [B] ***Quando a bolsa sobe ou desce, eles geralmente** estão envolvidos.* Estabelece relação de circunstância de tempo ocasional ao fato informado na oração seguinte.
- [C] ***Segundo dados divulgados em 2016 pelo Instituto de Pesquisa Econômica Aplicada (Ipea), robôs investidores programados para reagir instantaneamente ante determinadas situações são responsáveis por mais de 40% das decisões de compra e venda no mercado de ações no país.*** Relação explicativa, pois introduz uma justificativa do que é afirmado na oração seguinte.
- [D] ***Um algoritmo nada mais é do que uma sequência de etapas para resolver um problema.*** Relação de finalidade à afirmação apresentada na oração anterior.

Instrução: Leia o texto a seguir para responder às questões 09 e 10.

Muito se fala sobre as novidades introduzidas pelo Marco Civil da Internet (Lei 12.965/2014) e pelo Novo Código de Processo Civil (Lei 13.105/2015) no que diz respeito aos mecanismos mais ágeis disponíveis aos usuários da internet para reparar eventuais danos causados pelo uso indevido de imagem e divulgação de conteúdo inverídico, principalmente no âmbito das redes sociais. Dentre estas novidades, destaca-se a tutela antecipada requerida em caráter antecedente (artigo 403 do CPC de 15), por meio da qual é possível obter a cessação imediata da propagação de veiculação indevida da imagem do usuário sem o seu consentimento, o que permite, num segundo momento, após o conteúdo ter sido removido, requerer a indenização pelos danos morais e/ou materiais causados.

[...]
Como o direito de imagem é irrenunciável, inalienável, intransmissível, porém disponível, sem a devida autorização/licença de uso de seu titular, não poderá um terceiro fazer uso de imagem que não seja a sua própria. No âmbito das relações havidas por meios eletrônicos, pode-se dizer que ninguém poderá publicar, em um provedor como Facebook ou Instagram, por exemplo, a imagem desautorizada de outro usuário. Não obstante, não é incomum que terceiros se utilizem da imagem desautorizada alheia e, por vezes meramente por desconhecimento da legislação vigente, cometam infrações passíveis de indenização, com reflexos também na esfera criminal.

(Disponível em: <https://www.conjur.com.br/2017-fev-13/leis-recentes-facilitaram-remocao-uso-indevido-imagem-rede>. Acesso em: 08/07/23). Fragmento.

QUESTÃO 09

Sobre recursos linguísticos e gramaticais usados nesse texto, marque V para as afirmativas verdadeiras e F para as falsas.

- () No texto em análise, a intertextualidade se estabelece por meio da referência explícita ao texto fonte com o qual dialoga.
- () Na frase *Dentre estas novidades, destaca-se a tutela antecipada requerida em caráter antecedente*, a forma verbal *destaca-se* concorda em número e pessoa com o sujeito *a tutela*.
- () Em ... *sem a devida autorização/licença de uso de seu titular, não poderá um terceiro fazer uso de imagem que não seja a sua própria*, os adjetivos *devida* e *própria* concordam em número e gênero com os substantivos *autorização* e *imagem*, respectivamente.
- () No trecho *Não obstante, não é incomum que terceiros se utilizem da imagem desautorizada alheia*, a locução *Não obstante* expressa valor concessivo.

Assinale a sequência correta.

- [A] F, V, V, F
- [B] V, F, V, V
- [C] V, V, F, F
- [D] F, F, V, V

QUESTÃO 10

As palavras *irrenunciável*, *inalienável* e *intransmissível* são formadas pelo processo de derivação

- [A] prefixal.
- [B] parassintético.
- [C] regressiva.
- [D] prefixal e sufixal.

INFORMÁTICA BÁSICA


QUESTÃO 11

No site de pesquisas do Google, qual seria o termo de busca mais indicado para pesquisar sobre o termo exato **Portal Transparência** exclusivamente no site www.nobres.mt.gov.br?

- [A] 
- [B] 
- [C] 
- [D] 

QUESTÃO 12

Sobre Windows 10, analise as afirmativas.

- I - Pode-se ativar o Histórico da área de transferência para armazenar vários itens e o conteúdo pode ser exibido pressionando-se a combinação de teclas  + V.
- II - Ao se excluir um arquivo do pen drive, este é enviado automaticamente para a Lixeira, podendo ser recuperado mais tarde.
- III - Os caracteres válidos para nomear arquivos e pastas incluem todas as letras do alfabeto (de A a Z) e números (de 0 a 9), além de todos os caracteres especiais.
- IV - O Sensor de Armazenamento, quando ativado, permite liberar espaço em disco automaticamente, livrando-se de arquivos desnecessários.

Estão corretas as afirmativas

- [A] II e III, apenas.
- [B] I e IV, apenas.
- [C] I, II e IV, apenas.
- [D] I, II, III e IV.

QUESTÃO 13

A figura abaixo apresenta modelos de portas/conectores de vídeo, numerados de 1 a 3.



De acordo com a figura, assinale a alternativa que apresenta a associação correta do modelo de porta/conector ao número especificado.

- [A] 1-VGA; 2-DisplayPort; 3-HDMI.
- [B] 1-VGA; 2-HDMI; 3-DisplayPort.
- [C] 1-DisplayPort; 2-VGA; 3-HDMI.
- [D] 1-HDMI; 2-DisplayPort; 3-VGA.

QUESTÃO 14

A figura abaixo apresenta uma planilha no Microsoft Excel com algumas células preenchidas.

	A	B	C
1	4	6	
2	8	12	
3	22	14	
4			

A coluna da esquerda apresenta fórmulas aplicadas na planilha e a da direita, os resultados produzidos por cada uma delas. Numere a coluna da direita de acordo com a da esquerda.

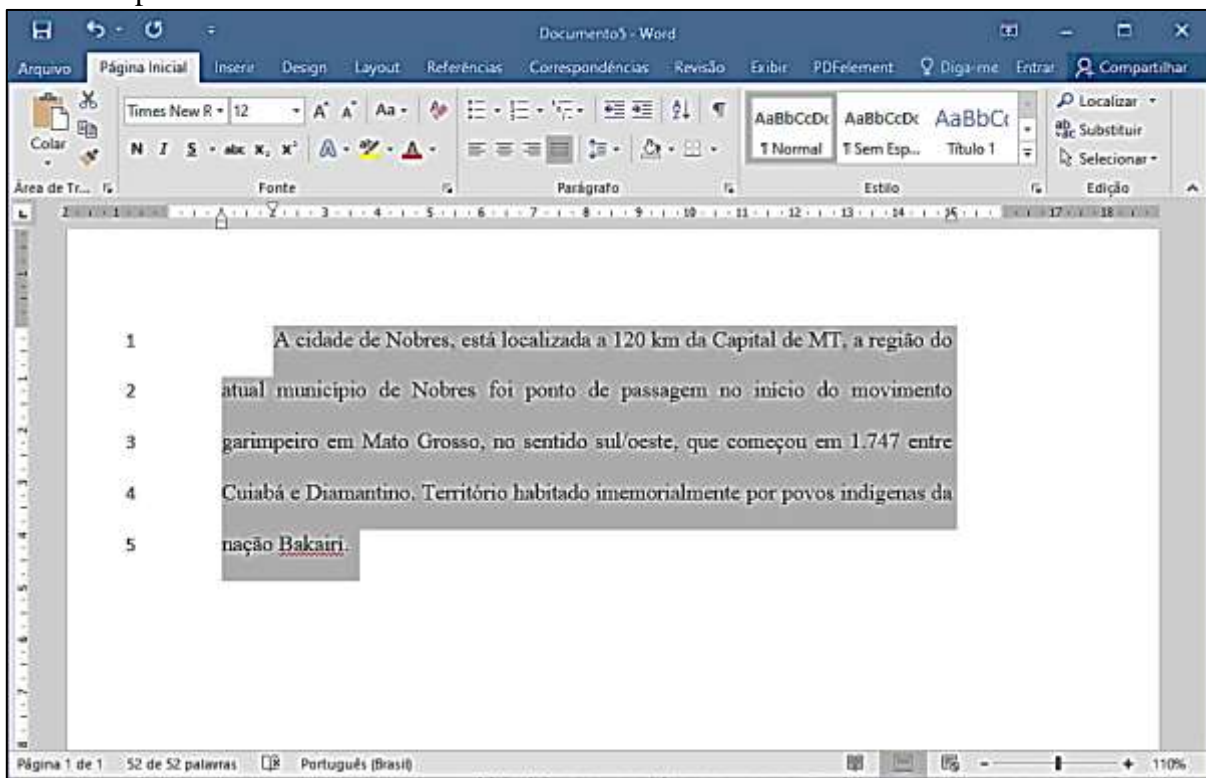
1. =SOMASE(A1:B3;"<4") () 66
2. =SOMA(A1;B3) () 11
3. =MÉDIA(A1:B3) () 9
4. =SOMA(A1:B3) () 0
5. =MÉDIA(A1;B3) () 18

Marque a sequência correta.

- [A] 4, 3, 5, 2, 1
[B] 2, 5, 3, 1, 4
[C] 1, 5, 3, 4, 2
[D] 4, 3, 5, 1, 2

QUESTÃO 15

A figura abaixo apresenta um texto no Microsoft Word selecionado.



Sobre a figura, analise as afirmativas.

- I - As margens direita e esquerda do documento estão ambas ajustadas para 1 cm.
- II - O parágrafo selecionado está formatado com fonte Times New Roman, tamanho 12.
- III - O alinhamento utilizado no parágrafo selecionado é Justificado.
- IV - O recuo de primeira linha do parágrafo selecionado está ajustado para 2 cm.

Estão corretas as afirmativas

- [A] II, III e IV, apenas.
[B] I e IV, apenas.
[C] II e III, apenas.
[D] I, II, III e IV.

LEGISLAÇÃO BÁSICA

QUESTÃO 16

Em conformidade com as disposições da Lei Municipal nº 992/2006, que reforma o Regime Jurídico Único dos Servidores Públicos do Município de Nobres/MT, acerca das formas de provimento derivado dos cargos públicos, assinale a afirmativa correta.

- [A] A reintegração é a reinvestidura do servidor estável no cargo anteriormente ocupado, quando invalidada a sua demissão, por decisão administrativa ou judicial, com ressarcimento de todos os direitos e vantagens.
- [B] A readaptação é o retorno à atividade do servidor aposentado por invalidez quando, por junta médica oficial, forem declarados insubsistentes os motivos determinantes da aposentadoria.
- [C] O aproveitamento é o retorno do servidor estável ao cargo anteriormente ocupado, em decorrência de reintegração do anterior ocupante.
- [D] A reversão é a investidura do servidor estável, em cargo compatível com a limitação que tenha sofrido em sua capacidade física ou mental, verificada em inspeção médica oficial.

QUESTÃO 17

Analisar a seguinte situação hipotética:

Salustino, servidor efetivo estável do Quadro de Pessoal do Poder Executivo do Município de Nobres/MT, foi nomeado para assumir um cargo no quadro de servidores estadual em outro Estado da federação, após aprovação em concurso público de provas. Considerando que a acumulação dos cargos é proibida, Salustino apresentou requerimento de vacância no órgão municipal decorrente de posse em outro cargo inacumulável.

Segundo o disposto na Lei Municipal nº 992/2006, que reforma o Regime Jurídico Único dos Servidores Públicos do Município de Nobres/MT, é correto afirmar que Salustino

- [A] deverá ser imediatamente exonerado do seu cargo no Município de Nobres/MT, em virtude da posse em outro cargo inacumulável.
- [B] poderá ser reconduzido ao seu cargo de origem no Município de Nobres/MT, caso não seja habilitado no estágio probatório do novo cargo.
- [C] deverá ser notificado para optar pelo cargo que pretende ocupar, visto que incabível o pedido de vacância.
- [D] deverá ser demitido do seu cargo no Município de Nobres/MT, em virtude da posse em outro cargo inacumulável.

QUESTÃO 18

Sobre as disposições da Lei Municipal nº 992/2006 acerca da pena de demissão, marque V para as afirmativas verdadeiras e F para as falsas.

- () A demissão por aplicação irregular de dinheiro público incompatibiliza o ex-servidor para nova investidura em cargo municipal por 5 (cinco) anos.
- () Considerar-se-á abandono de cargo, para fins de demissão, o não comparecimento do servidor por mais de 30 (trinta) dias consecutivos ao serviço, sem justa causa.
- () A pena de demissão será aplicada pelo Prefeito Municipal ou pelo Secretário Municipal, em caso de ausência do Chefe do Poder Executivo.
- () A ação disciplinar prescreverá em 5 (cinco) anos, quanto às infrações puníveis com demissão.

Assinale a sequência correta.

- [A] F, F, V, V
- [B] V, F, V, F
- [C] F, V, F, V
- [D] V, F, F, F

QUESTÃO 19

Leia o seguinte texto:

“O cidadão quer um serviço público proporcionado pelo Estado que funcione e para isso exige servidores dedicados e preparados a fazer o melhor para atender às suas necessidades. A prestação do serviço público é a das mais importantes atividades de uma comunidade, sociedade ou de uma nação. Nenhum país, estado ou município funciona sem seu quadro de servidores públicos, responsáveis pelos diversos serviços colocados à disposição do cidadão. Portanto, é de suma importância exaltar a quem executa o papel de prestador de serviço à sociedade. Neste contexto, prestar serviço à população com qualidade e dedicação deve ser sempre a meta e os objetivos dos servidores. Segundo se depreende das disposições constitucionais em vigor, servidores públicos são todos aqueles que mantêm vínculo de trabalho profissional com os órgãos e entidades governamentais, integrados em cargos ou empregos de qualquer delas: União, Estados, Distrito Federal, Municípios, respectivas autarquias, fundações, empresas públicas e sociedades de economia mista. Trata-se de designação genérica e abrangente introduzida pela Carta de 1988, uma vez que, até a promulgação da Constituição Federal hoje em vigor, prevalecia a denominação de funcionário público, para identificação dos titulares de cargos na administração direta, considerando-se a eles equiparados os ocupantes de cargos nas autarquias, aos quais se estendia o regime estatutário. A partir, pois, da Constituição de 1988, desaparece o conceito de funcionário público, passando-se adotar a designação ampla de servidores públicos. A cada dia o papel do servidor público não é apenas de ser estável, é muito mais do que isso, pois a sua atuação está necessariamente voltada para os anseios da comunidade ou sociedade (...)”.

(DOURADO, Augusto. *A importância do servidor público, seus direitos e deveres*. Publicado em 04/04/2014. Disponível em: <http://www.portaldoservidor.ba.gov.br/artigo-importancia-do-servidor-publico-seus-direitos-e-deveres>. Acesso em: 24 jul. 2022.)

Para prestação de serviços à população com qualidade e dedicação, tal como tratado no texto, a Lei Municipal nº 992/2006 impõe deveres e proibições aos servidores públicos do Município de Nobres/MT. Neste contexto, assinale a afirmativa **INCORRETA**.

- [A] Ao servidor público é proibido atuar como procurador, junto a órgãos públicos, inclusive para tratar de benefícios previdenciários de parentes próximos.
- [B] Ao servidor público é proibido cometer a outro servidor atribuições estranhas as do cargo que ocupa, exceto em situações de emergência ou transitórias.
- [C] É dever do servidor público cumprir as ordens superiores, exceto quando manifestamente ilegais.
- [D] É dever do servidor público levar ao conhecimento de autoridade superior as irregularidades de que tiver ciência em razão do cargo.

QUESTÃO 20

Nos termos do regime disciplinar previsto na Lei Municipal nº 992/2006, a pena de suspensão será aplicada em caso de reincidência das faltas punidas com advertência e de violação das demais proibições que não tipifiquem infração sujeita à penalidade de demissão, não podendo exceder a

- [A] 45 (quarenta e cinco) dias.
- [B] 60 (sessenta) dias.
- [C] 30 (trinta) dias.
- [D] 90 (noventa) dias.

CONHECIMENTOS ESPECÍFICOS

QUESTÃO 21

A Organização Mundial do Turismo (OMT) lançou em maio de 2022 uma publicação oficial intitulada: “Código Internacional para a Proteção dos Turistas”. Trata-se de um marco legal internacional para assistir aos turistas internacionais e uniformizar internacionalmente os direitos de proteção aos consumidores turísticos. Marque a afirmativa que se refere às responsabilidades das autoridades públicas e prestadores de serviços turísticos.

- [A] Informar sobre as características do país a ser visitado, incluindo os riscos de saúde e segurança inerentes à qualquer viagem fora do ambiente habitual, seguindo todos os protocolos de saúde e de segurança estabelecidos.
- [B] Oferecer assistência a turistas internacionais em emergências com o fornecimento de informações de fácil acesso, oportunas, objetivas, honestas e relevantes de forma clara, visível e compreensível.
- [C] Oferecer seguros de viagens adequados e gratuitos para todos os viajantes internacionais que visitam outros países, em especial àqueles que oferecem maior risco à saúde e segurança do turista.
- [D] Tomar as medidas adequadas para dar complexidade aos procedimentos, aumentando os encargos administrativos para os turistas internacionais ao lidar com os prestadores de serviços turísticos em emergências.

QUESTÃO 22

O Plano Nacional de Turismo 2018-2022 é o instrumento que estabelece diretrizes e estratégias para a implementação da Política Nacional de Turismo. O objetivo principal desse documento é ordenar as ações do setor público, orientando o esforço do Estado e a utilização dos recursos públicos para o desenvolvimento do turismo. Sobre as metas do Plano Nacional de Turismo 2018-2022, assinale a afirmativa **INCORRETA**.

- [A] Aumentar de 7 para 9 milhões o número de empregos no turismo.
- [B] Ampliar a entrada anual de turistas estrangeiros de 6,5 para 12 milhões.
- [C] Expandir de 60 para 100 milhões o número de brasileiros viajando pelo país.
- [D] Apoiar o planejamento do turismo, integrado ao setor de segurança pública.

QUESTÃO 23

Para a formulação e implementação da Política Nacional de Turismo, por meio do Plano Nacional de Turismo 2018-2022, o Ministério do Turismo definiu a sua estrutura organizativa em 5 linhas de atuação, delimitando 17 iniciativas que foram traduzidas em 44 propostas estratégicas. Sobre a estrutura do Plano Nacional de Turismo 2018-2022 (PNTur), analise as afirmativas.

- I - As 5 linhas de atuação propostas pelo PNTur (2018-2022) são: 1 – Ordenamento, gestão e monitoramento; 2 – Estruturação do turismo brasileiro; 3 – Formalização e qualificação no turismo; 4 – Incentivo ao turismo responsável; 5 – Marketing e apoio à comercialização.
- II - Uma das iniciativas definidas na linha de atuação referente ao “Ordenamento, gestão e monitoramento” é: “Promover a integração da produção local à cadeia produtiva do turismo e desenvolver o turismo de Base Local”.
- III - Uma proposta estratégica refere-se à quitação de dívidas e à receita tributária advindas do turismo que podem ser reinvestidas nos serviços e cuidados de saúde, tendo como objetivo melhorar a saúde materna, reduzir a mortalidade infantil e prevenir doenças.
- IV - Uma proposta estratégica é consolidar e reposicionar a marca do Brasil em âmbito nacional e internacional até 2022, por meio da elaboração e implementação de um plano integrado de posicionamento de imagem do país.

Está correto o que se afirma em

- [A] I e IV, apenas.
- [B] II e III, apenas.
- [C] I, II e III, apenas.
- [D] I, II, III e IV.

QUESTÃO 24

O Plano Nacional de Turismo (2018-2022) enfatizou o fortalecimento da atuação regionalizada, além do incentivo à inovação e à melhoria da qualidade, competitividade e sustentabilidade da atividade turística. A articulação regional é fundamental para o processo de constituição, formalização e atuação das Instâncias de Governança Regionais (IGRs). O processo deve ser iniciado com a sensibilização e seguir com a mobilização, integração e, finalmente, com a constituição da governança, que deverá ser atuante e reconhecida pela comunidade regional. De acordo com o Plano Nacional de Turismo (2018-2022), **NÃO** é dever das IGR:

- [A] Consolidar parcerias e proporcionar o envolvimento e o comprometimento dos mais variados setores socioeconômicos do município no fomento da atividade turística.
- [B] Ser um fórum regional para a proposição, análise, coordenação e monitoramento de políticas, planos, projetos e ações na busca do desenvolvimento do turismo sustentável.
- [C] Articular decisões regionalizadas de forma coletiva, tornando sua gestão colaborativa, participativa e, principalmente, compartilhada.
- [D] Assegurar espaços para a articulação de atores públicos, privados, sociais e do terceiro setor que compõem os municípios participantes.

QUESTÃO 25

O Mapa do Turismo Brasileiro é o instrumento instituído no âmbito do Programa de Regionalização do Turismo que orienta a atuação do Ministério do Turismo no desenvolvimento das políticas públicas. É o Mapa do Turismo Brasileiro que define a área - o recorte territorial - que deve ser trabalhada prioritariamente pelo Ministério. Os municípios que o compõem foram indicados pelos órgãos estaduais de turismo com as instâncias de governança regional, a partir de critérios construídos em conjunto com Ministério do Turismo. Em 2022, segundo o Mapa do Turismo, o Brasil possui 338 regiões formadas por 2.817 municípios turísticos categorizados em A, B, C, D e E. Sobre o Mapa do Turismo brasileiro (2022), marque V para as afirmativas verdadeiras e F para as falsas.

- () Mato Grosso possui 15 regiões formadas por 85 municípios turísticos.
- () O município de Nobres pertence à região turística “Circuito das Águas” e está na categoria “C”.
- () O município de Nobres pertence à Região Turística “Circuito das Grutas e Cavernas” e está na Categoria “B”.
- () Cuiabá pertence à região turística “Metropolitana” e está na categoria “A”.

Assinale a sequência correta.

- [A] F, F, V, V
- [B] V, F, V, F
- [C] V, V, F, V
- [D] F, V, F, F

QUESTÃO 26

Sobre o município de Nobres-MT, marque a afirmativa **INCORRETA**.

- [A] A cidade de Nobres está localizada a 87 km de Cuiabá. A região atual do município de Nobres foi ponto de passagem no início do movimento garimpeiro em Mato Grosso, que começou em 1.817 entre Cuiabá e Rosário Oeste. Um dos atrativos turísticos mais emblemáticos do município é a Cachoeira Serra Azul.
- [B] A cidade de Nobres está localizada a 120 km de Cuiabá. A região do atual município de Nobres foi ponto de passagem no início do movimento garimpeiro em Mato Grosso, que começou em 1.747 entre Cuiabá e Diamantino. Um dos atrativos turísticos mais emblemáticos do município é a Gruta da Lagoa Azul.
- [C] O município de Nobres possui cerca de 15 mil habitantes (IBGE, 2022) e está localizado no bioma Cerrado, garantindo à região uma série de atrativos turísticos ligados à natureza. Seu aniversário é em 1º de maio, e o nome da cidade advém da família do Sr. Francisco Nobre – dono de uma das sesmarias que deu origem à localidade.
- [D] São símbolos do município de Nobres, segundo a sua Lei Orgânica Municipal (15 de dezembro de 2004): o Brasão, a Bandeira, o Hino e as Expressões de sua cultura e de sua história. Ainda, segundo a mesma lei, em seu artigo 83, o município promoverá e incentivará o turismo como fator de desenvolvimento socioeconômico.

QUESTÃO 27

A Lei Municipal de Nobres nº 1.420/2016 dispõe sobre a Política Municipal de Turismo e o Sistema Municipal de Turismo. Segundo a referida lei, **NÃO** é instrumento da Política Municipal de Turismo:

- [A] Plano de Desenvolvimento do Turismo.
- [B] Conselho Municipal de Turismo – COMTUR.
- [C] Zoneamento Turístico.
- [D] Plano de Marketing Turístico.

QUESTÃO 28

A Política Municipal de Turismo de Nobres, estabelecida pela Lei Municipal nº 1.420/2016, estabelece os critérios para o credenciamento e funcionamento das atividades e empreendimentos turísticos. Sobre esses critérios, marque V para as afirmativas verdadeiras e F para as falsas.

- () Toda atividade ou empreendimento turístico que esteja operando ou venha a operar comercialmente no Município de Nobres deverá estar credenciado na Secretaria Municipal de Turismo e Meio Ambiente.
- () Ficam regulamentadas as atividades turísticas de Nobres, por meio de passaportes de visitação, denominados voucher único: um sistema de controle dos fluxos de turismo aos atrativos.
- () São obrigações dos meios de hospedagens credenciados para a operação no município de Nobres: atualizar diariamente a Secretaria Municipal de Turismo e Meio Ambiente sobre a taxa de ocupação, origem dos hóspedes e tempo médio de permanência.
- () O voucher único torna-se documento arrecadador do Fundo Municipal de Turismo – FUMTUR, sobre o valor final do voucher, na razão de 10%.

Assinale a sequência correta.

- [A] V, F, F, V
- [B] F, V, V, F
- [C] V, V, F, F
- [D] F, F, V, V

QUESTÃO 29

A coluna da esquerda refere-se a estratégias para o Planejamento e Gestão do Turismo e a da direita, às suas funcionalidades. Numere a coluna da direita de acordo com a da esquerda.

- | | | |
|-----------------------------------|-----|--|
| 1. Destino Turístico Inteligente | () | Define a parcela das pessoas que compartilham as mesmas características, necessidades e expectativas sobre o produto turístico. |
| 2. Inventário da Oferta Turística | () | Baseia-se em cinco pilares: governança, tecnologia, sustentabilidade, acessibilidade e inovação. |
| 3. Diagnóstico turístico | () | Levanta, identifica e registra os atrativos, serviços, equipamentos e a infraestrutura turística. |
| 4. Segmentação de mercado | () | Descrição, caracterização, análise e avaliação da situação atual de todos os elementos que interferem no desenvolvimento do turismo. |

Marque a sequência correta.

- [A] 2, 3, 4, 1
- [B] 4, 1, 2, 3
- [C] 3, 2, 4, 1
- [D] 4, 1, 3, 2

QUESTÃO 30

A Associação Brasileira de Normas Técnicas (ABNT) é o Foro Nacional de Normalização e, por meio da NBR ISO 20611:2019, propõe um documento para servir como fonte de boas práticas de sustentabilidade relacionadas ao turismo de aventura, a fim de orientar os fornecedores que desejam desenvolver suas atividades de forma sustentável. A norma considera três aspectos que envolvem a sustentabilidade: Ambiental, Social e Econômico.

Considerando a NBR ISO 20611:2019, marque “A” para os aspectos **Ambientais**, “S” para os **Sociais** e “E” para os aspectos **Econômicos**.

- () Estar ciente dos regulamentos e interesses específicos da área a ser visitada, como, por exemplo, incêndio, licenças, disposição de resíduos.
- () Conscientizar sobre o papel que as comunidades podem desempenhar em procedimentos de resposta à emergência e de resgate sobre como conduzir as atividades de maneira segura e prudente.
- () Relatar parâmetros-chave, avaliações ou métricas utilizadas para quantificar o efeito pecuniário das ações desenvolvidas.
- () Criar um ambiente no qual a comunidade local possa se orgulhar de sua cultura como parte da experiência de turismo de aventura.
- () Desenvolver procedimentos para identificar potenciais riscos financeiros.
- () Evitar a remoção ou o deslocamento de quaisquer amostras biológicas ou geológicas (por exemplo, flora, fauna e objetos) que ocorrem naturalmente na região hospedeira.

Assinale a sequência correta.

- [A] A, E, E, S, A, S
- [B] S, A, S, A, S, E
- [C] A, S, E, S, E, A
- [D] E, S, A, E, E, A

QUESTÃO 31

Sobre a Norma Técnica Brasileira NBR 15505-2 que trata do Turismo de Aventura de Caminhada, numere a coluna da direita de acordo com a da esquerda, considerando os Critérios de classificação dos percursos.

- | | | |
|----------------------------------|-----|--|
| 1. Severidade do meio | () | Quantidade de esforço requerido para cumprir o percurso, levando em conta extensão e desníveis (subidas e descidas). |
| 2. Orientação no percurso | () | Perigos e outras dificuldades decorrentes do meio natural, como temperatura, pluviosidade, riscos de quedas, facilidade de resgate que podem ser encontrados ao longo do percurso. |
| 3. Condições do terreno | () | Aspectos encontrados no percurso em relação ao piso e às condições para percorrê-lo, como tipos de pisos, trechos com obstáculos, trechos com pedras soltas. |
| 4. Intensidade de esforço físico | () | Grau de dificuldade para orientação, como presença de sinalização, trilhas bem marcadas, presença de pontos de referência. |

Marque a sequência correta.

- [A] 1, 2, 3, 4
- [B] 1, 3, 2, 4
- [C] 4, 3, 1, 2
- [D] 4, 1, 3, 2

QUESTÃO 32

Marque a alternativa em que todos os elementos são atrativos turísticos do município de Nobres.

- [A] Lagoa das Araras – Rio Saloba – Aquário Encantado – Rio Triste – Balneário Estivado.
- [B] Lagoa Misteriosa – Rio Cuiabá – Aquário das Piraputangas – Rio Salgado – Balneário do Juca.
- [C] Lagoa Azul – Rio Manso – Aquário Natural – Rio Doce – Balneário Aroe Jari.
- [D] Lagoa Encantada – Rio da Casca – Aquário Misterioso – Rio Verde – Balneário do Formoso.

QUESTÃO 33

Segundo o Ministério do Turismo (2011), Produto Turístico é:

- [A] Um conjunto de relações e de contatos entre vendedores (ofertantes) e compradores (demandantes) de bens e serviços turísticos.
- [B] Locais, objetos, equipamentos, pessoas, fenômenos, eventos ou manifestações capazes de motivar o deslocamento de pessoas para conhecê-los.
- [C] O conjunto de atrativos, equipamentos e serviços turísticos acrescidos de facilidades, localizados em um ou mais municípios, ofertado de forma organizada por um determinado preço.
- [D] O conjunto de atrações naturais e artificiais de uma região, bem como de todos os produtos turísticos à disposição dos consumidores para a satisfação de suas necessidades.

QUESTÃO 34

Para Oliveira (2005), os vários tipos de turismo praticados no mundo todo tornam essa atividade uma grande opção de desenvolvimento. É preciso que cada local defina em que tipo ou em que tipos de turismo suas características se enquadram, de acordo com o potencial da região.

Marque a alternativa em que todos os tipos de turismo se aplicam à realidade de Mato Grosso, como potencial ou realidade de desenvolvimento em seu território.

- [A] Ecoturismo / Turismo de Aventura / Turismo Rural / Turismo de Eventos / Turismo Tecnológico.
- [B] Turismo de Aventura / Turismo Religioso / Turismo de Neve / Turismo de Sol e Praia/ Turismo Gastronômico.
- [C] Ecoturismo / Turismo Gastronômico / Turismo de Cruzeiros Marítimos / Geoturismo/ Turismo Rural.
- [D] Agroturismo / Turismo Tecnológico / Etnoturismo/ Turismo de Caça / Turismo de Pesca.

QUESTÃO 35

O planejamento turístico ocorre de várias maneiras (desenvolvimento, infraestrutura, uso do solo e de recursos, organização, recursos humanos, divulgação e marketing); estruturas (outro governo, organizações quase governamentais e não governamentais); escalas (internacionais, transnacionais, nacionais, regionais, locais e setoriais) e em diferentes escalas de tempo (para desenvolvimento, implementação, avaliação e realização satisfatória dos objetivos de planejamento) (HALL; PAGE, 2006.).

Assinale a afirmativa que **NÃO** apresenta etapa/fase do planejamento turístico.

- [A] Diagnóstico e prognóstico.
- [B] Cadastro do proponente no Ministério do Turismo.
- [C] Estabelecimento de objetivos e metas.
- [D] Monitoramento.

Instrução: Leia o texto abaixo para responder às questões 36 e 37.

A Organização Mundial do Turismo - OMT fornece liderança e apoio ao setor de turismo para expandir o conhecimento e avançar nas políticas de turismo em todo o mundo, defender o turismo responsável e promover o turismo como força motriz para o crescimento econômico, desenvolvimento inclusivo e sustentabilidade ambiental. Em 2015, a Assembleia Geral das Nações Unidas (AGNU) definiu 169 metas mundiais para levar o mundo a um caminho sustentável. Trata-se de um compromisso dos países que compõem o organismo para cumprir as metas propostas, organizadas em 17 objetivos. Essa ação está organizada em um documento orientativo chamado Objetivos para o Desenvolvimento Sustentável (ODS).

QUESTÃO 36

Os Objetivos para o Desenvolvimento Sustentável são conhecidos também como uma agenda de compromissos dos países membros da ONU. Essa agenda é nomeada:

- [A] Agenda ecológica.
- [B] Agenda 21.
- [C] Agenda 2030.
- [D] Agenda da sustentabilidade.

QUESTÃO 37

Marque a alternativa em que **NENHUM** dos três elementos compõe os Objetivos para o Desenvolvimento Sustentável (ODS).

- [A] Erradicação da pobreza – Indústria, inovação e infraestrutura – Redução das desigualdades.
- [B] Profissionalizar os trabalhadores do turismo – Marketing e apoio à comercialização – Estruturas de governanças mistas.
- [C] Saúde e bem-estar - Educação de qualidade - Igualdade de gênero.
- [D] Paz, justiça e instituições eficazes - Fome zero e agricultura sustentável – Consumo e produção responsáveis.

QUESTÃO 38

A Política Nacional de Qualificação em Turismo (PNQT) permite planejamento de curto, médio e longo prazo das políticas públicas voltadas para formação e certificação profissional no turismo. O documento, construído com a participação de representantes da cadeia produtiva, da academia, do terceiro setor e de gestores públicos traduz os anseios e demandas do conjunto desses segmentos sociais. O turismo gera 1 de cada 10 empregos no mundo, o que demonstra a dimensão desta atividade no contexto da economia global. No Brasil, o setor emprega sete milhões de pessoas, direta e indiretamente, e a meta é chegar a nove milhões de empregos até 2022. A concepção da Política Nacional de Qualificação no Turismo partiu da decisão do Ministério do Turismo de fomentar o turismo por meio da qualificação profissional.

Sobre a responsabilidade dos estados e municípios em relação à implantação da Política Nacional de Qualificação em Turismo, é correto afirmar:

- [A] A execução dos cursos de capacitação em Turismo é de responsabilidade das instituições de ensino que estejam no território do município.
- [B] Aos estados e municípios cabe o papel de executar a Política Nacional de Qualificação em Turismo, aplicando a metodologia do Ministério do Turismo.
- [C] Os estados e municípios deverão estar articulados via Instância de Governança Regional para pleitear os cursos de qualificação oferecidos pelo Ministério do Turismo.
- [D] Caberá aos estados e municípios o papel de gestores locais e cofinanciadores dos respectivos Planos Territoriais de Qualificação.

QUESTÃO 39

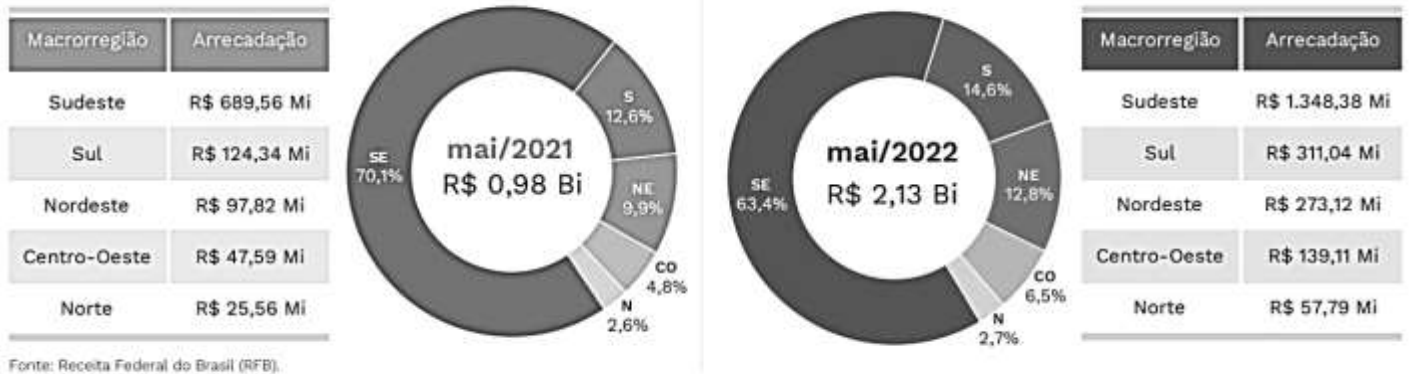
O Cadastro de Prestadores de Serviços Turísticos (Cadastur), do Ministério do Turismo, é o cadastro de pessoas físicas e jurídicas que atuam no setor turístico. Esse cadastro é obrigatório para

- [A] Meios de Hospedagem; Agências de Turismo; Transportadoras Turísticas; Organizadores de Eventos; Parques Temáticos; Acampamentos Turísticos e Guias de Turismo – MEI.
- [B] Instituições de Ensino de Turismo; Bares e Restaurantes; Condutores Locais de Turismo; Secretarias Municipais de Turismo; Companhias Aéreas e Hotéis classificados entre 3 e 5 estrelas.
- [C] Bares e Restaurantes; Transportadoras Terrestres; Pousadas e Hotéis classificados entre 3 e 5 estrelas; Atrativos Turísticos com CNPJ; Espaços de Lazer e Eventos; Bacharéis em Turismo.
- [D] Bacharéis em Turismo; Técnicos da área de Turismo, Hospitalidade e Lazer; Todas as empresas de Turismo que possuem CNPJ; Secretarias Municipais de Turismo; Bares e Restaurantes.

QUESTÃO 40

A figura abaixo apresenta estatísticas sobre a Arrecadação Federal do Setor de Turismo no Brasil, por macrorregião.

Arrecadação Federal do Setor de Turismo no Brasil por Macrorregião - maio/2021 e maio/2022



Ano 1 ▫ Nº 6 ▫ julho/2022

Radar do Turismo - Boletim Mensal de Estatísticas do Turismo - CGDI/SGE/SE/MTur

Com base nos dados apresentados, analise as afirmativas a seguir.

- I - Houve um crescimento na arrecadação do setor em 2022, em relação a 2021. A região que mais contribuiu com a arrecadação em turismo foi a Sudeste, seguida pelas regiões Sul e Nordeste.
- II - A arrecadação em Turismo nas regiões Centro-Oeste e Norte em 2022 foi superior à de 2021.
- III - A arrecadação federal do Setor de Turismo para a região Centro-Oeste em maio de 2022 foi de R\$ 139,11 Mi – superior à de 2021.
- IV - Todas as macrorregiões tiveram aumento de arrecadação em 2022 em relação à 2021.

Está correto o que se afirma em

- [A] I e II, apenas.
- [B] II, III e IV, apenas.
- [C] I e IV, apenas.
- [D] I, II, III e IV.

EM BRANCO



ESTADO DE MATO GROSSO
PREFEITURA MUNICIPAL DE NOBRES

EDITAL N.º 01/2022 - PMN

FOLHA DE ANOTAÇÃO DO CANDIDATO

Questão	Alternativa
01	
02	
03	
04	
05	
06	
07	
08	
09	
10	
11	
12	
13	
14	
15	
16	
17	
18	
19	
20	

Questão	Alternativa
21	
22	
23	
24	
25	
26	
27	
28	
29	
30	
31	
32	
33	
34	
35	
36	
37	
38	
39	
40	

Esta folha é destinada para uso EXCLUSIVO do candidato.