



# INSTRUÇÕES

## LEIA COM ATENÇÃO

1. Este Caderno de Prova, com páginas numeradas de **1 a 17**, é constituído de **40 (quarenta)** questões objetivas, cada uma com **4 (quatro)** alternativas, assim distribuídas:

**01 a 10 – Língua Portuguesa**

**11 a 20 – Matemática**

**21 a 25 – Informática Básica**

**26 a 30 – Legislação Básica**

**31 a 40 – Conhecimentos Específicos**

2. Caso o Caderno de Prova esteja incompleto ou tenha qualquer defeito de impressão, solicite ao fiscal que o substitua.

### 3. Sobre a Marcação do Cartão de Respostas

*As respostas deverão ser, obrigatoriamente, transcritas com caneta esferográfica de tinta azul ou preta não porosa, fabricada em material transparente, para o Cartão de Respostas, que será o único documento válido para correção. Não haverá substituição do Cartão de Respostas por erro do candidato.*

- 3.1. Para cada questão existe apenas uma alternativa que a responde acertadamente. Para a marcação da alternativa escolhida no **CARTÃO DE RESPOSTAS**, pinte **completamente** o círculo correspondente.

*Exemplo: Suponha que para determinada questão a alternativa C seja a escolhida.*

Nº da Questão
<input type="radio"/> A
<input type="radio"/> B
<input checked="" type="radio"/>
<input type="radio"/> D

- 3.2. Marque apenas uma alternativa para cada questão.
- 3.3. Será invalidada a questão em que houver mais de uma marcação, marcação rasurada ou emendada, ou não houver marcação.
- 3.4. Não rasure nem amasse o **CARTÃO DE RESPOSTAS**.
4. Todos os espaços em branco, neste caderno, podem ser utilizados para rascunho.
5. A duração da prova é **4 (quatro)** horas, já incluído o tempo destinado ao preenchimento do **CARTÃO DE RESPOSTAS**.
6. Somente após decorridas **2 horas e 30 minutos** do início da prova, o candidato, depois de entregar seu Caderno de Prova e seu Cartão de Respostas, poderá retirar-se da sala de prova. O candidato que insistir em sair da sala de prova antes desse tempo deverá assinar **Termo de Ocorrência** declarando sua desistência do processo seletivo.
7. Na página **17** deste Caderno de Prova, encontra-se a **Folha de Anotação do Candidato**, a qual poderá ser utilizada para a transcrição das respostas das questões objetivas. Essa folha poderá ser levada pelo candidato para posterior conferência com o gabarito somente após decorridas **2 horas e 30 minutos** do início da prova.
8. Será permitida a saída de candidatos levando o Caderno de Prova somente **na última meia hora** de prova.
9. Após o término da prova, o candidato deverá, obrigatoriamente, entregar ao fiscal o **CARTÃO DE RESPOSTAS** devidamente assinado e preenchido.

# LÍNGUA PORTUGUESA

**Instrução: Leia atentamente o texto para responder às questões 01 e 02.**

Faz parte da maioria da população brasileira ser espectadora de um tipo de programa de televisão no qual a intimidade das pessoas é o objeto central do espetáculo: programa de auditório, de entrevistas e de debates com adultos, jovens e crianças contando suas preferências pessoais desde o sexo até o brinquedo, da culinária ao vestuário, da leitura à religiosidade, do ato de escrever ou encenar uma peça teatral aos hábitos de lazer e cuidados corporais. O ponto culminante desse tipo de espetáculo é o programa intitulado *Big Brother*.

(CHAUÍ, Marilena. *A ideologia da competência*/ Escritos de Marilena Chauí; Volume 3. Org. André Rocha. Belo Horizonte: Autêntica; São Paulo: Editora Fundação Perseu Abramo, 2022.)

## QUESTÃO 01

Depreende-se da leitura desse texto que

- [A] há programas televisivos que exploram a intimidade das pessoas, a fim de garantir audiência.
- [B] todos os espectadores brasileiros são adeptos de programas televisivos que exploram a intimidade das pessoas.
- [C] as crianças são isentas dos programas televisivos que, em busca de audiência, usam a intimidade das pessoas.
- [D] dentre os programas televisivos, o *Big Brother* se destaca por se eximir do uso da intimidade das pessoas como objeto central do espetáculo.

## QUESTÃO 02

A respeito desse texto, marque a afirmativa correta.

- [A] O tema programas televisivos é abordado de forma ampla, de um ponto de vista crítico.
- [B] A autora expressa opinião crítica acerca de determinados programas televisivos.
- [C] De um ponto de vista subjetivo, a autora descreve situações que são exploradas em determinados programas televisivos.
- [D] Os fatos a respeito de determinados programas televisivos são narrados de um ponto de vista objetivo.

**Instrução: Leia o texto para responder às questões de 03 a 05.**

Assim como muitos inventos, a televisão não é boa e nem é má; ela apenas reflete o nível e o perfil mental da sociedade que lhe é contemporânea. As pessoas que a programam são as responsáveis pela deturpação da sua finalidade original: cultura, entretenimento saudável e utilidade pública.

Imensos interesses comerciais, egoísticos e narcisistas se escondem por trás da televisão. Comerciantes, publicitários, os “donos” das Emissoras e suas famílias usurpam essa “nossa” concessão pública. Atores, diretores e outros que a usam quase sempre estão divorciados da saúde e do bem-estar da população que lhe deu a permissão (ou, permissividade) para nos “entretêr”, nos dar Cultura e ser-nos úteis. Para essas pessoas (todos os que fazem a Televisão), pouco importam os resultados do condicionamento que impõem à Sociedade.

A Televisão e tantos outros inventos e descobertas foram idealizadas para fins positivos e úteis para a Humanidade. Entretanto, sabemos do que são capazes tais criações nas mãos de indivíduos inescrupulosos e insanos.

(<https://meuartigo.brasilecola.uol.com.br/psicologia/televisao-formacao-personalidade.htm>. Acesso em: 01/07/2022)

## QUESTÃO 03

Infere-se da leitura desse texto:

- [A] Todas as pessoas que programam a televisão a usam em detrimento da saúde e bem-estar da sociedade.
- [B] Há pessoas que fazem uso dos programas da televisão para atender a interesses próprios.
- [C] A sociedade, por meio da concessão pública, se torna responsável pelo uso indevido da televisão.
- [D] Todas os programas da televisão estão em consonância com os fins para que esse invento foi criado.

#### QUESTÃO 04

Sobre os recursos linguísticos responsáveis pela conexão entre as partes do texto, marque V para as afirmativas verdadeiras e F para as falsas.

- ( ) Se, no trecho *a televisão não é boa e nem é má; ela apenas reflete o nível e o perfil mental da sociedade que lhe é contemporânea*, o pronome *lhe* fosse substituído pelo pronome possessivo *sua*, não comprometeria o sentido do texto.
- ( ) No trecho *pouco importam os resultados do condicionamento que impõem à Sociedade.*, o pronome relativo *que* retoma *resultados do condicionamento*.
- ( ) A conjunção *entretanto* estabelece relação de adversidade entre os períodos que compõem o último parágrafo.
- ( ) Em *Atores, diretores e outros que a usam quase sempre estão divorciados da saúde e do bem-estar da população que lhe deu a permissão*, os pronomes pessoais oblíquos *a* e *lhe* são elementos referenciais usados para retomar o elemento *televisão*.

Assinale a sequência correta.

- [A] V, F, F, F
- [B] F, V, V, F
- [C] V, V, F, V
- [D] V, F, V, V

#### QUESTÃO 05

Considere as afirmativas referentes à concordância verbal, à pontuação, à função sintática e semântica das palavras no texto.

- I - No trecho *Assim como muitos inventos, a televisão não é boa e nem é má;* a oração coordenada destacada expressa relação de alternância.
- II - No fragmento *sabemos do que são capazes tais criações nas mãos de indivíduos inescrupulosos e insanos*, a forma verbal **são** concorda em número e pessoa com o sujeito *tais criações*.
- III - As aspas são usadas, no texto, para expressar ironia.
- IV - Em *As pessoas que a programam são as responsáveis pela deturpação da sua finalidade original: cultura, entretenimento saudável e utilidade pública.*, os dois pontos são usados para indicar uma citação.
- V - No último período do último parágrafo, a substituição do adjetivo **insanos** pelo adjetivo **inconsequentes** não causaria prejuízo ao sentido do texto.

Está correto o que se afirma em

- [A] II, III e V, apenas.
- [B] I e II, apenas.
- [C] IV e V, apenas.
- [D] I, III e IV, apenas.

#### Instrução: Leia o texto a seguir para responder às questões de 06 a 08.

Cerca de 1,5 milhão de brasileiros trabalharam em 2021 para plataformas digitais em aproximadamente 1.500 aplicativos que estão em operação no Brasil. De olho nesse universo, um estudo publicado por pesquisadores da Clínica de Direito do Trabalho da UFPR se debruçou sobre a legislação e jurisprudências em torno dos direitos desses trabalhadores.

O relatório “O trabalho controlado por plataformas digitais no Brasil: dimensões, perfis e direitos” apontou que quase 80% desses trabalhadores exercem suas atividades informalmente.

A pesquisa examinou 485 decisões da Justiça do Trabalho em todo o país relacionadas às plataformas Uber, 99 Pop, iFood, Rappi, Loggi e Play Delivery. Neste conjunto, 78,14% das decisões não reconheceram a relação de emprego; 15,88% não versaram sobre a existência de relação de emprego; e apenas 5,98% das decisões reconheceram a relação de emprego entre trabalhador e plataforma.

(<https://veja.abril.com.br/coluna/radar/quase-80-dos-trabalhadores-de-aplicativos-sao-informais-diz-pesquisa/24/06/2022>. Acesso em: 01/07/2022.)

### QUESTÃO 06

Analise as afirmativas abaixo referentes a gênero discursivo, seus elementos composicionais e linguagem.

- I - Nesse relatório em que predomina a norma culta da língua, são apresentados dados de uma pesquisa já concluída.
- II - Essa notícia, relatada em terceira pessoa, tem como finalidade informar o leitor sobre uma pesquisa em andamento.
- III - As informações apresentadas no segundo período do primeiro parágrafo dão credibilidade à notícia em pauta.
- IV - No terceiro parágrafo, os dados apresentados propiciam embasamento ao assunto abordado nessa notícia relatada em terceira pessoa, de modo impessoal.

Está correto o que se afirma em

- [A] I e III.
- [B] II e IV.
- [C] III e IV.
- [D] I e II.

### QUESTÃO 07

Sobre os recursos gramaticais e lexicais usados nesse texto, marque a afirmativa **INCORRETA**.

- [A] Em *e apenas 5,98% das decisões reconheceram a relação de emprego entre trabalhador e plataforma.*, o advérbio *apenas* expressa ideia de exclusão, considerando os dados anteriormente apresentados.
- [B] As formas verbais *apontou, examinou, reconheceram e versaram*, empregadas no pretérito perfeito do modo indicativo, fazem referência a ações já concluídas.
- [C] Na alteração do trecho *Cerca de 1,5 milhão de brasileiros trabalharam em 2021 para plataformas digitais* para *Cerca de 1,5 milhão de brasileiros trabalhou em 2021 para plataformas digitais*, a concordância verbal está de acordo com a gramática da norma culta da língua escrita.
- [D] Em *De olho nesse universo, um estudo publicado por pesquisadores da Clínica de Direito do Trabalho da UFPR se debruçou sobre a legislação e jurisprudências em torno dos direitos desses trabalhadores*, todas as palavras estão empregadas no sentido denotativo.

### QUESTÃO 08

Marque a alternativa em que todas as palavras são formadas pelo mesmo processo de formação de *informalmente*.

- [A] Infeliz, desemprego, moleza.
- [B] Deslealdade, incapacitado, desconfigurado.
- [C] Alienado, infelizmente, independência.
- [D] Ordenado, aprimoramento, desavisado.



(Disponível em: <https://www.otempo.com.br/charges/charge-o-tempo-01-07-2022-1.2692347>. Acesso em: 04/07/2022.)

### QUESTÃO 09

A charge é um gênero textual cujos elementos de textualidade são ressignificados, buscando a reconstrução de sentido a partir da linguagem verbal e não verbal.

Considerando a situação discursiva dessa charge, é correto afirmar:

- [A] A linguagem não verbal ressignifica o sentido do provérbio *não adianta chorar o leite derramado*.
- [B] Na linguagem verbal, a expressão *leite derramado* está empregada no sentido conotativo.
- [C] O autor dessa charge retoma um provérbio sem alterar o sentido.
- [D] A construção de sentido dessa charge independe da expressão fisionômica das personagens.

### QUESTÃO 10

Sobre a intencionalidade do autor e os componentes linguísticos empregados nessa charge, marque V para as afirmativas verdadeiras e F para as falsas.

- ( ) A palavra *impossível* é formada pelo processo de prefixação e sufixação.
- ( ) O uso da linguagem informal está coerente com a situação discursiva.
- ( ) A expressão *No preço que tá* faz referência ao contexto situacional em que a charge foi produzida.
- ( ) O autor dessa charge tem como intencionalidade usar o humor para fazer uma reflexão acerca de uma situação cotidiana.

Assinale a sequência correta.

- [A] V, V, V, F
- [B] V, V, F, V
- [C] F, F, V, V
- [D] F, V, V, F

# MATEMÁTICA

## QUESTÃO 11

Dentre tantas belezas naturais presentes em Nobres, destacam-se: o Aquário Encantado, o Reino Encantado, a Estância da Mata, o Mirante do Cerrado, a Lagoa das Araras, a Gruta Duto do Quebó, a Cachoeira dos Namorados, a Cachoeira Serra Azul, o Refúgio Água Azul, o Vale das Águas, o Balneário Estivado e o Complexo Akaiá. Um turista deseja passar 6 dias visitando algumas dentre essas 12 belezas naturais citadas, sendo apenas uma delas por dia, sem repetir a visita nos demais dias. Porém, ele determinou que no primeiro dia deveria visitar o Aquário Encantado ou o Reino Encantado ou a Lagoa das Araras e que nenhuma dessas três opções deveria ficar para o último dia. Sendo assim, de quantas maneiras esse turista poderia realizar sua programação de visitas?

- [A] 95.040
- [B] 118.800
- [C] 136.080
- [D] 142.560

## QUESTÃO 12



Considere os dados da figura acima e que Nobres receba mais doses para atender a demanda total. Se a cada dia, 8 novas pessoas que receberam a 1ª dose, receberem a 2ª dose, qual seria a quantia mínima de doses que o município deveria receber a mais para que as 12.271 pessoas que receberam a primeira dose pudessem também receber a segunda dose?

- [A] 219
- [B] 1.752
- [C] 972
- [D] 780

## QUESTÃO 13

Cinco casais de turistas (casal Alves, casal Ferreira, casal Gomes, casal Lima e casal Silva) realizaram flutuações no Aquário Encantado e no Rio Triste. Em um determinado dia, três desses casais flutuaram no Aquário Encantado e os outros dois flutuaram no Rio Triste. Qual é a probabilidade de que os casais Alves, Gomes e Silva tenham flutuado no Aquário Encantado nesse dia?

- [A] 10%
- [B] 7,5%
- [C] 6%
- [D] 12,5%

**QUESTÃO 14**

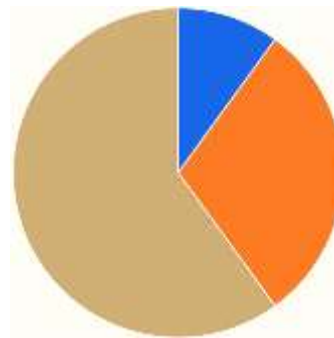
Em determinado dia, 9 pessoas fizeram flutuação no Aquário Encantado, 5 fizeram flutuação no Reino Encantado e 4 fizeram flutuação no Vale das Águas, gastando um total de R\$ 1.580,00. No dia seguinte, 6 pessoas fizeram flutuação no Aquário Encantado, 4 fizeram flutuação no Reino Encantado e 3 fizeram flutuação no Vale das Águas, gastando um total de R\$ 1.140,00. E, no terceiro dia, 3 pessoas fizeram flutuação no Aquário Encantado, 7 fizeram flutuação no Reino Encantado e 8 fizeram flutuação no Vale das Águas, gastando um total de R\$ 1.540,00. Qual o preço da flutuação, por pessoa, no Vale das Águas?

- [A] R\$ 90,00
- [B] R\$ 80,00
- [C] R\$ 70,00
- [D] R\$ 60,00

**QUESTÃO 15**

Um agricultor nobrense preparou uma área circular dividida em três setores circulares, conforme figura abaixo, para plantar três culturas. O raio desse círculo é 1 km, o setor de menor área possui ângulo de  $36^\circ$  e o ângulo do setor de maior área é o dobro do ângulo do setor de área intermediária. Admitindo  $\pi = 3,14$ , qual o perímetro do setor de área intermediária?

- [A] 5.768 m
- [B] 1.884 m
- [C] 3.768 m
- [D] 3.884 m

**QUESTÃO 16**

Conforme dados da Organização Mundial do Turismo, enquanto o turismo regular no mundo, durante os períodos antes da pandemia, crescia 7,5% ao ano, o ecoturismo cresceu, no mesmo período, 20%. Dados do Observatório do Turismo e Eventos de Bonito (OTEB) apontam que Bonito recebeu aproximadamente 205.460 turistas no ano de 2021. Por hipótese, considere que, este ano, Nobres receba 20.000 turistas e que o governo de Mato Grosso inicie um grande projeto de incentivo ao ecoturismo no município. Se a cada ano o ecoturismo em Nobres crescer à mesma taxa que crescia no mundo antes da pandemia, então em que ano o seu ecoturismo atingirá o total de turistas que Bonito recebeu em 2021?

Considere:  $\log 10,273 = 1,012$  e  $\log 1,2 = 0,079$

- [A] 2033
- [B] 2034
- [C] 2035
- [D] 2036

**QUESTÃO 17**

De um grupo de  $x$  pessoas que já visitaram a Vila Bom Jardim, em Nobres, 60 já se hospedaram na pousada Bom Jardim, 55 na pousada Lagoa Azul, 50 na pousada Rota das Águas, 25 nas pousadas Bom Jardim e Lagoa Azul, 20 nas pousadas Bom Jardim e Rota das Águas, 15 nas pousadas Lagoa Azul e Rota das Águas, 10 nas três pousadas e 5 em outras pousadas. A partir dessas informações, assinale a afirmativa **INCORRETA**.

- [A] O número de pessoas que se hospedaram exclusivamente nas pousadas Bom Jardim e Lagoa Azul é 10.
- [B] O número de pessoas que se hospedaram exclusivamente em uma pousada é 75.
- [C] O número de pessoas que se hospedaram em apenas duas dessas pousadas é 30.
- [D] Esse grupo é formado por 120 pessoas.



## QUESTÃO 18

Aquicultura / Tambacu, tambatinga / Quantidade produzida (Unidade: kg)



O gráfico acima apresenta a quantidade produzida (unidade: kg) de tambacu e tambatinga na aquicultura nobrense de 2013 a 2020. As informações sobre as quantidades produzidas nos anos de 2017, 2018 e 2019 não estão presentes no gráfico, mas sabe-se que a quantidade produzida em 2018 foi 9.050 kg superior à quantidade produzida em 2017 e 10.250 kg inferior à quantidade produzida em 2019. Além disso, sabe-se também que a média da quantidade produzida nesses 8 anos foi de 127.894,75 kg. A partir dessas informações, assinale a alternativa que apresenta a quantidade produzida em 2018.

- [A] 99.950 kg
- [B] 100.000 kg
- [C] 99.990 kg
- [D] 100.050 kg

## QUESTÃO 19

Antônio percorre os 145 km de Cuiabá à Vila Bom Jardim a uma velocidade média de 75 km/h, enquanto Francisco faz o mesmo trajeto a uma velocidade média de 80 km/h. Qual é a diferença entre os tempos gastos pelos dois nesse trajeto?

- [A] 6 min e 45 s
- [B] 7 min e 30 s
- [C] 7 min
- [D] 7 min e 15 s

## QUESTÃO 20

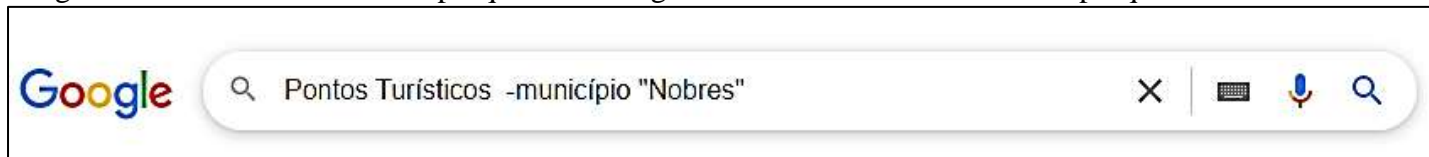
Um agricultor nobrense, acompanhando a variação do preço da saca de 50 kg de arroz em casca, verificou que no fechamento do dia 11/07/2022 a saca estava custando R\$ 75,59 e no fechamento do dia seguinte estava custando R\$ 75,41. A partir dessas informações, é correto afirmar que do dia 11 para o dia 12 houve uma variação percentual

- [A] negativa de 0,24%.
- [B] positiva de 0,24%.
- [C] negativa de 0,18%.
- [D] positiva de 0,18%.

# INFORMÁTICA BÁSICA

## QUESTÃO 21

A figura abaixo ilustra a caixa de pesquisa do Google com um termo de busca a ser pesquisado.







Assinale a alternativa que apresenta os resultados produzidos pela pesquisa.

- [A] Todas as páginas com assuntos relacionados a **Pontos Turísticos** que não contenham a palavra **município**, mas que contenham a palavra **Nobres**.
- [B] Todas as páginas com assuntos relacionados a **Pontos Turísticos** que contenham a palavra **município** e também contenham a palavra **Nobres**.
- [C] Todas as páginas com assuntos relacionados a **Pontos Turísticos** que não contenham a palavra **município** e nem a palavra **Nobres**.
- [D] Todas as páginas com assuntos relacionados a **Pontos Turísticos** que contenham a palavra **município**, mas que não contenham a palavra **Nobres**.

## QUESTÃO 22

A coluna da esquerda apresenta nomes de arquivos com suas respectivas extensões e a da direita, o aplicativo (programa) indicado para a edição de cada um deles. Numere a coluna da direita de acordo com a da esquerda.

- |   |                     |
|---|---------------------|
| 1.  texto.bmp        | ( ) Microsoft Excel |
| 2.  Planilha.docx   | ( ) Paint           |
| 3.  Documento.xlsx | ( ) Bloco de notas  |
| 4.  Imagem.txt     | ( ) Microsoft Word  |

Marque a sequência correta.

- [A] 2, 4, 1, 3
- [B] 3, 1, 4, 2
- [C] 3, 4, 1, 2
- [D] 1, 3, 2, 4

## QUESTÃO 23

A tabela abaixo apresenta dois anúncios de computadores extraídos da internet, PC1 e PC2.

PC1	PC2
Notebook Philco Intel Core i5 4GB 1TB Tela Full HD 15.6" Windows 10	Notebook VAIO Intel Core i5 8GB 512GB Tela Full HD 15.6" Windows 10

A respeito dos anúncios da tabela, analise as afirmativas.

- I - O PC1 possui o dobro da capacidade de memória RAM que o PC2.
- II - O PC2 possui maior capacidade de memória secundária que o PC1.
- III - Ambos possuem a mesma versão de sistema operacional instalado.
- IV - Tanto PC1 quanto PC2 possuem processadores da mesma marca e modelo.

Estão corretas as afirmativas

- [A] I, II, III e IV.
- [B] I e II, apenas.
- [C] I, II e III, apenas.
- [D] III e IV, apenas.

## QUESTÃO 24

A Figura 1 apresenta a expressão História de Nobres selecionada no Microsoft Word com as formatações de fonte prestes a serem alteradas, e a Figura 2 apresenta a mesma expressão após as alterações.

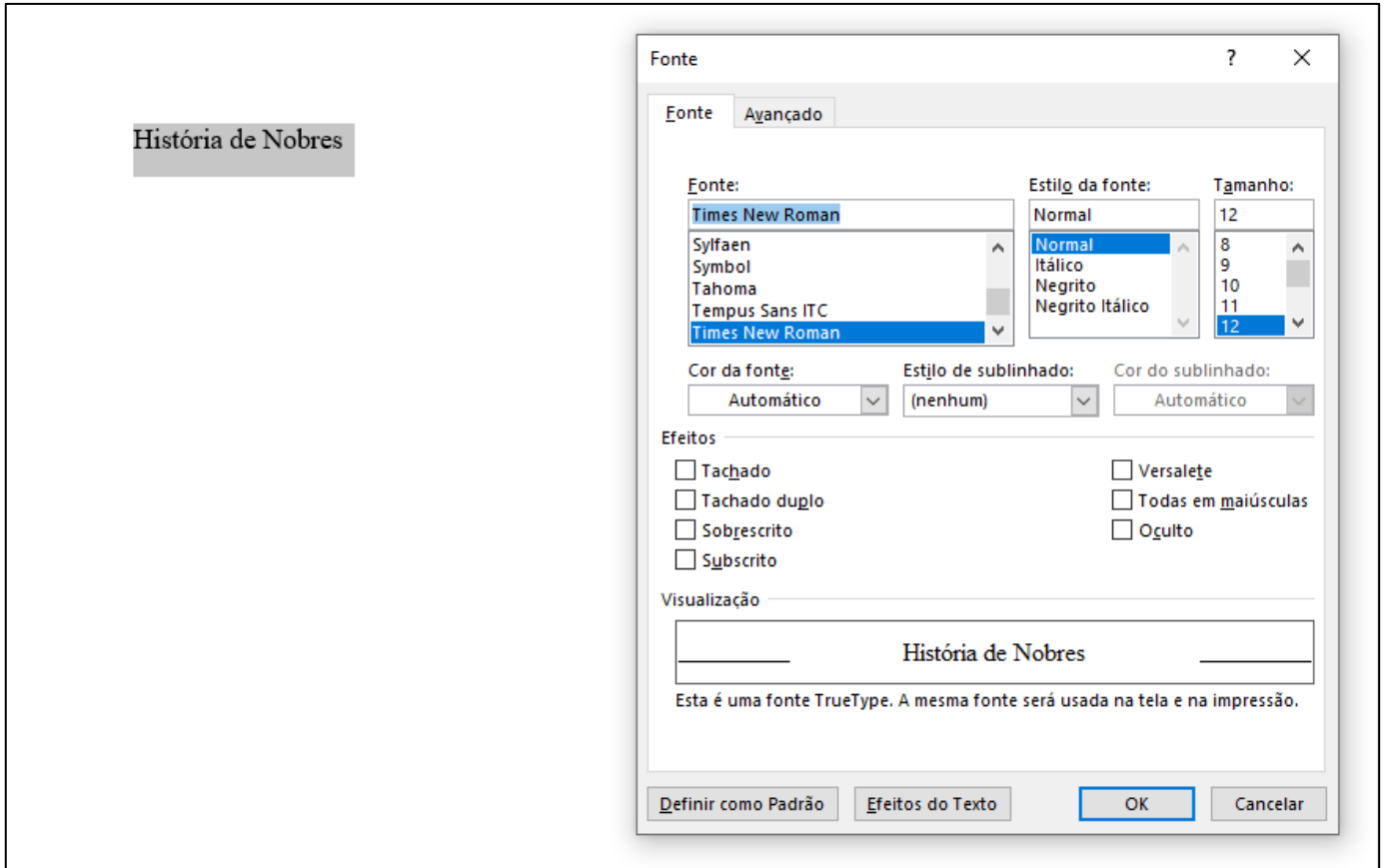
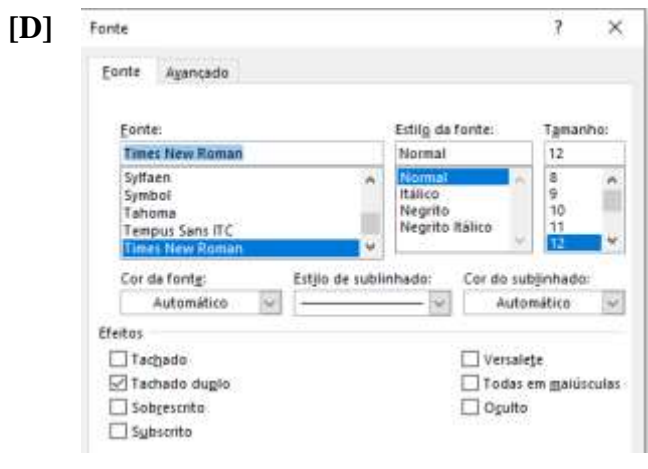
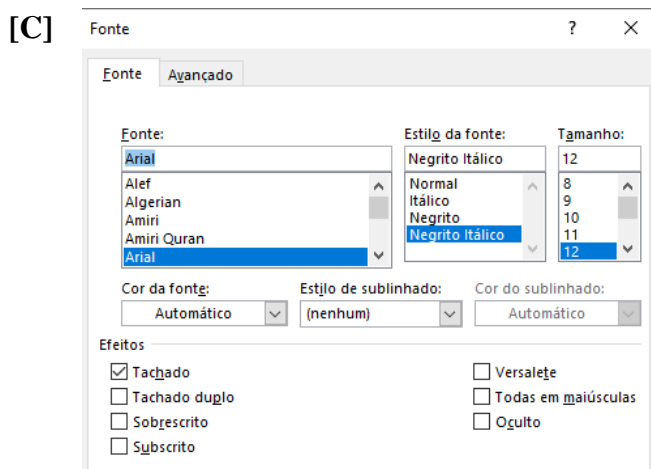
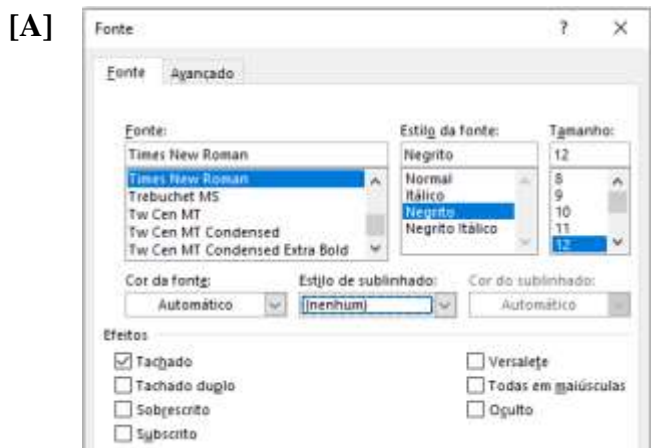


Figura 1



Figura 2

De acordo com as figuras, assinale a alternativa que contém os ajustes aplicados nas formatações de fonte da Figura 1 para produzir a Figura 2.



### QUESTÃO 25

A figura abaixo apresenta uma planilha do Microsoft Excel com uma célula selecionada.

	A	B	C	D	E
1	<b>Lista de Compras</b>				
2	Produto	Quantidade	Preço Unitário	Total	
3	Arroz	3	R\$ 20,00	R\$ 60,00	
4	Feijão	2	R\$ 8,00	R\$ 16,00	
5	Café	1	R\$ 15,00	R\$ 15,00	
6			Total Geral	R\$ 91,00	
7					

Sobre a planilha, marque V para as afirmativas verdadeiras e F para as falsas.

- ( ) As células A1, B1, C1 e D1 foram mescladas
- ( ) O conjunto de células A2:D2 está formatado com a fonte Broadway, tamanho 12
- ( ) O valor exibido na célula D3 pode ser produzido pela fórmula =B3xC3
- ( ) O valor exibido na célula D6 pode ser produzido pela fórmula =D3+D4+D5

Assinale a sequência correta.

- [A] V, F, F, V
- [B] V, F, V, V
- [C] F, V, V, F
- [D] F, V, F, F

# LEGISLAÇÃO BÁSICA

## QUESTÃO 26

Tendo em vista o disposto na Lei Municipal nº 992/2006, que reforma o Regime Jurídico Único dos Servidores Públicos do Município de Nobres/MT, acerca da posse do servidor no cargo público, analise as afirmativas.

- I - A posse ocorrerá no prazo de até trinta dias, contados da publicação do ato de nomeação, prorrogáveis por mais quinze dias, a requerimento do interessado, mediante justificativa devidamente aceita pela Administração Pública.
- II - A posse, excepcionalmente, poderá dar-se mediante procuração específica.
- III - No ato da posse, o servidor apresentará, obrigatoriamente, declaração quanto ao exercício ou não de outro cargo, emprego ou função pública.
- IV - Só poderá ser empossado aquele que for julgado apto, física e mentalmente, para exercício do cargo.

Estão corretas as afirmativas

- [A] I e III, apenas.
- [B] II, III e IV, apenas.
- [C] II e IV, apenas.
- [D] I, II, III e IV.

## QUESTÃO 27

Leia o seguinte texto:

O estágio probatório ou confirmatório, como mencionado por alguns doutrinadores ou estudiosos sobre o assunto, nada mais é que uma avaliação de desempenho do servidor no cargo em que ocupa, mediante aprovação em concurso público. Pode-se dizer ser a avaliação de desempenho a razão de ser (de existir) do estágio probatório.

(...)

Nesse sentido, Diniz (2010, p. 164) descreve que a avaliação de desempenho do servidor é “um conjunto de procedimentos destinados a mensurar o desempenho das atribuições do cargo, pelo servidor em estágio probatório”.

De acordo com Carvalho Filho (2010, p. 726), o estágio probatório “é o período dentro do qual o servidor é aferido quanto aos requisitos necessários para o desempenho do cargo, relativos ao interesse no serviço, adequação, disciplina, assiduidade e outros do mesmo gênero”.

Para Modesto (2007, p.1), “denomina-se tradicionalmente estágio probatório, ou estágio de confirmação, o período de avaliação, adaptação e treinamento em efetivo exercício a que estão submetidos os que ingressam em cargos públicos em virtude de aprovação em concurso público”.

(ANAMI SEGUNDO, Kátia Margareth; CRISTÓVAM, José Sérgio da Silva. *Do estágio probatório à estabilidade do servidor público federal*. Disponível em: <https://www.revistadireito.unidavi.edu.br/edi%C3%A7%C3%B5es-antiores/revista-4-setembro-de-2013/do-est%C3%A1gio-probat%C3%B3rio-%C3%A0-estabilidade-do-servidor-p%C3%ABlico-federal>. Acesso em: 24 jul. 2022.)

Considerando o disposto na Lei Municipal nº 992/2006 sobre o assunto tratado no texto, é correto afirmar:

- [A] Caso o servidor não obtenha parecer favorável da Comissão instituída para realizar sua avaliação de desempenho, o prazo de duração do estágio probatório deverá ser prorrogado.
- [B] A Comissão instituída para realizar a avaliação de desempenho do servidor em estágio probatório é competente para decidir sobre a exoneração ou a manutenção do servidor.
- [C] Ao servidor em estágio probatório, que não obtiver parecer favorável da Comissão instituída para realizar a avaliação de desempenho, deverá ser concedido prazo para apresentar sua defesa escrita.
- [D] A avaliação do servidor em estágio probatório é realizada por seu Chefe imediato, que emitirá o parecer acerca do preenchimento dos fatores considerados para verificar a aptidão do servidor para o desempenho das atribuições do cargo.

### **QUESTÃO 28**

A Lei Municipal nº 992/2006, que reforma o Regime Jurídico Único dos Servidores Públicos do Município de Nobres/MT, em consonância com os mandamentos constitucionais, ao dispor sobre estabilidade dos servidores municipais, prescreve que o servidor estável

- [A] somente perderá o cargo mediante processo administrativo em que lhe seja assegurada ampla defesa.
- [B] somente perderá o cargo em virtude de sentença judicial transitada em julgado.
- [C] perderá o cargo em virtude de sentença judicial transitada em julgado ou mediante processo administrativo em que lhe seja assegurada ampla defesa.
- [D] perderá o cargo em virtude de sentença judicial transitada em julgado ou mediante inquérito civil instaurado pelo Ministério Público.

### **QUESTÃO 29**

Analisar a seguinte situação hipotética envolvendo dois servidores efetivos do Quadro de Pessoal do Poder Executivo do Município de Nobres/MT:

Juvenil e Gentil são dois servidores lotados no mesmo órgão da Prefeitura Municipal de Nobres/MT. Juvenil é o chefe imediato de Gentil. Juvenil ficará afastado por 30 (trinta) dias em gozo de licença para tratamento de saúde. Gentil será seu substituto no exercício da função gratificada de chefia durante esse período, em conformidade com as normas regulamentares.

De acordo com o disposto na Lei Municipal nº 992/2006, que reforma o Regime Jurídico Único dos Servidores Públicos do Município de Nobres/MT, é correto afirmar acerca da substituição relatada:

- [A] O substituto não receberá a diferença de remuneração pelo exercício da função gratificada, pois o pagamento é devido apenas em caso de cargo em comissão.
- [B] O substituto fará jus à diferença de remuneração pelo exercício da função gratificada de chefia, a ser paga na proporção dos dias de efetiva substituição.
- [C] O substituto não receberá a diferença de remuneração pelo exercício da função gratificada, pois o pagamento é devido apenas quando o afastamento for superior a 30 (trinta) dias.
- [D] O pagamento de diferença de remuneração pelo exercício da função gratificada ao substituto não tem previsão legal e fica a critério da Administração Municipal.

### **QUESTÃO 30**

Nos termos da Lei Municipal nº 992/2006, que reforma o Regime Jurídico Único dos Servidores Públicos do Município de Nobres/MT, ressalvado o disposto em outra lei que estabeleça horário específico, os ocupantes de cargos de provimento efetivo ficam sujeitos à jornada de

- [A] 40 (quarenta) horas semanais.
- [B] 44 (quarenta e quatro) horas semanais.
- [C] 30 (trinta) horas semanais.
- [D] 35 (trinta e cinco) horas semanais.

## CONHECIMENTOS ESPECÍFICOS

### QUESTÃO 31

Com vistas a determinar a condição física do trabalhador em nível de primeiros socorros, torna-se necessário compreender os sinais indicadores, chamados de *sinais vitais*, que são aqueles que sinalizam a existência de vida. **NÃO** é um sinal vital:

- [A] Temperatura.
- [B] Pressão intracraniana.
- [C] Pulso.
- [D] Respiração.

### QUESTÃO 32

Assinale a alternativa que apresenta uma medida corretiva indicada na NR 9, que deve ser adotada pela organização sempre que os limites de exposição ocupacional ao calor forem excedidos.

- [A] Adequar processos, rotinas ou operações de trabalho.
- [B] Disponibilizar água fresca potável.
- [C] Fornecer vestimentas de trabalho adaptadas ao tipo de exposição e à natureza da atividade.
- [D] Incentivar a autolimitação da exposição ocupacional ao calor.

### QUESTÃO 33

A respeito da movimentação e do transporte manual não eventual de cargas, analise as afirmativas quanto às medidas de prevenção que devem ser adotadas, segundo a NR 17.

- I - Implantar meios técnicos que facilitem a movimentação e o transporte de cargas.
- II - Adequar o peso e o tamanho da carga para que não provoquem o aumento do esforço físico que possa comprometer a segurança e a saúde do trabalhador.
- III - Reduzir as distâncias a percorrer com cargas, quando aplicável.
- IV - Efetuar a alternância com outras atividades ou pausas suficientes, entre períodos não superiores a três horas.

Está correto o que se afirma em

- [A] I, II e IV, apenas.
- [B] II e III, apenas.
- [C] I, II e III, apenas.
- [D] IV, apenas.

### QUESTÃO 34

Qual respirador purificador de ar não motorizado é indicado para proteção das vias respiratórias contra radionuclídeo?

- [A] Peça semifacial filtrante (PFF2)
- [B] Peça semifacial filtrante (PFF1)
- [C] Peça semifacial com filtros para material particulado tipo P3
- [D] Peça semifacial com filtros para material particulado tipo P2

### QUESTÃO 35

A respeito da exposição ocupacional ao ruído contínuo ou intermitente nos postos de trabalho, analise as afirmativas.

- I - Entende-se por ruído contínuo ou intermitente aquele que apresenta picos de energia acústica de duração inferior a 1 (um) segundo, a intervalos superiores a 1 (um) segundo.
- II - Não é permitida a exposição a níveis de ruído acima de 115 dB(A) para indivíduos que não estejam adequadamente protegidos.
- III - Os níveis devem ser medidos em decibéis (dB) com instrumento de nível de pressão sonora operando no circuito de compensação "A" e circuito de resposta rápida (FAST).
- IV - O limite de exposição diária permissível para a jornada de trabalho de oito horas é de 85 dB(A).

Está correto o que se afirma em

- [A] I e III, apenas.
- [B] II e IV, apenas.
- [C] I, II e IV, apenas.
- [D] II, III e IV, apenas.

### QUESTÃO 36

Sobre o Programa de Gerenciamento de Riscos (PGR) previsto na NR 18, analise as afirmativas.

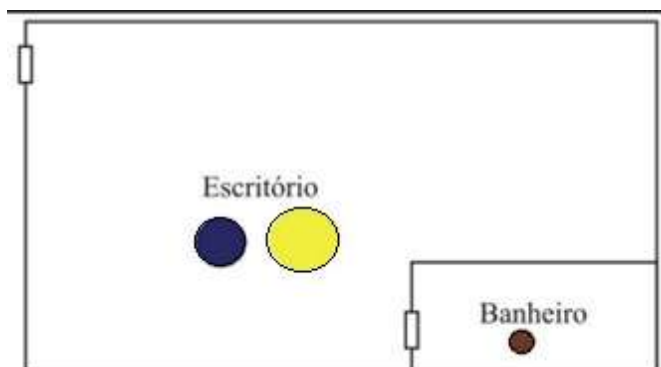
- I - O PGR se aplica a qualquer ambiente que possua trabalhadores no exercício do trabalho, independentemente de seu grau de risco.
- II - O PGR deve contemplar projetos dos Sistemas de Proteção Individual Contra Quedas (SPIQ), quando aplicável, elaborados por profissional legalmente habilitado.
- III - O PGR do canteiro de obras faz parte do conteúdo programático do treinamento inicial dos trabalhadores.
- IV - O PGR é de responsabilidade de profissional com conhecimento em segurança do trabalho, independentemente de registro no conselho de classe e porte do canteiro de obras.

Está correto o que se afirma em

- [A] III e IV.
- [B] I e IV.
- [C] I e II.
- [D] II e III.

### QUESTÃO 37

Considere a figura abaixo que apresenta um Mapa de Risco de um ambiente de trabalho composto por um escritório e um banheiro e a sua legenda.



#### Legenda:

Banheiro: círculo pequeno, de cor marrom  
Escritório: círculo médio, de cor azul e círculo grande, de cor amarela

Fonte: <https://www.ifg.edu.br/attachments/article/3030/Orienta%C3%A7%C3%B5es%20-%20Mapa%20de%20Risco.pdf>. Acesso em 19/07/2022

Sobre os riscos presentes nesse ambiente de trabalho, é correto afirmar:

- [A] No Banheiro, existe risco químico, em grau pequeno.
- [B] No Escritório, existe risco físico e biológico, em grau médio e alto, respectivamente.
- [C] No Escritório, existe risco de acidentes e ergonômico, em grau médio e alto, respectivamente.
- [D] No Banheiro, existe risco de acidentes, em grau médio.



### QUESTÃO 38

Sobre as atribuições do técnico de segurança do trabalho, assinale a afirmativa **INCORRETA**.

- [A] Realizar exame médico ocupacional com recursos de telemedicina, sem o exame presencial do trabalhador.
- [B] Promover eventos de discussão didática para evitar os possíveis acidentes e doenças ocupacionais.
- [C] Avaliar as condições ambientais de trabalho e emitir parecer técnico para o planejamento do trabalho de forma segura.
- [D] Informar a todos sobre as atividades insalubres, perigosas e penosas, bem como seus riscos e as medidas e alternativas para neutralizá-las ou eliminá-las.

### QUESTÃO 39

O Programa de Gerenciamento de Riscos no Trabalho Rural (PGRTR) é previsto na NR 31. Sobre o PGRTR, marque V para as afirmativas verdadeiras e F para as falsas.

- ( ) O PGRTR deve conter, no mínimo, o inventário de riscos ocupacionais e plano de ação.
- ( ) O PGRTR deve ser revisto a cada 5 (cinco) anos, ou quando ocorrerem inovações e modificações nas tecnologias, ambientes, processos, condições, procedimentos e organização do trabalho, ou quando identificadas inadequações ou insuficiência na avaliação dos perigos e na adoção das medidas de prevenção.
- ( ) O PGRTR deve estabelecer medidas para a organização do trabalho, de forma que as atividades que exijam maior esforço físico, quando possível, sejam desenvolvidas no período da manhã ou no final da tarde, e para minimização dos impactos sobre a segurança e saúde do trabalhador nas atividades em terrenos acidentados.
- ( ) O empregador rural ou equiparado que possua, por estabelecimento rural, até 100 (cem) empregados por prazo determinado e indeterminado pode optar pela utilização de ferramenta de avaliação de risco disponibilizada pelo governo, para estruturar o PGRTR e elaborar plano de ação, considerando o relatório produzido pela ferramenta.

Assinale a sequência correta.

- [A] F, F, V, V
- [B] V, F, V, V
- [C] V, F, V, F
- [D] F, V, F, F

### QUESTÃO 40

A coluna da esquerda apresenta a terminologia utilizada na NR10 e a da direita, suas definições. Numere a coluna da direita de acordo com a da esquerda.

- |   |     |   |
|---|-----|---|
| 1 – Sistema Elétrico de Potência (SEP)        | ( ) | Extra baixa tensão originada em uma fonte de segurança.   |
| 2 – Zona Controlada                           | ( ) | Aquela que garanta as condições de segurança ao trabalhador por meio de procedimentos e equipamentos adequados desde o início até o final dos trabalhos e liberação para uso.             |
| 3 – Tensão de Segurança                       | ( ) | Conjunto das instalações e equipamentos destinados à geração, transmissão e distribuição de energia elétrica até a medição, inclusive.  |
| 4 – Instalação Liberada para Serviços (BT/AT) | ( ) | Entorno de parte condutora energizada, não segregada, acessível, de dimensões estabelecidas de acordo com o nível de tensão, cuja aproximação só é permitida a profissionais autorizados. |

Marque a sequência correta.

- [A] 2, 1, 3, 4
- [B] 3, 4, 1, 2
- [C] 1, 3, 4, 2
- [D] 3, 4, 2, 1

EM BRANCO



ESTADO DE MATO GROSSO  
PREFEITURA MUNICIPAL DE NOBRES

EDITAL N.º 01/2022 - PMN

***FOLHA DE ANOTAÇÃO DO CANDIDATO***

Questão	Alternativa
01	
02	
03	
04	
05	
06	
07	
08	
09	
10	
11	
12	
13	
14	
15	
16	
17	
18	
19	
20	

Questão	Alternativa
21	
22	
23	
24	
25	
26	
27	
28	
29	
30	
31	
32	
33	
34	
35	
36	
37	
38	
39	
40	

**Esta folha é destinada para uso EXCLUSIVO do candidato.**