
LINGUA PORTUGUESA

CINEMA PARA TODOS

Na obra “A Invenção de Hugo Cabret”, é narrada a relação entre um dos pais do cinema, Georges Méliès, e um menino órfão, Hugo Cabret. A ficção, inspirada na realidade do começo do século XX, tem como um de seus pontos centrais o lazer proporcionado pelo cinema, que encanta o garoto. No contexto brasileiro atual, o acesso a essa forma de arte não é democratizado, o que prejudica a disponibilidade de formas de lazer à população. Esse problema advém da centralização das salas exibidoras em zonas metropolitanas e do alto custo das sessões para as classes de menor renda.

Primeiramente, o direito ao lazer está assegurado na Constituição de 1988, mas o cinema, como meio de garantir isso, não tem penetração em todo território brasileiro. O crescimento urbano no século XX atraiu as salas de cinema para as grandes cidades, centralizando progressivamente a exibição de filmes. Como indicativo desse processo, há menos salas hoje do que em 1975, de acordo com a Agência Nacional de Cinema (Ancine). Ademais, o problema existe também em locais onde há salas de cinema, uma vez que o custo das sessões é inacessível às classes de renda baixa. Isso se deve ao fato de o mercado ser dominado por poucas empresas exibidoras. Conforme teorizou inicialmente o pensador inglês Adam Smith, o preço decorre da concorrência: a competitividade força a redução dos preços, enquanto os oligopólios favorecem seu aumento. Nesse sentido, a baixa concorrência dificulta o amplo acesso ao cinema no Brasil.

Portanto, a democratização do cinema depende da disseminação e do jogo de mercado. Para levar os filmes a zonas periféricas, as prefeituras dessas regiões devem promover a interiorização dos cinemas, por meio de investimentos no lazer e incentivos fiscais. Além disso, visando reduzir o custo das sessões, cabe ao Ministério da Fazenda ampliar a concorrência entre as empresas exibidoras, o que pode ser feito pela regulamentação e fiscalização das relações entre elas, atraindo novas empresas para o Brasil. Isso impediria a

formação de oligopólios, conseqüentemente aumentando a concorrência.

(...)

Autor: GABRIEL MERLI. Adaptado

QUESTÃO 01

No primeiro parágrafo, o filme “A Invenção de Hugo Cabret” foi utilizado com o objetivo de

- (A) contextualizar o tema, apresentando o cinema como um lugar de lazer.
- (B) comparar o que é assegurado pela Constituição Federal com a situação atual do país.
- (C) abordar a falta de investimentos em relação à arte no país.
- (D) exemplificar a importância do cinema como promotor de cultura em uma comunidade.
- (E) explicar os fatores que geram exclusão de parte da sociedade do acesso à cultura.

QUESTÃO 02

No trecho “Ademais, o problema existe também em locais onde há salas de cinema, uma vez que o custo das sessões é inacessível às classes de renda baixa” o fenômeno linguístico da crase teve de ocorrer porque:

- (A) está atendendo à regência nominal de “inacessível” que exige a preposição “a” e pela presença de artigo definido feminino.
- (B) está atendendo à regência verbal de “é” que, no contexto em que foi inserido, exige a preposição “a” e pela presença de artigo definido feminino.
- (C) trata-se de uma locução adverbial feminina que sempre é apresentada com a contração à.
- (D) no contexto em que foi empregada, a crase é facultativa, por se tratar de regência nominal implícita.
- (E) está atendendo à regência nominal de “custo das sessões” que, no contexto em que foi inserido, exige a preposição “a”.

QUESTÃO 03

No trecho “No contexto brasileiro atual, o acesso a essa forma de arte não é democratizado...”, a vírgula foi empregada para:

- (A) separar o adjunto adverbial deslocado.
- (B) isolar o vocativo.
- (C) separar expressões que indiquem explicação intercaladas na oração.
- (D) separar orações coordenadas.
- (E) isolar o aposto explicativo

QUESTÃO 04

Marque a alternativa cuja frase atenda às regras de concordância Nominal e Verbal

- (A) Após as últimas orientações, podem haver algumas mudanças de comportamento.
- (B) Podemos passar-lhe bastante informações sobre as questões que você apresentou.
- (C) Tratava-se de orientações indispensáveis ao cumprimento do protocolo.
- (D) Discutiu-se pela manhã os contratos da nova aquisição da empresa.
- (E) Aconteceu, naquela época, fatos terríveis

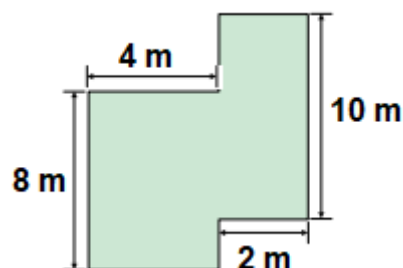
QUESTÃO 05

Assinale a opção em que a palavra destacada é uma conjunção subordinativa integrante:

- (A) Quase **QUE** não consigo encontrar o banco aberto
- (B) Não localizamos as crianças **QUE** se perderam.
- (C) Venha logo, **QUE** já são mais de 22 horas.
- (D) Falou tanto **QUE** ficou afônico.
- (E) Desejo **QUE** você encontre a paz.

MATEMÁTICA E RACÍOCÍNIO LÓGICO**QUESTÃO 06**

A figura abaixo representa a planta de uma casa.

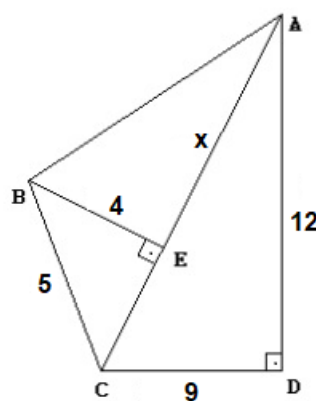


Qual é a área e o perímetro total dessa casa, respectivamente?

- (A) 30 m² e 52 m
- (B) 640 m² e 24 m
- (C) 52 m² e 30 m
- (D) 640 m² e 26 m
- (E) 48 m² e 30 m

QUESTÃO 07

Considere os três triângulos e as medidas representadas na figura abaixo. Apenas os triângulos ADC e BEC são triângulos retângulos. Dessa forma, determine a medida do segmento AE.



- (A) 3
- (B) 12
- (C) 13
- (D) 15
- (E) 18

QUESTÃO 08

Um grupo de pessoas com idades diferentes realizaram uma viagem para a praia. As suas idades foram registradas na tabela abaixo:

Idades	Quantidade de pessoas
18	3
19	2
20	4
21	1

A média da idade desse grupo de pessoas será, aproximadamente, de:

- (A) 18
- (B) 19
- (C) 20
- (D) 21
- (E) 22

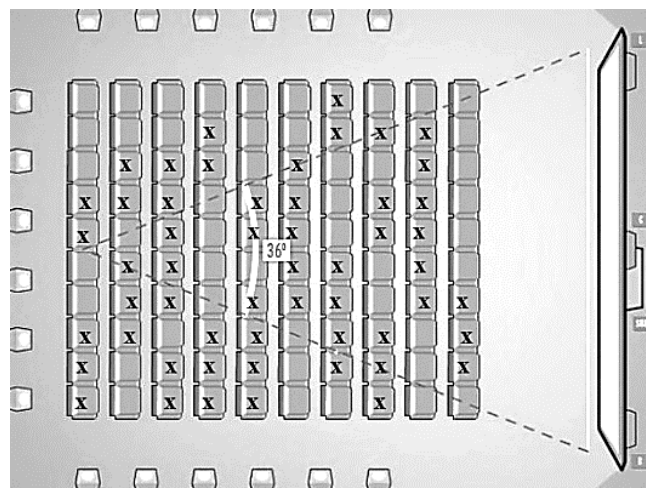
QUESTÃO 09

Joaquim possui uma barraquinha de frutas. Ele possui 120 maçãs, 150 laranjas e 180 mangas e deseja agrupa-las em cestos iguais, de forma que cada um possua a mesma quantidade de frutas. Qual será o maior número de frutas em cada cesto, considerando que não haja sobras?

- (A) 15
- (B) 20
- (C) 30
- (D) 40
- (E) 45

QUESTÃO 10

Numa sala de cinema, as poltronas são organizadas conforme a figura abaixo. As poltronas marcadas com “x” já foram vendidas, enquanto as demais ainda estão a venda.



Nesse sentido, a razão que representa a quantidade de lugares vagos, em relação ao total de poltronas dessa sala de cinema é:

- (A) $\frac{23}{50}$
- (B) $\frac{27}{100}$
- (C) $\frac{23}{100}$
- (D) $\frac{54}{100}$
- (E) $\frac{27}{50}$

ATUALIDADES
QUESTÃO 11

O Reino Unido, a Austrália, o Canadá e a Nova Zelândia seguiram os passos dos Estados Unidos e anunciaram que também vão participar do “boicote diplomático” aos Jogos de Inverno Beijing 2022. (<https://areferencia.com>)

O boicote diplomático aos Jogos de Inverno:

- I. protesta contra o desrespeito aos direitos humanos na China.
- II. impede o envio de representantes do governo no evento.
- III. afeta todos os competidores olímpicos desses países.
- IV. melhora a tensão nas relações externas com a China.
- V. provoca a ausência dos jogadores devido a pandemia.

Estão CORRETAS apenas:

- (A) I e II.
- (B) I, III, IV e V.
- (C) I, II e III
- (D) I, II, III e V
- (E) II e V

QUESTÃO 12

O hemisfério norte da América viveu um mês de dezembro, 2021 atípico, com tornados e nevascas em lugares onde costuma haver temperaturas agradáveis nesta época, e calor onde costuma nevar. O Alasca, Estado mais frio dos Estados Unidos, registrou seu dia mais quente de dezembro, em meio a um inverno incomum. As temperaturas atingiram um recorde de 19,4°C na ilha de Kodiak quase sete graus mais quente do que a máxima anterior no Estado.

(<https://veja.abril.com.br/mundo/alasca>)

Sobre as condições climáticas extremas que dispararam o alerta sobre um possível "Armagedon do gelo" no Alasca, podemos afirmar que,

- I. a união dos países em construir uma economia mais verde não influencia mais na temperatura mundial.
- II. o ar quente tropical invadiu a região que nesta época do ano, está acostumada com temperatura congelante.
- III. o episódio está relacionado ao aquecimento global com explosões de temperaturas extremas de calor e frio.
- IV. a redução das emissões de gases de efeito estufa, trouxe grandes benefícios para o Estado.
- V. A onda de calor vem sendo classificada por climatologistas como “absurda” para esta época do ano.

Estão CORRETAS apenas:

- (A) I, II e III.
- (B) II, III e V.
- (C) III, IV e V.
- (D) I, II e IV.
- (E) II e V.

QUESTÃO 13

O IPS, Índice de Progresso Social na Amazônia Brasileira 2021, revelou que o desmatamento é nocivo para o progresso social. Conforme o estudo, os 20 municípios com as maiores áreas de floresta destruídas nos últimos três anos tiveram IPS médio de 52,38, valor 21% menor que o índice do Brasil, de 63,29, e mais baixo que o da Amazônia, de 54,59.

Um levantamento do Imazon concluiu que os municípios da Amazônia Legal que mais desmatam não conseguem melhorar os indicadores sociais, as condições de vida da população.

(<https://g1.globo.com/jornalnacional/noticia/2021/12/25/>)

Esse baixo progresso social nos municípios da Amazônia Legal é devido, EXCETO:

- (A) a destruição da floresta.
- (B) a falta de saneamento básico.
- (C) a extração ilegal de madeira.
- (D) a instabilidade da taxa de câmbio.
- (E) o garimpo ilegal e os conflitos sociais.

QUESTÃO 14

A pandemia entrou em seu terceiro ano no Brasil com número de casos de covid-19 explodindo, mas, ao mesmo tempo, com esperança de dias melhores. Especialistas em saúde preveem um cenário com menos mortes neste ano, mas de incertezas em relação ao fim da pandemia devido à onda de ômicron e a um eventual surgimento de novas variantes do coronavírus. (<https://noticias.uol.com.br/saude/ultimas-noticias/redacao/2022/01/16/2022>)

Esse cenário de esperança em relação a pandemia é possível porque

- (A) o vírus vai embora, pois a pandemia é um fenômeno global.
- (B) os surtos endêmicos, locais ou sazonais serão definitivamente bloqueados.
- (C) a previsão de menor letalidade tem como base o avanço da vacinação.
- (D) a transmissão desse vírus irá diminuir quando completar três anos.
- (E) a indústria farmacêutica diminuirá a produção do arsenal terapêutico.

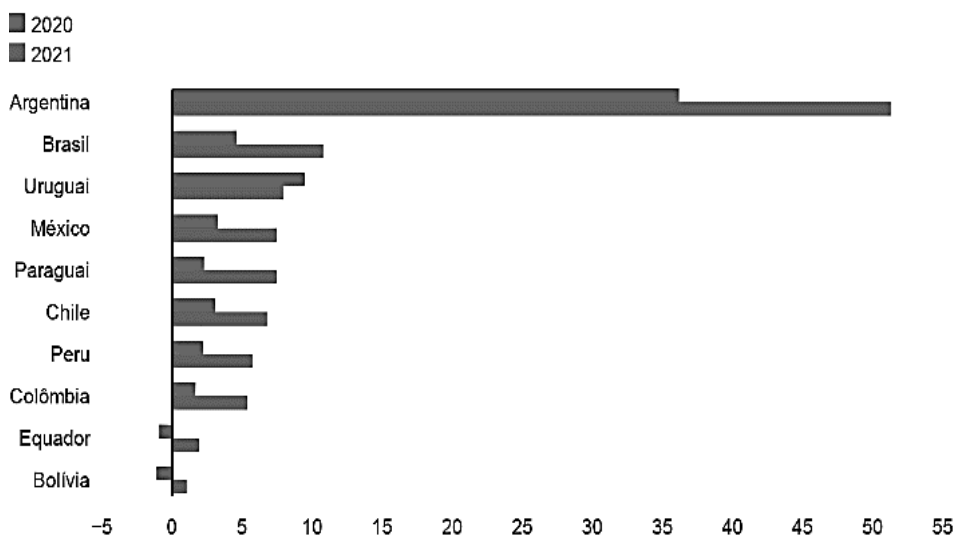
QUESTÃO 15

A inflação voltou a cruzar a marca dos dois dígitos no Brasil em 2021, algo que não acontecia desde 2015. Conforme os dados divulgados pelo Instituto Brasileiro de Geografia e Estatística (IBGE) entre janeiro e dezembro do ano passado o Índice de Preços ao Consumidor Amplo (IPCA) atingiu 10,06%. (<https://www.bbc.com/portuguese/brasil-59945910>)

Veja o gráfico abaixo:

Inflação na América Latina

12 meses até novembro*



*Como alguns países ainda não divulgaram os dados fechados de 2021, optou-se por usar o mês de novembro para manter a comparabilidade

Fonte: Banco Central del Paraguay, Instituto Nacional de Estadística (Uruguay), Instituto Nacional de Estadística (Bolívia), Instituto Nacional de Estadística y Informática (Peru), Instituto Nacional de Estadística y Censos (Equador), OCDE.

<https://www.bbc.com/portuguese/brasil-59945910>

No caso específico do Brasil, os fatores que contribuíram para o aumento da inflação são:

- I. a desvalorização cambial, a depreciação do real ante o dólar.
- II. a instabilidade climática no sul do país que afetou o agronegócio.
- III. a crise hídrica com o acionamento das usinas termelétricas.
- IV. o aumento das commodities e os gargalos na produção.

Estão CORRETAS apenas:

- (A) I, II e III.
- (B) II, III e IV.
- (C) I, III e IV.
- (D) II e III.
- (E) II e IV.

NOÇÕES DE INFORMÁTICA

QUESTÃO 16

O Google Chrome é atualmente um dos navegadores mais usados no mundo, ele nos dá a opção de controlar as permissões dos sites que acessamos na opção Configurações do site. Essa opção fica em qual aba das configurações?

- (A) Preenchimento automático
- (B) Aparência
- (C) Inicialização
- (D) Mecanismo de pesquisa
- (E) Privacidade e segurança

QUESTÃO 17

No Microsoft Word, a caixa de diálogo fonte permite formatar texto de várias maneiras, incluindo tamanho, estilo, cor, dentre outras características.

Das alternativas abaixo, assinale a que NÃO representa um efeito disponível na caixa de diálogo de fonte no Microsoft Word 2016 em português-Brasil.

- (A) Oculto
- (B) Tachado duplo
- (C) Todas em minúsculas
- (D) Sobrescrito
- (E) Versalete

QUESTÃO 18

No Excel, um arquivo aberto se inicia com 3 guias de planilha, essas guias permitem que:

- (A) se possa em um único arquivo armazenar mais de uma planilha.
- (B) as planilhas se misturem.
- (C) se possa adicionar novas células.
- (D) se possa abrir somente uma planilha a cada 3 guias.
- (E) o arquivo não se corrompa.

QUESTÃO 19

De acordo com o suporte do site de busca www.google.com, é possível utilizar símbolos ou palavras na pesquisa para tornar os resultados mais precisos.

Das alternativas abaixo, assinale a opção que define que uma pesquisa seja realizada utilizando a correspondência exata da palavra ou frase definida na pesquisa.

- (A) Colocar "related:" antes da palavra ou frase. Por exemplo: related: prédio mais alto do mundo.
- (B) Colocar o sinal de adição (+) no início da pesquisa. Por exemplo: +prédio mais alto do mundo.
- (C) Colocar uma palavra ou frase entre aspas. Por exemplo: "prédio mais alto do mundo".
- (D) Colocar uma palavra ou frase entre colchetes. Por exemplo: [prédio mais alto do mundo].
- (E) Colocar uma palavra ou frase entre parênteses. Por exemplo: (prédio mais alto do mundo).

QUESTÃO 20

Das alternativas abaixo, assinale a que melhor define o acesso a um site de internet que utiliza o protocolo HTTPS.

- (A) Indica que o acesso é seguro, pois a comunicação com o servidor é feita de forma criptografada através de um certificado digital.
- (B) Indica que o site acessado é armazenado em uma instituição financeira e pode haver restrições no acesso.
- (C) Indica que é um site criado de forma dinâmica e que suas informações são apresentadas em tempo real.
- (D) Indica que é um site do governo ou de algum provedor de conteúdo.
- (E) Indica que o site acessado tem restrições no acesso.

CONHECIMENTOS ESPECÍFICOS

QUESTÃO 21

Analise as afirmativas abaixo sobre distribuição de fármacos:

I – Após ser absorvido ou injetado na corrente sanguínea, o fármaco distribui-se para os líquidos extracelular (aproximadamente 14 litros em um indivíduo de 70 kg) e intracelular (aproximadamente 28 litros em um indivíduo com 70Kg).

II – Um volume de distribuição elevado indica que o fármaco é distribuído a várias partes do corpo, com a permanência de pequena fração no sangue

III – A resposta terapêutica de um fármaco é dependente da porcentagem do fármaco livre. E quanto maior for a capacidade de se manter livre, menor será o tempo de meia vida desse fármaco.

IV – Para atravessar a barreira hematoencefálica e forma efetiva os fármacos devem ser pequenos e altamente lipossolúveis (apolares ou não-ionizados).

Sobre os itens acima, está correto o que se afirma em:

(A) Somente I e II.

(B) Somente III e IV.

(C) I, II e III.

(D) II, III e IV.

(E) Todos os itens estão corretos.

QUESTÃO 22

O sistema enzimático mais importante da fase I da biotransformação é o citocromo P-450 (CYP450), uma superfamília microssômica de isoenzimas que catalisam a oxidação de muitos fármacos. Os elétrons são supridos pela NADPH-CYP450 redutase, uma flavoproteína que transfere elétrons da NADPH (forma reduzida do fosfato de dinucleótido de nicotinamida e adenina) para o citocromo P-450.

As enzimas do citocromo P-450 podem ser induzidas ou inibidas por muitos fármacos e substâncias, resultando em muitas interações entre fármacos, em que um exacerba a toxicidade ou reduz o efeito terapêutico do outro fármaco.

Assinale a alternativa que corresponde a um indutor e um inibidor da enzima, respectivamente:

(A) Fenitoína e Amiodarona.

(B) Amiodarona e Rifampina.

(C) Sertralina e Fenobarbital.

(D) Sertralina e Fenitoína.

(E) Carbamazepina e Fenobarbital.

QUESTÃO 23

De acordo com a ANVISA, Reações Adversas a Medicamentos é qualquer resposta prejudicial ou indesejável, não intencional, a um medicamento, que ocorre nas doses usualmente empregadas no homem para profilaxia, diagnóstico, terapia da doença ou para a modificação de funções fisiológicas. A reação que é uma hipersensibilidade constitucional congênita que certos indivíduos apresentam quando expostos a determinadas substâncias, é chamada de:

(A) Efeito colateral.

(B) Efeito secundário.

(C) Tolerância.

(D) Superdosagem relativa.

(E) Idiossincrasia.

QUESTÃO 24

Antibióticos são compostos naturais ou sintéticos capazes de inibir o crescimento ou causar a morte de fungos ou bactérias. Podem ser classificados como bactericidas, quando causam a morte da bactéria, ou bacteriostáticos, quando promovem a inibição do crescimento microbiano. Os/As _____ apresentam um múltiplo mecanismo de ação, inibindo a síntese do peptidoglicano, além de alterar a permeabilidade da membrana citoplasmática e interferir na síntese de RNA citoplasmático. Desta forma, inibem a síntese da parede celular bacteriana.

Assinale a alternativa que preenche corretamente a lacuna do texto:

- (A) Aminoglicosídeos.
- (B) Glicopeptídeos.
- (C) Sulfonamidas.
- (D) Polimixinas.
- (E) Lincosaminas.

QUESTÃO 25

Os benzodiazepínicos constituem o grupo de psicotrópicos mais comumente utilizados na prática clínica devido as suas quatro atividades principais: ansiolítica, hipnótica, anticonvulsivante e relaxante muscular. Os benzodiazepínicos exercem sua ação ao ligarem-se ao receptor denominado GABA (ácido gama-aminobutírico), que é um complexo proteico mediador da principal atividade inibidora neuronal. Assinale a alternativa que corresponde a um benzodiazepínico:

- (A) Midazolam.
- (B) Fenobarbital.
- (C) Nortriptilina.
- (D) Paroxetina.
- (E) Lisdexanfetamina.

QUESTÃO 26

Analise as afirmativas abaixo sobre Centros de Informação sobre Medicamentos (CIMs):

I – CIMs são unidades operacionais que fornecem informação técnica e científica sobre medicamentos de forma objetiva e oportuna.

II – Os CIMs constituem uma fonte de consulta de dados, ou um local em que são encontrados documentos ou referências bibliográficas, como uma biblioteca sobre medicamentos.

III – Alguns dos objetivos dos CIMs, são: atender a consultas específicas das diversas especialidades clínicas do hospital; participar de forma efetiva no Comitê de Farmácia e Terapêutica (CFT), mediante apoio científico e técnico na elaboração e na manutenção do formulário terapêutico; apoiar estudos de utilização de medicamentos (incluindo o monitoramento de farmacoterapia e reações adversas).

IV – Uma vantagem dos CIMs é contribuir para a definição de políticas de medicamentos em âmbito nacional, institucional ou local, principalmente na elaboração de listas básicas, formulários terapêuticos e determinação de esquemas de tratamento.

Sobre os itens acima, está correto o que se afirma em:

- (A) Somente I e II,
- (B) Somente III e IV.
- (C) I, II e III.
- (D) I, III, e IV.
- (E) II, III e IV.

QUESTÃO 27

Os medicamentos antirretrovirais surgiram na década de 1980, para impedir a multiplicação do vírus no organismo. Eles não matam o HIV, vírus causador da aids, mas ajudam a evitar o enfraquecimento do sistema imunológico. Por isso, seu uso é fundamental para aumentar o tempo e a qualidade de vida de quem tem aids.

Desde 1996, o Brasil distribui gratuitamente pelo SUS (Sistema Único de Saúde) o coquetel antiaids para todos que necessitam do tratamento. Segundo dados de dezembro de 2013, 353 mil pessoas recebem regularmente os remédios para tratar a doença, sendo que o Ministério da Saúde estima que cerca de 797 mil pessoas vivam com HIV/Aids no Brasil. Atualmente, existem 22 medicamentos divididos em seis tipos.

Assinale a alternativa que corresponde a um medicamento da classe dos Inibidores Nucleosídeos da Transcriptase Reversa:

- (A) Zidovudina.
- (B) Efavirenz.
- (C) Saquinavir.
- (D) Enfuvirtida.
- (E) Dolutegravir.

QUESTÃO 28

Analise as afirmativas a seguir sobre estabilidade de medicamentos, coloque V para verdadeiro e F para falso. Posteriormente, assinale a alternativa que apresenta a sequência correta:

- () A estabilidade física aborda essencialmente a integridade da substância ativa e os seus produtos de degradação. Os principais fatores são: vibrações e impactos, flutuações de temperatura e umidade.
- () A estabilidade química refere-se à capacidade do fármaco em manter a identidade molecular e conformação espacial, é a mais importante e de mais fácil avaliação. Os principais fatores são: temperatura, umidade, luz e pH.
- () A estabilidade terapêutica refere-se apenas para preparações aquosas e a estabilidade toxicológica traduz por uma decomposição, de substância ativa ou excipiente, capaz de gerar maior toxicidade.
- () A estabilidade dos medicamentos é afetada por fatores extrínsecos e intrínsecos, dentro eles destacam-se: temperatura, umidade, luz, hidrólise, e oxidação, sendo os dois últimos classificados como fatores extrínsecos.

- (A) F, F, V e V.
- (B) V, V, F e F.
- (C) F, V, F e V.
- (D) V, F, V e F.
- (E) V, V, V e V.

QUESTÃO 29

A Portaria nº 344, de 12 de maio de 1998, aprova o Regulamento Técnico sobre substâncias e medicamentos sujeitos a controle especial. De acordo com a Portaria 344/98, as listas “A1” e “A2” são de medicamentos do tipo:

- (A) Psicotrópicos.
- (B) Entorpecentes.
- (C) Anabolizantes.
- (D) Imunossupressoras.
- (E) Retinóides de uso sistêmico.

QUESTÃO 30

Assinale a alternativa INCORRETA sobre o medicamento da lista “C3” Talidomida:

- (A) As Notificações de Receita da lista “C3” são de cor branca e devem estar acompanhadas de um termo de responsabilidade/esclarecimento.
- (B) O Termo de Responsabilidade/Esclarecimento deverá ser preenchido e assinado pelo prescritor e pelo paciente, em 2 (duas vias).
- (C) A Notificação de receita terá validade de 20 (vinte) dias, contados a partir da data de sua emissão e somente dentro da unidade federativa onde foi emitida.
- (D) A quantidade de Talidomida por prescrição, em cada Notificação de Receita, não poderá ser superior à necessária para o tratamento de 30 (trinta) dias.
- (E) Devido aos graves efeitos teratogênicos, o medicamento à base de Talidomida somente poderá ser prescrito para mulheres em idade fértil após avaliação médica com exclusão de gravidez através de método sensível e mediante a comprovação de utilização de, no mínimo, 2 (dois) métodos efetivos de contracepção para mulheres em uso de talidomida (Anexo IV desta Resolução), sendo pelo menos 1 (um) método de barreira.

QUESTÃO 31

Se um médico prescreveu para seu paciente 4 00 mg de paracetamol (GOTAS), de 8 em 8 horas, e na bula diz que cada 15 gotas, contém 200 mg de paracetamol. Quantas gotas o paciente irá tomar em 1 (um) dia?

- (A) 15 gotas.
- (B) 30 gotas.
- (C) 45 gotas.
- (D) 60 gotas.
- (E) 90 gotas.

QUESTÃO 32

Em um hospital, o serviço de emergência utiliza rotineiramente solução de glicose para administração de medicamentos em seus pacientes. Foi prescrito a um paciente uma solução de glicose, onde 90 gramas de glicose para 1500 ml de água destilada. Assinale a alternativa que corresponde a porcentagem p/v dessa solução:

- (A) 5%
- (B) 6%
- (C) 7%
- (D) 8%
- (E) 9%

QUESTÃO 33

Foi prescrito a um paciente o uso de Cetoprofeno intramuscular, da seguinte forma: 50mg de cetoprofeno 3 vezes ao dia, durante 14 dias. Sabendo que cada ampola contém 2mL de cetoprofeno a 50mg/mL, quantas ampolas serão necessárias para todo o tratamento desse paciente?

- (A) 7 ampolas.
- (B) 14 ampolas.
- (C) 21 ampolas.
- (D) 28 ampolas.
- (E) 30 ampolas.

QUESTÃO 34

A curva ABC é um método de classificação de informações, para que se separem os itens de maior importância ou impacto, os quais são normalmente em menor número, para se estabelecer formas de gestão apropriada à importância de cada medicamento em relação ao valor total dos estoques.

Assinale a alternativa INCORRETA sobre a Curva ABC:

- (A) Na avaliação dos resultados da curva ABC, percebe-se o giro dos itens no estoque, o nível da lucratividade e o grau de representação no faturamento da organização
- (B) Com a curva ABC, pode-se segmentar os itens em estoque baseado no critério do impacto resultante da falta, agregando mais informações para as rotinas de planejamento, reposição e gerenciamento.
- (C) A Classe A, abriga o grupo de itens mais importantes que correspondem a um pequeno número de medicamentos, cerca de 20% dos itens, que representa cerca de 80% do valor total do estoque.
- (D) A Classe B, representa um grupo de itens em situação e valores intermediários entre a classe A e C, sendo 15% do total de itens em estoque e consomem 15% dos recursos;
- (E) A Classe C, agrupa cerca de 70% dos itens, cuja importância em valor é pequena, representando cerca de 20% do valor do estoque.

QUESTÃO 35

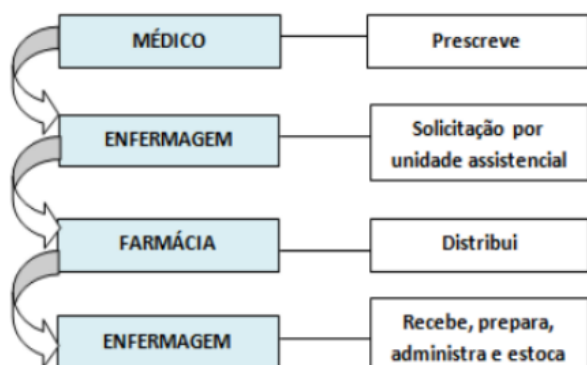
Analise as afirmativas a seguir sobre Notificação Compulsória, coloque V para verdadeiro e F para falso. Posteriormente assinale a alternativa que apresenta a sequência correta:

- () A notificação compulsória consiste em levar ao conhecimento das autoridades sanitárias a ocorrência de determinada doença, agravo ou evento de saúde pública. Essas medidas são importantes para nortear as políticas públicas que serão empregadas para conter a disseminação de doenças transmissíveis para a população, bem como eventos que requeiram uma intervenção mais próxima dos órgãos de saúde.
 - () As notificações compulsórias são divididas em três espécies, notificação compulsória imediata (NCI), cujo prazo é de 24 horas; notificação compulsória semanal (NCS), que tem 7 dias de prazo; notificação compulsória negativa (NCN), comunicação semanal que informará que não foi identificada nenhuma ocorrência, durante a semana.
 - () A Portaria 1.792/2020 determina que, em decorrência da Emergência em Saúde Pública de Importância Nacional provocada pelo novo coronavírus, todos os resultados de testes realizados em pacientes suspeitos devem ser notificados em até 48 horas do resultado ao Ministério da Saúde, seja teste positivo, negativo, inconclusivo ou qualquer que seja a denominação adotada pela metodologia de teste empregada.
 - () Em 2019 doença de Chagas crônica, foi incluída na Lista Nacional de Notificação Compulsória de doenças, agravos e eventos de saúde pública nos serviços de saúde públicos e privados em todo o território nacional.
- (A) F, F, V e V.
 - (B) V, V, F e F.
 - (C) F, V, F e V.
 - (D) V, F, V e F.
 - (E) V, V, V e V.

QUESTÃO 36

Dispõe sobre os critérios para a prescrição, dispensação, controle, embalagem e rotulagem de medicamentos à base de substâncias classificadas como antimicrobianos de uso sob prescrição, isoladas ou em associação, listadas em Instrução Normativa específica.

- (A) RDC Nº 471, DE 23 DE FEVEREIRO DE 2021
- (B) RDC Nº 20, DE 5 DE MAIO DE 2011
- (C) RDC Nº 25, DE 30 DE JUNHO DE 2010
- (D) RDC Nº 60, DE 26 DE NOVEMBRO DE 2009
- (E) RDC Nº 51, DE 15 DE AGOSTO DE 2007

QUESTÃO 37

Fonte: Gomes e Reis (2011)

Analise o fluxograma acima e assinale a alternativa que corresponde ao tipo de sistema de distribuição o fluxograma se refere:

- (A) Sistema de Distribuição Individualizado
- (B) Sistema de Distribuição por Dose unitária
- (C) Sistema de Distribuição Misto
- (D) Sistema de Distribuição Coletivo
- (E) Nenhuma das anteriores

QUESTÃO 38

A Resolução nº 711, de 30 julho de 2021, dispõe sobre o Código de Ética Farmacêutica, o Código de Processo Ético e estabelece as infrações e as regras de aplicação das sanções disciplinares. Assinale a alternativa INCORRETA:

- (A) É um princípio fundamental: Todos os inscritos devem exercer a profissão com honra e dignidade, devendo dispor de condições de trabalho e receber justa remuneração por seu desempenho.
- (B) É direito do farmacêutico: interagir com os demais profissionais, para garantir a segurança e a eficácia da terapêutica, observado o uso racional de medicamentos;
- (C) É direito do farmacêutico: fornecer orientações necessárias ao usuário, objetivando a garantia, a segurança e a efetividade da terapêutica, observando o uso racional de medicamentos;
- (D) É um dever do farmacêutico: utilizar dados técnico-científicos baseados na melhor evidência disponível.
- (E) É um dever do farmacêutico: atender os prazos regulamentares, em qualquer instância, de tramitação de processo administrativo.

QUESTÃO 39

Analise as afirmativas abaixo sobre Plano De Gerenciamento de Resíduos De Serviços De Saúde (PGRSS):

I – O PGRSS tem o objetivo de minimizar a produção de resíduos e proporcionar aos resíduos gerados um encaminhamento seguro, de forma eficiente, visando à proteção dos trabalhadores, a preservação da saúde pública, dos recursos naturais e do meio ambiente.

II – Resolução RDC nº 306, de 7 de dezembro de 2004 dispõe sobre o Regulamento Técnico para o gerenciamento de resíduos de serviços de saúde.

III – Todo PGRSS deve conter as seguintes etapas: Segregação, Acondicionamento, Identificação, Transporte Interno, Armazenamento Temporário, Tratamento, Armazenamento Externo e Coleta e Transporte Externos.

IV – Os grupos de resíduos são classificados como: Grupo A – Infectantes; Grupo B – Químicos; Grupo C – Radioativo; Grupo D - Resíduos comuns; Grupo E - Perfuro cortantes.

(A) Somente I e II.

(B) Somente III e IV.

(C) I, II e III.

(D) II, III e IV.

(E) Todos os itens estão corretos.

QUESTÃO 40

A Política Nacional de Medicamentos, como parte essencial da Política Nacional de Saúde, constitui um dos elementos fundamentais para a efetiva implementação de ações capazes de promover a melhoria das condições da assistência à saúde da população.

Assinale a alternativa que não corresponde a uma diretriz da Política Nacional de Medicamentos:

(A) Adoção de Relação de Medicamentos Essenciais

(B) Garantia da Segurança, Eficácia e Qualidade dos Medicamentos.

(C) Desenvolvimento e Capacitação de Recursos Humanos.

(D) Regulamentação Sanitária de Medicamentos.

(E) Organização das Atividades de Vigilância Sanitária de Medicamentos.