

## 6F3 | Operador de Máquinas

### Instruções



Confira o número que você obteve no ato da inscrição com o que está indicado no cartão-resposta.

\* A duração da prova inclui o tempo para o preenchimento do cartão-resposta.

Para fazer a prova você usará:

- este **caderno de prova**.
- um **cartão-resposta** que contém o seu nome, número de inscrição e espaço para assinatura.

Verifique, no caderno de prova, se:

- faltam folhas e a sequência de questões está correta.
- há imperfeições gráficas que possam causar dúvidas.

**Comunique imediatamente ao fiscal qualquer irregularidade!**

### Atenção!

- Não é permitido qualquer tipo de consulta durante a realização da prova.
- Para cada questão são apresentadas 5 alternativas diferentes de respostas (a, b, c, d, e). Apenas uma delas constitui a resposta correta em relação ao enunciado da questão.
- A interpretação das questões é parte integrante da prova, não sendo permitidas perguntas aos fiscais.
- Não destaque folhas da prova.

Ao terminar a prova, entregue ao fiscal o caderno de prova completo e o cartão-resposta devidamente preenchido e assinado.



29 de janeiro



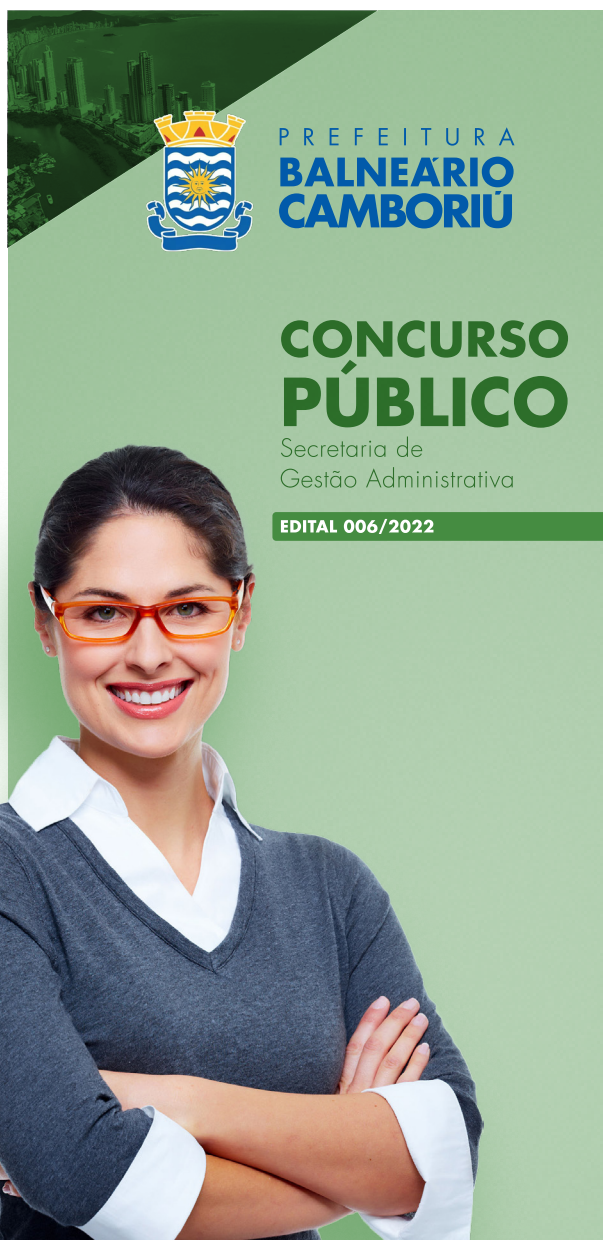
40 questões



8 às 11h



3h de duração\*





**Língua Portuguesa**

10 questões

1. Assinale a alternativa em que **todas** as palavras estão separadas corretamente.

- a.  pa-ssa-ri-nho • ca-lo-tei-ro • na-sci-men-to
- b.  pas-sa-ri-nho • ca-lo-tei-ro • nas-ci-men-to
- c.  pa-ssa-ri-nho • ca-lo-te-i-ro • na-sci-men-to
- d.  pas-sa-rin-ho • ca-lo-te-i-ro • na-sci-men-to
- e.  pa-ssa-ri-nho • ca-lo-te-iro • na-sci-men-to

2. Assinale a alternativa cuja palavra possua **quatro** sílabas.

- a.  terapia
- b.  recessão
- c.  sustento
- d.  alienado
- e.  colchete

3. Assinale a alternativa em que o substantivo é feminino.

- a.  herpes
- b.  profeta
- c.  mascote
- d.  telegrama
- e.  champanha

4. Assinale a alternativa em que **todos** os substantivos estão no grau aumentativo.

- a.  salão • vidraça • chuva
- b.  saleta • casarão • festa
- c.  pezão • jornaleco • fogaréu
- d.  corpaço • rapagão • febrícula
- e.  balaço • montanha • papelão

5. Assinale a alternativa que indica corretamente o plural das palavras **anel, pão e tênis**.

- a.  anels • pâes • tênis
- b.  anéis • pães • tênis
- c.  anels • pâes • tênisses
- d.  anéis • pãos • tênis
- e.  anels • pãos • tênisses

6. Assinale a alternativa na qual **todos** os substantivos são próprios.

- a.  amor • Bidu
- b.  mulher • homem
- c.  Amazonas • Amélia
- d.  Rio de Janeiro • rio
- e.  ONU • felicidade

7. Constelação é o coletivo de:

- a.  quadros.
- b.  planetas.
- c.  soldados.
- d.  estrelas.
- e.  astros.

8. Assinale a alternativa **correta**.

- a.  Vara é o coletivo de cabras.
- b.  Século é o coletivo de mil anos.
- c.  Fauna é o coletivo de plantas de uma região.
- d.  Flora é o coletivo de animais de uma região.
- e.  Ramalhete é o coletivo de flores.

9. Assinale a alternativa em que o adjetivo é uniforme (mesma forma para masculino e feminino).

- a.  professor jovem
- b.  menina carinhosa
- c.  homem perverso
- d.  garota esperta
- e.  rapaz ateu

10. Assinale a alternativa com o plural **correto** da frase *O menino era surdo-mudo*.

- a.  Os menino eram surdo-mudos.
- b.  Os meninos eram surdomudos.
- c.  Os meninos eram surdos-mudos.
- d.  Os meninos eram surdo-mudos.
- e.  Os meninos eram surdos-mudo.

**Conhecimentos Atuais**

5 questões

11. O planeta Terra possui 6 continentes (América, Ásia, Europa, Oceania, África e Antártica). O Brasil localiza-se na América, porém esse continente pode ser subdividido de duas maneiras distintas, sendo elas:

- a.  América do Sul, de acordo com sua aproximação ao Meridiano de Greenwich e América Latina, de acordo com os aspectos linguísticos e culturais.
- b.  América do Norte, América Central e América do Sul, onde nessa distribuição continental o Brasil está localizado na porção centro-oriental e América Latina e América Anglo-Saxônica, observando-se os processos de colonização.
- c.  América do Norte, América Central e América do Sul, de acordo com seus aspectos linguísticos e culturais e América Anglo-Saxônica e América Latina, de acordo com sua localização geográfica.
- d.  América do Norte, América Central e América do Sul, de acordo com sua localização geográfica e América Anglo-Saxônica e América Latina, de acordo com seus aspectos linguísticos e culturais.
- e.  América do Norte e América do Sul, de acordo com sua localização em relação à Linha do Equador e América Anglo-Saxônica e América Latina, de acordo com sua localização geográfica.

12. O Brasil está na lista dos países mais populosos do mundo. Observando a distribuição populacional brasileira por regiões, é **correto** afirmar:

- a.  A Região Norte é a mais populosa do país, tendo em vista que é a maior em extensão territorial.
- b.  A Região Sudeste, por ser a mais desenvolvida, é a que apresenta maior número populacional.
- c.  A Região Centro-Oeste é a que apresenta um maior número de pessoas, tendo em vista que a capital do país se localiza nessa porção do espaço geográfico brasileiro.
- d.  Na Região Nordeste o número de habitantes é reduzido devido à baixa pluviosidade que engloba todos os estados nordestinos.
- e.  A Região Sul é a segunda maior região do país, o que acarreta um grande número de habitantes.

13. Assinale a alternativa **correta** sobre os estados e capitais do Brasil.

- a.  A Região Nordeste apresenta 9 estados, sendo a Bahia seu estado mais populoso.
- b.  A Região Norte apresenta 6 estados, sendo o Amazonas o maior em extensão territorial.
- c.  Tanto a Região Sul como a Centro-Oeste apresentam 3 estados que as compõem, onde Goiás faz fronteira com o Paraná.
- d.  Mato Grosso, Mato Grosso do Sul e Goiás possuem as respectivas capitais: Cuiabá, Campo Grande e Goiânia. Dois estados pertencem à região Centro-Oeste e um à região Sul.
- e.  Teresina é a capital de Pernambuco e se localiza na Região Nordeste.

14. Assinale a alternativa **correta** sobre o Estado de Santa Catarina.

- a.  O Estado de Santa Catarina localiza-se ao Sul do Brasil, abaixo do Trópico de Câncer.
- b.  O Estado Catarinense faz fronteira com o Paraná (ao Norte), Rio Grande do Sul (ao Sul), Oceano Atlântico (Oeste) e Argentina (Leste).
- c.  A economia da região encontra-se bem distribuída. Na Grande Florianópolis destacam-se os setores tecnológico, moveleiro e metal-mecânico, enquanto no Planalto Serrano o turismo se destaca.
- d.  Santa Catarina é o menor Estado em território do Sul do país, subdividido em oito principais regiões: Litoral, Nordeste, Planalto Norte, Vale do Itajaí, Planalto Serrano, Sul, Meio-Oeste e Oeste.
- e.  Santa Catarina é considerado um Estado de grande densidade demográfica, destacando-se o oeste catarinense por apresentar maior população residente.

15. Assinale a alternativa **correta** sobre o Município de Balneário Camboriú.
- As principais atividades econômicas de Balneário Camboriú são o comércio e a indústria têxtil.
  - Possui uma população média de 300 mil habitantes, sendo o segundo maior município em número de habitantes.
  - As atrações turísticas encontradas no município são abundantes, porém há poucas opções de praias próprias para o banho.
  - Localizado no litoral sul de Santa Catarina, Balneário Camboriú é um dos principais destinos turísticos do sul do Brasil e do Mercosul.
  - Conhecido por ser um dos principais destinos turísticos do Estado, Balneário Camboriú limita-se com os municípios de Itajaí, Camboriú e Itapema.

### Conhecimentos Específicos

25 questões

16. A máquina ilustrada abaixo, segundo a maneira de proceder a escavação e devido à forma construtiva do implemento escavador, é considerada como um tipo de escavadeira com caçamba:

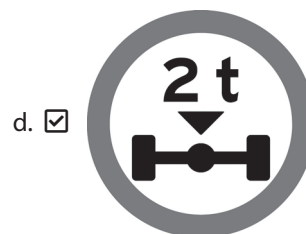
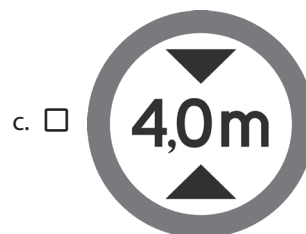



- frontal.
- de arrasto.
- invertida.
- de mandíbula.
- de articulação múltipla.

17. A denominação que se dá a qualquer superfície inclinada de um maciço de solo ou rocha é:

- Talude.
- Vala.
- Curva de nível.
- Escarpa.
- Ravina.

18. De acordo com o Código de Trânsito Brasileiro vigente, a placa de sinal de regulamentação que indica o “peso máximo permitido por eixo” é:



19. De acordo com o Código de Trânsito Brasileiro vigente, ruas, avenidas, vielas, ou caminhos e similares abertos à circulação pública, situados na área urbana, caracterizados principalmente por possuírem imóveis edificadas ao longo de sua extensão, são chamados de:

- a.  Via arterial.
- b.  Via rural.
- c.  Via de trânsito rápido.
- d.  Via local.
- e.  Via urbana.

20. De acordo com o Código de Trânsito Brasileiro vigente, a parte da via, devidamente sinalizada e protegida, destinada ao uso de pedestres durante a travessia da mesma, é chamada de:

- a.  Acostamento.
- b.  Refúgio.
- c.  Área de espera.
- d.  Bordo da pista.
- e.  Ciclovía.

21. De acordo com o Código de Trânsito Brasileiro vigente, as infrações punidas com multa classificam-se, de acordo com sua gravidade, nas seguintes categorias:

- a.  infração de natureza grave, média, leve e levíssima.
- b.  infração de natureza gravíssima, grave, média, leve e levíssima.
- c.  infração de natureza gravíssima, grave, média e leve.
- d.  infração de natureza grave, média e leve.
- e.  infração de natureza gravíssima, média e leve.

22. De acordo com o Código de Trânsito Brasileiro vigente, é considerada uma infração grave quando o condutor:

- a.  Deixa de usar o cinto de segurança ou permite que o passageiro deixe de usar o cinto de segurança.
- b.  Usa o veículo para arremessar, sobre os pedestres ou veículos, água ou detritos.
- c.  Atira do veículo ou abandona na via objetos ou substâncias.
- d.  Dirige ameaçando os pedestres que estejam atravessando a via pública, ou os demais veículos.
- e.  Dirige sem atenção ou sem os cuidados indispensáveis à segurança.

23. De acordo com o Código de Trânsito Brasileiro vigente, o trator de roda, o trator de esteira, o trator misto ou o equipamento automotor destinado à movimentação de cargas ou execução de trabalho agrícola, de terraplenagem, de construção ou de pavimentação só podem ser conduzidos na via pública por condutor habilitado na(s) seguinte(s) categoria(s):

- a.  A, B ou C.
- b.  B, C, D ou E.
- c.  C, D ou E.
- d.  B ou C.
- e.  E.

24. De acordo com o Código de Trânsito Brasileiro vigente, assinale a alternativa que indica um equipamento **não obrigatório** dos veículos.

- a.  Encosto de cabeça, para todos os tipos de veículos automotores.
- b.  Dispositivo destinado ao controle de emissão de gases poluentes e de ruído.
- c.  Equipamento suplementar de retenção - air-bag frontal para o condutor e o passageiro do banco dianteiro.
- d.  Cinto de segurança.
- e.  Farol auxiliar.

25. De acordo com o Código de Trânsito Brasileiro vigente, quanto à espécie, um trator de esteiras é considerado um veículo:

- a.  de passageiros.
- b.  de tração.
- c.  de carga.
- d.  misto.
- e.  de coleção.

26. De acordo com o Código de Trânsito Brasileiro vigente, onde não existir sinalização regulamentadora, a velocidade máxima nas vias urbanas de trânsito rápido será de:

- a.  30 km/h.
- b.  40 km/h.
- c.  60 km/h.
- d.  80 km/h.
- e.  90 km/h.

27. De acordo com o Código de Trânsito Brasileiro vigente, transitar com o veículo na faixa ou via de trânsito exclusivo, regulamentada com circulação destinada aos veículos de transporte público coletivo de passageiros, salvo casos de força maior e com autorização do poder público competente, constitui-se em uma infração:

- a.  Gravíssima.
- b.  Grave.
- c.  Média.
- d.  Leve.
- e.  Levíssima.

28. Assinale a alternativa que indica **corretamente** uma técnica de direção corretiva.

- a.  Manter distância segura entre veículos.
- b.  Decidir não dirigir com sono.
- c.  Decidir não dirigir sob efeito de medicamentos com reações colaterais.
- d.  Não usar o celular enquanto dirige.
- e.  Sinalizar a via após um acidente.

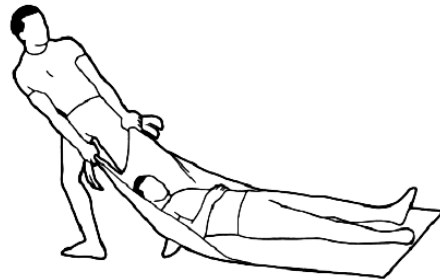
29. O tipo de acidente no qual o veículo gira completamente em torno de seu eixo vertical, imobilizando-se apoiado sobre a sua cobertura, ficando com as rodas para cima, é conhecido como:

- a.  Tombamento.
- b.  Engavetamento.
- c.  Capotamento.
- d.  Abalroamento.
- e.  Saída de pista.

30. Ao dirigir, é considerado um automatismo **correto** do condutor:

- a.  Permanecer com a mão para fora da janela.
- b.  Permanecer com a mão na marcha.
- c.  Descansar o pé no pedal da embreagem.
- d.  Acionar os pedais com a pontinha dos pés ou com o pé inteiro, sem apoiar o calcanhar.
- e.  As marchas devem ser trocadas no tempo certo, sem forçar o motor.

31. Analise a imagem abaixo:



O método de transporte de acidentado apresentado na imagem é conhecido como:

- a.  Transporte ao colo.
- b.  Transporte de arrasto.
- c.  Transporte nas costas.
- d.  Transporte de bombeiro.
- e.  Transporte de apoio.

32. Quando a vítima de um acidente apresenta perda de sangue proveniente de ruptura, dilaceramento ou corte de um vaso sanguíneo, tal fato caracteriza a ocorrência de:

- a.  Hemorragia.
- b.  Fratura.
- c.  Estado de choque.
- d.  Parada cardíaca.
- e.  Parada respiratória.

33. O componente de motor de combustão interna apresentado na imagem ao lado recebe o nome de:



- a.  Biela.
- b.  Balancim.
- c.  Bronzina.
- d.  Virabrequim.
- e.  Volante de inércia.

34. Em um motor alternativo de combustão interna, a posição que caracteriza que o pistão muda de sentido de movimento, estando no seu máximo, é conhecida como:

- a.  Ponto morto inferior.
- b.  Cilindrada.
- c.  Ponto morto superior.
- d.  Ponto de ignição.
- e.  Curso do pistão.

35. Em um pneu com designação 185 / 60 R 14 82 H, a indicação "82" representa:

- a.  A relação entre a altura e a largura da secção do pneu.
- b.  O índice de carga.
- c.  O diâmetro interno do pneu.
- d.  O índice de velocidade.
- e.  A largura do pneu em milímetros.

36. No painel de instrumentos de um veículo, o símbolo ao lado indica:

- a.  Desembaçador de vidro traseiro.
- b.  Pressão dos pneus.
- c.  Luz de neblina.
- d.  Luz de alerta.
- e.  Luz do sistema de freio ABS.



37. O componente de sistema de freio automotivo apresentado na imagem ao lado recebe o nome de:

- a.  Tambor de freio.
- b.  Disco de freio.
- c.  Sapata de freio.
- d.  Pastilha de freio.
- e.  Cilindro mestre.



38. O equipamento apresentado na imagem ao lado é classificado como um equipamento:

- a.  nivelador.
- b.  escavador elevador.
- c.  escavador carregador.
- d.  escavador deslocador.
- e.  transportador.



39. Identifique abaixo as afirmativas verdadeiras (V) e as falsas (F) com relação às principais funções de uma motoniveladora.

- ( ) Carregar material em caminhões com caçamba.
- ( ) Desgarramento e escarificação.
- ( ) Escavar valas.
- ( ) Nivelar terrenos.
- ( ) Criação e manutenção de taludes.

Assinale a alternativa que indica a sequência **correta**, de cima para baixo.

- a.  V•V•F•V•F
- b.  V•F•V•F•V
- c.  F•V•F•V•V
- d.  F•V•F•V•F
- e.  F•F•V•V•F

40. Analise a imagem abaixo:



O implemento agrícola apresentado na imagem é conhecido como:

- a.  Arado.
- b.  Grade.
- c.  Subsolador.
- d.  Sulcador.
- e.  Enxada rotativa.



**Página  
em Branco.  
(rascunho)**

**Página  
em Branco.  
(rascunho)**

Utilize a grade ao lado para anotar as suas respostas.

**Não destaque esta folha.** Ao entregar sua prova, o fiscal irá destacar e entregar esta grade de respostas que você poderá levar para posterior conferência.



## GRADE DE RESPOSTAS

1		673 Operador de Máquinas	21	
2			22	
3			23	
4			24	
5			25	
6			26	
7			27	
8			28	
9			29	
10			30	
11			31	
12			32	
13			33	
14			34	
15			35	
16			36	
17			37	
18			38	
19			39	
20			40	

PREFEITURA  
**BALNEÁRIO  
CAMBORIÚ**

**CONCURSO  
PÚBLICO**

Secretaria de  
Gestão Administrativa

EDITAL 006/2022



FUNDAÇÃO DE ESTUDOS E PESQUISAS SOCIOECONÔMICOS

Campus Universitário • UFSC  
88040-900 • Florianópolis • SC  
Fone/Fax: (48) 3953-1000  
<http://www.fepese.org.br>