



EDITAL DE CONCURSO PÚBLICO Nº 001/2022



T0774003N

**CÂMARA MUNICIPAL DE BAURU**  
**ESTADO DE SÃO PAULO**

# RECEPCIONISTA

NOME DO CANDIDATO

INSCRIÇÃO

Nível

**MÉDIO**

Turno

**TARDE**

## Sobre o material recebido pelo candidato

- ✓ Além deste Caderno de Questões, com **oitenta questões objetivas**, você receberá do fiscal de sala a Folha de Respostas.
- ✓ Confira seu nome, o número do seu documento e o número de sua inscrição em todos os documentos entregues pelo fiscal. Além disso, não se esqueça de conferir seu Caderno de Questões quanto a falhas de impressão e de numeração e se o cargo corresponde àquele para o qual você se inscreveu.
- ✓ O não cumprimento a qualquer uma das determinações constantes em Edital, no presente Caderno ou na Folha de Respostas incorrerá na eliminação do candidato.

## Sobre o material a ser devolvido pelo candidato

- ✓ O único documento válido para avaliação é a Folha de Respostas.
- ✓ Na Folha de Respostas, preencha o campo destinado à assinatura. As respostas das questões objetivas devem ser preenchidas da seguinte maneira: ●
- ✓ Na Folha de Respostas, só é permitido o uso de caneta esferográfica transparente de cor azul ou preta. Esse documento deve ser devolvido ao fiscal na saída, devidamente preenchido e assinado.

## Sobre a duração da prova e a permanência na sala

- ✓ O prazo de realização da prova é de 4 horas, incluindo a marcação da Folha de Respostas.
- ✓ Após 60 (sessenta) minutos do início da prova, o candidato estará liberado para utilizar o sanitário ou deixar definitivamente o local de aplicação, não podendo, no entanto, levar o Caderno de Questões e nenhum tipo de anotação de suas respostas.
- ✓ O candidato poderá levar consigo o Caderno de Questões somente se aguardar em sala até o término do prazo de realização da prova estabelecido em edital.
- ✓ Os três últimos candidatos só poderão retirar-se da sala juntos, após assinatura do Termo de Fechamento do Envelope de Retorno.

## Sobre a divulgação das provas e dos gabaritos

- ✓ As provas e os gabaritos preliminares estarão disponíveis no site do **Instituto AACP** no endereço eletrônico **www.institutoaocp.org.br**, conforme previsto em Edital.



Fraudar ou tentar fraudar  
Concursos Públicos é Crime!  
Previsto no art. 311 - A do  
Código Penal

**Matemática**

1

Quantos números inteiros satisfazem a inequação  $|2x - 1| < 5$  ?

- (A) 3
- (B) 4
- (C) 5
- (D) 6
- (E) 7

2

Quantos algarismos possui o número  $4^{38} \cdot 5^{70}$  ?

- (A) 70 algarismos.
- (B) 71 algarismos.
- (C) 72 algarismos.
- (D) 73 algarismos.
- (E) 74 algarismos.

3

Assinale a alternativa que apresenta o valor de  $x$  na equação:  $2x + x + \frac{x}{2} + \frac{x}{4} + \frac{x}{8} + \dots = 12$ .

- (A)  $\frac{8}{3}$
- (B) 3
- (C)  $\frac{11}{3}$
- (D) 2
- (E)  $\frac{9}{2}$

4

Ao simplificar a expressão  $\frac{\sqrt{3}-1}{\sqrt{3}+1} - \frac{\sqrt{3}+1}{\sqrt{3}-1}$ , obtém-se

- (A)  $2\sqrt{3}$ .
- (B)  $-2\sqrt{3}$ .
- (C) 4.
- (D) 2.
- (E)  $\sqrt{3}$ .

5

João, servidor da Câmara, possui um sítio que usa para descanso aos fins de semana. Ele pretende construir um galinheiro no sítio. Para isso, deseja utilizar um rolo com 200 metros de tela que ele já possui. Se a forma que João escolheu é a retangular e ele usará a tela em todos os lados do retângulo, qual é a área máxima que o galinheiro pode ter?

- (A) 1.600 m<sup>2</sup>
- (B) 2.000 m<sup>2</sup>
- (C) 2.400 m<sup>2</sup>
- (D) 2.500 m<sup>2</sup>
- (E) 2.700 m<sup>2</sup>

6

Dado  $f(x) = 3x - 4$  e  $g(x) = 9 - x^2$ , qual é o valor de  $f(g(3)) - g(f(3))$  ?

- (A) - 20
- (B) - 16
- (C) - 12
- (D) 12
- (E) 16

7

Bruno, responsável pela copa da Câmara Municipal, ao servir um capuccino, disse ao vereador que a altura  $h$  em cm em função do tempo  $t$ , em segundos, da camada de creme que vinha logo acima da xícara era modelada por  $h(t) = 12 \cdot (0,5)^{\frac{t}{6}}$ . Depois de quantos segundos essa camada de creme atingirá 3 cm?

- (A) 3 segundos.
- (B) 6 segundos.
- (C) 9 segundos.
- (D) 12 segundos.
- (E) 18 segundos.

8

Nos juros compostos, uma taxa de 5% ao mês equivale a, aproximadamente, x por cento ao trimestre. Qual das alternativas a seguir mais se aproxima de x?

- (A) 14,75%
- (B) 15%
- (C) 15,76%
- (D) 16%
- (E) 16,25%

9

A soma das idades de dois servidores da câmara é 63 anos. Sabendo que a razão entre as idades é  $\frac{2}{7}$ , qual é a diferença entre as idades desses dois servidores?

- (A) 25 anos.
- (B) 30 anos.
- (C) 49 anos.
- (D) 42 anos.
- (E) 35 anos.

10

Uma pessoa caminhou 4.500m entre a Câmara Municipal e a Prefeitura de uma cidade em exatamente 45 minutos. Qual foi a sua velocidade em quilômetros por hora?

- (A) 4 Km/h.
- (B) 6 Km/h.
- (C) 8 Km/h.
- (D) 4,5 Km/h.
- (E) 3 Km/h.

## Língua Portuguesa

### Texto 1

#### Gato por lebre

Imagine que você está no supermercado ou na farmácia, na seção que vende leite em pó. Ao avaliar as marcas disponíveis, vê que, em algumas latas, o rótulo destaca que o produto é fonte de cálcio, ferro e zinco, além de conter um “mix” de vitaminas. Parece uma boa opção para crianças, certo? No entanto, se comprar esse produto pensando que é leite, você estará levando gato por lebre. Embora a embalagem seja muito semelhante à do leite em pó, esse produto é, na verdade, um composto lácteo – mistura de leite (51% no mínimo, de acordo com a legislação - Instrução Normativa 28/2007, Ministério da Agricultura, Pecuária e Abastecimento) e de ingredientes diversos, como soro de leite, óleos vegetais, açúcar e substâncias químicas para dar sabor, aroma, aumentar a durabilidade etc., chamadas de aditivos alimentares.

Mais grave é o risco de confusão com fórmulas infantis e fórmulas de seguimento, alimentos artificiais substitutos do leite materno, indicados para recém-nascidos de até 6 meses e para bebês entre 6 meses e 1 ano de idade, respectivamente. “Embora não exista produto industrializado que se equipare aos benefícios e à proteção à saúde da mãe e do bebê proporcionados pelo aleitamento materno, as fórmulas infantis e de seguimento são desenvolvidas para suprir as necessidades nutricionais do bebê quando a amamentação não é possível”, explica Rosana de Divitiis, ex-presidente e atual conselheira da Rede Internacional em Defesa do Direito de Amamentar (IBFAN, na sigla em inglês) no Brasil.

O composto lácteo, ao contrário, não deve ser oferecido para crianças com menos de 1 ano. Porém, a IBFAN detectou problemas na oferta desses produtos, que podem levar o consumidor a erro em relação à sua composição e para quem ele é indicado.

Em 2017, a organização fez novamente seu monitoramento anual do cumprimento da legislação que visa a proteger o direito à amamentação no Brasil, a chamada NBCal, composta por resoluções, portarias e pela Lei Federal no 11.265/2006, regulamentada pelo Decreto no 8.552/2015. A norma reúne regras sobre rotulagem, comercialização e publicidade de uma série de produtos que podem atrapalhar o aleitamento materno, desde alimentos (leites artificiais, outros produtos lácteos e papinhas, por exemplo) a acessórios como chupetas, mamadeiras e bicos.

Adaptado de: <https://idec.org.br/materia/gato-por-lebre-0>. Acesso em: 13 fev. 2022.

## Texto 2

### Superalimentos: o que são e como podem melhorar sua saúde

Cada vez mais as pessoas tem se preocupado em ter uma alimentação saudável. A busca por saúde e bem-estar está diretamente conectada com o que comemos. Todos os alimentos possuem propriedades específicas e atuam de formas diferentes no organismo. Mas existem aqueles que trazem diversos benefícios que ajudam o organismo das mais diferentes formas, os chamados superalimentos.

O termo superalimento é empregado para designar os ingredientes que são ricos em nutrientes, sendo muito benéficos ao organismo. Com grande concentração de vitaminas, proteínas, antioxidantes, fibras e outros, esses alimentos são verdadeiras fontes de saúde. Para se ter êxito com as vantagens que eles oferecem, é importante incluí-los em um plano alimentar equilibrado.

Adaptado de: <https://blog.tudogostoso.com.br/estilo-de-vida/alimentacao-saudavel/superalimentos/>. Acesso em: 13 fev. 2022.

11

**Sem prejuízo para o sentido original e a correção gramatical do Texto 1, o trecho “Embora a embalagem seja muito semelhante à do leite em pó [...]”, poderia ser reescrito da seguinte forma**

- (A) “Visto que a embalagem é muito parecida à do leite em pó”.
- (B) “Desde que a embalagem seja muito equivalente à do leite em pó”.
- (C) “Conforme a embalagem seja análoga à do leite em pó”.
- (D) “Conquanto a embalagem seja muito parecida à do leite em pó”.
- (E) “Todavia a embalagem pareça muito discrepante à do leite em pó”.

12

**Assinale a alternativa que analisa corretamente o emprego do termo “se” no trecho “No entanto, se comprar esse produto pensando que é leite [...]”, do Texto 1.**

- (A) O termo indetermina o sujeito.
- (B) O termo introduz uma oração que funciona como sujeito.
- (C) O termo expressa igualdade entre o sujeito e o objeto da ação.
- (D) O termo dá início a uma ação em que o verbo está na voz passiva.
- (E) O termo inicia uma oração subordinada adverbial que denota incerteza.

13

**A partir da leitura do Texto 1, é INCORRETO inferir que o “composto lácteo”**

- (A) não se compara ao leite materno.
- (B) é produzido para suprir as necessidades nutricionais ausentes no leite.
- (C) pode levar o consumidor ao erro de comprá-lo como leite.
- (D) não é um produto indicado para todas as crianças.
- (E) é um produto cujo principal ingrediente é o leite.

14

**A expressão “gato por lebre”, empregada no Texto 1, apresenta**

- (A) teor positivo, prevê justiça.
- (B) teor negativo, denota enganação.
- (C) teor de descaso, versa sobre ousadia.
- (D) teor de desalento, evidencia frieza.
- (E) teor de animosidade, determina ressentimento.

15

**Assinale a alternativa em que o emprego da crase é facultativo na ocorrência do termo “a”.**

- (A) “[...] levar o consumidor a erro [...]”.
- (B) “[...] em relação à sua composição [...]”.
- (C) “[...] o direito à amamentação no Brasil [...]”.
- (D) “[...] cumprimento da legislação que visa a proteger [...]”.
- (E) “[...] a IBFAN detectou problemas na oferta desses produtos [...]”.

16

**Assinale a alternativa que classifica corretamente o recurso empregado no trecho “(51% no mínimo, de acordo com a legislação - Instrução Normativa 28/2007, Ministério da Agricultura, Pecuária e Abastecimento)”, do Texto 1.**

- (A) Trata-se de intertextualidade explícita, com teor explicativo.
- (B) Trata-se de intertextualidade implícita, com teor crítico.
- (C) Trata-se de discurso direto em primeira pessoa, apenas.
- (D) Trata-se de discurso direto em terceira pessoa, apenas.
- (E) Trata-se tanto de discurso direto em terceira pessoa quanto de intertextualidade implícita, com teor irônico.

17

**No trecho “[...] a organização fez novamente seu monitoramento anual do cumprimento da legislação que visa a proteger o direito à amamentação no Brasil [...]”, do Texto 1, o “que” empregado exerce a função sintática de**

- (A) sujeito.
- (B) objeto direto.
- (C) objeto indireto.
- (D) complemento nominal.
- (E) agente da passiva.

18

**Assinale a alternativa que analisa corretamente o emprego da vírgula no trecho “O composto lácteo, ao contrário, não deve ser oferecido para crianças com menos de 1 ano.”, do Texto 1.**

- (A) A vírgula se justifica pelo emprego de locução adverbial deslocada.
- (B) A vírgula se justifica pelo emprego de adjunto adnominal longo deslocado.
- (C) A vírgula se justifica pelo emprego de oração subordinada adjetiva restritiva antecipada.
- (D) A vírgula não se justifica, pois separa sujeito e predicado.
- (E) A vírgula não se justifica, pois desloca o objeto direto antes da posição de sujeito.

19

**Em todos os excertos apresentados a seguir, há o emprego de elipse como recurso coesivo de retomada, EXCETO em**

- (A) “[...] as fórmulas infantis e de seguimento são desenvolvidas para suprir as necessidades nutricionais do bebê [...]”.
- (B) “[...] a IBFAN detectou problemas na oferta desses produtos [...]”.
- (C) “Ao avaliar as marcas disponíveis, vê que, em algumas latas [...]”.
- (D) “[...] alimentos artificiais substitutos do leite materno, indicados para recém-nascidos [...]”.
- (E) “[...] substâncias químicas para dar sabor, aroma, aumentar a durabilidade etc., chamadas de aditivos alimentares.”.

**20**

**Assinale a alternativa que justifica corretamente a formação do plural dos compostos “leite em pó”, “soro de leite” e “aleitamento materno”, empregados no Texto 1.**

- (A) A formação do plural dos três compostos obedece à mesma regra gramatical.
- (B) Apenas “leite em pó” forma o plural com variação do primeiro elemento da sua composição.
- (C) Apenas “aleitamento materno” forma plural com variação de ambos os elementos da sua composição.
- (D) Apenas “soro de leite” forma o plural com variação do último elemento da sua composição.
- (E) Tanto “leite em pó” quanto “soro de leite” formam o plural com variação dos últimos elementos das suas composições.

**21**

**Os processos de formação das palavras “recém-nascidos”, “ex-presidente” e “supermercado”, empregadas no Texto 1, são respectivamente:**

- (A) sufixação, prefixação, sufixação.
- (B) sufixação, justaposição, aglutinação.
- (C) aglutinação, sufixação, prefixação.
- (D) aglutinação, sufixação, sufixação.
- (E) justaposição, prefixação, prefixação.

**22**

**Assinale a alternativa em que o número de fonemas e de letras não coincidam em cada uma das palavras.**

- (A) Valor nutricional.
- (B) Aditivo alimentar.
- (C) Produto químico.
- (D) Fórmula infantil.
- (E) Embalagem semelhante.

**23**

**Assinale a alternativa em que todos os vocábulos apresentam o mesmo padrão de encontro vocálico presente em “vegetais”.**

- (A) Leite, aumentar.
- (B) Disponíveis, crianças.
- (C) Ingredientes, farmácia.
- (D) Aumentar, seguimento.
- (E) Internacional, atual.

**24**

**Assinale o tempo e o modo verbal empregados em “Embora não exista produto industrializado [...]”, no Texto 1.**

- (A) Presente do indicativo.
- (B) Presente do subjuntivo.
- (C) Pretérito perfeito do indicativo.
- (D) Pretérito imperfeito do subjuntivo.
- (E) Imperativo negativo.

**25**

**Considerando os Textos 1 e 2, assinale a alternativa correta.**

- (A) Os Textos 1 e 2 apresentam estrutura semelhante: explicitam a tese, desenvolvem argumentos em defesa do ponto de vista, concluem o texto apresentando solução para o problema.
- (B) Os Textos 1 e 2 objetivam alertar seus interlocutores sobre as recentes mudanças na indústria de alimentos.
- (C) A linguagem conotativa, expressa apenas no título do Texto 2, é um recurso que enfatiza o teor argumentativo do texto.
- (D) Os Textos 1 e 2 abordam os efeitos nocivos do consumo de alimentos industrializados e naturais.
- (E) Os Textos 1 e 2 são gêneros textuais construídos com mais de um tipo textual, como o expositivo e o argumentativo.

26

**Assinale a alternativa correta sobre o emprego de hífen no termo “bem-estar”, do Texto 2.**

- (A) O emprego está adequado, pois se trata de termo derivado.
- (B) O emprego está adequado, pois se trata de termo composto, representado por duas formas adjetivas.
- (C) O emprego está adequado, pois se trata de termo composto sem elemento de ligação e iniciado por “bem”.
- (D) O emprego está inadequado, pois não se emprega hífen em locução adverbial.
- (E) O emprego está inadequado, pois só se emprega hífen em termo derivado iniciado com “h” ou “r”.

27

**Assinale a alternativa correta sobre a colocação do pronome oblíquo átono, em relação ao verbo, no trecho “[...] é importante incluí-los em um plano alimentar equilibrado.”, do Texto 2.**

- (A) Como o pronome oblíquo átono apresenta função de objeto indireto, sua posição correta seria a de próclise em relação ao verbo.
- (B) Como o pronome oblíquo átono apresenta função de objeto direto e não há palavra atrativa antes do verbo, está correta a sua posição de ênclise em relação ao verbo.
- (C) Como o tempo verbal é o infinitivo, o pronome oblíquo átono deveria estar em posição de mesóclise em relação ao verbo.
- (D) Como há inversão da oração subordinada, a posição correta do pronome oblíquo átono é a de ênclise em relação ao verbo.
- (E) Como há presença de palavra atrativa antes do verbo, a posição correta do pronome oblíquo átono seria a de próclise.

28

**Sobre o advérbio “diretamente”, empregado no trecho “A busca por saúde e bem-estar está diretamente conectada [...]”, do Texto 2, é correto afirmar que**

- (A) é um elemento variável morfologicamente.
- (B) expressa circunstância de tempo.
- (C) modifica o termo “conectada”.
- (D) modifica o termo “busca”.
- (E) modifica o termo “está”.

29

**Sobre a palavra “alimentos”, empregada no Texto 2, é correto afirmar que**

- (A) não é acentuada, porque a sílaba tônica recai sobre um hiato.
- (B) não recebe acentuação, porque é oxítone terminada em “s”.
- (C) é palavra paroxítone, porque a tonicidade recai sobre a penúltima sílaba.
- (D) é palavra proparoxítone, porque tem quatro sílabas.
- (E) é palavra oxítone, porque a tonicidade recai sobre a última sílaba.

30

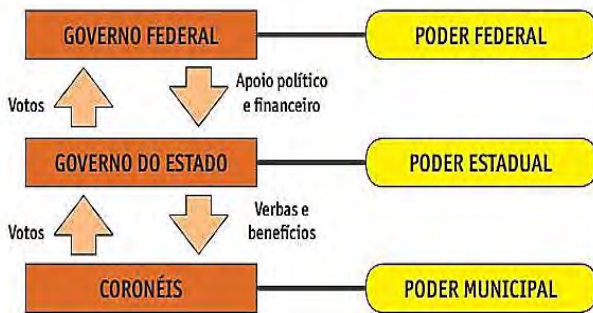
**Assinale a alternativa que apresenta o excerto, do Texto 2, em que há duas inadequações: uma de concordância e outra de acentuação.**

- (A) “[...] atuam de formas diferentes no organismo.”.
- (B) “Todos os alimentos possuem propriedades específicas [...]”.
- (C) “A busca por saúde e bem-estar está diretamente conectada com o que comemos.”.
- (D) “Cada vez mais as pessoas tem se preocupado em ter uma alimentação saudável.”.
- (E) “O termo superalimento é empregado para designar os ingredientes que são ricos em nutrientes [...]”.

## História e Geografia do Brasil

31

Observe a imagem:



Fonte: ALFREDO, Boulos Júnior. História sociedade e cidadania, 3ª ano. 2016.

Essa imagem representa

- (A) a influência positiva e honesta do coronelismo nas eleições.
- (B) o poder das oligarquias estaduais na primeira república.
- (C) a influência do poder do estado frente ao governo federal e aos coronéis.
- (D) o poder do governo federal frente ao poder estadual e municipal.
- (E) os poderes equiparados entre as instâncias federal, estadual e os coronéis.

32

O regime de Concessão de Estado no Brasil Colonial ficou conhecido como

- (A) uma forma de negociação referente ao destino do lucro obtido através da renda da terra pela Coroa e, nesse contexto, cabia à Coroa financiar o reino.
- (B) um tratado para dividir o território brasileiro em partes iguais para a colônia portuguesa e a colônia inglesa.
- (C) um regime de ordem econômica que delimitava a tipologia de produtos de outros países que poderiam entrar no Brasil.
- (D) uma tentativa de se implantar uma estrutura administrativa com capitais privados em uma região onde não havia estruturas econômicas capazes de prover recursos fiscais.
- (E) uma tomada de decisão para organizar e estipular o tipo de trabalho/função que cada habitante da colônia deveria cumprir.

33

A exclusão política da população mais pobre dos primeiros tempos da República, somada à fraude eleitoral e à penúria a qual essa população se encontrava, acabou por ocasionar diversas rebeliões sociais. Assinale a alternativa que NÃO apresenta um conflito ocorrido na Primeira República.

- (A) Guerra de Canudos.
- (B) Revolta da Vacina.
- (C) Guerra do Contestado.
- (D) Revolta da Chibata.
- (E) Guerra dos Emboabas.

34

Qual economia de exportação se destacou no período imperial do Brasil?

- (A) Laranja.
- (B) Amêndoa.
- (C) Café.
- (D) Leite.
- (E) Feijão.

35

Dentre os três tipos principais de unidades geomorfológicas do Brasil, estão

- (A) as Montanhas.
- (B) a Chapada.
- (C) os Inselberg.
- (D) as Depressões.
- (E) as Orlas Sedimentares Ocidentais.



36

Após a Segunda Guerra Mundial, a produção brasileira de manufaturados (estes antes importados) constituiu a lógica do modelo de substituição de importações, sendo viabilizada pelo Estado com

- (A) a abertura do livre comércio em que as empresas multinacionais e estatais produziram em prol do abastecimento interno.
- (B) a imposição de elevadas tarifas de importação para diversos bens de consumo e a implantação de empresas estatais nos setores de infraestrutura.
- (C) a redução das taxas cobradas dos produtos importados e o estímulo da entrada de multinacionais no país.
- (D) o forte estímulo ao liberalismo econômico, buscando a superação das dificuldades enfrentadas pelos empresários brasileiros.
- (E) o aumento dos preços dos produtos produzidos no Brasil e a proibição da entrada de produtos importados no Brasil.

37

Leia atentamente a frase a seguir:

“Em 1970, de cada três brasileiros, um estava trabalhando e dois não. Então uma pessoa tinha que sustentar três. Em 2010, já era uma pessoa sustentando uma só — 50% da população trabalhando”.

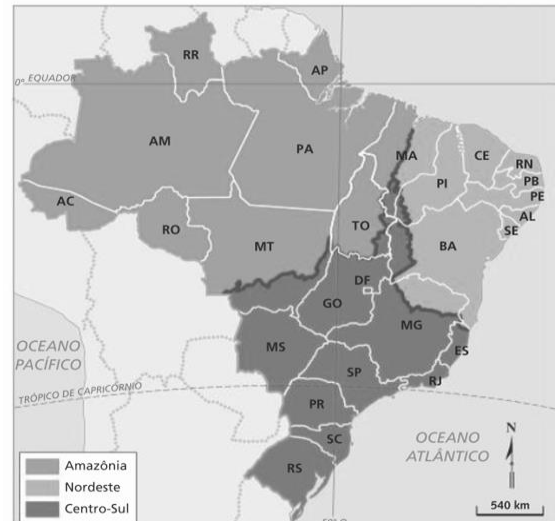
A frase retrata uma situação denominada

- (A) Implosão demográfica.
- (B) Explosão demográfica.
- (C) Contenção demográfica.
- (D) Bônus demográfico.
- (E) Estagnação populacional.

38

Observe os mapas a seguir:

Mapa 1: Brasil: regiões geoeconômicas.



Mapa: FERREIRA, Fernando José.

Fonte: IBGE. Atlas geográfico escolar. Rio de Janeiro: IBGE, 2002. p. 160.

Mapa 2: Brasil: Divisão regional proposta por Milton Santos.



Mapa: FERREIRA, Fernando José.

Fonte: SANTOS, Milton; SILVEIRA, Maria Laura. O Brasil: território e sociedade no início do século XXI.

O mapa 2 apresenta uma nova proposta de regionalização do Brasil. Essa nova proposta leva em consideração

- (A) a regionalização do Brasil a partir da consideração de critérios culturais e critérios físicos.
- (B) a constituição do espaço brasileiro no decorrer de sua história e o processo desigual de desenvolvimento científico e tecnológico entre as regiões.

- (C) a divisão do país em unidades geomorfológicas e unidades socioambientais.
- (D) o desenvolvimento de critérios políticos e socioeconômicos.
- (E) o desenvolvimento regional tecnológico e as características climáticas de cada região.

39

Preencha a lacuna e assinale a alternativa correta.

A bacia sedimentar Amazônica iniciou seu processo de sedimentação no Paleozoico e foi tomada posteriormente pela transgressão marinha. Durante o Mesozoico e o Cenozoico, sofreu a chamada \_\_\_\_\_ enquanto prosseguia o processo de acumulação de sedimentos. Atualmente, ela ocupa uma área de 1,2 milhão de quilômetros quadrados em território brasileiro. Os sedimentos mais recentes, datados do Quaternário, depositaram-se ao longo do vale do rio Amazonas, e os mais antigos, nas áreas mais distantes dos vales fluviais da bacia.

- (A) formação de depressão
- (B) endogenia
- (C) subducção
- (D) epirogênese positiva
- (E) paleogênese

40

Os efeitos da poluição atmosférica, sobretudo nos grandes centros urbanos, são recorrentes. Um desses efeitos pode ser sentido na alteração da temperatura. Diante do exposto, observe a imagem a seguir:



Fonte: MARIA, Ana. Vivendo Ciências. Disponível em: <https://www.vivendociencias.com.br/2015/05/inversao-termica.html>

A imagem reflete o fenômeno denominado

- (A) ilha de calor.
- (B) inversão térmica.
- (C) normatização térmica.
- (D) zona de abafamento.
- (E) zona de alteração térmica.

## Noções de Informática

41

Acerca dos conceitos e fundamentos básicos da informática, assinale a alternativa correta.

- (A) Quanto ao espaço de armazenamento, um arquivo de 5000MB é menor que um arquivo de 2GB.
- (B) A porta USB utiliza a tecnologia Plug and Play, ou seja, “ligar e usar”.
- (C) O teclado é classificado como um periférico de saída.
- (D) A memória CACHE é conhecida como software de prateleira.
- (E) As conexões do tipo HDMI se destacam por sua capacidade de transferência de dados, com áudio e vídeo simultâneos através da tecnologia captcha.

42

A versão mais recente do Microsoft Windows 10, além do tradicional Microsoft Paint – um software utilizado para a criação de desenhos simples e também para a edição de imagens – possui outra versão mais elaborada conhecida como

- (A) Paint Ultra.
- (B) Paint Professional.
- (C) Paint 3D.
- (D) Paint Alfa.
- (E) Paint PRO.

43

Acerca dos conceitos básicos sobre Hardware, é correto afirmar que

- (A) a memória ROM permite somente leitura.
- (B) toda memória secundária permite somente leitura.
- (C) toda memória primária permite somente leitura.
- (D) a memória SATA permite somente leitura.
- (E) a memória SSD permite somente leitura.

44

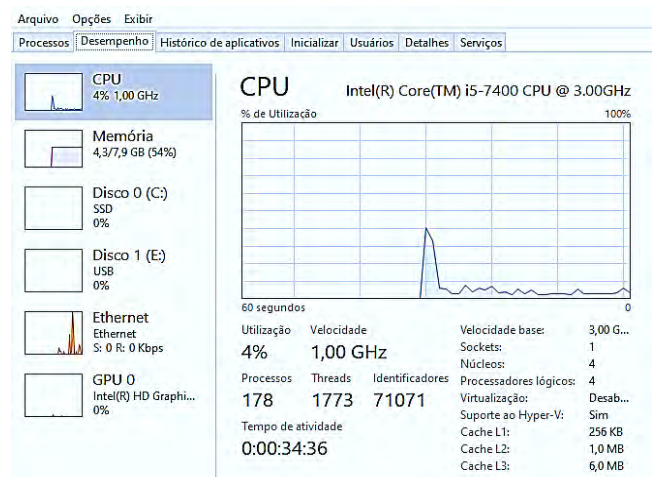
No Sistema Operacional Microsoft Windows 10, versão em português em sua instalação padrão, para fechar uma janela ativa, ou seja, a que está sendo utilizada, basta utilizar qual combinação de teclas?

Obs.: O caractere “+” foi utilizado apenas para interpretação da questão.

- (A) Ctrl + Q
- (B) Alt + F4
- (C) Ctrl + F1
- (D) Alt + F
- (E) Ctrl + H

45

No Sistema Operacional Microsoft Windows 10, versão em português do Brasil em sua instalação padrão, a imagem a seguir representa um recurso muito importante para o gerenciamento do computador, conhecido como



- (A) Help Desk.
- (B) Central de Ajuda.
- (C) Protect Monitor.
- (D) Gerenciador de Tarefas.
- (E) Gestor de Hardware.

46

Considerando o Microsoft Word 2010, versão em português em sua instalação padrão, assinale a alternativa correta.

- (A) Ao realizar um duplo clique com o botão esquerdo do mouse sobre uma palavra contida no texto do documento, essa respectiva palavra será selecionada.
- (B) Ao posicionar o cursor no início do texto do documento e pressionar a tecla Ctrl duas vezes consecutivas, todo o texto será selecionado.
- (C) Ao posicionar o cursor no início do texto do documento e pressionar a tecla Ctrl duas vezes consecutivas, apenas o primeiro parágrafo será selecionado.
- (D) Ao posicionar o cursor no final do texto do documento e pressionar a tecla Shift duas vezes consecutivas, todo o texto será selecionado.
- (E) A tecla F12 abre a opção de Ajuda do Word.

47

Considerando o Microsoft PowerPoint 2010, versão em português em sua instalação padrão, assinale a alternativa correta.

- (A) Para acionar o recurso de tradução do texto, basta utilizar a tecla F3.
- (B) Para encerrar uma apresentação de slides, basta utilizar a tecla F6.
- (C) Para inserir uma animação na apresentação, basta utilizar a tecla F8.
- (D) Para verificar a ortografia do texto, basta utilizar a tecla F7.
- (E) Para ajustes de Zoom na exibição da apresentação, basta utilizar a tecla F10.

48

Considerando o Microsoft Excel 2010, versão em português em sua instalação padrão, e as informações contidas na planilha ilustrada a seguir:

	A	B	C	D
1	6	2	3	
2	1	5	0	
3				

É correto afirmar que a seguinte fórmula:  $=SE(B2^2>A1^0;B1+C1*B2/A2;3^C1)$  produzirá como resultado

- (A) 0
- (B) 9
- (C) 17
- (D) 27
- (E) 33

49

No navegador Google Chrome, versão 99 em português do Brasil, a combinação de teclas Ctrl + L tem a função de

Obs.: O caractere “+” foi utilizado apenas para interpretação da questão.

- (A) copiar o conteúdo previamente selecionado da aba ativa.
- (B) enviar o conteúdo da aba ativa para impressão.
- (C) remover o endereço da aba ativa do histórico.
- (D) salvar o endereço ativo nos favoritos.
- (E) selecionar o endereço da aba ativa.

50

No navegador Mozilla Firefox, versão 98 em português, em sua instalação padrão, a funcionalidade apontada pela seta da imagem a seguir exerce a função de



- (A) gerenciar extensões e temas.
- (B) verificar Histórico.
- (C) verificar rastreadores no site.
- (D) iniciar navegação privada.
- (E) salvar no Pocket.

## Atualidades

51

A Globalização tornou o mundo mais conectado, possibilitando acesso a dados e informações em segundos. Com a *Internet*, o conhecimento ficou mais acessível, contudo, apesar da tecnologia digital ter o intuito de integrar pessoas, lugares e informações, ela também cria um mundo desigual que exclui muitas pessoas do acesso à tecnologia. Outra desvantagem da tecnologia digital é a disseminação das "*Fake News*" – termo usado para dar conotação a uma notícia falsa ou ainda incompleta/inexata acerca de um assunto – visto que com o avanço e a rapidez da *Internet*, associados à tecnologia, tais notícias se espalham rapidamente pelo mundo.

**Acerca da vinculação e das consequências das *Fake News*, assinale a alternativa correta.**

- (A) Os principais meios de vinculação das *Fake News* são blogs, redes sociais e sites, devido à facilidade de se noticiar algo. O principal tema utilizado são notícias criminais, com intuito de gerar medo na população e diminuir o índice de assassinatos.
- (B) A maioria dos usuários da *internet* realiza a compra de *softwares* que evidenciam e comprovam a veracidade das notícias, evitando, dessa forma, a propagação de *Fake News*.
- (C) Espalhar *Fake News* é crime legal que pode levar a 3 anos de reclusão ou prestação de serviços.
- (D) Apesar de não ser crime pelo Código Penal, o cidadão que espalhar *Fake News* pode ser responsabilizado por crime contra a honra. Diversos projetos de lei estão em votação para controlar esse tipo de ameaça à segurança das informações.
- (E) Compartilhar *Fake News* caracteriza crime no artigo penal brasileiro, além de ser ilegal o compartilhamento de notícias falsas, o que pode gerar transtornos em nível global acerca da desinformação.

52

**"As mudanças climáticas são transformações a longo prazo nos padrões de temperatura e clima.**

**Essas mudanças podem ser naturais, como por meio de variações no ciclo solar. Mas, desde 1800, as atividades humanas têm sido o principal impulsionador das mudanças climáticas, principalmente devido à queima de combustíveis fósseis como carvão, petróleo e gás."**

Disponível em: <https://brasil.un.org/pt-br/150491-o-que-sao-mudancas-climaticas>. Acesso em: 13 mar. 2022.

**Acerca do assunto e relacionando as mudanças climáticas com as ações antrópicas, assinale a alternativa correta.**

- (A) Atualmente não existe nenhuma agenda internacional de cuidados climáticos, apenas de desenvolvimento sustentável.
- (B) O homem é o agente causador das mudanças climáticas no mundo.
- (C) As grandes potências mundiais são as responsáveis pela emissão de gases do efeito estufa e produção excessiva de resíduos, por isso são as pioneiras nas ações de diminuição da temperatura e ajuda humanitária em áreas mais vulneráveis.
- (D) As mudanças no clima assustam o mundo todo, no entanto ainda são pouco estudadas.
- (E) A Eco-92 e a Rio +20 são agendas internacionais sobre sustentabilidade e responsabilidades climáticas com metas a serem cumpridas.

53

**"Nos 15 anos da Lei Maria da Penha, combate à violência ainda exige avanços**

**Lei Maria da Penha (Lei nº 11.340/2006) completa 15 anos. Criada para enfrentar atos de violência física, sexual, psicológica, patrimonial ou moral contra a mulher, a norma é considerada uma das três leis mais avançadas do mundo pelo Fundo de Desenvolvimento das Nações Unidas para a Mulher (Unifem). Apesar disso, o combate à violência ainda exige esforços por parte do Estado."**

**Sobre a lei Maria da Penha, analise as assertivas e assinale a alternativa que aponta a(s) correta(s).**

- I. Até antes da promulgação da lei, o crime de violência contra a mulher era considerado de menor potencial ofensivo. Foi só depois de 2006, após a sanção da Lei Maria da Penha, que a legislação passou a ser mais ostensiva.
- II. O nome da lei homenageia Maria da Penha Maia Fernandes, que sofreu tentativa de feminicídio e ficou paraplégica. O agressor era o próprio marido o qual, por quase duas décadas, respondeu em liberdade.
- III. Uma em cada quatro mulheres brasileiras acima de 16 anos relata ter sofrido alguma forma de violência durante a pandemia da Covid-19, comprovando ainda mais a necessidade de ações afirmativas dessa lei.

Disponível em:

<https://www12.senado.leg.br/noticias/materias/2021/08/06/nos-15-anos-da-lei-maria-da-penha-combate-a-violencia-ainda-exige-avancos> . Acesso em: 15 mar. 2022.

- (A) Apenas I e II.
- (B) Apenas II e III.
- (C) I, II e III.
- (D) Apenas II.
- (E) Apenas III.

54

O novo modelo de ensino é composto por um currículo básico e 5 itinerários formativos, o que inclui a possibilidade de uma formação técnica. Sobre a proposta do novo Ensino Médio, assinale a alternativa correta.

- (A) O novo Ensino Médio tem como objetivo tornar-se mais atrativo aos jovens, diminuir o abandono escolar nesse nível de ensino e profissionalizar o estudante.
- (B) O novo Ensino Médio deve ocorrer em 2022, assim que o número de alunos por turma for diminuído para, no máximo, 40 alunos por turma.
- (C) O novo Ensino Médio é uma medida tomada apenas por escolas particulares.
- (D) O novo Ensino Médio é uma medida tomada apenas por escolas públicas.
- (E) O novo Ensino Médio ainda está em análise e deve ser implementado apenas no final da pandemia de Covid -19.

55

“Verão termina sem óbitos por dengue, mas cuidados precisam ser mantidos”

ANO	CASOS	MORTES
2021	403	2
2020	700	0
2019	26.208	42
2018	241	0

Fonte: Secretaria de Saúde de Bauru

Em relação à dengue, assinale a alternativa correta.

- (A) A dengue é transmitida de uma pessoa para outra, assim como a Covid-19.
- (B) O vetor da dengue não tem relação com as condições climáticas.
- (C) A dengue tem maior ocorrência dependendo da sazonalidade.
- (D) O número de casos de dengue em Bauru tem aumentado continuamente desde o ano de 2018.
- (E) O município de Bauru não registra mortes em decorrência da dengue desde 2020.

56

Na verdade, a pandemia simplesmente acelerou uma tendência que já vinha despontando em diversos lugares do mundo. Se antes esse cenário era restrito principalmente às startups de tecnologia e aos produtores de conteúdo, agora outros setores apostam nesse modelo de negócio mais flexível.

Adaptado de: <https://www.htsolutions.com.br/home-office-para-sempre-invista-nas-solucoes-de-ti-certas/>. Acesso em: 31 mar. 2022.

O texto apresentado faz referência

- (A) à utilização de máscaras as quais sempre foram importantes, porém passaram a ser obrigatórias após a pandemia e, provavelmente, continuarão sendo necessárias.
- (B) ao trabalho remoto conhecido como *Home Office* o qual diminui custo de empresas e flexibiliza os horários dos funcionários.
- (C) à utilização de álcool em gel para tratamento da covid-19.
- (D) à sociedade do consumo e ao consumo digital.
- (E) ao crescente número de pessoas sem registro e ao crescente número da falta de acesso à cidadania.

57

Os Objetivos de Desenvolvimento Sustentável (ODS) referem-se

- (A) aos objetivos criados pelo governo brasileiro para diminuir a poluição e aumentar a economia local.
- (B) às metas criadas pela ONU para possibilitar um desenvolvimento sustentável até 2030.
- (C) às metas estabelecidas pela UNESCO para serem cumpridas com o objetivo de tornar as empresas sustentáveis até 2050.
- (D) aos objetivos discutidos entre os países do Mercosul para intensificar o comércio sustentável regional.
- (E) às metas criadas para o desenvolvimento sustentável no estado de São Paulo até 2030.

58

Em 2021, o IDH brasileiro voltou a cair e perder posição no ranking internacional. Essa situação demonstra a realidade local, uma vez que esse marcador leva em consideração principalmente 3 índices, que são:

- (A) saúde, educação e renda per capita.
- (B) saúde, nível de corrupção e distribuição da renda.
- (C) renda per capita, escolaridade e índice de desemprego.
- (D) índice de desemprego, educação e inflação.
- (E) saúde, inflação e renda per capita.

59

Segundo a UNICEF, 713 mil meninas vivem sem acesso a banheiro ou chuveiro em seu domicílio e mais de 4 milhões não têm acesso a itens mínimos de cuidados menstruais nas escolas.

Levando em consideração essa informação e o Projeto de Lei 4.968/2019, informe se é verdadeiro (V) ou falso (F) o que se afirma a seguir e assinale a alternativa com a sequência correta.

- ( ) No Brasil, o projeto mencionado instituiu o programa “menstruação digna”, que oferece absorventes para todas as pessoas que menstruam.
- ( ) Apesar do referido Projeto de Lei ter sido aprovado no senado, foi vetado na presidência.
- ( ) O referido Projeto de Lei foi criado para distribuir gratuitamente absorventes higiênicos para estudantes de baixa renda, mulheres internas no sistema prisional ou em situação de rua.

- (A) V – V – V.
- (B) F – F – F.
- (C) V – F – F.
- (D) F – V – V.
- (E) F – F – V.

60

Com o aumento no número de refugiados no mundo, coloca-se em evidência os estudos sobre migrações. O migrante, forçado ou intencional, passa a ser migrante em um local e emigrante em outro. Imigrar e Emigrar significam, respectivamente:

- (A) movimento de saída e movimento de entrada em outro território.
- (B) movimento de ir e vir de forma pendular diária para trabalhar e movimento de mudança duradoura.
- (C) movimento de entrada e movimento de saída de um território.
- (D) ambos têm o mesmo conceito.
- (E) ambos podem ser considerados como o movimento de se deslocar em períodos sazonais.

61

Um desastre ambiental é um acontecimento que provoca uma alteração negativa no meio ambiente, tal como as alterações geomorfológicas ou geológicas e o impacto direto ou indireto na vida das pessoas. Normalmente, as populações mais pobres são as mais atingidas, pois ocupam áreas de vulnerabilidade ambiental e/ou áreas sem planejamento urbano. Na maioria das vezes, a culpa é direcionada a algum elemento atmosférico, como chuva, vento ou seca. Diante do exposto, assinale a alternativa que apresenta apenas eventos que aconteceram e que foram ligados a esses elementos.

- (A) Rompimento da barragem em Brumadinho (MG) e a queima da Biblioteca Nacional do Rio de Janeiro (RJ).
- (B) Queda de bloco rochoso em Campinas (SP) e incêndios no Pantanal mato-grossense.
- (C) Queda de bloco rochoso em Capitólio (MG) e alagamento em Petrópolis (RJ).
- (D) Incêndios no Pantanal mato-grossense e enchentes no estado da Bahia.
- (E) Rompimento da barragem de Mariana (MG) e deslizamentos na região serrana do estado do Rio de Janeiro.



**62**

Os atentados terroristas aos EUA completaram 20 anos em 11 de setembro de 2021. Sobre esse acontecimento, analise as assertivas e assinale a alternativa que aponta a(s) correta(s).

- I. Teve como principal consequência a chamada “Guerra ao Terror”.
- II. Os ataques ocorreram simultaneamente nas Torres Gêmeas, no Pentágono e na Casa Branca.
- III. Quase três mil pessoas morreram durante os ataques, incluindo os 227 civis e os 19 sequestradores a bordo dos aviões.

- (A) Apenas I e II.  
(B) Apenas II e III.  
(C) Apenas I e III.  
(D) Apenas III.  
(E) Apenas II.

**63**

Em 28 de fevereiro de 2021, foi lançado o primeiro satélite totalmente desenvolvido pelo Brasil para monitoramento dos biomas brasileiros. Um dos principais objetivos é o de mapear a Amazônia a cada 5 dias. A missão foi nomeada

- (A) Marco Amazônico.  
(B) Map Biomas.  
(C) Brasil Map.  
(D) Amazônia 1.  
(E) Amazônia Zero.

**64**

Depois de 3 meses, somente em 25 de dezembro de 2021, foi declarado o fim da erupção vulcânica que destruiu cerca de 3 mil casas e dizimou muitas plantações de banana, um dos principais produtos da economia desse lugar. O vulcão em menção é

- (A) Cumbre Vieja, localizado na ilha de La Palma (Canárias).  
(B) Vesúvio, localizado no sul da Itália.  
(C) Mount Rainier, localizado em Washington.  
(D) Lassen Peak, localizado na Califórnia.  
(E) Sakurajima, localizado no Japão.

**65**

“A proposta atual mantém o monumento em seu local e elimina o quarteirão 13 da rua Vivaldo Guimarães, sendo que esse quarteirão irá se transformar em outra área verde que se agregará ao espaço verde. A ligação entre as duas avenidas, além de melhorar o tráfego urbano, facilitará a travessia de pedestres, devido à implantação de faixas e semáforos.”

Adaptado de: <https://www2.bauru.sp.gov.br/materia.aspx?n=39207>

O trecho refere-se a mudanças realizadas em qual local da cidade de Bauru-SP?

- (A) Parque do Lago.  
(B) Praça Portugal.  
(C) Praça das Cerejeiras.  
(D) Praça João Paulo II.  
(E) Jardim Botânico.

## Legislação

66

**Acerca das disposições contidas no Regimento Interno da Câmara Municipal de Bauru, assinale a alternativa correta.**

- (A) Qualquer pessoa pode assistir às sessões da Câmara, desde que não esteja com pendências fiscais municipais.
- (B) Compete privativamente ao vigia a manutenção da disciplina no recinto da Câmara.
- (C) Qualquer munícipe pode requerer, por escrito à Presidência, a utilização do Plenário para realização de ato parlamentar de interesse do município, com antecedência mínima de quinze dias da realização do ato.
- (D) É permitido àqueles que estiverem adequadamente trajados, garantidas as diferenças culturais, religiosas e as limitações econômicas, assistir às sessões da Câmara no local reservado ao público.
- (E) A Câmara poderá se reunir em local distinto de sua sede, por deliberação da Mesa, sem motivo relevante, desde que a maioria absoluta dos membros estejam de acordo.

67

**De acordo com o Regimento Interno da Câmara Municipal de Bauru, a segurança da Câmara NÃO será feita por**

- (A) entidade de segurança local que venceu licitação.
- (B) servidores integrantes do serviço próprio da Câmara.
- (C) qualquer entidade de segurança habilitada e contratada por licitação.
- (D) guarda municipal.
- (E) polícia legislativa.

68

**Assinale a alternativa que apresenta corretamente as atribuições do Presidente quanto às Sessões da Câmara de Bauru segundo seu Regimento Interno.**

- (A) Solicitar informações e colaboração técnica para estudo de matéria sujeita à apreciação da Câmara.
- (B) Assinar os respectivos Atos e decisões.
- (C) Anunciar, convocar, abrir, suspender e encerrar as sessões.
- (D) Nomear Comissões Especiais de Inquérito, ouvido o Plenário, e de Representação nos termos regimentais.
- (E) Distribuir a matéria que depender de parecer.

69

**A Lei Orgânica do Município de Bauru prevê, em relação ao Registro, que o município de Bauru terá os livros que forem necessários aos seus serviços e, obrigatoriamente, os de**

- (A) cópia de correspondência oficial.
- (B) registro de nascidos vivos.
- (C) uso letivo das escolas municipais.
- (D) faturamento de empresas privadas.
- (E) proclamas.

70

**Assinale a alternativa correta sobre os servidores municipais segundo a Lei Orgânica do Município de Bauru.**

- (A) Para investir em cargo municipal, é necessária aprovação em concurso público de provas ou de provas e títulos, sendo nulas as nomeações de cargo em comissão.
- (B) Os cargos hierarquicamente superiores ao de Diretor de Departamento serão obrigatoriamente ocupados por servidores do quadro de carreira do Município.
- (C) A Previdência Social será exercida pelo Regime Geral de Previdência Social – INSS.
- (D) O funcionário será aposentado compulsoriamente aos setenta anos de idade, com proventos proporcionais ao tempo de serviço.
- (E) O funcionário será aposentado aos trinta anos de serviço se for homem e aos vinte e cinco anos se for mulher, com proventos integrais ao tempo de serviço.

71

**À luz da Constituição Federal de 1988 e da Lei Orgânica do Município de Bauru, sobre os cargos de vigia e recepcionista da respectiva Câmara, assinale a alternativa correta.**

- (A) Fica estabelecido o regime jurídico celetista para ambos os servidores.
- (B) No caso do servidor vigia, é assegurado o recebimento de adicional por tempo de serviço, sempre concedido por anuênio.
- (C) Ambos os servidores têm direito de reunião com sua entidade de classe, no local de trabalho, desde que não prejudique suas atividades.
- (D) Vigias têm direito à estabilidade após um ano de efetivo exercício em razão da periculosidade.
- (E) Recepcionistas só serão estáveis após cinco anos de efetivo exercício.

72

**Com base no Regimento Interno da Câmara Municipal de Bauru, sobre as sessões solenes da Câmara Municipal de Bauru, preencha as lacunas e assinale a alternativa correta.**

**As sessões solenes ou \_\_\_\_\_ serão convocadas pelo \_\_\_\_\_ ou por deliberação do Plenário, com finalidade específica. As sessões solenes terão duração \_\_\_\_\_ podendo ser realizadas fora do recinto da Câmara, sendo \_\_\_\_\_ a exigência de verificação de presença.**

- (A) privadas / Presidente / determinada / necessária
- (B) comemorativas / Presidente / indeterminada / dispensada
- (C) privadas / Prefeito / indeterminada / necessária
- (D) comemorativas / Prefeito / determinada / necessária
- (E) comemorativas / Prefeito / indeterminada / dispensada

73

**Assinale a alternativa que demonstra corretamente o que pode ser aplicado em audiências obrigatórias ou voluntárias, conforme o regimento interno da Câmara de Bauru.**

- (A) Terão início e fim e duração máxima de quatro horas.
- (B) As audiências serão registradas pelo 1º e 2º Secretário em arquivo físico que é encaminhado para o almoxarifado.
- (C) Os Vereadores farão o uso da palavra por primeiro, expondo suas observações e/ou indagações aos expositores.
- (D) As audiências podem ter duração de duas horas, devendo ser finalizadas às 17h de segunda à sexta-feira.
- (E) Nos casos de pandemia, as audiências públicas obrigatórias convocadas pela Comissão Interpartidária ficarão suspensas.

74

**Com base no que prevê o Regimento Interno da Câmara de Bauru, assinale a alternativa correta sobre as licenças e outros afastamentos dos vereadores.**

- (A) As licenças serão concedidas pelo Prefeito.
- (B) A licença para tratamento de saúde poderá ser deferida se o pedido estiver instruído com atestado médico superior a quinze dias.
- (C) Para solicitar as licenças previstas no Regime Interno, o vereador deve encaminhar requerimento dirigido ao Gabinete do Prefeito.
- (D) O vereador poderá solicitar licença no caso de falecimento por parentesco natural e civil, exceto por afinidade.
- (E) Para fins de remuneração, não será considerado em exercício o vereador que pedir licença para fins de moléstia devidamente comprovada.

75

**A Lei Orgânica do Município de Bauru prevê que a saúde é direito de todos e dever do Poder Público, assegurada mediante políticas sociais e econômicas que visem à eliminação do risco de doenças e de outros agravos e ao acesso universal e igualitário às ações e aos serviços para sua promoção, proteção e recuperação. A esse respeito, assinale a alternativa correta.**

- (A) O Sistema Municipal de saúde é mantido exclusivamente com recursos arrecadados pela Prefeitura por meio da arrecadação de impostos.
- (B) O Sistema Municipal de Saúde está vinculado à Comissão de Vigilância Sanitária.
- (C) As ações de saúde são de relevância pública e privada.
- (D) É vedada a destinação de recursos públicos na área da saúde para as instituições privadas, ainda que filantrópicas.
- (E) As instituições privadas poderão participar, de forma complementar, do Sistema Municipal de Saúde, mediante convênio, tendo preferência as entidades filantrópicas e as sem fins lucrativos.

76

**De acordo com a Lei Orgânica do Município de Bauru, os projetos de lei**

- (A) não podem ser de iniciativa de Comissão Permanente.
- (B) serão de competência exclusiva dos Vereadores e do Prefeito, sendo defesa a apresentação por iniciativa popular.
- (C) que receberem parecer contrário, quanto ao mérito, de todas as Comissões, serão automaticamente rejeitados.
- (D) que forem aprovados na forma Regimental serão enviados ao Prefeito, pelo Presidente da Câmara no prazo de 10 dias úteis.
- (E) enviados pelo Prefeito devem versar sobre matéria de relevância municipal, sendo apreciados dentro de trinta dias a contar do recebimento.

77

**Em relação ao que dispõe a Lei Orgânica do Município de Bauru sobre os Bens Públicos, assinale a alternativa correta.**

- (A) Não constitui bem municipal os créditos a qualquer título, ainda que pertençam ao Município.
- (B) Pertencem ao patrimônio municipal as terras devolutas que se localizam dentro de seus limites.
- (C) A permissão, que poderá incidir sobre qualquer bem público, será feita por portaria.
- (D) O uso de bens municipais por terceiros só será deferido mediante concessão.
- (E) A concessão administrativa de bens públicos de uso comum não poderá ser outorgada para finalidade turística, mesmo com autorização legislativa.

78

**João e Joana foram aprovados há quatro anos no Concurso da Câmara Municipal de Bauru e, há três anos, foram empossados nos cargos de vigia e recepcionista, respectivamente. Com base nessas informações e sobre o que prevê a Lei Orgânica do Município de Bauru a respeito da aposentadoria dos servidores municipais, assinale a alternativa correta.**

- (A) Joana poderá se aposentar voluntariamente, com proventos integrais, quando completar a idade de 62 anos.
- (B) João poderá se aposentar voluntariamente, com proventos integrais, quando completar a idade de 65 anos.
- (C) Joana poderá se aposentar voluntariamente, com proventos proporcionais ao tempo de serviço, quando completar a idade de 55 anos.
- (D) João poderá ser aposentado voluntariamente, com proventos proporcionais ao tempo de serviço, aos sessenta e cinco anos de idade.
- (E) Ambos os funcionários serão aposentados por invalidez permanente, com proventos proporcionais ao tempo de contribuição, em caso de doença incurável.

**79**

**Conforme o previsto na Lei Orgânica do Município de Bauru, acerca da Educação, Cultura, Esportes, Lazer e Turismo, relacione as colunas e assinale a alternativa com a sequência correta.**

- 1. Educação.**
- 2. Esportes, lazer e turismo.**
- 3. Cultura.**

- ( ) Planejamento e gestão do conjunto das ações, garantida a participação de representantes da comunidade.**
- ( ) Criação e distribuição anual do calendário turístico do Município.**
- ( ) Tombamento.**
- ( ) Desenvolvimento do Município.**
- ( ) Desenvolvimento da pessoa humana, contribuindo para uma participação ativa na construção do bem comum.**

- (A) 3 – 2 – 3 – 1 – 1.**
- (B) 2 – 3 – 1 – 3 – 1.**
- (C) 3 – 1 – 3 – 2 – 1.**
- (D) 3 – 2 – 1 – 3 – 1.**
- (E) 2 – 3 – 3 – 1 – 1.**

**80**

**Com base no que dispõe a Lei Orgânica do Município de Bauru sobre a licença do Prefeito, assinale a alternativa correta.**

- (A) O Prefeito não poderá ausentar-se do Município, por mais de trinta dias, sob pena de extinção do mandato.**
- (B) O Prefeito pode se afastar do cargo, quando estiver em missão de representação do município e, quando do retorno, deve encaminhar, no prazo de quinze dias úteis, relatório de prestação de contas à Câmara Municipal.**
- (C) O Prefeito pode se licenciar quando sair a serviço ou em missão de representação do município, ocasião em que renunciará ao direito à verba de representação.**
- (D) O Prefeito não poderá ausentar-se do Município por mais de quinze dias, sob pena de extinção do mandato.**
- (E) O Prefeito não pode se afastar do cargo por mais de quarenta dias.**

