

MÉDICO ESF

NOME:

ASSINATURA:

TEMPO

- A prova terá duração de 3h (Três horas);
- O candidato somente poderá sair da sala de realização da prova após transcorrida 01h (uma) do seu início, sem levar o caderno de prova.

INFORMAÇÕES GERAIS

- Confira seus dados pessoais, especialmente nome, e número de inscrição e leia atentamente as instruções para preencher o Cartão de respostas;
- Assine seu nome apenas no(s) espaço(s) reservados;
- Confira seu cargo no Caderno de questões e Cartão de respostas;
- O preenchimento do Cartão de respostas é de sua responsabilidade. Não será efetuada troca em caso de rasura ou erro no preenchimento;
- Serão 20 questões objetivas de múltipla escolha sendo 10 questões de Conhecimentos gerais e de 10 questões de Conhecimentos específicos para cada cargo, subdivididas em 04 (quatro) alternativas de resposta, de “a” a “d”, e dessas alternativas somente 1 (uma) deverá ser assinalada como correta;
- Para realização da prova o candidato deverá trazer somente caneta esferográfica, com tinta azul ou preta;
- Não serão prestados quaisquer esclarecimentos sobre as questões das provas durante sua realização. O candidato poderá, se for o caso, interpor recurso no prazo definido pelo edital;
- O candidato não poderá ausentar-se da sala de prova, a qualquer tempo, portando material de prova (caderno de questões e/ou folha de respostas);
- O candidato que necessitar ausentar-se da sala de prova durante sua realização somente poderá fazê-lo se acompanhado de um fiscal;
- Para garantir a lisura e segurança na realização da prova a Coordenação Local poderá fazer uso de detectores de metal nos banheiros, nos corredores e/ou na sala de prova;
- Ao terminar a prova, o candidato entregará ao fiscal da sala o caderno de questões e a folha de respostas devidamente preenchido e assinado, com caneta esferográfica, com tinta azul ou preta;
- Os 03 (três) últimos candidatos de cada sala de prova somente poderão entregar o material de prova e se retirarem da sala simultaneamente. Exceto nos casos de cargos que não possuem no mínimo 03 candidatos.

Maracajá – SC, 09 de janeiro de 2022.

Rascunho do gabarito:

1	2	3	4	5	6	7	8	9	10	11	12	13	14	15	16	17	18	19	20

Conhecimentos Gerais

Questão 01

Na frase: "Em time QUE ganha não se mexe", a palavra em destaque, no contexto em que está sendo utilizada, é classificada gramaticalmente como:

- (A) Conjunção.
- (B) Pronome.
- (C) Advérbio.
- (D) Preposição.

Questão 02

"Nesta segunda-feira (13/12/2021), o presidente do Tribunal Superior Eleitoral (TSE), ministro Luís Roberto Barroso, apresentou o novo modelo da urna eletrônica que será utilizado pela primeira vez nas Eleições Gerais de 2022. A apresentação ocorreu direto da fábrica, localizada em Manaus (AM), que já começou a produzir os módulos que vão compor as novas máquinas."

Fonte: <https://www.tse.jus.br/imprensa/noticias-tse/2021/Dezembro/confira-as-principais-mudancas-do-novo-modelo-de-urna-eletronica-a-ser-utilizado-nas-eleicoes-2022>

As urnas eletrônicas são usadas há mais de 25 anos nas eleições brasileiras e, mesmo tendo sido questionada, até hoje nenhum problema que comprometesse sua segurança. Em qual país esta urna eletrônica foi criada?

- (A) Nos Estados Unidos da América.
- (B) Na China.
- (C) No Brasil.
- (D) No Canadá.

Questão 03

Os paroxítonos terminados em "-ão" e alguns poucos oxítonos e monossílabos formam o plural pelo simples acréscimo de "s". Alguns substantivos terminados em "-ão" formam o plural substituindo essa terminação por "-ães".

Em alguns casos, há mais do que uma forma aceitável para esses plurais, como é o caso de:

- (A) Refrão.
- (B) Tabelaão.
- (C) Cidadão.
- (D) Capelão.

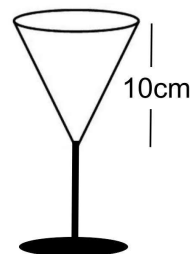
Questão 04

Com uma grande extensão territorial, o Brasil se torna diverso em fatores geográficos, como no clima que em quase todo o país impera o tropical, mas que possui variações, a exemplo da região sul onde predomina:

- (A) O clima semiárido.
- (B) O clima tropical de altitude.
- (C) O clima equatorial.
- (D) O clima subtropical.

Questão 05

Se a abertura circular da taça representada na figura abaixo possui 3 cm de raio, qual é o volume (V) de líquido que ela comporta? (faça $\pi = 3,14$)



- (A) $V = 220,3 \text{ cm}^3$
- (B) $V = 103,6 \text{ cm}^3$
- (C) $V = 94,2 \text{ cm}^3$
- (D) $V = 85 \text{ cm}^3$

Questão 06

Para que um projeto seja aprovado na Câmara Municipal de Lindeza, os votos favoráveis devem atingir 50% do número de vereadores, mais um vereador, a chamada "maioria absoluta". Se neste caso a maioria absoluta equivale a 52% do total de vereadores, quantos vereadores a cidade tem?

- (A) A cidade tem 13 vereadores.
- (B) A cidade tem 52 vereadores.
- (C) A cidade tem 25 vereadores.
- (D) A cidade tem 50 vereadores.

Questão 07

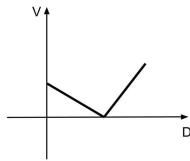
Considerando a concordância nominal, assinale a frase CORRETA:

- (A) Ela mesma confirmou a efetivação da inscrição.
- (B) Anexos, envio-lhes as últimas inscrições efetuadas.
- (C) Foi muito questionado pelo repórter a exibição da peça.
- (D) A professora ficou meia aflita com o resultado.

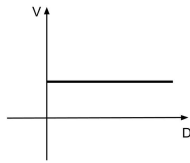
Questão 08

Uma experiência feita em condições apropriadas resultou em um corpo se movendo com a mesma velocidade do início ao fim do trajeto. Qual das alternativas abaixo traz o esboço do gráfico da função que pode representar esta experiência? (o eixo V representa a velocidade e o eixo D representa a distância percorrida)

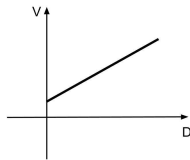
(A)



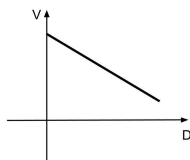
(B)



(C)



(D)



Questão 09

A Constituição Política catarinense tem o seguinte preâmbulo, "O povo catarinense, integrado à nação brasileira, sob a proteção de Deus e no exercício do poder constituinte, por seus representantes, livre e democraticamente eleitos, promulga esta Constituição do Estado de Santa Catarina."

O Estado exerce, com a União e os Municípios, várias competências, dentre as alternativas abaixo, marque (V) verdadeiro e (F) falso:

- Preservar as florestas, a fauna e a flora.
- Combater as causas da pobreza e os fatores de marginalização, promovendo a integração social dos setores favorecidos.
- Estabelecer e implantar política de educação para a segurança do trânsito.
- Impedir a evasão, a destruição e a descaracterização de obras de arte e de outros bens de valor histórico, artístico ou cultural.

Após análise, assinale a alternativa que apresenta a sequência CORRETA dos itens acima, de cima para baixo:

- (A) V, F, V, F.
- (B) F, V, V, V.
- (C) V, F, F, V.
- (D) V, F, V, V.

Questão 10

De acordo com a Constituição da República Federativa do Brasil de 1988, para concorrerem a outros cargos, o Presidente da República, os Governadores de Estado e do Distrito Federal e os Prefeitos, devem renunciar aos respectivos mandatos com até quantos meses antes do pleito?

Após análise, assinale a alternativa CORRETA:

- (A) Até cinco meses antes do pleito.
- (B) Até quatro meses antes do pleito.
- (C) Até seis meses antes do pleito.
- (D) Até três meses antes do pleito.

Conhecimento Específico

Questão 11

Fatores de risco para hipoglicemia incluem idade avançada, abuso de álcool, desnutrição, insuficiência renal, atraso ou omissão de refeições, exercício vigoroso, consumo excessivo de álcool e erro na administração de insulina ou de hipoglicemiante oral. (Ministério da Saúde, 2013)

São sintomas apresentados por um paciente com hipoglicemia, EXCETO:

- (A) Confusão mental.
- (B) Bradicardia.
- (C) Sudorese.
- (D) Fraqueza.

Questão 12

Insuficiência cardíaca (IC) é uma síndrome clínica complexa, na qual o coração é incapaz de bombear sangue de forma a atender às necessidades metabólicas tissulares, ou pode fazê-lo somente com elevadas pressões de enchimento. (Sociedade Brasileira de Cardiologia, 2018)

No exame físico do paciente com insuficiência cardíaca não é esperado o seguinte sintoma:

- (A) Hipotensão.
- (B) Congestão persistente.
- (C) Perfusão inadequada.
- (D) Bradicardia.

Questão 13

No Brasil, como em outros países, houve uma redução significativa das taxas de mortalidade por infecções do trato respiratório, apesar de inferior nas últimas décadas. Dentre as pneumonias, a pneumonia adquirida na comunidade (PAC) persiste como a de maior impacto e é a terceira causa de mortalidade no nosso meio. (Correa et al., 2018)

Em relação às vias de administração de antibióticos utilizáveis no tratamento da pneumonia adquirida na comunidade, o seguinte antibiótico pode ser administrado exclusivamente através da via intravenosa:

- (A) Meropenem.
- (B) Levofloxacino.
- (C) Azitromicina.
- (D) Clindamicina.

Questão 14

A população de crianças, gestantes, idosos, diabéticos, imunossuprimidos está entre as mais suscetíveis à Infecção do Trato Urinário (ITU). Essa infecção é o 15º diagnóstico mais comum nas consultas dos médicos de Família e Comunidade. (Ministério da Saúde, 2012)

Na apresentação clínica dos quadros de ITU de pacientes adolescentes são esperados as seguintes manifestações, EXCETO:

- (A) Urina fétida.
- (B) Disúria.
- (C) Desconforto abdominal.
- (D) Icterícia.

Questão 15

Higienizar as mãos é a estratégia mais simples e eficaz para evitar a transmissão de várias doenças.

Sobre a higienização das mãos, é INCORRETO afirmar que:

- (A) A higienização simples das mãos deve ter duração mínima de 30 segundos.
- (B) A fricção das mãos com preparação alcoólica contendo um agente umectante agride menos a pele do que a higiene com sabonete líquido e água.
- (C) A fricção das mãos com preparação alcoólica antisséptica deve ter duração de no mínimo 20 a 30 segundos.
- (D) As mãos devem ser higienizadas com preparação alcoólica antes do manuseio de medicação ou preparação de alimentos.

Questão 16

Todas as profissões estão submetidas ao controle da conduta moral de quem as exerce, em geral, sob a forma de códigos ético-profissionais. O Código de Ética Médica é estabelecido pela Resolução CFM nº 2.217, de 27 de setembro de 2018.

De acordo com o Código de Ética Médica, é CORRETO afirmar que:

- (A) O alvo de toda a atenção do médico é a doença do ser humano, em benefício da qual deverá agir com o máximo de zelo e o melhor de sua capacidade profissional.
- (B) É direito do médico requerer desagravo público ao Conselho Regional de Medicina quando atingido na sua vida pessoal.
- (C) O trabalho do médico pode ser explorado por terceiros com objetivos de lucro, finalidade política ou religiosa.
- (D) O médico terá, para com os colegas, respeito, consideração e solidariedade, eximindo-se de denunciar atos que contrariem os postulados éticos.

Questão 17

A febre de Katayama é caracterizada por alterações gerais que compreendem: linfodenopatia, febre, cefaleia, anorexia, dor abdominal e, com menor frequência, o paciente pode referir diarreia, náuseas, vômitos e tosse seca. (Ministério da Saúde, 2019)

A febre de Katayama pode ocorrer após 3 a 7 semanas de exposição ao parasita causador da seguinte verminose:

- (A) Ascaridíase.
- (B) Enterobíase.
- (C) Esquistossomose.
- (D) Strongiloidíase.

Questão 18

Analise as afirmativas abaixo sobre indicadores de mortalidade:

I.A Taxa de mortalidade em menores de cinco anos é influenciada pela composição da mortalidade no primeiro ano de vida (mortalidade infantil), amplificando o impacto das causas pós-neonatais, a que estão expostas também as crianças entre 1 e 4 anos de idade. Porém, taxas reduzidas podem estar encobrindo más condições de vida em segmentos sociais específicos.

II.A Taxa de mortalidade neonatal precoce é representada pelo número de óbitos de 7 a 27 dias de vida completos, por mil nascidos vivos, na população residente em determinado espaço geográfico, no ano considerado.

III.A mortalidade proporcional por causas mal definidas reflete a qualidade da informação que permite identificar a causa básica da morte na Declaração de Óbito. As dificuldades estão em geral associadas ao uso de expressões ou termos imprecisos.

Está (ão) CORRETA (S) a (s) afirmativa (s):

- (A) Apenas, I e III.
- (B) Apenas, III.
- (C) Apenas, I e II.
- (D) Apenas, II e III.

Questão 19

Na maioria das vezes, a Pancreatite é autolimitada ao pâncreas e com mínima repercussão sistêmica. Esta forma leve se caracteriza por apresentar boa evolução clínica e baixos índices de mortalidade. (Ferreira et al., 2015)

Analise as afirmativas abaixo sobre a Pancreatite:

(__) Nos casos de pancreatite biliar, a manifestação clínica mais comum é a dor abdominal. Geralmente essa ocorre em hipocôndrio esquerdo, podendo irradiar-se para o dorso; a dor costuma ser aguda e de instalação súbita.

(__) Entre os vários marcadores bioquímicos plasmáticos que foram desenvolvidos para a estratificação da gravidade da pancreatite aguda, a PCR continua a ser o mais útil.

(__) A Tomografia Computadorizada sem contraste (TC) é um importante método na avaliação da gravidade da pancreatite aguda. Idealmente deve ser realizado até o 3º dia de doença para uma maior sensibilidade.

Após análise, assinale a alternativa que apresenta a sequência CORRETA dos itens acima, de cima para baixo:

- (A) F, V, F.
- (B) F, F, V.
- (C) V, F, V.
- (D) F, V, V.

Questão 20

O tratamento da tuberculose sensível deve ser desenvolvido sob regime ambulatorial e realizado preferencialmente na atenção básica. (Ministério da Saúde, 2019)

Na fase de manutenção do esquema básico para tratamento da tuberculose em pacientes com 10 anos de idade ou mais são utilizados os seguintes fármacos:

- (A) Rifampicina (R) e isoniazida (H).
- (B) Rifampicina (R), isoniazida (H), pirazinamida (Z) e etambutol (E).
- (C) Pirazinamida (Z) e etambutol (E).
- (D) Isoniazida (H) e pirazinamida (Z).