

## PROFESSOR EDUCAÇÃO FÍSICA

**NOME:**

**ASSINATURA:**

### TEMPO

- A prova terá duração de 3h (Três horas);
- O candidato somente poderá sair da sala de realização da prova após transcorrida 01h (uma) do seu início, sem levar o caderno de prova.

### INFORMAÇÕES GERAIS

- Confira seus dados pessoais, especialmente nome, e número de inscrição e leia atentamente as instruções para preencher o Cartão de respostas;
- Assine seu nome apenas no(s) espaço(s) reservados;
- Confira seu cargo no Caderno de questões e Cartão de respostas;
- O preenchimento do Cartão de respostas é de sua responsabilidade. Não será efetuada troca em caso de rasura ou erro no preenchimento;
- Serão 20 questões objetivas de múltipla escolha sendo 10 questões de Conhecimentos gerais e de 10 questões de Conhecimentos específicos para cada cargo, subdivididas em 04 (quatro) alternativas de resposta, de “a” a “d”, e dessas alternativas somente 1 (uma) deverá ser assinalada como correta;
- Para realização da prova o candidato deverá trazer somente caneta esferográfica, com tinta azul ou preta;
- Não serão prestados quaisquer esclarecimentos sobre as questões das provas durante sua realização. O candidato poderá, se for o caso, interpor recurso no prazo definido pelo edital;
- O candidato não poderá ausentar-se da sala de prova, a qualquer tempo, portando material de prova (caderno de questões e/ou folha de respostas);
- O candidato que necessitar ausentar-se da sala de prova durante sua realização somente poderá fazê-lo se acompanhado de um fiscal;
- Para garantir a lisura e segurança na realização da prova a Coordenação Local poderá fazer uso de detectores de metal nos banheiros, nos corredores e/ou na sala de prova;
- Ao terminar a prova, o candidato entregará ao fiscal da sala o caderno de questões e a folha de respostas devidamente preenchido e assinado, com caneta esferográfica, com tinta azul ou preta;
- Os 03 (três) últimos candidatos de cada sala de prova somente poderão entregar o material de prova e se retirarem da sala simultaneamente. Exceto nos casos de cargos que não possuem no mínimo 03 candidatos.

Maracajá – SC, 09 de janeiro de 2022.

### Rascunho do gabarito:

1	2	3	4	5	6	7	8	9	10	11	12	13	14	15	16	17	18	19	20

## Conhecimentos Gerais

### Questão 01

"Nesta segunda-feira (13/12/2021), o presidente do Tribunal Superior Eleitoral (TSE), ministro Luís Roberto Barroso, apresentou o novo modelo da urna eletrônica que será utilizado pela primeira vez nas Eleições Gerais de 2022. A apresentação ocorreu direto da fábrica, localizada em Manaus (AM), que já começou a produzir os módulos que vão compor as novas máquinas."

Fonte: <https://www.tse.jus.br/imprensa/noticias-tse/2021/Dezembro/confira-as-principais-mudancas-do-novo-modelo-de-urna-eletronica-a-ser-utilizado-nas-eleicoes-2022>

As urnas eletrônicas são usadas há mais de 25 anos nas eleições brasileiras e, mesmo tendo sido questionada, até hoje nenhum problema que comprometesse sua segurança. Em qual país esta urna eletrônica foi criada?

- (A) No Canadá.
- (B) Na China.
- (C) Nos Estados Unidos da América.
- (D) No Brasil.

### Questão 02

Os paroxítonos terminados em "-ão" e alguns poucos oxítonos e monossílabos formam o plural pelo simples acréscimo de "s". Alguns substantivos terminados em "-ão" formam o plural substituindo essa terminação por "-ães".

Em alguns casos, há mais do que uma forma aceitável para esses plurais, como é o caso de:

- (A) Refrão.
- (B) Cidadão.
- (C) Tabelião.
- (D) Capelão.

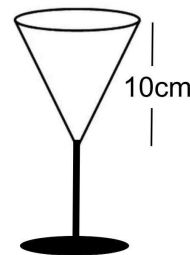
### Questão 03

Considerando a concordância nominal, assinale a frase CORRETA:

- (A) A professora ficou meia aflita com o resultado.
- (B) Anexos, envio-lhes as últimas inscrições efetuadas.
- (C) Ela mesma confirmou a efetivação da inscrição.
- (D) Foi muito questionado pelo repórter a exibição da peça.

### Questão 04

Se a abertura circular da taça representada na figura abaixo possui 3 cm de raio, qual é o volume (V) de líquido que ela comporta? (faça  $\pi = 3,14$ )

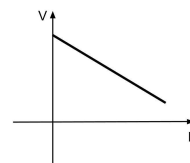


- (A)  $V = 103,6 \text{ cm}^3$
- (B)  $V = 94,2 \text{ cm}^3$
- (C)  $V = 220,3 \text{ cm}^3$
- (D)  $V = 85 \text{ cm}^3$

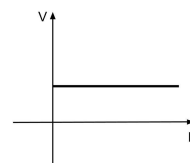
### Questão 05

Uma experiência feita em condições apropriadas resultou em um corpo se movendo com a mesma velocidade do início ao fim do trajeto. Qual das alternativas abaixo traz o esboço do gráfico da função que pode representar esta experiência? (o eixo V representa a velocidade e o eixo D representa a distância percorrida)

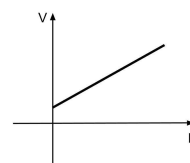
(A)



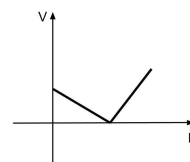
(B)



(C)



(D)



### Questão 06

Para que um projeto seja aprovado na Câmara Municipal de Lindeza, os votos favoráveis devem atingir 50% do número de vereadores, mais um vereador, a chamada "maioria absoluta". Se neste caso a maioria absoluta equivale a 52% do total de vereadores, quantos vereadores a cidade tem?

- (A) A cidade tem 25 vereadores.
- (B) A cidade tem 52 vereadores.
- (C) A cidade tem 50 vereadores.
- (D) A cidade tem 13 vereadores.

### Questão 07

Na frase: "Em time QUE ganha não se mexe", a palavra em destaque, no contexto em que está sendo utilizada, é classificada gramaticalmente como:

- (A) Pronome.
- (B) Preposição.
- (C) Conjunção.
- (D) Advérbio.

### Questão 08

Com uma grande extensão territorial, o Brasil se torna diverso em fatores geográficos, como no clima que em quase todo o país impera o tropical, mas que possui variações, a exemplo da região sul onde predomina:

- (A) O clima equatorial.
- (B) O clima tropical de altitude.
- (C) O clima semiárido.
- (D) O clima subtropical.

### Questão 09

Qual das alternativas abaixo cita uma incumbência que, segundo a Lei de Diretrizes e Bases da Educação Nacional - LDB, **NÃO** é atribuída aos docentes?

- (A) Zelar pela aprendizagem dos alunos.
- (B) Elaborar e cumprir plano de trabalho, segundo a proposta pedagógica do estabelecimento de ensino.
- (C) Administrar seu pessoal e seus recursos materiais e financeiros.
- (D) Colaborar com as atividades de articulação da escola com as famílias e a comunidade.

### Questão 10

Segundo o Estatuto da Criança e do Adolescente, a reiteração de faltas injustificadas e de evasão escolar no ensino fundamental, quando esgotados os recursos escolares, devem ser:

- (A) Denunciadas pelo professor aos órgãos superiores do Sistema de Ensino.
- (B) Comunicadas pelos líderes de turma à direção da escola.
- (C) Comunicadas ao Conselho Tutelar pelos dirigentes de estabelecimentos de ensino.
- (D) Comunicadas aos líderes comunitários para que tomem providência junto às famílias.

## Conhecimento Específico

---

### Questão 11

A luz das regras oficiais do Futebol de campo, o árbitro assistente de vídeo-AAV (VAR) é um árbitro de partida, que tem acesso independente às imagens gravadas do jogo, com poderes para auxiliar o árbitro central, na eventualidade de um "erro claro e óbvio" ou de um "incidente grave não percebido", relativo a, **EXCETO**:

- (A) Pênalti/não pênalti.
- (B) Erro de Identificação (quando o árbitro adverte com cartão amarelo CA ou expulsa - CV o jogador errado da equipe infratora).
- (C) Gol/não gol.
- (D) Cartão vermelho (no caso de segundo cartão amarelo).

### Questão 12

A professora Helena, de Educação Física, constatou após aplicação de uma avaliação diagnóstica que mais da metade dos alunos, no tocante ao processo de desenvolvimento motor, encontravam-se na fase com as seguintes características: "As crianças demonstraram possuir refinamento progressivo das habilidades fundamentais estabilizadoras, locomotoras e manipulativas, assim como conseguiam, em situações com maior exigência, combinar as habilidades para realização de atividades".

Os alunos que demonstraram as características supramencionada, estão na fase motora de movimentos:

- (A) Rudimentares.
- (B) Especializados.
- (C) Reflexiva.
- (D) Fundamentais.

### Questão 13

Para Piaget, no processo de maturação do cérebro, são produzidos os esquemas, definidos como moldes mentais em que colocamos nossas experiências. Analise os exemplos a seguir:

I. "[...] experimentamos coisas novas com a nossa atual capacidade de entendimento (esquemas). [...] tendo o esquema "gato", uma criança pode chamar todos os animais de quatro patas de gato. (Myers, 2006; Gross, 2005)."

II. "Uma criança utiliza um esquema verbal inicial para chamar a atenção (choro), mas ela vai introduzindo modificações nesse esquema, para que o adulto se aperceba que ela não quer dizer sempre a mesma coisa. (© 2003-2021 Porto Editora. Todos os direitos reservados)."

III. "[...] uma criança vê um cão e o chama de gato, mas alguém corrige. Assim, vai aprender que o esquema "gato" não se aplica aos cães e que precisa de um novo esquema (Myers, 2006; Gross, 2005; Rathus, 2007).

De acordo com a teoria de Piaget, o crescimento cognitivo da criança se dá por assimilação e acomodação. Os exemplos acima referem-se respectivamente a:

- (A) Acomodação, acomodação, assimilação.
- (B) Acomodação, assimilação, assimilação.
- (C) Assimilação, acomodação, acomodação.
- (D) Assimilação, acomodação, assimilação.

### Questão 14

O Handebol é um esporte de invasão, nessa modalidade o contato físico é permitido em alguns momentos do jogo. Ademais, ao contrário de outros esportes de invasão, a área do goleiro não pode ser usada por jogadores de linha. Sobre os fundamentos e regramento do Handebol de quadra, analise os itens a seguir e registre V, para verdadeiras, e F, para falsas:

(\_\_ ) O ato de segurar a bola utilizando a palma da mão e apertando as bola (fazendo pressão) com as pontas dos dedos é denominado empunhadura.

(\_\_ ) De 7 metros, de saída, de entrada, lateral, de meta e livre são exemplos de tiros que existem no Handebol.

(\_\_ ) No Manejo da bola é permitido lançar, agarrar, parar, empurrar ou golpear a bola usando as mãos (abertas ou fechadas), braços, cabeça, tronco, coxas e joelhos e segurar a bola durante, no máximo 3 segundos, também quando ela estiver em contato com o solo.

Após análise, assinale a alternativa que apresenta a sequência CORRETA dos itens acima, de cima para baixo:

- (A) F, V, F.
- (B) V, V, F.
- (C) V, F, V.
- (D) V, V, V.

### Questão 15

O Estatuto da Criança e do Adolescente versa no Artigo 53 - A criança e o adolescente têm direito à educação, visando ao pleno desenvolvimento de sua pessoa, preparo para o exercício da cidadania e qualificação para o trabalho, assegurando-se-lhes:

- (A) Direito de ser respeitado por seus educadores, sem contestar critérios avaliativos.
- (B) Direito de participação em entidades estudantis, sendo vedada a organização destas. (Redação dada pela Lei nº 13.845, de 2019).
- (C) Acesso à escola pública e gratuita, próxima de sua residência, garantindo-se vagas no mesmo estabelecimento a irmãos que frequentem a mesma etapa ou ciclo de ensino da educação básica.
- (D) Acesso à escola pública e privada gratuitas, próximas de sua residência.

### Questão 16

De acordo com as regras oficiais do Vôlei de quadra, a bola que cruzar o plano vertical da rede em direção à zona livre do adversário, passando total ou parcialmente por fora do espaço de cruzamento, pode ser recuperada, dentro do limite de toques da equipe, desde que:

- (A) A bola, quando retornada, cruze o plano vertical da rede, passando, novamente, total ou parcialmente por dentro do espaço de cruzamento, no mesmo lado da quadra. A equipe adversária não poderá impedir tal ação.
- (B) A bola, quando retornada, cruze o plano vertical da rede, passando, novamente, total ou parcialmente por dentro do espaço de cruzamento, no mesmo lado da quadra. A equipe adversária poderá impedir tal ação.
- (C) A bola, quando retornada, cruze o plano vertical da rede, passando, novamente, total ou parcialmente por fora do espaço de cruzamento, no mesmo lado da quadra. A equipe adversária poderá impedir tal ação.
- (D) O jogador não toque a quadra adversária.

### Questão 17

De acordo com as Diretrizes Curriculares Nacionais Gerais para a Educação Básica - Parecer CNE/CEB nº 07, de 07 de abril de 2010, a escola de qualidade social adota como centralidade o diálogo, a colaboração, os sujeitos e as aprendizagens. O documento apresenta requisitos para a escola de qualidade social, assinale a alternativa que contempla um dos requisitos citado.

- (A) Incompatibilidade entre a proposta curricular e a infraestrutura entendida como espaço formativo dotado de efetiva disponibilidade de tempos para a sua utilização e acessibilidade.
- (B) Realização de parceria com órgãos, tais como os de assistência social, desenvolvimento e direitos humanos, cidadania, ciência e tecnologia, esporte, turismo, cultura e arte, saúde, meio ambiente.
- (C) Integração dos profissionais da educação, os estudantes, as famílias, exceto os agentes da comunidade interessados na educação.
- (D) Revisão das referências conceituais quanto aos diferentes espaços e tempos educativos, abrangendo apenas espaços sociais na escola.

### Questão 18

Os Jogos Cooperativos são realizados em grupos e tem como característica despertar a consciência de cooperação e promover efetivamente a ajuda entre os alunos. Dessa forma o Jogo Cooperativo:

- (A) Faz com que o aluno colabore com os outros alunos despertando a empatia.
- (B) Promove a valorização individual, em detrimento do trabalho coletivo.
- (C) Promove a valorização do trabalho coletivo, e deve ser executado sempre de forma competitiva.
- (D) Faz com que o aluno colabore com o outro de maneira competitiva.

### Questão 19

O professor de Educação Física, em sua atuação se depara com várias técnicas e instrumentos de medida e avaliação, cabe ao professor, de acordo com o público que irá atender, selecionar o que melhor se adapta para alcançar os objetivos propostos aos alunos. Sobre os principais objetivos da avaliação na Educação Física Escolar, analise os itens a seguir:

I. Determinar o progresso: quando utilizada como forma de reavaliação, é possível comparar índices e níveis obtidos entre avaliações realizadas em períodos diferentes, o que possibilita a identificação de melhoras ou informações para readequar os conteúdos e objetivos.

II. Classificar os alunos: dividir os avaliados em grupos, pois a avaliação permite que sejam identificadas características em comum entre os participantes, assim sendo o professor consegue dividir a turma e selecionar os mais aptos para a modalidade esportiva a ser trabalhada.

III. Motivar: o avaliado deve ser motivado a melhorar sua condição com base nas informações obtidas sobre o seu estado atual.

É CORRETO o que se afirma em:

- (A) I e II, apenas.
- (B) I, apenas.
- (C) I, III, apenas.
- (D) II, apenas.

### Questão 20

As Diretrizes Curriculares Nacionais Gerais para a Educação Básica - Resolução CNE/CEB nº 4, de 13 de julho de 2010, versa:

"Artigo 6º - Na Educação Básica, é necessário considerar as dimensões do \_\_\_\_\_ e do \_\_\_\_\_, em sua inseparabilidade, buscando recuperar, para a função social desse nível da educação, a sua centralidade, que é o educando, pessoa em formação na sua essência humana".

Assinale a alternativa que preenche **corretamente** as lacunas:

- (A) docente, pedagógico
- (B) discente, docente
- (C) pedagógico, educando
- (D) educar, cuidar