

PROFESSOR LÍNGUA ESTRANGEIRA INGLÊS

NOME:

ASSINATURA:

TEMPO

- A prova terá duração de 3h (Três horas);
- O candidato somente poderá sair da sala de realização da prova após transcorrida 01h (uma) do seu início, sem levar o caderno de prova.

INFORMAÇÕES GERAIS

- Confira seus dados pessoais, especialmente nome, e número de inscrição e leia atentamente as instruções para preencher o Cartão de respostas;
- Assine seu nome apenas no(s) espaço(s) reservados;
- Confira seu cargo no Caderno de questões e Cartão de respostas;
- O preenchimento do Cartão de respostas é de sua responsabilidade. Não será efetuada troca em caso de rasura ou erro no preenchimento;
- Serão 20 questões objetivas de múltipla escolha sendo 10 questões de Conhecimentos gerais e de 10 questões de Conhecimentos específicos para cada cargo, subdivididas em 04 (quatro) alternativas de resposta, de “a” a “d”, e dessas alternativas somente 1 (uma) deverá ser assinalada como correta;
- Para realização da prova o candidato deverá trazer somente caneta esferográfica, com tinta azul ou preta;
- Não serão prestados quaisquer esclarecimentos sobre as questões das provas durante sua realização. O candidato poderá, se for o caso, interpor recurso no prazo definido pelo edital;
- O candidato não poderá ausentar-se da sala de prova, a qualquer tempo, portando material de prova (caderno de questões e/ou folha de respostas);
- O candidato que necessitar ausentar-se da sala de prova durante sua realização somente poderá fazê-lo se acompanhado de um fiscal;
- Para garantir a lisura e segurança na realização da prova a Coordenação Local poderá fazer uso de detectores de metal nos banheiros, nos corredores e/ou na sala de prova;
- Ao terminar a prova, o candidato entregará ao fiscal da sala o caderno de questões e a folha de respostas devidamente preenchido e assinado, com caneta esferográfica, com tinta azul ou preta;
- Os 03 (três) últimos candidatos de cada sala de prova somente poderão entregar o material de prova e se retirarem da sala simultaneamente. Exceto nos casos de cargos que não possuem no mínimo 03 candidatos.

Maracajá – SC, 09 de janeiro de 2022.

Rascunho do gabarito:

| 1 | 2 | 3 | 4 | 5 | 6 | 7 | 8 | 9 | 10 | 11 | 12 | 13 | 14 | 15 | 16 | 17 | 18 | 19 | 20 |
|---|---|---|---|---|---|---|---|---|----|----|----|----|----|----|----|----|----|----|----|
| | | | | | | | | | | | | | | | | | | | |

Conhecimentos Gerais

Questão 01

"Nesta segunda-feira (13/12/2021), o presidente do Tribunal Superior Eleitoral (TSE), ministro Luís Roberto Barroso, apresentou o novo modelo da urna eletrônica que será utilizado pela primeira vez nas Eleições Gerais de 2022. A apresentação ocorreu direto da fábrica, localizada em Manaus (AM), que já começou a produzir os módulos que vão compor as novas máquinas."

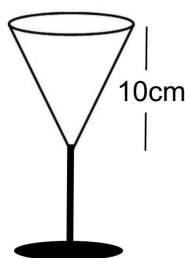
Fonte: <https://www.tse.jus.br/imprensa/noticias-tse/2021/Dezembro/confira-as-principais-mudancas-do-novo-modelo-de-urna-eletronica-a-ser-utilizado-nas-eleicoes-2022>

As urnas eletrônicas são usadas há mais de 25 anos nas eleições brasileiras e, mesmo tendo sido questionada, até hoje nenhum problema que comprometesse sua segurança. Em qual país esta urna eletrônica foi criada?

- (A) No Canadá.
- (B) No Brasil.
- (C) Na China.
- (D) Nos Estados Unidos da América.

Questão 02

Se a abertura circular da taça representada na figura abaixo possui 3 cm de raio, qual é o volume (V) de líquido que ela comporta? (faça $\pi = 3,14$)



- (A) $V = 85 \text{ cm}^3$
- (B) $V = 220,3 \text{ cm}^3$
- (C) $V = 103,6 \text{ cm}^3$
- (D) $V = 94,2 \text{ cm}^3$

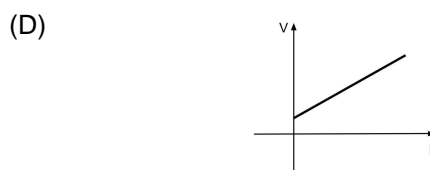
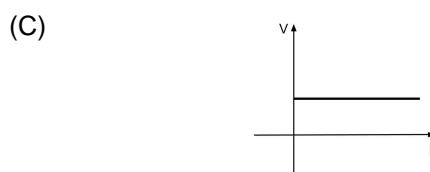
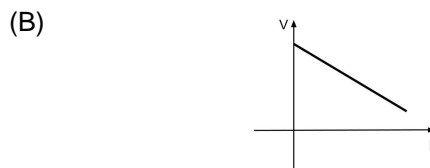
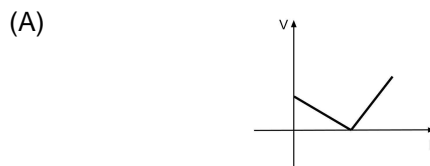
Questão 03

Na frase: "Em time QUE ganha não se mexe", a palavra em destaque, no contexto em que está sendo utilizada, é classificada gramaticalmente como:

- (A) Preposição.
- (B) Conjunção.
- (C) Advérbio.
- (D) Pronome.

Questão 04

Uma experiência feita em condições apropriadas resultou em um corpo se movendo com a mesma velocidade do início ao fim do trajeto. Qual das alternativas abaixo traz o esboço do gráfico da função que pode representar esta experiência? (o eixo V representa a velocidade e o eixo D representa a distância percorrida)



Questão 05

Os paroxítonos terminados em "-ão" e alguns poucos oxítonos e monossílabos formam o plural pelo simples acréscimo de "s". Alguns substantivos terminados em "-ão" formam o plural substituindo essa terminação por "-ães".

Em alguns casos, há mais do que uma forma aceitável para esses plurais, como é o caso de:

- (A) Refrão.
- (B) Tabelião.
- (C) Cidadão.
- (D) Capelão.

Questão 06

Para que um projeto seja aprovado na Câmara Municipal de Lindeza, os votos favoráveis devem atingir 50% do número de vereadores, mais um vereador, a chamada "maioria absoluta". Se neste caso a maioria absoluta equivale a 52% do total de vereadores, quantos vereadores a cidade tem?

- (A) A cidade tem 13 vereadores.
- (B) A cidade tem 52 vereadores.
- (C) A cidade tem 25 vereadores.
- (D) A cidade tem 50 vereadores.

Questão 07

Com uma grande extensão territorial, o Brasil se torna diverso em fatores geográficos, como no clima que em quase todo o país impera o tropical, mas que possui variações, a exemplo da região sul onde predomina:

- (A) O clima equatorial.
- (B) O clima tropical de altitude.
- (C) O clima semiárido.
- (D) O clima subtropical.

Questão 08

Considerando a concordância nominal, assinale a frase CORRETA:

- (A) A professora ficou meia aflita com o resultado.
- (B) Foi muito questionado pelo repórter a exibição da peça.
- (C) Ela mesma confirmou a efetivação da inscrição.
- (D) Anexos, envio-lhes as últimas inscrições efetuadas.

Questão 09

Qual das alternativas abaixo cita uma incumbência que, segundo a Lei de Diretrizes e Bases da Educação Nacional - LDB, **NÃO** é atribuída aos docentes?

- (A) Zelar pela aprendizagem dos alunos.
- (B) Elaborar e cumprir plano de trabalho, segundo a proposta pedagógica do estabelecimento de ensino.
- (C) Administrar seu pessoal e seus recursos materiais e financeiros.
- (D) Colaborar com as atividades de articulação da escola com as famílias e a comunidade.

Questão 10

Segundo o Estatuto da Criança e do Adolescente, a reiteração de faltas injustificadas e de evasão escolar no ensino fundamental, quando esgotados os recursos escolares, devem ser:

- (A) Comunicadas ao Conselho Tutelar pelos dirigentes de estabelecimentos de ensino.
- (B) Comunicadas pelos líderes de turma à direção da escola.
- (C) Denunciadas pelo professor aos órgãos superiores do Sistema de Ensino.
- (D) Comunicadas aos líderes comunitários para que tomem providência junto às famílias.

Conhecimento Específico

O texto seguinte servirá de base para responder às questões de 11 a 13.

(1º§) Ann Fortune FitzRoy, the Duchess of Grafton, passed away aged 101. Her death is another blow for the Queen and comes less than a year since Her Majesty's husband Prince Philip, who she called her "strength and guide" died aged 99 in April and her grandson Prince Harry and Meghan Markle left for the US. Fortune served the Royal Household for the monarch's entire 69-year reign and made her Majesty the godmother to her second daughter, Lady Virginia FitzRoy, in 1954.

(2º§) The Duchess was appointed the Dame Grand Cross of the Royal Victorian Order in 1980 - an award made personally by the Queen for services to the sovereign. Few people have had such long-standing and close relations with the Queen. She was one of only two Mistress of the Robes during the Queen's reign - formerly a role wielding responsibility for the monarch's clothes and jewellery.

(3º§) Now mostly a honorary title, the Mistress of the Robes also has a more invisible role of being a source of friendship and advice for the Queen. The Duchess was known for executing her duties faultlessly and never spoke about her responsibilities with the Royal Family in depth.

(4º§) She attended all of the most important royal events, such as state visits and the State Opening of Parliament while also being in charge of the rota of ladies-in-waiting. She accompanied the Queen during her trip to Nigeria in 1956 and trips to Paris in 1972 and Russia in 1994. In 1980, during a visit to Morocco, the Duchess was ordered to leave then-ruler King Hassan's compound despite having been invited to stay.

(5º§) Born in 1920 as Anne Fortune Smith, she married the 11th Duke of Grafton Hugh FitzRoy in 1946 and they had five children before his death in April 2011. Fortune took on the title of Duchess of Grafton after the death of his father. The duchess joined the Royal Household on the year of Queen Elizabeth's Coronation in 1953 as Lady of the Bedchamber for the Queen. She became Commander of the Royal Victorian Order in the New Year's Honours list 1965 and was one of her Majesty's closest friends.

Adapted - <https://www.thesun.co.uk/fabulous/16949721/queens-confidante-duchess-grafton-dies-101/>

Questão 11

Which one could be better for the title of the text?

- (A) The strange relationship between Duchess of Grafton and the Queen.
- (B) Queen in mourning for Duchess of Grafton.
- (C) The voyages of Duchess of Grafton.
- (D) Doubtful friendship.

Questão 12

According to the text, it is incorrect to state that:

- (A) Ann Fortune FitzRoy and the Queen met in Morocco.
- (B) Few people have close and lasting relationships with the queen.
- (C) Ann Fortune FitzRoy had the title of Duchess.
- (D) The Queen is the godmother of Lady Virginia FitzRoy.

Questão 13

"She attended all of the most important royal events [...] (4º§) could be translated as:

- (A) "Ela compareceu a quase todos os eventos reais importantes [...]"
- (B) "Ela atendeu a todos os eventos reais mais importantes [...]"
- (C) "Ela compareceu a todos os eventos reais mais importantes [...]"
- (D) "Ela atendeu a quase todos os eventos reais mais importantes [...]"

Questão 14

Acerca do Fundo de Manutenção e Desenvolvimento da Educação Básica e de Valorização dos Profissionais da Educação (FUNDEB), assinale a alternativa INCORRETA.

- (A) O FUNDEB é um fundo de natureza contábil.
- (B) O FUNDEB se destina a manutenção e ao desenvolvimento da educação básica pública e à valorização dos profissionais da educação.
- (C) A Lei nº 14.113/2020 deixa claro que parte dos recursos do FUNDEB devem ser destinados também a rede privada de ensino (pessoas jurídicas de direito privado com ou sem fins lucrativos).
- (D) Para efeito da distribuição dos recursos do FUNDEB, será admitida a dupla matrícula dos estudantes: I- da educação regular da rede pública que recebem atendimento educacional especializado; II - da educação profissional técnica de nível médio articulada e do itinerário de formação técnica e profissional do ensino médio.

Questão 15

Acerca do ensino de Língua Inglesa no Brasil, julgue as frases abaixo:

I.O ensino bilíngue nas escolas públicas já é uma realidade e está previsto na Base Nacional Comum Curricular (BNCC).

II.Um dos recursos mais utilizados para o ensino de Língua Inglesa nas escolas é a música.

III.O ensino de Língua Inglesa é obrigatório a partir do 7º ano do Ensino Fundamental.

Está (ão) CORRETA (S) a (s) seguinte (s) proposição (ões):

- (A) Apenas, III.
- (B) Apenas, II.
- (C) Apenas, II e III.
- (D) Apenas, I e II.

Questão 16

Julgue as sentenças abaixo como VERDADEIRAS ou FALSAS:

- 1.()O estudo da Língua Inglesa é importante somente porque é muito exigida no mercado de trabalho.
- 2.()A globalização é um fenômeno que coopera para a necessidade do aprendizado da Língua Inglesa na Educação Básica.
- 3.()O aumento da comunicação pela internet exige ainda mais conhecimentos da Língua Inglesa.

Após análise, assinale a alternativa que apresenta a sequência CORRETA dos itens acima, de cima para baixo:

- (A) 1.V, 2.V, 3.V.
- (B) 1.F, 2.F, 3.V.
- (C) 1.F, 2.V, 3.V.
- (D) 1.F, 2.V, 3.F.

Questão 17

Relacione a coluna 1 com a coluna 2:

Coluna 1 - Teorias da Aprendizagem

- (1) Construtivista.
- (2) Behaviorista.
- (3) Cognitivista.

Coluna 2 - Explicação

(__) A aprendizagem é pautada em estímulos, com enfoque no comportamento observável.

(__) A aprendizagem se dá por meio de processos de descobrimentos autônomos.

(__) Aulas expositivas com foco na transmissão de conteúdo.

Após análise, assinale a alternativa que apresenta a sequência CORRETA.

- (A) 3, 1, 2.
- (B) 2, 1, 3.
- (C) 2, 3, 1.
- (D) 1, 2, 3.

Questão 18

Considere a seguinte situação:

O professor de Língua Inglesa, em conjunto com a professora de História, pedem para os seus alunos da turma da 1º série do Ensino Médio assistirem ao filme *Cruzada* (2005) em Língua Inglesa com legenda também em Língua Inglesa. Ao final, os estudantes deverão responder a um questionário elaborado em inglês, mas com questões referentes ao conteúdo de História.

A atividade acima pode ser considerada:

- (A) Interdisciplinar.
- (B) Tridisciplinar.
- (C) Transversal.
- (D) Unidisciplinar.

Questão 19

O Estatuto da Criança e o Adolescente (Lei nº 8.069/1990), no Art.18, aponta que a criança e o adolescente têm o direito de ser educados e cuidados sem o uso de castigo físico ou de tratamento cruel ou degradante, como formas de correção, disciplina, educação ou qualquer outro pretexto, pelos pais, pelos integrantes da família ampliada, pelos responsáveis, pelos agentes públicos executores de medidas socioeducativas ou por qualquer pessoa encarregada de cuidar deles, tratá-los, educá-los ou protegê-los.

Para os fins desta Lei, considera-se tratamento cruel ou degradante, EXCETO:

- (A) Humilhação.
- (B) Ridicularização.
- (C) Lesão.
- (D) Ameaça grave.

Questão 20

Segundo a Lei de Diretrizes e Bases da Educação Nacional (LDB - Lei 9.394/1996), são profissionais de educação, EXCETO:

- (A) Professores habilitados em nível fundamental, médio ou superior para a docência na educação infantil e nos ensinos fundamental e médio.
- (B) Trabalhadores em educação portadores de diploma de pedagogia, com habilitação em administração, planejamento, supervisão, inspeção e orientação educacional, bem como com títulos de mestrado ou doutorado nas mesmas áreas.
- (C) Profissionais graduados que tenham feito complementação pedagógica, conforme disposto pelo Conselho Nacional de Educação.
- (D) Trabalhadores em educação, portadores de diploma de curso técnico ou superior em área pedagógica ou afim.