

Prefeitura Municipal de Orlândia/SP

Concurso Público Nº 02/2022



Bombeiro Municipal

Manhã

Tipo 1 - BRANCA

Organizadora:



CARGO: BOMBEIRO MUNICIPAL**CONHECIMENTOS GERAIS****LÍNGUA PORTUGUESA**

A riqueza e o primoroso esmero do trajar, o porte altivo e senhoril, certo balanceio afetado e langoroso dos movimentos davam-lhe esse ar pretensioso, que acompanha toda moça bonita e rica, ainda mesmo quando está sozinha. Mas com todo esse luxo e donaire de grande senhora nem por isso sua grande beleza deixava de ficar algum tanto eclipsada em presença das formas puras e corretas, da nobre singeleza, e dos tão naturais e modestos ademanos da cantora. Todavia Malvina era linda, encantadora mesmo, e posto que vaidosa da sua formosura e alta posição, transluzia-lhe nos grandes e meigos olhos azuis toda a nativa bondade do seu coração.

Malvina aproximou-se de manso e sem ser pressentida para junto da cantora, colocando-se por detrás dela esperou que terminasse a última copla.

— Isaura!... disse ela pousando de leve a delicada mão-zinha sobre o ombro da cantora.

— Ah! é a senhora?! — respondeu Isaura voltando-se sobressaltada.

— Não sabia que estava aí me escutando.

— Pois que tem isso?... continua a cantar... tens a voz tão bonita!... mas eu antes quisera que cantasses outra coisa; porque é que você gosta tanto dessa cantiga tão triste, que você aprendeu não sei onde?...

— Gosto dela, porque acho-a bonita e porque... ah! não devo falar...

— Fala, Isaura. Já não te disse que nada me deves esconder, e nada recluir de mim?...

— Porque me faz lembrar da minha mãe, que eu não conheci, coitada!... Mas se a senhora não gosta dessa cantiga, não a cantarei mais.

— Não gosto que a cantes, não, Isaura. Hão de pensar que és maltratada, que és uma escrava infeliz, vítima de senhores bárbaros e cruéis. Entretanto passas aqui uma vida que faria inveja a muita gente livre. Gozas da estima dos teus senhores. Deram-te uma educação, como não tiveram muitas ricas e ilustres damas que eu conheço.

(A *Escrava Isaura*, de *Bernardo Guimarães*. Fragmento.)

Questão 01

Sabe-se que a leitura de literatura, especialmente no que tange à clássica, demanda por parte do leitor o processo de inferência de certos vocábulos por diversas razões, entre as quais é possível citar o rebuscamento do linguajar literário e o uso de termos que, devido às constantes variações linguísticas através do tempo, caíram em desuso. No entanto, a compreensão do texto não se prejudica, pois, através do contexto, é possível identificar o significado de expressões que se encaixam nestas circunstâncias. Portanto, através da leitura do trecho, é possível inferir que os termos “*ademanos*” e “*copla*” se referem, respectivamente, a

- A) riquezas e tarefa.
- B) trejeitos e cantiga.
- C) silhuetas e refeição.
- D) lábios e instrumento.

Questão 02

Ao descrever a beleza de Malvina como “*eclipsada*” quando na presença de Isaura, o autor sugere que a beleza

- A) de Malvina se ressalta.
- B) de Isaura ofusca a de Malvina.
- C) de Malvina ofusca a de Isaura.
- D) de Isaura e de Malvina são semelhantes.

Questão 03

No trecho [...] “*ah! não devo falar [...]*” (7º§), a classificação morfológica dos termos destacados corresponde, respectivamente, a

- A) preposição e artigo.
- B) interjeição e advérbio.
- C) conjunção e pronome.
- D) substantivo e adjetivo.

Questão 04

A partir da leitura do texto, é possível afirmar que:

- A) Malvina propõe-se como uma confidente de Isaura.
- B) Isaura sabe que Malvina não gosta da cantiga e canta para irritá-la.
- C) Malvina não gosta da canção porque a letra fala de como os senhores maltratam Isaura.
- D) A mãe de Isaura lhe ensinou a canção, e por isso Isaura se lembra da mãe quando a canta.

Questão 05

No trecho “[...] *mas eu antes quisera que cantasses outra coisa [...]*” (6º§), as formas verbais destacadas expressam, respectivamente,

- A) ação de continuidade e probabilidade.
- B) ação habitual e ordenamento (imperativo).
- C) ação consumada e possibilidade de escolha.
- D) ação passada anterior a outra e expressão de desejo.

Questão 06

Levando em consideração a norma culta da Língua Portuguesa, há ERRO de grafia em:

- A) A escrava nada tem a recluir de Malvina.
- B) Malvina e Isaura não tem segredos entre si.
- C) Isaura tem a voz linda como a de uma cantora.
- D) Cantar é uma das atividades favoritas de Isaura.

Questão 07

A palavra “*última*” citada no texto é acentuada pela mesma razão que:

- A) *Ái*.
- B) *Está*.
- C) *Cruéis*.
- D) *Bárbaros*.

Questão 08

No que tange à posição de sílabas tônicas, a única opção que contempla um par de termos de mesma classificação é:

- A) Isaura e cantora.
- B) vítima e posição.
- C) bondade e coração.
- D) maltratada e infeliz.

Questão 09

Levando em consideração que o sujeito é um dos termos essenciais da oração, assinale a alternativa que apresente, respectivamente, as corretas classificações dos sujeitos assinalados na frase *“Hão de pensar que és maltratada, [...]”* (10§).

- A) Simples e composto.
- B) Composto e simples.
- C) Desinencial e indeterminado.
- D) Indeterminado e desinencial.

Questão 10

Assinale a alternativa que apresenta uma proposta de reescrita que mantém a correção gramatical e o sentido original do trecho: [...] *“posto que vaidosa da sua formosura e alta posição, transluzia-lhe nos grandes e meigos olhos azuis toda a nativa bondade do seu coração.”* (1º§).

- A) [...] embora vaidosa da sua formosura e alta posição, transluzia-lhe nos grandes e meigos olhos azuis toda a nativa bondade do seu coração.
- B) [...] sempre que vaidosa da sua formosura e alta posição, transluzia-lhe nos grandes e meigos olhos azuis toda a nativa bondade do seu coração.
- C) [...] uma vez que vaidosa da sua formosura e alta posição, transluzia-lhe nos grandes e meigos olhos azuis toda a nativa bondade do seu coração.
- D) [...] à medida que vaidosa da sua formosura e alta posição, transluzia-lhe nos grandes e meigos olhos azuis toda a nativa bondade do seu coração.

RACIOCÍNIO LÓGICO MATEMÁTICO**Questão 11**

Um haras separou seus animais em grupos e os distribuiu em conjuntos conforme suas características. O conjunto dos cavalos, representado por C, contém todos os animais equinos machos da propriedade. Alguns dos animais já participaram de concursos de marcha e foram consagrados campeões; por isso também fazem parte de um outro conjunto, o conjunto dos estrelados, representado por E, que contém animais machos e fêmeas que já foram campeões em alguma categoria. Para identificar apenas os equinos machos que já foram campeões, o conjunto formado poderá ser representado por:

- A) $E - C$
- B) $C - E$
- C) $E \cup C$
- D) $C \cap E$

Questão 12

Marcos deseja comprar cadeiras na cidade vizinha para revender na sua loja. Se fosse comprar as cadeiras em sua cidade, cada uma delas teria um custo de R\$ 50,00 enquanto que na cidade vizinha ele consegue comprá-las a R\$ 35,00 cada, mas teria um custo adicional de R\$ 100,00 de frete para buscá-las. Qual deve ser a menor quantidade de cadeiras que Marcos precisa comprar para compensar a compra das cadeiras na cidade vizinha?

- A) 6 cadeiras.
- B) 7 cadeiras.
- C) 8 cadeiras.
- D) 9 cadeiras.

Questão 13

Gustavo e seus amigos foram a uma *pizzaria* e pediram duas *pizzas*: uma salgada e uma doce. A *pizza* salgada foi dividida igualmente em N pedaços e Gustavo comeu 3 desses pedaços. Já a *pizza* doce foi dividida igualmente em M pedaços e Gustavo comeu apenas 2 pedaços. Sabe-se que as *pizzas* têm o

mesmo tamanho e que Gustavo comeu o equivalente a $\frac{2}{5}$ de

uma *pizza* inteira, sendo 75% deste total referente à *pizza* salgada. Neste caso, pode-se afirmar que a *pizza* salgada foi dividida em:

- A) 10 pedaços.
- B) 12 pedaços.
- C) 15 pedaços.
- D) 20 pedaços.

Questão 14

Guilherme adora tomar café, mas sempre erra as proporções na hora de prepará-lo. Para facilitar o processo, resolveu anotar as quantidades que sua esposa usa para preparar o café da manhã. Ele anotou que, quando ela faz café para 4 pessoas, utiliza 600 ml de água e 4 colheres de pó de café. Certo dia Guilherme recebeu a visita de alguns amigos e quis preparar um café para eles. Como estavam em 10 pessoas, Guilherme decidiu usar 15 colheres de pó de café. Sendo assim, para continuar seguindo as mesmas proporções da sua anotação, Guilherme deverá usar qual quantidade de água?

- A) 2.050 ml.
- B) 2.150 ml.
- C) 2.250 ml.
- D) 2.500 ml.

Questão 15

Em um *show* de mágica, um ilusionista separou todas as 13 cartas de um mesmo naipe de um baralho para fazer um truque. Junto com essas 13 cartas, ele colocou uma única carta de um naipe diferente, escolhida por um espectador e embaralhou, misturando todas as cartas. Com as cartas viradas para baixo sem que o mágico consiga identificá-las, ele as separou em dois montantes iguais e pediu ao espectador para olhar as cartas dos dois montantes e revelar em qual deles está a carta com um naipe diferente. Após ser revelado o montante correto, o ilusionista retira, sem olhar, uma única carta desse montante e acertou a carta escolhida. Claramente o ilusionista usou um truque para descobrir a carta correta, pois a probabilidade não estava a seu favor, já que a chance de encontrar a carta selecionada no montante era de:

- A) $\frac{1}{6}$
- B) $\frac{1}{7}$
- C) $\frac{1}{13}$
- D) $\frac{1}{14}$

Questão 16

Um funcionário novato de uma grande empresa se deu conta que durante os 30 dias que esteve trabalhando em seu novo emprego ainda não havia recebido nenhum *e-mail* e relatou o problema para os funcionários da parte de TI da organização. Como resposta a seu questionamento foi informado que ele estava acessando o *e-mail* errado e, por isso, não identificava o recebimento de nenhum *e-mail*, uma vez que eles estavam indo para outro endereço eletrônico. Quando se deu conta do equívoco e abriu a caixa de *e-mails* correta, se deparou com um total de 600 *e-mails* não lidos. Esses *e-mails* chegavam sempre pela manhã e todos os dias na mesma quantidade. Imaginando que eles continuariam chegando com a mesma frequência e sempre nos mesmos horários, quantos *e-mails* o funcionário deverá responder por dia para que, ao final de 10 dias, o equivalente a 20% dos *e-mails* recebidos sejam respondidos?

- A) 14
B) 16
C) 20
D) 24

Questão 17

A densidade demográfica de uma cidade, também chamada de densidade populacional, é a razão entre seu total de habitantes e sua área territorial. Considere que essa densidade demográfica seja o único fator que deve ser analisado na hora de redistribuir os investimentos do governo estadual entre essas cidades, sendo a cidade de maior densidade demográfica a que receberá maior percentual de investimento:

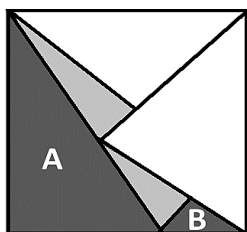
Cidade	Habitantes	Extensão territorial
A	90 mil	300 km ²
B	50 mil	120 km ²
C	140 mil	400 km ²
D	70 mil	200 km ²

Analisando os dados da tabela pode-se afirmar que a cidade que receberá maior investimento do governo estadual é a cidade

- A) A.
B) B.
C) C.
D) D.

Questão 18

Em uma galeria de arte foi exposto um quadro de arte abstrata, em formato quadrado de lado 40 cm. O quadro em questão contém 6 triângulos que, juntos, preenchem todo o quadro como peças de um quebra-cabeça:




Sabendo que a área do maior triângulo, representado pela letra A, é de 600 cm², conclui-se que o maior lado do menor triângulo, representado por B, mede:

- A) 5 cm.
B) 8 cm.
C) 10 cm.
D) 15 cm.

Questão 19

O *Captcha* – “*Completely Automated Public Turing test to tell Computers and Humans Apart*” ou “teste de Turing público completamente automatizado para distinguir entre computadores e pessoas” é um tipo de medida de segurança para garantir que quem esteja tentando se conectar a algum *site* seja um humano e não uma máquina. Como a imagem gerada apresenta certa distorção, muitas vezes é difícil identificarmos, na primeira tentativa, todas as letras da sequência. Considere um usuário que tenta acessar um determinado *site* se depara com o seguinte *Captcha*:

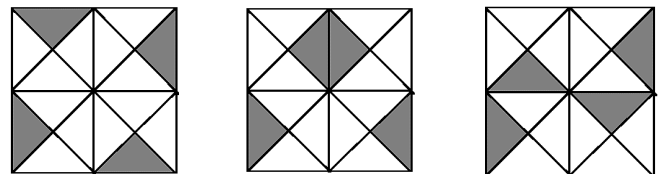


Sabe-se, com certeza, que a primeira e a última letra são, respectivamente, “H” e “E”. Porém, o usuário tem dúvidas quanto à segunda letra, que pode ser um “R”, um “T” ou um “Y”, e quanto à terceira letra que pode ser um “D” ou um “O”. Considerando que o usuário tem várias chances de acertar essa combinação utilizando as letras anteriormente citadas, a probabilidade de ele acertar a combinação logo na primeira tentativa está inserida em qual dos intervalos a seguir?

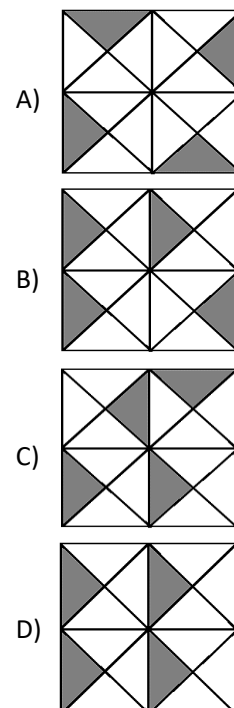
- A) 15% a 20%.
B) 21% a 25%.
C) 26% a 30%.
D) 31% a 35%.

Questão 20

Observe a sequência lógica:



Analisando a sequência e seu padrão de posições, é possível concluir que a próxima figura que mantém a lógica da sequência é:



CONHECIMENTOS GERAIS**Questão 21**

O Ministério do Desenvolvimento e Assistência Social, Família e Combate à Fome é um órgão da administração federal direta que foi recriado por meio do Decreto nº 11.339, de 1º de janeiro de 2023. Entre as suas competências estão o fortalecimento das políticas nacionais de desenvolvimento social, de segurança alimentar e nutricional, de assistência social, de renda de cidadania, e a articulação com os governos federal, estaduais, do Distrito Federal e municipais e a sociedade civil no estabelecimento de diretrizes para as políticas nacionais de desenvolvimento social, de segurança alimentar e nutricional, de renda de cidadania e de assistência social.

(Disponível em: www.gov.br. Acesso em: 03/2023.)

Em relação ao Programa Auxílio Brasil, disponibilizado pelo Ministério do Desenvolvimento e Assistência Social, assinale a afirmativa INEXATA.

- A) Tem direito ao benefício as famílias exclusivamente consideradas em situação de extrema pobreza em que a renda *per capita* é de até R\$ 315,00.
- B) Fomenta o desenvolvimento de crianças e adolescentes, por meio de apoio financeiro a gestantes, nutrizes, crianças e adolescentes em situação de pobreza ou extrema pobreza.
- C) Tem o intuito de garantir uma renda básica às famílias, buscando simplificar a cesta de benefícios e estimular a emancipação delas, para que atinjam a autonomia e superem as situações de vulnerabilidade social.
- D) Proporciona o desenvolvimento de crianças na primeira infância, com foco na saúde e nos estímulos a habilidades físicas, cognitivas, linguísticas e socioafetivas, em consonância com o disposto na Lei nº 13.257, de 8 de março de 2016.

Questão 22

O Sistema de Seleção Unificada (Sisu), plataforma do Ministério da Educação que reúne vagas de universidades públicas, teve 1.073.024 inscritos, alta de 1,8% em relação à mesma edição do ano anterior, que teve 1.054.474 cadastrados por CPF. As inscrições foram encerradas às 23h59min da sexta-feira, dia 24, e o resultado será divulgado na terça-feira, dia 28/02/2023.

(Disponível em: www.educacao.uol.com.br/noticias/agencia-estado. Acesso em: 25/02/2023.)

No tange ao Sisu, assinale a afirmativa correta.

- A) A seleção dos candidatos é feita com base no desempenho obtido, no ensino fundamental, médio e no Enem.
- B) Trata-se de um programa do governo federal, no qual oferta vagas em instituições públicas de ensino superior apenas no Estado de origem dos candidatos.
- C) A plataforma do Sistema de Seleção Unificada (Sisu), por meio do Ministério da Educação, oferta vagas em todas as universidades federais do território nacional, proporcionando a todos os inscritos se ingressarem em qualquer universidade federal.
- D) O candidato poderá escolher apenas uma opção de curso na hora da inscrição, de acordo com a disponibilidade de vagas nas universidades, o Ministério da Educação indicará uma possível segunda opção, tal procedimento se dá para que ocorra o preenchimento de todas as vagas o ensino superior.

Questão 23

Alunas são envenenadas no Irã para provocar fechamento de escolas femininas

Centenas de estudantes de escolas femininas na cidade sagrada de Qom, no centro do Irã, foram envenenadas nos últimos meses por indivíduos para provocar o fechamento desses centros de ensino, anunciou uma autoridade sanitária citada pela imprensa local. Desde o fim de novembro, os veículos de imprensa iranianos vêm reportando dezenas de casos de envenenamento pela via respiratória de meninas nas escolas de Qom. Algumas delas chegaram a ser hospitalizadas. Em 14 de fevereiro, os pais se manifestaram em frente à administração da cidade para “exigir explicações” das autoridades, segundo a agência oficial IRNA. No dia seguinte, o porta-voz do governo, Ali Bahadori Jahromi, anunciou que os ministérios de Inteligência e Educação estavam “cooperando” para descobrir a origem dos envenenamentos. Com base nessas investigações, “o vice-ministro da Saúde, Younes Panahi, confirmou de maneira implícita que o envenenamento de alunas em Qom era intencional”, anunciou a IRNA. “Descobriu-se que certos indivíduos queriam que todas as escolas, em particular as femininas, fechassem”, declarou Panahi, sem que nenhuma prisão fosse anunciada.

(Disponível em: www.noticias.uol.com.br/ultimas-noticias. Acesso em: 26/02/2023.)

Com base nos direitos das mulheres que vivem no Irã, marque V para as afirmativas verdadeiras e F para as falsas.

- () As mulheres são proibidas de dirigir veículos.
- () A emissão de passaporte, assim como a permissão para sair do país só pode ser feita mediante a autorização do marido.
- () Segundo a lei dependem da autorização do pai ou avô para se casar, que é permitido a partir dos treze anos de idade.

A sequência está correta em

- A) V, V, V.
- B) F, V, F.
- C) F, F, F.
- D) V, F, V.

Questão 24

O setor terciário é o setor da economia formado pelo comércio e pelos serviços, além de englobar também as comunicações, os serviços financeiros e o turismo, e tem experimentado um rápido crescimento tanto no Brasil quanto no mundo.

(Disponível em: escolakids.uol.com.br. Acesso em: 03/2023)

A economia tem como um dos principais setores o terciário; sobre ele, assinale a afirmativa INCORRETA.

- A) É considerado importante para a manutenção da sociedade e o desenvolvimento econômico.
- B) Tem característica pela troca de mercadorias, produtos e serviços, sendo eles de maneira direta ou indireta entre as pessoas.
- C) É considerado, atualmente, como o principal setor da economia mundial; apesar de sua diversidade, na economia brasileira o seu crescimento é lento frente aos índices mundiais.
- D) No setor terciário, suas atividades são de grande importância para o crescimento das demais áreas, sendo suas atividades complementares do circuito de produção dos setores primários ou secundários.

Questão 25

Em relação à moeda americana – o dólar, marque V para as assertivas verdadeiras e F para as falsas.

- () O dólar turismo é mais caro que o comercial; tal variação, na cotação, ocorre em decorrência da diferença em sua utilidade, sendo o dólar turismo utilizado em viagens e o comercial utilizado para as empresas e bancos através das transações no mercado de câmbio, sendo, exportações, importações e transferências financeiras.
- () O dólar turismo é utilizado para compra de passagens estrangeiras dentre outras atividades associadas a viagens. Esse câmbio é também determinante para os consumidores ao adquirirem algo no exterior.
- () Foi criado pelo governo norte-americano, sendo a principal moeda oficial dos Estados Unidos, Panamá, *El Salvador*, Equador e da Venezuela.

A sequência está correta em

- A) V, V, F.
B) F, V, V.
C) F, F, F.
D) V, F, V.

Questão 26

Um ano de guerra na Ucrânia: veja como conflito afetou a economia do Brasil e do mundo

No dia 24 de fevereiro de 2022, as tropas russas invadiram a Ucrânia, dando início a uma guerra que já deixou pelo menos 8.006 civis mortos e 13.287 feridos, de acordo com o último levantamento divulgado pelo Alto Comissariado das Nações Unidas para os Direitos Humanos (ACNUDH). Após um ano de guerra, o quadro é de incerteza. Pelas projeções da Organização para a Cooperação e Desenvolvimento Econômico (OCDE), o conflito deve consumir US\$ 2,8 trilhões até o fim de 2023. Além das mortes e de toda a destruição de território, o conflito impactou a economia global, com consequências para países como China, Alemanha, Inglaterra, Estados Unidos e Brasil, apenas para citar alguns exemplos. A estrutura do comércio internacional, que ainda se recuperava dos efeitos da pandemia de Covid-19, também foi novamente abalada com o início da guerra, ampliando e piorando ainda mais o cenário econômico já complicado.

(Disponível em: www.cnnbrasil.com.br/business. Acesso em: 03/2023.)

Em relação aos impactos econômicos decorrentes deste conflito, marque V para as verdadeiras e F para as falsas.

- () Aumento do preço do petróleo contribuiu para o aumento dos combustíveis.
- () Metade da população mundial obtém seus alimentos que necessitam da utilização dos fertilizantes que são considerados essenciais para a produção dos alimentos, entretanto a crise dos alimentos estão associada ao aumento dos fertilizantes.
- () A Rússia reduziu drasticamente as exportações de gás natural para Europa, como forma de retaliação, resultando em um aumento significativo do gás natural.

A sequência correta está em

- A) V, V, V.
B) F, F, V.
C) F, F, F.
D) V, F, V.

Questão 27

A ativista sueca *Greta Thunberg* foi detida com outros manifestantes durante protesto contra a demolição de uma vila perto da cidade de *Luetzerath*, na Alemanha, segundo a polícia alemã. A ativista foi liberada depois de um procedimento de identificação. Antes, ela chegou a ser carregada por policiais até um ônibus da corporação. A vila está sendo derrubada para obras de expansão de uma mina de carvão mineral a céu aberto.

(Disponível em: www.g1.globo.com. Acesso em: 01/2023.)

Quanto ao carvão mineral, é INCORRETO inferir que:

- A) Sua origem é vegetal.
B) É considerado um combustível fóssil e não renovável.
C) Provém da decomposição de matéria orgânica sem a presença de oxigênio.
D) Apresenta elevada eficiência energética e seus impactos ambientais são positivos tanto na extração quanto em sua utilização.

Questão 28

“Jô Soares” – José Eugênio Soares nasceu em 16 de janeiro de 1938. Até a adolescência viveu nos Estados Unidos e na Europa. Voltou ao Brasil quando o seu pai perdeu todo o dinheiro na Bolsa de Valores. Com a idade de 18 anos, ingressou no Instituto Rio Branco, para seguir carreira diplomática. Sempre divertido, de humor rápido e inteligente, o jovem gostava de entreter seus colegas com casos e piadas. A estreia de Jô Soares na vida artística aconteceu no filme “O Homem do *Sputnik*”, de Carlos Manga.

(Disponível em: www.ebiografia.com. Acesso em: 03/2023.)

São consideradas obras do autor Jô Soares, EXCETO:

- A) As Esganadas.
B) O Xangô de *Baker Street*.
C) Memórias Póstumas de Brás Cubas.
D) A Copa Que Ninguém Viu e Que Não Queremos Lembrar.

Questão 29

“O Museu de Arte de São Paulo é um museu privado sem fins lucrativos, fundado em 1947, pelo empresário e mecenas *Assis Chateaubriand* (1892-1968), tornando-se o primeiro museu moderno no país. *Chateaubriand* convidou o crítico e marchand italiano *Pietro Maria Bardi* (1900-1999) para dirigir o MASP, e _____ para desenvolver o projeto arquitetônico e expográfico. Mais importante acervo de arte europeia do Hemisfério Sul, hoje a coleção do MASP reúne mais de 10 mil obras, incluindo pinturas, esculturas, objetos, fotografias, vídeos e vestuário de diversos períodos, abrangendo a produção europeia, africana, asiática e das Américas.” Assinale a alternativa que completa corretamente a afirmativa anterior.

- A) *Zaha Hadid*
B) *Lina Bo Bardi*
C) *Antoni Gaudí*
D) *Oscar Niemeyer*

Questão 30

Exposição no Museu Histórico Nacional mostra a trajetória dos povos originários brasileiros

Um dos ambientes da mostra reproduz as rochas que existem na Serra da Capivara, no Piauí, com pinturas rupestres, testemunhas da presença humana há milhares de anos. Pontas de flechas e anzóis de pesca encontrados nos mais de 22 mil sítios arqueológicos espalhados pelo nosso território também podem ver vistos pelo público. Os visitantes também podem ter a experiência de pegar, sentir, tocar réplicas de peças que estão expostas, como um crânio com idade estimada em 10 mil anos, de uma mulher que viveu na região de Lagoa Santa, em Minas Gerais.

(Disponível em: www.g1.globo.com/jornal-hoje/noticia/2023/03/01/exposicao-no-museu-historico-nacional-mostra-a-trajetoria-dos-povos-originais-brasileiros.ghtml. Acesso em: 03/2023.)

Sobre a arte rupestre, assinale a afirmativa INCORRETA.

- A) Tem como uma das características o uso de linhas, traços e formas geométricas.
- B) Representa as primeiras produções artísticas da humanidade da Pré-História feitas em cavernas.
- C) A produção artística está ligada às primeiras crenças dos hominídeos durante a Pré-história.
- D) A arte rupestre é encontrada apenas no Brasil; é identificada através de diversas maneiras de expressão artística.

ATENÇÃO

NÃO É PERMITIDA a anotação das respostas da prova em QUALQUER MEIO.
O candidato flagrado nesta conduta poderá ser ELIMINADO do processo.

INSTRUÇÕES

O uso de máscara durante a realização da prova é facultativo. O álcool em gel se encontra disponível para o uso dos candidatos.

1. Somente será permitida a utilização de caneta esferográfica de tinta azul ou preta, feita de material transparente e de ponta grossa.
2. É proibida, durante a realização das provas, a comunicação entre os candidatos e a utilização de máquinas calculadoras e/ou similares, livros, anotações, impressos ou qualquer outro material de consulta, protetor auricular, lápis, borracha ou corretivo. Especificamente, não será permitido o candidato ingressar na sala de provas sem o devido recolhimento, com respectiva identificação, dos seguintes equipamentos: *bip*, telefone celular, *walkman*, agenda eletrônica, *notebook*, *palmtop*, *ipod*, *ipad*, *tablet*, *smartphone*, mp3, mp4, receptor, gravador, máquina de calcular, máquina fotográfica, controle de alarme de veículo, relógio de qualquer modelo, pulseiras magnéticas e similares e etc., o que não acarreta em qualquer responsabilidade do Instituto Consulplan sobre tais equipamentos.
3. Com vistas à garantia da segurança e da integridade do certame, no dia da realização das provas escritas, os candidatos serão submetidos ao sistema de detecção de metais na entrada e na saída dos sanitários. Excepcionalmente, poderão ser realizados, a qualquer tempo durante a realização das provas, outros procedimentos de vistoria além do descrito.
4. O caderno de provas consta de 40 (quarenta) questões de múltipla escolha para os cargos de nível superior completo; 40 (quarenta) questões de múltipla escolha para os cargos de nível médio técnico; 40 (quarenta) questões de múltipla escolha para os cargos de ensino médio completo com habilitação em magistério ou pedagogia; 40 (quarenta) questões de múltipla escolha para os cargos de ensino médio completo; 30 (trinta) questões de múltipla escolha para os cargos de nível fundamental completo.
5. Ao receber o material de realização das provas, o candidato deverá conferir atentamente se o caderno de provas contém o número de questões previsto, se corresponde à função a que está concorrendo, bem como se os dados constantes no Cartão de Respostas (Gabarito) estão corretos. Caso os dados estejam incorretos, ou o material esteja incompleto ou, ainda, detenha qualquer imperfeição, o candidato deverá informar tal ocorrência ao Fiscal de Aplicação.
6. As provas terão duração de 3 (três) horas para os cargos de nível fundamental completo; e 4 (quatro) horas para os cargos de nível superior e médio completo. Este período abrange a assinatura, assim como a transcrição das respostas para o Cartão de Respostas (Gabarito).
7. As questões das provas objetivas são do tipo múltipla escolha, com 4 (quatro) alternativas (A a D) e uma única resposta correta. Ao terminar a prova, o candidato, obrigatoriamente, deverá devolver ao Fiscal de Aplicação o Cartão de Respostas (Gabarito) devidamente assinado em local específico.
8. Os Fiscais de Aplicação não estão autorizados a emitir opinião e prestar esclarecimentos sobre o conteúdo das provas. Cabe única e exclusivamente ao candidato interpretar e decidir.
9. Não é permitida a anotação de informações relativas às respostas (cópia de gabarito) no Cartão de Confirmação de Inscrição (CCI) ou em qualquer outro meio.
10. O candidato somente poderá se retirar do local de realização das provas escritas levando o caderno de provas no decurso dos últimos 30 (trinta) minutos anteriores ao horário previsto para o seu término. O candidato poderá se retirar do local de realização das provas somente a partir dos 90 (noventa) minutos após o início de sua realização; contudo, não poderá levar o seu caderno de provas.
11. Os 3 (três) últimos candidatos de cada sala só poderão sair juntos. Caso o candidato insista em sair do local de aplicação da prova, deverá assinar termo desistindo do Concurso Público e, caso se negue, deverá ser lavrado Termo de Ocorrência, testemunhado pelos 2 (dois) outros candidatos, pelo Fiscal da Sala e pelo Coordenador da Unidade, para posterior análise feita pela Comissão de Acompanhamento do Concurso Público.

RESULTADOS E RECURSOS

- Os gabaritos oficiais preliminares das provas objetivas serão divulgados na *Internet*, no endereço eletrônico www.institutoconsulplan.org.br, a partir das 16h00min da segunda-feira subsequente à realização das provas escritas objetivas de múltipla escolha.
- O candidato que desejar interpor recursos contra o gabarito oficial preliminar da Prova Escrita Objetiva de Múltipla Escolha disporá de 2 (dois) dias úteis para fazê-lo, a contar do dia subsequente ao da divulgação desses gabaritos, por meio do endereço eletrônico www.institutoconsulplan.org.br. É responsabilidade do candidato acompanhar todos os atos inerentes ao concurso, não cabendo reclamações caso não exerça seu direito de recurso no prazo estipulado.
- A interposição de recursos poderá ser feita via *internet*, através do Sistema Eletrônico de Interposição de Recursos, com acesso pelo candidato com o fornecimento de dados referentes à inscrição do candidato, apenas no prazo recursal, ao Instituto Consulplan, conforme disposições contidas no endereço eletrônico www.institutoconsulplan.org.br, no *link* correspondente ao Concurso Público.