



POLÍCIA MILITAR DO ESTADO DE SÃO PAULO
DIRETORIA DE PESSOAL – DP

Concurso Público

001. PROVA OBJETIVA – PARTE I

Soldado PM de 2ª Classe

- ◆ Você recebeu sua folha de respostas, este caderno, contendo 60 questões objetivas e um tema de redação a ser desenvolvido, e a folha de redação para transcrição do texto definitivo.
- ◆ Confira seus dados impressos na capa deste caderno e nas folhas de respostas e de redação.
- ◆ Quando for permitido abrir o caderno, verifique se está completo ou se apresenta imperfeições. Caso haja algum problema, informe ao fiscal da sala para a devida substituição desse caderno.
- ◆ A folha de redação deverá ser assinada apenas no local indicado; qualquer identificação ou marca feita pelo candidato no verso da folha de redação, que possa permitir sua identificação, acarretará a atribuição de nota zero à redação.
- ◆ É vedado, em qualquer parte da folha de redação, o uso de corretor de texto, de caneta marca-texto ou de qualquer outro material similar.
- ◆ Redija o texto definitivo e preencha a folha de respostas com caneta de tinta preta ou azul. Os rascunhos não serão considerados na correção. A ilegibilidade da letra acarretará prejuízo à nota do candidato.
- ◆ A duração das provas objetiva e dissertativa (redação) é de 5 horas, já incluído o tempo para o preenchimento da folha de respostas e para a transcrição do texto definitivo.
- ◆ Só será permitida a saída definitiva da sala e do prédio após transcorridas 2 horas do início das provas.
- ◆ Deverão permanecer em cada uma das salas de prova os 3 últimos candidatos, até que o último deles entregue sua prova, assinando termo respectivo.
- ◆ Ao sair, você entregará ao fiscal a folha de redação, a folha de respostas e este caderno.
- ◆ Até que você saia do prédio, todas as proibições e orientações continuam válidas.

AGUARDE A ORDEM DO FISCAL PARA ABRIR ESTE CADERNO.

Nome do candidato

RG

Inscrição

Prédio

Sala

Carteira

Leia a tira, para responder às questões de números 01 e 02.



(Charles M. Schulz, Snoopy – Feliz Dia dos Namorados!)

01. A fala da garota, ao final da tira, sugere que
- (A) sua gratidão é limitada àquele momento.
 - (B) ela continuará solicitando a ajuda do irmão.
 - (C) nada a motiva a ser agradecida pela ajuda.
 - (D) o irmão não costuma ajudá-la com as lições.
 - (E) o irmão, a princípio, havia se recusado a ajudá-la.
02. Ao se referir ao irmão no aumentativo, “irmãozão”, a menina demonstra
- (A) despeito, constatando que o irmão se mostra mais sábio do que ela.
 - (B) independência, sugerindo que pode dispensar a ajuda dele.
 - (C) rivalidade, pelo fato de ele ser mais velho do que ela.
 - (D) desagrado, tendo em vista que ele nem sempre se dispõe a colaborar.
 - (E) apreço, revelando seu reconhecimento por ele tê-la ajudado.

Leia o texto, para responder às questões de números 03 a 11.

Exercícios

Há senhores, graves senhores, que leem graves estudos de filosofia ou coisas afins, ou procuram sozinhos filosofar, considerando as suas ideias que eles julgam próprias. Isto em geral os leva à redescoberta da pólvora. **Mas** não há de ser nada... **Porque** estou me lembrando agora é dos tempos em que havia cadeiras na calçada e muitas estrelas lá em cima, e a preocupação dos pequenos, alheios à conversa da gente grande, era observar a forma das nuvens, que se punham a figurar dragões ou bichos mais complicados, ou fragatas que terminavam naufragando, ou mais prosaicamente uma vasta galinha que acabava pondo um ovo luminoso: a lua.

E esses exercícios eram muito mais divertidos, meus graves senhores, que os de vossas ideias, isto é, os de vossas nuvens interiores.

(Mario Quintana, *A vaca e o hipogrifo*.)

03. É correto concluir que, no texto, o autor contrapõe os exercícios de imaginação das crianças aos exercícios filosóficos,
- (A) questionando o passado, quando a contemplação infantil não levava a nada.
 - (B) afirmando a importância do devaneio dos filósofos para criar ideias proveitosas.
 - (C) valorizando os primeiros, que provocam sensações mais agradáveis.
 - (D) colocando-os em igualdade de condições para atingir o conhecimento.
 - (E) destacando a importância do pensamento filosófico, pois produzem o saber.
04. No contexto em que se encontram (1º parágrafo), as palavras “graves” e afins” têm sinônimos respectivamente em
- (A) carrancudos e gerais.
 - (B) perigosos e parentes.
 - (C) pesados e dispostas.
 - (D) sérios e assemelhadas.
 - (E) profundos e propensas.

05. O trecho do texto no qual o autor afirma que as ideias dos que filosofam nada têm de original é:
- (A) ... leem graves estudos de filosofia...
 - (B) Isto em geral os leva à redescoberta da pólvora.
 - (C) ... mais prosaicamente uma vasta galinha...
 - (D) ... tempos em que havia cadeiras na calçada...
 - (E) ... fragatas que terminavam naufragando...

06. Assinale a alternativa em que o trecho destacado está reescrito, nos parênteses, atendendo à norma-padrão de emprego dos pronomes.
- (A) Que se punham a **figurar dragões** – (figurá-los)
 - (B) Senhores que **leem graves estudos de filosofia** – (leem-os)
 - (C) Adultos **colocavam cadeiras** na calçada – (colocavam-as)
 - (D) Era **observar a forma das nuvens** – (observar elas)
 - (E) Galinha que acabava **pondo um ovo luminoso** – (pondo-lhe)
07. As conjunções destacadas no texto podem ser substituídas, sem prejuízo de sentido, correta e respectivamente, por:
- (A) **Ou e Logo.**
 - (B) **Porém e Embora.**
 - (C) **Entretanto e Pois.**
 - (D) **Portanto e Como.**
 - (E) **Também e Enquanto.**
08. Colocando-se a palavra “Talvez” no início das passagens – “**Há** senhores, graves senhores, que leem graves estudos de filosofia” e “a preocupação dos pequenos, alheios à conversa da gente grande, **era** observar a forma das nuvens” –, a flexão correta dos verbos destacados será:
- (A) haverá ... foi
 - (B) houvesse ... fora
 - (C) houvera ... seria
 - (D) havia ... será
 - (E) haja ... fosse
09. A passagem do texto em que a expressão destacada está empregada em sentido figurado é:
- (A) ... procuram **sozinhos filosofar**, considerando as suas ideias que eles julgam próprias.
 - (B) ... exercícios muito mais divertidos[...] que os de vossas ideias, isto é, os de vossas **nuvens interiores**.
 - (C) ... a preocupação dos pequenos, **alheios à conversa** da gente grande ...
 - (D) ... estou me lembrando agora é dos tempos em que havia **cadeiras na calçada** ...
 - (E) ... observar a **forma das nuvens**, que se punham a figurar dragões ou bichos mais complicados ...
10. Assinale a alternativa que reescreve a passagem do texto de acordo com a norma-padrão de colocação pronominal e de concordância verbal.
- (A) Agora lembro-me dos tempos em que na calçada existia cadeiras.
 - (B) Agora me lembro dos tempos em que na calçada existia cadeiras.
 - (C) Agora me lembro dos tempos em que na calçada existiam cadeiras.
 - (D) Me lembro agora dos tempos em que existia cadeiras na calçada.
 - (E) Me lembro agora dos tempos em que existiam cadeiras na calçada.
11. Assinale a alternativa em que a nova pontuação adotada para as passagens está de acordo com a norma-padrão.
- (A) Há senhores (graves senhores) que leem graves estudos filosóficos. / E a galinha acabava pondo um ovo luminoso – a lua.
 - (B) Há, senhores – graves senhores, que leem, graves estudos filosóficos. / E a galinha acabava pondo um ovo luminoso; a lua.
 - (C) Há, senhores – graves senhores – que leem, graves estudos filosóficos. / E a galinha acabava pondo um ovo luminoso, a lua.
 - (D) Há senhores (graves senhores), que leem graves estudos filosóficos. / E a galinha, acabava pondo um ovo luminoso a lua!
 - (E) Há senhores: graves senhores, que leem, graves estudos filosóficos. / E, a galinha, acabava pondo um ovo luminoso – a lua!

Leia o texto, para responder às questões de números 12 a 19.

Sinais de quem sofre bullying

Apesar das inúmeras campanhas de conscientização, o bullying segue sendo um tema que merece a nossa atenção. Uma pesquisa realizada pela Microsoft, em 2020, em 32 países, incluindo o Brasil, aponta que 43% dos entrevistados estiveram envolvidos em incidentes de bullying na internet, conhecido como cyberbullying.

Por sua vez, a Pesquisa Nacional de Saúde Escolar 2019, feita pelo Instituto Brasileiro de Geografia e Estatística com 188 mil estudantes com idades entre 13 e 17 anos, aponta que um em cada 10 adolescentes já se sentiu ameaçado, ofendido e humilhado em redes sociais ou aplicativos. Além disso, 23% dos estudantes afirmaram ter sido vítimas de bullying em ambiente escolar. Os motivos? Aparência do corpo (16,5%), aparência do rosto (11,6%) e cor ou raça (4,6%).

Além de seguir com as campanhas de conscientização e de abordar o assunto com as crianças e os adolescentes, entendo que é importante que pais e responsáveis estejam 100% atentos ao comportamento dos seus filhos. A forma como estes agem pode nos dizer muitas coisas, entre elas, demonstrar se eles estão sendo autores ou vítimas de bullying. Esse é um dos melhores meios para identificar se uma criança sofre **com zombarias, ridicularizações, humilhações e outro tipo de violência emocional**.

O assunto precisa ser tratado **com seriedade** pelos pais e responsáveis. É interessante que encarem as situações juntos, sem pressionar os filhos a reagir ou minimizar a situação, fazendo com que eles se sintam pior.

Nesse momento, é relevante pedir discrição para lidar com o assunto, pois expor o menor não irá ajudar. Ao contrário, apenas irá incentivar os colegas a aumentar a prática. Em paralelo, vale buscar a ajuda de um profissional experiente na área.

(Sueli Bravi Conte, *Revista Bem-Estar*, 05.06.2022. Adaptado)

12. Segundo o texto,

- (A) campanhas de conscientização conseguiram erradicar o cyberbullying entre jovens em idade escolar.
- (B) pesquisas têm constatado que vem se reduzindo o número de jovens atingidos por bullying no ambiente escolar.
- (C) a ação enérgica dos pais para limitar o bullying é o caminho adequado para levar o jovem a refletir sobre essa prática.
- (D) observar com interesse a forma de agir dos filhos permite identificar se eles vivem situações de bullying.
- (E) questões raciais ainda são a principal causa de bullying, seguidas de constrangimentos relacionados ao aspecto físico.

13. Diante dos dados de pesquisas, a autora recomenda que as campanhas de conscientização sobre o bullying sejam

- (A) repensadas com cuidado, para dar lugar ao acompanhamento dos pais e responsáveis.
- (B) renovadas para que os pais se especializem no modo de enfrentar o assunto em família.
- (C) repetidas sempre que necessário e associadas a pressões dos pais para proibir a prática.
- (D) continuadas e contem com a atenção dos pais e responsáveis ao modo de agir dos filhos.
- (E) substituídas por educação dos jovens acerca desse tema que preocupa as famílias.

14. Assinale a alternativa em que a passagem do primeiro parágrafo – Apesar das inúmeras campanhas de conscientização – está reescrita preservando o sentido do texto.

- (A) Durante as inúmeras campanhas de conscientização ...
- (B) Além das inúmeras campanhas de conscientização ...
- (C) Desde as inúmeras campanhas de conscientização ...
- (D) Graças às inúmeras campanhas de conscientização ...
- (E) Mesmo com as inúmeras campanhas de conscientização ...

15. Na passagem – é importante que pais e responsáveis estejam 100% atentos ao comportamento dos seus filhos – a expressão numérica destacada deve ser entendida como

- (A) ocasionalmente.
- (B) totalmente.
- (C) relativamente.
- (D) eventualmente.
- (E) virtualmente.

16. As expressões em destaque no 3º e no 4º parágrafos expressam, correta e respectivamente, as noções de

- (A) causa e modo.
- (B) modo e condição.
- (C) meio e lugar.
- (D) companhia e estado.
- (E) restrição e tempo.

17. A passagem do 5º parágrafo – irá incentivar os colegas a aumentar a prática – está reescrita de acordo com a norma-padrão de regência em:

- (A) irá dar incentivo dos colegas com aumentar a prática
- (B) irá dar incentivo para os colegas por aumentar a prática
- (C) irá dar incentivo nos colegas em aumentar a prática
- (D) irá dar incentivo com os colegas de aumentar a prática
- (E) irá dar incentivo aos colegas para aumentar a prática

18. O enunciado entre colchetes que reescreve o original de acordo com a norma-padrão de emprego do sinal indicativo de crase é:

- (A) irá incentivar os colegas [irá estimular à algumas colegas]
- (B) tema que merece a nossa atenção [tema à que devemos dar atenção]
- (C) seguir com as campanhas [dar sequência às mesmas campanhas]
- (D) é interessante que encarem as situações [é interessante que enfrentem à todas as situações]
- (E) pode nos dizer muitas coisas [pode nos levar à concluir muitas coisas]

19. São expressões antônimas de *discrição* e *incentivar*, adequadas ao contexto do último parágrafo, respectivamente,

- (A) estardalhaço e desencorajar.
- (B) indisposição e desaconselhar.
- (C) gritaria e pressionar.
- (D) cuidado e desestimular.
- (E) fofoca e sugerir.

20. Assinale a alternativa que preenche, respectivamente e de acordo com a norma-padrão de concordância nominal, as lacunas do texto a seguir:

Foi _____ rapidamente uma verificação das ocorrências envolvendo menores, para que fosse _____ providência imediata, antes do meio-dia e _____. As conclusões da averiguação seguem _____ ao relatório final do setor.

- (A) feito ... tomado ... meia ... anexas
- (B) feito ... tomada ... meio ... anexo
- (C) feito ... tomado... meio ... anexas
- (D) feita ... tomada ... meia ... anexas
- (E) feita ... tomada ... meio ... anexo

21. Certo procedimento é realizado por uma máquina computadorizada que, em velocidade padrão de trabalho, executa todo o procedimento em um período de tempo igual a 4 horas e meia. Pretende-se aumentar a velocidade da máquina para realizar todo o procedimento em um período de tempo um quinto menor do que o período de tempo da velocidade padrão. Esse período de tempo será igual a

- (A) 3 horas e 36 minutos.
- (B) 3 horas e 45 minutos.
- (C) 4 horas e 10 minutos.
- (D) 4 horas.
- (E) 3 horas.

22. Com base nas informações que constam no *site* da Polícia Militar do Estado de São Paulo, pode-se concluir que, no mês de setembro de 2022, a cada hora, para cada pessoa presa em flagrante, 3 resgates foram efetuados. Se, no referido período de tempo, a soma do número de pessoas presas em flagrante com o número de resgates efetuados totalizou 36, então, o número de resgates foi igual a

- (A) 21.
- (B) 27.
- (C) 33.
- (D) 15.
- (E) 9.

23. De acordo com dados publicados no *site* da Secretaria de Segurança Pública do Estado de São Paulo, com relação às “Ocorrências de Porte de Entorpecentes” no Estado, em 2022, pode-se concluir que adicionadas as ocorrências atendidas nos meses de setembro e de outubro, tem-se como total 2 264 ocorrências, e subtraídas as ocorrências atendidas no mês de setembro das atendidas no mês de outubro, tem-se 50 ocorrências. Sabendo-se que, para a mesma natureza de ocorrência, em agosto de 2022 foram atendidas 96 ocorrências a mais que as atendidas no mês de setembro desse mesmo ano, pode-se afirmar corretamente que o número de ocorrências de porte de entorpecentes atendidas, em agosto de 2022, foi igual a

- (A) 1351.
- (B) 1301.
- (C) 1061.
- (D) 1253.
- (E) 1203.

24. Para esvaziar um reservatório de água, três saídas d'água, com a mesma vazão e abertas ao mesmo tempo, realizam o trabalho em 2 horas e 20 minutos. Utilizando-se apenas duas dessas saídas d'água nas mesmas condições, a razão entre o tempo para esvaziar esse reservatório com duas saídas e o tempo para esvaziar esse reservatório com três saídas é
- (A) 1,3.
(B) 1,6.
(C) 1,4.
(D) 1,5.
(E) 1,7.
25. Com o total de R\$ 252,00, comprou-se apenas dois produtos, sendo o preço pago em um deles 10% maior do que o preço pago no outro. O preço pago no produto mais caro foi de
- (A) R\$ 124,00.
(B) R\$ 128,00.
(C) R\$ 132,00.
(D) R\$ 126,00
(E) R\$ 130,00.
26. A tabela a seguir apresenta o número de municípios em quatro das cinco Grandes Regiões brasileiras, em 2020, sendo omitido apenas o número de municípios da Grande Região Centro-Oeste:

**Número de Municípios,
por Grandes Regiões Brasileiras – 2020**

Grande Região	Número de municípios
Norte	450
Nordeste	1 794
Sudeste	1 668
Sul	1 191
Total	5 103

(IBGE. Adaptado)

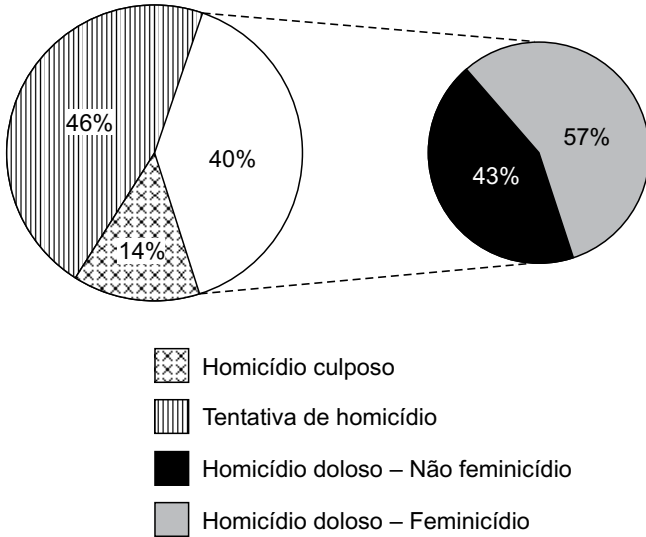
Sabendo que a média aritmética simples do número de municípios das cinco Grandes Regiões brasileiras, naquele ano, era igual a 1 114, pode-se afirmar, corretamente, que, em 2020, a diferença entre os números de municípios das Grandes Regiões Centro-Oeste e Norte era igual a

- (A) 17.
(B) 23.
(C) 19.
(D) 15.
(E) 21.

27. O gráfico, elaborado com dados divulgados no *site* da Secretaria de Segurança Pública do Estado de São Paulo, apresenta a distribuição dos números de homicídios doloso e culposo e o número de tentativas de homicídio, associados à violência contra mulheres, no mês de outubro de 2022.

Distribuição dos números de homicídios e tentativa de homicídios

(Violência contra mulheres – Outubro de 2022)



Se adicionados os números de homicídios e de tentativas de homicídios tem-se 92 casos, então, o número de homicídios dolosos classificados como feminicídios foi maior ou igual a

- (A) 17 e menor que 20.
 (B) 26 e menor que 29.
 (C) 23 e menor que 26.
 (D) 20 e menor que 23.
 (E) 14 e menor que 17.
28. De acordo com a Companhia Nacional de Abastecimento (Conab), a produção de arroz irrigado na Região Sudeste, na safra 2021/2022, foi de 36,3 mil toneladas, uma diminuição de 14% em relação à produção do mesmo produto, na safra 2020/2021. Essa diminuição corresponde a um valor compreendido entre
- (A) 5,4 e 5,6 mil toneladas de arroz.
 (B) 5,8 e 6,0 mil toneladas de arroz.
 (C) 5,2 e 5,4 mil toneladas de arroz.
 (D) 6,0 e 6,2 mil toneladas de arroz.
 (E) 5,6 e 5,8 mil toneladas de arroz.

29. Considere a seguinte informação apresentada no *site* Distrito, a respeito das tendências tecnológicas do setor da saúde, elaboradas para o ano de 2022 e publicada em fevereiro de 2022:

Só em 2021, já foram investidos mais de US\$ [X] milhões em startups de inteligência artificial no Brasil. Para se ter uma ideia da evolução dos aportes, em 2020 foram apenas US\$ [Y] milhão investido na categoria. O desenvolvimento de novas tecnologias, aliado à necessidade de melhorar a precisão dos diagnósticos e tratamentos, está contribuindo para a evolução desse mercado no mundo todo.

(<https://distrito.me/blog/tendencias-setor-da-saude/>. Adaptado)

Sabendo que a razão de X para Y corresponde a $\frac{82}{3}$, e

que X é US\$ 39,5 milhões maior que Y, é correto afirmar que, para que X correspondesse a 30 vezes o valor Y, seria necessário acrescentar, em X, o valor de

- (A) US\$ 4,5 milhões.
 - (B) US\$ 3,5 milhões.
 - (C) US\$ 5,0 milhões.
 - (D) US\$ 5,5 milhões.
 - (E) US\$ 4,0 milhões.
30. Um entregador de mercadorias faz suas entregas em determinado comércio a cada 8 dias e em outro comércio a cada 12 dias, independentemente de o dia ser útil ou não. No último dia de 2022, um sábado, o entregador fez suas entregas em ambos os comércios. Logo, em fevereiro de 2023, ele fará suas entregas nestes comércios, em um mesmo dia, em uma
- (A) quinta-feira.
 - (B) terça-feira.
 - (C) sexta-feira.
 - (D) quarta-feira.
 - (E) segunda-feira.

31. A tabela a seguir, reproduzida a partir de documento com análises mensais publicadas pela Conab, apresenta algumas informações a respeito do trigo em grão, no Brasil, para as últimas cinco safras completas:

INFORMAÇÕES SOBRE O TRIGO EM GRÃOS NAS ÚLTIMAS SAFRAS (MIL TONELADAS)

Safra	Estoque inicial	Produção	Importação	Exportação	Consumo interno	Estoque final
2017/18	3 188,7	4 262,1	6 387,5	206,2	11 244,7	2 387,4
2018/19	2 387,4	5 427,6	6 738,6	582,9	11 360,8	2 609,9
2019/20	2 609,9	5 154,7	6 676,7	342,3	11 860,6	2 238,4
2020/21	2 238,4	6 234,6	6 007,8			
2021/22		7 679,4	6 080,1	3 045,9	12 049,8	722,5

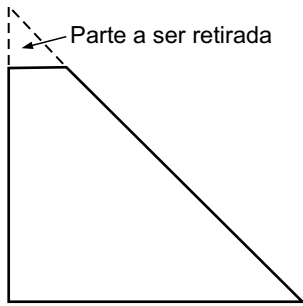
(Conab. Adaptado)

Com base nas informações apresentadas, é correto afirmar que o total relativo à exportação e ao consumo interno de trigo, na safra 2020/21, foi igual a

- (A) 12 637,1 mil toneladas.
 - (B) 12 513,1 mil toneladas.
 - (C) 12 701,8 mil toneladas.
 - (D) 12 422,1 mil toneladas.
 - (E) 12 899,8 mil toneladas.
32. Cinco orçamentos distintos, P, Q, R, S e T, serão ordenados de acordo com os seus valores, para serem apresentados ao setor responsável pela liberação da verba para a execução de um serviço. Sabe-se que o valor do orçamento S é mais alto que o de R e mais baixo que o de P. Sabe-se, também, que o valor do orçamento P é mais alto que o de T, que não é mais baixo que o de S. Se o valor do orçamento Q não é mais alto que o de R, então é verdade que, na ordenação, o orçamento que ficará na terceira posição é o orçamento
- (A) S.
 - (B) Q.
 - (C) T.
 - (D) R.
 - (E) P.

R A S C U N H O

33. Uma chapa plana de alumínio, de espessura desprezível, tem o formato de um triângulo retângulo isósceles de área 32 cm^2 . Dela, será retirada parte, também no formato de triângulo retângulo isósceles, com área de $0,72 \text{ cm}^2$, conforme apresentado na figura:



(Figura fora de escala)

Após ser retirada a parte triangular, a parte remanescente da chapa de alumínio terá o formato de um trapézio, cuja diferença entre as medidas de suas bases será de

- (A) 7,0 cm.
(B) 7,4 cm.
(C) 7,2 cm.
(D) 7,6 cm.
(E) 6,8 cm.
34. Um objeto feito em madeira maciça tem o formato de prisma reto com base no formato de losango, cujas diagonais medem 5 cm e 6 cm. Se o volume de madeira contido nesse objeto é de 450 cm^3 , então sua altura, comparada à medida da maior diagonal da sua base, é maior em
- (A) 26 cm.
(B) 25 cm.
(C) 28 cm.
(D) 27 cm.
(E) 24 cm.
35. Um terreno no formato retangular tem perímetro de 82 m, com comprimento excedendo a largura em 1 m. O proprietário pretende dividir esse terreno em duas partes de mesma área, utilizando-se uma das diagonais desse terreno. Essa divisória (a diagonal) terá medida de
- (A) 30 m.
(B) 31 m.
(C) 29 m.
(D) 32 m.
(E) 33 m.

CONHECIMENTOS GERAIS

HISTÓRIA GERAL

36. A 8 de janeiro de 1918 (antes, portanto, do fim da guerra), o presidente dos Estados Unidos, Woodrow Wilson, divulgou um plano de 14 pontos, destinado a orientar as discussões de paz.

(Alceu L. Pazzinato e Maria Helena V. Senise, *História Moderna e Contemporânea*)

Assinale a alternativa que apresenta uma das proposições desse plano.

- (A) Os territórios alemães invadidos pela França ao longo do século XIX deveriam ser devolvidos, inclusive a contestada região da Alsácia-Lorena, e caberia aos franceses a desmilitarização de todas as suas fronteiras.
- (B) Um Estado polonês independente deveria ser estabelecido, compreendendo os territórios habitados por populações incontestavelmente polonesas, às quais seria mantido um acesso livre e seguro ao mar.
- (C) As tropas francesas deveriam desocupar a região dos Balcãs, onde se formaria uma única nação que congregasse todos os povos com origem eslava, que ficaria sob a proteção da Grã-Bretanha e do Império Turco-Otomano.
- (D) A Alemanha, a Rússia e a Sérvia deveriam ser consideradas responsáveis pelo conflito mundial, ser desmilitarizadas, perder espaços coloniais e pagar indenizações aos países que foram vítimas de agressão.
- (E) Os espaços coloniais na África e na Ásia deveriam respeitar as diretrizes das suas respectivas metrópoles e quaisquer movimentos em direção à autonomia nacional das colônias precisariam ser cancelados pela Liga das Nações.

37. Podemos dividir a Segunda Guerra Mundial em três fases: a primeira, que vai de 1º de setembro de 1939 a 22 de junho de 1941; a segunda, de 22 de junho de 1941 a 3 de setembro de 1943, e a terceira, que se estendeu de 3 de setembro de 1943 a 2 de setembro de 1945.

(Luiz Koshiba, *História: origens, estruturas e processos: ensino médio*. Texto adaptado)

A segunda fase da Segunda Guerra começou com

- (A) a invasão da Normandia pela Força Aérea Britânica, que obrigou a Alemanha a assinar um tratado de não agressão com a URSS e romper a aliança com o Japão.
- (B) a invasão da Manchúria pelo Japão, com o objetivo de se aproximar das fronteiras soviéticas, e a formação da aliança bélica entre a França e a Bulgária.
- (C) a forte resistência das forças bélicas francesas contra os ataques da aviação alemã, situação que fez com que os nazistas pedissem um cessar-fogo.
- (D) o ataque alemão à URSS e, ainda em 1941, o ataque japonês à base naval de Pearl Harbor, o que provocou a entrada dos Estados Unidos na guerra.
- (E) a queda do governo de Mussolini e a saída da Itália da guerra, o que provocou, em 1942, a declaração de guerra da Alemanha contra a França e a Grã-Bretanha.

HISTÓRIA DO BRASIL

38. Teve rígida organização hierárquica, dividido em alas. Usou uniforme – camisa verde com gravata preta, o símbolo era a letra grega sigma. Adotou o lema Deus, Pátria e Família. Havia um cumprimento, com o braço direito levantado e pronunciando a palavra “anauê”, da língua tupi, um grito de guerra ou saudação. Apoiou o golpe do Estado Novo: fez antes homenagens a Vargas em comícios e desfiles.

(Francisco Iglésias, *Trajetória política do Brasil: 1500-1964*. Texto adaptado)

O excerto faz referência

- (A) ao Bloco Operário e Camponês.
- (B) à Ação Integralista Brasileira.
- (C) à União Republicana Brasileira.
- (D) ao Comando de Libertação Nacional.
- (E) à Aliança Nacional Libertadora.

39. No fim de janeiro de 1946, Dutra tomou posse e começaram os trabalhos da Constituinte. Em setembro era promulgada a nova Constituição brasileira, que se afastava da Carta de 1937, optando pelo figurino liberal-democrático. Em alguns pontos, entretanto, houve continuidade entre a Carta de 1937 e a Constituição de 1945.

(Boris Fausto, *História concisa do Brasil*. Texto adaptado)

Em relação à Constituição de 1946, é correto afirmar que

- (A) o Poder Executivo seria exercido pelo presidente da República, eleito por voto direto e secreto para um período de cinco anos e suprimiu-se a representação profissional na Câmara dos Deputados prevista na Carta de 1934.
- (B) o Poder Legislativo passou a ser bicameral, composto pelo Senado Federal e pela Câmara dos Deputados, recebeu a prerrogativa de elaborar e aprovar a Lei Orçamentária Anual.
- (C) os poderes dos chefes de Executivo, nos níveis federal, estadual e municipal, foram ampliados e, dessa forma, as atribuições do Legislativo e do Judiciário foram bastante enfraquecidas.
- (D) a organização dos trabalhadores foi radicalmente reformulada e os constituintes depuraram da legislação qualquer referência ao sistema presente no Estado Novo, com o fim do imposto sindical e da unicidade sindical.
- (E) os estados federativos perderam consideravelmente a autonomia política e administrativa e os orçamentos estaduais passaram a depender da anuência das autoridades econômicas do governo federal.

40. Às dez da noite de 13 de dezembro de 1968 o ministro da Justiça, Gama e Silva, em cadeia nacional de rádio e televisão, fizera uma rápida introdução de cinco minutos e passara a palavra a Alberto Curi, que durante dezoito minutos havia apresentado, num tom monocórdico e solene, o texto do Ato Institucional nº 5 (AI-5).

(Lília M. Schwarcz e Heloísa M. Starling, *Brasil: uma biografia*. Texto adaptado)

O AI-5 autorizava o presidente da República, entre outras possibilidades,

- (A) suspender os direitos políticos de parlamentares, desde que houvesse a permissão da Justiça; decretar estado de sítio apenas em caso de conflito externo; nomear prefeitos.
- (B) manter o Congresso em recesso por até 30 dias; legislar por decreto nas cidades de Área de Interesse de Segurança Nacional; escolher os integrantes das direções dos partidos políticos.
- (C) criar uma instância jurídica acima do Supremo Tribunal Federal; interferir na gestão de empresas privadas de capital aberto; determinar o valor máximo do superávit primário.
- (D) intervir nos estados e municípios; cassar mandatos parlamentares; suspender, por dez anos, os direitos políticos de qualquer cidadão.
- (E) interferir na direção de empresas privadas consideradas de segurança nacional; indicar o secretário da Justiça de cada estado; e elaborar uma constituição federal.

41. Em 1984, pela primeira vez em vinte anos, a sucessão presidencial não seguiu os trâmites normais do período militar. Por um lado, o governo procurava evitar a Emenda Dante de Oliveira; por outro, não conseguia controlar as divergências internas do PDS em torno da definição de um candidato à presidência. A Emenda Dante de Oliveira seria votada. Entretanto, apesar de o envolvimento nas manifestações representar a vontade da maioria da população brasileira em reestabelecer as eleições diretas, a emenda acabou sendo rejeitada em 25 de abril de 1984.

(Conceição Aparecida Cabrini, 16 de abril de 1984 – Diretas Já. Em: Circe Bittencourt (org.), *Dicionários de datas da história do Brasil*. Texto adaptado)

Com a derrota da Emenda Dante de Oliveira,

- (A) a oposição liberal e setores progressistas uniram-se em torno da candidatura do governador paulista, Franco Montoro, do PMDB, que disputou e venceu o candidato situacionista, Aureliano Chaves, em eleições indiretas.
- (B) grupos políticos mais conservadores, caso do PTB, assumiram a direção das manifestações públicas pelas eleições diretas e conseguiram impor uma vitoriosa candidatura situacionista no Colégio Eleitoral.
- (C) as forças políticas que defendiam a volta das eleições diretas mantiveram-se unidas e conseguiram aprovar uma reforma constitucional que determinava que o novo presidente seria eleito diretamente em 1988.
- (D) os partidos oposicionistas, com a liderança do PDT, condenaram a manutenção das eleições indiretas por meio do Colégio Eleitoral e colocaram em pauta uma nova emenda constitucional com o objetivo de eleições diretas em 1985.
- (E) setores moderados da oposição, conduzidos pelo PMDB, aliaram-se ao PFL, partido fundado por dissidentes do PDS, e lançaram como candidato à presidência o governador de Minas Gerais Tancredo Neves, do PMDB.

42. Trata-se de uma área de livre comércio que tem por objetivo promover “a livre circulação de bens, serviços e fatores produtivos entre os países, através, entre outros, da eliminação dos direitos alfandegários e restrições não-tarifárias à circulação de mercadorias e de qualquer outra medida de efeito equivalente”, foi criado a partir do Tratado de Assunção, assinado em 1991 pelos estados partes e estados associados.

(ROSS, J. L. S. (org.). *Geografia do Brasil*, 1995, p. 261)

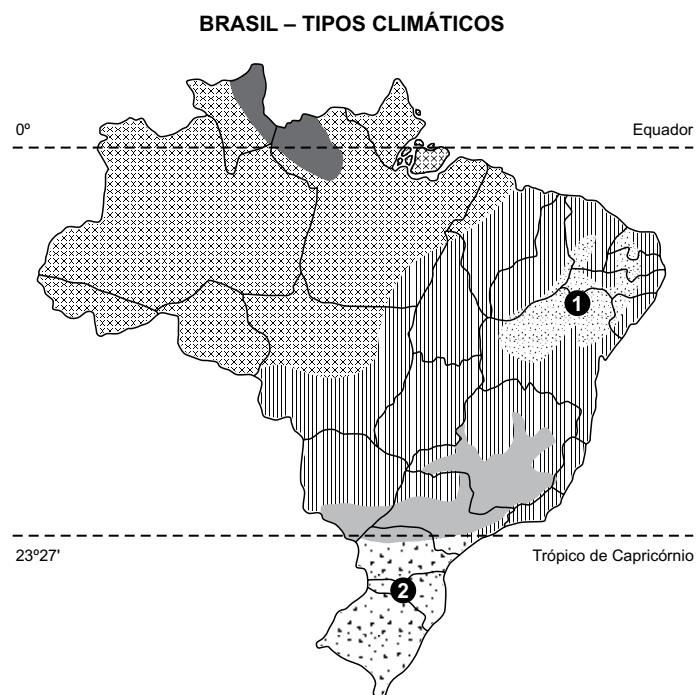
O texto remete às características do

- (A) G8.
 (B) Fundo Monetário Internacional.
 (C) Mercosul.
 (D) BREXIT.
 (E) BRICS.
43. É uma fonte de energia que consiste na conversão natural do calor do interior da terra para o aquecimento de edificações e geração de eletricidade a partir do vapor e da água aquecida. Trata-se de uma fonte de energia ambientalmente mais limpa e com menor emissão de gases poluentes quando comparada às energias fósseis.

Essa forma de energia é definida como:

- (A) geotérmica.
 (B) solar.
 (C) maremotriz.
 (D) termoelétrica.
 (E) heliotérmica.

44. Observe o mapa.



(ROSS, Jurandyr L. Sanches (Org.) *Geografia do Brasil*, 2005, pg. 109)

Os números 1 e 2, indicados no mapa, representam, respectivamente, os tipos climáticos:

- (A) equatorial e tropical de altitude.
 (B) semiárido e subtropical.
 (C) tropical de altitude e subtropical.
 (D) semiárido e equatorial úmido.
 (E) semiárido e equatorial.
45. A estimativa do Instituto Brasileiro de Geografia e Estatística aponta que o Brasil tem, na atualidade, mais de 215 milhões de habitantes. A taxa de crescimento anual tem diminuído nas últimas décadas estando, na atualidade, inferior a 1%, devido, principalmente,
- (A) ao crescimento natural ou vegetativo.
 (B) aos altos índices de criminalidade.
 (C) à manutenção das migrações internas.
 (D) ao incremento da população urbana nas grandes cidades.
 (E) ao aumento da imigração nas últimas décadas.

46. Região que possui drenagens perenes para os cursos d'água principais e secundários, envolvendo, porém, o desaparecimento temporário dos caminhos d'água de menor ordem de grandeza por ocasião do período seco do meio do ano.

(AB'SÁBER, A. N. *Os domínios de natureza no Brasil*, 2003, p. 119)

Na atualidade, é uma área com ocupação marcada pela produção de grãos e por impactos ambientais provocados pela contaminação dos mananciais e do solo pelo uso de agroquímicos. Essa região compreende a área de abrangência do domínio morfoclimático

- (A) dos Mares de Morros.
 - (B) das Caatingas.
 - (C) do Cerrado.
 - (D) Amazônico.
 - (E) das Pradarias.
47. Os ambientes urbanos são marcados pela crescente urbanização e impermeabilização das superfícies, alterando o balanço de energia, além da crescente concentração de poluentes atmosféricos. Nesse ambiente, tem-se observado um fenômeno atmosférico que tende a agravar as condições de desconforto térmico, além de outras consequências indesejáveis para a população.

Esse fenômeno é conhecido como

- (A) enchente urbana.
- (B) redução da camada de ozônio.
- (C) brisa terrestre.
- (D) ilha de calor.
- (E) inversão térmica.

ATUALIDADES

48. Em novembro de 2022, o meio artístico brasileiro foi enlutado pela morte de quatro importantes personalidades. Morreram

- (A) Gal Costa, Rolando Boldrin, Tarcísio Meira e Roberto Guilherme.
- (B) Marília Mendonça, Rolando Boldrin, Erasmo Carlos e Tarcísio Meira.
- (C) Gal Costa, Rolando Boldrin, Paulo Gustavo e Marília Mendonça.
- (D) Marília Mendonça, Paulo Gustavo, Erasmo Carlos e Roberto Guilherme.
- (E) Gal Costa, Rolando Boldrin, Erasmo Carlos e Roberto Guilherme.

49. O Ministério da Defesa da Polônia afirmou, no dia 21 de novembro de 2022, que irá propor a instalação de sistemas de defesa aérea adicionais ao longo de fronteira da Ucrânia, devido aos amplos ataques aéreos resultantes da invasão russa ao país vizinho.

(Veja. Disponível em <https://bitly.com/xVNVeRHNX>. Acesso em 28.11.2022. Adaptado)

A intenção do governo polonês se reporta ao acontecimento de 15 de novembro, quando

- (A) drones russos cruzaram o espaço aéreo polonês para atingir alvos ucranianos.
 - (B) míssil, de origem não confirmada, caiu em território polonês matando duas pessoas.
 - (C) avião ucraniano invadiu o espaço aéreo polonês para defender o seu território.
 - (D) instalações hospitalares polonesas foram atingidas por drones ucranianos desgovernados.
 - (E) aviões russos invadiram o espaço aéreo polonês para atacar a Ucrânia.
50. Os participantes da COP 27 (27ª Conferência das Nações Unidas sobre as Mudanças Climáticas) concordaram com a criação de um fundo compensatório para danos relacionados às mudanças climáticas em países particularmente vulneráveis, uma demanda histórica das nações mais pobres, que pressionavam há décadas pela criação de tal mecanismo. O fundo visa amortecer as consequências inevitáveis do aquecimento global como secas, inundações e tempestades, além do aumento do nível do mar e da desertificação.

(DW. Disponível em <https://bitly.com/hCPQFyphX>. Acesso em 28.11.2022. Adaptado)

A declaração final considera também a

- (A) eliminação gradual do carvão como fonte de energia.
- (B) extinção total dos veículos movidos por derivados de petróleo até 2028.
- (C) criação de um fundo destinado a pesquisas com energia solar.
- (D) proibição de construção de novas usinas nucleares a partir de 2030.
- (E) criação de comissão para elaborar normas referentes à instalação de fontes de energia em alto mar.

NOÇÕES BÁSICAS DE INFORMÁTICA

51. Um usuário editando um documento simples de texto por meio do Bloco de Notas do MS-Windows 10, ambos em configuração padrão, desejava formatar o texto e abriu uma janela com opções de formatação.

Assinale a alternativa que apresenta apenas formatações possíveis de serem feitas por meio do Bloco de Notas conforme o enunciado.

- (A) Texto sublinhado, alinhamento centralizado e tipo de fonte Arial.
- (B) Tipo de Fonte Times New Roman, tamanho de Fonte e alinhamento justificado.
- (C) Itálico, sublinhado e tachado.
- (D) Alinhamento à direita, sublinhado e tachado.
- (E) Itálico, negrito e tamanho de Fonte.
52. Um usuário do MS-Word 2010, em sua configuração padrão, digitou um documento de texto visto na imagem a seguir, com as marcas de parágrafos ativadas.

Soldado → de → 2ª-Classe → —Polícia → Militar¶
¶

Em seguida, selecionou todo o texto visto na imagem e clicou na opção “Inserir Tabela...” do ícone Tabela no grupo Tabelas da guia Inserir. Ao fazer isso, uma tabela foi criada.

O número de linhas e colunas, respectivamente, na tabela criada, conforme o enunciado é

- (A) 2 e 5.
- (B) 2 e 4.
- (C) 1 e 2.
- (D) 1 e 5.
- (E) 1 e 4.
53. Observe a planilha a seguir, elaborada por meio do MS-Excel 2010, em sua configuração padrão.

	A	B	C
1	1	2	1
2	1	4	2
3	5	1	3
4			

Ao preencher a fórmula =MAIOR(A1:C3;4) na célula A4, o valor exibido por esta será:

- (A) 3
- (B) 4
- (C) 2
- (D) 1
- (E) 5

54. Um usuário do Firefox, versão 102, em sua configuração padrão, estava com 4 abas abertas. Fechou uma por engano, e desejava reabrir a aba fechada.

O atalho por teclado que pode ser usado para reabrir a aba fechada, conforme o enunciado é:

- (A) Ctrl + Shift + T
- (B) Alt + F
- (C) Ctrl + F
- (D) Ctrl + Shift + F
- (E) Ctrl + T

55. João recebeu um e-mail enviado pela Maria e escolheu a opção Responder a Todos. Os campos preenchidos automaticamente na resposta de João são vistos a seguir.

De: João
Para: Maria
Cc: Pedro

Assinale a alternativa que contém os possíveis campos do e-mail enviado pela Maria para o João.

- (A) De: Maria
Para: João
Cc: Bianca
Cco: Pedro
- (B) De: Maria
Para: João
Cc: Pedro
Cco: Bianca
- (C) De: João
Para: Pedro
Cc: Maria
Cco: Bianca
- (D) De: João
Para: Maria
Cc: Bianca
Cco: Pedro
- (E) De: Maria
Para: Pedro
Cc: João, Bianca

NOÇÕES DE ADMINISTRAÇÃO PÚBLICA

56. Considere que Luciana tem um filho de sete meses de vida, amamenta, mas foi devidamente processada, julgada e condenada pela prática do crime de roubo. Com base na situação hipotética e no disposto na Constituição Federal, é correto afirmar:
- (A) assegura-se à Luciana o respeito à integridade física e moral, e a ela não deve ser aplicada a pena de banimento.
 - (B) como o filho de Luciana já tem mais de seis meses de vida, não lhe é assegurada a possibilidade de permanecer com seu filho durante o período de amamentação.
 - (C) Luciana poderá ser condenada a cumprir pena de trabalhos forçados.
 - (D) em face do princípio da isonomia, a Constituição determina que a pena deverá ser cumprida no mesmo tipo de estabelecimento penal, não havendo distinção de acordo com a natureza do delito e a idade da apenada.
 - (E) admite-se que Luciana seja condenada à pena de caráter perpétuo, mas não a penas cruéis.
57. Considere que Amauri é Governador do Estado X, mas deseja candidatar-se ao cargo de Presidente da República. Com base na situação hipotética e no disposto na Constituição Federal, é correto afirmar que Amauri
- (A) pode continuar normalmente no seu cargo.
 - (B) deve renunciar ao seu mandato até seis meses antes do pleito.
 - (C) caso perca a eleição para Presidente da República, retornará ao cargo de Governador.
 - (D) precisa pedir a suspensão do seu mandato até três meses antes do pleito presidencial.
 - (E) não pode ter mais de setenta anos e deve estar no mesmo partido há pelo menos seis meses.
58. De acordo com a Constituição Federal, o mandato eletivo poderá ser impugnado ante à
- (A) Justiça Federal, no prazo de quinze dias contados da diplomação, instruída a ação com provas de abuso do poder econômico, corrupção ou fraude.
 - (B) Justiça Eleitoral, no prazo de trinta dias contados da eleição, instruída a ação com provas de abuso do poder econômico, corrupção ou fraude.
 - (C) Justiça Federal, no prazo de quinze dias contados da eleição, instruída a ação com provas de abuso do poder econômico, corrupção ou fraude.
 - (D) Justiça Eleitoral, no prazo de quinze dias contados da diplomação, instruída a ação com provas de abuso do poder econômico, corrupção ou fraude.
 - (E) Justiça Comum, no prazo de trinta dias contados da eleição, instruída a ação com provas de abuso do poder econômico, corrupção ou fraude.
59. A respeito da Administração Pública, assinale a alternativa que está de acordo com a Constituição Federal.
- (A) Os acréscimos pecuniários percebidos por servidor público serão computados para fins de concessão de acréscimos ulteriores.
 - (B) A Constituição incentiva equiparação de espécies remuneratórias para o efeito de remuneração de pessoal do serviço público.
 - (C) O prazo de validade do concurso público será de até quatro anos, prorrogável uma única vez por igual período.
 - (D) Admite-se que os vencimentos dos cargos do Poder Legislativo e do Poder Judiciário sejam superiores aos pagos pelo Poder Executivo.
 - (E) A Lei estabelecerá os prazos de prescrição para ilícitos praticados por qualquer agente, servidor ou não, que causem prejuízos ao erário, ressalvadas as respectivas ações de ressarcimento.
60. De acordo com a Constituição Federal, exercer as funções de polícia marítima é competência
- (A) da Polícia Federal.
 - (B) do órgão da Segurança Pública que primeiro tomar conhecimento da infração.
 - (C) concorrente da Polícia Civil e da Polícia Federal.
 - (D) conjunta da Polícia Militar e do Corpo de Bombeiros.
 - (E) compartilhada da Polícia Militar e da Guarda Civil do município costeiro.

REDAÇÃO

TEXTO 1

O reconhecimento facial está cada vez mais presente no dia a dia da população, e, na esfera pública, tem se popularizado. Na China, por exemplo, o recurso serve até mesmo para multar pedestres que atravessam fora da faixa. No Brasil, a tecnologia também tem sido bastante difundida. Basicamente, o reconhecimento facial pode ser compreendido como um recurso para identificar ou confirmar a identidade de um indivíduo a partir de um sistema tecnológico e pode ser empregado na identificação de fotos, vídeos ou aplicações em tempo real.

Em geral, o reconhecimento facial funciona com as seguintes etapas: 1 – Detecção do rosto por meio da detecção de uma câmera. 2 – Análise da captura a partir de softwares que fazem a leitura da geometria do rosto, como a distância entre os olhos, profundidade das órbitas oculares, distância entre a testa e o queixo, formato da maçã do rosto, contorno dos lábios, entre outros aspectos. 3 – Conversão da imagem – transformam-se as informações analógicas (rosto) em conjuntos de informações digitais (dados), isto é, a análise do rosto se transforma em uma fórmula matemática, na qual um código numérico é chamado de impressão facial. 4 – buscam-se correspondências em bancos de dados.

(“Reconhecimento facial: por que você precisa conhecer a regulamentação?” Disponível em: <https://blog.inteligov.com.br, 11/03/2022>. Adaptado.)

TEXTO 2

A discussão sobre o uso do reconhecimento facial para identificar suspeitos por crimes se concentra na linha tênue entre os avanços na segurança pública e a restrição da liberdade e da privacidade dos cidadãos, que são direitos constitucionais. Em meio a isso, sobram dúvidas sobre como os dados são armazenados e sobre qual é a eficiência dos sistemas adotados por autoridades. A Lei Geral de Proteção de Dados (LGPD) de 2020, que define regras para o tratamento de dados pessoais, não vai afetar o funcionamento desses sistemas de reconhecimento facial, pois seu texto prevê exceção caso o tratamento aconteça para fins de segurança pública.

Gustavo Rodrigues, coordenador de políticas e pesquisador do Instituto de Referência em Internet e Sociedade (IRIS-BH), explica que a adoção do reconhecimento facial tem sido vista com preocupação por conta dos riscos que a tecnologia pode trazer. “Ela pode ferir a presunção de inocência se é utilizada para vigiar quem frequenta certos espaços públicos com a premissa de que todo mundo ali é suspeito ao invés de presumir que todos são inocentes”, afirma. Para Gustavo, “existe um risco para a liberdade de expressão e para as liberdades de associação e reunião que são também afirmadas na Constituição. Porque uma pessoa que sabe está sendo vigiada muda o seu comportamento de maneira a não se expressar plenamente.” Ele explica que isso pode fazer, por exemplo, com que pessoas decidam não participar de manifestações por receio de uma eventual perseguição depois da coleta de dado.

Esse risco é o principal questionamento de ações que pedem a proibição do reconhecimento facial para segurança em países como Estados Unidos e Argentina. “É interessante esse movimento porque ele mostra que está acontecendo um debate, ou seja, que a sociedade não considerou que a implementação dessa tecnologia é algo inevitável e que nós temos que aceitar. A sociedade está tratando isso como algo que tem profundas repercussões sobre os direitos das pessoas e sobre a própria democracia, ou seja, algo que demanda debate”, afirma o pesquisador.

(Victor Hugo da Silva. “Por que o uso de reconhecimento facial na segurança é controverso?”. <https://tecnoblog.net, 2020>. Adaptado.)

TEXTO 3

Enquanto questionam o uso do reconhecimento facial nas ações de segurança pública, chegou-se a 336 capturados com o auxílio dessa tecnologia na Bahia, com a emblemática prisão do homem autor do estupro de uma adolescente de 14 anos. Mesmo cheio de adereços da fantasia que utilizava (peruca, maquiagem, entre outros itens), o suspeito foi capturado quando tentava acessar um dos circuitos do Carnaval de 2019.

Portanto, os benefícios do uso da Tecnologia de Reconhecimento Facial já podem ser sentidos na sociedade. Pessoas à margem da lei, que circulam livremente, valendo-se do anonimato em meio à multidão de cidadãos, estão sendo identificadas com ajuda desse instrumento. Essa tecnologia reprime as tentativas de crime, o que traz para os ambientes o aumento da sensação de segurança sem invadir a intimidade das pessoas, pois a tecnologia é configurada tão somente por critérios presentes nos mandados de prisão emitidos pelo Poder Judiciário.

(Marcos A. O. Conceição. “A contribuição do reconhecimento facial para a segurança pública.” <https://atarde.com.br, 01.08.2022>. Adaptado.)

Com base nos textos apresentados e em seus próprios conhecimentos, escreva um texto dissertativo-argumentativo, empregando a norma-padrão da língua portuguesa, sobre o tema:

O USO DO RECONHECIMENTO FACIAL NA SEGURANÇA PÚBLICA: ENTRE O COMBATE À CRIMINALIDADE E O DIREITO À PRIVACIDADE.

REDAÇÃO

Os rascunhos não serão considerados na correção.

1	
2	
3	
4	
5	
6	
7	
8	
9	
10	
11	
12	
13	
14	
15	
16	
17	
18	
19	
20	
21	
22	
23	
24	
25	
26	
27	
28	
29	
30	
31	
32	
33	

RASCUNHO

NÃO ASSINE ESTA FOLHA

