

AVANÇASP



PREFEITURA MUNICIPAL DE SÃO
MIGUEL ARCANJO/SP

**CONCURSO PÚBLICO
01/2023**

TÉCNICO EM ENFERMAGEM

Leia atentamente as instruções abaixo

1. PROVA E FOLHA DE RESPOSTAS

Além deste Caderno de Prova, contendo 40 (quarenta) questões objetivas, você receberá do Fiscal de Sala:

- 01 (uma) Folha de Respostas destinada às respostas das questões objetivas. Confira se seus dados estão corretos.

2. TEMPO

- 03 (três) horas é o tempo disponível para realização da prova, já incluído o tempo para marcação da Folha de Respostas da prova objetiva;

- **01 (uma) hora** após o início da prova é possível, retirar-se da sala levando o caderno de prova;

3. INFORMAÇÕES GERAIS

- As questões objetivas têm 05 (cinco) alternativas de resposta (A, B, C, D, E) e somente **uma** delas está correta;
- Verifique se seu caderno está completo, sem repetição de questões ou falhas. Caso contrário, informe imediatamente o Fiscal da Sala, para que sejam tomadas as devidas providências;
- Confira seus dados pessoais na Folha de Respostas, especialmente nome, número de inscrição e documento de identidade e leia atentamente as instruções para preenchimento;
- O preenchimento das respostas da prova objetiva é de sua responsabilidade e não será permitida a troca de Folha de Respostas em caso de erro de marcação pelo candidato;

- Marque, na folha de respostas, com caneta de tinta azul ou preta, a letra correspondente à alternativa que você escolheu.

- Reserve tempo suficiente para o preenchimento de suas respostas. Para fins de avaliação, serão levadas em consideração apenas as marcações realizadas na Folha de Respostas da prova objetiva, não sendo permitido anotar informações relativas às respostas em qualquer outro meio que não seja o caderno de prova;

- Ao se retirar, entregue a Folha de Respostas preenchida e assinada ao Fiscal de Sala.

SERÁ ELIMINADO do presente certame o candidato que:

- a) for surpreendido, durante as provas, em qualquer tipo de comunicação com outro candidato;
- b) portar ou usar, qualquer tipo de aparelho eletrônico (calculadoras, bips/pagers, câmeras fotográficas, filmadoras, telefones celulares, smartphones, tablets, relógios, walkmans, MP3 players, fones de ouvido, agendas eletrônicas, notebooks, palmtops ou qualquer outro tipo de computador portátil, receptores ou gravadores) seja na sala de prova, sanitários, pátios ou qualquer outra dependência do local de prova;
- c) se ausentar da sala em que se realizam as provas levando consigo o Caderno de Questões e/ou a Folha de Respostas;
- d) se recusar a entregar a Folha de Respostas, quando terminar o tempo estabelecido;
- e) não assinar a Lista de Presença e/ou a Folha de Respostas.

LÍNGUA PORTUGUESA
TEXTO

O fim do mundo

A primeira vez que ouvi falar no fim do mundo, o mundo para mim não tinha nenhum sentido, ainda; de modo que não me interessava nem o seu começo nem o seu fim. Lembro-me, porém, vagamente, de umas mulheres nervosas que choravam, meio desgrenhadas, e aludiam a um cometa que andava pelo céu, responsável pelo acontecimento que elas tanto temiam. Nada disso se entendia comigo: o mundo era delas, o cometa era para elas: nós, crianças, existíamos apenas para brincar com as flores da goiabeira e as cores do tapete. Mas, uma noite, levantaram-me da cama, enrolada num lençol, e, estremunhada, levaram-me à janela para me apresentarem à força ao temível cometa. Aquilo que até então não me interessava nada, que nem vencia a preguiça dos meus olhos pareceu-me, de repente, maravilhoso. Era um pavão branco, pousado no ar, por cima dos telhados? Era uma noiva, que caminhava pela noite, sozinha, ao encontro da sua festa? Gostei muito do cometa. Devia sempre haver um cometa no céu, como há lua, sol, estrelas. Por que as pessoas andavam tão apavoradas? A mim não me causava medo nenhum. Ora, o cometa desapareceu, aqueles que choravam enxugaram os olhos, o mundo não se acabou, talvez eu tenha ficado um pouco triste – mas que importância tem a tristeza das crianças? Passou-se muito tempo. Aprendi muitas coisas, entre as quais o suposto sentido do mundo. Não duvido de que o mundo tenha sentido. Deve ter mesmo muitos, inúmeros, pois em redor de mim as pessoas mais ilustres e sabedoras fazem cada coisa que bem se vê haver um sentido do mundo peculiar a cada um. Dizem que o mundo termina em fevereiro próximo. Ninguém fala em cometa, e é pena, porque eu gostaria de tornar a ver um cometa, para verificar se a lembrança que conservo dessa imagem do céu é verdadeira ou inventada pelo sono dos meus olhos naquela noite já muito antiga. O mundo vai acabar, e certamente saberemos qual era o seu verdadeiro sentido. Se valeu a pena que uns trabalhassem tanto e outros tão pouco. Por que fomos tão sinceros ou tão hipócritas, tão falsos e tão leais. Por que pensamos tanto em nós mesmos ou só nos outros. Por que fizemos voto

de pobreza ou assaltamos os cofres públicos – além dos particulares. Por que mentimos tanto, com palavras tão judiciosas. Tudo isso saberemos e muito mais do que cabe enumerar numa crônica. Se o fim do mundo for mesmo em fevereiro, convém pensarmos desde já se utilizamos este dom de viver da maneira mais digna. Em muitos pontos da terra há pessoas, neste momento, pedindo a Deus – dono de todos os mundos – que trate com benignidade as criaturas que se preparam para encerrar a sua carreira mortal. Há mesmo alguns místicos – segundo leio – que, na Índia, lançam flores ao fogo, num rito de adoração. Enquanto isso, os planetas assumem os lugares que lhes competem, na ordem do universo, neste universo de enigmas a que estamos ligados e no qual por vezes nos arrogamos posições que não temos – insignificantes que somos, na tremenda grandiosidade total. Ainda há uns dias a reflexão e o arrependimento: por que não os utilizaremos? Se o fim do mundo não for em fevereiro, todos teremos fim, em qualquer mês...

Cecília Meireles

QUESTÃO 01

No trecho “Era um pavão branco, pousado no ar, por cima dos telhados? Era uma noiva, que caminhava pela noite, sozinha, ao encontro da sua festa?”, a personagem se refere:

- (A) a um objeto voador que não foi identificado por ela.
- (B) aos planetas que eram visíveis no céu.
- (C) à dúvida que ela mesma tinha.
- (D) à luminosidade e extravagância do cometa que avistava no céu.
- (E) à lua e às estrelas no céu.

QUESTÃO 02

Considere o trecho: “Mas, uma noite, levantaram-me da cama, enrolada num lençol, e, **estremunhada**, levaram-me à janela para me apresentarem à força ao temível cometa.” A palavra em destaque pode ser substituída, sem prejuízo de valor, por:

- (A) desorientada.
- (B) assustada.
- (C) amedrontada.
- (D) desarrumada.
- (E) desperta.

QUESTÃO 03

No trecho “Nada disso se entendia comigo: o mundo era delas, o cometa era para elas: nós, crianças, existíamos apenas para brincar com as flores da goiabeira e as cores do tapete.”, a personagem do conto trata sobre:

- (A) o seu desinteresse sobre a passagem do cometa.
- (B) o sentimento de nervosismo das mulheres sobre a passagem do cometa.
- (C) as atividades cotidianas das crianças da época.
- (D) ao interesse das mulheres adultas sobre cometas.
- (E) o cometa, cuja passagem era destinada apenas às mulheres adultas.

QUESTÃO 04

Considere os seguintes trechos: 1) “Não **duvido** de que o mundo tenha sentido.”; 2) “Ora, o cometa **desapareceu**”; 3) “**Dizem** que o mundo termina em fevereiro próximo.” Em relação à regência, os verbos em destaque são:

- (A) verbo transitivo indireto; verbo intransitivo; verbo transitivo direto.
- (B) verbo transitivo direto; verbo intransitivo; verbo transitivo direto.
- (C) verbo transitivo indireto; verbo transitivo direto; verbo transitivo direto.
- (D) verbo transitivo indireto; verbo intransitivo; verbo intransitivo.
- (E) verbo transitivo direto; verbo transitivo indireto; verbo intransitivo.

QUESTÃO 05

Quanto à colocação pronominal, no trecho “Mas, uma noite, levantaram-**me** da cama, enrolada num lençol, e, estremunhada, levaram-**me** à janela para **me** apresentarem à força ao temível cometa.” observam-se, respectivamente:

- (A) ênclise, ênclise e próclise.
- (B) mesóclise, mesóclise e próclise.
- (C) ênclise, próclise e próclise.
- (D) próclise, mesóclise e mesóclise.
- (E) ênclise, ênclise e ênclise.

**MATEMÁTICA E RACIOCÍNIO
LÓGICO 06**

Um construtor recebeu um pedido inusitado de um cliente: a sala da residência deve ser projetada em forma de círculo. Considerando que tal cômodo deverá contar com uma área de 27 m², e considerando Pi igual a 3, qual o diâmetro da sala, em metros, a fim de que seja atendida a área requerida pelo proprietário do imóvel?

- (A) 2
- (B) 3
- (C) 4
- (D) 5
- (E) 6

QUESTÃO 07

A Constituição Federal prevê que, para alteração de seu texto, é necessária a aprovação de projeto de emenda na Câmara dos Deputados e no Senado Federal, sendo o quórum de votação de no mínimo 3/5 dos membros em cada casa legislativa. Considerando que a Câmara dos Deputados conta com 513 (quinhentos e treze) membros, ao passo que o Senado Federal é formado por 3 (três) representantes de cada estado e 03 (três) representantes do Distrito Federal, e considerando ainda que o Brasil conta com 26 (vinte e seis estados) e 01 (um) distrito federal, qual o número mínimo de deputados e senadores que devem votar favoravelmente ao projeto para que ele seja aprovado?

- (A) 342 deputados e 27 senadores
- (B) 342 deputados e 54 senadores
- (C) 308 deputados e 27 senadores
- (D) 308 deputados e 49 senadores
- (E) 308 deputados e 54 senadores

QUESTÃO 08

Ao adquirir um televisor, um consumidor dispendeu a quantia de R\$1.000,00 (mil reais). Considerando que o pagamento foi realizado por meio de notas de R\$100 e R\$50, bem como que foram utilizadas, no total, 14 notas, qual a razão entre o número de notas de R\$100 e o número de notas de R\$50 utilizadas?

- (A) 3/4
- (B) 3/5
- (C) 4/3
- (D) 5/3
- (E) 1/6

QUESTÃO 09

Um estudante obteve as seguintes notas: 8,0 na avaliação nº 1; 8,0 na avaliação nº 2; 7,0 na avaliação nº 3 e 10,0 na avaliação nº 4. Considerando que as avaliações nº 1 e 4 possuem peso 01, ao passo que as demais avaliações tem peso 02, qual a média aritmética ponderada obtida pelo aluno?

- (A) 7,00
- (B) 7,25
- (C) 7,50
- (D) 7,75
- (E) 8,00

QUESTÃO 10

Qual o máximo divisor comum – MDC – dos números 28, 56 e 72?

- (A) 2
- (B) 3
- (C) 4
- (D) 5
- (E) 6

ATUALIDADES**QUESTÃO 11**

Como se sabe, as Copas do Mundo são realizadas a cada quatro anos, nos meses de junho e julho. No ano de 2022, a Copa do Mundo realizada no Catar teve início em novembro. Assinale a alternativa que apresenta o motivo para tal alteração no calendário:

- (A) Covid 19.
- (B) temperatura/clima.
- (C) guerra na Ucrânia.
- (D) terrorismo.
- (E) atraso nas obras.

QUESTÃO 12

Após a Rússia ter invadido a Ucrânia, Suécia e Finlândia decidiram aderir à OTAN (Organização do Tratado do Atlântico Norte). No entanto, um dos países membros com poder de voto está dificultando a entrada desses dois países na referida organização internacional. Assinale a alternativa que apresenta o nome de tal país:

- (A) Grécia.
- (B) Turquia.
- (C) Índia.
- (D) Paquistão.
- (E) Polônia

QUESTÃO 13

Em novembro de 2022, um forte terremoto atingiu um país asiático, deixando centenas de mortos. Assinale a alternativa que apresenta corretamente o nome de tal país:

- (A) Singapura.
- (B) Malásia.
- (C) Indonésia.
- (D) Coreia do Sul.
- (E) Japão.

QUESTÃO 14

Na Conferência das Nações Unidas sobre as Mudanças Climáticas (COP 27) realizada em novembro de 2022, representantes de mais de 190 países firmaram um importante acordo, considerado até mesmo histórico. Assinale a alternativa que aponta corretamente o teor de tal acordo:

- (A) criação de um fundo para danos em países vulneráveis.
- (B) envio de médicos para os países pobres.
- (C) paralisação da exploração de petróleo nos países em desenvolvimento.
- (D) investimento na dessalinização do litoral de países do continente africano.
- (E) investimento no setor da pesca sustentável.

QUESTÃO 15

No mês de julho de 2022, um político japonês que serviu como primeiro-ministro foi baleado e morto. Assinale o nome de tal político:

- (A) Fumio Kishida.
- (B) Shinzo Abe.
- (C) Nobuo Kishi.
- (D) Taro Kono.
- (E) Yoshihide Suga

NOÇÕES DE INFORMÁTICA**QUESTÃO 16**

Qual dos seguintes recursos está disponível no MS-Excel 2016?

- (A) Visualização de imagens
- (B) Criação de gráficos
- (C) Organização de pastas
- (D) Instanciação de objetos
- (E) Envio de mensagens

QUESTÃO 17

Qual dos seguintes recursos do MS-PowerPoint 2016 permite anotar slides durante uma apresentação?

- (A) Apresentação de slides
- (B) Painel de anotação
- (C) Modo de exibição de tela inteira
- (D) Comentários
- (E) Exibição de projeção

QUESTÃO 18

O que é possível fazer com cabeçalhos e rodapés no MS-PowerPoint 2016?

- (A) Inserir GIFs
- (B) Inserir gráficos
- (C) Inserir textos
- (D) Inserir animações
- (E) Inserir transições

QUESTÃO 19

Qual das seguintes opções é uma característica de uma célula no MS-Excel 2016?

- (A) É uma janela do aplicativo
- (B) É a unidade estrutural da planilha
- (C) É o nome de uma coluna
- (D) É o nome de uma linha
- (E) É um conjunto de objetos

QUESTÃO 20

O que é URL?

- (A) Um servidor de hosting usado para hospedar sites
- (B) Uma ferramenta usada para pesquisar na Internet
- (C) Uma string de texto que identifica de maneira exclusiva um documento ou recurso na Web
- (D) O formato de arquivo mais usado para armazenar informações na Internet
- (E) Um protocolo de transferência de arquivos usado para baixar conteúdo da web.

CONHECIMENTOS ESPECÍFICOS**QUESTÃO 21**

Foram prescritos 1000 mL de soro glicosado para serem administrados em 7 horas. Assinale a alternativa que apresenta o controle de gotejamento aproximado que o técnico de enfermagem deverá empregar se utilizado um equipo de microgotas:

- (A) 143 gotas/min.
- (B) 48 gotas/min
- (C) 20 gotas/min.
- (D) 60 gotas/min.
- (E) 10 gotas/min.

QUESTÃO 22

Após o procedimento cirúrgico, o paciente foi encaminhado para a unidade de terapia intensiva para monitoramento. Sobre o preparo do paciente para utilização de monitor multiparamétrico, assinale a alternativa correta.

- (A) Como a pele é um bom condutor, não há necessidade de qualquer preparação prévia para o acoplamento dos eletrodos.
- (B) É recomendável montar os grampos antes de posicionar os eletrodos no paciente. Se necessário, esfregue a pele a seco para aumentar a corrente sanguínea dos vasos capilares.
- (C) Em todos os casos, a pele deverá ser limpa com álcool puro ou éter antes da adição dos eletrodos.
- (D) Não é recomendada a raspagem seca da pele para o acoplamento de eletrodos. Se a extração de pelos for necessária, deve-se utilizar cremes a base de solventes orgânicos voláteis.
- (E) Nunca deve ser utilizada pasta (ou gel) condutora nos eletrodos antes do acoplamento no paciente, pois sua adição interfere nas medidas ao reduzir a impedância da pele.

QUESTÃO 23

Sobre o uso do estetoscópio, analise as afirmativas a seguir.

- I. É indicado para a ausculta invasiva dos ruídos e sons produzidos pelo sistema cardiorrespiratório.
- II. No estetoscópio, há um componente nomeado diafragma.
- III. Entre um paciente e outro, o estetoscópio deve ser limpo com água sanitária a 2% v/v.

Está correto o que se afirma em:

- (A) III, apenas.
- (B) I, II e III.
- (C) I e III, apenas.
- (D) II e III, apenas.
- (E) II, apenas.

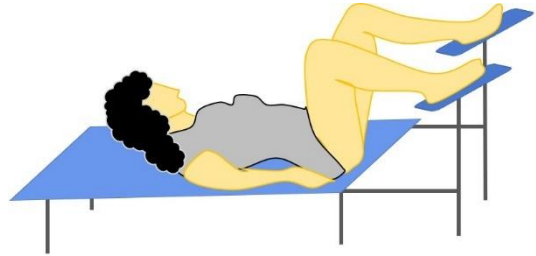
QUESTÃO 24

Sobre a utilização do esfignomanômetro, assinale a alternativa correta.

- (A) Em repouso, o ponteiro do esfignomanômetro deve marcar 15 ± 5 mmHg.
- (B) Nunca inflar o instrumento acima de 300 mmHg.
- (C) O equipamento pode ser autoclavado para a esterilização.
- (D) Após a esterilização úmida, o equipamento deve ser exposto ao sol para secagem completa.
- (E) A limpeza em autoclave pode ocorrer somente se utilizado 135°C e 3,5bar. Temperaturas ou pressões superiores danificam a pêra/bulbo e as conexões plásticas.

QUESTÃO 25

O médico solicitou ao técnico de enfermagem que colocasse a paciente na seguinte posição:



A posição indicada na imagem é nomeada:

- (A) Ventral.
- (B) Genupeitoral.
- (C) Ortostática.
- (D) Litotômica.
- (E) *Flower*.

QUESTÃO 26

A cirurgia eletiva não ocorreu conforme o esperado e o paciente precisou de transfusão de sangue. O enfermeiro, então, solicitou ao técnico que o ajudasse na coleta dos materiais necessários para este procedimento. Sobre o uso do equipo nesses procedimentos, assinale a alternativa correta.

- (A) É utilizado o mesmo equipo padrão, de macrogotas, empregado na infusão de medicamentos.
- (B) São utilizados equipos específicos para o tipo de fator Rh do paciente.
- (C) Deve ser empregado o equipo de microgotas, sendo obrigatória sua esterilização em autoclave antes e após o uso.
- (D) É utilizado um equipo com filtro para retenção de partículas.
- (E) Deve ser empregado um equipo automatizado e específico para o tipo de sangue do paciente.

QUESTÃO 27

Sobre os procedimentos para a aferição da pressão arterial, assinale a alternativa correta.

- (A) A braçadeira deve ser colocada aproximadamente 2-3 cm acima do cotovelo, na mesma altura do coração.
- (B) O feche do velcro não deve ser apertado. O fechamento deve permitir que 8-10 dedos possam se encaixar facilmente entre a braçadeira e o braço.
- (C) Se for utilizado um estetoscópio, as ovinas devem ser posicionadas acima da artéria braquial, na fossa umeral, evitando compressão excessiva no braço ou contato com a braçadeira.
- (D) Abra a válvula de controle de ar na pêra infladora girando-a no sentido horário, cuidando para não apertar demais.
- (E) Durante a medição da pressão, é importante conversar com o paciente e tranquiliza-lo. Se possível, forneça a ele água na temperatura natural para que o mesmo se hidrate durante a aferição.

QUESTÃO 28

Uma das tarefas do dia-a-dia do profissional técnico em enfermagem é dar banhos em pacientes que não têm condições de sair de seus leitos. Após o banho, as roupas e lençóis contaminados são comumente depositados no objeto apresentado na imagem.



(Disponível em <https://www.hospitalarmultimarcas.com.br/>, com adaptações)

No ambiente hospitalar, o acessório apresentado na imagem é nomeado:

- (A) *Hamper*.
- (B) *Down-press*.
- (C) Carrinho *Flash limp*.
- (D) Mop giratório.
- (E) Balde dobro.

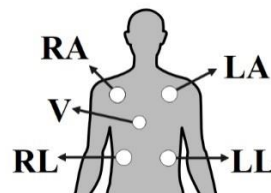
QUESTÃO 29

Ao utilizar o equipo de macrogotas, considere-se que 1 mililitro equivale, aproximadamente, a:

- (A) 50 gotas.
- (B) 65 gotas.
- (C) 45 gotas.
- (D) 60 gotas.
- (E) 20 gotas.

QUESTÃO 30

A imagem representa a colocação de cinco eletrodos para monitoramento cardíaco.



Considerando o padrão de AHA (*American Heart Association*), as cores usadas são:

- (A) Verde (RA), amarelo (LA), marrom (V), branco (RL) e preto (LL).
- (B) Preto (RA), marrom (LA), verde (V), roxo (RL) e laranja (LL).
- (C) Marrom (RA), preto (LA), verde (V), roxo (RL) e branco (LL).
- (D) Branco (RA), preto (LA), marrom(V), verde (RL) e vermelho (LL).
- (E) Preto (RA), laranja (LA), branco (V), verde (RL) e vermelho (LL).

QUESTÃO 31

Para a troca do curativo no cateter venoso central, o paciente deve ser colocado na posição:

- (A) *Sims*.
- (B) *Trendelemburg*.
- (C) Prona.
- (D) Litotômica.
- (E) Decúbito dorsal.

QUESTÃO 32

Trata-se de um documento que se refere ao direito do paciente em aceitar ou rejeitar o tratamento oferecido pela enfermeira ou outro profissional de saúde. Geralmente, o documento é apresentado antes da realização de procedimentos clínicos ou cirúrgicos por médicos. Dessa forma, é dever do médico informar ao paciente o tipo de tratamento e os procedimentos alternativos, bem como seus riscos e benefícios potenciais. Em situação de concordância por parte do paciente com o tratamento, o documento deverá ser assinado, se possível, na presença da enfermeira.

O documento de que trata a descrição é nomeado:

- (A) Consentimento informado.
- (B) Certidão de internação.
- (C) Despacho de tratamento.
- (D) Ata de internamento.
- (E) Guia de encaminhamento.

QUESTÃO 33

Sobre a administração endovenosa, analise as afirmativas a seguir e, logo após, atribua (V) para verdadeira e (F) para falsa.

- () Refere-se à administração de fármaco direto na veia, a fim de se obter efeito mais rápido.
- () Pode ser utilizada uma veia superficial de grande calibre, como as da dobra do cotovelo, a cefálica, a basílica e a mediana.
- () A administração endovenosa não deve ser realizada nas veias do antebraço e as do plexo venoso do dorso da mão.

A sequência está correta em:

- (A) V – V – F.
- (B) F – V – F.
- (C) V – F – F.
- (D) F – F – V.
- (E) F – F – F.

QUESTÃO 34

São materiais utilizados pelo profissional durante a administração de alimentos enterais (sonda), EXCETO:

- (A) Seringa enteral.
- (B) Laringoscópio.
- (C) Estetoscópio.
- (D) Cálices graduados.
- (E) Luvas.

QUESTÃO 35

As infecções das incisões ou feridas cirúrgicas requerem manejo rápido, pois podem afetar o paciente sistemicamente. São manifestações clínicas típicas de feridas infeccionadas, EXCETO:

- (A) Presença de tecido de granulação.
- (B) Eritema.
- (C) Secreções na ferida.
- (D) Odor.
- (E) Edema excessivo.

QUESTÃO 36

Sobre o uso de sondagem nasogástrica, analise as afirmativas a seguir:

- I.** Pode ser utilizada no preparo de pacientes para exames ou cirurgias.
- II.** Pode ser usada para gavagem.
- III.** Não é recomendada para drenagem do suco gástrico.
- IV.** É amplamente usada para administração de medicamentos em pacientes que não podem deglutir.

Está correto o que se afirma em:

- (A) II e III, apenas.
- (B) I, II e IV, apenas.
- (C) I e II, apenas.
- (D) II e IV, apenas.
- (E) IV, apenas.

QUESTÃO 37

A administração da injeção intramuscular oferece alguns riscos se não administrada da forma correta e no local apropriado. Ao fazer a administração intravenosa no glúteo, é necessário observar bem o local da introdução da agulha, pois pode haver perigo de

- (A) atingir um vaso sanguíneo, como a veia cava superior.
- (B) atingir o nervo safeno.
- (C) atingir a veia palmar.
- (D) atingir o nervo ilíaco.
- (E) atingir o nervo ciático.

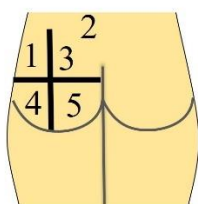
QUESTÃO 38

Sobre as características dos curativos secos utilizados no manejo de feridas, assinale a alternativa correta.

- (A) Não oferecem proteção adequada à ferida.
- (B) Absorvem o material drenado e têm aspecto estético satisfatório ao paciente.
- (C) A aderência na superfície da ferida acelera a formação de tecidos de cicatrização.
- (D) São contraindicados para feridas que fecham por primeira intenção (como sutura tardia de ferida infectada).
- (E) A aderência contribui para a estabilização dos tecidos de granulação.

QUESTÃO 39

Considere a imagem a seguir:



A aplicação intramuscular na região do glúteo deve ocorrer na posição marcada pelo número:

- (A) 4.
- (B) 2.
- (C) 5.
- (D) 1.
- (E) 3.

QUESTÃO 40

Nos termos do Art. 7º da Lei nº 7.498/1986, que dispõe sobre a regulamentação do exercício da enfermagem, são técnicos de enfermagem:

- (A) somente aqueles que apresentarem diploma de auxiliar de enfermagem, emitido no Brasil.
- (B) aqueles com diploma de auxiliar de enfermagem, emitido exclusivamente no Brasil ou em algum país do Mercosul.
- (C) apenas aqueles que tenham certificado de técnico de enfermagem emitido exclusivamente no Brasil.
- (D) aqueles que apresentarem diploma de técnico de enfermagem nacional ou revalidado.
- (E) somente aqueles que apresentarem diploma de Técnico de Enfermagem, Auxiliar de Enfermagem ou Técnico em Saúde, emitidos exclusivamente no Brasil.

