

CADERNO

103

**FADENOR**  
FUNDAÇÃO DE APOIO AO DESENVOLVIMENTO DO ENSINO SUPERIOR DO NORTE DE MINAS

1.221.462

**CONCURSO PÚBLICO PARA PROVIMENTO DE CARGOS EFETIVOS  
DA PREFEITURA MUNICIPAL DE  
SÃO ROMÃO - MG**

**AUXILIAR DE CUIDADOR  
ELETRICISTA  
MOTORISTA AMADOR**

**ORIENTAÇÕES**

- 01 - Este caderno contém questões do tipo múltipla escolha.
- 02 - Verifique se o caderno contém falhas: folhas em branco, má impressão, páginas trocadas, numeração errada, etc. Encontrando falhas, levante a mão. O Fiscal o atenderá e trocará o seu caderno.
- 03 - Não marque mais de uma resposta para a mesma questão, nem deixe nenhuma delas sem resposta. Se isso acontecer, a resposta não será computada.
- 04 - Para marcar as respostas, use preferencialmente caneta esferográfica com tinta azul ou preta. **NÃO** utilize caneta com tinta vermelha. Assinale a resposta certa, preenchendo toda a área da bolinha.
- 05 - Tenha cuidado na marcação da Folha de Respostas, pois ela não será substituída em hipótese alguma.
- 06 - Confira e assine a Folha de Respostas, antes de entregá-la ao Fiscal. **NA FALTA DA ASSINATURA, A SUA PROVA SERÁ ANULADA.**
- 07 - Não se esqueça de assinar a Lista de Presenças.

OBS.: Candidatos com cabelos longos deverão deixar as orelhas totalmente descobertas durante a realização das provas. É proibido o uso de boné.

**NOME:**

**Nº DO PRÉDIO:**

**SALA:**

**ASSINATURA**

**COTEC**  
CONCURSOS  
TÉCNICOS

## PROVA DE LÍNGUA PORTUGUESA

**INSTRUÇÃO:** Leia, com atenção, o texto 01 a seguir para responder às questões que a ele se referem.

### Texto 01

#### Livros que abraçam

- 1 Quer coisa melhor para tirar o pé do acelerador do que uma leitura descomplicada e leve? Primeiramente, esses livros foram escolhidos pensando em quem precisa descansar, mas não quer perder a chance de passar bons momentos lendo.
- 5 Em “Canja de galinha para a alma”, um clássico americano moderno, é impossível não sentir um abraço das páginas. O compilado de histórias, em sua maioria com um final surpreendente e feliz, foi pensado justamente para aquecer o coração. Já “Quatro estações em Roma” faz você querer fazer as malas e partir amanhã para o caos romano. Além de muitas risadas, o livro deixa um gostinho de quero mais e ajuda a esquecer o mundo real.
- 10 Por fim, para fechar com garfo de ouro, um livro sobre comida. Afinal, poucas coisas trazem mais conforto do que uma boa comida. Agora imagina apreciar um livro que tem até algumas receitas? Cozinhar, comer e até cultivar os próprios alimentos são formas maravilhosas de desacelerar. Então, permita-se visitar “O maravilhoso bistrô francês” e sair de lá com a alma nutrida e descansada.

Disponível em: <https://vidasimples.com/>. Acesso em: 6 mar. 2023.

#### QUESTÃO 01

Analise as afirmativas a seguir tendo em vista as ideias veiculadas no texto 01.

- I - A leitura possibilita às pessoas não só diminuir o ritmo de vida, como também usufruírem de momentos agradáveis.
- II - O texto traz uma proposta de leitura de fruição, ou seja, aquela que distrai, diverte e dá prazer.
- III - O descanso que as leituras indicadas no texto proporcionam está relacionado aos temas sobre os quais elas versam.
- IV - O ato de ler é mais indicado para desacelerar que as ações de cultivar os alimentos, cozinhar e comer.
- V - Um ponto negativo da leitura é que ela pode fazer com que as pessoas se desconectem completamente da realidade.

Estão **CORRETAS** as afirmativas

- A) I, III e IV, apenas.
- B) I, II e IV, apenas.
- C) I, II e III, apenas.
- D) II e IV, apenas.
- E) IV e V, apenas.

#### QUESTÃO 02

A linguagem conotativa, é usada como recurso de expressão reiteradamente no texto.

Analise, a seguir, as expressões retiradas do texto.

- I. “[...] tirar o pé do acelerador [...]” (Linha 1)
- II. “[...] um abraço das páginas [...]” (Linhas 4-5)
- III. “[...] fechar com garfo de ouro [...]” (Linha 8)
- IV. “[...] um livro sobre comida [...]” (Linha 8)
- V. “[...] para aquecer o coração [...]” (Linha 6)

São exemplos do referido uso conotativo as expressões

- A) II, IV e V, apenas.
- B) I, II, III e V, apenas.
- C) I, III e IV, apenas.
- D) II, III e V, apenas.
- E) I, II, III, IV e V.

### QUESTÃO 03

Considere o trecho “Em ‘Canja de galinha para a alma’, um clássico americano moderno, é impossível não sentir um abraço das páginas.” (Linhas 4-5)

Analise as afirmativas a seguir, tendo em vista os usos das vírgulas no referido trecho.

- I. A expressão “Em ‘canja de galinha para a alma’” foi usada como um adjunto adverbial e, conforme a norma, por estar antecipada, deve ser separada por vírgula.
- II. O termo “um clássico americano moderno” foi usado como um aposto explicativo e, de acordo com a norma, deve ser colocado entre vírgulas.
- III. As vírgulas usadas depois dos termos “alma’ e “moderno”, de acordo com a norma, foram usadas facultativamente.
- IV. O uso da vírgula depois do termo “alma’ é obrigatório, e depois do termo “moderno”, é facultativo, de acordo com a norma.
- V. As vírgulas foram usadas no trecho para separar, respectivamente, uma oração subordinada adverbial antecipada e uma oração subordinada adjetiva explicativa.

Estão **CORRETAS** as afirmativas

- A) III e V, apenas.
- B) II, III e IV, apenas.
- C) II e V, apenas.
- D) I, III e V, apenas.
- E) I e II, apenas.

**INSTRUÇÃO:** Leia, com atenção, o texto 02 a seguir para responder às questões que a ele se referem.

Texto 02



Disponível em: <https://www.hypeness.com.br/>. Acesso em: 7 mar. 2023.

### QUESTÃO 04

Analise as afirmativas a seguir tendo em vista as ideias veiculadas no texto 02.

- I. Existem pessoas que são carentes não só de alimentos, como também de livros.
- II. Os itens de uma cesta básica e os livros, cada um à sua maneira, são alimentos.
- III. Algumas pessoas não leem porque não têm tempo, outros, porque não têm livros.
- IV. As pessoas necessitam de alimentos que nutrem o corpo como também o intelecto.
- V. A doação de alimentos básicos é mais urgente e necessária que a doação de livros.

Estão **CORRETAS** as alternativas

- A) I, II, III e IV, apenas.
- B) II, III e IV, apenas.
- C) I, III e V, apenas.
- D) II, IV e V, apenas.
- E) II, III, IV e V, apenas.

### QUESTÃO 05

Sobre o trecho “Tem gente que não tem tempo para ler. E tem gente que não tem livro.”, analise as afirmativas a seguir.

- I - A expressão “tem gente”, usada no registro informal, resultaria, no registro formal, em “há pessoas”.
- II - Se no lugar de “tem gente” fosse usado “há pessoas”, o verbo “tem”, em todos os seus usos no trecho, não sofreria alteração em sua grafia.
- III - No registro formal, o trecho “Tem gente que não tem tempo para ler [...]” seria escrito “Há pessoas que não têm tempo para ler [...]”.
- IV - Na frase “Tem muita cafeteria nesta cidade.”, observa-se o uso do verbo “ter” no mesmo sentido em que foi empregado na expressão “tem gente” no trecho.
- V - A conclusão a que se chega é que o uso do verbo “tem” no lugar de “há” (com sentido de existir) é uma marca de coloquialidade.

Estão **CORRETAS** as afirmativas

- A) II, III e IV, apenas.
- B) I, III, IV e V, apenas.
- C) I, III e IV, apenas.
- D) III, IV e V, apenas.
- E) I, II, III, IV e V.

**INSTRUÇÃO:** Leia, com atenção, o texto 03 a seguir para responder às questões que a ele se referem.

Texto 03



Disponível em: <https://revistagalileu.globo.com/Cultura/>. Acesso em: 7 mar. 2023.

### QUESTÃO 06

Analise as afirmativas a seguir, tendo em vista o que se infere sobre o texto 03.

- I - Existem diferentes gêneros de textos que podem ser escolhidos para a leitura.
- II - O pensamento do último personagem confirma a suposição feita anteriormente.
- III - É possível ter preferência por ler textos escritos em gêneros textuais diferentes.
- IV - Cada um dos personagens considera que a sua preferência de leitura é a melhor.
- V - Todos os personagens deixam claro, em suas falas, o seu tipo de leitura preferido.

Estão **CORRETAS** as afirmativas

- A) II e V, apenas.
- B) I, III e IV, apenas.
- C) III, IV e V, apenas.
- D) I, II e III, apenas.
- E) I, II, III, IV e V.

### QUESTÃO 07

Analise as afirmativas a seguir tendo em vista a estruturação das falas do texto 03.

- I - As aspas foram usadas em “cachorro morde instrutor” para indicar a repetição literal do que está sendo lido.
- II - A conjunção coordenativa “e”, usada em três falas, insere nelas uma ideia de acréscimo.
- III - No trecho “todos lemos”, se o verbo for passado para a 3.ª pessoa do plural, resultando em “todos leem”, acarretará mudança de sentido na fala.
- IV - O pronome “nos”, na quinta fala, foi usado para completar o verbo principal “interessar”, que forma a locução verbal “parece interessar”.
- V - O advérbio “não” foi usado pelo personagem, na quinta fala, para negar, contradizer aquilo que outros personagens disseram anteriormente.

Estão **CORRETAS** as afirmativas

- A) II, III e IV, apenas.
- B) I, II e V, apenas.
- C) I, II, III e IV, apenas.
- D) III, IV e V, apenas.
- E) I, III e V, apenas.

**INSTRUÇÃO:** Leia, com atenção, o texto 04 a seguir para responder às questões que a ele se referem.

Texto 04



Disponível em: <https://medium.com/>. Acesso em: 7 mar. 2023.

### QUESTÃO 08

Analise as afirmativas, tendo em vista as ideias veiculadas no texto 04.

- I - Armandinho considera que os seus livros o estão tornando uma pessoa mais sábia.
- II - Armandinho estranha o fato de que, mesmo tendo livros, não está se tornando sábio.
- III - A pergunta de Fê revela que os livros só trazem sabedoria para aqueles que os lê.
- IV - Armandinho expressa a Fê a sua tristeza pelo fato de ganhar somente livros de presente.
- V - Armandinho reconhece que, para adquirir sabedoria, ele deve ler os livros que ganha.

Estão **CORRETAS** as afirmativas

- A) I, II e III, apenas.
- B) I, III e IV, apenas.
- C) III, IV e V, apenas.
- D) II, IV e V, apenas.
- E) I, II, III, IV, apenas.

### QUESTÃO 09

A pergunta de Armandinho, no terceiro quadro, revela

- A) esperteza.
- B) inteligência.
- C) maturidade.
- D) ingenuidade.
- E) contrariedade.

### QUESTÃO 10

Analise as afirmativas, tendo em vista a organização morfossintática das falas do texto 04.

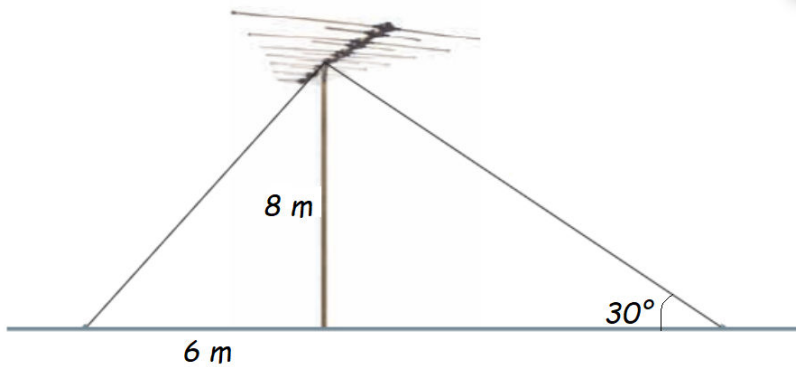
- I - A conjunção “mas” insere, na terceira fala, uma ideia de contradição.
- II - A grafia “por quê” justifica-se por estar no final de frase interrogativa.
- III - O uso do “eles” em “Você já leu eles?” é uma marca da oralidade.
- IV - A frase “Você já leu eles?”, normativamente, seria “Você já os leu?”.
- V - O verbo “vive” insere, na primeira fala, uma ideia de continuidade.

Estão **CORRETAS** as afirmativas

- A) I, II e IV, apenas.
- B) III, IV e V, apenas.
- C) I, II, IV e V, apenas.
- D) II, III, IV e V, apenas.
- E) I, II, III, IV e V.

## PROVA DE MATEMÁTICA

**INSTRUÇÃO:** Foram usadas duas medidas de cabo de aço para sustentar uma antena, como mostra a imagem a seguir.



Fonte: O autor, 2022.

Use:

$$\text{sen. } 30^\circ = \frac{1}{2}$$

$$\text{cos } 30^\circ = \frac{\sqrt{3}}{2}$$

$$\text{tg } 30^\circ = \frac{\sqrt{3}}{3}$$

### QUESTÃO 11

É **CORRETO** afirmar que a quantidade mínima de cabo utilizado para impedir a queda dessa antena é

- A) 10 m.
- B) 16 m.
- C) 25 m.
- D) 24 m.
- E) 26 m.

### QUESTÃO 12

Dois números são tais que a soma entre eles é 138. Sabe-se que um deles é o quádruplo do outro. Então, esses números são, em ordem crescente,

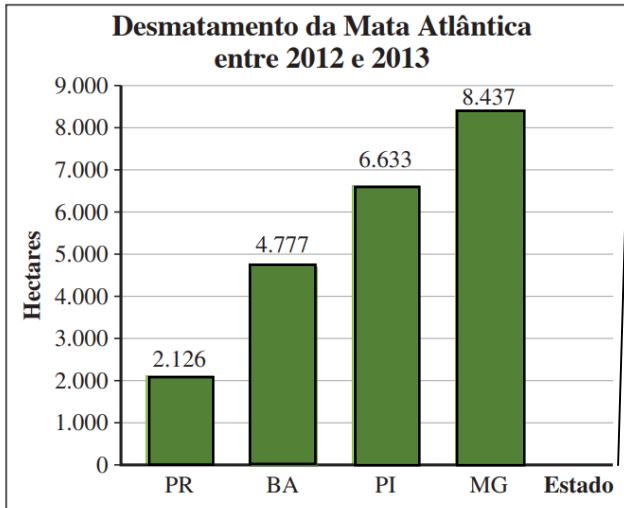
- A) 22 e 116.
- B) 24 e 114.
- C) 23 e 115.
- D) 20 e 118.
- E) 21 e 117.

### QUESTÃO 13

Dois homens que caminham 1 km a cada 15 minutos devem percorrer uma distância de 24 km. Pode-se concluir que o tempo gasto para finalizar o percurso é

- A) 7 h.
- B) 6 h.
- C) 5 h.
- D) 4 h.
- E) 3 h.

**INSTRUÇÃO:** O gráfico a seguir mostra a área de Mata Atlântica desmatada de 2012 a 2013.



Considere: 1 hectare = 10 000 m<sup>2</sup>.  
Considere também que a área de um campo de futebol é igual a 10 800m<sup>2</sup>.

Disponível em: [www.sosma.org.br](http://www.sosma.org.br). Acesso em: 19 dez. 2022.

#### QUESTÃO 14

Nessas condições, é **CORRETO** afirmar que, nos quatro estados em análise, a Mata Atlântica foi degradada em, aproximadamente,

- A) 20.345 campos de futebol.
- B) 20.545 campos de futebol.
- C) 23.045 campos de futebol.
- D) 24.305 campos de futebol.
- E) 25.345 campos de futebol.

#### QUESTÃO 15

Considere um capital de R\$ 50.000,00 aplicado a juros compostos durante 3 anos, com taxa de 5% ao semestre. A expressão que melhor representa o montante obtido ao final da aplicação é

- A)  $M = 50\,000 \cdot (1 + 0,05)^5$ .
- B)  $M = 50\,000 \cdot (1 + 0,3)^5$ .
- C)  $M = 50\,000 \cdot (1 + 0,5)^6$ .
- D)  $M = 50\,000 \cdot (1 + 0,03)^6$ .
- E)  $M = 50\,000 \cdot (1 + 0,05)^6$ .

#### QUESTÃO 16

Considere  $x = 2$  e  $y = -3$  e a expressão  $3x^2y^3 + x^2y^2 + \sqrt{3x + y^2 + 1}$

É **CORRETO** afirmar que o valor numérico dessa expressão está compreendido entre

- A)  $-290$  e  $-280$ .
- B)  $-280$  e  $-270$ .
- C)  $+280$  e  $+290$ .
- D)  $+350$  e  $+360$ .
- E)  $+260$  e  $+270$ .

#### QUESTÃO 17

Considere a inequação  $4(x+5) \leq 5x+10$ , sendo  $U = Q$ . É **CORRETO** afirmar que o conjunto solução dessa inequação é

- A)  $x \leq 0$  com  $x \in Z$ .
- B)  $x \geq 10$  com  $x \in Q$ .
- C)  $x \leq 10$  com  $x \in N$ .
- D)  $x \geq -10$  com  $x \in Q$ .
- E)  $x \leq -10$  com  $x \in Q$ .

#### QUESTÃO 18

O produto do polinômio  $(x^2 + 2x - 1)$  por  $(x + 1)$  resulta em

- A)  $x^3 - 3x^2 + x - 1$ .
- B)  $x^3 + 3x^2 - x - 1$ .
- C)  $x^3 + 3x^2 + x + 1$ .
- D)  $x^3 + 3x^2 + x - 1$ .
- E)  $x^3 - 3x^2 - x - 1$ .

---

**QUESTÃO 19**

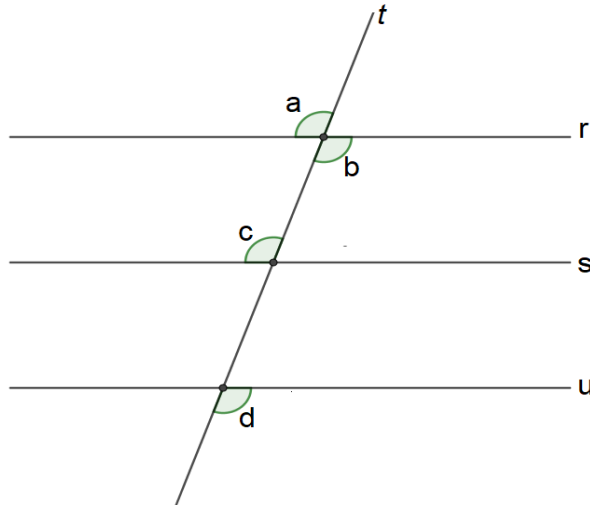
O custo de um pneu de carro popular é, em média, R\$ 280,00 e é vendido com lucro de R\$ 70,00. Então, é **CORRETO** afirmar que a taxa percentual do lucro, quando comprado ao valor de venda, é

- A) 2,5%.
- B) 3%.
- C) 25%.
- D) 30%.
- E) 35%.

---

**QUESTÃO 20**

Considere as retas  $r$ ,  $s$  e  $u$  e a reta  $t$  transversal, e os ângulos  $a$ ,  $b$ ,  $c$  e  $d$  da figura a seguir.



Fonte: O autor, 2022.

Pode-se afirmar que os ângulos

- A)  $a$  e  $d$  são colaterais externos e os ângulos  $c$  e  $b$  são colaterais internos.
- B)  $c$  e  $d$  são correspondentes e os ângulos  $a$  e  $b$  são alternos externos.
- C)  $a$  e  $c$  são correspondentes e os ângulos  $b$  e  $d$  são alternos externos.
- D)  $a$  e  $b$  são opostos pelo vértice e os ângulos  $c$  e  $d$  são alternos externos.
- E)  $a$  e  $b$  são opostos pelo vértice e os ângulos  $c$  e  $d$  são colaterais externos.

### PROVA DE CONHECIMENTOS GERAIS

**QUESTÃO 21**

Na sociedade de economia cafeeira do século dezenove, o crescimento do comércio mudou o cenário brasileiro, em particular na região Sudeste. Cidades cresceram e outras cidades surgiram. Sobre esse período da história do Brasil, leia o texto a seguir.

As \_\_\_\_\_ diminuíram as distâncias e aumentaram o intercâmbio de mercadorias e ideias. A classe \_\_\_\_\_ urbana formava-se, diversificava-se e a sociedade tornava-se mais heterogênea. A população das cidades incluía homens livres e pobres, imigrantes, negros, \_\_\_\_\_ e empresários de vários ramos. \_\_\_\_\_ era o principal centro urbano.

As palavras que completam coerentemente as lacunas são, na ordem,

- A) rodovias, baixa, libertos, Rio de Janeiro.
- B) ferrovias, média, libertos, São Paulo.
- C) rodovias, média, escravizados, São Paulo.
- D) ferrovias, média, libertos, Rio de Janeiro.
- E) ferrovias, baixa, escravizados, São Paulo.

---

**QUESTÃO 22**

No Brasil, com o aumento populacional das cidades, multiplica-se a necessidade de novas habitações, o que leva ao loteamento das chácaras, dos sítios e das fazendas em seu entorno. Assim, o espaço entre as diversas cidades é ocupado com habitações, indústrias, pavimentação entre outros, gerando a unificação da área urbana horizontal de duas ou mais cidades. O conceito que está implícito nesse trecho é

- A) conturbação.
- B) conurbação.
- C) diferenciação.
- D) ruralização.
- E) crescimento.



---

**QUESTÃO 23**

Foi um movimento artístico liderado por Caetano Veloso e Gilberto Gil, o qual teve sua melhor expressão na música. Combinavam-se instrumentos variados, berimbaus e até guitarras elétricas. Ele recebeu também grande influência da música internacional. Os músicos uniam aspectos da cultura popular brasileira com elementos urbanos e industriais. O trecho descrito refere-se ao/à

- A) Bossa Nova.
- B) Axé *Music*.
- C) Jovem Guarda.
- D) Samba.
- E) Tropicalismo.

---

**QUESTÃO 24**

A partir da denúncia de tráfico de influência e de corrupção generalizada no governo, foi criada uma Comissão Parlamentar de Inquérito (CPI) para investigar as acusações. As denúncias de corrupção despertaram o entusiasmo combativo do movimento estudantil. A pressão popular e os trabalhos da CPI levaram o congresso a abrir um processo contra o governante. Após a aprovação do processo na Câmara dos Deputados, o presidente foi afastado da presidência até que o julgamento fosse concluído. O tipo de processo exemplificado no texto é o(a)

- A) *impeachment*, processo político-criminal que visa destituir alguém de um cargo governativo, em países com modelos de governo presidenciais, por grave delito ou má conduta no exercício de suas funções.
- B) denúncia, processo de acusação penal (condicionada ou incondicionada) que, com a devida indicação de provas, consiste na explanação de fatos que constituem, em tese, ilícito penal.
- C) calúnia, processo que consiste em imputar ou atribuir falsamente a alguém um fato definido como crime, o qual atinge a honra objetiva.
- D) corrupção, processo que caracteriza desonestidade, a fim de obter benefícios ilícitos ou abuso de poder, praticado por uma pessoa ou organização a quem é confiada uma posição de autoridade.
- E) tráfico de influência, processo que consiste na prática ilegal de uma pessoa se aproveitar da sua posição privilegiada, para obter favores ou benefícios para si própria ou terceiros.

---

**QUESTÃO 25**

Trata-se de um processo natural caracterizado pelo desgaste dos topos de morros e encostas em razão da força das chuvas e dos rios, do vento e outros agentes. Além disso, certas atividades humanas podem acelerar o processo, por exemplo, quando os solos estão desprotegidos, a força da água remove as partes superficiais, desfazendo suas estruturas e causando o desmoronamento. De qual fenômeno trata o texto?

- A) Chuva ácida.
- B) Lixiviação.
- C) Desertificação.
- D) Esgotamento.
- E) Erosão.

---

**QUESTÃO 26**

É um tipo de acordo surgido em um contexto amplo de difusão da globalização, a qual faz com que as economias do mundo todo se conectem, transformando o planeta em uma grande rede de trocas. Considerando esse tipo de acordo, leia o texto a seguir.

Os \_\_\_\_\_ econômicos passaram a se formar com o intuito de diminuir as fronteiras impostas pelos \_\_\_\_\_, havendo trocas significativas, como mão de obra, serviços, capitais e fluxo de mercadorias. Visam \_\_\_\_\_ as trocas comerciais, expandindo seus dados econômicos, como o Produto Interno Bruto (PIB) e empregos. Eles existem pelo mundo, mas cada um possui um nível de \_\_\_\_\_ diferente dos demais.

As palavras que completam coerentemente as lacunas são, na ordem,

- A) blocos, países, aumentar, integração.
- B) acordos, empresas, aumentar, integração.
- C) blocos, países, diminuir, legalização.
- D) acordos, empresas, diminuir, legalização.
- E) acordos, blocos, aumentar, integração.

---

### QUESTÃO 27

Nesse período, a exaltação de um ideal nacionalista tinha como objetivo difundir a ideologia do Estado Novo junto às camadas populares, como exemplificado na figura a seguir.



Disponível em: <https://www.qconcursos.com/questoes-de-vestibular/questoes/fa27842e-cc>. Acesso em: 3 jan. 2023.

A alternativa que explicita o fenômeno a que o enunciado e a figura se referem é:

- A) O liberalismo de Vargas insistia num tom ufanista, de exaltação patriótica nacional, como é comum nos governos autoritários.
- B) As cerimônias públicas estavam voltadas principalmente para a oposição, pois significava ser amigo da pátria e dos interesses da nação.
- C) As cerimônias públicas voltadas principalmente para os jovens e os trabalhadores procuravam estimular sentimentos cívicos.
- D) A classe intelectual atuou direta ou indiretamente em várias iniciativas culturais na era Vargas, em especial na República.
- E) A propaganda governamental era feita através de *e-mail*, redes sociais, voltadas para crianças e jovens, e jornais.

---

### QUESTÃO 28

A paisagem da região Norte é marcada pela presença da Floresta Amazônica, ainda existente, apesar da acelerada devastação ocorrida nas últimas décadas. A floresta abriga grande variedade de espécies de vegetais e animais. Analise as afirmativas a seguir sobre a vegetação amazônica e classifique-as em verdadeiras (V) ou falsas (F).

- ( ) As matas de várzea encontram-se em solos alagados apenas nos períodos de cheia dos rios e nelas há plantas aquáticas, como a vitória-régia.
- ( ) As matas de inundação encontram-se em solos alagados apenas nos períodos de cheia dos rios e nelas há plantas aquáticas, como a vitória-régia.
- ( ) As matas de igapó localizam-se em áreas sujeitas a inundações e dividem-se em matas de inundação e matas de várzea.
- ( ) As matas de terra firme estão localizadas em áreas livres das inundações e são compostas por árvores bastante altas, como a castanheira.

Assinale a alternativa que contém a sequência **CORRETA**, considerando as afirmativas de cima para baixo.

- A) V, F, F, V.
- B) F, V, F, F.
- C) F, F, V, V.
- D) F, F, F, V.
- E) V, F, V, F.

---

### QUESTÃO 29

É uma dança ou um jogo feito com bastões e acompanhado por instrumentos musicais, como o atabaque. Acredita-se que essa manifestação cultural tenha origem africana e que sofreu influência indígena no Brasil. Qual das alternativas a seguir está de acordo com essa manifestação cultural brasileira?

- A) Capoeira.
- B) Frevo.
- C) Maculelê.
- D) Samba.
- E) Carnaval.

---

**QUESTÃO 30**

Na agricultura, o emprego exagerado de agrotóxicos para combater a emergência de pragas nas lavouras também pode gerar a poluição. Com o excesso de resíduos tóxicos acumulados, o local afetado pode tornar-se infértil, atrapalhando a agricultura e agravando os problemas ambientais locais. Por isso, o uso com cautela de produtos químicos, além da preferência por adubos orgânicos, é medida mais do que necessária para diminuir os prejuízos causados. A definição aplicável à situação a que o texto se refere é:

- A) Poluição sonora, considerada crime ambiental, que pode resultar em multa e reclusão de 1 a 4 anos e, muitas vezes, passa despercebida pelos moradores das cidades.
- B) Poluição dos solos, que se refere a toda e qualquer mudança em sua natureza, causando deterioração a ponto de tornar a terra inútil ou até gerar um risco a saúde.
- C) Poluição visual, que designa o excesso de informações contidas em placas e outros veículos de anúncios, além da degradação fruto das pichações e do excesso de fios de eletricidade.
- D) Poluição atmosférica, que é a introdução de substâncias ou energia de forma acidental ou intencional no meio ambiente, com consequências para os seres vivos.
- E) Poluição das águas, que é o resultado das alterações de sua qualidade, o que a torna imprópria para o consumo e prejudicial aos organismos vivos que nela habitam.