

CADERNO

104

FADENOR
FUNDAÇÃO DE APOIO AO DESENVOLVIMENTO DO ENSINO SUPERIOR DO NORTE DE MINAS

1.221.462

**CONCURSO PÚBLICO PARA PROVIMENTO DE CARGOS EFETIVOS
DA PREFEITURA MUNICIPAL DE
SÃO ROMÃO - MG**

**AGENTE ADMINISTRATIVO
CUIDADOR
ORIENTADOR SOCIAL**

ORIENTAÇÕES

- 01 - Este caderno contém questões do tipo múltipla escolha.
- 02 - Verifique se o caderno contém falhas: folhas em branco, má impressão, páginas trocadas, numeração errada, etc. Encontrando falhas, levante a mão. O Fiscal o atenderá e trocará o seu caderno.
- 03 - Não marque mais de uma resposta para a mesma questão, nem deixe nenhuma delas sem resposta. Se isso acontecer, a resposta não será computada.
- 04 - Para marcar as respostas, use preferencialmente caneta esferográfica com tinta azul ou preta. **NÃO** utilize caneta com tinta vermelha. Assinale a resposta certa, preenchendo toda a área da bolinha.
- 05 - Tenha cuidado na marcação da Folha de Respostas, pois ela não será substituída em hipótese alguma.
- 06 - Confira e assine a Folha de Respostas, antes de entregá-la ao Fiscal. **NA FALTA DA ASSINATURA, A SUA PROVA SERÁ ANULADA.**
- 07 - Não se esqueça de assinar a Lista de Presenças.

OBS.: Candidatos com cabelos longos deverão deixar as orelhas totalmente descobertas durante a realização das provas. É proibido o uso de boné.

NOME:

Nº DO PRÉDIO:

SALA:

ASSINATURA

COTEC
CONCURSOS
TÉCNICOS

PROVA DE LÍNGUA PORTUGUESA

INSTRUÇÃO: Leia, com atenção, o texto 01 a seguir para responder às questões que a ele se referem.

Texto 01

Um sonho de viver

- 1 Sonhei um sonho comprido que não me deixava acordar. Haveria uma reunião de amigos com a proposta de nos presentearmos. Assim, eu estava no compartimento secreto de uma loja, diante de uma infinidade de objetos. Cada pequeno objeto que eu descobria me suscitava a ideia de presentear uma pessoa diferente. Contudo, eu não escolhia pelo presenteado, mas pelo presente.
- 5 Lembro-me de uma girafa pequena e delicada, de um gatinho divertido com um *design* não realista. Dessa forma, cada imagem em miniatura me despertava uma emoção diferente e me lembrava alguém. Gulosa, eu queria reservar muitos deles e os juntava num canto da loja enquanto ia escolher outras coisas.
- 10 Na volta, eu me perdia e não sabia onde os havia colocado. Entretanto, na busca pelos achados de antes, eu me distraía no encantamento por outro. Assim, tudo era envolvente e poético naquele mundo de objetos pequenos.
- 15 Por fim, fiquei ali por horas, perdida na degustação de sentimentos que as miniaturas despertavam em mim. Quando escolhi alguns, passar no caixa se mostrou mais um desafio: ali outro arsenal de surpresas descortinava mais sessões de alumbramento. A soma do caixa deu um valor irrisório: os objetos estavam ao meu alcance.
- 20 Era quase meio-dia quando despertei do sonho, graças à persistência do despertador. Entretanto, eu não queria sair daquele lugar onde sentia tudo intensamente. Eu passeava por sensações humanas que me lembravam o gosto da vida. Estou certa de que o próprio sonho foi um presente, um recado.
- 25 A lente macro sobre uma flor minúscula nos mostra infinitos detalhes daquela planta. Dá-nos outra visão das coisas e nos ajuda a enxergar a nossa grandiosa insignificância, para nos dizer a verdade gritante: precisamos ajustar nossas dimensões.
- 30 Nesse sentido, cabe agora a sabedoria de colocar uma lente de aumento nas coisas pequeninas, aquelas que parecem inofensivas e pouco eficazes. Sentar-se em frente à janela e observar o movimento da rua. Ligar para um amigo. Fazer um elogio. Ou seja, se o caos domina, é tempo do cultivo dos detalhes. Mora neles, no mínimo, o que está carregado de sentido.
- 35 O presente é para ser vivido já, e com entrega. Estamos constantemente adiando o verbo viver para algum momento mais apropriado. Como se, depois de muita espera, o público percebesse que o espetáculo está ali mesmo, na plateia. Nada acontece no palco há meses. A plateia é o *show*.

Que número vamos apresentar agora?

Disponível em: <https://vidasimples.com/vida-emocional>. Acesso em: 7 jan. 2023. Adaptado.

QUESTÃO 01

Analise as afirmativas a seguir, tendo em vista o texto 01.

- I. Duas perspectivas são apresentadas: a fantasia e a realidade.
- II. O sonho suscita reflexões sobre o valor das pequenas coisas.
- III. A prática de ações simples no cotidiano demonstra sabedoria.
- IV. A vida é para ser vivida de forma plena, no momento presente.
- V. O futuro é o momento apropriado para se viver com plenitude.

Estão **CORRETAS** as afirmativas

- A) II, III, IV e V, apenas.
- B) III, IV e V, apenas.
- C) I, II, III e IV, apenas.
- D) I, III, IV e V, apenas.
- E) I, II, III, IV e V.

QUESTÃO 02

Considere a frase: “Sonhei um sonho comprido que não me deixava acordar.” (Linha 1). Na referida frase, a expressão “Sonhei um sonho” forma um recurso expressivo denominado

- A) pleonasma.
- B) metáfora.
- C) metonímia.
- D) antítese.
- E) hipérbole.

QUESTÃO 03

O recurso expressivo da personificação foi usado na alternativa

- A) “A lente macro sobre uma flor minúscula nos mostra infinitos [...]” (Linha 18)
- B) “Estou certa de que o próprio sonho foi um presente, um recado.” (Linha 17)
- C) “[...] fiquei ali por horas, perdida na degustação de sentimentos [...]” (Linha 11)
- D) “[...] sensações humanas que me lembravam o gosto da vida. (Linhas 16-17)
- E) “[...] despertei do sonho, graças à persistência do despertador.” (Linha 15)

QUESTÃO 04

Considere o trecho: “Na volta, eu me perdia e não sabia onde os havia colocado. Entretanto, na busca pelos achados de antes, eu me distraía no encantamento por outro. Assim, tudo era envolvente e poético naquele mundo de objetos pequeninos.” (Linhas 8-10)

Analise as afirmativas a seguir, tendo em vista a estrutura morfossintática e semântica do referido trecho.

- I. A posição proclítica de “os”, no primeiro período, é obrigatória tendo em vista a presença da palavra atrativa “onde”.
- II. A conjunção “entretanto” foi usada com valor semântico de conclusão e poderia ser substituída por “portanto”.
- III. As vírgulas que intercalam a expressão “na busca pelos achados de antes” são obrigatórias de acordo com a norma.
- IV. Na construção “eu me distraía”, o pronome “me” insere uma ideia de reflexividade e indica que o verbo “distraía” é pronominal.
- V. Os verbos principais do trecho foram empregados no tempo pretérito imperfeito do modo indicativo.

Estão **CORRETAS** as alternativas

- A) II, III e IV, apenas.
- B) I, III, IV e V, apenas.
- C) I, III e V, apenas.
- D) II, IV e V, apenas.
- E) I, II, III, IV e V.

INSTRUÇÃO: Leia, com atenção, o texto 02 a seguir para responder às questões que a ele se referem.

Texto 02



Disponível em: <https://brainly.com.br>. Acesso em: 7 jan. 2023.

QUESTÃO 05

Analise as afirmativas a seguir, tendo em vista as ideias veiculadas pelo texto.

- I. Os *vikings* não se importam com os bens materiais, mas sim com outros valores imateriais.
- II. O termo “pequenas” foi usado pelo personagem, no segundo quadro, com sentido de “simples”.
- III. “Casa grande” e “navio imenso”, segundo o personagem, podem trazer felicidade para alguns.
- IV. O termo “pequenas” foi usado ironicamente pelo personagem, pois os itens que ele cita posteriormente são pequenos, mas de grande valor monetário.
- V. Em relação às falas do primeiro e do segundo quadro, a fala da personagem, no terceiro quadro, mostra-se inesperada.

Das afirmativas acima, estão **CORRETAS**

- A) I, III, IV e V, apenas.
- B) II, III, IV e V, apenas.
- C) II, III e IV, apenas.
- D) III, IV e V, apenas.
- E) I, II, III, IV e V.

QUESTÃO 06

Sobre a estrutura do texto 02, é **CORRETO** afirmar que

- I. A conjugação do verbo, no segundo quadro, permite afirmar que o personagem é um *viking*.
- II. As expressões “de ouro”, “de prata” e “de cem anos” são acessórias e, por isso não interferem no sentido do que se quis dizer.
- III. Os tipos de linguagem que compõem o texto são, exclusivamente: formal, verbal e objetiva.
- IV. A pessoa verbal usada na primeira fala inclui o personagem entre aqueles os quais consideram que para ser feliz é necessário ter uma casa grande ou um navio imenso.
- V. A linguagem não verbal do texto traz informações que estão relacionadas ao termo “vikings”, usado na primeira fala do texto.

Estão **CORRETAS** as afirmativas

- A) I e V, apenas.
- B) III e IV, apenas.
- C) II, III e V, apenas.
- D) III e IV, apenas.
- E) I, II, III, IV e V.

INSTRUÇÃO: Leia, com atenção, o texto 03 a seguir para responder às questões que a ele se referem.

Texto 03

Felicidade Interna Bruta (FIB): a vida além dos números

- 1 A FIB avalia aspectos sociais, ambientais e econômicos das comunidades e considera uma população feliz, ou não, a partir de nove pilares. A ideia surgiu em 1972, no Butão – pequeno país asiático situado entre a Índia e a China –, quando o rei Jigme Singye Wangchuck quis estabelecer uma monarquia constitucional e criou o tal índice para medir a prosperidade nacional a partir de outros aspectos que não os de produção e consumo – utilizados no
- 5 cálculo do Produto Interno Bruto (PIB). Pouco tempo depois, esse parâmetro passou a ser objeto de estudos por parte de cientistas e acadêmicos.

Hoje, a FIB tem aval da Organização das Nações Unidas (ONU) e já é utilizada em várias pesquisas. É alvo de uma discussão metodológica, sobre ser ou não mais real que o PIB, quando se trata de examinar questões ligadas ao desenvolvimento. E tem defensores como o secretário-geral da ONU, Ban Ki-moon, e o Nobel de

10 Economia Joseph Stiglitz. O assunto foi tema de reunião do Alto Comissariado da ONU no início do ano e de debates na Conferência das Nações Unidas sobre Desenvolvimento Sustentável, a Rio+20. [...]

“A FIB estimula ações e mudanças de parâmetros não apenas entre as pessoas, na forma como conduzem sua vida, e na esfera pública, mas também na iniciativa privada e nas comunidades acadêmicas”, afirmou o representante do Butão, Karma Dasho Ura, em debate na Rio+20. [...]

Disponível em: redebrasilatual.com.br/revistas/felicidade-interna-bruta-fib. Acesso em: 7 jan. 2023. Adaptado.

QUESTÃO 07

Analise as afirmativas a seguir, tendo em vista o que foi veiculado pelo texto.

- I. A FIB analisa parâmetros não só na esfera pessoal, mas também em instâncias sociais.
- II. Os métodos de avaliação usados para calcular o nível de FIB são validados por unanimidade entre os pesquisadores.
- III. No Butão, o principal aspecto para a avaliação do nível da FIB é o PIB.
- IV. Em torno da FIB, há uma discussão em relação ao PIB ser ou não o parâmetro mais real de análise quando se trata de analisar o desenvolvimento de um país.
- V. O fato de a FIB ter o aval da ONU faz com que não exista qualquer questionamento sobre os métodos de análise.

Estão **CORRETAS** as alternativas

- A) I, III e IV, apenas.
- B) I e IV, apenas.
- C) II e III, apenas.
- D) III e V, apenas.
- E) IV e V, apenas.

QUESTÃO 08

Analise as afirmativas a seguir tendo em vista o último parágrafo do texto 03.

- I. A expressão “mas também” insere, no parágrafo, uma ideia de adversidade e poderia ser substituída, sem alteração de sentido, por “no entanto”.
- II. O termo “Karma Dasho Ura” foi usado entre vírgulas, de acordo com a norma, por se tratar de um aposto explicativo.
- III. As aspas foram usadas, de acordo com a norma, para indicar a presença do discurso direto.
- IV. A expressão “não apenas” suscita o uso da expressão “mas também”, que insere no texto o sentido de adição.
- V. O referido parágrafo foi estruturado usando dois tempos verbais: o presente e o pretérito perfeito do modo indicativo.

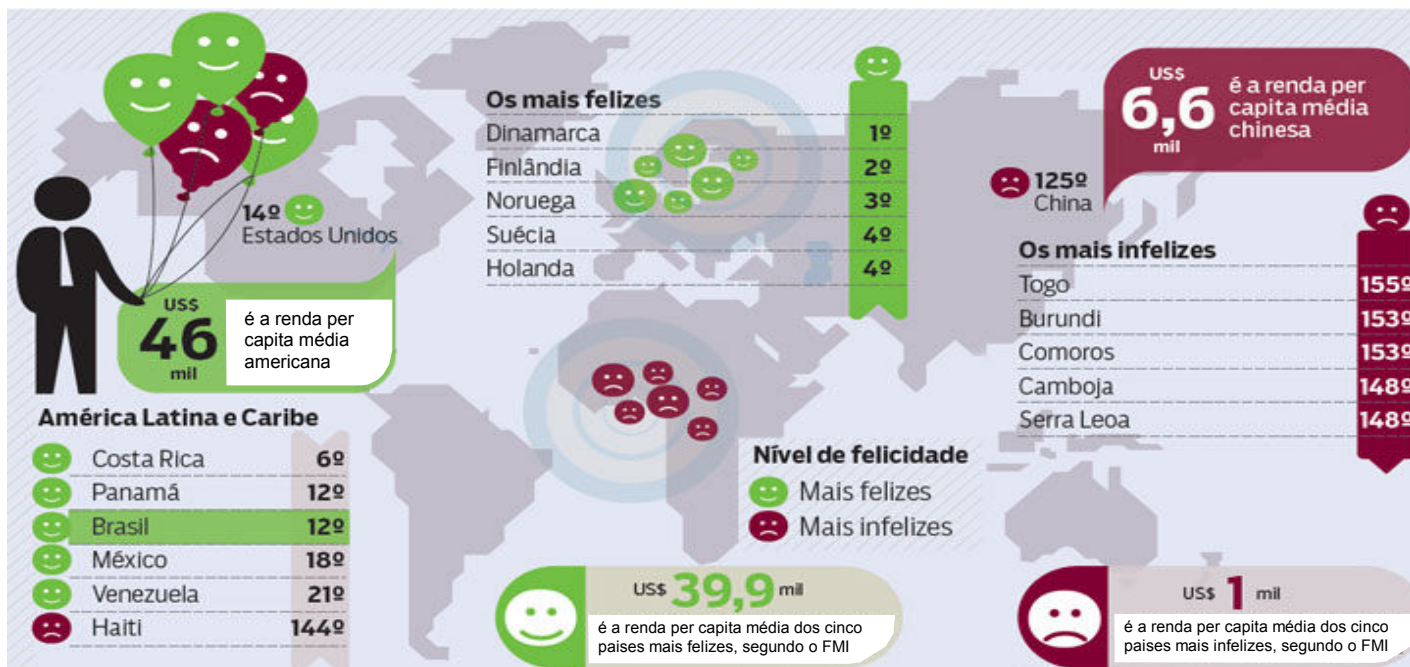
Estão **CORRETAS** as afirmativas

- A) II, III e IV, apenas.
- B) III, IV e V, apenas.
- C) I, II e III, apenas.
- D) II, III, IV e V, apenas.
- E) I, II, III, IV e V.

INSTRUÇÃO: Leia, com atenção, o texto 04 a seguir para responder às questões que a ele se referem.

Texto 04

É possível medir a felicidade?



Disponível em: <https://institutoptaracleto.org/2011/01/01/e-possivel-medir-a-felicidade>. Acesso em: 7 jan. 2023. Adaptado.

QUESTÃO 09

Analise as afirmativas a seguir, tendo em vista o texto 04.

- I. Embora apresente uma renda per capita alta, os Estados Unidos não estão entre os cinco países mais felizes do mundo.
- II. A renda per capita de um país é inversamente proporcional ao nível de felicidade que ele apresenta.
- III. Os países de renda per capita média de US\$ 39,9 mil estão entre aqueles cujos níveis de felicidade são os mais altos.
- IV. A renda per capita dos Estados Unidos mostra que a condição econômica é fator determinante para um país ocupar o primeiro lugar no nível de felicidade.
- V. A renda per capita é um dos fatores metodológicos usados para se analisar os níveis de felicidade dos países.

Estão **CORRETAS** as afirmativas

- A) III, IV e V, apenas.
- B) II, III e IV, apenas.
- C) I, III e V, apenas.
- D) I, III e IV, apenas.
- E) I, II, III, IV e V.

QUESTÃO 10

Analise as afirmativas a seguir, tendo em vista a construção dos textos 03 e 04.

- I. Contêm linguagem verbal e não verbal.
- II. Têm como objetivo transmitir informações.
- III. Usam, predominantemente, a denotação.
- IV. Relacionam-se quanto ao tema abordado.
- V. Utilizam, reiteradamente, a coloquialidade.

Estão **CORRETAS** as afirmativas

- A) I, III e V, apenas.
- B) I, IV e V, apenas.
- C) II e III, apenas.
- D) III e V, apenas.
- E) II, III e IV, apenas.

PROVA DE MATEMÁTICA

QUESTÃO 11

Um capital de R\$ 1.200,00 quando aplicado ao regime de juros simples por um triênio à taxa de 1% ao mês renderá juros de

- A) R\$ 403,20.
- B) R\$ 420,30.
- C) R\$ 423,00.
- D) R\$ 430,00.
- E) R\$ 432,00.

QUESTÃO 12

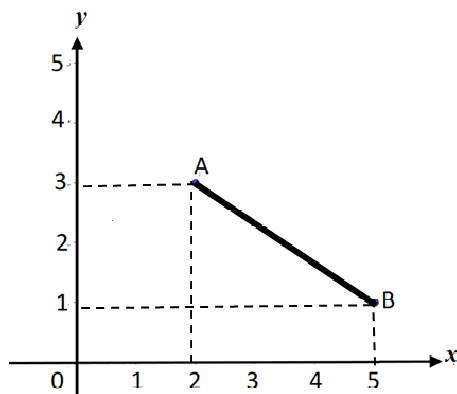
Considere $f(x) = 3x^3 - 14x^2 + 23x - 10$ e $g(x) = x^2 - 4x + 5$.

É **CORRETO** afirmar que o quociente de $f(x)$ por $g(x)$ é o polinômio

- A) $Q(x) = 3x + 2$ e $r(x) = 0$.
- B) $Q(x) = 3x - 2$ e $r(x) = 0$.
- C) $Q(x) = 2x - 3$ e $r(x) = 0$.
- D) $Q(x) = 2x + 3$ e $r(x) = 0$.
- E) $Q(x) = 2x + 2$ e $r(x) = 0$.

QUESTÃO 13

Considere a imagem a seguir.



Fonte: O autor, 2022.

Pode-se concluir que a distância do ponto **A** ao ponto **B** é

- A) $d_{AB} = 5 u. c.$
- B) $d_{AB} = 13 u. c.$
- C) $d_{AB} = 6 u. c.$
- D) $d_{AB} = \sqrt{13} u. c.$
- E) $d_{AB} = \sqrt{6} u. c.$

QUESTÃO 14

Uma circunferência tem raio que mede 8 cm. Pode-se concluir que o comprimento dessa circunferência é

- A) 8 p cm.
- B) 16 p cm.
- C) 20 p cm.
- D) 32 p cm.
- E) 64 p cm.

QUESTÃO 15

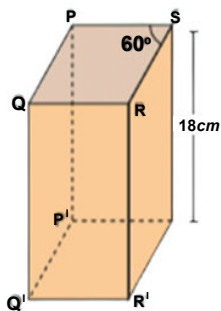
Considere $A = \begin{bmatrix} 3 & 2 & 1 \\ -1 & -4 & 2 \end{bmatrix}$ e $B = \begin{bmatrix} 7 & 5 & 1 \\ 1 & 6 & 7 \end{bmatrix}$. Considere também a equação matricial $A + X = B$.

Dessa forma, pode-se afirmar que a matriz $X_{2 \times 3}$ é

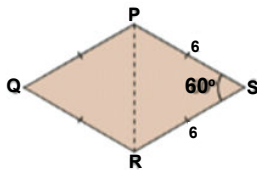
- A) $\begin{bmatrix} 3 & 4 & 2 \\ 0 & 10 & 5 \end{bmatrix}$.
- B) $\begin{bmatrix} 4 & 0 & 3 \\ 5 & 10 & 2 \end{bmatrix}$.
- C) $\begin{bmatrix} 4 & 3 & 0 \\ 2 & 10 & 5 \end{bmatrix}$.
- D) $\begin{bmatrix} 4 & 10 & 0 \\ 2 & 3 & 5 \end{bmatrix}$.
- E) $\begin{bmatrix} 4 & 3 & 0 \\ 10 & 2 & 5 \end{bmatrix}$.

QUESTÃO 16

Um prisma reto tem como base um losango com perímetro de 24 cm de comprimento e um dos ângulos internos desse losango mede 60° . Considere que o prisma tem 18 cm de altura.



Fonte: IEZZI, Gelson *et al.* **Matemática, ciência e aplicação**. v. II. São Paulo: Ed. Atual, 2011, p. 164.



Então, é **CORRETO** afirmar que o volume desse sólido é

- A) $342 \sqrt{3} \text{ cm}^3$.
- B) $324 \sqrt{2} \text{ cm}^3$.
- C) $342 \sqrt{2} \text{ cm}^3$.
- D) $234 \sqrt{3} \text{ cm}^3$.
- E) $324 \sqrt{3} \text{ cm}^3$.

QUESTÃO 17

Em uma caixa, há 15 bolas de mesmo tamanho e massa numeradas de 1 a 15. A probabilidade de sortear uma bola com numeração igual ou superior a 11 é de, aproximadamente,

- A) 3,33%.
- B) 3,35%.
- C) 5,33%.
- D) 33,3%.
- E) 35,3%.

QUESTÃO 18

Considere $f(x) = 2x^2 - 3x + 5$. É **CORRETO** afirmar que

- A) A função não possui raízes reais.
 - B) A função possui uma única raiz real.
 - C) A função possui raízes reais distintas.
 - D) O discriminante da função é igual a zero.
 - E) O discriminante da função é um número positivo.
-

QUESTÃO 19

Pode-se concluir que a solução da inequação $\frac{1}{2}x + 4 > x$ é

- A) $s =]\infty, -8]$.
 - B) $s =]8, +\infty[$.
 - C) $s =]-\infty, +8[$.
 - D) $s = [-\infty, -8]$.
 - E) $s = [-\infty, +8]$.
-

QUESTÃO 20

Considere os conjuntos

$$A = \{0, 3, 4, 5, 6, 7, 8\}$$

$$B = \{2, 4, 5, 6, 9\}$$

$$C = \{0, 3, 6, 9, 10\}$$

É **CORRETO** afirmar que $(A \cap B) \cup C$ é o conjunto

- A) $\{0, 3, 4, 5, 6, 9, 10\}$.
 - B) $\{0, 3, 4, 5, 6, 7, 8, 9, 10\}$.
 - C) $\{0, 2, 3, 4, 5, 6, 7, 8, 9\}$.
 - D) $\{4, 5, 6\}$.
 - E) $\{6\}$.
-

PROVA DE NOÇÕES DE INFORMÁTICA**QUESTÃO 21**

No *Microsoft Windows* existe uma série de ferramentas nativas que permitem a manipulação de diversos tipos de arquivos, entre eles, imagens, vídeos e áudios. A “Ferramenta de Captura” tem a função de

- A) realizar a função de *print screen* da tela inteira.
 - B) capturar parte da tela e salvar como uma imagem.
 - C) capturar a formatação do texto no *Microsoft Word* e permitir colar no Bloco de Notas.
 - D) realizar a cópia das formatações utilizadas em qualquer programa do pacote *Office*.
 - E) capturar apenas uma área de imagens apresentadas no navegador.
-

QUESTÃO 22

O *Microsoft Windows* é conhecido por ser um dos sistemas operacionais mais utilizados no mundo para inúmeras aplicações. Um dos pontos que o torna tão utilizado é a interface com o usuário, que tem vários métodos que ajudam na experiência e facilidade de uso, entre elas, os atalhos do teclado. Qual a combinação de teclas de atalho utilizada para abrir o *Windows Explorer*?

- A) *Windows* + W.
 - B) *Windows* + R.
 - C) *Windows* + F.
 - D) *Windows* + E.
 - E) *Windows* + X.
-

QUESTÃO 23

O sistema operacional *Microsoft Windows* possui um sistema de arquivos bastante flexível e simples de usar. Supondo-se que existe, na partição F, uma pasta chamada Dados, dentro dela, uma subpasta chamada Pessoais e, dentro desta subpasta, um arquivo chamado Carta cuja extensão é docx, como o sistema *Windows* referencia o caminho deste arquivo?

- A) F.Dados.Pessoais.Carta.docx.
 - B) F://Dados.Pessoais/Carta.docx.
 - C) F:\Dados\Pessoais\Carta.docx.
 - D) F://Dados->Pessoais/Carta.docx.
 - E) F.Dados.Pessoais\Carta(docx).
-

QUESTÃO 24

Associe a primeira coluna sobre teclas de atalho no Sistema Operacional *Microsoft Windows* à segunda coluna sobre suas respectivas funcionalidades.

- | | |
|-----------------|--|
| (1) Ctrl + V | () Exclui itens de forma permanente. |
| (2) Alt + Tab | () Cola itens da área de transferência. |
| (3) Shift + Del | () Alterna entre aplicativos abertos. |

Assinale a alternativa que apresenta a sequência **CORRETA**, considerando a associação estabelecida de cima para baixo.

- A) 1, 2, 3.
 - B) 2, 1, 3.
 - C) 2, 3, 1.
 - D) 1, 3, 2.
 - E) 3, 1, 2.
-

QUESTÃO 25

Um usuário do *Windows*, para se ausentar temporariamente de sua estação de trabalho, mantendo seu computador inacessível, sem necessariamente desligá-lo ou fechar os aplicativos, além de configurar o acesso ao *Windows* com senha, deve

- A) pressionar simultaneamente as teclas CTRL, ALT e DEL e selecionar a opção Bloquear.
 - B) pressionar simultaneamente as teclas CTRL, ALT e DEL e selecionar a opção Sair.
 - C) pressionar simultaneamente as teclas CTRL, ALT e DEL e selecionar a opção Suspend.
 - D) acionar o botão Iniciar e selecionar a opção Ligar/Desligar, seguida de Reiniciar.
 - E) acionar o botão Iniciar e selecionar a opção Ligar/Desligar, seguida de Suspend.
-

QUESTÃO 26

Quanto aos conceitos básicos de arquivos, pastas e programas no ambiente *Windows*, analise as afirmativas a seguir e marque **V** para as verdadeiras e **F** para as falsas.

- () Um arquivo criado dentro de uma pasta jamais poderá ser renomeado.
- () Os diretórios são programas para armazenar arquivos de forma compactada.
- () Uma pasta pode conter no máximo 16 arquivos devido a uma limitação do *Windows*.

Assinale a alternativa que apresenta a sequência **CORRETA**, considerando as afirmativas de cima para baixo.

- A) V, F, V.
 - B) F, F, F.
 - C) V, V, V.
 - D) V, V, F.
 - E) F, F, V.
-

QUESTÃO 27

O sistema operacional *Windows* conta com uma série de atalhos que otimizam a experiência no trabalho. A esse respeito, analise as afirmativas a seguir.

- I - Ao utilizar o atalho Ctrl + Z, o *Windows* não desfaz a última ação realizada, pois este recurso é exclusivo do *Office Word*.
- II - Ao clicar em algum arquivo e, em seguida, teclar F2, o *Windows* permite que o arquivo seja renomeado.
- III - O atalho Ctrl + C realiza a operação Colar.
- IV - O atalho, para abrir o manual de ajuda de um programa em funcionamento no *Windows*, é F10.

Está(ão) **CORRETA(S)** a(s) afirmativa(s)

- A) I, apenas.
 - B) II, apenas.
 - C) III, apenas.
 - D) IV, apenas.
 - E) I, II, III e IV.
-

QUESTÃO 28

No *Windows* podem ser instaladas várias ferramentas de monitoramento em relação ao *hardware* do computador em que está instalado. Entre essas ferramentas, existe uma que é nativa do sistema e monitora recursos de memória, uso do espaço de armazenamento, CPU, entre outros elementos de *hardware*, em tempo real. Assinale a alternativa que apresenta corretamente o nome dessa ferramenta.

- A) Gerenciador de credenciais.
 - B) Gerenciador de controles.
 - C) Gerenciador de dispositivos.
 - D) Gerenciador do computador.
 - E) Gerenciador de tarefas.
-

QUESTÃO 29

O programa malicioso que consegue se propagar automaticamente pelas redes de computadores, explorando vulnerabilidades nos programas instalados, denomina-se

- A) *Worm*.
- B) *Ransomware*.
- C) *Backdoor*.
- D) *Botnet*.
- E) *Spyware*.

QUESTÃO 30

O nome que define o endereço virtual de uma página ou *website* em português, cuja sigla significa Localizador Uniforme de Recursos, é

- A) subdomínio.
- B) domínio.
- C) HTML.
- D) URL.
- E) HTTP.

