



DOMINGO DE MANHÃ

**PREFEITURA MUNICIPAL DE CASCA/RS  
CONCURSO PÚBLICO Nº 01/2023**

**FISCAL SANITÁRIO**

**INSTRUÇÕES**

Leia atentamente e cumpra rigorosamente as instruções que seguem, pois elas são parte integrante das provas e das normas que regem esse certame.

1. Atente-se aos avisos contidos no quadro da sala.
2. Seus pertences deverão estar armazenados dentro de embalagem específica fornecida pelo fiscal, permanecendo em sua posse somente caneta esferográfica de ponta grossa, de material transparente, com tinta azul ou preta, lanche e água, se houver. A utilização de qualquer material não permitido em edital é expressamente proibida, acarretando a sua imediata eliminação do certame.
3. Certifique-se de que este caderno:
  - contém 40 (quarenta) questões;
  - refere-se ao cargo para o qual realizou a inscrição.
4. Cada questão oferece 5 (cinco) alternativas de respostas, representadas pelas letras A, B, C, D e E, sendo apenas 1 (uma) a resposta correta.
5. Será respeitado o tempo para realização da prova conforme previsto em edital, incluindo o preenchimento da grade de respostas.
6. Os três últimos candidatos deverão retirar-se da sala de prova ao mesmo tempo, devendo assinar a Ata de Prova.
7. A responsabilidade referente à interpretação dos conteúdos das questões é exclusiva do candidato.
8. No caderno de prova, você poderá rabiscar, riscar e calcular.
9. Os gabaritos preliminares da prova objetiva serão divulgados na data descrita no Cronograma de Execução desse certame.



**LÍNGUA PORTUGUESA**

**Instrução: As questões de números 01 a 10 referem-se ao texto abaixo. Os destaques ao longo do texto estão citados nas questões.**

**A era da burrice**

Por Bruno Garattoni e Eduardo Szklarz

01 Discussões inúteis, intermináveis, agressivas. Gente defendendo as maiores asneiras, e se  
02 orgulhando disso. Pessoas perseguindo e ameaçando \_\_\_ outras. Um tsunami infinito de  
03 informações falsas. Reuniões, projetos, esforços que dão em nada. Decisões erradas. Líderes  
04 políticos imbecis. De uns tempos para cá, parece que o mundo está mergulhando na burrice.  
05 Você já teve essa sensação? Talvez não seja só uma sensação. Estudos realizados com dezenas  
06 de milhares de pessoas, em vários países, revelam algo inédito e assustador: aparentemente, a  
07 inteligência humana começou a cair.

08 Os primeiros sinais vieram da Dinamarca. Lá, todos os homens que se alistam no serviço  
09 militar são obrigados a se submeter a um teste de inteligência: o famoso, e ao mesmo tempo  
10 misterioso, teste de QI. Os dados revelaram que, depois de crescer sem parar durante todo o  
11 século 20, o quociente de inteligência dos dinamarqueses virou o fio, e em 1998 iniciou uma  
12 queda contínua: está descendo 2,7 pontos \_\_\_ cada década.

13 A mesma coisa acontece na Holanda (onde tem sido ..... uma queda de 1,35 ponto por  
14 década), na Inglaterra (2,5 a 3,4 pontos de QI a menos por década, dependendo da faixa etária  
15 analisada), e na França (3,8 pontos perdidos por década). Noruega, Suécia e Finlândia – bem  
16 como Alemanha e Portugal, onde foram realizados estudos menores – detectaram efeito similar.

17 “Há um declínio contínuo na pontuação de QI ao longo do tempo. E é um fenômeno real,  
18 não um simples desvio”, diz o antropólogo inglês Edward Dutton, autor de uma revisão analítica  
19 das principais pesquisas já feitas a respeito.

20 A regressão pode parecer lenta; mas, ..... perspectiva histórica, definitivamente não é.  
21 No atual ritmo de queda, alguns países poderiam regredir para QI médio de 80 pontos, patamar  
22 definido como “baixa inteligência”, já na próxima geração de adultos.

23 Não há dados a respeito no Brasil, mas nossos indicadores são terríveis. Um estudo  
24 realizado este ano pelo Ibope Inteligência, com 2 mil pessoas, revelou que 29% da população  
25 adulta é analfabeta funcional, ou seja, não consegue ler ..... um cartaz ou um bilhete. E o  
26 número de analfabetos absolutos, que não conseguem ler nada, cresceu de 4% para 8% nos  
27 últimos três anos (no limite da margem de erro da pesquisa, 4%).

28 Nos países desenvolvidos, o QI da população tem caído até 3,8 pontos por década. No caso  
29 brasileiro, a piora pode ser atribuída \_\_\_ queda nos investimentos em educação, que já são  
30 baixos (o país gasta US\$ 3.800 anuais com cada aluno do ensino básico, menos da metade da  
31 média das nações da OCDE) e têm caído nos últimos anos.

32 Mas como explicar a aparente proliferação de burrice mesmo entre quem foi à escola? E a  
33 queda do QI nos países desenvolvidos? O primeiro passo é entender a base da questão: o que  
34 é, e como se mede, inteligência.

(Disponível em: <https://super.abril.com.br/especiais/a-era-da-burrice/> – texto adaptado especialmente para esta prova).

**QUESTÃO 01** – Considerando o exposto pelo texto, analise as assertivas a seguir:

- I. A percepção da queda do QI humano iniciou-se em um país que testa esse índice para a entrada no serviço militar.
- II. No caso do Brasil, uma pesquisa indicou queda de 29% no QI da população.
- III. A piora no QI está associada somente à baixa qualidade nas escolas dos países subdesenvolvidos.

Quais estão corretas?

- A) Apenas I.
- B) Apenas II.
- C) Apenas I e II.
- D) Apenas I e III.
- E) Apenas II e III.

**QUESTÃO 02** – Considerando o emprego do acento indicativo de crase, assinale a alternativa que preenche, correta e respectivamente, as lacunas tracejadas das linhas 02, 12 e 29.

- A) às – à – à
- B) às – a – a
- C) as – à – a
- D) as – a – à
- E) as – a – a

**QUESTÃO 03** – Considerando as relações de sentido e de concordância corretas no texto, assinale a alternativa que preenche, correta e respectivamente, as lacunas pontilhadas, nas linhas 13, 20 e 25.

- A) observada – sob – sequer
- B) observada – sobre – se quer
- C) observada – sob – se quer
- D) observado – sobre – sequer
- E) observado – sob – se quer

**QUESTÃO 04** – Assinale a alternativa que indica a figura de linguagem identificada no trecho a seguir: “Um tsunami infinito de informações falsas”.

- A) Metonímia.
- B) Eufemismo.
- C) Hipérbole.
- D) Perífrase.
- E) Personificação.

**QUESTÃO 05** – Assinale a alternativa que indica o número correto de preposições presentes no trecho a seguir:

“Estudos realizados com dezenas de milhares de pessoas, em vários países, revelam algo inédito e assustador: aparentemente, a inteligência humana começou a cair”.

- A) 2.
- B) 3.
- C) 4.
- D) 5.
- E) 6.

**QUESTÃO 06** – Assinale a alternativa que indica a correta função sintática da palavra sublinhada no trecho a seguir: “Não há dados a respeito no Brasil”.

- A) Objeto Direto.
- B) Objeto Indireto.
- C) Sujeito.
- D) Aposto.
- E) Adjunto Adverbial.

**QUESTÃO 07** – Considerando a formação do período composto, analise as assertivas sobre o período a seguir:

“Os dados revelaram que, depois de crescer sem parar durante todo o século 20, o quociente de inteligência dos dinamarqueses virou o fio, e em 1998 iniciou uma queda contínua: está descendo 2,7 pontos \_\_\_ cada década”.

- I. O período é formado por 6 orações.
- II. Identifica-se apenas uma conjunção integrante no período.
- III. Verifica-se que há, pelo menos, uma oração reduzida no período.

Quais estão corretas?

- A) Apenas I.
- B) Apenas II.
- C) Apenas I e II.
- D) Apenas I e III.
- E) Apenas II e III.

**QUESTÃO 08** – Considerando a palavra “asneiras” (l. 01), analise as assertivas a seguir, assinalando V, se verdadeiras, ou F, se falsas.

- ( ) Trata-se de substantivo primitivo.
- ( ) Uma palavra de sentido oposto a ela é “bobagem”.
- ( ) A palavra apresenta um ditongo decrescente.

A ordem correta de preenchimento dos parênteses, de cima para baixo, é:

- A) V – V – F.
- B) V – F – V.
- C) V – V – V.
- D) F – V – F.
- E) F – F – V.

**QUESTÃO 09** – Assinale a alternativa que indica a correta transposição do trecho a seguir para o discurso indireto, considerando que o autor do texto faz a pergunta a cada leitor diretamente: “Você já teve essa sensação?”.

- A) O autor perguntou se eu já tinha tido essa sensação.
- B) O autor perguntou se eu já teria essa sensação.
- C) O autor perguntou se eu já teria tido essa sensação.
- D) O autor perguntou se vocês já teriam essa sensação.
- E) O autor perguntou se vocês já teriam tido essa sensação.

**QUESTÃO 10** – Assinale a alternativa que indica quantas outras alterações deveriam obrigatoriamente serem feitas caso substituíssemos a palavra “investimentos” por sua forma singular no trecho a seguir:

“No caso brasileiro, a piora pode ser atribuída \_\_\_ queda nos investimentos em educação, que já são baixos (o país gasta US\$ 3.800 anuais com cada aluno do ensino básico, menos da metade da média das nações da OCDE) e têm caído nos últimos anos”.

- A) 1.
- B) 2.
- C) 3.
- D) 4.
- E) 5.

**CONHECIMENTOS GERAIS**

**QUESTÃO 11** – No que se refere à história e à geografia do município de Casca, analise as assertivas a seguir:

- I. Uma das hipóteses para o município ser denominado Casca se deve às cascas de árvores que existiam na região e eram extraídas para fins comerciais.
- II. Foi um distrito subordinado ao município de Guaporé.
- III. O município foi criado em 15 de dezembro de 1954, através da Lei Estadual nº 2.525.

Quais estão corretas?

- A) Apenas I.
- B) Apenas II.
- C) Apenas III.
- D) Apenas I e II.
- E) I, II e III.

**QUESTÃO 12** – O governo do Rio Grande do Sul destaca que o estado tem uma identidade cultural diversa, herdada de povos colonizadores, sendo um dos principais destinos turísticos do sul do Brasil. Relacione a Coluna 1 à Coluna 2, sobre a região turística e as descrições correspondentes.

**Coluna 1**

1. Região das Hortênsias.
2. Região Delta do Jacuí.
3. Região Central.
4. Região Centro-Serra.

**Coluna 2**

- ( ) Localizada no coração do estado, possui cenários encantadores: coxilhas, quedas de água e belvederes se misturam com o legado paleontológico de fósseis de 200 milhões de anos. A Quarta Colônia de Imigração Italiana preserva a vida e a cultura dos imigrantes, que se revela na arquitetura, nas manifestações artísticas e nos roteiros gastronômicos.
- ( ) Destino mais visitado do RS e um dos melhores destinos brasileiros, [...] traz qualidade nos serviços, o bem-estar como prioridade e diversidade na oferta turística. O Parque Estadual do Caracol apresenta a imagem símbolo da natureza gaúcha, a Cascata do Caracol, [...] reconhecida em todo o Brasil e em países vizinhos.
- ( ) Ícones do ecoturismo e do turismo cultural, como o Parque Estadual de Itapuã e o centro histórico da antiga capital gaúcha, apoiados pela estrutura qualificada de empreendimentos de turismo rural, ecoresort, eventos e a belíssima paisagem do Guaíba dão as boas-vindas a esse lugar. A região mais diversa do Rio Grande do Sul mistura o estilo urbano da capital com o ecoturismo.
- ( ) A cultura da imigração italiana deixou sua marca na arquitetura e nas paisagens rurais da Rota dos Casarões em Sobradinho, município polo da região que tem na diversidade produtiva sua maior riqueza. Belas paisagens, cascatas e lagos proporcionam momentos de lazer, contemplação e bem-estar nas pequenas comunidades.

A ordem correta de preenchimento dos parênteses, de cima para baixo, é:

- A) 3 – 2 – 4 – 1.
- B) 2 – 3 – 1 – 4.
- C) 2 – 3 – 4 – 1.
- D) 3 – 1 – 2 – 4.
- E) 4 – 2 – 1 – 3.

**QUESTÃO 13** – A matriz de transportes é um fator importante para o direcionamento de investimentos públicos realizado pelo governo no desenvolvimento socioeconômico. A escolha do modal contratado para o transporte de cargas deve levar em consideração as vantagens e desvantagens que cada um oferece. Qual o tipo de transporte mais indicado para rotas flexíveis e com o menor custo possível de grandes quantidades de um produto pesado entre o Brasil e um país de outro continente?

- A) Aeroviário.
- B) Dutoviário.
- C) Rodoviário.
- D) Aquaviário.
- E) Ferroviário.

**QUESTÃO 14** – O ano de 2022 foi marcado pelo falecimento de personalidades nacionalmente conhecidas na área da cultura. Qual dos músicos abaixo, que faleceu em 22 de novembro, compôs e gravou a música "É preciso saber viver"?

- A) Roberto Carlos.
- B) Rolando Boldrin.
- C) Erasmo Carlos.
- D) Paulo Miklos.
- E) Luiz Aleksandro.

**QUESTÃO 15** – Analise as assertivas a seguir sobre Rio Grande do Sul (RS), assinalando V, se verdadeiras, ou F, se falsas.

- ( ) No Brasil, o bioma Pampa é restrito ao RS, ocupa a metade sul do estado e se estende por 63% do território gaúcho.
- ( ) O RS tem extensão territorial de 281.730,2 km<sup>2</sup> e ocupa cerca de 7% do território brasileiro, sendo o sétimo maior estado brasileiro.
- ( ) O RS possui 497 municípios desde 2013.

A ordem correta de preenchimento dos parênteses, de cima para baixo, é:

- A) F – F – V.
- B) V – F – V.
- C) F – V – F.
- D) F – V – V.
- E) V – F – F.

**QUESTÃO 16** – Analise a Figura 1 abaixo que apresenta parte de um documento digitado no Word 2016.



**Figura 1 – Word 2016**

Analisando a Figura 1, pode-se afirmar que foi utilizada qual função disponível no Word 2016?

- A) Dividir.
- B) Quebra de Página.
- C) Organizar tudo.
- D) Comparação.
- E) Separador de Página.

**QUESTÃO 17** – Ao criar um arquivo Excel que será compartilhado com várias pessoas e que tem muitas fórmulas, é comum utilizar a função Proteger Planilha para que os usuários não consigam excluir fórmulas, linhas, colunas, etc. Essa opção está disponível na guia Revisão, grupo:

- A) Edição.
- B) Proteger.
- C) Células.
- D) Fonte.
- E) Conexão.

**QUESTÃO 18** – Aline utiliza o Gmail como provedor de e-mail, e uma das funções que Aline gosta no Gmail são os marcadores, que têm como função:

- A) Criar tarefas na agenda.
- B) Classificar os e-mails arquivados com base em sua data de recebimento.
- C) Memorizar e-mail de remetentes específicos que devem ser bloqueados.
- D) Armazenar os e-mails recebidos de acordo com alguma característica que o usuário define.
- E) Guardar e-mails que serão enviados automaticamente em horários programados.

**QUESTÃO 19** – Analise as assertivas abaixo sobre o modo de navegação privada no navegador Firefox:

- I. É um recurso para navegar na web sem salvar o histórico de navegação ou cookies.
- II. Quando você usa o modo de navegação privada, o Firefox não salva informações sobre as páginas que você visitou, as pesquisas que fez ou os arquivos que baixou.
- III. O modo de navegação privada não salva as senhas que você digita ou informações de formulários.

Quais estão corretas?

- A) Apenas I.
- B) Apenas II.
- C) Apenas III.
- D) Apenas I e II.
- E) I, II e III.






**QUESTÃO 20** – Analise a Figura 2 abaixo que apresenta uma planilha criada no Excel 2016.

	A	B	C	D
1	Controle			
2				
3	Nome	Idade		
4	José	37		
5	Maria	52		
6	João	60		
7	Adão	66		
8	Eva	68		
9				

**Figura 2 – Excel 2016**

Para mesclar e centralizar a palavra controle, é necessário utilizar o botão \_\_\_\_\_. Considerando que na célula C6 há a fórmula =SE(B6>=60;"Idoso";"Jovem") o resultado seria \_\_\_\_\_. Se na célula B9 fosse digitada a fórmula =CONT.SE(B4:B8;"<=60") o resultado seria \_\_\_\_\_.

Assinale a alternativa que preenche, correta e respectivamente, as lacunas do trecho acima.

- A)  – Erro – 3
- B)  – Jovem – Erro
- C)  – Idoso – 3
- D)  – Erro – 2
- E)  – Idoso – 3



**MATEMÁTICA/RACIOCÍNIO LÓGICO**

**QUESTÃO 21** – Qual é a proposição equivalente a “Se  $a > 20$  então  $b=45$ ”?

- A) “Se  $a < 20$  então  $b \neq 45$ ”.  
 B) “Se  $b \neq 45$  então  $a < 20$ ”.  
 C) “Se  $b \geq 20$  então  $a \neq 45$ ”.  
 D) “Se  $b \neq 45$  então  $a \leq 20$ ”.  
 E) “Se  $a \leq 20$  então  $b \neq 45$ ”.

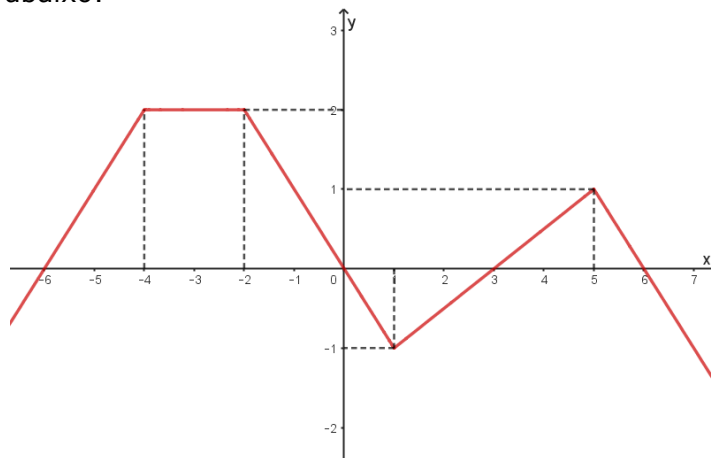
**QUESTÃO 22** – Qual das expressões abaixo equivale a  $\frac{a^2-b^2}{a^2+2ab+b^2}$  ?

- A)  $\frac{1}{2ab}$ .  
 B)  $\frac{a-b}{a+b}$ .  
 C)  $-1$ .  
 D)  $\frac{-1}{2ab}$ .  
 E)  $\frac{a+b}{a-b}$ .

**QUESTÃO 23** – Sejam A e B dois números naturais tais que multiplicando A por  $\frac{2}{3}$  ele altera-se em 10 unidades e dividindo B por  $\frac{1}{4}$  ele altera-se em 90 unidades. Qual é a diferença entre os números A e B?

- A) 0.  
 B) 5.  
 C) 10.  
 D) 15.  
 E) 20.

**QUESTÃO 24** – Assinale a alternativa correta quanto às afirmações sobre a função real  $f$  cujo gráfico está ilustrado na figura abaixo:



- A)  $f$  é decrescente  $\forall x < 5$ .  
 B)  $f(x) = -2, \forall x \in [-2, 1]$ .  
 C)  $f(0) = 0$ .  
 D)  $f$  é constante  $\forall x \in [-4, 0]$ .  
 E)  $f(1) = 0$ .

**QUESTÃO 25** – Considere um cilindro circular reto cujo raio da base é  $r$  e altura é  $h$ . Quando se duplica simultaneamente  $r$  e  $h$ , o volume do cilindro:

- A) Não se altera.
- B) Duplica.
- C) Quadruplica.
- D) Fica multiplicado por 6.
- E) Fica multiplicado por 8.

### LEGISLAÇÃO

**QUESTÃO 26** – Segundo o Estatuto Nacional da Igualdade Racial, Lei Federal nº 12.288/2010, NÃO é um dos objetivos da Política Nacional de Saúde Integral da População Negra:

- A) O fomento à realização de estudos e pesquisas sobre racismo e saúde da população negra.
- B) A promoção da saúde integral da população negra, priorizando a redução das desigualdades étnicas e o combate à discriminação nas instituições e serviços do SUS.
- C) A diminuição gradual dos impostos federais para a população negra.
- D) A inclusão do conteúdo da saúde da população negra nos processos de formação e educação permanente dos trabalhadores da saúde.
- E) Inclusão da temática saúde da população negra nos processos de formação política das lideranças de movimentos sociais para o exercício da participação e controle social no SUS.

**QUESTÃO 27** – Segundo o Regime Jurídico dos Servidores Públicos do Município de Casca, o servidor receberá a título de Adicional Por Tempo de Serviço nos seguintes termos:

- A) O adicional por tempo de serviço é devido à razão de 1,25% (um inteiro e vinte e cinco centésimos) por ano de serviço público prestado ao município, incidente sobre o vencimento padrão do servidor.
- B) O adicional por tempo de serviço é devido à razão de 10% (dez) por quadriênio de serviço público prestado ao município, incidente sobre o vencimento padrão do servidor.
- C) O adicional por tempo de serviço é devido à razão de 5% (cinco) por triênio de serviço público prestado ao município, incidente sobre o vencimento padrão do servidor.
- D) O adicional por tempo de serviço é devido à razão de 3% (três) por triênio de serviço público prestado ao município, incidente sobre o vencimento padrão do servidor.
- E) O servidor não tem direito ao adicional por tempo de serviço.

**QUESTÃO 28** – Segundo o Código de Posturas do Município de Casca, para impedir ou reduzir a poluição proveniente de sons ou ruídos excessivos, incumbe ao Município, EXCETO:

- A) Impedir o uso de qualquer aparelho, dispositivo ou motor de explosão que produza ruídos incômodos ou sons além do limite permitido.
- B) Emitir licença para a realização de shows e festivais musicais apenas em áreas rurais.
- C) Impedir a localização, em local de silêncio ou zona residencial, de casas de divertimentos públicos, que pela natureza de suas atividades produzam sons excessivos ou ruídos incômodos.
- D) Sinalizar convenientemente as áreas próximas a hospitais, casas de saúde, maternidades, escolas e creches.
- E) Disciplinar o horário de funcionamento noturno das construções.

**QUESTÃO 29** – Segundo o Regime Jurídico dos Servidores Públicos do Município de Casca, será concedida licença ao servidor efetivo, EXCETO:

- A) Para o serviço militar obrigatório.
- B) Para a gestante ou adotante.
- C) Por motivo de doença em pessoa da família.
- D) Para realizar concurso público em outra unidade da federação.
- E) Para concorrer a mandato eletivo.

**QUESTÃO 30** – Conforme a Constituição Estadual do Rio Grande do Sul, analise as assertivas abaixo sobre os direitos culturais garantidos pelo estado, assinalando V, se verdadeiras, ou F, se falsas.

- ( ) Amplo acesso a todas as formas de expressão cultural, das populares às eruditas e das regionais às universais.
- ( ) Acesso à educação artística e ao desenvolvimento da criatividade, principalmente nos estabelecimentos de ensino, nas escolas de arte, nos centros culturais e espaços de associações de bairros.
- ( ) Liberdade de criação e expressão artísticas.
- ( ) Financiamento de toda e qualquer expressão artística que tenha como objetivo enaltecer a cultura gaúcha.

A ordem correta de preenchimento dos parênteses, de cima para baixo, é:

- A) V – F – V – V.
- B) F – V – F – V.
- C) V – V – V – F.
- D) V – F – F – F.
- E) F – F – V – V.

**CONHECIMENTOS ESPECÍFICOS**

**QUESTÃO 31** – A Lei Estadual nº 6.503/1972, do estado do Rio Grande do Sul, dispõe sobre a promoção, proteção e recuperação da Saúde Pública. Sobre essa lei, analise as assertivas abaixo:

- I. A inutilização de alimentos, prevista no Art. 12 do Decreto-Lei nº 785/1969, não será efetuada quando, através do laboratório oficial, ficar constatado não estar o alimento em condições de ser considerado impróprio para consumo imediato. Em tais casos, o alimento será distribuído a instituições beneficentes, de caridade ou filantrópicas.
- II. É vedada a apreensão e inutilização sumária de alimentos destinados ao consumo imediato, mesmo quando, expostos à venda, não estiverem com a devida proteção ou se apresentarem visivelmente prejudiciais à saúde.
- III. Tubérculos, bulbos, rizomas ou sementes em grão, em estado de germinação, poderão ser expostos à venda em estabelecimentos de gêneros alimentícios e aproveitáveis para plantio ou fins industriais.

Quais estão corretas?

- A) Apenas I.
- B) Apenas III.
- C) Apenas I e II.
- D) Apenas I e III.
- E) Apenas II e III.

**QUESTÃO 32** – Sobre os Procedimentos Operacionais Padronizados (POPs) de boas práticas para serviços de alimentação, analise as assertivas abaixo:

- I. O vapor, quando utilizado em contato direto com alimentos ou com superfícies que entrem em contato com alimentos, deve ser produzido a partir de água potável e não pode representar fonte de contaminação.
- II. Os funcionários responsáveis pela atividade de higienização das instalações sanitárias podem utilizar os mesmos uniformes daqueles utilizados na manipulação de alimentos.
- III. As operações de limpeza e, se for o caso, de desinfecção das instalações e equipamentos, quando não forem realizadas rotineiramente, devem ser registradas.
- IV. Deve ser utilizada somente água potável para manipulação de alimentos. Quando utilizada solução alternativa de abastecimento de água, a potabilidade deve ser atestada anualmente mediante laudos laboratoriais, sem prejuízo de outras exigências previstas em legislação específica.
- V. O gelo para utilização em alimentos deve ser fabricado a partir de água potável, mantido em condição higiênico-sanitária que evite sua contaminação.

Quais estão INCORRETAS?

- A) Apenas II.
- B) Apenas V.
- C) Apenas I e II.
- D) Apenas II e IV.
- E) Apenas I, II e III.

**QUESTÃO 33** – De acordo com os POPs de boas práticas para serviços de alimentação, especificamente para manipulação de alimentos, assinale a alternativa INCORRETA.

- A) Os manipuladores que apresentarem lesões e/ou sintomas de enfermidades que possam comprometer a qualidade higiênico-sanitária dos alimentos devem ser afastados da atividade de preparação de alimentos enquanto persistirem essas condições de saúde.
- B) Os manipuladores devem ter asseio pessoal, apresentando-se com uniformes compatíveis à atividade, conservados e limpos. Os uniformes devem ser trocados, no mínimo, semanalmente, e usados exclusivamente nas dependências internas do estabelecimento. As roupas e os objetos pessoais devem ser guardados em local específico e reservado para esse fim.
- C) Devem ser afixados cartazes de orientação aos manipuladores sobre a correta lavagem e antissepsia das mãos e demais hábitos de higiene, em locais de fácil visualização, inclusive nas instalações sanitárias e lavatórios.
- D) Os manipuladores não devem fumar, falar desnecessariamente, cantar, assobiar, espirrar, cuspir, tossir, comer, manipular dinheiro ou praticar outros atos que possam contaminar o alimento durante o desempenho das atividades.
- E) Os manipuladores devem usar cabelos presos e protegidos por redes, toucas ou outro acessório apropriado para esse fim, não sendo permitido o uso de barba. As unhas devem estar curtas e sem esmalte ou base. Durante a manipulação, devem ser retirados todos os objetos de adorno pessoal e a maquiagem.

**QUESTÃO 34** – De acordo com o item 4.4.4 da RDC nº 216, também conhecida como Regulamento Técnico de Boas Práticas para Serviços de Alimentação da Anvisa, o reservatório de água deve ser edificado e/ou revestido de materiais que não comprometam a qualidade da água, conforme legislação específica. Deve estar livre de rachaduras, vazamentos, infiltrações, descascamentos, dentre outros defeitos, e em adequado estado de higiene e conservação, devendo estar devidamente tampado. O reservatório de água deve ser higienizado, em um intervalo máximo de \_\_\_\_\_ meses, devendo ser mantidos registros da operação.

Assinale a alternativa que preenche corretamente a lacuna do trecho acima.

- A) 1
- B) 3
- C) 6
- D) 12
- E) 24

**QUESTÃO 35** – Atos discricionários são os que a lei possibilita ao agente, seguindo critérios de conveniência e oportunidade, agindo de acordo com a lei e com os princípios que regem a Administração Pública, estabelecer um juízo e adotar um comportamento entre tantos possíveis. Assinale a alternativa que descreve um exemplo de ato discricionário.

- A) Concessão de prazo para defesa do autuado previsto na Lei Federal nº 6.437/1977.
- B) Aplicação de penalidade de multa de valor superior ao determinado pela Lei Federal nº 6.437/1977.
- C) Proceder à autuação sem realizar inspeção no local quando esta é necessária.
- D) Escolha da penalidade a ser imposta ao autuado dentro dos limites impostos pela Lei Federal nº 6.437/1977.
- E) Concessão de licença sanitária.

**QUESTÃO 36** – Assinale a alternativa que descreve, de acordo com a Lei Federal nº 6.437/1977, um exemplo de circunstância atenuante para a imposição da pena e a sua respectiva graduação.

- A) Ter o infrator cometido a infração para obter vantagem pecuniária decorrente do consumo pelo público, do produto elaborado em contrário ao disposto na legislação sanitária.
- B) O infrator coagir outrem para a execução material da infração.
- C) A errada compreensão da norma sanitária, admitida como escusável, quanto patente a incapacidade do agente para atender o caráter ilícito do fato.
- D) Ser o infrator reincidente.
- E) Caso, tendo conhecimento de ato lesivo à saúde pública, o infrator deixar de tomar as providências de sua alçada tendentes a evitá-lo.

**QUESTÃO 37** – De acordo com a RDC nº 216/2004, a edificação e as instalações devem ser projetadas de forma a possibilitar um fluxo ordenado e sem cruzamentos em todas as etapas da preparação de alimentos e a facilitar as operações de manutenção, limpeza e, quando for o caso, desinfecção. Assinale a alternativa que está INCORRETA em relação à RDC nº 216/2004 da Anvisa.

- A) O dimensionamento da edificação e das instalações deve ser compatível com todas as operações. Deve existir separação entre as diferentes atividades por meios físicos ou por outros meios eficazes de forma a evitar a contaminação cruzada.
- B) As instalações físicas como piso, parede e teto devem possuir revestimento liso, impermeável e lavável. Devem ser mantidos íntegros, conservados, livres de rachaduras, trincas, goteiras, vazamentos, infiltrações, bolores, descascamentos, dentre outros e não devem transmitir contaminantes aos alimentos.
- C) As portas e as janelas devem ser mantidas ajustadas aos batentes. As portas da área de preparação e armazenamento de alimentos devem ser dotadas de fechamento automático.
- D) As instalações sanitárias devem possuir lavatórios e estar supridas de produtos destinados à higiene pessoal tais como papel higiênico, sabonete líquido inodoro antisséptico ou sabonete líquido inodoro e produto antisséptico e toalhas de papel não reciclado ou outro sistema higiênico e seguro para secagem das mãos. Os coletores dos resíduos devem ser dotados de tampa, automáticos ou acionados com contato manual.
- E) Devem ser realizadas manutenção programada e periódica dos equipamentos e utensílios e calibração dos instrumentos ou equipamentos de medição, mantendo registro da realização dessas operações.

**QUESTÃO 38** – A Agência Nacional de Vigilância Sanitária (Anvisa) é uma autarquia sob regime especial, vinculada ao Ministério da Saúde, caracterizada pela independência administrativa, estabilidade de seus dirigentes e autonomia financeira. São competências da Anvisa, EXCETO:

- A) Controle sanitário em portos, aeroportos e fronteiras.
- B) Conjunto de políticas e diretrizes gerais, ações normatizadoras e indutoras que visam à defesa do interesse público e à sustentabilidade do mercado de assistência suplementar à saúde.
- C) Avaliação e aprovação de solicitações para a realização de pesquisas clínicas de vacinas e medicamentos com fins de registro.
- D) Estabelecer normas e padrões sobre limites de contaminantes, resíduos tóxicos, desinfetantes, metais pesados e outros que envolvam risco à saúde.
- E) Autuar e aplicar as penalidades previstas em lei.

**QUESTÃO 39** – A Resolução da Diretoria Colegiada nº 216 da Anvisa estabelece a regulamentação técnica de boas práticas também para o controle integrado de vetores e pragas urbanas. Assinale a alternativa que descreve uma prática INCORRETA de acordo com essa resolução.

- A) A edificação, as instalações, os equipamentos, os móveis e os utensílios devem ser livres de vetores e pragas urbanas. Deve existir um conjunto de ações eficazes e contínuas de controle de vetores e pragas urbanas, com o objetivo de impedir a atração, o abrigo, o acesso e/ou proliferação dos mesmos.
- B) O controle químico é obrigatório e deve ser empregado e executado por empresa especializada, conforme legislação específica, com produtos desinfestantes regularizados pelo Ministério da Saúde, ainda que as medidas de prevenção adotadas sejam eficazes.
- C) A empresa especializada pelo controle químico deve estabelecer procedimentos pré e pós-tratamento a fim de evitar a contaminação dos alimentos, equipamentos e utensílios.
- D) Os equipamentos e os utensílios, antes de serem reutilizados, devem ser higienizados para a remoção dos resíduos de produtos desinfestantes.
- E) Quando as medidas de prevenção adotadas não forem eficazes, o controle químico deve ser empregado.

**QUESTÃO 40** – Sobre a Lei Estadual nº 6503/1972, do estado do Rio Grande do Sul, analise as assertivas abaixo:

- I. É proibido o comércio de inseticidas, raticidas e outros venenos, bem como de desinfetantes e saneantes ou produtos similares, em estabelecimentos de venda ou consumo de alimentos, ainda que o estabelecimento interessado possua local adequado, previamente vistoriado e aprovado pela autoridade sanitária competente.
- II. É vedado o uso de instalações, maquinarias, utensílios e equipamentos que, destinados a entrar em contato com alimentos, nas diversas fases de fabrico, manipulação, produção, estocagem, acondicionamento, depósito ou transporte, possam interferir nocivamente na elaboração do produto, alterar o seu valor nutritivo ou suas características organolépticas.
- III. Quando não existir rede pública de abastecimento de água ou coletores de esgoto, a Secretaria da Saúde indicará as medidas adequadas a serem executadas.

Quais estão corretas?

- A) Apenas I.
- B) Apenas III.
- C) Apenas I e II.
- D) Apenas I e III.
- E) Apenas II e III.