



DOMINGO DE TARDE

**PREFEITURA MUNICIPAL DE CASCA/RS
CONCURSO PÚBLICO Nº 01/2023**

**AGENTE COMUNITÁRIO DE SAÚDE, AGENTE DE COMBATE A
ENDEMIAS, AUXILIAR ADMINISTRATIVO, AUXILIAR DE
DESENVOLVIMENTO INFANTIL, AUXILIAR DE ENSINO E
ORIENTADOR EDUCADOR SOCIAL**

INSTRUÇÕES

Leia atentamente e cumpra rigorosamente as instruções que seguem, pois elas são parte integrante das provas e das normas que regem esse certame.

1. Atente-se aos avisos contidos no quadro da sala.
2. Seus pertences deverão estar armazenados dentro de embalagem específica fornecida pelo fiscal, permanecendo em sua posse somente caneta esferográfica de ponta grossa, de material transparente, com tinta azul ou preta, lanche e água, se houver. A utilização de qualquer material não permitido em edital é expressamente proibida, acarretando a sua imediata eliminação do certame.
3. Certifique-se de que este caderno:
 - contém 40 (quarenta) questões;
 - refere-se ao cargo para o qual realizou a inscrição.
4. Cada questão oferece 5 (cinco) alternativas de respostas, representadas pelas letras A, B, C, D e E, sendo apenas 1 (uma) a resposta correta.
5. Será respeitado o tempo para realização da prova conforme previsto em edital, incluindo o preenchimento da grade de respostas.
6. Os três últimos candidatos deverão retirar-se da sala de prova ao mesmo tempo, devendo assinar a Ata de Prova.
7. A responsabilidade referente à interpretação dos conteúdos das questões é exclusiva do candidato.
8. No caderno de prova, você poderá rabiscar, riscar e calcular.
9. Os gabaritos preliminares da prova objetiva serão divulgados na data descrita no Cronograma de Execução desse certame.



V1_27/03/2023 11:32:08



LÍNGUA PORTUGUESA

Instrução: As questões de números 01 a 10 referem-se ao texto abaixo. Os destaques ao longo do texto estão citados nas questões.

Os testes de QI

Por Bruno Garattoni e Eduardo Szklarz

01 O primeiro teste de QI (quociente de inteligência) foi elaborado em 1905 pelos psicólogos
02 franceses Alfred Binet e Théodore Simon para identificar crianças com algum tipo de deficiência
03 mental. Em 1916, o americano Lewis Terman, da Universidade Stanford, aperfeiç...u o exame,
04 que acabou sendo adaptado e usado pelos EUA, na 1ª Guerra Mundial, para avaliar os soldados.

05 Mas o questionário tinha vários problemas – a começar pelo fato de que ele havia sido
06 desenvolvido para aferir deficiência mental em crianças. Inconformado com isso, o psicólogo
07 romeno-americano David Wechsler resolveu começar do zero.

08 E, em 1955, publicou o WAIS: Wechsler Adult Intelligence Scale, exame que ___ o teste
09 de QI mais aceito entre psicólogos, psiquiatras e demais pesquisadores da cognição humana (só
10 neste ano, foi utilizado ou citado em mais de 900 estudos sobre o tema).

11 Ele leva em média 1h30, e deve ser aplicado por um psiquiatra ou psicólogo. Consiste
12 numa bateria de perguntas e testes que avaliam 15 tipos de capacidade intelectual, divididos
13 em quatro ei...os: compreensão verbal, raciocínio, memória e velocidade de processamento.

14 Isso inclui testes de linguagem (o psicólogo diz, por exemplo: “defina a palavra
15 a...strato”, e aí avalia a rapidez e a complexidade da sua resposta), conhecimentos gerais,
16 aritmética, reconhecimento de padrões (você vê uma sequência de símbolos, tem de entender a
17 relação entre eles e indicar o próximo), memorização avançada, visualização espacial –
18 reproduzir formas 3D usando blocos de madeira – e outros exercícios.

19 O grau de dificuldade do exame é cuidadosamente calibrado para que a média das
20 pessoas marque de 90 a 110 pontos. Esse é o nível que significa inteligência normal, média. Se
21 você fizer mais de 130 pontos, é enquadrado na categoria mais alta, de inteligência “muito
22 superior” (a pontuação máxima é 160).

23 Mas é preciso encarar esses números em sua devida perspectiva. O teste de QI não diz
24 se uma pessoa vai ter sucesso na vida, nem determina seu valor como indivíduo. Não diz se
25 você é sensato, arguto ou criativo, entre outras dezenas de habilidades intelectuais que um ser
26 humano pode ter.

27 O que ele faz é medir a cognição básica, ou seja, a sua capacidade de executar
28 operações mentais elementares, que formam a base de todas as outras. É um mínimo
29 denominador comum. E, por isso mesmo, pode ajudar a enxergar a evolução (ou involução) da
30 inteligência.

31 Ao longo do século 20, o QI aumentou consistentemente no mundo todo – foram três
32 pontos a mais por década, em média. É o chamado “efeito Flynn”, em alusão ao psicólogo
33 americano James Flynn, que o identificou e documentou. Não é difícil entender essa evolução.
34 Melhore a saúde, a nutrição e a educação das pessoas, e elas naturalmente se sairão melhor em
35 qualquer teste de inteligência.

36 O QI da população japonesa, por exemplo, chegou a crescer 7,7 pontos por década após
37 a 2ª Guerra Mundial; uma consequência direta da melhora nas condições de vida por lá.

(Disponível em: <https://super.abril.com.br/especiais/a-era-da-burrice/> – texto adaptado especialmente para esta prova).

QUESTÃO 01 – Considerando o exposto pelo texto, analise as assertivas a seguir:

- I. O teste de QI quantifica nossa capacidade básica de raciocínio.
- II. Bons resultados em testes de QI indicam melhores possibilidades de carreiras bem-sucedidas.
- III. Pode-se descobrir se uma pessoa não é sensata através de um teste de QI.

Quais estão corretas?

- A) Apenas I.
- B) Apenas II.
- C) Apenas I e II.
- D) Apenas I e III.
- E) Apenas II e III.

QUESTÃO 02 – Assinale a alternativa que preenche, correta e respectivamente, as lacunas pontilhadas das linhas 03, 13 e 15.

- A) o – ch – bi
- B) o – x – bi
- C) oo – ch – b
- D) oo – x – bi
- E) oo – x – b

QUESTÃO 03 – Assinale a alternativa que preenche corretamente a lacuna tracejada da linha 08.

- A) Tornou-se.
- B) Se tornou.
- C) Tornou-lhe.
- D) Lhe tornou.
- E) Si tornou.

QUESTÃO 04 – Assinale a alternativa que indica palavra que poderia substituir corretamente o vocábulo “aferir” (l. 06) sem causar alterações significativas ao sentido original do texto.

- A) Encobrir.
- B) Verificar.
- C) Ocultar.
- D) Esconder.
- E) Inutilizar.

QUESTÃO 05 – Na oração “Inconformado com isso, o psicólogo romeno-americano David Wechsler resolveu começar do zero”, qual a ideia transmitida pela oração sublinhada?

- A) Causa.
- B) Consequência.
- C) Condição.
- D) Concessão.
- E) Comparação.

QUESTÃO 06 – Assinale a alternativa que indica um trecho no qual NÃO se pode identificar a voz passiva.

- A) O primeiro teste de QI (quociente de inteligência) foi elaborado em 1905.
- B) O americano Lewis Terman, da Universidade Stanford, aperfeiç...u o exame, que acabou sendo adaptado.
- C) A começar pelo fato de que ele havia sido desenvolvido.
- D) Só neste ano, foi utilizado ou citado em mais de 900 estudos sobre o tema.
- E) Você vê uma sequência de símbolos, tem de entender a relação entre eles e indicar o próximo.

QUESTÃO 07 – Assinale a alternativa que indica a correta classificação do sujeito da oração a seguir: “Consiste numa bateria de perguntas e testes” (l. 11-12).

- A) Sujeito simples e expresso na oração.
- B) Sujeito oculto expresso em oração anterior.
- C) Sujeito composto.
- D) Sujeito indeterminado.
- E) Oração sem sujeito – verbo impessoal.

QUESTÃO 08 – Assinale a alternativa que indica o correto processo de formação da palavra “QI”.

- A) Abreviação.
- B) Neologismo.
- C) Siglagem.
- D) Hibridismo.
- E) Combinação.

QUESTÃO 09 – Assinale a alternativa que indica o número correto de artigos presentes no trecho a seguir. Considere, inclusive, os artigos que, por ventura, aparecerem combinados ou contraídos a outras palavras:

“O QI da população japonesa, por exemplo, chegou a crescer 7,7 pontos por década após a 2ª Guerra Mundial; uma consequência direta da melhora nas condições de vida por lá”.

- A) 3.
- B) 4.
- C) 5.
- D) 6.
- E) 7.

QUESTÃO 10 – Assinale a alternativa que indica a correta função sintática do termo sublinhado no trecho a seguir: “O grau de dificuldade do exame é cuidadosamente calibrado”.

- A) Sujeito.
- B) Objeto Direto.
- C) Predicativo do Sujeito.
- D) Adjunto Adverbial.
- E) Complemento Nominal.

MATEMÁTICA/RACIOCÍNIO LÓGICO

QUESTÃO 11 – Um módulo fotovoltaico cuja potência é 550 Watt (W) gera, por mês, uma média de 70,88 quilowatt-hora (kWh). Considerando que um mês tem 30 dias, qual é a média de produção desse módulo, em kWh, em 30 dias?

- A) 38,98.
- B) 42,52.
- C) 45,38.
- D) 47,24.
- E) 53,89.

QUESTÃO 12 – Ao efetuar o produto $\left(\sqrt[4]{(6 + 2\sqrt{5})}\right) \cdot \left(\sqrt[4]{(6 - 2\sqrt{5})}\right)$ obtém-se um número:

- A) Negativo.
- B) Maior do que 3.
- C) Primo.
- D) Irrracional.
- E) Ímpar.

QUESTÃO 13 – Qual o valor de x se obtém ao resolver a equação $\frac{5(x+3)}{2} + \frac{x^2}{3} = \frac{(x-3)(x+2)}{3}$?

- A) $-\frac{57}{17}$
- B) $-\frac{33}{13}$
- C) 5
- D) $\frac{33}{17}$
- E) $\frac{57}{13}$

QUESTÃO 14 – Um reservatório cujo volume é $65,4 \text{ m}^3$ está com sua capacidade pela metade. Porém, será completado com um cano cuja vazão é 250 ml por segundo. Quanto tempo será necessário para encher completamente o referido reservatório?

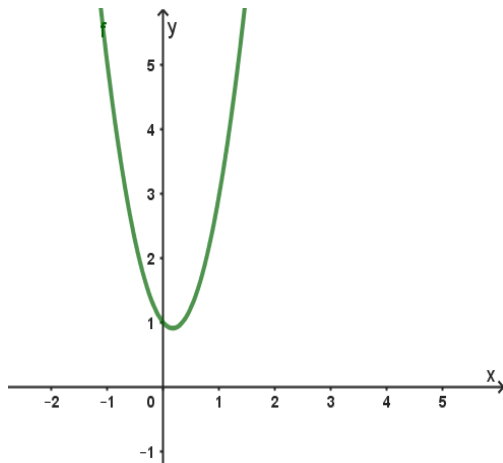
- A) 28 horas e 30 minutos.
- B) 36 horas e 20 minutos.
- C) 42 horas e 10 minutos.
- D) 65 horas e 50 minutos.
- E) 72 horas e 40 minutos.

QUESTÃO 15 – Considerando os polinômios $P(x) = x^3 + 12x^2 + 36x$ e $Q(x) = x^4 + 6x^3 - 2x^2 - 12x$, qual a expressão que representa a razão $\frac{P(x)}{Q(x)}$?

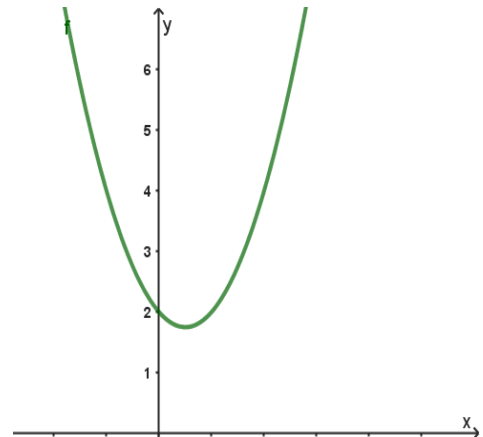
- A) $\frac{6}{x-2}$
- B) $\frac{49x}{x-8}$
- C) $\frac{x+6}{x-2}$
- D) $\frac{-6x}{x+2}$
- E) $\frac{x+6}{x^2-2}$

QUESTÃO 16 – Considere a função real $f(x) = 3x^2 - bx + 1$, em que $b \in \mathbb{R}$. Qual dos gráficos abaixo representa a função f ?

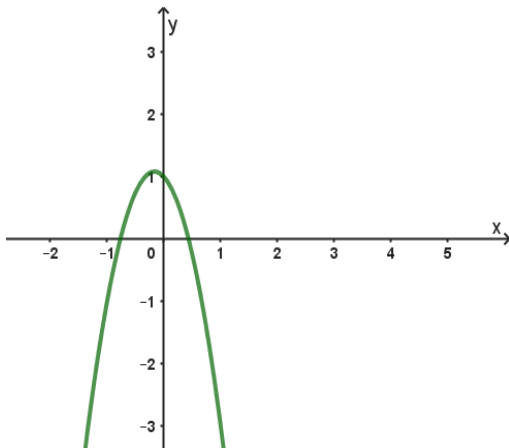
A)



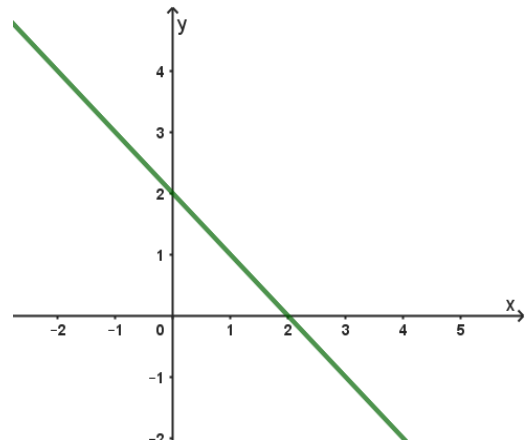
B)



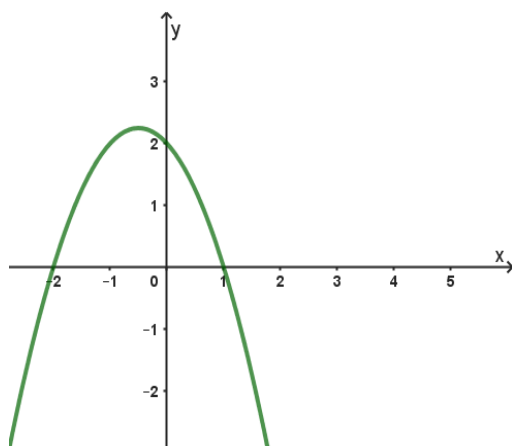
C)



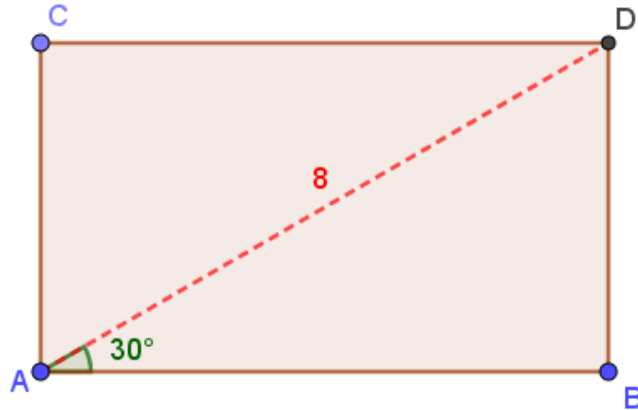
D)



E)



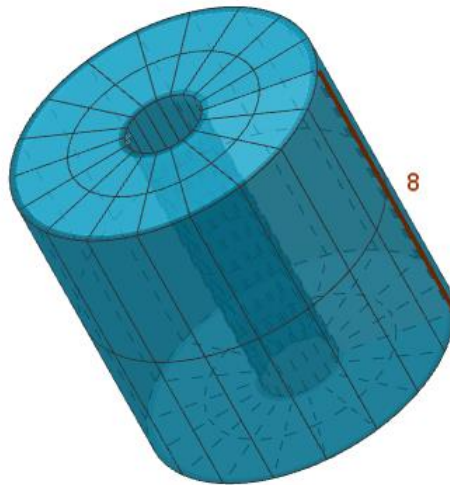
QUESTÃO 17 – No retângulo ABCD, considere que a diagonal AD mede 8 cm e que o ângulo $B\hat{A}D$ mede 30° , como ilustra a figura abaixo:



Qual é a área do referido retângulo?

- A) $8\sqrt{2} \text{ cm}^2$.
- B) $16\sqrt{2} \text{ cm}^2$.
- C) $8\sqrt{3} \text{ cm}^2$.
- D) $16\sqrt{3} \text{ cm}^2$.
- E) 64 cm^2 .

QUESTÃO 18 – De um cilindro de diâmetro 4 cm e 8 cm de altura foi retirado um cilindro de 1 cm de diâmetro e mesma altura, como ilustra a figura abaixo:



Nessas condições, qual é o volume do cilindro vazado restante? Considere $\pi = 3,1$.

- A) 31 cm^3 .
- B) $9,3 \text{ cm}^3$.
- C) 93 cm^3 .
- D) $90\sqrt{3} \text{ cm}^3$.
- E) 930 cm^3 .

QUESTÃO 19 – Arnaldo aplicou R\$ 30.000,00 a uma taxa mensal de 1,8%. Esse capital rendeu R\$ 8.640,00 de juros simples. Qual foi o período da aplicação feita por Arnaldo?

- A) 8 meses.
- B) 10 meses.
- C) 1 ano e 2 meses.
- D) 1 ano e 4 meses.
- E) 1 ano e 6 meses.

QUESTÃO 20 – Abaixo consideramos dois pares de palavras que escrevemos de acordo com um determinado critério:

ARTICULISTA – TACAR
CANASTREIRO – ROSCA
REPUBLICANO – _____

Seguindo o mesmo critério, qual palavra preenche corretamente a lacuna acima?

- A) CANAL
- B) FRACO
- C) NOBRE
- D) PARAR
- E) RADAR

CONHECIMENTOS GERAIS

QUESTÃO 21 – Conforme a Prefeitura de Casca, o início da história do município se dá aos fins do século XIX com a chegada dos primeiros colonizadores descendentes de poloneses e italianos. No que se refere à história e geografia do município e da região que o cerca, é INCORRETO afirmar que:

- A) Foi um distrito subordinado ao município de Guaporé.
- B) Sua divisão territorial já foi constituída por cinco distritos: Casca, Evangelista, Santo Antônio, São Domingos e Vanini.
- C) Uma das hipóteses para o município ser denominado Casca se deve às cascas extraídas de árvores que existiam na região para fins comerciais.
- D) Casca foi elevada à categoria de município através da Lei Estadual nº 2.525, sendo criada em 28 de fevereiro de 1948.
- E) Um trecho do hino do município é "Salve Casca, linda terra, glória minha e de meus pais. Tua grandeza um sonho encerra, paz e amor nos teus ideais".

QUESTÃO 22 – Analise a seguinte descrição sobre uma região turística do Rio Grande do Sul:

"Localizada no coração do estado, possui cenários encantadores: coxilhas, quedas de água e belvederes se misturam com o legado paleontológico de fósseis de 200 milhões de anos. A Quarta Colônia de Imigração Italiana preserva a vida e a cultura dos imigrantes, e se revela na arquitetura, nas manifestações artísticas e nos roteiros gastronômicos".

A descrição supracitada se refere a qual região turística e inclui quais cidades?

- A) Região Central, que inclui as cidades de Itaara e Silveira Martins.
- B) Região Centro-Serra, que inclui as cidades de Sobradinho e Novo Cabrais.
- C) Região Delta do Jacuí, que inclui as cidades de Porto Alegre e Gravataí.
- D) Região Alto da Serra do Botucaraí, que inclui as cidades de São José do Herval e Soledade.
- E) Região Pampa Gaúcho, que inclui as cidades de Bagé e Dom Pedrito.

QUESTÃO 23 – No contexto da matriz de transporte, modal é o termo utilizado para designar cada uma das modalidades de movimentação de cargas ao redor do país ou do mundo, considerando diferentes vantagens e desvantagens. Relacione a Coluna 1 à Coluna 2 sobre o modal e suas características.

Coluna 1

- 1. Rodoviário.
- 2. Aéreo.
- 3. Ferroviário.

Coluna 2

- () Oferece maior flexibilidade e diversidade nas opções de rotas e permite transportar diversos tipos de material, mas tem maiores chances de a carga ser extraviada.
- () Possui capacidade para transportar grandes quantidades de carga por longas distâncias e com baixo custo, mas tem rotas fixas e inflexíveis.
- () É ideal para transportar mercadorias que precisam chegar ao destino com maior rapidez e segurança, mas tem custo elevado e limitação na quantidade de carga transportada.

A ordem correta de preenchimento dos parênteses, de cima para baixo, é:

- A) 1 – 2 – 3.
- B) 1 – 3 – 2.
- C) 2 – 1 – 3.
- D) 2 – 3 – 1.
- E) 3 – 2 – 1.

QUESTÃO 24 – O ano de 2022 foi marcado pelo falecimento de personalidades nacionalmente conhecidas na área da cultura. Qual cantora, que faleceu em 20 de janeiro, foi vencedora do Grammy Latino de Melhor Álbum de Música Popular Brasileira pelo álbum "A Mulher do Fim do Mundo" e gravou músicas de forte apelo contra o racismo como "A carne" e "Haiti"?

- A) Alcione.
- B) Sandra de Sá.
- C) Gal Costa.
- D) Negra Li.
- E) Elza Soares.

QUESTÃO 25 – No que se refere ao estado do Rio Grande do Sul (RS), é correto afirmar que:

- A) O RS é o sétimo maior estado brasileiro.
- B) O último município criado no RS foi fundado em 2020 e desde então existem 545 municípios no estado.
- C) No Brasil, o bioma Pampa é restrito ao RS.
- D) O RS possui apenas uma bacia hidrográfica, a platina.
- E) A matriz energética do estado tem como principal fonte de energia as usinas fotovoltaicas.

LEGISLAÇÃO

QUESTÃO 26 – Conforme a Constituição Estadual do Rio Grande do Sul (RS), são bens do RS, EXCETO:

- A) Rios com nascente e foz no território do Estado.
- B) Os recursos minerais, inclusive os do subsolo.
- C) Os terrenos marginais dos rios e lagos navegáveis que correm ou ficam situados em seu território, em zonas não alcançadas pela influência das marés.
- D) Os inventos e a criação intelectual surgidos sob remuneração ou custeio público estadual, direto ou indireto.
- E) Os terrenos marginais dos rios que, embora não navegáveis, porém caudais e sempre corredios, contribuam com suas águas, por confluência direta, para tornar outros navegáveis.

QUESTÃO 27 – Com base na Constituição Estadual, em relação às competências exclusivas da Assembleia Legislativa, analise as assertivas abaixo, assinalando V, se verdadeiras, ou F, se falsas.

- () Processar e julgar o Governador e o Vice-Governador do Estado nos crimes de responsabilidade, e os Secretários de Estado nos crimes da mesma natureza conexos com aqueles.
- () Processar e julgar Mandado de Segurança.
- () Nomear o Procurador-Geral do Estado.
- () Ordenar a sustação de contrato impugnado pelo Tribunal de Contas.

A ordem correta para preenchimento dos parênteses, de cima para baixo, é:

- A) V – F – V – F.
- B) F – V – F – F.
- C) F – V – V – F.
- D) V – F – V – V.
- E) V – F – F – V.

QUESTÃO 28 – Conforme o Regime Jurídico dos Servidores Públicos do Município de Casca, o servidor público, após adquirir estabilidade, só perderá o cargo pelos seguintes motivos, EXCETO:

- A) Bater o ponto de forma incorreta por mais de 5 (cinco) vezes.
- B) Mediante procedimento de avaliação periódica de desempenho, na forma de lei complementar, assegurada ampla defesa.
- C) Mediante processo administrativo em que lhe seja assegurada ampla defesa.
- D) Para cumprimento dos limites da despesa com pessoal.
- E) Em virtude de sentença judicial transitada em julgado.

QUESTÃO 29 – Conforme o Regime Jurídico dos Servidores Públicos do Município de Casca, NÃO são formas de provimento dos cargos públicos:

- A) Readaptação.
- B) Reversão.
- C) Indicação.
- D) Nomeação.
- E) Recondução.

QUESTÃO 30 – Com base no Estatuto da Pessoa Idosa, são direitos da pessoa idosa:

- I. Preferência na formulação e na execução de políticas sociais públicas específicas.
- II. Atendimento preferencial imediato e individualizado junto aos órgãos públicos e privados prestadores de serviços à população.
- III. Preferência especial aos maiores de 75 anos.
- IV. Prioridade no recebimento da restituição do imposto de renda apenas se comprovar possuir doença grave.

Quais estão corretas?

- A) Apenas I e II.
- B) Apenas II e III.
- C) Apenas II e IV.
- D) Apenas III e IV.
- E) Apenas I, II e III.

QUESTÃO 31 – Com base no Estatuto do Idoso, analise as assertivas abaixo, assinalando V, se verdadeiras, ou F, se falsas.

- () A instituição dedicada ao atendimento à pessoa idosa não deve manter identificação externa visível, sob pena de interdição.
- () A pessoa idosa tem direito à moradia digna, no seio da família natural ou substituta, ou desacompanhada de seus familiares, quando assim o desejar, ou, ainda, em instituição pública ou privada.
- () As instituições que abrigarem pessoas idosas são obrigadas a manter padrões de habitação compatíveis com as necessidades delas, bem como provê-las com alimentação regular e higiene indispensáveis às normas sanitárias e com estas condizentes.
- () A assistência integral na modalidade de entidade de longa permanência será prestada quando verificada inexistência de grupo familiar, casa-lar, abandono ou carência de recursos financeiros próprios ou da família.

A ordem correta de preenchimento dos parênteses, de cima para baixo, é:

- A) V – F – V – F.
- B) F – V – F – V.
- C) F – V – V – V.
- D) V – F – F – V.
- E) V – V – F – F.

QUESTÃO 32 – Segundo a Lei Geral de Proteção de Dados Pessoais, a proteção dos dados pessoais NÃO tem como fundamentos o(a):

- A) Inviolabilidade da intimidade, da honra e da imagem.
- B) Direito irrestrito ao anonimato.
- C) Livre iniciativa.
- D) Livre concorrência.
- E) Defesa do consumidor.

QUESTÃO 33 – Com base na Lei Geral de Proteção de Dados Pessoais, analise as seguintes assertivas sobre os princípios que as atividades de tratamento de dados deverão observar:

- I. **Transparência:** garantia, aos titulares, de informações claras, precisas e facilmente acessíveis sobre a realização do tratamento e os respectivos agentes de tratamento, observados os segredos comercial e industrial.
- II. **Finalidade:** realização do tratamento para propósitos legítimos, específicos, explícitos e informados ao titular, sem possibilidade de tratamento posterior de forma incompatível com essas finalidades.
- III. **Acesso restrito:** a impossibilidade de consulta sobre a forma e a duração do tratamento, bem como sobre a integralidade de seus dados pessoais, salvo se houver decisão judicial.
- IV. **Não discriminação:** impossibilidade de realização do tratamento para fins discriminatórios ilícitos ou abusivos.

Quais estão corretas?

- A) Apenas I.
- B) Apenas I e II.
- C) Apenas III e IV.
- D) Apenas I, II e IV.
- E) Apenas II, III e IV.

QUESTÃO 34 – O tratamento de dados pessoais somente poderá ser realizado nas seguintes hipóteses:

- A) Para vender os dados para os bancos privados e públicos.
- B) Para análise de possíveis inadimplentes.
- C) Para a proteção da vida ou da incolumidade física do titular ou de terceiro.
- D) Para as operadoras de telefonia saberem onde investir em modernização de suas antenas.
- E) Quando solicitado diretamente pela presidência da República.

QUESTÃO 35 – Com base na Lei Geral de Proteção de Dados, analise as assertivas abaixo, assinalando V, se verdadeiras, ou F, se falsas, sobre o fornecimento de consentimento para tratamento dos dados pessoais.

- () O consentimento deverá ser fornecido por escrito ou por outro meio que demonstre a manifestação de vontade do titular.
- () O consentimento pode ser revogado a qualquer momento mediante manifestação expressa do titular, por procedimento gratuito e facilitado.
- () O consentimento poderá ser genérico e irrestrito.
- () O consentimento deverá referir-se a finalidades determinadas.

A ordem correta de preenchimento dos parênteses, de cima para baixo, é:

- A) V – F – V – F.
- B) V – V – F – F.
- C) F – V – V – V.
- D) F – F – V – F.
- E) V – F – F – V.

INFORMÁTICA

QUESTÃO 36 – Analise a Figura 1 abaixo, que apresenta um documento criado no Word 2016:

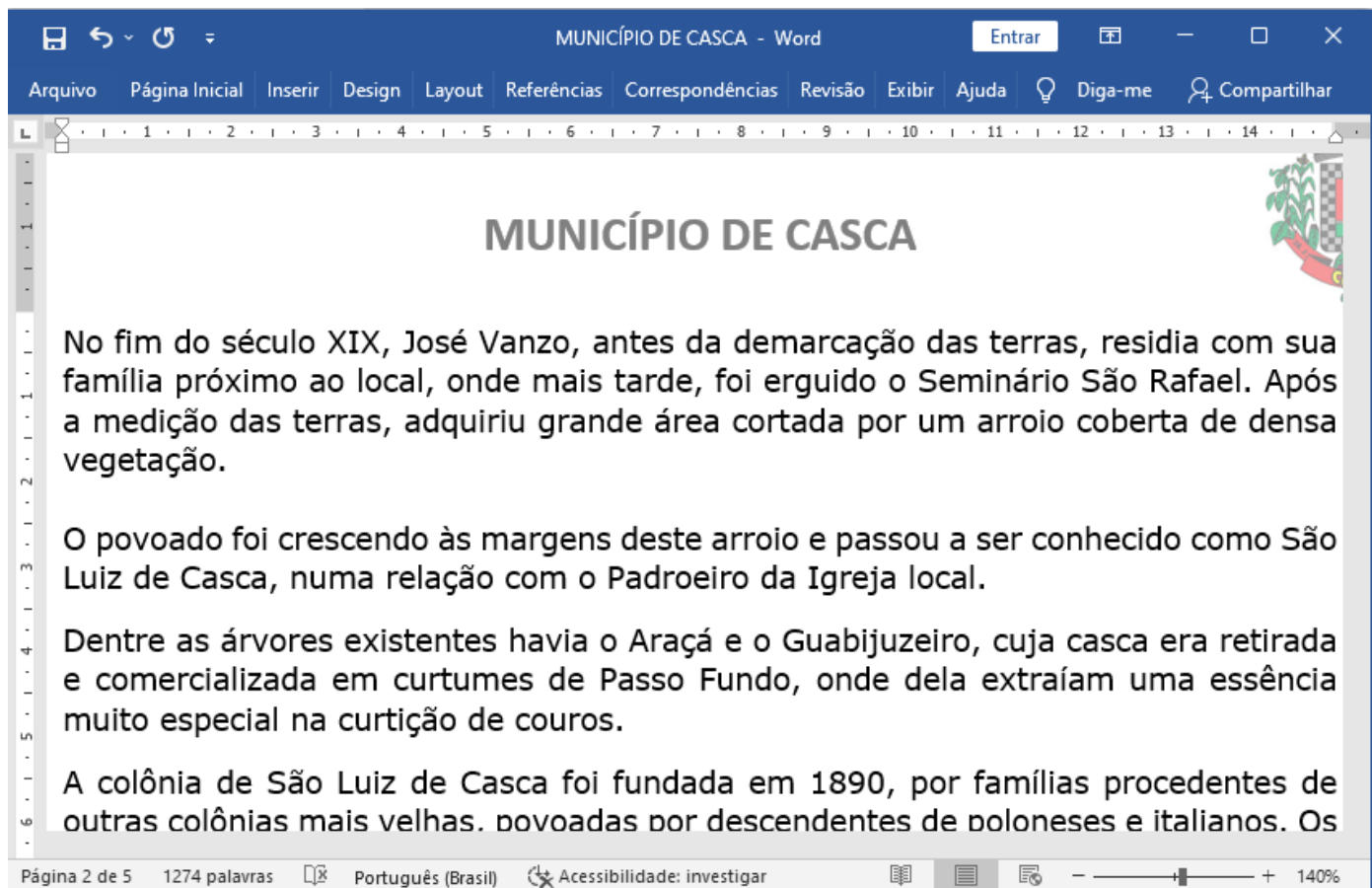


Figura 1 – Janela do Word 2016

Após analisar a Figura, pode-se afirmar que:

- I. O zoom da página está no máximo.
- II. Existem erros de ortografia.
- III. O documento já está salvo.
- IV. A página que está sendo apresentada é a primeira do documento.

Quais estão corretas?

- A) Apenas I e IV.
- B) Apenas II e III.
- C) Apenas III e IV.
- D) Apenas I, III e IV.
- E) I, II, III e IV.

QUESTÃO 37 – Ana fez todo seu trabalho de conclusão da faculdade utilizando o Word 2016. Ao concluir, verificou que uma palavra, que foi muito utilizada em seu trabalho, estava escrita erroneamente e, diante disso, utilizou a funcionalidade substituir que está disponível na guia Página Inicial, grupo:

- A) Editando.
- B) Fonte.
- C) Área de transferência.
- D) Revisão de Texto.
- E) Controle.

QUESTÃO 38 – Analise a Figura 2 abaixo, que apresenta uma planilha no Excel 2016:

	A	B	C	D	E
1	25	25	25	25	
2	30	30	30	30	
3	40	40	40	40	
4	25	25	25	25	
5	30	30	30	30	
6	40	40	40	40	
7					
8					

Figura 2 – Planilha no Excel 2016

Se na célula D7 for digitada a fórmula =SOMASE(A1:D6;25), o resultado apresentado será:

- A) 8.
- B) 25.
- C) 100.
- D) 200.
- E) Erro, pois não existe essa fórmula no Excel.

QUESTÃO 39 – Ediléia utiliza o Gmail na empresa onde trabalha. Todo dia, logo que chega, começa a ler seus e-mails e, alguns, coloca na lixeira. Ao fazer isso, ela sabe que o e-mail movido para a lixeira permanecerá por _____ antes de ser automaticamente excluído e que, durante esse período, pode recuperar o e-mail excluído da lixeira, se necessário.

Assinale a alternativa que preenche corretamente a lacuna do trecho acima.

- A) 24 horas
- B) 78 horas
- C) 30 dias
- D) 90 dias
- E) 6 meses

QUESTÃO 40 – Analise a Figura 3 abaixo, que mostra uma janela do Navegador Google Chrome:

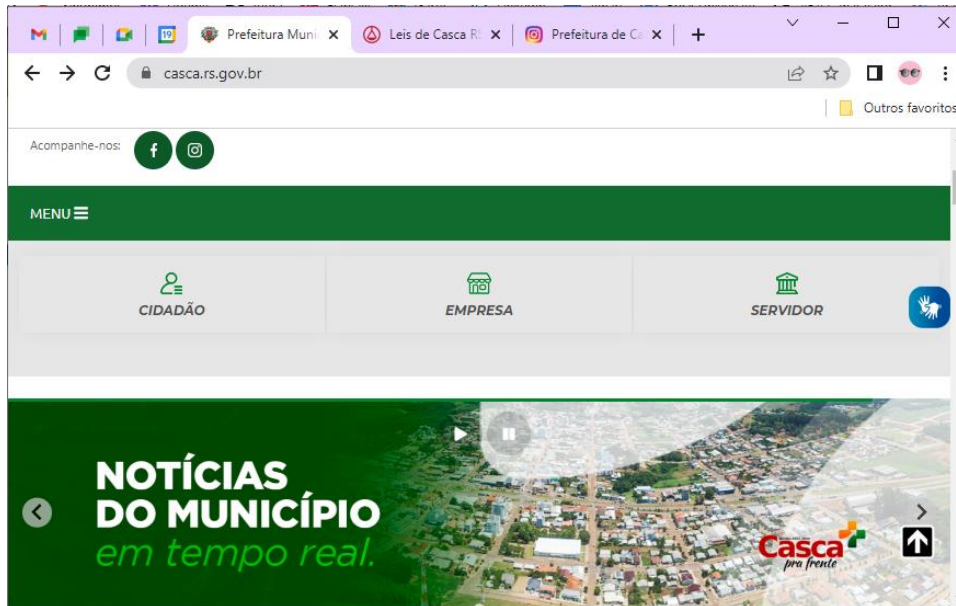


Figura 3 – Google Chrome

Após analisar a Figura, pode-se afirmar que:

- I. Existem sites salvos como favoritos.
- II. Foi utilizada a função fixar.
- III. Uma nova guia pode ser aberta utilizando o comando de teclado CTRL+T.

Quais estão corretas?

- A) Apenas I.
- B) Apenas II.
- C) Apenas III.
- D) Apenas I e III.
- E) I, II e III.