



PREFEITURA DE
SANTANA DE PARNAÍBA

PREFEITURA DO MUNICÍPIO DE SANTANA DE PARNAÍBA

ESTADO DE SÃO PAULO

CONCURSO PÚBLICO

EDITAL N.º 01.2023

111 – FISCAL DE OBRAS

NOME DO CANDIDATO

NÚMERO DE INSCRIÇÃO

- VOCÊ RECEBEU SUA FOLHA DE RESPOSTAS E ESTE CADERNO CONTENDO **40** QUESTÕES OBJETIVAS.
- VERIFIQUE SE ESTE CADERNO CORRESPONDE AO CARGO QUE VOCÊ SE INSCREVEU. HAVENDO DIVERGÊNCIA, INFORME, IMEDIATAMENTE, AO FISCAL DA SALA. NÃO SERÃO ACEITAS RECLAMAÇÕES POSTERIORES.
- VERIFIQUE SE O CONTEÚDO DESTA CADERNO SE ENCONTRA COMPLETO E LEGÍVEL. HAVENDO DIVERGÊNCIA, INFORME, IMEDIATAMENTE, AO FISCAL DA SALA. NÃO SERÃO ACEITAS RECLAMAÇÕES POSTERIORES.
- PREENCHA COM SEU NOME E NÚMERO DE INSCRIÇÃO OS ESPAÇOS RESERVADOS NA CAPA DESTA CADERNO.
- LEIA CUIDADOSAMENTE AS QUESTÕES E ESCOLHA A RESPOSTA QUE VOCÊ CONSIDERA CORRETA.
- RESPONDA A TODAS AS QUESTÕES.
- TRANSCREVA PARA A FOLHA DE RESPOSTAS COM CANETA DE TINTA AZUL OU PRETA.
- A DURAÇÃO DA PROVA É DE **3 HORAS**.
- A SAÍDA DO CANDIDATO DO PRÉDIO SERÁ PERMITIDA, APÓS TRANSCORRIDO O TEMPO MÍNIMO, ESTABELECIDO NO EDITAL DO CONCURSO PÚBLICO.
- AO SAIR, VOCÊ ENTREGARÁ AO FISCAL A FOLHA DE RESPOSTAS.

É EXPRESSAMENTE PROIBIDO O USO DE CELULAR E OUTROS APARELHOS ELETRÔNICOS NAS DEPENDÊNCIAS DO LOCAL DE PROVA.

AGUARDE A ORDEM DO FISCAL PARA ABRIR ESTE CADERNO DE QUESTÕES.

LÍNGUA PORTUGUESA

Leia o texto abaixo para responder às questões de 1 a 8.

Em vez de um nude, o fetiche é receber uma foto íntima de azulejo.

De repente, meu celular vibra. Entra notificação de mensagem com foto. Retruco com emoji de coração, mas alguém espia por cima do meu ombro e se espanta. "Que é isso? Te enviaram retrato de um ... mictório?". Sim, bem imundo. Tosco. Ogríssimo. No detalhe, porém, o foco gentil em azulejos de florzinha.

Toda semana recebo registros assim, de quem conhece minha paixão pela vida íntima desses quadradinhos. Eles, que não estão expostos no MoMA, mas nos frontispícios das residências antigas. Revestindo de nobreza aqueles botecos onde cliente ainda é recebido com cerveja e ovo cor-de-rosa.

Não existe argamassa mais terna para conectar ladrilhos e pessoas. Segundo o Iphan, há 47.873 peças na fachada do Palácio Capanema, no centro do Rio. Vinicius de Moraes, inclusive, fez poema a respeito. Tem noção do que é pular Carnaval e poder se encostar num legítimo Portinari? Fosse durante o calor de um beijo ou no apoio necessário à amarração de um cadarço de tênis. Debaixo de chuva e de sol, arte literalmente ao alcance do povo. Depois, encoberta pelo imenso tapume que embarreirou por anos a nossa cultura.

Eu, que estive diante dos girassóis de Van Gogh, quantas vezes não me flagrei mais comovida num cemitério de azulejos, ao avistar os ramalhetes esmaecidos que forravam paredes da casa onde nasci.

Numa época em que tanta gente prefere ser porcelanato retificado de fábrica ao invés de azulejo exposto ao tempo, acho reconfortante que exista uma Escadaria Selarón. No coração da Lapa carioca, a escadaria é formada por 215 degraus de um mosaico caótico e exuberante.

"Se essa rua fosse minha", diz a cantiga de roda, "eu mandava ladrilhar". E mandava mesmo. No mictório, por trás do tapume, do alto de tantas insensibilidades, sempre haverá algo de "**sublime**" em meio à rudeza. Uma florzinha, um toque de humanidade, um quê de banheiro de tia-avó.

(Bia Braune. Adaptado).

1. De acordo com a leitura do texto, é correto afirmar que a autora
 - (A) é grande admiradora de Vinicius de Moraes e, por causa de seus poemas, se encantou pelos azulejos tradicionais.
 - (B) está preocupada com o fato de as pessoas estragarem grandes obras de arte durante eventos como o Carnaval.
 - (C) lamenta que peças de arte como os azulejos estejam relegados a lugares imundos e toscos como o mictório cuja foto recebera.
 - (D) estabelece uma relação afetiva com os azulejos, evidenciada quando relembra os azulejos da casa onde nasceu.

Analise o trecho abaixo para responder à questão 2.

Tem noção do que é pular Carnaval e poder se encostar "**num legítimo Portinari**"?

2. O trecho destacado utiliza-se de uma figura de linguagem, desse modo, assinale a alternativa que apresenta a correta figura e sua definição.
 - (A) Comparação, porque o objeto é assemelhado a algo que Portinari produziria.
 - (B) Metonímia, porque o objeto é substituído pelo nome de seu autor.
 - (C) Comparação, porque o objeto é substituído pelo nome de seu autor.
 - (D) Metonímia, porque o objeto é assemelhado a algo que Portinari produziria.
3. De acordo com a leitura do texto, a florzinha no azulejo representa
 - (A) um item supérfluo diante da importância do que é um mictório.
 - (B) uma contraposição entre delicadeza e dureza.
 - (C) a simplicidade em meio à arte elevada, representada por Van Gogh.
 - (D) uma arte popular, apreciada pelo povo e ao alcance dele.

Analise a frase abaixo para responder à questão 4.

"... ao avistar os ramalhetes esmaecidos que forravam "**paredes da casa onde nasci**"".

4. De acordo com a norma-padrão da Língua Portuguesa e quanto à colocação pronominal, assinale a alternativa que apresenta a correta substituição dos elementos destacados por um pronome pessoal.
 - (A) ... ao avistar os ramalhetes esmaecidos que forravam-nas.
 - (B) ... ao avistar os ramalhetes esmaecidos que forravam-as.
 - (C) ... ao avistar os ramalhetes esmaecidos que forravam-lhes.
 - (D) ... ao avistar os ramalhetes esmaecidos que as forravam.

Analisar o trecho abaixo para responder à questão 5.

Numa época em que tanta gente prefere ser porcelanato retificado de fábrica ao invés de azulejo exposto ao tempo, acho reconfortante que exista uma Escadaria Selarón. No coração da Lapa carioca, a escadaria é formada por 215 degraus de um mosaico caótico e exuberante.

5. Assinale a alternativa que apresenta uma afirmação correta a respeito do trecho.
- (A) A Escadaria Selarón e seu mosaico são símbolos de uma arte popular e caótica em comparação com obras de Portinari e Van Gogh, caracterizadas pela perfeição.
- (B) A menção a azulejos expostos ao tempo é uma crítica à manutenção malfeita do patrimônio artístico do país, que fica anos coberto por tapumes, mas mesmo assim estão em situação precária.
- (C) O porcelanato retificado é metáfora para pessoas que são mais artificiais e menos autênticas, em oposição àquelas que são como azulejos expostos ao tempo, únicas, ainda que menos perfeitas.
- (D) A Escadaria de Selarón representa uma arte muito difícil de ser atingida, ideia que é reforçada pela menção a seus 215 degraus.
6. Assinale a alternativa que apresenta um sinônimo para a palavra “**sublime**” destacada no texto.
- (A) Simpático.
- (B) Diferente.
- (C) Transcendente.
- (D) Ilusório.

Analisar a frase abaixo para responder à questão 7.

“No detalhe, ‘**porém**’, o foco gentil em azulejos de florzinha”.

7. De acordo com a norma-padrão da Língua Portuguesa e quanto às conjunções, assinale a alternativa que apresenta a classificação correta da conjunção “**porém**” destacada acima.
- (A) Conclusiva.
- (B) Explicativa.
- (C) Adversativa.
- (D) Alternativa.
8. De acordo com a norma-padrão da Língua Portuguesa e quanto às classes de palavras, assinale a alternativa em que a palavra destacada corresponde à classificação apresentada entre parênteses.
- (A) “**De repente**”, meu celular vibra. (locução adverbial).
- (B) Revestindo de nobreza aqueles botecos “**onde**” o cliente ... (conjunção).
- (C) ... “**quantas**” vezes não me flagrei mais comovida num cemitério de azulejos (adjetivo).
- (D) No mictório, por “**trás**” do tapume, sempre haverá algo de sublime (preposição).
9. A audiência de _____ foi _____ por todas as emissoras.
- De acordo com a norma-padrão da Língua Portuguesa e quanto à ortografia, assinale a alternativa que preenche corretamente as lacunas.
- (A) reconciliação / focalizada
- (B) reconsiliação / focalizada
- (C) reconsiliação / focalisada
- (D) reconciliação / focalisada

Analisar o trecho abaixo para responder à questão 10.

“A empresa, que queria a todo custo que alguém, quem quer que fosse, falasse sobre buscas com a ferramenta, tinha motivos para apressar a tecnologia e empurrá-la para um lançamento precoce imprudente”.

(folhadesaopaulo.com.br. Adaptado).

10. De acordo com a norma-padrão da Língua Portuguesa e quanto à pontuação, assinale a alternativa que apresenta uma afirmação correta sobre o trecho reproduzido acima.
- (A) O uso da vírgula após a palavra “fosse” é opcional e ela poderia ser retirada sem criar separações indevidas de termos.
- (B) as vírgulas em “quem quer que fosse” foram corretamente usadas e isolam uma oração que expande o sentido de “alguém”.
- (C) Seria necessário retirar a primeira vírgula para que não se separe o sujeito “empresa” do verbo “tinha”.
- (D) A vírgula depois da palavra “alguém” precisaria ser removida para que os termos que a explicam não sejam separados dela.

RACIOCÍNIO LÓGICO

11. A carga máxima de um elevador é de 450 kg. Para transportar 50 pessoas de 70 kg cada, o número mínimo de viagens seria
- (A) 6.
- (B) 7.
- (C) 8.
- (D) 9.
12. O calendário mostra que os meses de agosto, setembro e outubro têm, respectivamente, 31, 30 e 31 dias. Se o dia 1º de agosto de 2023 cairá numa terça-feira, então o dia 31 de outubro cairá em uma
- (A) segunda-feira.
- (B) terça-feira.
- (C) quarta-feira.
- (D) quinta-feira.
13. Em um tanque de combustível de um carro cabem 60 litros. Se o marcador estiver indicando que os seus $\frac{3}{4}$ estão cheios, pode-se concluir que no tanque há
- (A) 45 litros de gasolina.
- (B) 40 litros de gasolina.
- (C) 34 litros de gasolina.
- (D) 30 litros de gasolina.
14. Um pequeno restaurante preparou 4 kg de feijão, 8 kg de arroz e 6 kg de carne. Desse modo, é correto afirmar que este restaurante preparou no total
- (A) 18 g de alimentos.
- (B) 180 g de alimentos.
- (C) 1800 g de alimentos.
- (D) 18000 g de alimentos.
15. Em uma empresa trabalham alguns funcionários, sendo 10 solteiros e 14 casados. Se metade dos solteiros têm filhos e três casados não têm filhos, é correto afirmar que _____ dos funcionários não possuem filhos.
- Assinale a alternativa que preenche corretamente a lacuna.
- (A) metade
- (B) um terço
- (C) um quarto
- (D) dois terços

16. A soma de dois números inteiros consecutivos resulta em um número

- (A) positivo.
- (B) primo.
- (C) múltiplo de três.
- (D) ímpar.

17. Dada a sequência 2, 5, 10, 17, 26, ..., assinale a alternativa que apresenta o próximo número.

- (A) 35.
- (B) 37.
- (C) 43.
- (D) 45.

CONHECIMENTOS BÁSICOS DE LEGISLAÇÃO MUNICIPAL

18. Sobre a reversão de servidor público, prevista na Lei Complementar n.º 34/2011, é correto afirmar que

- (A) se encontrando provido o cargo, o servidor ficará em disponibilidade, com remuneração proporcional ao tempo de serviço.
- (B) é a reinvestidura do servidor no cargo, anteriormente ocupado, quando invalidada a sua demissão, por decisão administrativa ou judicial, com ressarcimento de todas as vantagens.
- (C) não poderá reverter ao cargo o aposentado que contar setenta ou mais anos de idade.
- (D) poderá acarretar diminuição ou aumento de vencimento.

19. Considerando o disposto na Lei Complementar n.º 34/2011, é correto afirmar que o(a)

- (A) investidura em cargo público ocorrerá com a nomeação.
- (B) exoneração, a demissão e a recondução são formas de vacância do cargo público.
- (C) substituto exercerá o cargo enquanto durar o impedimento do titular, sem que lhe caiba direito de ser neste cargo provido efetivamente.
- (D) substituição remunerada independe de autorização do Chefe do Poder Executivo.

20. A retribuição pecuniária fixada em lei, devida ao servidor pelo exercício do cargo, de acordo com o artigo 54 do Estatuto dos Servidores Públicos do Município de Santana de Parnaíba, é denominada

- (A) vencimento.
- (B) vantagem pecuniária.
- (C) salário.
- (D) remuneração.

21. Acerca do salário-família, previsto na Lei Complementar n.º 34/2011, assinale a alternativa correta.

- (A) Será concedido salário-família mensal ao servidor ativo cujo rendimento total não ultrapasse o limite estipulado em lei federal e que possua filho que dele dependa economicamente.
- (B) Ainda que pai e mãe sejam servidores municipais, apenas um deles receberá o salário-família.
- (C) Cessará com o falecimento do servidor.
- (D) Servirá de base a contribuições.

22. O Estatuto dos Servidores Públicos do Município de Santana de Parnaíba dispõe que são penalidades disciplinares, **EXCETO**,

- (A) multa, nos termos do Estatuto.
- (B) cassação de aposentadoria ou disponibilidade.
- (C) suspensão.
- (D) confisco de bens.

23. Ao servidor em estágio probatório somente poderá ser concedida, dentre outras licenças previstas no Estatuto dos Servidores Públicos do Município de Santana de Parnaíba, licença para tratamento de saúde pelo prazo máximo de

- (A) sessenta dias.
- (B) três meses.
- (C) seis meses.
- (D) um ano.

24. O artigo 61 do Estatuto dos Servidores Públicos do Município de Santana de Parnaíba estabelece que o servidor em débito com o erário, que for demitido, exonerado ou que tiver a sua aposentadoria ou disponibilidade extinta, terá o prazo de _____ para quitá-lo.

Assinale a alternativa que preenche corretamente a lacuna.

- (A) trinta dias
- (B) três meses
- (C) seis meses
- (D) sessenta dias

25. Interrompem a contagem da licença prêmio a

- I. demissão do servidor.
- II. exoneração do servidor, de ofício.
- III. exoneração do servidor, a pedido.

É correto o que se afirma em

- (A) I e II, apenas.
- (B) I e III, apenas.
- (C) II e III, apenas.
- (D) I, II e III.

CONHECIMENTOS ESPECÍFICOS

26. O atributo do ato administrativo que permite à Administração Pública por em execução suas decisões, usando de meios coercitivos próprios, sem que para tanto precise buscar no Poder Judiciário autorização de qualquer espécie é a

- (A) legitimidade.
- (B) autoexecutoriedade.
- (C) imperatividade.
- (D) veracidade.

27. Constituem atos de improbidade administrativa importando em enriquecimento ilícito:

- I. perceber vantagem econômica, direta ou indireta, para facilitar a alienação, permuta ou locação de bem público ou o fornecimento de serviço por ente estatal por preço inferior ao valor de mercado.
- II. aceitar emprego, comissão ou exercer atividade de consultoria ou assessoramento para pessoa física ou jurídica que tenha interesse suscetível de ser atingido ou amparado por ação ou omissão decorrente das atribuições do agente público, durante a atividade.
- III. perceber vantagem econômica para intermediar a liberação ou aplicação de verba pública de qualquer natureza.
- IV. perceber vantagem econômica de qualquer natureza, direta ou indiretamente, para omitir ato de ofício, providência ou declaração a que esteja obrigado.

É correto o que se afirma em

- (A) I e II, apenas.
- (B) II e IV, apenas.
- (C) III e IV, apenas.
- (D) I, II, III e IV.

28. Os princípios constitucionais da Administração Pública são os princípios da legalidade, impessoalidade, moralidade, publicidade e

- (A) eficiência.
- (B) caráter.
- (C) retidão.
- (D) respeito.




29. Em projetos arquitetônicos e urbanísticos, a comprovação de atendimento à metodologia de avaliação de desempenho de sustentabilidade, atestada por organismo certificador e pautada em referencial e processos técnicos acreditados denomina-se

- (A) avaliação pós-ocupação.
- (B) certificação ambiental.
- (C) cadastro como construído.
- (D) cadastro técnico multifinalitário.

30. É dispensado o “habite-se” expedido pela prefeitura municipal para a averbação de construção residencial urbana unifamiliar de um só pavimento, em área ocupada predominantemente por população de baixa renda, inclusive para o fim de registro ou averbação decorrente de financiamento à moradia, em construções finalizadas há mais de

- (A) 2 anos.
- (B) 3 anos.
- (C) 4 anos.
- (D) 5 anos.

31. Sobre a convenção da representação dos materiais mais utilizados, em documentação técnica para projetos arquitetônicos, correlacione as colunas da tabela abaixo.

	Coluna I		Coluna II
1.		()	Compensado de madeira.
2.		()	Concreto em corte.
3.		()	Isolante termoacústico.

Assinale a alternativa que apresenta a sequência correta.

- (A) 1 / 2 / 3
- (B) 3 / 1 / 2
- (C) 2 / 1 / 3
- (D) 2 / 3 / 1

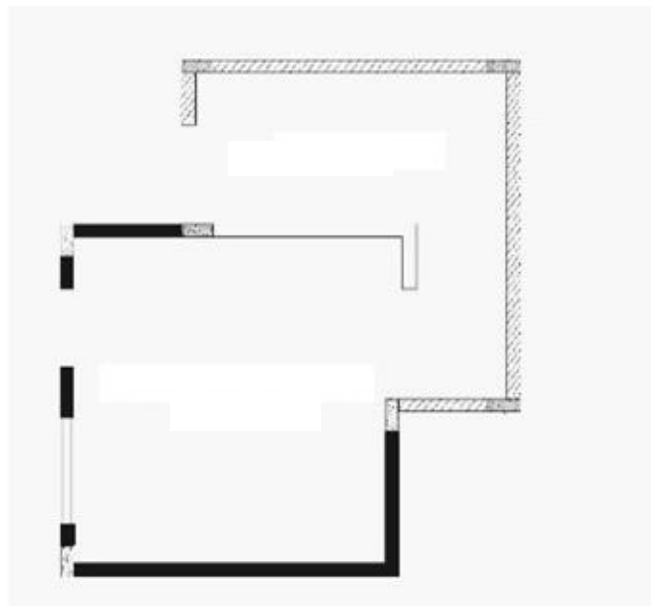
32. Sobre a execução de estruturas de concreto, analise as proposições abaixo.

- I. Todos os equipamentos utilizados no lançamento do concreto devem estar limpos e em condições de utilização e devem permitir que o concreto seja levado até o ponto mais distante a ser concretado na estrutura sem sofrer segregação.
- II. A inspeção e liberação do sistema de formas, das armaduras e de outros itens da estrutura deve ser realizada antes da concretagem.
- III. Se a concretagem for realizada durante a noite, o sistema de iluminação deve permitir condições de inspeção, acompanhamento de execução e controle dos serviços e promover segurança na área de trabalho.

É correto o que se afirma em

- (A) I, apenas.
- (B) III, apenas.
- (C) I e II, apenas.
- (D) I, II e III.

33. Sobre a reforma de um galpão da prefeitura, analise a planta abaixo.



Observação: planta sem escala.

Considerando a planta acima, analise as hachuras abaixo.



As hachuras utilizadas na planta da reforma indicam, respectivamente,

- (A) existente, a demolir e a construir.
- (B) a construir, existente e a demolir.
- (C) a demolir, a construir e existente.
- (D) a construir, a demolir e existente.

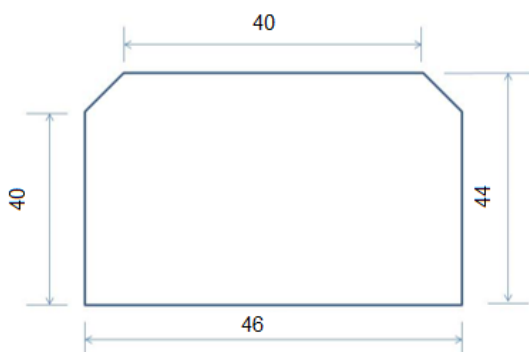
34. A fundação profunda perfurada com trado manual, preenchida com concreto, com comprimento mínimo de 3,0 m, utilizada para pequenas construções, com cargas limitadas a 100 kN denomina-se

- (A) bloco.
- (B) tubulão.
- (C) broca.
- (D) sapata.

35. Nos projetos de alvenaria estrutural, o material cimentício fluido, utilizado para preenchimento de espaços vazios da alvenaria, com a finalidade de solidarizar armaduras à alvenaria ou aumentar a sua capacidade resistente denomina-se

- (A) graute.
- (B) enrijecedor.
- (C) coxim.
- (D) contraverga.

Analise a planta de uma gleba abaixo para responder à questão 36.



Observação: planta sem escala e medidas em metros.

36. Sabendo que as dimensões indicadas em planta estão em metros, a área total da gleba é

- (A) 1950 m².
- (B) 2000 m².
- (C) 2012 m².
- (D) 2100 m².

37. Na fiscalização dos sistemas prediais de água fria e água quente, foi constatado o fenômeno da retrossifonagem que se deve

- (A) ao refluxo de água usada, proveniente de um reservatório, aparelho sanitário ou de qualquer outro recipiente, para o interior de uma tubulação, pelo fato da sua pressão ser inferior à atmosférica.
- (B) à queimadura provocada na pele pelo contato por água em temperatura excessivamente elevada no ponto de utilização.
- (C) à perda de carga localizada no sistema de água fria ou água quente.
- (D) ao excesso de água no reservatório quando é superado o nível de transbordamento.

38. Nos projetos de redes coletoras de esgoto sanitário, a câmara visitável através de abertura em sua parte superior, destinada à execução de trabalhos de manutenção, denomina-se

- (A) Caixa de Passagem (CP).
- (B) Passagem Forçada (PF).
- (C) Poço de Visita (PV).
- (D) Sifão Invertido (SI).

39. Segundo o Estatuto das Cidades, sobre o parcelamento, edificação ou utilização compulsórios, a lei municipal específica, para área incluída no plano diretor, poderá determinar o parcelamento, a edificação ou a utilização compulsório do solo urbano não edificado, subutilizado ou não utilizado, devendo fixar as condições e os prazos para implementação da referida obrigação. Considera-se subutilizado o imóvel cujo aproveitamento seja inferior

- (A) a 75% do mínimo definido no plano diretor ou em legislação dele decorrente.
- (B) ao mínimo definido no plano diretor ou em legislação dele decorrente.
- (C) a 50% do mínimo definido no plano diretor ou em legislação dele decorrente.
- (D) a 30 % do mínimo definido no plano diretor ou em legislação dele decorrente.

40. É obrigatória, na periferia da edificação, a instalação de proteção contra queda de trabalhadores e projeção de materiais a partir do início dos serviços necessários à concretagem da primeira laje. A proteção, quando constituída de anteparos rígidos com fechamento total do vão, deve ter altura mínima de

- (A) 0,50 m.
- (B) 0,80 m.
- (C) 1,0 m.
- (D) 1,2 m.