

CONCURSO PÚBLICO
CÂMARA MUNICIPAL DE
SÃO JOÃO DO MANHUAÇU/MG

Auxiliar de Serviços Gerais

- Confira devidamente o material (CARTÃO DE RESPOSTAS e CADERNO DE QUESTÕES); se houver falha, solicite a substituição ao fiscal.
- Este caderno de questões está assim constituído:

DISCIPLINAS	Nº QUESTÕES
Português	10
Matemática	08
Conhecimentos Gerais	06
Legislação	06
Conhecimentos Específicos	10

- Após conferir seus dados no cartão de respostas (NOME, Nº da INSCRIÇÃO e CARGO), assine no local indicado.
- O CARTÃO DE RESPOSTAS é o único documento de correção, devendo ser preenchido com bastante atenção, à caneta esferográfica, azul ou preta, ponta grossa, marcando uma única alternativa em cada questão. Verifique no cartão de respostas as instruções para preenchimento. Não rasure, não amasse nem dobre o CARTÃO DE RESPOSTAS; evite usar borracha. É vedada a substituição do CARTÃO DE RESPOSTAS decorrente de erro cometido por candidato.
- Se o CARTÃO DE RESPOSTAS contiver maior número de alternativas e/ou de questões, preencha apenas as correspondentes à sua prova; as demais ficam em branco.
- Durante a realização da prova, não é permitida a comunicação entre candidatos nem a utilização de máquina calculadora e/ou similares, livros, anotações, réguas de cálculo, impressos ou qualquer outro material de consulta.
- O tempo de duração da prova objetiva será de **até 3 horas**, incluído o tempo para preenchimento do Cartão de Respostas. O candidato somente poderá levar consigo seu caderno de questões **após 1 hora** contada do efetivo início das provas. Ao candidato que sair antes de uma hora contada do efetivo início das provas, será permitido copiar seu cartão de respostas, para conferência com o gabarito oficial.
- Em todas as questões de legislação desta prova (se houver), serão consideradas as emendas e/ou alterações da legislação com entrada em vigor até a publicação do edital. Na prova de Português será exigida a norma ortográfica atualmente em vigor. Para responder às questões de Informática (se houver), a menos que seja informado o contrário, considerar que os programas mencionados se encontram na versão Português-BR e em sua configuração padrão de instalação, possuem licença de uso, o mouse está configurado para destros, um clique ou duplo clique correspondem ao botão esquerdo do mouse, e teclar corresponde à operação de pressionar uma tecla e, rapidamente, liberá-la, acionando-a apenas uma vez.
- Ao final dos trabalhos, **DEVOLVA** ao Fiscal da sala o CARTÃO DE RESPOSTAS devidamente preenchido e assinado.
- Ao final da prova objetiva, os três últimos candidatos de cada sala de prova deverão permanecer no recinto, a fim de acompanhar os fiscais até a coordenação para o lacre dos envelopes, quando, então, poderão retirar-se do local, simultaneamente, após concluído.

Direitos autorais reservados à Objetiva Concursos Ltda. Proibida a reprodução, ainda que parcial, sem autorização prévia.

Boa Prova!

Seriedade e ética: nós acreditamos nesses valores.

Nome do(a) Candidato(a)

Nº de inscrição

✂

Esta parte destacável serve para copiar as suas respostas, somente poderá ser destacada no ato da entrega do material na mesa do fiscal.

01	<input type="checkbox"/>	02	<input type="checkbox"/>	03	<input type="checkbox"/>	04	<input type="checkbox"/>	05	<input type="checkbox"/>	06	<input type="checkbox"/>	07	<input type="checkbox"/>	08	<input type="checkbox"/>	09	<input type="checkbox"/>	10	<input type="checkbox"/>
11	<input type="checkbox"/>	12	<input type="checkbox"/>	13	<input type="checkbox"/>	14	<input type="checkbox"/>	15	<input type="checkbox"/>	16	<input type="checkbox"/>	17	<input type="checkbox"/>	18	<input type="checkbox"/>	19	<input type="checkbox"/>	20	<input type="checkbox"/>
21	<input type="checkbox"/>	22	<input type="checkbox"/>	23	<input type="checkbox"/>	24	<input type="checkbox"/>	25	<input type="checkbox"/>	26	<input type="checkbox"/>	27	<input type="checkbox"/>	28	<input type="checkbox"/>	29	<input type="checkbox"/>	30	<input type="checkbox"/>
31	<input type="checkbox"/>	32	<input type="checkbox"/>	33	<input type="checkbox"/>	34	<input type="checkbox"/>	35	<input type="checkbox"/>	36	<input type="checkbox"/>	37	<input type="checkbox"/>	38	<input type="checkbox"/>	39	<input type="checkbox"/>	40	<input type="checkbox"/>

Seriedade e ética: nós acreditamos nesses valores.

PORTUGUÊS

O mundo está ficando menos globalizado?

A globalização é um fenômeno complexo que envolve o fluxo internacional de produtos, serviços, dinheiro, informação, imigração e doenças, como a covid-19. As grandes navegações propiciaram o acúmulo de capital, dando início à Primeira Revolução Industrial. Outra fase se deu na Segunda Revolução Industrial, no desenvolvimento de novas tecnologias produtivas, especialmente em comunicações, transporte e fontes de energia.

Já um terceiro momento ocorreu na segunda metade do século 20, marcado pelo desenvolvimento de altas tecnologias, em campos como a informática e a robótica, o que caracterizou a Terceira Revolução Industrial e o surgimento das empresas transnacionais, com a integração das cadeias produtivas globais. Atualmente, estamos na quarta fase da globalização, identificada pela _____ do sistema capitalista de produção em quase todo o globo e pela forte integração cultural entre os países.

Algumas questões da atualidade levam a crer no recuo da globalização nos próximos anos. A primeira é decorrente de fenômenos como a eleição de Donald Trump - resposta popular às decisões políticas que levaram ao fechamento de fábricas nos EUA e à transferência de parte da cadeia produtiva para a China. A segunda é fruto da situação vivida no início da pandemia, com a falta de insumos médicos, que levou os países a repensarem suas cadeias produtivas e a questão de vulnerabilidade por terem renunciado à produção local. A terceira questão está relacionada à dependência energética da Europa com a Rússia. Políticos e cidadãos europeus estão preocupados com as consequências de suas decisões passadas.

A globalização não irá acabar. Seus fluxos financeiros, comerciais e de informação continuarão transcorrendo normalmente. Talvez, estejamos apenas vivendo um questionamento em relação às promessas fantasiosas do liberalismo e do livre comércio, como panaceias que trariam igualdade de desenvolvimento entre os países.

(Fonte: Revista CNT - adaptado.)

1) Assinalar a alternativa que preenche a lacuna do texto CORRETAMENTE:

- a) hegemonia
- b) egemonia
- c) hejemonia
- d) ejemonia

2) Conforme o texto, é CORRETO afirmar que:

- a) A globalização está em vias de extinção, uma vez que países estão valorizando mais suas cadeias produtivas.
- b) A globalização está sendo questionada, devido a diversas questões atuais, uma delas, é a dependência energética.
- c) A globalização está em sua quarta fase, a qual se caracteriza pelo surgimento de empresas transnacionais.
- d) A globalização está sendo apontada como a única responsável pela disseminação de doenças.

3) Os numerais ordinais, “primeira”, “segunda” e “terceira” sublinhados no texto referem-se a:

- a) Questões da atualidade.
- b) Recuo da globalização.
- c) Eleições de Donald Trump.
- d) Economia mundial.

4) Em relação ao termo sublinhado na frase “Tínhamos precisado de você naquele instante”, no que tange ao estudo sobre as formas nominais do verbo, assinalar a alternativa CORRETA:

- a) O verbo “precisar” está na forma de gerúndio.
- b) A terminação “ADO” dá ao verbo a forma de participípio.
- c) A forma verbal em destaque encontra-se no infinitivo.
- d) O verbo “precisar” constitui, no contexto da frase, o modo imperativo.

5) Assinalar a alternativa que preenche as lacunas abaixo CORRETAMENTE:

Ele sorriu e disse: “Eu co__prei um de__es ta__bém”.

- a) m l ss l m
- b) n l ss l n
- c) n l c l m
- d) m l sc l m

6) Assinalar a alternativa que apresenta concordância verbal com sujeito composto:

- a) A mochila e o celular foram roubados.
- b) A pergunta foi direcionada a ela.
- c) Pensam muito, mas fazem pouco.
- d) Tinha sido ele quem te julgou.

MATEMÁTICA

7) Sobre as formas plurais dos substantivos, analisar os itens abaixo:

- I. Melões.
- II. Atlas.
- III. Degrais.
- IV. Raízes.

Estão CORRETOS:

- a) Somente os itens I, II e IV.
- b) Somente os itens I e III.
- c) Somente os itens II e IV.
- d) Somente os itens I, III e IV.

8) Assinalar a alternativa em que a separação das sílabas está CORRETA:

- a) Co-rren-te.
- b) Su-cin-to.
- c) Á-gu-a.
- d) Bis-a-vô.

9) Assinalar a alternativa em que todas as palavras estão acentuadas CORRETAMENTE:

- a) Virus - Cólón.
- b) Remédio - Música.
- c) Jóia - Também.
- d) Colméia - Lampada.

10) Considerando-se a relação de sinonímia entre as palavras, numerar a 2ª coluna de acordo com a 1ª e, após, assinalar a alternativa que apresenta a sequência CORRETA:

- (1) Satisfação.
- (2) Êxito.
- (3) Autoridade.

- () Soberania.
- () Vitória.
- () Regozijo.

- a) 1 - 2 - 3.
- b) 2 - 3 - 1.
- c) 3 - 2 - 1.
- d) 2 - 1 - 3.

11) André, Bruno e Carlos são irmãos. Sabe-se que a idade de André é quatro anos, a de Bruno é seis anos e a idade de Carlos é igual ao mínimo múltiplo comum das idades de André e Bruno. Sendo assim, a idade de Carlos é igual a:

- a) 24
- b) 20
- c) 18
- d) 12

12) Ao dividir o número 51 em três partes diretamente proporcionais aos números 9, 5 e 3, a maior das partes é igual a:

- a) 30
- b) 27
- c) 24
- d) 21

13) Considerando-se a fração $204/272$, assinalar a alternativa que apresenta a sua forma simplificada e irredutível:

- a) $12/16$
- b) $1/3$
- c) $2/3$
- d) $3/4$

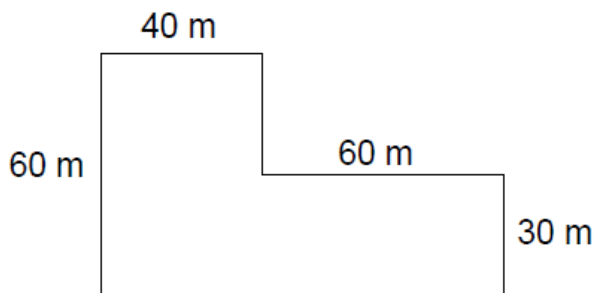
14) Camila está lendo um livro. Sabendo-se que ela lê 18 páginas por dia, qual o total de páginas que ela conseguirá ler em 6 dias?

- a) 106
- b) 108
- c) 112
- d) 114

15) O Inmetro determina medidas padronizadas em que diferentes produtos podem ser comercializados. O leite de origem animal, por exemplo, deve ser comercializado em embalagens de 1 litro, $\frac{3}{4}$ de litro, $\frac{1}{2}$ litro ou $\frac{1}{4}$ de litro. Seguindo essa determinação, para acondicionar $0,720 \text{ m}^3$ de leite são necessárias quantas embalagens de $\frac{3}{4}$ de litro?

- a) 480
- b) 720
- c) 960
- d) 1.200

16) A figura abaixo representa um terreno que deve ser asfaltado para a construção de um galpão industrial. Tendo em vista as medidas representadas pelo desenho, assinalar a alternativa que apresenta a área total que deve ser asfaltada:



- a) 1200 m^2
- b) 3000 m^2
- c) 4200 m^2
- d) 3100 m^2

17) Em relação às operações de potenciação e radiciação, assinalar a alternativa CORRETA:

- a) $2^3 = \sqrt[3]{512}$
- b) $15^2 = \sqrt{220}$
- c) $4^3 = \sqrt[3]{64}$
- d) $5^2 = \sqrt[2]{620}$

18) João é artesão e confecciona pulseiras. Para fazer 12 pulseiras, ele utiliza 3 m de fio encerado. Para a produção de 50 dessas pulseiras, a quantidade mínima necessária de fio encerado, em metros, é igual a:

- a) 10,0
- b) 12,5
- c) 15,0
- d) 17,5

CONHECIMENTOS GERAIS

19) Infelizmente, nosso planeta é afetado por vários problemas ambientais, muitos deles provocados por diversas ações humanas. Estes problemas afetam a fauna, a flora, o solo, as águas, o ar e o próprio ser humano. O homem causa um problema ambiental quando:

- a) Realiza o reflorestamento de áreas desmatadas.
- b) Contribui para a manutenção do equilíbrio do habitat de animais silvestres.
- c) Estimula a degradação e esgotamento dos solos pelo uso inadequado.
- d) Evita a exploração exagerada da biodiversidade do planeta.

20) Os garimpos ilegais acabam usando-o em excesso para viabilizar a separação do ouro dos demais sedimentos, causando a contaminação dos peixes, a morte dos rios, a remoção da cobertura vegetal e, conseqüentemente, a fuga dos animais. A contaminação é decorrente do uso de:

- a) Arsênio.
- b) Chumbo.
- c) Alumínio.
- d) Mercúrio.





21) No domingo, dia 8 de janeiro de 2023, o país presenciou a invasão às sedes dos Três Poderes do Brasil. Em qual Unidade Federativa isso ocorreu?

- a) Maranhão.
- b) Rio Grande do Sul.
- c) Distrito Federal.
- d) Rio de Janeiro.

22) Caso um usuário não queira enviar imediatamente um e-mail que está sendo preparado, é possível salvá-lo para envio posterior. Isso evita que todo o trabalho de redação do e-mail seja perdido e permite que o usuário finalize e envie a mensagem em um momento mais adequado. A funcionalidade que permite salvar um e-mail que ainda não foi enviado é conhecida como:

- a) Assunto.
- b) Favorito.
- c) Temporary Letter.
- d) Rascunho.

23) Assinalar a alternativa cuja imagem apresenta CORRETAMENTE a opção Justificar:

- a) 
- b) 
- c) 
- d) 

24) Uma senha considerada forte é uma senha que:

- a) Possui uma combinação única de letras maiúsculas, minúsculas, números e símbolos.
- b) É reaproveitada, pois utilizar a mesma senha para múltiplos sistemas a torna mais segura e fácil de memorizar.
- c) Remete a coisas cotidianas, como nomes de animais de estimação, datas de nascimento ou até mesmo um nome de um familiar próximo.
- d) É composta apenas de sequências numéricas ou repetições como “123456” ou “1111111”.

LEGISLAÇÃO

25) Em relação à ação de impugnação de mandato eleitoral, nos termos da Constituição da República Federativa do Brasil, assinalar a alternativa CORRETA:

- a) Tramitará de forma pública, sem sanções em caso de lide temerária.
- b) Tramitará de forma pública, com sanções em caso de lide temerária.
- c) Tramitará em segredo de justiça, sem sanções em caso de lide temerária.
- d) Tramitará em segredo de justiça, com sanções em caso de lide temerária.

26) De acordo com a Lei Orgânica Municipal, compete ao Município, particularmente:

- I. Elaborar o plano plurianual, as diretrizes orçamentárias e o orçamento anual, prevendo a receita e fixando a despesa, com base em planejamento adequado.
- II. Instituir regime único para os servidores da administração direta e indireta, autarquias e fundações públicas, e planos de carreiras.
- III. Elaborar o Plano Diretor.

Estão CORRETOS:

- a) Somente os itens I e II.
- b) Somente os itens I e III.
- c) Somente os itens II e III.
- d) Todos os itens.

27) De acordo com a Lei Orgânica Municipal, não perderá o mandato o Vereador:

- a) Cujo procedimento for declarado incompatível com o decoro parlamentar ou atentatório das instituições vigentes.
- b) Licenciado para desempenhar missões temporárias de caráter cultural ou de interesse geral do Município.
- c) Que perder ou tiver suspensos os direitos políticos.
- d) Que deixar de comparecer, em cada sessão legislativa, à terça parte das sessões ordinárias da Casa, salvo licença ou missão por esta autorizada.

28) Considerando-se o Estatuto dos Servidores Públicos Municipais, sobre a nomeação, analisar a sentença abaixo:

A nomeação far-se-á, em caráter efetivo, quando se tratar de cargo isolado da carreira (1ª parte). A nomeação para cargos isolados ou de carreira depende de previa habilitação em concurso público de provas e títulos, obedecidos à ordem de classificação e o prazo de sua validade (2ª parte).

A sentença está:

- a) Totalmente correta.
- b) Correta somente em sua 1ª parte.
- c) Correta somente em sua 2ª parte.
- d) Totalmente incorreta.

29) Em conformidade com o Regimento Interno da Câmara Municipal, analisar os itens abaixo:

I. São nulas as reuniões da Câmara realizadas fora da sua sede, salvo nos casos especiais, previstos neste Regimento.

II. Os vereadores proferirão juramento prometendo cumprir com dignidade o mandato, guardar a Constituição e as leis e trabalhar pelo engrandecimento do Município.

- a) Os itens I e II estão corretos.
- b) Somente o item I está correto.
- c) Somente o item II está correto.
- d) Os itens I e II estão incorretos.

30) De acordo com o Regimento Interno da Câmara Municipal, marcar C para as afirmativas Certas, E para as Erradas e, após, assinalar a alternativa que apresenta a sequência CORRETA:

() O vereador que não tomar posse na reunião preparatória, deverá fazê-lo no prazo de 30 dias, sob pena de perda automática do mandato, salvo por motivo justificado e reconhecido pela Câmara.

() A Mesa da Câmara é composta dos seguintes cargos: Presidente, Vice-presidente, Secretário e Tesoureiro.

- a) C - C.
- b) C - E.
- c) E - C.
- d) E - E.

CONHECIMENTOS ESPECÍFICOS

31) O Ciclo de Sinner é uma teoria que demonstra quais são os principais agentes da limpeza, atribuindo percentuais de atuação e equilíbrio entre os agentes. Esse ciclo é composto por quatro agentes, que são:

- a) Ação química, tempo de ação, temperatura e ação mecânica.
- b) Ação biológica, tempo de limpeza, temperatura e ação manual.
- c) Ação física, tempo de limpeza, esfriamento e ação manual.
- d) Ação biológica, tempo de ação, temperatura e ação mecânica.

32) Quanto à limpeza em banheiros, marcar C para as afirmativas Certas, E para as Erradas e, após, assinalar a alternativa que apresenta a sequência CORRETA:

- () O uso luvas é imprescindível, especialmente durante a limpeza dos vasos sanitários e a coleta de lixo e detritos.
- () O papel higiênico deve ser descartado no vaso sanitário.
- () Para uma limpeza de qualidade, deve-se higienizar primeiro o piso, depois o vaso sanitário e, por último, a pia.

- a) C - C - E.
- b) C - E - E.
- c) E - E - C.
- d) E - C - C.

33) Considerando-se os princípios básicos do processo de limpeza, numerar a 2ª coluna de acordo com a 1ª e, após, assinalar a alternativa que apresenta a sequência CORRETA:

- (1) É certo.
- (2) É errado.

() Guardar o material usado na limpeza (baldes, panos, vassouras etc) limpo e em local apropriado.

() Limpar em movimentos circulares, de baixo para cima.

() Iniciar a limpeza pelo teto ou áreas mais altas.

- a) 1 - 1 - 2.
- b) 2 - 1 - 2.
- c) 2 - 2 - 1.
- d) 1 - 2 - 1.

34) Existem três tipos de detergentes para limpeza em geral: os detergentes ácidos, os neutros e os alcalinos. Sobre esse assunto, assinalar a alternativa INCORRETA:

- a) O detergente alcalino atua quebrando as moléculas de gordura. Assim, o produto consegue transformar a substância que está no estado sólido para o estado líquido.
- b) A grande vantagem do detergente neutro é o fato de que ele age diretamente na sujeira, não agredindo ou danificando a superfície a ser limpa.
- c) O detergente ácido possui uma grande versatilidade, sendo indicado para higienização de mármore, cerâmicas, laminados, pisos de madeira etc.
- d) Os detergentes ácidos removem com eficiência sujeiras inorgânicas, de origem mineral, como a ferrugem e o cimento.

35) Sobre a água sanitária, analisar os itens abaixo:

- I. É uma solução formada por hipoclorito de sódio, um derivado do cloro, e água.
- II. Para seu uso, é indicado diluir em água conforme as orientações do fabricante.
- III. Pode ser usada para a limpeza de alimentos.

Está(ão) CORRETO(S):

- a) Somente o item I.
- b) Somente o item III.
- c) Somente os itens I e II.
- d) Todos os itens.

36) A industrialização dos alimentos veio como alternativa para conservar alimentos altamente perecíveis e fornecer melhor aproveitamento da safra. São exemplos de técnicas de industrialização dos alimentos:

- I. Resfriamento usando atmosfera controlada.
- II. Cocção dos alimentos.
- III. Branqueamento de vegetais.
- IV. Produção de conservas.

Está(ão) CORRETO(S):

- a) Somente o item I.
- b) Somente os itens II e III.
- c) Somente os itens I, II e III.
- d) Todos os itens.

37) A pandemia de Covid-19 fez com que o consumo de plástico aumentasse, tanto pela facilidade do *delivery* quanto pela necessidade do uso de materiais hospitalares, como máscaras e luvas.

(Fonte: GreenMe - adaptado.)

Sobre os principais usos das resinas plásticas, a utilizada na confecção de engradados para bebidas, baldes, produtos químicos, bombonas, tubos para líquidos e gás, tanques de combustível, autopeças etc, é a de material:

- a) PET (Tereftalato de Polietileno).
- b) PEAD (Polietileno de alta densidade).
- c) PVC (Cloreto de Polivinila).
- d) PEBD (Polietileno de baixa densidade).

38) Sobre a localização e a acessibilidade de extintores de incêndio em locais de trabalho, marcar C para as afirmativas Certas, E para as Erradas e, após, assinalar a alternativa que apresenta sequência CORRETA:

- () Devem ser colocados em locais de fácil visualização e acesso.
- () Devem ser assinalados por um círculo vermelho ou por uma seta larga vermelha com bordas amarelas.
- () O local no piso onde está localizado o extintor não pode ser obstruído.

- a) C - C - E.
- b) E - C - C.
- c) C - C - C.
- d) C - E - E.

39) Ao escolher alimentos para preparar, deve-se observar alguns aspectos como:

- I. Se o alimento for enlatado, a embalagem pode estar amassada, mas não pode estar estufada ou enferrujada.
- II. Ao escolher uma carne para preparar, ela não pode apresentar cor, cheiro ou consistência alterados.
- III. O alimento embalado deve ser consumido se a validade estiver vencida em até 15 dias.

Está(ão) CORRETO(S):

- a) Todos os itens.
- b) Somente o item I.
- c) Somente o item II.
- d) Somente os itens I e III.

40) Doenças de Transmissão Hídrica são aquelas causadas pela ingestão de água ou alimentos contaminados. Sobre isso, numerar a 2ª coluna de acordo com a primeira e, após, assinalar a alternativa que apresenta a sequência CORRETA:

- (1) Água.
- (2) Alimentos.

- () Giardíase.
- () Salmonella.
- () Amebíase.
- () Escherichia coli (E. coli).

- a) 1 - 2 - 2 - 1.
- b) 2 - 1 - 2 - 1.
- c) 2 - 1 - 2 - 2.
- d) 1 - 2 - 1 - 2.