

Agente Comunitário de Saúde - Área Rural

- Confira devidamente o material (CARTÃO DE RESPOSTAS e CADERNO DE QUESTÕES); se houver falha, solicite a substituição ao fiscal.
- Este caderno de questões está assim constituído:

DISCIPLINAS	Nº QUESTÕES
Língua Portuguesa	10
Matemática	10
Conhecimentos Gerais	10
Conhecimentos Específicos	10

- Após conferir seus dados no cartão de respostas (NOME, Nº da INSCRIÇÃO e CARGO), assine no local indicado.
- O CARTÃO DE RESPOSTAS é o único documento de correção, devendo ser preenchido com bastante atenção, à caneta esferográfica, azul ou preta, ponta grossa, marcando uma única alternativa em cada questão. Verifique no cartão de respostas as instruções para preenchimento. Não rasure, não amasse nem dobre o CARTÃO DE RESPOSTAS; evite usar borracha. É vedada a substituição do CARTÃO DE RESPOSTAS decorrente de erro cometido por candidato.
- Se o CARTÃO DE RESPOSTAS contiver maior número de alternativas e/ou de questões, preencha apenas as correspondentes à sua prova; as demais ficam em branco.
- Durante a realização da prova, não é permitida a comunicação entre candidatos nem a utilização de máquina calculadora e/ou similares, livros, anotações, réguas de cálculo, impressos ou qualquer outro material de consulta.
- O tempo de duração da prova objetiva será de **até 3 horas**, incluído o tempo para preenchimento do Cartão de Respostas. O candidato somente poderá levar consigo seu caderno de questões **após 1 hora** contada do efetivo início das provas. Ao candidato que sair antes de uma hora contada do efetivo início das provas, será permitido copiar seu cartão de respostas, para conferência com o gabarito oficial.
- Em todas as questões de legislação desta prova (se houver), serão consideradas as emendas e/ou alterações da legislação com entrada em vigor até a publicação do edital. Na prova de Português será exigida a norma ortográfica atualmente em vigor. Para responder às questões de Informática (se houver), a menos que seja informado o contrário, considerar que os programas mencionados se encontram na versão Português-BR e em sua configuração padrão de instalação, possuem licença de uso, o mouse está configurado para destros, um clique ou duplo clique correspondem ao botão esquerdo do mouse, e teclar corresponde à operação de pressionar uma tecla e, rapidamente, liberá-la, acionando-a apenas uma vez.
- Ao final dos trabalhos, **DEVOLVA** ao Fiscal da sala o CARTÃO DE RESPOSTAS devidamente preenchido e assinado.
- Ao final da prova objetiva, os três últimos candidatos de cada sala de prova deverão permanecer no recinto, a fim de acompanhar os fiscais até a coordenação para o lacre dos envelopes, quando, então, poderão retirar-se do local, simultaneamente, após concluído.

Direitos autorais reservados à Objetiva Concursos Ltda. Proibida a reprodução, ainda que parcial, sem autorização prévia.

Boa Prova!

Seriedade e ética: nós acreditamos nesses valores.

Nome do(a) Candidato(a)

Nº de inscrição

✂

Esta parte destacável serve para copiar as suas respostas, somente poderá ser destacada no ato da entrega do material na mesa do fiscal.

01	<input type="checkbox"/>	02	<input type="checkbox"/>	03	<input type="checkbox"/>	04	<input type="checkbox"/>	05	<input type="checkbox"/>	06	<input type="checkbox"/>	07	<input type="checkbox"/>	08	<input type="checkbox"/>	09	<input type="checkbox"/>	10	<input type="checkbox"/>
11	<input type="checkbox"/>	12	<input type="checkbox"/>	13	<input type="checkbox"/>	14	<input type="checkbox"/>	15	<input type="checkbox"/>	16	<input type="checkbox"/>	17	<input type="checkbox"/>	18	<input type="checkbox"/>	19	<input type="checkbox"/>	20	<input type="checkbox"/>
21	<input type="checkbox"/>	22	<input type="checkbox"/>	23	<input type="checkbox"/>	24	<input type="checkbox"/>	25	<input type="checkbox"/>	26	<input type="checkbox"/>	27	<input type="checkbox"/>	28	<input type="checkbox"/>	29	<input type="checkbox"/>	30	<input type="checkbox"/>
31	<input type="checkbox"/>	32	<input type="checkbox"/>	33	<input type="checkbox"/>	34	<input type="checkbox"/>	35	<input type="checkbox"/>	36	<input type="checkbox"/>	37	<input type="checkbox"/>	38	<input type="checkbox"/>	39	<input type="checkbox"/>	40	<input type="checkbox"/>

LÍNGUA PORTUGUESA

O soluço é o resultado de uma súbita e involuntária contração do músculo diafragma, que fica localizado entre o tórax e o abdômen.

Na imensa maioria dos casos, ele é um problema _____, de curta duração e sem nenhuma _____ clínica. Em algumas pessoas, porém, o soluço pode ser persistente, tornando-se um problema crônico e de difícil controle.

O diafragma é um músculo que fica localizado entre o tórax e o abdômen, sendo o principal músculo da respiração. Graças à movimentação do diafragma, conseguimos encher e esvaziar nossos pulmões com ar.

O soluço surge quando o nosso diafragma sofre uma rápida e involuntária contração, fazendo-nos inspirar ar. Como esse movimento respiratório é indesejado, também involuntariamente, as nossas cordas vocais _____ fecham-se, impedindo a entrada do ar, causando o conhecido som do soluço, parecido com um estalo.

O fechamento das cordas vocais impede o ar de chegar aos pulmões, fazendo-o, por vezes, ir para o estômago. Por isso algumas pessoas engolem ar durante o soluço.

A maioria dos quadros de soluço dura poucos minutos, desaparecendo espontaneamente ou após algumas manobras, como beber água gelada ou prender a respiração. Em algumas pessoas, os soluços podem demorar vários minutos para desaparecer.

Os soluços comuns raramente têm algum significado clínico, não sendo necessária a avaliação médica.

Mais raramente, um episódio de soluço pode durar várias horas. Quando o soluço demora mais de 48 horas ele é chamado de soluço persistente. Quando dura mais de um mês, é denominado soluço intratável. Tanto o soluço persistente quanto o intratável são habitualmente causados por alguma doença e devem ser sempre avaliados por um médico.

(Fonte: MD Saúde - adaptado.)

1) Assinalar a alternativa que preenche as lacunas do texto CORRETAMENTE:

- a) auto-limitado | relevancia | subitamente
- b) autolimitado | relevancia | subtamente
- c) auto-limitado | relevância | subtamente
- d) autolimitado | relevancia | subitamente
- e) autolimitado | relevância | subitamente

2) De acordo com o texto, o soluço é um fenômeno ligado ao músculo diafragma. Nesse sentido, é CORRETO afirmar sobre a função do diafragma que:

- a) É um músculo de movimento súbito e involuntário.
- b) É o principal músculo da respiração.
- c) É um músculo de rápida e involuntária contração.
- d) É um músculo que expelle o ar do estômago para os pulmões.
- e) É um músculo que impede o ar de chegar aos pulmões.

3) Em “A maioria dos quadros de soluço dura poucos minutos, desaparecendo espontaneamente ou após algumas manobras, como beber água gelada ou prender a respiração”, a palavra sublinhada pode ser substituída, sem prejuízo de sentido, por:

- a) Ilusões.
- b) Engodos.
- c) Estratégias.
- d) Ardis.
- e) Trapaças.

4) Considerando a ortografia das palavras femininas sublinhadas, no contexto da frase, marcar C para as afirmativas Certas, E para as Erradas e, após, assinalar a alternativa que apresenta a sequência CORRETA:

- () Ela era ré no processo.
- () A camponeza trabalhava arduamente.
- () Os barões e as baroas faziam parte da baixa nobreza do Brasil Imperial.

- a) C - C - E.
- b) E - C - C.
- c) C - C - C.
- d) E - C - E.
- e) C - E - E.

5) Considerando-se o grau aumentativo das palavras abaixo, numerar a 2ª coluna de acordo com a 1ª e, após, assinalar a alternativa que apresenta a sequência CORRETA:

- (1) Cão (animal).
(2) Cara (face).

() Canzarrão.
() Carão.
() Canaz.

- a) 1 - 2 - 1.
b) 1 - 2 - 2.
c) 2 - 1 - 1.
d) 2 - 2 - 1.
e) 1 - 1 - 2.

6) Quanto à divisão silábica, assinalar a alternativa em que a separação está feita de forma CORRETA:

- a) Pro-sse-guir.
b) E-cli-pse.
c) De-ma-is.
d) Mul-her.
e) A-do-les-cen-te.

7) Considerando-se a acentuação das palavras, numerar a 2ª coluna de acordo com a 1ª e, após, assinalar a alternativa que apresenta a sequência CORRETA:

- (1) Proparoxítona.
(2) Paroxítona.
(3) Oxítona.

() Abóbora.
() Estéril.
() Ladrão.

- a) 1 - 2 - 3.
b) 3 - 2 - 1.
c) 2 - 3 - 1.
d) 2 - 1 - 3.
e) 1 - 3 - 2.

8) Quantas crases devem ser usadas na frase: “A noite, fez tudo as pressas para logo ir a praça.”?

- a) Uma.
b) Duas.
c) Três.
d) Quatro.
e) Nenhuma.

9) Assinalar a alternativa em que todos os verbos são regulares:

- a) Aderir | cantar | compor.
b) Dormir | deter | contrair.
c) Dizer | medir | prevenir.
d) Acordar | nadar | procurar.
e) Morar | trazer | casar.

10) Sobre as formas plurais dos substantivos, analisar os itens abaixo:

- I. Anães.
II. Alemãos.
III. Açúcares.
IV. Corações.

Estão CORRETOS:

- a) Somente os itens I e II.
b) Somente os itens III e IV.
c) Somente os itens I, III e IV.
d) Somente os itens II, III e IV.
e) Todos os itens.

MATEMÁTICA

11) Entre os meses janeiro e junho de 2022, o Brasil registrou 135 mortes em determinado Estado, segundo pesquisa realizada. Em 2021, no mesmo período, foram registradas 168 mortes. (Fonte: CNN Brasil - adaptado.)

Com base nessas informações, comparando os períodos de 2021 e 2022, o percentual de redução no número de mortes foi, aproximadamente, de:

- a) 50%
b) 24,6%
c) 19,6%
d) 16,2%
e) 14,4%

12) Um triângulo qualquer tem ângulos internos medindo: $(x + 15)^\circ$; x° ; $(x - 15)^\circ$. Os valores desses três ângulos do triângulo são, respectivamente:

- a) 60° ; 60° ; 60°
b) 75° ; 60° ; 45°
c) 80° ; 20° ; 100°
d) 70° ; 60° ; 50°
e) 80° ; 50° ; 35°

13) A indústria americana de etanol exportou, em 2021, o equivalente a 4,709 bilhões de litros do combustível, retrocedendo aos níveis de 2016, de acordo com dados do Departamento do Comércio. De acordo com essas informações, o volume de etanol exportado pela indústria americana, em 2021, expresso em m^3 , é igual a:

- a) 4.709.000
- b) 4.709.000.000
- c) 4.709
- d) 4.709.000.000.000
- e) 470.900

14) Um terreno retangular foi posto à venda e algumas informações são apresentadas na figura a seguir:



Considerando-se a medida da largura dada, com base nessas informações, a medida do comprimento desse terreno, em metros, é igual a:

- a) 15
- b) 25
- c) 30
- d) 35
- e) 40

15) O campo de futebol da cidade de Botucatu tem o círculo central com raio de 5 metros. Desta forma, é CORRETO afirmar que o perímetro do círculo central do campo é de: (considerar $\pi=3,14$).

- a) 78,5 metros.
- b) 80,5 metros.
- c) 31,4 metros.
- d) 10 metros.
- e) 22,3 metros.

16) Considerando-se os conjuntos numéricos $A = \{0, 1, 3, 5, 7, 9\}$, $B = \{0, 1, 2, 4, 6, 8\}$ e $C = \{0, -1, -2, -3, -4\}$, analisar os itens abaixo:

- I. O conjunto numérico A está contido no conjunto dos números Naturais.
- II. O conjunto numérico B não está contido no conjunto dos números Inteiros.
- III. O Conjunto numérico C está contido no conjunto dos números Inteiros.

Está(ão) CORRETO(S):

- a) Somente o item I.
- b) Somente o item II.
- c) Somente os itens I e III.
- d) Nenhum dos itens.
- e) Todos os itens.

17) Considere um dado não viciado cujas faces são numeradas de 1 a 6. Lançando esse dado e considerando-se o resultado da face superior, qual a probabilidade de obtenção de um número menor que 5?

- a) $2/3$
- b) $5/6$
- c) $4/5$
- d) $1/2$
- e) $3/5$

18) João foi à livraria e comprou quatro cadernos, duas canetas e gastou R\$ 118,00. Carlos foi à mesma livraria, comprou três cadernos e uma caneta, ambos idênticos aos de João, e gastou R\$ 80,00. Nessas condições, o preço de uma caneta e um caderno é igual a:






- a) R\$ 42,00
- b) R\$ 40,00
- c) R\$ 38,00
- d) R\$ 36,00
- e) R\$ 31,50

19) Ao parar em um posto de combustível, Pedro completou o tanque do seu automóvel com gasolina, resultando no valor total a pagar de R\$ 166,50. Pedro pagou o abastecimento com uma nota de R\$ 200,00. Qual foi o valor do troco que o caixa retornou ao Pedro?

- a) R\$ 32,50
- b) R\$ 33,50
- c) R\$ 35,50
- d) R\$ 36,50
- e) R\$ 31,50

20) Analisando-se a sequência de figuras abaixo, assinalar a alternativa que apresenta qual deve ser a próxima figura da sequência:



- a) 
- b) 
- c) 
- d) 
- e) 

CONHECIMENTOS GERAIS

21) Em relação às competências comuns da União, dos Estados, do Distrito Federal e dos Municípios, marcar C para as afirmativas Certas, E para as Erradas e, após, assinalar a alternativa que apresenta a sequência CORRETA:

- () Impedir a evasão, a destruição e a descaracterização de obras de arte e de outros bens de valor histórico, artístico ou cultural.
- () Proteger os documentos, as obras e outros bens de valor histórico, artístico e cultural, os monumentos, as paisagens naturais notáveis e os sítios arqueológicos.
- () Proporcionar os meios de acesso à cultura, à educação, à ciência, à tecnologia, à pesquisa e à inovação.

- a) C - C - C.
- b) E - E - E.
- c) E - C - E.
- d) C - E - C.
- e) C - E - E.

22) Em conformidade com a Lei Orgânica do Município, a iniciativa dos projetos de Leis Complementares e Ordinárias cabe:

- I. Ao Prefeito Municipal.
- II. Ao Vereador.
- III. À Mesa Executiva da Câmara.
- IV. Aos cidadãos.
- V. Às Comissões da Câmara.

Está(ão) CORRETO(S):

- a) Somente os itens I, II, III e IV.
- b) Somente o item I.
- c) Somente os itens II, III e V.
- d) Somente os itens III, IV e V.
- e) Todos os itens.

23) Em conformidade com o Regime Jurídico dos Servidores Públicos do Município, são deveres do servidor:

- I. Observar as normas legais e regulamentares.
- II. Manter conduta compatível com a moralidade administrativa.
- III. Receber propina, comissão, presente ou vantagem de qualquer espécie, em razão de suas atribuições.

Está(ão) CORRETO(S):

- a) Somente o item I.
- b) Somente o item II.
- c) Somente os itens I e II.
- d) Somente os itens II e III.
- e) Todos os itens.

24) Considerando-se o Regime Jurídico dos Servidores Públicos do Município, sobre as responsabilidades do servidor, numerar a 2ª coluna de acordo com a 1ª e, após, assinalar a alternativa que apresenta a sequência CORRETA:

- (1) Responsabilidade civil.
- (2) Responsabilidade penal.
- (3) Responsabilidade administrativa.

- () Abrange os crimes e contravenções imputadas ao servidor, nesta qualidade.
- () Resulta de ato omissivo ou comissivo praticado no desempenho do cargo ou função.
- () Decorre de ato omissivo ou comissivo, doloso ou culposo, que resulte em prejuízo ao Erário ou a terceiros.

- a) 2 - 3 - 1.
- b) 2 - 1 - 3.
- c) 3 - 1 - 2.
- d) 1 - 3 - 2.
- e) 3 - 2 - 1.

25) Foi um tipo de medicina com conhecimentos populares adquiridos por meio do empirismo, largamente utilizado no Brasil Colônia. O trecho refere-se ao(à):

- a) Medicina preventiva.
- b) Processo saúde-doença.
- c) Biomedicina.
- d) Curandeirismo.
- e) Acupuntura.

26) A comunicação no ambiente de trabalho é toda a troca de informações que ocorre dentro de um departamento ou empresa. A respeito das práticas adequadas para uma comunicação eficaz, marcar C para as afirmativas Certas, E para as Erradas e, após, assinalar a alternativa que apresenta a sequência CORRETA:

- () Saber ouvir e não só falar é importante para uma comunicação mais clara.
- () Ao se comunicar, é importante transmitir a informação de forma segura, clara e objetiva.
- () Levar em consideração o perfil do interlocutor é irrelevante ao definir a melhor forma de transmitir a informação.

- a) C - C - E.
- b) E - E - C.
- c) C - E - E.
- d) E - C - C.
- e) C - E - C.

27) Uma modalidade esportiva e cultural, que se proliferou pelo Brasil, foi oficializada pelo Comitê Olímpico Internacional (COI) como modalidade olímpica e estará presente nas Olimpíadas de Paris 2024. Qual é essa modalidade?

- a) Patinação.
- b) Esqui alpino.
- c) Parkour.
- d) Breaking.
- e) Curling.

28) Ao longo dos anos, inúmeras cidades brasileiras cresceram rapidamente e sem planejamento adequado, o que levou ao mau uso, à degradação e à redução das áreas verdes. Essa situação contribui diretamente para acentuar os seguintes problemas urbanos:

- I. Alagamentos e enchentes.
- II. Deslizamentos de terra.
- III. Proliferação de pragas, como roedores e insetos.

Está(ão) CORRETO(S):

- a) Somente os itens I e II.
- b) Somente os itens I e III.
- c) Somente os itens II e III.
- d) Nenhum dos itens.
- e) Todos os itens.

29) Um usuário selecionou um trecho de um texto no Microsoft Word 2016 e gostaria de deixar esse trecho centralizado horizontalmente. O atalho no teclado que centraliza horizontalmente o texto selecionado é:

- a) CTRL+R
- b) CTRL+T
- c) CTRL+E
- d) CTRL+J
- e) CTRL+Q

30) João está em uma reunião com um fornecedor e solicita o endereço de e-mail dele para contato. O fornecedor lhe passa o seguinte endereço: jose#silva@fabrica/RS.com.br. Imediatamente, João percebe que esse endereço é inválido. Assinalar a alternativa que explica CORRETAMENTE o(s) problema(s) com esse endereço de e-mail:

- a) Não é permitido colocar o caractere # no nome do usuário.
- b) Não é permitido colocar o caractere # no nome do usuário nem uma / no domínio.
- c) Não é permitido colocar o caractere # no nome do usuário nem uma / no domínio nem usar letras maiúsculas.
- d) Não é permitido usar uma / no domínio.
- e) Não é permitido usar uma / no domínio nem usar letras maiúsculas.

CONHECIMENTOS ESPECÍFICOS

31) De acordo com o direito à liberdade da criança e do adolescente, proposto na Lei nº 8.069/1990 - ECA, analisar os itens abaixo:

- I. Direito à opinião e expressão.
- II. Direito de brincar, praticar esportes e ter lazer.
- III. Obrigatoriedade de não participar ou se envolver em assuntos que envolvem a natureza política e social, dada a incapacidade de opinar sobre tais assuntos.
- IV. Direito do infante em ser penalizado ou advertido sempre que descumprir a regras advindas de superiores (pais, professores ou diretores escolares).

Estão CORRETOS:

- a) Todos os itens.
- b) Somente os itens I e II.
- c) Somente os itens III e IV.
- d) Somente os itens I, III e IV.
- e) Somente os itens II e III.

32) Calçadas sem rebaixamentos, desniveladas e com degraus. Esse tipo de barreira impede que as pessoas com deficiência usufruam do direito de se locomover livremente, com autonomia e segurança, obstaculizando, por vezes, o exercício de outros direitos, além de privá-las das relações vivenciadas nesses lugares. Segundo a Lei nº 13.146/2015 - Estatuto da Pessoa com Deficiência, esse tipo de barreira é classificado como:

- a) Barreira atitudinal.
- b) Barreira assistiva.
- c) Barreira urbanística.
- d) Barreira universal.
- e) Barreira social.

33) Considerando-se o sistema de saúde brasileiro, são atributos da atenção primária à saúde:

- I. Primeiro contato.
- II. Serviços de alta complexidade.
- III. Rede fragmentada e autônoma.
- IV. Competência cultural.

Está(ão) CORRETO(S):

- a) Somente um item.
- b) Somente dois itens.
- c) Somente três itens.
- d) Nenhum dos itens.
- e) Todos os itens.

34) Uma dona de casa sofreu violência doméstica em sua residência no dia 6 de dezembro de 2021. O marido da vítima, por diversas vezes, cometeu violência moral e física contra ela e, naquela oportunidade, a agrediu com uma barra de ferro. Após pedido de socorro, realizado pelos vizinhos, a vítima foi socorrida e levada para o hospital às pressas, com inúmeras lesões na face e na região do abdômen. Diante da situação apresentada, em conformidade com a Lei nº 11.340/2006 - Lei Maria da Penha, entre outras providências, a autoridade policial deverá:

- I. Obrigatoriamente, acompanhar a ofendida para assegurar a retirada de seus pertences do local da ocorrência ou do domicílio familiar.
- II. Garantir proteção policial, quando necessário, comunicando de imediato ao Ministério Público e ao Poder Judiciário.
- III. Fornecer transporte para a ofendida e seus dependentes para abrigo ou local seguro, quando houver risco de vida.
- IV. Encaminhar a ofendida ao hospital ou posto de saúde e ao Instituto Médico Legal.

Estão CORRETOS:

- a) Somente os itens I e II.
- b) Somente os itens I e III.
- c) Somente os itens I, III e IV.
- d) Somente os itens II, III e IV.
- e) Todos os itens.

35) Um Agente Comunitário da Saúde (ACS) faz uma visita domiciliar a uma família que tem uma pessoa idosa com saúde debilitada e que precisa tomar diversos medicamentos. Considerando-se as orientações que o ACS pode dar quanto ao uso e ao armazenamento de medicamentos, marcar C para as afirmativas Certas, E para as Erradas e, após, assinalar a alternativa que apresenta a sequência CORRETA:

- () Todos os medicamentos, líquidos ou cápsulas, devem ser guardados dentro da geladeira, próximos ao congelador.
- () Antes de manusear qualquer medicamento, deve-se lavar as mãos.
- () O bico do tubo das pomadas foi feito para passar o produto diretamente no local. Não tem problema encostá-lo nas feridas ou na pele.

- a) C - C - E.
- b) E - C - E.
- c) C - E - C.
- d) E - E - C.
- e) C - E - E.

36) São ações que favorecem a proliferação do mosquito da dengue:

- I. Tampar as garrafas antes de colocá-las no lixo.
- II. Deixar água acumulada nos pratos dos vasos de flores.
- III. Jogar lixo em terrenos baldios.

Está(ão) CORRETO(S):

- a) Somente o item I.
- b) Somente os itens I e II.
- c) Somente os itens I e III.
- d) Somente os itens II e III.
- e) Todos os itens.

37) São consideradas doenças virais transmissíveis e de interesse para o Sistema Único de Saúde (SUS) e para a Vigilância Sanitária:

- a) Diabetes, coqueluche e dengue.
- b) Influenza, sarampo e rubéola.
- c) Obesidade, dengue e varicela.
- d) Vitiligo, reumatismo e sarampo.
- e) Escorbuto, herpes zoster e vitiligo.

38) Além da fortificação das farinhas de trigo e de milho e das ações educativas, o Ministério da Saúde desenvolve o Programa Nacional de Suplementação de Ferro. Esse Programa destina-se à suplementação preventiva de absorção do ferro na alimentação. Sobre o assunto, assinalar a alternativa INCORRETA:

- a) Parasitoses: as parasitoses intestinais não são causas diretas da anemia, mas podem piorar as condições de saúde das crianças anêmicas.
- b) Período de suplementação para as crianças: como regra, as crianças devem ser suplementadas ininterruptamente dos 6 aos 18 meses de idade.
- c) Casos de anemia diagnosticada: para os casos de anemia com sintomas clínicos clássicos ou casos já diagnosticados, o tratamento deve ser prescrito de acordo com a conduta clínica para anemia, definida pelo profissional de saúde responsável.
- d) Gestantes e mulheres no pós-parto: devem apenas serem suplementadas com ferro.
- e) Baixo peso ao nascer e prematuridade: para crianças pré-termo (< 37 semanas) ou nascidas de baixo peso (< 2.500 gramas), a conduta de suplementação segue as recomendações da Sociedade Brasileira de Pediatria.

39) Sobre a investigação epidemiológica de casos, surtos e epidemias, analisar os itens abaixo:

- I. No contexto da investigação de uma epidemia, as hipóteses são formuladas com vistas a determinar a fonte de infecção, o período de exposição dos casos à fonte de infecção, o modo de transmissão, a população exposta a um maior risco e o agente etiológico.
- II. Quando as evidências epidemiológicas, clínicas, laboratoriais e ambientais são suficientes para apoiar as hipóteses, torna-se desnecessário o seu teste formal, pois os fatos estabelecidos são suficientes.
- III. Embora, na realidade, o desenvolvimento de conjecturas se dê desde o momento em que se tem conhecimento da epidemia, ao se dispor das informações relativas à pessoa, tempo e lugar, torna-se impossível a formulação de hipóteses consistentes e precisas.

Está(ão) CORRETO(S):

- a) Somente o item I.
- b) Somente o item II.
- c) Somente os itens I e II.
- d) Nenhum dos itens.
- e) Todos os itens.

40) Para interromper a cadeia de transmissão da doença é fundamental a descoberta oportuna dos casos de tuberculose ativa. A tuberculose deve ser investigada na presença de tosse, independentemente do tempo, em:

- I. Pessoas que vivem em situação de rua.
- II. Pessoas que vivem com HIV/AIDS.
- III. Indígenas.

Está(ão) CORRETO(S):

- a) Somente os itens I e II.
- b) Somente os itens I e III.
- c) Somente os itens II e III.
- d) Nenhum dos itens.
- e) Todos os itens.