

Motorista

- Confira devidamente o material (CARTÃO DE RESPOSTAS e CADERNO DE QUESTÕES); se houver falha, solicite a substituição ao fiscal. Este caderno de questões está assim constituído:

• DISCIPLINAS	Nº QUESTÕES
Língua portuguesa e redação oficial	10
Matemática/raciocínio lógico	05
Informática	05
Legislação de trânsito	15
Noções básicas de direito constitucional e administrativo e legislação municipal	10
Conhecimentos gerais e atualidades	05

- Após conferir seus dados no cartão de respostas (NOME, Nº da INSCRIÇÃO e CARGO), assine no local indicado.
- O CARTÃO DE RESPOSTAS é o único documento de correção, devendo ser preenchido com bastante atenção, à caneta esferográfica, azul ou preta, ponta grossa, marcando uma única alternativa em cada questão. Verifique no cartão de respostas as instruções para preenchimento. Não rasure, não amasse nem dobre o CARTÃO DE RESPOSTAS. É vedada a substituição do CARTÃO DE RESPOSTAS decorrente de erro cometido por candidato.
- Se o CARTÃO DE RESPOSTAS contiver maior número de alternativas e/ou de questões, preencha apenas as correspondentes à sua prova; as demais ficam em branco.
- Durante a realização da prova, não é permitida a comunicação entre candidatos nem a utilização de máquina calculadora e/ou similares, livros, anotações, réguas de cálculo, impressos ou qualquer outro material de consulta.
- O tempo de duração da prova objetiva será de **até 3 horas**, incluído o tempo para preenchimento do Cartão de Respostas. O candidato somente poderá levar consigo seu caderno de questões **após 2 horas** contadas do efetivo início das provas. Ao candidato que sair antes de duas horas contadas do efetivo início das provas, será permitido copiar seu cartão de respostas, para conferência com o gabarito oficial.
- Em todas as questões de legislação desta prova (se houver), serão consideradas as emendas e/ou alterações da legislação com entrada em vigor até a publicação do edital. Na prova de Português será exigida a norma ortográfica atualmente em vigor. Para responder às questões de Informática (se houver), a menos que seja informado o contrário, considerar que os programas mencionados se encontram na versão Português-BR e em sua configuração padrão de instalação, possuem licença de uso, o mouse está configurado para destros, um clique ou duplo clique correspondem ao botão esquerdo do mouse, e teclar corresponde à operação de pressionar uma tecla e, rapidamente, liberá-la, acionando-a apenas uma vez.
- Ao final dos trabalhos, **DEVOLVA** ao Fiscal da sala o CARTÃO DE RESPOSTAS devidamente preenchido e assinado.
- Ao final da prova objetiva, os três últimos candidatos de cada sala de prova deverão permanecer no recinto, a fim de acompanhar os fiscais até a coordenação para o lacre e assinatura do lacre dos envelopes, quando, então, poderão retirar-se do local, simultaneamente, após concluído.

Direitos autorais reservados à Objetiva Concursos Ltda. Proibida a reprodução, ainda que parcial, sem autorização prévia.

Boa Prova!

Seriedade e ética: nós acreditamos nesses valores.

Nome do(a) Candidato(a)

Nº de inscrição

✂ Esta parte destacável serve para copiar as suas respostas, somente poderá ser destacada no ato da entrega do material na mesa do fiscal.

01	<input type="checkbox"/>	02	<input type="checkbox"/>	03	<input type="checkbox"/>	04	<input type="checkbox"/>	05	<input type="checkbox"/>	06	<input type="checkbox"/>	07	<input type="checkbox"/>	08	<input type="checkbox"/>	09	<input type="checkbox"/>	10	<input type="checkbox"/>
11	<input type="checkbox"/>	12	<input type="checkbox"/>	13	<input type="checkbox"/>	14	<input type="checkbox"/>	15	<input type="checkbox"/>	16	<input type="checkbox"/>	17	<input type="checkbox"/>	18	<input type="checkbox"/>	19	<input type="checkbox"/>	20	<input type="checkbox"/>
21	<input type="checkbox"/>	22	<input type="checkbox"/>	23	<input type="checkbox"/>	24	<input type="checkbox"/>	25	<input type="checkbox"/>	26	<input type="checkbox"/>	27	<input type="checkbox"/>	28	<input type="checkbox"/>	29	<input type="checkbox"/>	30	<input type="checkbox"/>
31	<input type="checkbox"/>	32	<input type="checkbox"/>	33	<input type="checkbox"/>	34	<input type="checkbox"/>	35	<input type="checkbox"/>	36	<input type="checkbox"/>	37	<input type="checkbox"/>	38	<input type="checkbox"/>	39	<input type="checkbox"/>	40	<input type="checkbox"/>
41	<input type="checkbox"/>	42	<input type="checkbox"/>	43	<input type="checkbox"/>	44	<input type="checkbox"/>	45	<input type="checkbox"/>	46	<input type="checkbox"/>	47	<input type="checkbox"/>	48	<input type="checkbox"/>	49	<input type="checkbox"/>	50	<input type="checkbox"/>

Seriedade e ética: nós acreditamos nesses valores.

LÍNGUA PORTUGUESA E REDAÇÃO OFICIAL

Água

Em janeiro de 1997, entrou em vigor a Lei nº 9.433/1997, também conhecida como Lei das Águas. O instrumento legal instituiu a Política Nacional de Recursos Hídricos (PNRH) e criou o Sistema Nacional de Gerenciamento de Recursos Hídricos (SINGREH). Segundo a Lei das Águas, a Política Nacional de Recursos Hídricos tem seis fundamentos. A água é considerada um bem de domínio público e um recurso natural limitado, dotado de valor _____.

A Lei prevê que a gestão dos recursos hídricos deve proporcionar os usos múltiplos das águas, de forma descentralizada e participativa, contando com a participação do Poder Público, dos usuários e das comunidades. Também determina que, em situações de escassez, o uso prioritário da água é para o consumo humano e para a dessedentação de animais. Outro fundamento é o de que a bacia hidrográfica é a unidade de atuação do SINGREH e de implementação da PNRH.

O segundo artigo da Lei explicita os objetivos da PNRH: assegurar a disponibilidade de água de qualidade às gerações presentes e futuras, promover uma utilização racional e integrada dos recursos hídricos e a prevenção e defesa contra eventos hidrológicos (chuvas, secas e enchentes), sejam eles naturais ou decorrentes do mau uso dos recursos naturais.

O território brasileiro contém cerca de 12% de toda a água doce do planeta. Ao todo, são 200 mil _____ espalhadas em 12 regiões hidrográficas, como as bacias do São Francisco, do Paraná e a Amazônica (a mais extensa do mundo, sendo 60% dela localizada no Brasil). É um enorme potencial hídrico, capaz de prover um volume de água por pessoa 19 vezes superior ao mínimo estabelecido pela Organização das Nações Unidas (ONU), que é de 1.700 m³/s por habitante por ano.

Apesar da abundância, os recursos hídricos brasileiros não são inesgotáveis. O acesso à água não é igual para todos. As características geográficas de cada região e as mudanças de _____ dos rios, que ocorrem devido às variações climáticas ao longo do ano, afetam a distribuição.

(Fonte: Antigo Ministério do Meio Ambiente - adaptado.)

1) Assinalar a alternativa que preenche as lacunas do texto CORRETAMENTE:

- a) econômico | microbacias | vasão
- b) econômico | microbacias | vazão
- c) econômico | micro-bacias | vazão
- d) econômico | micro-bacias | vasão

2) Em “o uso prioritário da água é para o consumo humano e para a dessedentação de animais.”, a palavra sublinhada pode ser substituída, sem prejuízo de sentido, por:

- a) Saciação.
- b) Remoção.
- c) Cura.
- d) Salvação.

3) Em “A água é considerada um bem de domínio público e um recurso natural limitado”, o verbo sublinhado é CORRETAMENTE classificado como:

- a) Subjuntivo.
- b) Indicativo.
- c) Particípio.
- d) Gerúndio.

4) A Lei das Águas, nome popular da Lei nº 9.433/1997, estabeleceu fundamentos para o manejo de recursos hídricos. Portanto, de acordo com o texto, é INCORRETO afirmar como fundamento dessa lei que:

- a) A água é um bem de domínio público.
- b) Sua gestão deve ser feita de forma descentralizada e participativa.
- c) O uso múltiplo das águas deve ser subjugado ao interesse estatal.
- d) A defesa contra eventos hidrológicos ajuda a assegurar a disponibilidade de água às gerações futuras.

5) Há ERRO no uso da crase em:

- a) O filho terminou de almoçar às pressas.
- b) A família está esperando desde às 2h.
- c) Todos chegaram à confraternização a tempo.
- d) Às vezes as coisas acontecem como gostamos.

6) Assinalar a alternativa que substitui as palavras sublinhadas na sentença abaixo sem que elas percam seu sentido:

“As peripécias que aquelas crianças faziam eram impensáveis.”

- a) Conquistas | imagináveis.
- b) Aventuras | inimagináveis.
- c) Besteiras | incríveis.
- d) Brincadeiras | respeitáveis.

7) Há um ERRO de regência em:

- a) Todos irão à casa da avó hoje.
- b) A casa estava sendo construída.
- c) Agradeço ao convite que me fizeram.
- d) Todos descansariam quando chegassem em casa.

8) A frase que contraria a norma culta quanto à regência nominal é:

- a) O acesso era facultado a visitantes.
- b) As crianças estavam esfuziantes de alegria.
- c) Eram termos circunscritos de elementos mórficos.
- d) A defasagem entre as escolas ficou muito evidente naquele exame.

9) Assinalar a frase com ERRO de pontuação:

- a) As informações sobre a saúde mental estão se ampliando, mas ainda devem ser mais divulgadas.
- b) Se as divergências forem sanadas, será mais simples a resolução.
- c) A quem interessou o fracasso pessoal do outro?
- d) Todos estavam cientes da situação mesmo aqueles, que porventura não pareciam estar.

10) Em relação ao uso dos porquês, assinalar a alternativa CORRETA:

- a) Na segunda-feira, o aluno havia se ausentado por quê?
- b) Porque você está reativo?
- c) Ainda não havia compreendido o por quê me enviaria para aquela missão.
- d) Aqueles caminhos faziam seu coração disparar, mas não entendia porque.

MATEMÁTICA/RACIOCÍNIO LÓGICO

11) Sejam A e B dois conjuntos tais que $A = \{x \in \mathbb{N} \mid x \text{ é divisor positivo de } 13\}$ e $B = \{x \in \mathbb{N} \mid x \text{ é um número primo}\}$. Nessas condições, $A - B$ é igual a:

- a) {1}
- b) {13}
- c) {1, 13}
- d) {1, 2, 3, 5, 7, 11, 13}

12) A razão entre o peso de certo carro e de certo caminhão é igual a $\frac{2}{27}$. Sabendo-se que esse carro pesa 1.500 kg, ao todo, qual o peso desse caminhão?

- a) 19.500 kg
- b) 19.750 kg
- c) 20.000 kg
- d) 20.250 kg

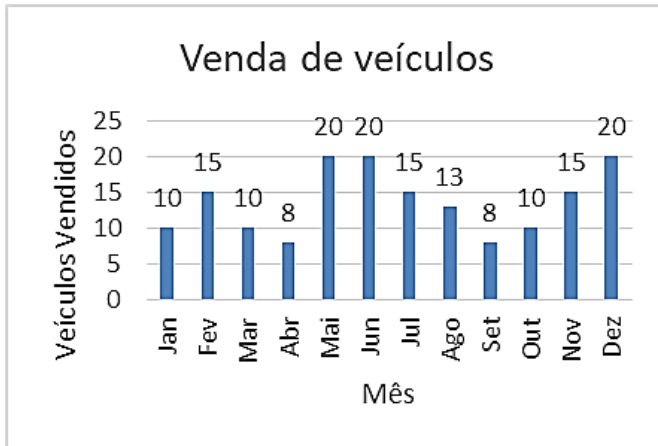
13) O valor da medida do lado de um quadrado foi aumentado em 25%. Nessa condição, a área desse quadrado foi aumentada em uma quantidade:

- a) Menor que 30%.
- b) Maior que 30% e menor que 40%.
- c) Maior que 40% e menor que 50%.
- d) Maior que 50%.

14) João foi a uma lanchonete e deseja comprar um suco e um lanche. Sabendo-se que a lanchonete possui 7 sabores de suco distintos e 8 tipos de lanches, de quantos modos distintos ele pode fazer essa escolha?

- a) 60
- b) 58
- c) 56
- d) 62

15) Em um determinado ano, uma concessionária vendeu, por mês, o número de carros especificados no gráfico a seguir:



Sobre o número de veículos vendidos, analisar os itens abaixo:

- I. A média mensal de veículos vendidos é aproximadamente 13,67 veículos.
- II. A média mensal dos meses em que houve o maior número de vendas do ano é 25.
- III. A média mensal de vendas dos meses maiores ou igual a 13 é aproximadamente 16,86.

Está(ão) CORRETO(S):

- a) Somente o item I.
- b) Somente o item II.
- c) Somente os itens I e III.
- d) Todos os itens.

INFORMÁTICA

16) Maria está tratando de um assunto de trabalho com um colega por e-mail. No entanto, ela gostaria que seu chefe acompanhasse as suas respostas recebendo cópias ocultas, ou seja, sem que seu colega saiba que o chefe está acompanhando. Para fazer isso, ao responder a mensagem do colega e garantir que o chefe receba a cópia oculta, Maria adiciona o endereço de e-mail do chefe:

- a) No campo CCO, para indicar que uma cópia oculta deve ser enviada ao chefe.
- b) No campo PARA, para indicar que uma cópia oculta deve ser enviada ao chefe.
- c) No campo CC, para indicar que uma cópia oculta deve ser enviada ao chefe.
- d) No campo EXTRA, para indicar que uma cópia oculta deve ser enviada ao chefe.

17) A assistente pessoal digital no Windows 10 que auxilia na produtividade pessoal, podendo também fazer pesquisas na WEB, mostrar notícias, clima local e fornecer lembretes com base no tempo ou localização é a:

- a) Alana.
- b) Cortana.
- c) Laura.
- d) Sophia.

18) São táticas fundamentais para a segurança na internet:

- I. Verificar a autenticidade de links, arquivos e e-mails.
- II. Priorizar redes Wi-Fi públicas sempre que possível.
- III. Manter os softwares de segurança constantemente atualizados.

Está(ão) CORRETO(S):

- a) Somente o item I.
- b) Somente o item II.
- c) Somente os itens I e III.
- d) Todos os itens.

19) No Word 2019, é possível alterar o espaçamento entre as linhas do documento para deixar o texto exatamente como o usuário deseja. Para alterar o espaçamento de todo o documento com rapidez, qual das opções a seguir pode ser utilizada?

- a) Acessar a guia Design e selecionar a opção "Espaçamento entre Parágrafos".
- b) Acessar a guia Layout e selecionar a opção "Espaçamento entre Parágrafos".
- c) Acessar a guia Página Inicial e selecionar a opção "Pincel de Formatação".
- d) Acessar a guia Revisão e selecionar a opção "Estrutura de Tópicos".

20) De acordo com os conceitos básicos de segurança ao navegar na internet, assinalar a alternativa que preenche a lacuna abaixo CORRETAMENTE:

O _____ é um tipo de malware mais perigoso que um vírus comum, pois sua propagação é rápida e ocorre sem controle da vítima. Assim que ele contamina um computador, o programa malicioso cria cópias de si mesmo em diferentes locais do sistema e se espalha para outras máquinas, seja por meio de internet, mensagens, conexões locais, dispositivos USB ou arquivos.

- a) keyboard
- b) join
- c) Linux
- d) worm

LEGISLAÇÃO DE TRÂNSITO

21) Conforme a Lei nº 9.503/1997 – Código de Trânsito Brasileiro, compete ao CONTRAN:

- Responder a consultas relativas à aplicação da legislação e dos procedimentos normativos de trânsito.
- Coordenar os órgãos do Sistema Nacional de Trânsito, objetivando a integração de suas atividades.
- Estimular e orientar a execução de campanhas educativas de trânsito.
- Elaborar normas no âmbito das respectivas competências.

22) Todo cidadão ou entidade civil tem o direito de solicitar, por escrito, aos órgãos ou entidades do Sistema Nacional de Trânsito, sinalização, fiscalização e implantação de equipamentos de segurança, bem como sugerir alterações em normas, legislação e outros assuntos pertinentes ao Código de Trânsito Brasileiro. Aos órgãos ou entidades pertencentes ao Sistema Nacional de Trânsito cabe:

- O dever de analisar as solicitações e responder, por escrito, dentro de prazos mínimos, sobre a possibilidade ou não de atendimento, esclarecendo ou justificando a análise efetuada e, se pertinente, informando ao solicitante quando tal evento ocorrerá.
- A prerrogativa de analisar as solicitações e responder, por escrito, dentro de prazos mínimos, sobre a possibilidade ou não de atendimento, esclarecendo ou justificando a análise efetuada e, se pertinente, informando ao solicitante quando tal evento ocorrerá.
- O dever de analisar as solicitações e responder, por escrito, sem prazos mínimos, sobre a possibilidade ou não de atendimento, esclarecendo ou justificando a análise efetuada e, se pertinente, informando ao solicitante quando tal evento ocorrerá.
- A prerrogativa de analisar as solicitações e responder, por escrito, sem prazos mínimos, sobre a possibilidade ou não de atendimento, esclarecendo ou justificando a análise efetuada e, se pertinente, informando ao solicitante quando tal evento ocorrerá.

23) Todo veículo automotor, elétrico, articulado, reboque ou semirreboque deve ser registrado perante órgão executivo de trânsito do Estado ou do Distrito Federal, no Município de domicílio ou residência de seu proprietário, na forma da lei. Será obrigatória a expedição de novo Certificado de Registro de Veículo:

- Quando o proprietário mudar de endereço dentro da mesma cidade.
- Anualmente, ao efetuar a quitação do licenciamento.
- Se, durante o ano anterior, o veículo sofrer qualquer tipo de acidente.
- Quando for alterada qualquer característica do veículo.

24) Na concepção e na implantação da sinalização de trânsito, deve-se ter como princípio básico as condições de percepção dos usuários da via, garantindo a real eficácia dos sinais. Sobre a percepção dos usuários da via, são princípios necessários para assegurar a sinalização vertical:

- Suficiência: para permitir fácil percepção do que realmente é importante, com quantidade de sinalização compatível com a necessidade.
- Clareza: para transmitir mensagens objetivas de fácil compreensão.
- Manutenção e conservação: para estar permanentemente limpa, conservada, fixada e visível.

Estão CORRETOS:


- Somente os itens I e II.
- Somente os itens II e III.
- Somente os itens I e III.
- Todos os itens.

25) A sinalização vertical de regulamentação tem por finalidade transmitir aos usuários as condições, proibições, obrigações ou restrições no uso das vias urbanas e rurais. Assim, o desrespeito aos sinais de regulamentação constitui infrações, previstas no capítulo XV do Código de Trânsito Brasileiro – CTB. Assinalar a alternativa que apresenta a única placa de sinalização de regulamentação das vias:

a)



b)



c)



d)



26) Conforme o Regulamento de Sinalização Viária, a respeito das placas de confirmação de saída, assinalar a alternativa INCORRETA:

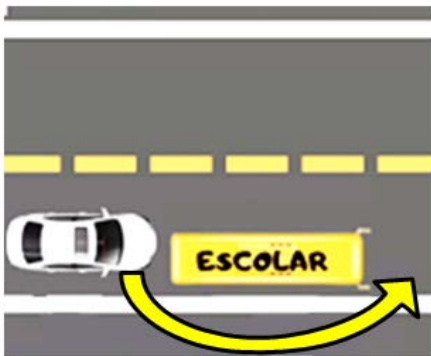
- a) As placas de confirmação de saída informam ao condutor o ponto de mudança de direção para alcançar os destinos de saída indicados.
- b) Devem ser utilizadas junto a acessos ou interseções onde há fluxos de saída à direita ou à esquerda, em função da quantidade de informações a serem fornecidas e das características da via.
- c) Apresentam a forma retangular, com a cor de fundo e da orla externa em verde, e as legendas, tarjas, setas e orla interna na cor branca, salvo exceções previstas na resolução.
- d) Caso a placa contenha exclusivamente indicação de rodovia, seu fundo deve ser todo na cor vermelha.

27) Conforme o Regulamento de Sinalização Viária, a placa (A-7a) abaixo:



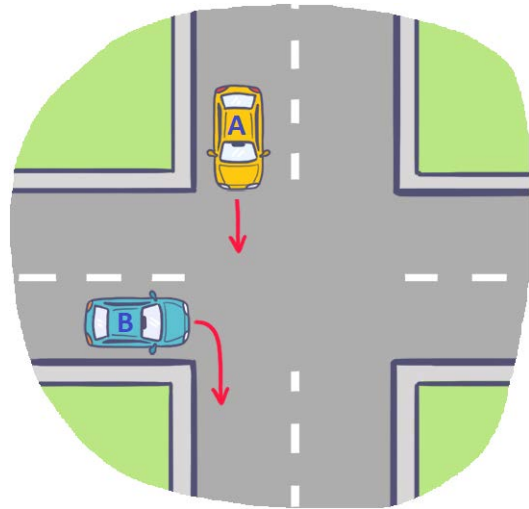
- a) Assinala ao condutor de ônibus, caminhões e veículos de grande porte a obrigação de circular pela(s) faixa(s) da esquerda.
- b) Assinala ao condutor do veículo a obrigatoriedade de manter-se à esquerda da pista, deixando livre a(s) faixa(s) da direita.
- c) Adverte o condutor do veículo da existência, adiante, de uma via lateral à direita.
- d) Adverte o condutor do veículo da existência, adiante, de uma via lateral à esquerda.

28) Em uma pista simples, o condutor de um automóvel pretende ultrapassar um veículo que está realizando o transporte de escolares. A manobra de ultrapassagem pretendida está indicada pela seta na imagem abaixo. Segundo o Código de Trânsito Brasileiro, essa manobra é:



- a) Proibida, constituindo infração gravíssima.
- b) Proibida, constituindo infração leve.
- c) Proibida, constituindo infração média.
- d) Permitida e recomendada.

29) Os veículos abaixo estão transitando por fluxos que se cruzam em vias urbanas locais. No cruzamento não sinalizado, terá preferência de passagem:



- a) O veículo A.
- b) O veículo B.
- c) O veículo maior.
- d) O veículo menor.

30) Para a obtenção da autorização para conduzir ciclomotores (ACC) e da carteira nacional de habilitação (CNH), o candidato deverá submeter-se à realização de:

- I. Avaliação de lógica e de matemática.
- II. Exame escrito sobre a integralidade do conteúdo programático, desenvolvido em Curso de Formação para Condutor.
- III. Exame de Direção Veicular, realizado na via pública, em veículo da categoria para a qual esteja se habilitando.

Está(ão) CORRETO(S):

- a) Somente o item I.
- b) Somente o item II.
- c) Somente os itens II e III.
- d) Todos os itens.

31) Conforme o Regulamento de Sinalização Viária, assinalar a alternativa que preenche as lacunas abaixo CORRETAMENTE:

Havendo necessidade de fornecer informações complementares aos sinais de advertência, estas devem ser inscritas em placa adicional ou incorporadas à placa principal formando um só conjunto, na forma _____, admitida a exceção para a placa adicional contendo o número de linhas férreas que cruzam a pista. As cores da placa adicional devem ser as mesmas dos sinais de _____.

- a) triangular | exemplificação
- b) circular | identificação
- c) oval | regulamentação
- d) retangular | advertência

32) Ao transitar com seu automóvel próximo ao início de uma interseção e observar que existe um veículo a sua frente com velocidade reduzida, você deve:

- a) Ligar a seta direita e iniciar a ultrapassagem.
- b) Reduzir sua velocidade para manter distância segura do carro da frente.
- c) Buzinar para o veículo a sua frente, solicitando o aumento da velocidade.
- d) Frear bruscamente seu veículo.

33) A placa a seguir assinala que o condutor deve parar seu veículo antes de entrar ou cruzar a via/pista.



Com relação a seus princípios de utilização, analisar os itens abaixo:

- I. Seu uso deve se restringir às situações em que a parada de veículos for realmente necessária, sendo insuficiente ou perigosa a simples redução da velocidade.
- II. Elas devem ser utilizadas onde o risco potencial, ou a ocorrência de acidentes, demonstre sua necessidade.
- III. Ela deve ser empregada em interseções em que a via considerada secundária apresenta visibilidade restrita.

Está(ão) CORRETO(S):

- a) Somente o item I.
- b) Somente o item II.
- c) Somente os itens I e III.
- d) Todos os itens.

34) Com base nas Normas Gerais de Circulação e Conduta do Código de Trânsito Brasileiro, assinalar a alternativa que apresenta CORRETAMENTE as atitudes e orientações que devem ser seguidas pelos condutores:

- a) Quando uma pista de rolamento comportar várias faixas de circulação no mesmo sentido, são as da esquerda destinadas ao deslocamento dos veículos mais lentos e de maior porte, quando não houver faixa especial a eles destinada, e as da direita, destinadas à ultrapassagem e ao deslocamento dos veículos de maior velocidade.
- b) Os veículos precedidos de batedores terão prioridade de passagem, respeitadas as demais normas de circulação.
- c) Os veículos que se deslocam sobre trilhos não terão preferência de passagem sobre os demais, respeitadas as normas de circulação.
- d) A ultrapassagem de outro veículo em movimento deverá ser feita pela direita, obedecida a sinalização regulamentar e as demais normas estabelecidas, exceto quando o veículo a ser ultrapassado estiver sinalizando o propósito de entrar à esquerda.

35) Entre as definições e os conceitos presentes no Código de Trânsito Brasileiro, é CORRETO afirmar que a via rural de trânsito compreende:

- a) Vias coletoras e vielas.
- b) Vias rápidas e arteriais.
- c) Ruas e avenidas.
- d) Estradas e rodovias.

NOÇÕES BÁSICAS DE DIREITO CONSTITUCIONAL E ADMINISTRATIVO E LEGISLAÇÃO MUNICIPAL

36) Assinalar a alternativa que preenche a lacuna abaixo CORRETAMENTE:

Segundo a Constituição Federal, sobre a posse do Presidente e Vice-presidente da República, se, decorrido(s) _____ dia(s) da data fixada para a posse, o Presidente ou o Vice-Presidente, salvo motivo de força maior, não tiver assumido o cargo, este será declarado vago.

- a) um
- b) cinco
- c) dez
- d) trinta

37) De acordo com direitos e garantias fundamentais elencados na Constituição Federal, assinalar a alternativa CORRETA:

- a) A casa é asilo inviolável do indivíduo, e ninguém nela pode penetrar sem consentimento do morador, salvo em caso de desastre, para prestar socorro, ou por determinação judicial.
- b) Todos podem reunir-se pacificamente, sem armas, em locais abertos ao público, mediante autorização, desde que não frustrem outra reunião anteriormente convocada para o mesmo local.
- c) É livre a locomoção no território nacional em tempo de paz ou guerra, podendo, qualquer pessoa, nos termos da lei, nele entrar, permanecer, ou dele sair com seus bens.
- d) As associações só poderão ser compulsoriamente dissolvidas por decisão judicial transitada em julgado.

38) Em conformidade com a Lei nº 8.429/1992 – Lei de Improbidade Administrativa, em relação aos órgãos que serão comunicados pela comissão processante da existência de procedimento administrativo para apurar a prática de ato de improbidade, assinalar a alternativa CORRETA:

- a) Ministério Público e Tribunal de Contas.
- b) Poder Judiciário e Receita Federal.
- c) Polícia Civil e Polícia Federal.
- d) Defensoria Pública e Procuradoria-Geral.

39) Segundo a Lei nº 13.709/2018 – Lei Geral de Proteção de Dados Pessoais, as atividades de tratamento de dados pessoais deverão observar, além da boa-fé, alguns princípios, como:

- a) Necessidade: compatibilidade do tratamento com as finalidades informadas ao titular, de acordo com o contexto do tratamento.
- b) Não discriminação: impossibilidade de realização do tratamento para fins discriminatórios ilícitos ou abusivos.
- c) Transparência: garantia, aos titulares, de exatidão, clareza, relevância e atualização dos dados de acordo com a necessidade e para o cumprimento da finalidade de seu tratamento.
- d) Segurança: adoção de medidas para prevenir a ocorrência de danos em virtude do tratamento de dados pessoais.

40) Em conformidade com a Lei nº 12.527/2011 – Lei de Acesso à Informação, considerando-se a classificação da informação e os respectivos prazos de restrição de acesso, numerar a 2ª coluna de acordo com a 1ª e, após, assinalar a alternativa que apresenta a sequência CORRETA:

- (1) 5 anos.
- (2) 15 anos.
- (3) 25 anos.
- () Reservada.
- () Secreta.
- () Ultrassecrta.
- a) 1 - 2 - 3.
- b) 3 - 2 - 1.
- c) 2 - 3 - 1.
- d) 2 - 1 - 3.

41) Em conformidade com a Lei Orgânica do Município, em relação às competências do Prefeito, marcar C para as afirmativas Certas, E para as Erradas e, após, assinalar a alternativa que apresenta a sequência CORRETA:

- () Vetar projetos de lei, parcial ou totalmente.
- () Editar e fazer publicar atos administrativos.
- () Emendar a Lei Orgânica.
- a) C - E - C.
- b) C - C - E.
- c) E - C - E.
- d) C - C - C.

42) Considerando-se a Lei Municipal nº 203/2008 – Estatuto dos Servidores Públicos do Município, sobre a posse, analisar os itens abaixo:

- I. Posse é o ato pelo qual a pessoa é investida no cargo público.
- II. A posse deverá se verificar no prazo de 30 dias, contados da publicação oficial do ato de provimento.
- a) Os itens I e II estão corretos.
- b) Somente o item I está correto.
- c) Somente o item II está correto.
- d) Os itens I e II estão incorretos.

43) De acordo com a Resolução nº 06/2016 – Regimento Interno da Câmara Municipal de Vereadores, assinalar a alternativa que preenche as lacunas abaixo CORRETAMENTE:

A Câmara Municipal compõe-se de ____ Vereadores, eleitos simultaneamente com o Prefeito e o Vice-Prefeito, na forma da lei. Somente o brasileiro, maior de ____ anos, no exercício dos seus direitos políticos, poderá exercer mandato de Vereador.

- a) 21 | 21
- b) 18 | 21
- c) 21 | 18
- d) 18 | 18

44) De acordo com a Resolução nº 06/2016 – Regimento Interno da Câmara Municipal de Vereadores, as comissões serão permanentes, temporárias ou representativas. Sobre isso, numerar a 2ª coluna de acordo com a 1ª e, após, assinalar a alternativa que apresenta a sequência CORRETA:

- (1) Permanentes.
 - (2) Temporárias.
 - (3) Representativas.
- () Constituídas para funcionar nos períodos de recesso, nos termos dos artigos 96 e 97 da Lei Orgânica e de acordo com o disposto neste Regimento.
- () Constituídas para fim específico, que se extinguirão quando alcançado o objetivo ou expirado o prazo de duração, preestabelecidos nas resoluções que as criarem.
- () De caráter técnico-legislativo, para análise, estudo e deliberação das matérias submetidas à apreciação do Poder Legislativo municipal.
- a) 2 - 3 - 1.
b) 3 - 1 - 2.
c) 3 - 2 - 1.
d) 2 - 1 - 3.

45) Considerando-se a Lei Municipal nº 155/2005 – Plano de Carreira dos Servidores Estatutários da Câmara Municipal, sobre a progressão por nível, assinalar a alternativa que preenche a lacuna abaixo CORRETAMENTE:

A progressão por Nível, do anterior para o seguinte, no mesmo cargo e padrão, será concedida ao servidor que possuir ou concluir a escolaridade em grau superior ao mínimo exigido para o cargo que ocupa e dar-se-á mediante a apresentação da habilitação para o nível imediatamente superior e observará o interstício mínimo de ___ ano(s) entre um e outro.

- a) 1
- b) 2
- c) 3
- d) 4

CONHECIMENTOS GERAIS E ATUALIDADES

46) Para ser bem-sucedido no trabalho, algumas regras de convivência que norteiam as condutas profissionais assertivas precisam ser seguidas. Sobre as boas práticas de convivência que auxiliam no sucesso profissional, analisar os itens abaixo:

- I. O profissional deve vestir-se com discrição, adequadamente à situação e ao local. As roupas de trabalho devem ser discretas e limpas.
- II. É importante evitar gestos que demonstrem nervosismo, como roer unhas ao conversar com outras pessoas.
- III. Ao receber uma reclamação, o profissional deve agir com tranquilidade, buscando acalmar o reclamante.

Está(ão) CORRETO(S):

- a) Somente o item I.
- b) Somente o item II.
- c) Somente os itens I e III.
- d) Todos os itens.

47) O monóxido de carbono é um gás inodoro e incolor e um poluente atmosférico emitido em alguns processos de combustão. Em áreas urbanas, a maior parte das emissões desse gás é decorrente:

- a) Do excesso de pavimentação viária.
- b) Dos aparelhos de ar-condicionado.
- c) Dos veículos automotores.
- d) Das ondas eletromagnéticas dos aparelhos eletrônicos.

48) Em relação à segurança digital, assinalar a alternativa CORRETA:

- a) A segurança digital serve exclusivamente para a proteção de transações financeiras, prevenindo golpes.
- b) A segurança digital torna os sistemas on-line mais vulneráveis e facilitados a danos virais e roubo de informações pessoais.
- c) A segurança digital propõe a preservação e a privacidade de informações, buscando identificar e bloquear ameaças.
- d) A segurança digital trata de disponibilizar as informações pessoais em rede aberta de acesso público.

49) “Decoro” é uma palavra muito utilizada quando o assunto é ética no serviço público. Nesse contexto, assinalar a alternativa que indica CORRETAMENTE o seu significado:

- a) Seriedade e decência ao agir; dignidade.
- b) Desonestidade, fraude, imoralidade.
- c) Aptidão, capacidade, competência.
- d) Algo ou alguém de grande inutilidade.

50) O sistema do Ministério da Educação que reúne eletronicamente vagas ofertadas por instituições públicas de ensino superior de todo o Brasil, sendo a grande maioria delas ofertada por instituições federais (universidades e institutos), possibilitando aos estudantes, com base na nota do Exame Nacional do Ensino Médio (Enem), ingressarem em universidades públicas é o:

- a) PROFAC.
- b) FIES.
- c) SISU.
- d) PROMEC.