

# Motorista

- Confira devidamente o material (CARTÃO DE RESPOSTAS e CADERNO DE QUESTÕES); se houver falha, solicite a substituição ao fiscal.
- Este caderno de questões está assim constituído:

• DISCIPLINAS	Nº QUESTÕES
Português	10
Matemática	10
Legislação e Conhecimentos	10

- Após conferir seus dados no cartão de respostas (NOME, Nº da INSCRIÇÃO e CARGO), assine no local indicado.
- O CARTÃO DE RESPOSTAS é o único documento de correção, devendo ser preenchido com bastante atenção, à caneta esferográfica, azul ou preta, ponta grossa, marcando uma única alternativa em cada questão. Verifique no cartão de respostas as instruções para preenchimento. Não rasure, não amasse nem dobre o CARTÃO DE RESPOSTAS; evite usar borracha. É vedada a substituição do CARTÃO DE RESPOSTAS decorrente de erro cometido por candidato.
- Se o CARTÃO DE RESPOSTAS contiver maior número de alternativas e/ou de questões, preencha apenas as correspondentes à sua prova; as demais ficam em branco.
- Durante a realização da prova, não é permitida a comunicação entre candidatos nem a utilização de máquina calculadora e/ou similares, livros, anotações, réguas de cálculo, impressos ou qualquer outro material de consulta.
- O tempo de duração da prova objetiva será de **até 3 horas**, incluído o tempo para preenchimento do Cartão de Respostas. O candidato somente poderá levar consigo seu caderno de questões **após 1 hora** contada do efetivo início das provas. Ao candidato que sair antes de uma hora contada do efetivo início das provas, será permitido copiar seu cartão de respostas, para conferência com o gabarito oficial.
- Em todas as questões de legislação desta prova (se houver), serão consideradas as emendas e/ou alterações da legislação com entrada em vigor até a publicação do edital. Na prova de Português será exigida a norma ortográfica atualmente em vigor. Para responder às questões de Informática (se houver), a menos que seja informado o contrário, considerar que os programas mencionados se encontram na versão Português-BR e em sua configuração padrão de instalação, possuem licença de uso, o mouse está configurado para destros, um clique ou duplo clique correspondem ao botão esquerdo do mouse, e teclar corresponde à operação de pressionar uma tecla e, rapidamente, liberá-la, acionando-a apenas uma vez.
- Ao final dos trabalhos, **DEVOLVA** ao Fiscal da sala o CARTÃO DE RESPOSTAS devidamente preenchido e assinado.
- Ao final da prova objetiva, os três últimos candidatos de cada sala de prova deverão permanecer no recinto, a fim de acompanhar os fiscais até a coordenação para o lacre dos envelopes, quando, então, poderão retirar-se do local, simultaneamente, após concluído.

Direitos autorais reservados à Objetiva Concursos Ltda. Proibida a reprodução, ainda que parcial, sem autorização prévia.

**Boa Prova!**

**Seriedade e ética: nós acreditamos nesses valores.**

Nome do(a) Candidato(a)

Nº de inscrição

✂

Esta parte destacável serve para copiar as suas respostas, somente poderá ser destacada no ato da entrega do material na mesa do fiscal.

01  02  03  04  05  06  07  08  09  10   
 11  12  13  14  15  16  17  18  19  20   
 21  22  23  24  25  26  27  28  29  30

Seriedade e ética: nós acreditamos nesses valores.

---

**PORTUGUÊS**

---

**Três anos de pandemia de covid-19**

No dia 11 de março de 2020, o biólogo etíope Tedros Adhanom Ghebreyesus, diretor-geral da Organização Mundial da Saúde (OMS), fez um discurso que entraria para a história.

Num momento em que haviam sido registrados 118 mil casos e 4,2 mil mortes por covid-19 em 114 países, ele anunciou que estávamos, de fato, em uma pandemia.

“Essa é a primeira pandemia causada por um coronavírus. [...] Nós estamos soando o alarme em alto e bom som”, declarou.

Três anos, 676,5 milhões de casos e 6,8 milhões de mortes depois, o mundo se encontra num momento completamente distinto da crise sanitária.

Com o desenvolvimento de vacinas, testes e remédios em tempo recorde, o coronavírus deixou de representar uma ameaça mortal para a maioria das pessoas — apesar de ainda ser um problema grave e preocupante para os grupos mais vulneráveis, como idosos e indivíduos com o sistema imunológico comprometido.

E o próprio Brasil é um exemplo dessa mudança de cenário: a taxa de mortalidade, que chegou a 201 por 100 mil habitantes em 2021, caiu para 36 no ano passado e, no primeiro trimestre de 2023, encontra-se em três, segundo o painel do Conselho Nacional de Secretários da Saúde (Conass).

(Fonte: BBC – adaptado.)

---

**1)** No terceiro parágrafo do texto, há um trecho entre aspas com a função de:

- a) Descrever com detalhes o assunto da reportagem.
- b) Complementar as informações que estão no título.
- c) Indicar a fala do diretor-geral da Organização Mundial da Saúde.
- d) Apresentar o pensamento do jornalista que escreveu a reportagem.

---

**2)** Apesar de ainda ser um problema grave e preocupante para os grupos mais vulneráveis, o que, segundo o texto, fez com que o coronavírus deixasse de representar uma ameaça mortal para a maioria das pessoas?

- a) O alarme soado em alto e bom som.
- b) O abrandamento do vírus.
- c) O sistema imunológico dos grupos mais vulneráveis.
- d) O desenvolvimento de vacinas, testes e remédios.

**3)** A palavra “distinto”, sublinhada no texto, poderia ser substituída pela seguinte palavra sem alterar o sentido da frase:

- a) Diferente.
- b) Idêntico.
- c) Semelhante.
- d) Parecido.

---

**4)** Quanto ao trecho do primeiro parágrafo “[...] fez um discurso que entraria para a história.”, a palavra sublinhada é um verbo:

- a) Que está no tempo passado.
- b) Que está no tempo presente.
- c) Que está no tempo futuro.
- d) Que indica algo desconhecido.

---

**5)** Pelo contexto, qual é o sentido do trecho “[...] soando o alarme em alto e bom som” presente no texto?

- a) Mudando e perdendo o foco do problema.
- b) Criando preocupações desnecessárias.
- c) Fazendo uma brincadeira.
- d) Alertando de maneira clara.

---

**6)** Assinalar a alternativa que preenche as lacunas abaixo **CORRETAMENTE**:

Ter um \_\_\_\_\_ de estimação traz bons momentos na vida de seu dono, porém, traz muitas responsabilidades. Por exemplo, é de responsabilidade do dono o recolhimento dos \_\_\_\_\_ de seus animais dos locais públicos.

- a) animauzinho | dejetos
- b) animalzinho | dejetos
- c) animalzinho | dejetos
- d) animauzinho | dejetos

---

**MATEMÁTICA**

---

7) Considerando-se o trecho da fábula “A cigarra e a formiga”, qual o sinal de pontuação que preenche CORRETAMENTE a lacuna do texto?

“A cigarra passou o verão cantando, enquanto a formiga juntava seus grãos.

Quando chegou o inverno, a cigarra veio à casa da formiga para pedir que lhe desse o que comer.

A formiga então perguntou a ela:

– E o que é que você fez durante todo o verão \_\_\_\_\_

– Durante o verão eu cantei – disse a cigarra.

E a formiga respondeu:

– Muito bem, pois agora dance.”

- a) !
- b) ;
- c) ?
- d) ,

---

8) O anúncio a seguir faz parte de uma campanha publicitária para estimular a doação de roupas.



O diminutivo “quentinho”, nesse caso, tem valor:

- a) Afetivo.
- b) Pejorativo.
- c) Depreciativo.
- d) Irônico.

---

9) Assinalar a frase em que a flexão de “pão” está INCORRETA:

- a) O freguês comprou uma cesta de pãezinhos.
- b) O pãozinho acabou de sair do forno.
- c) Os pães de ontem foram todos vendidos.
- d) Comi três pães no café da manhã.

---

10) Em relação à pontuação, assinalar a alternativa CORRETA:

- a) Os livros como são fontes de conhecimento, devem ser lidos.
- b) Helena comprou pães café, leite e farinha.
- c) A garota, estava atrasada mas tomou seu café tranquila.
- d) Porto Alegre, 15 de abril de 2009.

---

11) Considerando-se os números 12.594, 9.237 e 8.732, o valor posicional do algarismo 2 nesses números é, respectivamente:

- a) 2.000, 200 e 2.
- b) 200, 20 e 2.
- c) 2.000, 200 e 20.
- d) 2.000, 20 e 2.

---

12) Entre as frações a seguir, assinalar a alternativa que tem como fração reduzida  $\frac{3}{4}$ :

- a)  $\frac{10}{40}$
- b)  $\frac{15}{16}$
- c)  $\frac{35}{12}$
- d)  $\frac{12}{16}$

---

13) Bianca e Carla são amigas e possuem 23 e 26 anos. Assinalar a alternativa que apresenta o número que corresponde ao dobro da soma de suas idades:

- a) 98
- b) 96
- c) 94
- d) 92

---

14) Em um supermercado, uma cozinheira comprou 250g de carne e pagou R\$ 24,00. Ao todo, quanto a cozinheira pagaria se tivesse comprado 1,5 kg?

- a) R\$ 136,00
  - b) R\$ 124,00
  - c) R\$ 138,00
  - d) R\$ 144,00
-

15) Um tanque com capacidade para 3.000 litros de água foi abastecido de modo que foi preenchido até  $\frac{3}{4}$  de sua capacidade máxima. Sendo assim, qual a quantidade total de água, em litros, que foi abastecida nesse tanque?

- a) 2.150
- b) 2.200
- c) 2.250
- d) 2.300

16) Bruno possui 1,68 metro e Alfredo, seu pai, é 20 centímetros mais alto. A soma das alturas de Bruno, Alfredo e de Pedro, o filho mais novo de Alfredo, é igual a 0,00412 quilômetro. Desse modo, assinalar a alternativa que indica CORRETAMENTE a altura de Pedro:

- a) 0,56 centímetro.
- b) 56 centímetros.
- c) 560 centímetros.
- d) 1,56 metro.

17) Sabe-se que a idade de Pedro é o Mínimo Múltiplo Comum dos números 8 e 6. Desse modo, assinalar a alternativa que indica a idade de Pedro:

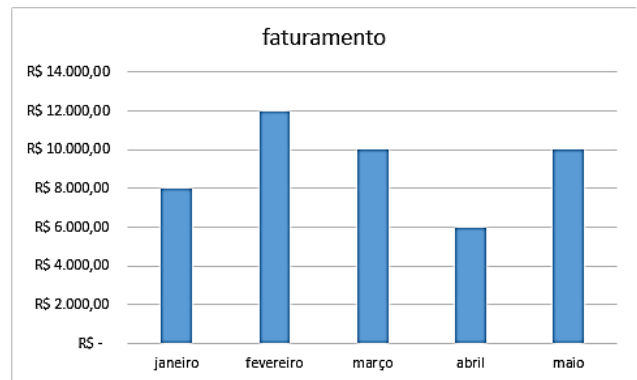
- a) 20 anos.
- b) 22 anos.
- c) 24 anos.
- d) 26 anos.

18) Sabendo-se que a sequência numérica abaixo foi construída a partir de certo padrão, é CORRETO afirmar que o próximo termo da sequência será:

3, 8, 18, 38, 78, ?

- a) 78
- b) 98
- c) 138
- d) 158

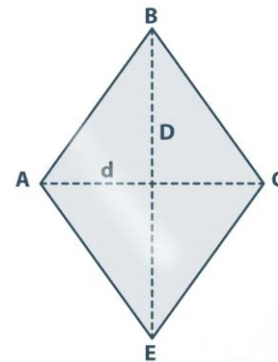
19) O gráfico abaixo registra o faturamento de uma determinada empresa nos meses de janeiro, fevereiro, março, abril e maio:



O valor da maior redução de faturamento foi de:

- a) R\$ 4.000,00, de março para abril.
- b) R\$ 4.000,00, de janeiro para fevereiro.
- c) R\$ 4.000,00, de abril para maio.
- d) R\$ 2.000,00, de fevereiro para março.

20) A imagem a seguir representa um losango. Sua diagonal maior "D" corresponde a 10 metros, e sua diagonal menor "d" é igual a 8 metros. Assinalar a alternativa que apresenta CORRETAMENTE a área deste losango:



- a)  $20m^2$
- b)  $30m^2$
- c)  $35m^2$
- d)  $40m^2$

---

**LEGISLAÇÃO E CONHECIMENTOS**

---

**21)** Considerando-se a Lei Orgânica do Município, sobre o Prefeito, analisar os itens abaixo:

- I. O Prefeito gozará de férias anuais de 60 dias, mediante comunicação à Câmara de Vereadores do período escolhido.
- II. O Prefeito Municipal poderá realizar consultas populares para decidir sobre assuntos de interesses específicos do Município, de bairro ou de distrito, cujas medidas deverão ser tomadas diretamente pela Administração Municipal.
- III. Compete privativamente ao Prefeito vetar projetos de lei ou emendas aprovadas.

Estão CORRETOS:

- a) Somente os itens I e II.
- b) Somente os itens I e III.
- c) Somente os itens II e III.
- d) Todos os itens.

---

**22)** De acordo com a Lei Municipal nº 1.008/1990 — Regime Jurídico dos Servidores Públicos do Município, analisar a sentença abaixo:

*O servidor que, por prescrição legal, deva prestar caução como garantia poderá entrar em exercício sem prévia satisfação dessa exigência (1ª parte). Enquanto não adquirir a estabilidade, poderá o servidor ser exonerado no interesse do serviço público somente nos casos de inassiduidade e falta de dedicação ao serviço (2ª parte).*

A sentença está:

- a) Totalmente incorreta.
- b) Correta somente em sua 1ª parte.
- c) Correta somente em sua 2ª parte.
- d) Totalmente correta.

**23)** Considerando-se a Lei Municipal nº 1.008/1990 — Regime Jurídico dos Servidores Públicos do Município, analisar os itens abaixo:

- I. A promoção, a readaptação e a recondução não interrompem o exercício.
- II. A nomeação em caráter efetivo obedecerá a ordem etária dos candidatos aprovados no concurso público.

- a) Os itens I e II estão corretos.
- b) Somente o item I está correto.
- c) Somente o item II está correto.
- d) Os itens I e II estão incorretos.

---

**24)** Sobre a segurança do trabalho e o equipamento de proteção individual, analisar os itens abaixo:

- I. O equipamento de proteção individual foi concebido e fabricado para oferecer proteção contra os riscos ocupacionais existentes no ambiente de trabalho.
- II. O capacete não é um equipamento de proteção individual.
- III. O protetor auditivo é um equipamento de proteção individual utilizado contra níveis de pressão sonora.

Está(ão) CORRETO(S):

- a) Somente o item I.
- b) Somente os itens II e III.
- c) Somente os itens I e III.
- d) Todos os itens.

---

**25)** Para além do compromisso ético com o bem comum, uma atitude profissional exige, entre outras qualidades:

- I. Imparcialidade.
- II. Objetividade.
- III. Excelência.

Está(ão) CORRETO(S):

- a) Somente o item I.
- b) Somente o item II.
- c) Somente os itens I e III.
- d) Todos os itens.

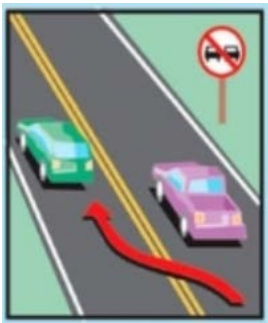
**26)** Com relação à composição do Sistema Nacional de Trânsito, segundo a Lei nº 9.503/1997 — Código de Trânsito Brasileiro, analisar os itens abaixo:

- I. O Conselho Nacional de Trânsito (CONTRAN) é o coordenador do Sistema e órgão máximo normativo e consultivo.
- II. A Polícia Rodoviária Federal não está inserida na composição do Sistema Nacional de Trânsito.
- III. As Juntas Administrativas de Recursos de Infrações (JARI) fazem parte da composição do Sistema Nacional de Trânsito.

Está(ão) CORRETO(S):

- a) Somente o item II.
- b) Somente os Itens I e II.
- c) Somente os itens I e III.
- d) Todos os itens.

**27)** Em uma pista simples, o condutor de um veículo realizou a ultrapassagem indicada na imagem abaixo:



Segundo o Código de Trânsito Brasileiro, essa manobra é:

- a) Permitida.
- b) Proibida, configurando infração de natureza média.
- c) Proibida, configurando infração de natureza grave.
- d) Proibida, configurando infração de natureza gravíssima.

**28)** A sinalização vertical tem a finalidade de fornecer informações que permitam aos usuários das vias adotar comportamentos adequados, de modo a aumentar a segurança, ordenar os fluxos de tráfego e orientar os usuários da via. Assinalar a alternativa que descreve CORRETAMENTE o significado da sinalização abaixo:



- a) Proibido seguir em frente ou virar à esquerda.
- b) Siga em frente ou à esquerda.
- c) Siga em frente ou à direita.
- d) Conserve-se à direita.

**29)** Quando dialogamos sobre as práticas em primeiros socorros, não estamos falando apenas em atendimento médico, mas em todos os procedimentos necessários para que a vida seja preservada. Sobre as ações adequadas ao prestar os primeiros socorros em acidentes de trânsito, analisar os itens abaixo:

- I. O socorrista deve manter a calma e estar consciente sobre suas ações.
- II. O socorrista deve providenciar que a área do acidente seja imediatamente sinalizada para evitar outros sinistros de trânsito.
- III. O socorro especializado deve ser acionado pelo socorrista.

Está(ão) CORRETO(S):

- a) Somente o item I.
- b) Somente o item II.
- c) Somente os itens I e II.
- d) Todos os itens.

**30)** O acostamento é uma parte da via, mas diferenciada da pista de rolamento, destinada à parada ou estacionamento de veículos em situação de emergência. De acordo com as práticas adequadas de direção defensiva, analisar os itens abaixo:

- I. É proibido trafegar com veículos automotores no acostamento, pois isso pode causar acidentes com outros veículos parados.
- II. Os acostamentos são utilizados por pedestres e ciclistas quando não há local apropriado. Portanto, trafegar por essa via pode causar atropelamentos.
- III. Se for necessário parar o veículo no acostamento, o condutor deve sinalizar com o triângulo de segurança e o pisca-alerta.

Está(ão) CORRETO(S):

- a) Todos os itens.
- b) Somente o item I.
- c) Somente o item II.
- d) Somente os itens I e III.