



# enade2022

Exame Nacional de Desempenho dos Estudantes

## CIÊNCIAS CONTÁBEIS

### LEIA COM ATENÇÃO AS INSTRUÇÕES ABAIXO.

1. Verifique se, além deste Caderno, você recebeu o **CARTÃO-RESPOSTA**, destinado à transcrição das respostas das questões de múltipla escolha, das questões discursivas (D) e das questões de percepção da prova.
2. Confira se este Caderno contém as questões discursivas e as objetivas de múltipla escolha, de formação geral e do componente específico da área, e as relativas à sua percepção da prova. As questões estão assim distribuídas:

Partes	Número das questões	Peso das questões no componente	Peso dos componentes no cálculo da nota
Formação Geral: Discursivas	D1 e D2	40%	25%
Formação Geral: Objetivas	01 a 08	60%	
Componente Específico: Discursivas	D3 a D5	15%	75%
Componente Específico: Objetivas	09 a 35	85%	
Questionário de Percepção da Prova	01 a 09	-	-

3. Verifique se a prova está completa e se o seu nome está correto no **CARTÃO-RESPOSTA**. Caso contrário, avise imediatamente ao Chefe de Sala.
4. Assine o **CARTÃO-RESPOSTA** no local apropriado, com caneta esferográfica **de tinta preta, fabricada em material transparente**.
5. As respostas da prova objetiva, da prova discursiva e do questionário de percepção da prova deverão ser transcritas, com caneta esferográfica de tinta preta, fabricada em material transparente, no **CARTÃO-RESPOSTA** que deverá ser entregue ao Chefe de Sala ao término da prova.
6. Responda cada questão discursiva em, no máximo, 15 linhas. Qualquer texto que ultrapasse o espaço destinado à resposta será desconsiderado.
7. A prova terá duração de quatro horas. Lembre-se de reservar um período para transcrição das respostas para o **CARTÃO-RESPOSTA**.
8. Ao terminar a prova, acene para o Chefe de Sala e aguarde-o em sua carteira. Ele então irá proceder à sua identificação, recolher o seu material de prova e coletar a sua assinatura na Lista de Presença.
9. Atenção! Você deverá permanecer na sala de aplicação por, no mínimo, uma hora a partir do início da prova e só poderá levar este Caderno quando faltarem 30 minutos para o término da prova.



# enade2022

## FORMAÇÃO GERAL

### QUESTÃO DISCURSIVA 01

#### TEXTO 1

A Fiocruz é uma instituição de ciência, saúde e educação, vinculada ao Ministério da Saúde, que completou 120 anos. Com várias ações de pesquisa, de desenvolvimento de tecnologias, de produção de vacinas e medicamentos, a Fiocruz se dedica a enfrentar grandes desafios sanitários. Seu trabalho é fundamental para pensarmos em um país com mais justiça e equidade.

Disponível em: <https://www.anped.org.br/News/sbpc-divulga-manifesto-em-defesa-da-educacao-da-ciencia-eda-democracia>. Acesso em: 8 ago. 2022 (adaptado).

#### TEXTO 2

Com a pandemia do novo coronavírus, intensificaram-se as dificuldades e limitações físicas, orçamentárias e estruturais para a pesquisa científica. Durante o período de isolamento social, com o fechamento das salas de aula e dos laboratórios, as universidades, com seus professores, acadêmicos e funcionários, precisaram se reinventar. O fazer ciência é um processo complexo que envolve pesquisadores, acadêmicos, estrutura física, horas de dedicação, testes, erros e acertos. Muitas vezes, é preciso também recomeçar, buscar novas metodologias, olhar o resultado por outro viés e reaprender a ler o que se descobriu. Por tudo isso, a pesquisa não é algo que se faz da noite para o dia, e produzi-la é ainda mais desafiador.

Disponível em: <https://www.upf.br>. Acesso em: 6 jun. 2022 (adaptado).

#### TEXTO 3

A tabela a seguir apresenta a variação do orçamento federal nos anos de 2020 e 2021.

Pasta	Orçamento Federal em 2021 (em bilhões de R\$)	Varição (2020 - 2021)
Agricultura	10,42	- 0,2%
Cidadania	103,9	+ 22,1%
Ciência, Tecnologia e Inovações	8,36	- 28,7%
Defesa	65,33	- 9,8%
Desenvolvimento Regional	10,68	+ 23,6%
Economia	569,49	- 4,6%
Educação	74,56	- 27,1%
Infraestrutura	17,29	- 8,1%
Justiça e Segurança Pública	11,46	- 11,7%
Meio Ambiente	2	- 25,1%
Minas e Energia	8,94	+ 44,2%
Mulher, Família e Direitos Humanos	0,52	+ 44,4%
Relações Exteriores	1,97	- 17,2%
Saúde	136,23	+ 4,8%
Turismo	1,73	- 5,5%

PLOA – PLN 28/2020, com as alterações do Congresso Nacional e Consultoria de Orçamento do Senado Federal. Agência Senado.



Com base nas informações dos textos e da tabela apresentados e considerando o contexto da pandemia de Covid-19, faça o que se pede nos itens a seguir.

- a) Discuta por que os investimentos públicos em educação, ciência, tecnologia e inovação são estratégicos e contribuem para o desenvolvimento científico de um país. (valor: 5,0 pontos)
- b) Explique como o fomento público ao desenvolvimento científico pode atender à justiça social e à equidade, em contextos como o da pandemia de Covid-19. (valor: 5,0 pontos)

RASCUNHO	
1	
2	
3	
4	
5	
6	
7	
8	
9	
10	
11	
12	
13	
14	
15	

Área livre



**QUESTÃO DISCURSIVA 02**

O patriarcado (ou dominação masculina) é composto por diferentes estruturas que se conectam na reprodução das desvantagens e da vulnerabilidade das mulheres nas sociedades contemporâneas. A violência sexual é uma delas; a exclusão política é outra. Embora essas não esgotem todas as estruturas de dominação, são elas que, em conjunto com a divisão sexual do trabalho, são mais determinantes. Ambas se alimentam e, ao mesmo tempo, ativam estereótipos de gênero em que o feminino convencional está associado à domesticidade e à aceitação, pelas mulheres, da autoridade masculina.

Algumas farsas ocupam papel importante na justificação da violência contra as mulheres, tanto na violência da exclusão política quanto na sexual. Uma dessas farsas é a de que as mulheres não se interessam pela política. Nesse sentido, estaríamos diante da autoexclusão. A outra é que as mulheres seriam as culpadas pela violência sexual que sofrem sistematicamente. Aqui, o problema seria que elas estão onde não deveriam estar, se vestem como não deveriam, isto é, se comportam *como se fossem* livres.

BIROLI, F. **Mulheres, política e violência**. Disponível em: <https://blogdaboitempo.com.br>. Acesso em: 18 jul. 2022 (adaptado).

Com base no texto apresentado, faça o que se pede nos itens a seguir.

- a) Discorra sobre a relação entre o patriarcado estrutural e a desigualdade entre homens e mulheres. (valor: 5,0 pontos)
- b) Proponha duas ações do Estado para o enfrentamento dos diferentes tipos de violência contra a mulher. (valor: 5,0 pontos)

RASCUNHO	
1	
2	
3	
4	
5	
6	
7	
8	
9	
10	
11	
12	
13	
14	
15	

QUESTÃO 01

TEXTO 1

A democracia representativa exige, para o seu funcionamento, um conjunto de características, as quais podem ser compreendidas como instituições. São elas: Funcionários eleitos; Eleições livres, justas e frequentes; Sufrágio inclusivo; Direito de concorrer a cargos eletivos; Liberdade de expressão; Fontes de informação diversificadas; Autonomia para as associações. Entre as categorias mencionadas, destacam-se duas como pilares do regime democrático.

**Liberdade de expressão:** os cidadãos têm o direito de se expressar, sem o perigo de punições severas, quanto aos assuntos políticos de uma forma geral, o que inclui a liberdade de criticar os funcionários do governo, o governo em si, o regime, a ordem socioeconômica e a ideologia dominante.

**Fontes de informação diversificadas:** os cidadãos têm o direito de buscar fontes de informação, alternativas, diversificadas e independentes. Ademais, a existência de fontes de informação alternativa deve ser protegida por lei.

DAHL, R. A. *Sobre a democracia*, EDU: UnB, 2001 (adaptado).

TEXTO 2

Embora os regimes políticos possam ser derrubados e as ideologias criticadas e destituídas de sua legitimidade, por trás de um regime e de sua ideologia há sempre um modo de pensar e de sentir, uma série de hábitos culturais, uma nebulosa de instintos obscuros e de pulsões insondáveis.

ECO, U. *O Fascismo Eterno*. In: *Cinco Escritos Morais*. Editora Record: Rio de Janeiro, 2002 (adaptado).

TEXTO 3

A figura a seguir exemplifica algumas condutas que, segundo Umberto Eco, podem ser consideradas contraditórias aos princípios democráticos.



Disponível em: <https://www.facebook.com/EditoraRecord/photos>. Acesso em: 18 ago. 2022 (adaptado).

Com base na concepção de regimes políticos, abordada pelos autores, avalie as afirmações a seguir.

- I. A democracia é o sistema que se propõe a assegurar aos seus cidadãos uma liberdade pessoal mais ampla do que outros modelos.
- II. A liberdade de expressão no sistema democrático garante que a manifestação de um agente político e de um cidadão possuam repercussões equivalentes.
- III. As *fake news* são manifestações relacionadas à categoria de fontes de informação diversificadas e podem ser utilizadas como estratégia para fragilizar o sistema democrático de governo.
- IV. O direito à liberdade de expressão permite a emissão de opinião crítica e discursos contrários à democracia e aos direitos humanos.

É correto apenas o que se afirma em

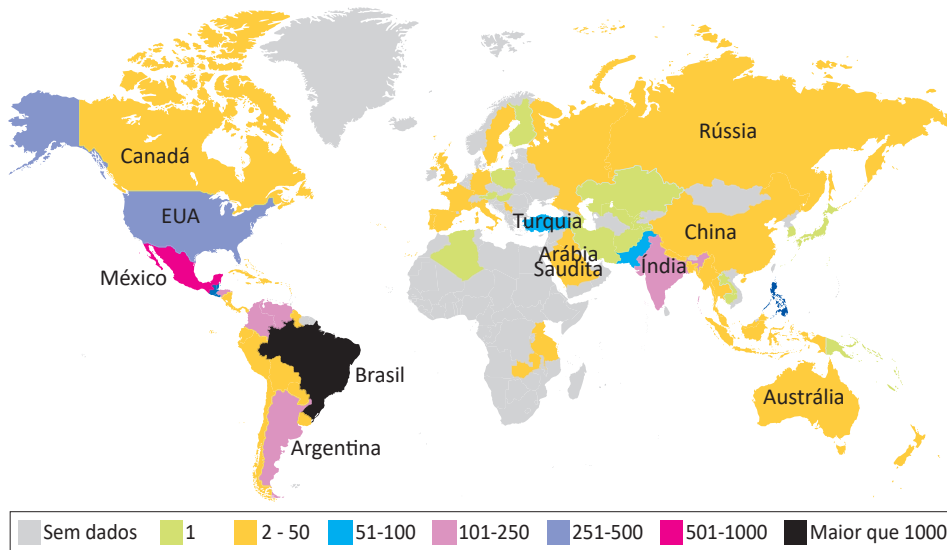
- A I e II.
- B I e III.
- C II e IV.
- D I, III e IV.
- E II, III e IV.

QUESTÃO 02

TEXTO 1

Dados do levantamento feito pelo *TransgenderEurope* (TGEU) mostram que o Brasil permaneceu pelo 13º ano consecutivo como o país que mais mata pessoas transgêneros.

Mortes de Transgêneros - Por Países de 2008 a 2021 (Números Absolutos)

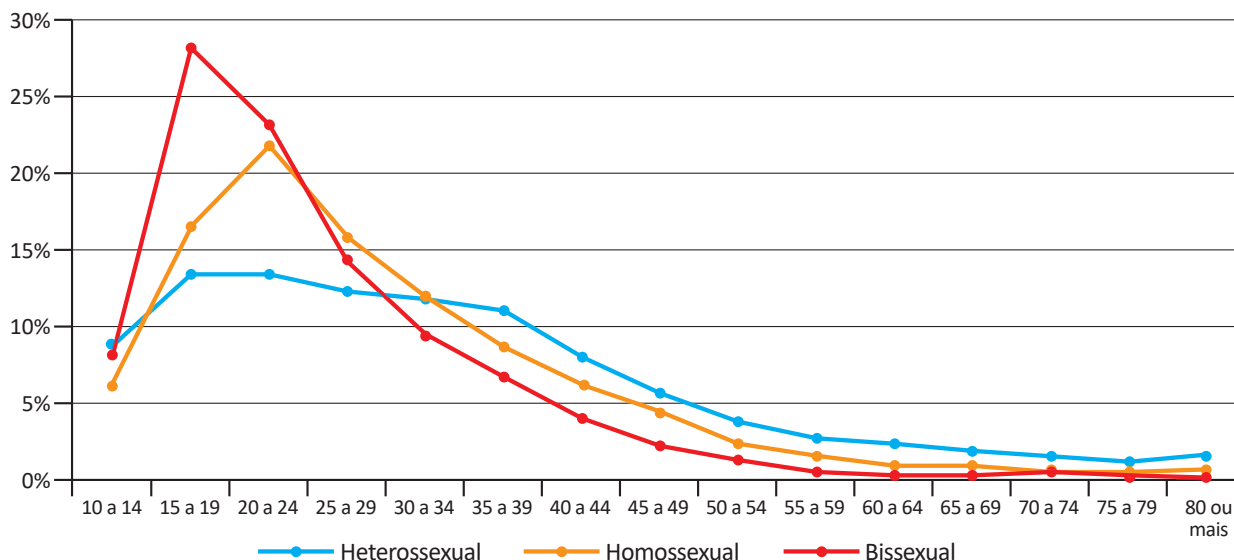


TRANSGENDER EUROPE (TGEU). Disponível em: <https://transrespect.org>. Acesso em: 5 jul. 2022 (adaptado).

TEXTO 2

De acordo com dados do Sistema de Informação de Agravos de Notificação (Sinan), do Ministério da Saúde, houve um crescimento bruto de 5% nas violências contra homossexuais e 37,1% nas violências contra bissexuais, passando de 4 855 registros em 2018 para 5 330 em 2019. No gráfico a seguir são apresentados os dados percentuais de casos notificados em 2019, de acordo com a orientação sexual das vítimas de violência.

Brasil: Perfil de Pessoas Homossexuais e Bissexuais Vítimas de Violência, por Orientação Sexual, por Faixa Etária (2019)



CERQUEIRA, D. et al. *Atlas da Violência 2021*. São Paulo: FBSP/IPEA, 2021.

Considerando as informações apresentadas no mapa e no gráfico, bem como a situação social dos grupos LGBTQIAPN+, avalie as afirmações a seguir.

- I. Os discursos e as práticas contra a diversidade sexual e de gênero são incompatíveis com as premissas éticas e dos direitos humanos que regem as sociedades democráticas.
- II. A violência contra os grupos LGBTQIAPN+ é histórica, simbólica, psicológica e física, ocorrendo em razão de estereótipos e estigmas vigentes na sociedade e por meio de repressões e abusos.
- III. A partir dos 40 anos de idade, há uma maior incidência de violência sobre pessoas heterossexuais em relação aos outros grupos, o que indica que a vulnerabilidade independe da orientação sexual.
- IV. O Brasil é o país onde se identifica o maior número de mortes de pessoas *trans* entre os países analisados, situação que revela a necessidade de uma política pública mais assertiva de combate aos crimes cometidos contra os grupos LGBTQIAPN+.

É correto apenas o que se afirma em

- A** I e III.
- B** I e IV.
- C** II e III.
- D** I, II e IV.
- E** II, III e IV.

### QUESTÃO 03

Em 2019, a violência armada foi três vezes maior para a população negra, em comparação com a não negra, tanto para a população geral quanto para o grupo jovem (entre 15 e 29 anos de idade). Quanto à taxa de mortalidade por 100 mil habitantes no grupo de pessoas com até 14 anos de idade, destaca-se, da mesma forma, a desigualdade na vitimização de crianças e adolescentes negros por agressão com arma de fogo, com taxa 3,6 vezes maior do que a de não negros em 2019.

INSTITUTO SOU DA PAZ. **Violência armada e racismo:** o papel da arma de fogo na desigualdade racial. Disponível em: <https://soudapaz.org>. Acesso em: 6 jul. 2022 (adaptado).

Considerando as informações apresentadas, avalie as asserções a seguir e a relação proposta entre elas.

- I. O fator racial é um importante condicionante na análise de dados relativos a homicídios e violência no Brasil na população de adolescentes e jovens.

#### PORQUE

- II. A população negra sofre mais violência do que a população não negra, em razão do racismo estrutural existente no país, além de outras vulnerabilidades sociais associadas a essa forma de preconceito.

A respeito dessas asserções, assinale a opção correta.

- A** As asserções I e II são proposições verdadeiras, e a II é uma justificativa correta da I.
- B** As asserções I e II são proposições verdadeiras, mas a II não é uma justificativa correta da I.
- C** A asserção I é uma proposição verdadeira, e a II é uma proposição falsa.
- D** A asserção I é uma proposição falsa, e a II é uma proposição verdadeira.
- E** As asserções I e II são proposições falsas.

QUESTÃO 04



Foto: Renato Soares. Disponível em: <http://conexaoplaneta.com.br>. Acesso em: 22 ago. 2022 (adaptada).

**TEXTO 1**

Além de tramitar no Judiciário um processo a respeito do Marco Temporal, há também, na Câmara dos Deputados, um projeto em que se tenta transformar a tese do Marco Temporal em lei. Trata-se do Projeto de Lei n. 490/2007, que determina que devem ter direito às terras consideradas ancestrais somente os povos que as estivessem ocupando no dia da promulgação da Constituição Federal, em 5 de outubro de 1988.

Disponível em: <https://g1.globo.com>. Acesso em: 21 jun. 2022 (adaptado).

**TEXTO 2**

O assassinato do indigenista Bruno Pereira e do jornalista Dom Phillips expôs ao mundo a importância da demarcação dos territórios indígenas, assegurada pela Constituição Federal de 1988. Os territórios indígenas, além de preservarem identidades, modos de vida, tradições e culturas desses povos, também são fundamentais para a preservação ambiental. Eles contribuem para conter as emissões de gases de efeito estufa, promover a biodiversidade e potencializar sistemas.

Se mantido o critério do Marco Temporal, a guerra fundiária poderá ser intensificada. Os territórios se tornarão zonas de mais conflitos entre fazendeiros, mineradores, garimpeiros, grileiros, produtores rurais, narcotraficantes, comerciantes de peixes, caçadores e madeireiros, o que resultará na morte de indígenas e de defensores da floresta e, por extensão, dos territórios indígenas.



Com base nos textos e na imagem apresentados, avalie as afirmações a seguir.

- I. Os territórios indígenas, com a regulamentação do Marco Temporal, ficarão formalmente protegidos de invasões, e os povos originários poderão manter suas tradições culturais.
- II. As ações de grupos de garimpeiros, de pescadores ilegais, de desmatadores e de alguns setores das atividades agropecuárias vêm confrontando os povos originários em disputas territoriais.
- III. O aumento da criminalidade nos territórios indígenas está associado aos interesses econômicos de exploração insustentável do meio ambiente, como os relacionados aos garimpos ilegais e ao desmatamento de florestas.
- IV. A existência dos movimentos sociais indígenas é essencial para a luta por direitos sociais, culturais e de acesso à terra pelos povos originários, assim como para a preservação do meio ambiente e do modo de vida dos indígenas.
- V. O Estado brasileiro está impedido de intervir nas demarcações de territórios indígenas, em respeito à autonomia, à autogestão e à livre determinação dos povos originários, segundo a Constituição Federal de 1988.

É correto apenas o que se afirma em

- A** I e V.
- B** I, III e V.
- C** II, III e IV.
- D** II, IV e V.
- E** I, II, III e IV.

#### QUESTÃO 05

Pesquisa realizada pelo Observatório Brasileiro de Políticas Públicas da Universidade Federal de Minas Gerais (UFMG) aponta que a população em situação de rua aumentou no Brasil em 2022. De janeiro a maio deste ano, mais de 26 mil novas pessoas nessa situação foram registradas no Cadastro Único (CadÚnico) do Governo Federal. No país, mais de 180 mil pessoas estão registradas no CadÚnico.

Disponível em: <https://g1.globo.com>. Acesso em: 6 jul. 2022 (adaptado).

Considerando as informações apresentadas, avalie as asserções a seguir e a relação proposta entre elas.

- I. A existência de pessoas em situação de rua no Brasil deriva, sobretudo, das desigualdades sociais oriundas da pandemia de Covid-19.

#### PORQUE

- II. Um dos efeitos da pandemia de Covid-19 foi a ampliação do número de pessoas em situação de rua no Brasil, o que evidencia a segregação socioespacial das cidades brasileiras.

A respeito dessas asserções, assinale a opção correta.

- A** As asserções I e II são proposições verdadeiras, e a II é uma justificativa correta da I.
- B** As asserções I e II são proposições verdadeiras, mas a II não é uma justificativa correta da I.
- C** A asserção I é uma proposição verdadeira, e a II é uma proposição falsa.
- D** A asserção I é uma proposição falsa, e a II é uma proposição verdadeira.
- E** As asserções I e II são proposições falsas.

QUESTÃO 06

Ao final de 2021, cerca de 89,3 milhões de pessoas estavam deslocadas em todo o mundo, em decorrência de violência, perseguições, violações dos direitos humanos ou outros conflitos em seus locais de origem. Esse contingente de deslocamentos forçados já alcançava mais de 100 milhões de pessoas em maio de 2022, sendo motivados por instabilidades como as ocorridas no Afeganistão, em alguns países africanos e nas regiões da Ucrânia ocupadas pela Rússia, além de outros locais onde já perduravam confrontos armados, como, por exemplo, na Síria.

Disponível em: <https://www.acnur.org>. Acesso em: 21 jun. 2022 (adaptado).



Disponível em: <https://operamundi.uol.com.br>. Acesso em 24 de jun. de 2022.

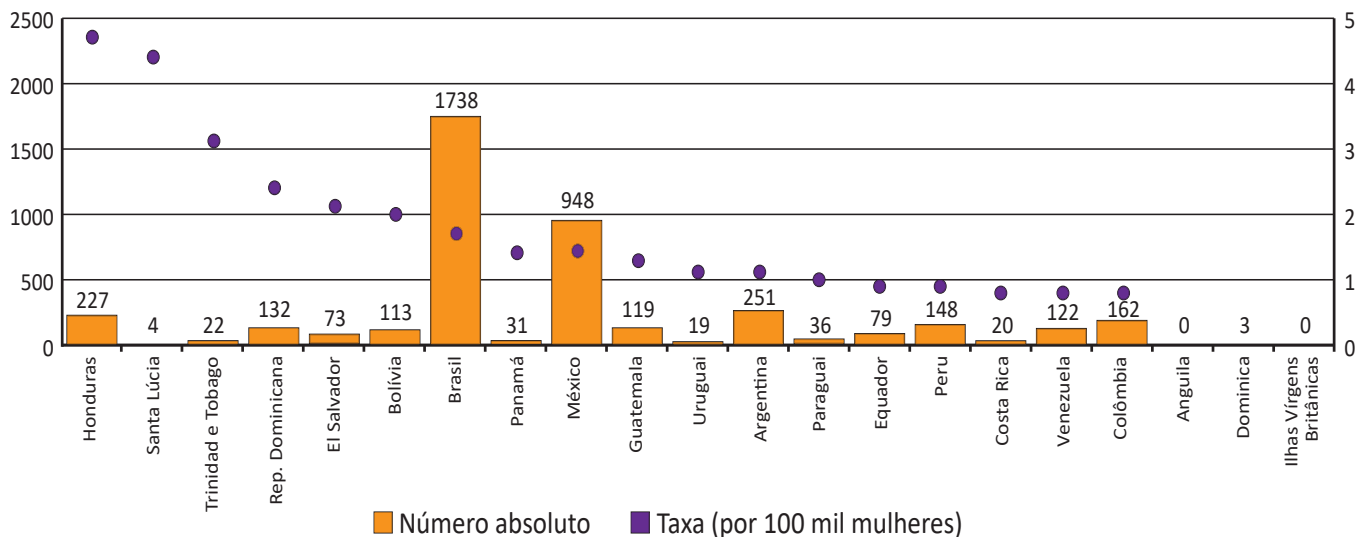
Com relação às atuais migrações internacionais forçadas, assinale a opção correta.

- A** Os interesses em relação ao tipo de tratamento dispensado aos imigrantes no mundo independem de seus países de origem.
- B** A xenofobia, que consiste no preconceito contra estrangeiros, deve-se à falta de normas internacionais para o tratamento de situações de imigração.
- C** Os refugiados são migrantes de países subdesenvolvidos que se deslocam para países centrais do capitalismo global a fim de servir de mão de obra barata.
- D** As migrações internacionais forçadas surgem da globalização econômica, cujos processos são responsáveis pelo aumento do número de refugiados no mundo.
- E** A condição de migrante internacional forçado diferencia-se da condição geral de imigrante na medida em que se refere ao deslocamento motivado por fatores involuntários, que fogem ao controle do migrante e de sua família.

QUESTÃO 07

TEXTO 1

**América Latina, Caribe (21 países): Femicídio ou feminicídio (2021)**  
**(Em números absolutos e taxas por 100 mil mulheres)**



Disponível em: <https://olg.cepal.org>. Acesso em: 20 abr. 2022.

TEXTO 2

Resultados de pesquisa da Comissão Econômica para a América Latina e o Caribe (CEPAL), vinculada à Organização das Nações Unidas (ONU), apontam que, além do feminicídio íntimo, aquele perpetrado por parceiros ou ex-parceiros da vítima, e do feminicídio sexual sistêmico, em que a vítima é sequestrada e estuprada, há o feminicídio lesbofóbico ou bifóbico, configurado quando a vítima é bissexual ou lésbica e é assassinada porque o agressor entende que deve puni-la por sua orientação sexual.

Disponível em: <http://agenciabrasil.ebc.com.br>. Acesso em: 22 ago. 2022 (adaptado).

A partir do gráfico e das informações do texto, assinale a opção correta.

- A** O gráfico apresentado ranqueia os países a partir de um cálculo de proporção e, nessa perspectiva, Santa Lúcia apresenta uma das taxas mais baixas de feminicídio na região.
- B** As políticas públicas voltadas às mulheres partem do pressuposto de que elas devem ser as principais responsáveis por sua própria segurança, evitando comportamentos de risco.
- C** Os países da América Latina que apresentam as maiores taxas de ocorrência de feminicídios a cada 100 mil mulheres, de acordo com o gráfico apresentado, são Brasil, México e Argentina.
- D** As formas de violência que afetam as mulheres são determinadas não somente pela condição sexual e de gênero, mas também por diferenças econômicas, etárias, raciais, culturais e religiosas.
- E** O número relativo a cada 100 mil mulheres vítimas de feminicídio no Brasil explica a posição elevada do país no ranking, diferentemente de Honduras, que registra, relativamente, menos ocorrências que o Brasil.

## QUESTÃO 08



Grafite: Eduardo Kobra. Foto: Charles Humpreys. São Paulo. Disponível em: <https://www.bbc.com>. Acesso em: 22 ago. 2022.

Inicialmente, a natureza transgressora do grafite foi encarada pelo Estado como vandalismo no espaço público e como um perigo para a conservação da propriedade privada, devendo-se, portanto, combatê-lo. Com o tempo, contudo, essa concepção marginal transformou-se, incidindo em uma valorização aceitável pelo Estado e positiva para a sociedade. Essa transição do grafite, de arte marginal para manifestação artística reconhecida e aceita, tem revelado aspectos importantes não somente para os profissionais do grafite, mas para a sociedade como um todo, pois incorpora a possibilidade de ele ser um produto artístico de valor cultural, econômico e ideológico.

PIRES, E. M.; SANTOS, F. A. A cidade de São Paulo e suas dinâmicas: graffiti, Lei Cidade Limpa e publicidade urbana. *Anais do Museu Paulista: História e Cultura Material*. v. 26, São Paulo, 2018 (adaptado).

Considerando-se o texto e a imagem apresentados, é correto afirmar que o grafite consiste em uma

- A** expressão popular associada à contestação e, por isso, não é reconhecido como arte.
- B** expressão convencional de hierarquias consolidadas ao longo do tempo e ainda presentes na sociedade.
- C** expressão cultural que problematiza os valores e as relações da sociedade com os espaços onde é produzida.
- D** intervenção urbana que traz prejuízos para a sociedade porque gera conflitos latentes entre diferentes classes sociais.
- E** intervenção estética realizada com o propósito de embelezamento padronizado dos espaços urbanos pelo uso de cores intensas e contrastantes.



COMPONENTE ESPECÍFICO

QUESTÃO DISCURSIVA 03

A Interbrand (Capital global de marcas) divulgou em outubro de 2021 o ranking que lista as 100 marcas com maior valor de mercado no mundo, o Best Global Brands 2021. O valor total da lista, que contempla 100 marcas, subiu para US\$ 2.6 trilhões (aumento de 15% na comparação com 2020). Segundo o CEO da Interbrand no Brasil, essa foi a maior taxa de crescimento nos últimos 22 anos do ranking Best Global Brands. O setor de tecnologia foi o maior responsável por esse crescimento, o que também o coloca como o setor mais valioso pelo valor médio das marcas, seguido por bebidas e artigos esportivos.

Disponível em: <https://www.abap.com.br/interbrand-divulga-as-marcas-mais-valiosas-de-2021>. Acesso em: 23 ago. 2022 (adaptado).

As marcas representam importantes elementos, por vezes o mais importante, para as empresas e seus negócios ao redor do mundo. No contexto das demonstrações financeiras, porém, para se reconhecer e mensurar uma marca, a empresa deve atentar ao que ditam as normas NBC TG – *Estrutura Conceitual* e NBC TG 04 (R4) – *Ativos Intangíveis*.

Com base nestas considerações e de acordo com o que determinam as normas citadas, faça o que se pede nos itens a seguir.

- a) Discorra sobre uma razão pela qual a marca da empresa pode ser considerada um ativo. (valor: 4,0 pontos)
- b) Embora empresas como a Interbrand divulguem os valores de marcas mundialmente reconhecidas, nem sempre tais valores estão refletidos nas demonstrações financeiras. Argumente sobre critérios técnicos que impedem uma empresa de realizar o reconhecimento contábil da marca gerada internamente pelo valor divulgado por rankings, como o da Interbrand. (valor: 6,0 pontos)

RASCUNHO	
1	
2	
3	
4	
5	
6	
7	
8	
9	
10	
11	
12	
13	
14	
15	

**QUESTÃO DISCURSIVA 04**

Os valores que devem fazer parte da apuração do custo de bens, produtos, serviços ou atividades estão associados aos custos diretos e variáveis e indiretos e fixos. No método de custeamento por absorção, são utilizados todos os custos, sejam eles diretos ou indiretos, fixos ou variáveis, para apuração do custo unitário do produto e serviços finais. Nesse método, quanto aos gastos indiretos fixos, que, por sua particularidade, não são identificáveis nos produtos e serviços finais, há a exigência de mecanismos que realizem a distribuição desses gastos aos produtos por meio de algum parâmetro de rateio a ser fixado. Um atributo importante do custeio por absorção é a valorização dos estoques industriais que deve obedecer aos critérios determinados pelas Normas Brasileiras de Contabilidade.

PADOVEZE, C. L. **Contabilidade de custos**: teoria, prática, integração com sistemas de informações (ERP). São Paulo: Cengage Learning, 2015 (adaptado).

Para vender o produto A e o produto B, uma empresa de confecção apresenta as seguintes informações dos seus gastos e operações.

Informações dos produtos	Produto A	Produto B
Matéria-prima necessária (por unidade)	2 metros a R\$ 5,00 cada metro	1,5 metros a R\$ 8,00 o metro
Tempo necessário de mão de obra direta para produzir (por unidade)	2 horas a R\$ 20,00 por hora	2 horas a R\$ 24,00 por hora
Preço de venda	R\$ 120 por unidade	R\$ 110 por unidade
Quantidade produzida	100 unidades	150 unidades
Quantidade vendida	90 unidades	120 unidades

Outras informações do período	
<b>Custos indiretos no período</b>	
Salários dos departamentos de apoio à produção	R\$ 1 000
Gastos dos departamentos de apoio à produção	R\$ 500
<b>Outros gastos consumidos</b>	
Salários do departamento administrativo	R\$ 4 000
Gastos com o departamento comercial	R\$ 2 000
Comissões (% sobre a venda de cada produto)	10%

A base de rateio para os custos indiretos será a quantidade produzida de cada produto.

Considerando os dados apresentados e utilizando o custeio por absorção, faça o que se pede nos itens a seguir.

- Apresente o custo de produção unitário dos produtos A e B. (valor: 4,0 pontos)
- Apresente o custo de produção do período para a empresa como um todo (não é necessário demonstrar por produto). (valor: 1,0 ponto)
- Apresente o valor do estoque de produtos acabados dos produtos A e B ao final do período. (valor: 2,0 pontos)
- Apresente a demonstração do resultado do período para a empresa como um todo (não é necessário demonstrar por produto). (valor: 3,0 pontos)



RASCUNHO	
1	
2	
3	
4	
5	
6	
7	
8	
9	
10	
11	
12	
13	
14	
15	

Área livre





**QUESTÃO DISCURSIVA 05**

O Relato Integrado focaliza a capacidade que a organização tem de gerar valor a curto, médio e longo prazo. O pensamento integrado considera a conectividade e a interdependência entre uma gama de fatores que afetam a capacidade de uma organização gerar valor ao longo do tempo, incluindo:

- os capitais utilizados ou afetados pela organização, bem como as interdependências críticas, inclusive as compensações (*trade-offs*) entre elas;
- a capacidade da organização de atender aos legítimos interesses e necessidades das principais partes interessadas (*stakeholders*);
- a forma como a organização ajusta seu modelo de negócios e sua estratégia ao seu ambiente externo, às oportunidades e aos riscos enfrentados;
- as atividades, o desempenho (financeiro e outros) e os resultados da organização em termos de capitais — passados, presentes e futuros.

Quanto mais esse pensamento integrado estiver enraizado nas atividades da organização, mais naturalmente a conectividade de informações fluirá para o relato corporativo, a análise e a tomada de decisões. Além disso, ele leva a uma melhor integração dos sistemas de informação que apoiam o relato e a comunicação interna e externa, incluindo a elaboração do Relato Integrado.

OCPC 9. Relato Integrado (2021). Disponível em: <http://static.cpc.aatb.com.br>. Acesso em: 13 jun. 2022 (adaptado).

Com base nas informações do texto e no que estabelece a OCPC 9 (2021), que considera o conjunto de capitais (capital financeiro, manufaturado, intelectual, humano, social e de relacionamento, natural/ambiental), escolha e conceitue quatro dos capitais que devem ser evidenciados pelas organizações no Relato Integrado ou no Relatório de Sustentabilidade. (valor: 10,0 pontos)

RASCUNHO	
1	
2	
3	
4	
5	
6	
7	
8	
9	
10	
11	
12	
13	
14	
15	



**QUESTÃO 09**

A contabilidade de custos deve ser apurada tanto nas empresas privadas quanto nas públicas. Dessa forma, sabendo-se que o estoque final de produtos acabados corresponde ao valor de R\$ 400,00 e que o ICMS recuperável sobre compras é de 20%, considere os dados abaixo para apurar os custos devidos.

EMPRESA RELEVANTE S.A.	
INFORMAÇÕES	VALOR
Estoque inicial de materiais diretos	R\$ 700,00
Estoque final de materiais diretos	R\$ 600,00
Estoque inicial de produtos em elaboração	R\$ 650,00
Estoque final de produtos em elaboração	R\$ 550,00
Mão de obra direta utilizada na produção de bens	R\$ 950,00
Custos indiretos de produção	R\$ 800,00
Compras de matéria-prima	R\$ 1 900,00
Estoque inicial de produtos acabados	R\$ 500,00
Venda de 90% do total disponível de produtos acabados	R\$ 4 600,00

A partir da apuração de custos realizada na empresa Relevante S.A., assinale a opção correta.

- A** O custo de produção do período (CPP) é de R\$ 3 370,00 e o custo do produto vendido (CPV) é de R\$ 3 570,00.
- B** O custo de produção do período (CPP) é de R\$ 3 750,00 e o custo do produto vendido (CPV) é de R\$ 4 330,00.
- C** O material direto consumido (MDC) é de R\$ 2 000,00 e o custo do produto vendido (CPV) é de R\$ 4 330,00.
- D** O custo total de produção (CTP) é de R\$ 4 780,00 e o custo de produção acabada (CPA) é de R\$ 4 230,00.
- E** O material direto consumido (MDC) é de R\$ 2 980,00 e o custo total de produção (CTP) é de R\$ 4 020,00.

**Área livre**



## QUESTÃO 10

A empresa Gama Locadora de Veículos está localizada próximo ao principal aeroporto de uma grande cidade brasileira. Atualmente, a empresa possui uma frota de 50 veículos, o que permite um volume anual de 18 000 diárias de locação.

<b>Preço da diária (líquido de impostos)</b>	R\$ 125,00
<b>Despesas variáveis (diária)</b>	R\$ 25,00
<b>Custo variável (diária)</b>	R\$ 75,00
<b>Custos fixos (ano)</b>	R\$ 250 000,00
<b>Despesas fixas (ano)</b>	R\$ 50 000,00

A partir dos dados apresentados, assinale a opção que apresenta a Margem de Segurança Operacional (MSO) em Receita, considerando uma locação de 80% da frota.

- A** R\$ 250 000,00.
- B** R\$ 300 000,00.
- C** R\$ 350 000,00.
- D** R\$ 750 000,00.
- E** R\$ 1 050 000,00.

Área livre

**QUESTÃO 11**

Uma empresa não conseguirá atender todos os pedidos de seus clientes em decorrência de uma restrição em sua produção. A empresa utiliza uma mesma matéria-prima em todos os seus produtos. A matéria-prima disponível no mercado não é suficiente para produzir todas as encomendas recebidas.

O quadro a seguir apresenta os dados extraídos da contabilidade de custos:

Produtos	Pedidos de vendas (unidades)	Margem de contribuição unitária	Matéria-prima por unidade produzida (kg/unidade)
P1	2 000	R\$ 300,00	50
P2	1 000	R\$ 500,00	25
P3	3 000	R\$ 100,00	20
P4	5 000	R\$ 200,00	25
P5	4 000	R\$ 400,00	40

Considerando a restrição de aquisição e consumo da matéria-prima, a não obrigatoriedade em produzir a totalidade de unidades dos pedidos de venda e o interesse em maximizar os lucros, assinale a opção que apresenta a prioridade de produção que deve ser adotada pela empresa.

- A** P1, P2, P4, P5, P3.
- B** P2, P1, P4, P3, P5.
- C** P2, P5, P1, P4, P3.
- D** P2, P5, P4, P1, P3.
- E** P4, P5, P3, P1, P2.

**Área livre**



## QUESTÃO 12

A perícia contábil é o conjunto de procedimentos técnico-científicos destinados a levar à instância decisória elementos de prova necessários a subsidiar a justa solução do litígio ou constatação de fato, mediante laudo pericial contábil e/ou parecer pericial contábil, em conformidade com as normas jurídicas e profissionais pertinentes com a legislação específica.

Norma Brasileira de Contabilidade NBC TP 01 (R1) – Norma Técnica de Perícia Contábil. Disponível em: <https://cfc.org.br>. Acesso em: 21 jul. 2022.

Considerando as regras e procedimentos técnicos que devem ser observados pelo perito contábil, avalie as afirmações a seguir.

- I. O laudo pericial contábil e o parecer pericial contábil têm por limite os próprios objetivos da perícia deferida ou contratada.
- II. A perícia judicial é aquela exercida sob a tutela do Conselho Federal de Contabilidade; enquanto a perícia extrajudicial é aquela exercida no âmbito arbitral, estatal ou voluntária.
- III. Os procedimentos de perícia contábil visam fundamentar as conclusões que serão levadas ao laudo pericial contábil ou parecer pericial contábil, e abrangem, total ou parcialmente: exame, vistoria, indagação, investigação, arbitramento, mensuração, avaliação e certificação.
- IV. O perito-contador, enquanto estiver de posse do processo ou de documentos, deve zelar pela sua guarda e segurança, e para a execução da perícia contábil, deve ater-se ao prazo de 90 dias para a execução dos objetivos da perícia realizada.
- V. A perícia contábil, tanto a judicial como a extrajudicial, é de competência exclusiva de contador registrado em Conselho Regional de Contabilidade.

É correto apenas o que se afirma em

- A** I, II e III.
- B** I, II e IV.
- C** I, III e V.
- D** II, IV e V.
- E** III, IV e V.

## QUESTÃO 13

A NBC TA 200 versa sobre os objetivos gerais do auditor independente e sobre a condução da auditoria, em conformidade com as normas de auditoria. A NBC TA 500, que versa sobre evidência de auditoria, demonstra que os auditores deverão realizar testes de controle, que são definidos para avaliar a eficácia operacional dos controles na prevenção, detecção e correção de distorções relevantes.

Considerando o cumprimento dos objetivos da auditoria e os diferentes tipos de riscos que a envolve, assinale a opção correta.

- A** Risco de auditoria é o risco de que as demonstrações contábeis contenham distorções relevantes antes da auditoria.
- B** Risco de controle é o risco de que o auditor expresse uma opinião de auditoria inadequada quando as demonstrações contábeis contiverem distorções relevantes.
- C** Risco de detecção é o risco de que o auditor possua uma postura com uma mente questionadora e alerta para condições que possam indicar possível distorção, devido a erro ou fraude, e uma avaliação crítica das evidências de auditoria.
- D** Risco inerente é a suscetibilidade de uma afirmação a respeito de uma transação, saldo contábil ou divulgação, a uma distorção que possa ser relevante, individualmente ou em conjunto com outras distorções, antes da consideração de quaisquer controles relacionados.
- E** Risco de distorção relevante é o risco de que uma distorção que possa ocorrer em uma afirmação sobre uma classe de transação, saldo contábil ou divulgação e que possa ser relevante, individualmente ou em conjunto com outras distorções, não seja prevenida, detectada e corrigida tempestivamente pelo controle interno da entidade.

**QUESTÃO 14**

Uma empresa comercial, que acabou de iniciar as suas atividades, adquiriu as primeiras mercadorias para o seu estoque, com o intuito de revenda, pelo valor total de R\$ 750 000,00. A compra foi realizada na data de 01/06/2022, com prazo de pagamento de 15 meses, ou seja, com vencimento em 01/09/2023. A taxa de juros praticada pelo fornecedor é de 2,6044% ao mês e se as mercadorias tivessem sido adquiridas com pagamento à vista, o valor da aquisição seria de R\$ 510 000,00. Para que as mercadorias estivessem disponíveis em seu estoque, a empresa ficou responsável pelo pagamento de R\$ 15 000,00 de frete, realizado no dia 02/06/2022, em moeda corrente do país. Em 03/06/2022, a empresa realizou a sua primeira venda de mercadorias, a qual representou 80% do total de seu estoque, pelo valor de R\$ 630 000,00, com prazo de recebimento de 13 meses, ou seja, para o dia 03/07/2023. A taxa de juros aplicada pela empresa é de 1,2111% ao mês e se as mercadorias tivessem sido vendidas com recebimento à vista, o seu valor seria de R\$ 545 000,00.

Considerando as informações acima descritas, a NBC TG 12 – *Ajuste a Valor Presente*, a NBC TG 16 (R2) – *Estoques*, a NBC TG 47 – *Receita de Contrato com Cliente* e desconsiderando os efeitos tributários, assinale a opção que apresenta o valor do resultado bruto apurado pela empresa no mês de junho de 2022.

- A** R\$ 18 000,00.
- B** R\$ 122 000,00.
- C** R\$ 125 000,00.
- D** R\$ 126 800,00.
- E** R\$ 210 000,00.

**QUESTÃO 15**

A NBC PG 01, que trata do Código de Ética Profissional do Contador, tem por objetivo fixar a conduta do contador no exercício da sua atividade e nos assuntos relacionados à profissão e à classe. O profissional de contabilidade deve seguir os preceitos estabelecidos nessa norma, nas demais Normas Brasileiras de Contabilidade e na legislação vigente.

Disponível em: <https://www1.cfc.org.br>. Acesso em: 22 jun. 2022 (adaptado).

Considerando essa situação, avalie as asserções a seguir e a relação proposta entre elas.

- I. O contador deve exercer a profissão com zelo, diligência, honestidade e capacidade técnica, observando as Normas Brasileiras de Contabilidade e a legislação vigente, resguardando o interesse público e os interesses de seus clientes ou empregadores, sem prejuízo à dignidade e à independência profissional.

**PORQUE**

- II. O contador deve abster-se de interpretações tendenciosas sobre a matéria que constitui objeto do trabalho, mantendo a independência profissional.

A respeito dessas asserções, assinale a opção correta.

- A** As asserções I e II são proposições verdadeiras, e a II é uma justificativa correta da I.
- B** As asserções I e II são proposições verdadeiras, mas a II não é uma justificativa correta da I.
- C** A asserção I é uma proposição verdadeira, e a II é uma proposição falsa.
- D** A asserção I é uma proposição falsa, e a II é uma proposição verdadeira.
- E** As asserções I e II são proposições falsas.



## QUESTÃO 16

Os contadores sempre desempenharam um papel importante na geração e manutenção de organizações sustentáveis, e esse papel se tornará ainda maior nos próximos anos. Assim, os contadores assumem importantes responsabilidades, seja ajudando a gerenciar o risco organizacional de maneira mais eficaz, analisando as informações que ajudam a melhorar a tomada de decisões internas, seja produzindo relatórios detalhados que dão uma visão mais completa do desempenho das organizações.

WANDERLEY, C. A. Sustentabilidade da carreira de contador: uma profissão em transição. *Revista Contabilidade & Finanças*, v. 33, n. 88, p. 7-12, 2021 (adaptado).

As informações contábeis, na sua mensuração, evidenciação, divulgação e aplicação, dependem de sistemas que agilizem e organizem todo o processo, e o profissional, por sua vez, precisa interagir de forma adequada com os diferentes tipos de sistemas de informação.

Diante do exposto, avalie as afirmações a seguir.

- I. Os Sistemas de Processamento de Transações (SPT) são empregados em diversas áreas da empresa, e os dados coletados alimentam todos os demais sistemas da organização.
- II. O *Business Intelligence (BI)* consiste em ferramentas de nicho que executam desde algumas funções mais simples até a personalização de *sites* e utilização de aplicativos de larga escala que possibilitam interações com clientes.
- III. O *Customer Relationship Management (CRM)* possibilita à empresa a gestão da informação e a análise das perspectivas empresariais, com o objetivo de viabilizar a adoção da melhor estratégia e posicionamento.
- IV. O Sistema de Informação Gerencial (SIG) envolve dados, conhecimentos e até outros sistemas, usando as tecnologias da informação, possibilitando às empresas trabalharem gerencialmente de forma eficiente e eficaz.
- V. O *Enterprise Resource Planning (ERP)* consiste em um sistema empresarial que integra todos os dados e processos da organização em um único sistema.

É correto apenas o que se afirma em

- A** I e II.
- B** I, III e IV.
- C** I, IV e V.
- D** II, III e V.
- E** II, III, IV e V.

Área livre



**QUESTÃO 17**

A tabela a seguir apresenta os saldos do balancete de verificação de determinada empresa em 31 de dezembro de 2021.

Contas	Saldo em R\$
Banco conta movimento	80 000,00
Caixa	40 000,00
Capital Social	200 000,00
Contas a pagar	40 000,00
Custo da mercadoria vendida	120 000,00
Depreciação acumulada de máquinas	10 000,00
Despesa com depreciação máquinas	1 000,00
Despesas com salários	20 000,00
Despesas operacionais	39 000,00
Estoque de mercadorias	50 000,00
Máquinas	150 000,00
Receita líquida de vendas	240 000,00
Reserva legal	10 000,00

A partir do balancete de verificação apresentado, deve-se elaborar a demonstração de resultado do período. Desse resultado, serão destinados 5% para reserva legal e o restante para dividendos a distribuir. Posteriormente, deve-se apurar o saldo do balanço patrimonial em 31 de dezembro de 2021.

Com base nos resultados evidenciados após a elaboração da demonstração de resultado, sem considerar os efeitos dos tributos sobre o lucro, e do balanço patrimonial, avalie as afirmações a seguir.

- I. O total do ativo imobilizado será de R\$ 140 000,00.
- II. O total do Balanço Patrimonial é de R\$ 320 000,00.
- III. O resultado do exercício é de R\$ 60 000,00.
- IV. O valor da reserva legal será de R\$ 13 000,00 e o valor dos dividendos será de R\$ 57 000,00.
- V. O Patrimônio Líquido totaliza R\$ 210 000,00.

É correto apenas o que se afirma em

- A** I, II e III.
- B** I, II e V.
- C** I, III e IV.
- D** II, IV e V.
- E** III, IV e V.



## QUESTÃO 18

Uma indústria possui três produtos em estoque: A, B e C. Em 31/12/2021, a quantidade, o custo unitário, o preço de venda unitário e os gastos unitários estimados para vender esses produtos estão apresentados no quadro a seguir.

Produtos	Quantidade	Custo unitário (R\$)	Preço de venda unitário (R\$)	Gastos unitários estimados para a venda (R\$)
A	50	10,00	13,00	4,00
B	100	4,00	7,00	2,00
C	200	3,00	5,00	1,00

Sobre a situação apresentada no quadro, considere as normas a seguir:

NBC TG - *Estrutura Conceitual para Relatório Financeiro*: define Ativo como um recurso econômico presente controlado pela entidade como resultado de eventos passados. Tal recurso é um direito que tem o potencial de produzir benefícios econômicos.

A NBC TG 16 (R2) - *Estoques*: define estoques como ativos: (a) mantidos para venda no curso normal dos negócios; (b) em processo de produção para venda; ou (c) na forma de materiais ou suprimentos a serem consumidos ou transformados no processo de produção ou na prestação de serviços e determina os critérios de reconhecimento, mensuração e evidenciação destes estoques.

Considerando a determinação das normas mencionadas, qual o saldo dos estoques de produtos em 31/12/2021?

- A** R\$ 1 450,00.
- B** R\$ 1 500,00.
- C** R\$ 1 650,00.
- D** R\$ 1 750,00.
- E** R\$ 1 800,00.

Área livre



## QUESTÃO 19

A administração da empresa Beta realizará a demissão sem justa causa de um de seus colaboradores. O colaborador foi admitido em 01/07/2008 e sua rescisão foi realizada em 31/10/2018. A empresa dispensou o cumprimento do aviso prévio.

A partir desse cenário, avalie as afirmações a seguir.

- I. A única verba indenizatória a ser recebida pelo colaborador é o aviso prévio indenizado.
- II. O colaborador deverá receber todas as verbas proporcionais aos meses trabalhados, em que estão incluídas as férias proporcionais e décimo terceiro salário proporcional.
- III. O aviso prévio indenizado a ser pago pela empresa Beta S/A corresponderá ao total de 63 dias, visto o tempo de trabalho do colaborador na empresa.
- IV. A multa rescisória do Fundo de Garantia por Tempo de Serviço (FGTS) será no montante total de 45% do saldo constante na conta vinculada do FGTS do colaborador, sendo 40% devido a ele e 5% referente a Contribuição Social.

É correto apenas o que se afirma em

- A** II.
- B** I e IV.
- C** I, II e III.
- D** I, III e IV.
- E** II, III e IV.

## Área livre

## QUESTÃO 20

O Simples Nacional é um regime compartilhado de arrecadação, cobrança e fiscalização de tributos, aplicável às microempresas e empresas de pequeno porte, previsto na Lei Complementar nº 123, de 14 de dezembro de 2006. Abrange a participação de todos os entes federados (União, Estados, Distrito Federal e Municípios).

Disponível em: [www.receita.fazenda.gov.br](http://www.receita.fazenda.gov.br).

Acesso em: 19 jul. 2022 (adaptado).

Considerando a aplicação e as características do Simples Nacional, avalie as afirmações a seguir.

- I. As empresas, independente do faturamento, precisam se enquadrar na definição de microempresa ou empresa de pequeno porte, cumprir os requisitos previstos na legislação e formalizar a opção pelo Simples Nacional.
- II. O recolhimento do Documento de Arrecadação do Simples Nacional (DAS) deve ocorrer até o dia 15 do mês subsequente àquele em que houver sido auferida a receita bruta, e a Guia DAS deve ser emitida por um profissional contábil.
- III. A opção é facultativa, irretroatável para todo o ano-calendário; o recolhimento dos tributos abrangidos ocorre mediante Documento de Arrecadação do Simples Nacional (DAS) e as alíquotas variam de acordo com a atividade e faixa de faturamento.
- IV. O Simples Nacional abrange os seguintes tributos: IRPJ, CSLL, PIS/Pasep, Cofins, IPI, ICMS, ISS e a Contribuição para a Seguridade Social destinada à Previdência Social a cargo da pessoa jurídica (CPP).

É correto o que se afirma em

- A** I e II, apenas.
- B** I e IV, apenas.
- C** II e III, apenas.
- D** III e IV, apenas.
- E** I, II, III e IV.

**QUESTÃO 21**

A Lei n. 10.406/2002 (Código Civil) e a Lei n. 6.404/1976 (Lei das Sociedades Anônimas), que tratam respectivamente das sociedades empresária e anônima, dispõem sobre as características, a natureza, os tipos de sociedades, a capacidade, os direitos e os deveres dos sócios e acionistas, bem como as regras de administração e a obrigatoriedade de seguir um sistema de contabilidade. De acordo com a legislação societária vigente, a sociedade deve caracterizar a natureza jurídica, o objetivo e o capital social, entre outras regras definidas no estatuto ou contrato social.

Considerando essas informações, avalie as afirmações a seguir.

- I. Segundo o Código Civil, somente pessoas físicas podem tomar parte na sociedade limitada.
- II. Segundo o Código Civil, consideram-se coligadas as sociedades que, em suas relações de capital, são controladas, filiadas ou de simples participação.
- III. Segundo a Lei das Sociedades Anônimas, o capital divide-se em ações, obrigando-se cada acionista somente pelo preço de emissão das ações que subscrever ou adquirir.
- IV. Segundo a Lei das Sociedades Anônimas, na sociedade em nome coletivo, a responsabilidade de cada sócio é restrita ao valor de suas quotas, mas todos respondem solidariamente pela integralização do capital social.

É correto apenas o que se afirma em

- A** I e II.
- B** I e IV.
- C** II e III.
- D** I, III e IV.
- E** II, III e IV.

**QUESTÃO 22**

Em 31/12/2020, a Companhia A adquiriu 40% das ações da Companhia B por R\$ 3 500 000,00 à vista. Na data da aquisição, o patrimônio líquido da Companhia B era de R\$ 5 600 000,00 e o valor justo líquido dos ativos e passivos identificáveis dessa companhia era de R\$ 6 800 000,00, diferença essa decorrente de um terreno da companhia.

No período de janeiro a dezembro de 2021, ocorreram algumas mudanças no patrimônio da Companhia B:

- lucro líquido de 2021 no valor de R\$ 700 000,00;
- pagamento de dividendos no valor de R\$ 250 000,00.

Considerando apenas as informações apresentadas, assinale a opção que indica o valor (em R\$) que deve ser evidenciado na conta de Investimentos em Coligadas no Balanço Patrimonial da Companhia A em 31/12/2021.

- A** 2 240 000,00.
- B** 2 720 000,00.
- C** 3 500 000,00.
- D** 3 680 000,00.
- E** 3 780 000,00.

**QUESTÃO 23**

O Sistema Público da Escrituração Digital (SPED) foi instituído pelo Decreto n. 6.022/2007, estabelecendo os procedimentos para arquivamento público do livro diário e escrituração contábil em forma digital, em consonância com o Decreto-lei n. 1.800/1996, que regula o registro público de empresas mercantis e atividades das empresas e sociedades.

A escrituração contábil das companhias deve seguir as regras estabelecidas nas interpretações dos critérios e procedimentos pela ITG 2000 (R1) – *Escrituração Contábil*, bem como as formalidades da escrituração contábil em forma digital para fins de atendimento ao SPED, reguladas no CTG 2001 (R3).

Diante do exposto, avalie as afirmações a seguir.

- I. O contabilista deve tomar as medidas necessárias para que a entidade titular da escrituração armazene, em meio digital, os livros e as demonstrações contábeis mencionadas no Comunicado Técnico (CT), devidamente assinados, visando à sua apresentação de forma integral, nos termos estritos das respectivas leis especiais, ou em juízo, quando previsto em lei.
- II. O livro diário e o livro razão constituem registros permanentes da entidade e, quando escriturados em forma digital, são constituídos um conjunto único de informações das quais eles se originam.
- III. O balanço patrimonial e demais demonstrações contábeis de encerramento de exercício devem ser inseridos no livro diário, completando-se com as assinaturas digitais da entidade e do contabilista legalmente habilitado, com registro ativo em Conselho Regional de Contabilidade.
- IV. A escrituração contábil e a emissão de livros, relatórios, peças, análises, mapas, demonstrativos e demonstrações contábeis são de atribuição da administração, sob responsabilidade exclusiva de contabilista legalmente habilitado, e devem conter assinatura digital do contabilista.

É correto apenas o que se afirma em

- A** I e IV.
- B** II e III.
- C** III e IV.
- D** I, II e III.
- E** I, II e IV.

**Área livre**



## QUESTÃO 24

Uma sociedade empresária está avaliando a melhor opção tributária entre as permitidas pela legislação vigente. Essa análise está sendo feita exclusivamente para o Imposto de Renda da Pessoa Jurídica (IRPJ) – lucro presumido vs. lucro real.

Para essa análise, a sociedade está fazendo simulações com base no primeiro trimestre de um determinado exercício social, utilizando seus dados históricos e estimativas de receitas e despesas. Por meio dessas simulações, foram levantados os seguintes dados:

Dados simulados: Lucro presumido			
Tipo de receita	Valor (em R\$)	Presunção de lucro (%)	Presunção de lucro (em R\$)
Venda de combustível	1 500 000,00	1,60%	24 000,00
Venda de mercadorias e produtos	300 000,00	8,00%	24 000,00
Prestação de serviços	37 500,00	32,00%	12 000,00
Ganho na venda de ativo não circulante	10 000,00	100,00%	10 000,00

Dados simulados: Lucro real (em R\$)	
Lucro contábil de acordo com legislação vigente	100 000,00
Adições de acordo com legislação vigente	20 000,00
Exclusões de acordo com legislação vigente	40 000,00

A partir das informações apresentadas e com base na comparação entre os regimes tributários de lucro presumido e lucro real, assinale a opção correta.

- A** O total de IRPJ calculado para o período simulado pelo lucro presumido foi de R\$ 9 000,00 e pelo lucro real foi de R\$ 14 000,00.
- B** O total de IRPJ calculado para o período simulado pelo lucro presumido foi de R\$ 9 000,00 e pelo lucro real foi de R\$ 19 000,00.
- C** O total de IRPJ calculado para o período simulado pelo lucro presumido foi de R\$ 10 500,00 e pelo lucro real foi de R\$ 12 000,00.
- D** O total de IRPJ calculado para o período simulado pelo lucro presumido foi de R\$ 17 500,00 e pelo lucro real foi de R\$ 20 000,00.
- E** O total de IRPJ calculado para o período simulado pelo lucro presumido foi de R\$ 11 500,00 e pelo lucro real foi de R\$ 14 000,00.

## Área livre

**QUESTÃO 25**

A empresa Focus possui, atualmente, uma estrutura de capital composta por 100% de capital próprio que financia R\$ 200 000,00 em ativos. Seus ativos geram um Lucro Antes dos Juros e Imposto de Renda (LAJIR) de R\$ 60 000,00. Esta empresa está pretendendo alterar sua estrutura de capital que passará a ter 30% de capital de terceiros e 70% de capital próprio. O custo de capital de terceiros foi estimado em 10% ao ano, e a alíquota do imposto de renda é de 34%.

Grupo Contábil	Estrutura de Capital	
	Hipótese 1	Hipótese 2
	Com endividamento de 0%	Com endividamento de 30%
Passivo	0,00	R\$ 60 000,00
Patrimônio Líquido	R\$ 200 000,00	R\$ 140 000,00
Ativo Total	R\$ 200 000,00	R\$ 200 000,00

Diante das informações apresentadas sobre a empresa Focus, avalie as afirmações a seguir.

- I. Na hipótese 1, o lucro líquido é de R\$ 39 600,00.
- II. Na hipótese 2, o imposto de renda será de R\$ 18 360,00
- III. Na hipótese 2, um retorno sobre o patrimônio líquido (ROE) será maior que na hipótese 1.

É correto o que se afirma em

- A** I, apenas.
- B** II, apenas.
- C** I e III, apenas.
- D** II e III, apenas.
- E** I, II e III.

**QUESTÃO 26**

O objetivo da Contabilidade Aplicada ao Setor Público é fornecer aos usuários informações sobre os resultados alcançados e os aspectos de natureza orçamentária, econômica, financeira e física do patrimônio da entidade do setor público e suas mutações, em apoio ao processo de tomada de decisão; a adequada prestação de contas; e o necessário suporte para a instrumentalização do controle social.

BRASIL. Secretaria do Tesouro Nacional. **Manual de Contabilidade Aplicada ao Setor Público**. 9. ed. 2021 (adaptado).

Considere que uma entidade do setor público cuja previsão de arrecadação de impostos foi de R\$ 2 000 000,00 obteve os seguintes resultados:

- lançamento de R\$ 1 500 000,00;
- arrecadação de R\$ 1 000 000,00;
- recolhimento de R\$ 500 000,00.

No contexto apresentado, o montante da variação patrimonial aumentativa a ser reconhecida será igual a

- A** R\$ 500 000,00.
- B** R\$ 1 000 000,00.
- C** R\$ 1 500 000,00.
- D** R\$ 2 000 000,00.
- E** R\$ 2 500 000,00.

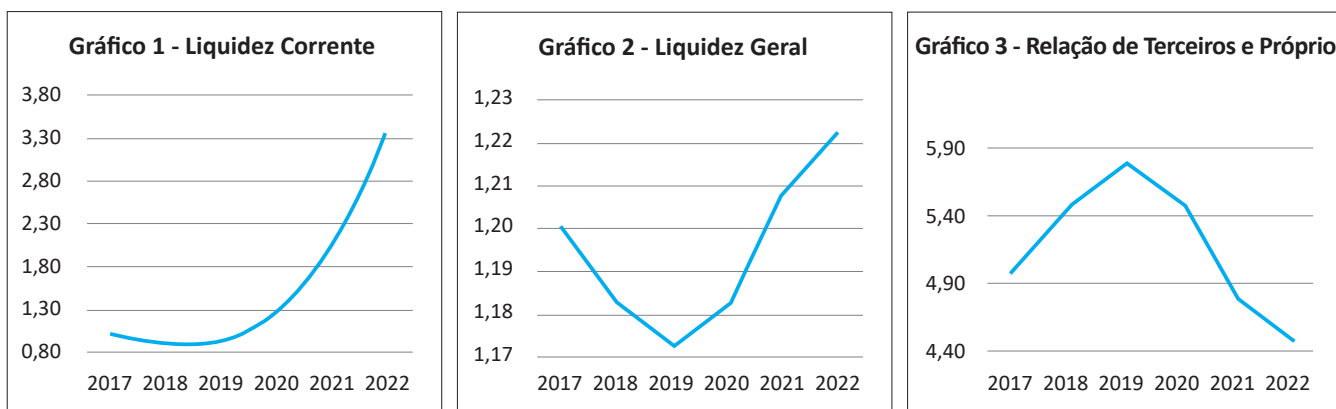


## QUESTÃO 27

Os índices de liquidez apresentam a situação financeira de uma empresa frente aos compromissos financeiros assumidos, ou seja, demonstram sua capacidade de arcar com as dívidas assumidas, o que, em última instância, sinaliza a condição de sua própria continuidade. Já os índices utilizados para análise da estrutura patrimonial estabelecem relações entre as fontes de financiamento próprio e de terceiros, visando evidenciar a dependência da entidade em relação aos recursos de terceiros.

MARTINS, E.; MIRANDA, G. J.; DINIZ J. A. **Análise de didática das demonstrações contábeis**. 3. ed. São Paulo: Atlas, 2020 (adaptado).

O profissional de contabilidade da Empresa ABC apresentou os gráficos a seguir em uma reunião de avaliação da diretoria sobre os efeitos financeiros do período pré-pandemia de Covid-19 (2017-2019) e da pandemia de Covid-19 (2020-2022), considerando para 2022 os valores projetados para o final do exercício.



Durante a reunião, o profissional de contabilidade destacou à diretoria que os valores monetários do Ativo Circulante e do Patrimônio Líquido não sofreram alterações ao longo de todo o período (2017-2022).

Com base nos dados apresentados, avalie as afirmações a seguir.

- I. A dependência do capital de terceiros diminuiu no período da pandemia de Covid-19.
- II. A empresa ABC teve prejuízo no intervalo de 2017-2019, pré-pandemia de Covid-19.
- III. As variações da Liquidez Geral se deram por conta da política de aquisição de ativos imobilizados.
- IV. A Liquidez Corrente da empresa ABC aumentou no período da pandemia de Covid-19, pois houve melhora na relação de dívidas de curto prazo com o endividamento total.

É correto apenas o que se afirma em

- A** I e II.
- B** I e III.
- C** II e IV.
- D** III e IV.
- E** II, III e IV.

**QUESTÃO 28**

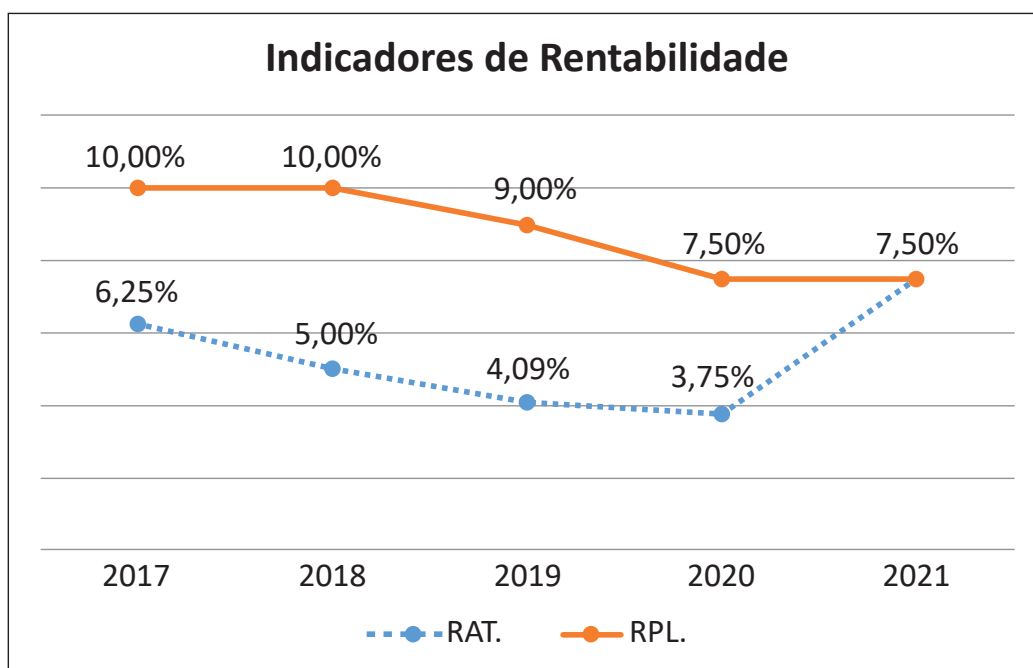
**TEXTO 1**

Os índices de rentabilidade, com frequência, relacionam os resultados obtidos pela empresa com algum valor que expresse a dimensão relativa do mesmo, ou seja, valor de vendas, ativo total, patrimônio líquido ou ativo operacional. Dessa forma, torna-se mais visível o desempenho econômico da entidade, independentemente do seu tamanho.

MARTINS, E.; MIRANDA, G. J.; DINIZ J. A. *Análise de didática das demonstrações contábeis*. 3. ed. São Paulo: Atlas, 2020 (adaptado).

**TEXTO 2**

O gráfico a seguir apresenta os dados comparativos dos indicadores de Retorno sobre o Ativo (RAT) e Retorno sobre o Patrimônio Líquido (RPL) da Empresa Delta para o período de 2017 a 2021.



Com base no gráfico apresentado, avalie as afirmações a seguir.

- I. A rentabilidade do capital próprio apresentou quedas sucessivas nos anos de 2019 e 2020, no entanto, observa-se uma melhora em 2021.
- II. A rentabilidade dos ativos, em 2018, considerando que não houve alteração do patrimônio líquido, apresentou uma queda devido ao aumento do montante dos ativos em relação ao ano anterior.
- III. As rentabilidades do ativo e do patrimônio líquido foram coincidentes em 2021, pois o endividamento da empresa foi reduzido a zero.

É correto o que se afirma em

- A** I, apenas.
- B** II, apenas.
- C** I e III, apenas.
- D** II e III, apenas.
- E** I, II e III.



## QUESTÃO 29

A análise da estimativa de recebimento de um crédito é constante nas empresas para o fornecimento de informações essenciais a seus usuários. A NBC TG 48 – *Instrumentos Financeiros* expõe como os ativos financeiros das empresas podem ser conduzidos para o levantamento de suas perdas em créditos previstas para as contas a receber. Outro documento, também muito importante, a Resolução n. 2.682/1999 do Banco Central do Brasil, determina parâmetros de classificação das operações de crédito e regras para a composição das Perdas Estimadas para Créditos de Liquidação Duvidosa (PECLD). Apesar de ser uma resolução para as instituições financeiras, tais critérios são bases eficientes para empresas com valores expressivos de contas a receber em seus ativos.

SANTOS, A. et al. **Manual de contabilidade societária**: aplicável a todas as sociedades. 4. ed. São Paulo: Atlas, 2022 (adaptado).

A seguir, são apresentadas situações de duas empresas distintas, com os elementos necessários para o encerramento de suas demonstrações financeiras.

## EMPRESA A

A Empresa A apresenta, ao final do exercício, a relação de prováveis perdas com seus clientes. No quadro a seguir, as contas a receber foram listadas de acordo com o risco que determinados clientes representam e, para cada risco, foi determinada uma porcentagem de ajuste com as perdas estimadas.

Cientes	Classificação de risco	Contas a receber (em R\$)	% Perdas de crédito
X	1	240 000,00	4%
Y	2	300 000,00	3%
Z	3	360 000,00	2%

## EMPRESA B

A empresa B apresenta, ao final do exercício de 2021, as seguintes informações:

Informação	Valor (em R\$)
Saldo de contas a receber (bruto)	397 500,00
Saldo da conta de estimativa de perda com créditos de liquidação duvidosa referente ao exercício anterior (2020)	12 500,00
Novo saldo da conta de estimativa de perda com créditos de liquidação duvidosa no encerramento do exercício de 2021	14 311,00
Dentro dos valores de PECLD com seus clientes, alguns foram considerados incobráveis (todos os meios de cobranças foram esgotados)	10 750,00





Com base nas informações apresentadas a respeito das empresas A e B, considerando suas particularidades, baseando-se na NBC TG 48 – Instrumentos Financeiros e desconsiderando os efeitos tributários, assinale a opção que corresponda aos balanços patrimoniais no que se refere a contas a receber e à estimativa de perda com créditos de liquidação duvidosa para cada empresa.

<b>A</b>	<b>Empresa A</b>	Ativo		<b>Empresa B</b>	Ativo	
		Ativo Circulante			Ativo Circulante	
		Contas a Receber	R\$ 874 200,00		Contas a Receber	R\$ 386 750,00
		(-) Perdas Estimadas com Créditos de Liquidação Duvidosa	R\$ (25 800,00)		(-) Perdas Estimadas com Créditos de Liquidação Duvidosa	R\$ (16 061,00)
<b>B</b>	<b>Empresa A</b>	Ativo		<b>Empresa B</b>	Ativo	
		Ativo Circulante			Ativo Circulante	
		Contas a Receber	R\$ 900 000,00		Contas a Receber	R\$ 386 750,00
		(-) Perdas Estimadas com Créditos de Liquidação Duvidosa	R\$ (25 800,00)		(-) Perdas Estimadas com Créditos de Liquidação Duvidosa	R\$ (16 061,00)
<b>C</b>	<b>Empresa A</b>	Ativo		<b>Empresa B</b>	Ativo	
		Ativo Circulante			Ativo Circulante	
		Contas a Receber	R\$ 900 000,00		Contas a Receber	R\$ 397 500,00
		(-) Perdas Estimadas com Créditos de Liquidação Duvidosa	R\$ (25 800,00)		(-) Perdas Estimadas com Créditos de Liquidação Duvidosa	R\$ (16 061,00)
<b>D</b>	<b>Empresa A</b>	Ativo		<b>Empresa B</b>	Ativo	
		Ativo Circulante			Ativo Circulante	
		Contas a Receber	R\$ 900 000,00		Contas a Receber	R\$ 386 750,00
		(-) Perdas Estimadas com Créditos de Liquidação Duvidosa	R\$ (25 800,00)		(-) Perdas Estimadas com Créditos de Liquidação Duvidosa	R\$ (3 561,00)
<b>E</b>	<b>Empresa A</b>	Ativo		<b>Empresa B</b>	Ativo	
		Ativo Circulante			Ativo Circulante	
		Contas a Receber	R\$ 900 000,00		Contas a Receber	R\$ 397 500,00
		(-) Perdas Estimadas com Créditos de Liquidação Duvidosa	R\$ (25 800,00)		(-) Perdas Estimadas com Créditos de Liquidação Duvidosa	R\$ (26 811,00)



**QUESTÃO 30**

A Norma Brasileira de Contabilidade NBC TG 01 (R4) trata da redução ao valor recuperável de ativos e tem por objetivo assegurar que eles não estejam registrados contabilmente com valor que exceda seus valores de recuperação, estabelecendo procedimentos de mensuração, reconhecimento e divulgação.

Considerando o disposto na NBC TG 01 (R4), analise as informações apresentadas para um ativo não circulante de vida útil definida:

- Data de aquisição: 01 de janeiro de X1.
- Valor de aquisição: R\$ 1 000 000,00.
- Valor residual do ativo: R\$ 200 000,00.
- Vida útil estimada do ativo: 10 anos.
- Depreciação acumulada do ativo até o final de X2: R\$ 160 000,00.
- Perda por redução ao valor recuperável, reconhecida ao final de X2: R\$ 3 000,00.

Informações relativas à mensuração do valor recuperável do ativo ao final de X3:

- Valor em uso: R\$ 780 000,00.
- Valor líquido de venda: R\$ 757 375,00.

Considerando que não houve mudança de estimativa de valor residual e de vida útil remanescente, assinale a opção que corresponde ao valor contábil do ativo em análise a ser evidenciado no balanço patrimonial ao final de X3.

- A** R\$ 557 375,00.
- B** R\$ 560 000,00.
- C** R\$ 757 375,00.
- D** R\$ 760 000,00.
- E** R\$ 780 000,00.

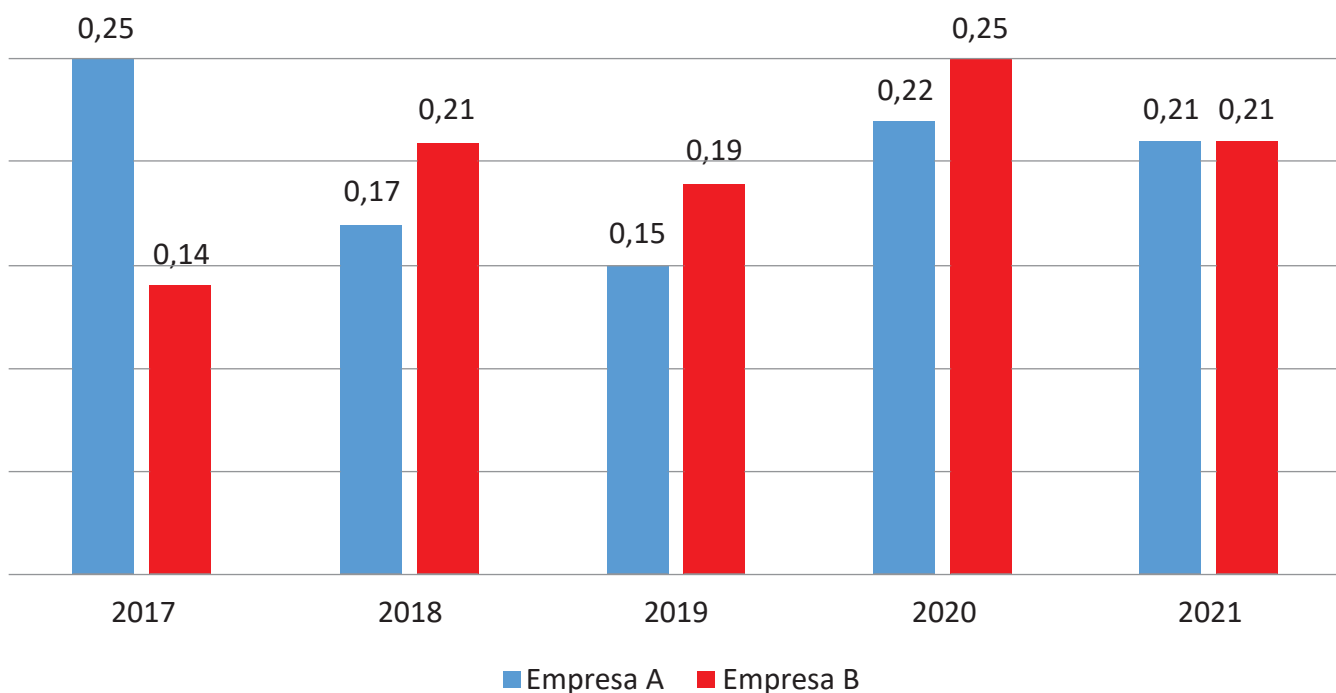
**Área livre**



**QUESTÃO 31**

O Patrimônio Líquido é um elemento contábil que representa a diferença entre o ativo e o passivo da organização. Existem diferentes indicadores de análise que levam em consideração o Patrimônio Líquido.

O gráfico a seguir demonstra os Retornos sobre o Patrimônio Líquido (RPL) das Empresas A e B.



De acordo com as informações apresentadas no gráfico, quanto aos retornos no período de 2017 a 2021, assinale a alternativa correta.

- A** A média aritmética e o desvio padrão dos retornos da empresa A foram superiores aos da empresa B.
- B** A média aritmética e o desvio padrão dos retornos da empresa A foram inferiores aos da empresa B.
- C** A média aritmética dos retornos da empresa A foram superiores aos da empresa B, porém os desvios padrões de ambas foram iguais.
- D** As médias aritméticas dos retornos da empresa A e da empresa B foram iguais, porém o desvio padrão da empresa A foi superior ao da empresa B.
- E** As médias aritméticas e desvios padrões de ambas as empresas foram iguais.

**Área livre**



**QUESTÃO 32**

**TEXTO 1**

Conforme a Resolução do CFC n. 1.640, de 18 de novembro de 2021, que dispõe sobre as prerrogativas profissionais do contador, há a previsão de mensurações contábeis relativa a atividades atuariais que podem ser desenvolvidas de maneira compartilhada.

Disponível em: <https://www1.cfc.org.br>. Acesso em: 21 jun. 2022 (adaptado).

**TEXTO 2**

O pronunciamento técnico do Comitê de Pronunciamentos Contábeis (CPC) 33 determina que o contador deve calcular ganhos e perdas atuariais de valores líquidos de ativos e passivos para benefícios a empregados, como também, considera a existência de riscos atuariais.

Disponível em: <http://www.cpc.org.br>. Acesso em: 21 jun. 2022 (adaptado.)

Com base nas informações apresentadas e considerando que o contador deve possuir conhecimentos atuariais que passam pela análise de tipos de riscos, avalie as afirmações a seguir.

- I. Ganhos e perdas atuariais são mudanças no valor presente da obrigação de benefício definido, resultantes de efeitos das mudanças nas premissas atuariais.
- II. Retorno sobre os ativos do plano consiste em juros, dividendos e outras receitas derivadas dos ativos do plano.
- III. Risco atuarial é o risco de ocorrer dispersão de resultados inesperados devido as oscilações financeiras.
- IV. Risco de investimento é o risco de utilização de metodologias inadequadas ou de premissas atuariais agressivas e pouco aderentes à massa de participantes da entidade.

É correto apenas o que se afirma em

- A** I e II.
- B** I e IV.
- C** II e III.
- D** I, III e IV.
- E** II, III e IV.

**Área livre**

**QUESTÃO 33**

**TEXTO 1**

Entre os séculos XIV e XVI, diversos eventos impulsionaram as Ciências Contábeis. Mais precisamente, na Itália, em 1494, o Frei Luca Pacioli apresentou a primeira literatura contábil importante, consolidando o método das partidas dobradas e originando a Escola Contábil Italiana. No início do século XX, decorre o crescimento econômico norte-americano, com o desenvolvimento do mercado de capitais, gerando um vasto campo para impulsionar as teorias e práticas contábeis norte-americanas, originando-se a Escola Contábil Norte-Americana.

IUDÍCIBUS, S.; MARION, J. C.; FARIA, A. C. **Introdução à teoria da contabilidade**: para graduação. 6. ed. São Paulo: Atlas, 2018.

**TEXTO 2**

O quadro abaixo mostra algumas das diferenças entre as duas escolas:

Escola Italiana	Escola Americana
Intensa elaboração de trabalhos teóricos, propagando conteúdos com baixa aplicação prática.	Destaque para a Contabilidade aplicada, principalmente à Contabilidade Gerencial.
Grandes mestres e pensadores eram considerados “profetas” da verdade contábil.	Contabilidade evidenciada como algo expressivo para a tomada de decisão; o destaque era o usuário da informação contábil.
O grau de confiabilidade e a importância da auditoria não eram levados em consideração.	Auditoria muito importante para a transparência dos relatórios contábeis para os investidores das S/A e outros usuários.

IUDÍCIBUS, S.; MARION, J. C. **Introdução à teoria da contabilidade**: para nível de graduação. 3. ed. São Paulo: Atlas, 2002. (adaptado).

Considerando que a evolução do pensamento contábil sempre esteve relacionada ao desenvolvimento das atividades mercantis, econômicas e sociais, avalie as afirmações a seguir.

- I. A escola italiana contribuiu para desenvolver e evidenciar a importância da contabilidade.
- II. A pressão dos usuários para obter informações mais confiáveis para a tomada de decisões, aliada a outros fatores, contribuiu para o surgimento da escola norte-americana.
- III. Mesmo com as diferenças de abordagem entre as duas escolas, deve-se reconhecer que existe uma busca pela uniformidade dos padrões contábeis, objetivando a extinção das diferentes práticas e formas de apresentação das demonstrações contábeis.

É correto o que se afirma em

- A** I, apenas.
- B** III, apenas.
- C** I e II, apenas.
- D** II e III, apenas.
- E** I, II e III.



**QUESTÃO 34**

A NBC PA 11, que versa sobre a Revisão Externa de Qualidade pelos Pares, doravante denominada “Revisão pelos Pares”, constitui-se em processo de acompanhamento do controle de qualidade, avaliação de procedimentos e asseguuração técnica dos trabalhos dos auditores independentes.

Disponível em: <https://www2.cfc.org.br>. Acesso em: 22 jun. 2022 (adaptado).

Com base no texto, avalie as asserções a seguir e a relação proposta entre elas.

- I. Os membros da equipe revisora podem possuir investimentos ou grau de parentesco com executivos em posições-chave nos clientes do Revisado; porém, não podem participar do processo de revisão desses clientes.

**PORQUE**

- II. O Revisor e os demais membros da sua equipe devem ter independência em relação ao Revisado e aos clientes selecionados.

A respeito dessas asserções, assinale a opção correta.

- A** As asserções I e II são proposições verdadeiras, e a II é uma justificativa correta da I.  
**B** As asserções I e II são proposições verdadeiras, mas a II não é uma justificativa correta da I.  
**C** A asserção I é uma proposição verdadeira, e a II é uma proposição falsa.  
**D** A asserção I é uma proposição falsa, e a II é uma proposição verdadeira.  
**E** As asserções I e II são proposições falsas.

**Área livre**

**QUESTÃO 35**

Podemos dizer que o conceito do EVA (Valor Econômico Adicionado) nada mais é do que uma aplicação do conceito de custo de oportunidade do capital e do conceito de manutenção do capital financeiro da empresa.

PADOVEZE, C. L. **Controladoria Estratégica e Operacional**: conceito, estrutura e aplicação. 3. ed. São Paulo: Cengage Learning, 2013 (adaptado).

A empresa Alfa apresentou os seguintes dados extraídos de seu sistema de informação gerencial:

- Capital de terceiros totais = R\$ 2 000 000,00
- Capital próprio total = R\$ 6 000 000,00
- Lucro operacional líquido após os impostos (NOPAT) = R\$ 180 000,00
- Custo de oportunidade da empresa = 2%

De acordo com o texto e as informações apresentadas sobre a empresa Alfa, avalie as afirmações a seguir.

- I. Do ponto de vista da empresa Alfa, a rentabilidade adicionada foi de 0,25%.
- II. Se houver aumento de 10% sobre a carga tributária incidente sobre o lucro da empresa Alfa, isto provocará um impacto desfavorável à rentabilidade adicionada da empresa de mesma proporção.
- III. Do ponto de vista de um acionista da empresa Alfa, que tenha uma participação acionária de 50%, seu valor agregado será nulo se estipular uma rentabilidade mínima de 3% para o seu capital.

É correto o que se afirma em

- A** I, apenas.
- B** II, apenas.
- C** I e III, apenas.
- D** II e III, apenas.
- E** I, II e III.

**Área livre**

**QUESTIONÁRIO DE PERCEPÇÃO DA PROVA**

As questões abaixo visam conhecer sua opinião sobre a qualidade e a adequação da prova que você acabou de realizar.

Assinale as alternativas correspondentes a sua opinião nos espaços apropriados do **CARTÃO-RESPOSTA**.

**AVALIAÇÃO GLOBAL DA PROVA****QUESTÃO 01**

Qual foi o tempo gasto por você para concluir a prova?

- A** Menos de uma hora.
- B** Entre uma e duas horas.
- C** Entre duas e três horas.
- D** Entre três e quatro horas.
- E** Quatro horas, e não consegui terminar.

**QUESTÃO 02**

Em relação ao tempo total de aplicação, você considera que a prova foi

- A** muito longa.
- B** longa.
- C** adequada.
- D** curta.
- E** muito curta.

**QUESTÃO 03**

As informações/instruções fornecidas para a resolução das questões foram suficientes para resolvê-las?

- A** Sim, até excessivas.
- B** Sim, em todas elas.
- C** Sim, na maioria delas.
- D** Sim, somente em algumas.
- E** Não, em nenhuma delas.

**QUESTÃO 04**

Você se deparou com alguma dificuldade ao responder à prova? Qual?

- A** Desconhecimento do conteúdo.
- B** Forma diferente de abordagem do conteúdo.
- C** Espaço insuficiente para responder às questões.
- D** Falta de motivação para fazer a prova.
- E** Não tive qualquer tipo de dificuldade para responder à prova.

**QUESTÃO 05**

Considerando apenas as questões objetivas da prova, você percebeu que

- A** não estudou ainda a maioria desses conteúdos.
- B** estudou alguns desses conteúdos, mas não os aprendeu.
- C** estudou a maioria desses conteúdos, mas não os aprendeu.
- D** estudou e aprendeu muitos desses conteúdos.
- E** estudou e aprendeu todos esses conteúdos.

**FORMAÇÃO GERAL****QUESTÃO 06**

Qual o grau de dificuldade das questões de Formação Geral?

- A** Muito fácil.
- B** Fácil.
- C** Médio.
- D** Difícil.
- E** Muito difícil.

**QUESTÃO 07**

Os enunciados das questões de Formação Geral estavam compreensíveis e objetivos?

- A** Sim, todos.
- B** Sim, a maioria.
- C** Apenas cerca da metade.
- D** Poucos.
- E** Não, nenhum.

**COMPONENTE ESPECÍFICO****QUESTÃO 08**

Qual o grau de dificuldade das questões do Componente Específico?

- A** Muito fácil.
- B** Fácil.
- C** Médio.
- D** Difícil.
- E** Muito difícil.

**QUESTÃO 09**

Os enunciados das questões do Componente Específico estavam compreensíveis e objetivos?

- A** Sim, todos.
- B** Sim, a maioria.
- C** Apenas cerca da metade.
- D** Poucos.
- E** Não, nenhum.