



PREFEITURA MUNICIPAL DE SANTANA DO ACARAÚ – CE
S E L E Ç Ã O P Ú B L I C A
EDITAL Nº 001/2023 DE 06 DE FEVEREIRO 2023

OPERADOR DE COMPUTADOR

NOME DO CANDIDATO: _____

RG: _____ ÓRGÃO EXPEDIDOR: _____

Nº DE INSCRIÇÃO

--	--	--	--	--	--	--	--

ASSINATURA: _____

LEIA COM ATENÇÃO E SIGA RIGOROSAMENTE ESTAS INSTRUÇÕES:

1. Este caderno contém 60 (sessenta) questões de múltipla escolha, numeradas de 1 (um) a 60 (sessenta).
2. Cada uma das questões apresenta um enunciado seguido de 5 (cinco) alternativas, das quais somente uma deve ser assinalada.
3. Examine se a prova está completa com a sequência numérica das questões, se há falhas ou imperfeições gráficas que causem dúvidas. Qualquer reclamação deverá ser feita durante os 20 minutos iniciais. Após esse tempo, qualquer reclamação será desconsiderada.
4. Depois de decorridas 2 (duas) horas do início da prova, será distribuído o cartão-resposta, o qual será o único documento válido para a correção. Ao recebê-lo, verifique se seu nome e seu número de inscrição estão corretos. Reclame imediatamente se houver discrepância.
5. A folha de respostas não pode ser dobrada, amassada, rasurada ou manchada. Exceto sua assinatura e data de nascimento, nada deve ser escrito ou registrado fora dos locais destinados às respostas. Tenha muita atenção ao marcar sua folha de respostas, pois não haverá substituição por erro do candidato. Marque sua resposta pintando completamente o espaço correspondente à alternativa de sua opção.

Ex.: A ○ B ● C ○ D ○ E ○
6. A leitora de marcas não registrará as respostas em que houver falta de nitidez, uso de corretivo, marcação a lápis ou marcação de mais de uma letra. Não serão computadas questões não assinaladas.
7. Durante a prova, é proibido o intercâmbio e o empréstimo de material de qualquer natureza entre os candidatos. A tentativa de fraude, a indisciplina e o desrespeito às autoridades encarregadas dos trabalhos são faltas que implicarão a desclassificação do candidato.
8. Qualquer forma de comunicação entre candidatos implicará a eliminação de ambos do certame.
9. Não será permitido ao candidato, durante a realização das provas, portar armas, aparelhos eletrônicos de qualquer natureza, relógios, bolsas, livros, jornais e impressos em geral; bonés, chapéus, lenço de cabelo, bandanas etc.
10. É vedado o uso de telefone celular ou de qualquer outro meio de comunicação. O candidato que for flagrado portando aparelho celular ou qualquer outro meio de comunicação, durante o período de realização da prova, e/ou o aparelho celular tocar será sumariamente eliminado do certame.
11. Em caso de dúvida, durante a prova, levante o braço para solicitar atendimento da fiscalização. Jamais pergunte em voz alta.
12. Ao terminar a resolução da prova, entregue-a ao fiscal de sala juntamente com **a folha de respostas**. Não se esqueça de **assinar a folha de frequência**.
13. O candidato que permanecer na sala de provas, por mais de 3h30min, poderá levar consigo o caderno de provas, fornecido pela **ORGANIZADORA**.
14. As provas terão duração de 4 (quatro) horas com início às 14h e término às 18h. O candidato só poderá ausentar-se da sala depois de decorridas duas horas do início das provas.
15. Os **Gabaritos Preliminares das Provas Objetivas** serão divulgados 72 (setenta e duas) horas após a realização das mesmas.

RASCUNHO

CONHECIMENTOS GERAIS

Leia o Texto para responder às questões 1 a 6.

O mundo coabita com muitos mundos

O desenvolvimento tecnológico tem evitado a fome global, mas não conseguiu evitar que uma parcela considerável da humanidade passe fome

Nelson Wilians
4 de março de 2023

Confesso que pensei em fazer uma lista de previsões para 2023. Mas logo parei na estimativa de que a China deixará de ser o país mais populoso do mundo no próximo ano. Será ultrapassada pela Índia. De acordo com um relatório da Organização das Nações Unidas (ONU), a projeção é que, lá pela metade de abril, o país atinja a marca de 1.425.775.850 de habitantes.

A tomada do bastão populacional pela Índia significa uma mudança apenas simbólica, porque a China continuará sendo a maior potência econômica do mundo.

Falar contra a reprodução humana sempre foi polêmico. No final do século 19, o economista inglês Thomas Malthus alertou crua e abjetamente que “se os humanos continuassem a se reproduzir incontrolavelmente, logo ficariam sem comida”.

Logo: um tempo indefinido.

O desenvolvimento tecnológico tem evitado até aqui a fome global, mas não conseguiu evitar que uma parcela considerável da humanidade passe fome, por uma série de razões, entre elas, a distribuição desigual de recursos e renda. Desigualdades extremas desestabilizam as economias globais e empurram mais pessoas para a pobreza.

Recentemente, a população mundial ultrapassou a marca de 8 bilhões, reafirmando a história de que os países ricos ficam mais ricos e os pobres mais populosos: cerca de 70% do crescimento de 7 para 8 bilhões veio de países de renda baixa e média baixa, de acordo com a ONU.

O mundo é um só que coabita com vários mundos.

É como em um elefante: uma parte representa a cabeça; a outra, a tromba, a barriga, o rabo; e outra, as patas. Quando o elefante avança, todas as partes avançam. Quando fica parado, as patas aguentam todo o peso.

De acordo com a ONU, o crescimento populacional está se estabilizando. Foram necessários 12 anos para a população mundial passar de 7 para 8 bilhões; o próximo bilhão deve levar cerca de 14,5 anos. A desaceleração do crescimento global está sendo provocada, principalmente, pela queda na fecundidade da população de 61 países, que deverá diminuir 1% ou mais, entre 2022 e 2050.

Hans Rosling, um médico e acadêmico sueco, explica que o “código PIN” atual do mundo é 1114, o que significa que há cerca de 1 bilhão de pessoas nas Américas, Europa e África e 4 bilhões na Ásia. Em 2050, o código será 1145, sendo 4 bilhões na África e 5 bilhões na Ásia.

Ainda que a ideologia dominante não favoreça a igualdade, para agravar, cada país tem sua própria dinâmica geradora de desigualdades.

A distribuição desigual no crescimento populacional certamente tornará a balança ainda mais injusta. Não à toa, a ONU alerta para que o mundo redobre seus esforços para implementar a Agenda 2030, um passo para a erradicação da pobreza em todas as formas e dimensões e “garantir que todos os seres humanos possam realizar seu potencial com dignidade e igualdade e em um ambiente saudável”.

2023 é uma boa oportunidade para desejar que os líderes globais mostrem por que são chamados de líderes globais.

O elefante parado morre de inanição.

Nelson Wilians é CEO da Nelson Wilians Advogados.

WILIANS, Nelson. O mundo coabita com muitos mundos. Forbes Brasil, 04 de março de 2023 (ed. 104 dez./2022). Colunas. Disponível em: <https://forbes.com.br/forbes-money/2023/03/nelson-wilians-o-mundo-coabita-com-muitos-mundos/>. Acesso em: 10 mar. 2023.

1. Ao afirmar que “O mundo é um só que coabita com vários mundos.” (7º parágrafo), o autor quis dizer que

- a) há diversas razões que levam uma parte da população mundial a passar fome.
- b) há configurações populacionais e econômicas diversas entre os continentes.
- c) o mundo é pequeno diante do universo de pessoas que precisam se alimentar para sobreviver.
- d) existem variadas espécies animais e vegetais que habitam locais em que há a presença de humanos.
- e) os líderes globais passaram a exercer diversas funções em meio à escala da fome no mundo.

2. Na frase “O elefante parado morre de inanição.”, o termo sublinhado refere-se, considerando-se o conteúdo global do texto, ao(à)

- a) sede.
- b) tédio.
- c) sedentarismo.
- d) fome.
- e) amor.

3. No trecho “O mundo é um só que coabita com vários mundos. / É como em um elefante: uma parte representa a cabeça; a outra, a tromba, a barriga, o rabo; e outra, as patas. Quando o elefante avança, todas as partes avançam. Quando fica parado, as patas aguentam todo o peso.” (parágrafos 7º e 8º), o autor vale-se da seguinte figura de linguagem para construir sua argumentação:

- a) comparação.
- b) catacrese.
- c) metonímia.
- d) metáfora.
- e) perífrase.

4. No 12º parágrafo, as aspas duplas foram utilizadas para

- a) indicar uma expressão incomum na língua portuguesa.
- b) destacar o título de uma obra publicada atualmente.
- c) sinalizar uma citação direta.
- d) indicar um discurso de tom irônico.
- e) sinalizar palavras de origem estrangeira.

5. No excerto “Falar contra a reprodução humana sempre foi polêmico. No final do Século 19, o economista inglês Thomas Malthus alertou crua e abjetamente que ‘se os humanos continuassem a se reproduzir incontrolavelmente, logo ficariam sem comida’. / Logo: um tempo indefinido.” (parágrafos 3º e 4º), os advérbios “crua e abjetamente” indicam que, para o articulista, Thomas Malthus falou sobre a reprodução humana e sobre a falta de alimentos de uma maneira

- a) científica.
- b) despreocupada.
- c) cuidadosa.
- d) desprezível.
- e) despretensiosa.

6. No excerto “De acordo com a ONU, o crescimento populacional está se estabilizando.” (9º parágrafo), o conectivo sublinhado veicula a ideia de

- a) finalidade.
- b) conformidade.
- c) causa.
- d) consequência.
- e) condição.

7. Leia o texto da tirinha.



GOMES, Sara. Remédio para o tédio. Bichinhos de jardim, 09 de fevereiro de 2023. Disponível em: <http://bichinhosdejardim.com/remedio-tedio/>. Acesso em: 06 mar. 2023.

Agora analise as proposições a seguir.

- I. A linguagem utilizada nos balões de fala apresenta um tom de coloquialidade.
- II. O texto apresentado é não verbal em toda a sua extensão.
- III. O gênero textual em que se encaixa esse texto é o cartum.

Marque a alternativa que apresenta a(s) proposição(ões) CORRETA(S).

- a) I.
- b) I – III.
- c) II.
- d) I – II – III.
- e) III.

8. Analise o excerto a seguir.

“Já tive cachorro, gato, jabuti — não confundam o jabuti com a tartaruga, ou com o cágado, todos são répteis, mas a tartaruga vive somente na água, tem casco achatado e patas afinadas, o jabuti possui casco convexo, bem arqueado, e patas grossas, que parecem réplicas miniaturizadas da pata dos elefantes, e o cágado distingue-se do jabuti por ser um quelônio de água doce e não terrestre, além de ter o pescoço mais longo.”

FONSECA, Rubem. Animal de estimação. In: Histórias curtas. Rio de Janeiro: Nova Fronteira, 2015.

Qual é o tipo textual predominante no excerto?

- a) Narrativo.
- b) Descritivo.
- c) Expositivo.
- d) Argumentativo.
- e) Injuntivo.

9. Analise o trecho a seguir.

“O Projeto do Genoma Humano é considerado uma das conquistas científicas mais importantes da história. Ele foi lançado em 1990 por um consórcio internacional de cientistas, ao custo de US\$ 3 bilhões (cerca de R\$ 15,6 bilhões, em valores atuais).”

POR QUE genoma humano nunca foi decifrado completamente (e o que falta para se chegar lá). BBC Brasil, 09 de março de 2023. Disponível em: <https://www.bbc.com/portuguese/articles/ckklegq9xlno>. Acesso em: 09 mar. 2023.

Quantas ocorrências de dígrafos consonantais há no trecho?

- a) 2.
- b) 3.
- c) 4.
- d) 5.
- e) 6.

10. Leia o texto a seguir.

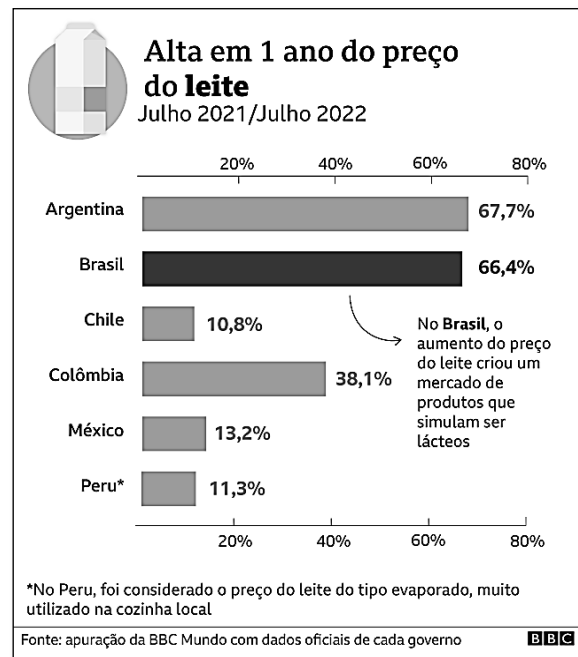


GOMES, Patrícia. Mãe Joana: irrefreável! Bichinhos de jardim, 06 de março de 2023. Disponível em: <http://bichinhosdejardim.com/mj-irrefreavel/>. Acesso em: 09 mar. 2023.

Nesse texto, o efeito de humor que se manifesta na fala da personagem no último quadrinho advém do barulho feito na vizinhança, o qual é representado por meio de um(a)

- a) paradoxo.
- b) paronomásia.
- c) eufemismo.
- d) onomatopeia.
- e) prosopoieia.

11. Leia e analise os gráficos a seguir.



BARRIA, Cecília et al. Inflação: compare em gráficos a alta de preços no Brasil e em 5 países da América Latina. BBC Brasil, 18 de setembro de 2022. Disponível em: <https://www.bbc.com/portuguese/internacional-62758791>. Acesso em: 09 mar. 2023.

De acordo com esses gráficos, entre julho de 2021 e julho de 2022,

- a) a Argentina foi o país que mais apresentou alta nos preços dos produtos analisados.
- b) o preço do óleo de cozinha apresentou mais aumento no Brasil do que no Chile.
- c) a Colômbia e o Brasil apresentaram altas semelhantes dos preços do leite.
- d) os produtos que simulam ser lácteos apresentaram grande alta de preços no Brasil.
- e) o México e o Peru apresentaram as menores altas no preço do óleo de cozinha.

12. Leia o excerto apresentado a seguir.

“A Semana de Arte Moderna, realizada em fevereiro de 1922, em São Paulo, continua sendo referência para reflexões estéticas e para a crítica de arte do Brasil, passados cem anos do evento. Podemos considerar o evento como uma espécie de discurso fundador do movimento modernista brasileiro, pois, mesmo que identifiquemos diferentes leituras da modernidade e diferentes modernismos e ainda que reconhecamos o caráter excludente e pouco representativo da arte nacional ali exposta, a data ficou marcada como o início do processo de atualização da arte brasileira. Consideramos como efeito imediato do festival a estratégia do escândalo e o discurso radical de ruptura com o passado e a forte presença do humor, que passa a ser a linguagem com a qual se tentou outros caminhos, para nossa expressão artística.”

REBELLO, Ivana Ferrante. O traço e a troça: o riso como metáfora da Semana de Arte Moderna. Scripta, v. 26, n. 58, p. 79-98, 3º quadrimestre de 2022.

Assinale a alternativa que corresponde à função da linguagem predominante no excerto.

- Apelativa.
- Emotiva.
- Metalinguística.
- Poética.
- Referencial.

13. Analise o texto a seguir.

“O sono é um estado fisiológico especial que ocorre em ciclos em vários seres vivos do reino animal, tendo sido observados comportamentos de repouso e atividade, compondo um ciclo vigília-sono rudimentar, em animais tão inferiores na escala zoológica como os insetos, entretanto, a caracterização do sono por parâmetros eletrofisiológicos já foi feita em anfíbios, répteis e mamíferos, além do ser humano. Nos humanos, a partir da análise das fases do sono, fica evidente a natureza não homogênea de suas diferentes etapas, quando avaliadas por registros poligráficos, o que dificulta uma definição simplista deste estado [...]”

MAZARIOL, Andréa da Silva. Avaliação da Qualidade do Sono e Fadiga em Tripulação de Helicópteros Militares. Rev. bras. segur. Pública, São Paulo v. 17, n. 1, 10-23, fev/mar 2023. Disponível em: <https://revista.forumseguranca.org.br/index.php/rbsp/article/view/1393/638>. Acesso em: 09 mar. 2023.

Qual das palavras em destaque no texto NÃO pode ser classificada como adjetivo, levando-se em consideração o contexto em que ela foi empregada?

- “fisiológico”
- “animal”
- “zoológica”
- “natureza”
- “simplista”

14. São monossílabas tônicas as seguintes palavras:

- “rio” e “tia”.
- “sopa” e “sebo”.
- “mar” e “seu”.
- “país” e “país”.
- “correio” e “tropeço”.

15. Assinale o período em se que vê a concordância verbal de plural desencadeada pela presença de um sujeito composto.

- “Brasil tem mais de 156 milhões de eleitoras e eleitores aptos a votar em 2022” (TSE, 15/07/2022)
- “Por que algumas pessoas passam mal jogando videogame?” (TecMundo, 10/03/23)
- “‘Vovôs do skate’ desafiam os adolescentes em Tóquio 2020” (R7, 03/08/21)
- “Autoridades dos EUA flagram gato dentro de mala em raio X de aeroporto” (CNN Brasil, 10/03/23)
- “Estresse, privação de sono e alterações climáticas podem desencadear crises de enxaqueca” (g1, 30/12/21)

16. Em qual das frases a seguir há um predicado nominal?

- Há diversos pontos de alagamento na cidade.
- O jacaré permaneceu imóvel em cima da pedra.
- A figura do herói originou-se nas epopeias gregas.
- Meus avós estiveram em Malta no ano passado.
- A neve caiu durante todo o passeio de ski.

17. Dentre as sentenças relacionadas a seguir, uma apresenta a colocação proclítica do pronome entre os colchetes no lugar onde deveria ocorrer ênclise, segundo a norma padrão para a escrita em língua portuguesa. Identifique essa sentença.

- [Me] ocorreu agora que não consigo pagar o boleto!
- Não [se] sabe até quando os animais podem aguentar as queimadas.
- Certamente [te] agradecerá a estadia neste hotel, minha cara.
- Tudo [se] resolveu após a reunião de alinhamento do financeiro.
- Em [se] tratando de computadores, sou uma grande conhecedora.

18. Em uma loja de cosméticos, um determinado hidratante corporal era vendido por R\$ 125,00. Para alavancar as vendas, essa loja anunciou a seguinte promoção de dia das mães: “Desconto de 15% em todas as compras acima de R\$ 100,00”. Dessa forma, se uma pessoa comprar esse hidratante com o desconto dessa promoção ela pagará

- R\$ 87,50.
- R\$ 93,75.
- R\$ 100,00.
- R\$ 106,25.
- R\$ 112,50.

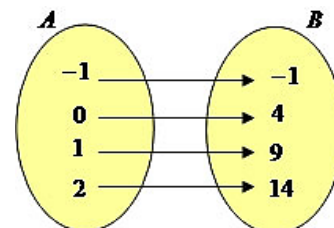
19. Verônica vai viajar para a praia com sua família. A distância total a ser percorrida é 580 km. Considerando que ela saiu de casa às 8 horas da manhã e chegou ao destino às 13 horas, a velocidade média em km/h empregada por ela durante o trajeto é de

- 58 km/h.
- 87 km/h.
- 116 km/h.
- 145 km/h.
- 174 km/h.

20. Em uma loja de eletrodomésticos, um liquidificador que custava R\$ 570,00, sofreu um aumento e passou a custar R\$ 741,00. Dessa forma, o percentual de reajuste desse tênis foi de

- 15%.
- 20%.
- 25%.
- 30%.
- 35%.

21. Observe o diagrama a seguir.



Esse diagrama se refere a qual tipo de função?

- Função sobrejetora.
- Função injetora.
- Função bijetora.
- Função inversa.
- Função afim.

22. Sônia é diretora de um colégio e fez uma pesquisa para saber a preferência de seus alunos entre dois professores de uma determinada disciplina. Após entrevistar 600 alunos, foram obtidos os seguintes resultados:

Professor A: 440 clientes.

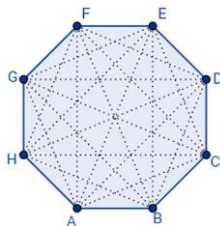
Professor B: 120 clientes.

Nenhum dos professores: 80 clientes.

O número de alunos que gostam dos dois professores é

- 40.
- 80.
- 160.
- 480.
- 560.

23. Observe o polígono a seguir.



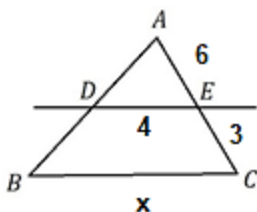
O número de diagonais desse polígono é

- 12.
- 15.
- 18.
- 20.
- 24.

24. Pedro é dono de uma pequena marcenaria e possui cinco funcionários. Todos os cinco marceneiros, trabalhando juntos, demoram 30 dias para terminar um determinado projeto. Para que esse projeto seja completado em apenas 6 dias, quantos funcionários a mais, Pedro deve contratar para sua marcenaria?

- 10.
- 15.
- 20.
- 25.
- 30.

25. Observe o triângulo e as medidas a seguir.



Considerando que $DE \parallel BC$, o valor de x é

- 3.
- 6.
- 12.
- 24.
- 36.

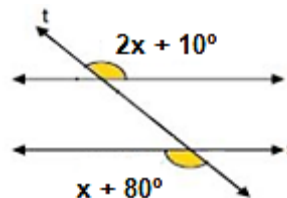
26. Analise a expressão a seguir.

$$9x^2 + 4x^3y^2$$

Se $x = 2$ e $y = -3$, o valor dessa expressão é

- 27.
- 81.
- 162.
- 324.
- 648.

27. As retas r e s são paralelas cortadas pela transversal t .



Qual é o valor de x ?

- 35° .
- 45° .
- 60° .
- 70° .
- 90° .

28. Guilherme precisa arrumar a calha do muro de sua casa, e, para isso, apoia uma escada de 20 metros no muro. Considerando que o muro possui 16 metros de altura, a distância que Guilherme precisa posicionar o pé dessa escada para que ela fique encostada exatamente no topo desse muro, é de

- 10 metros.
- 12 metros.
- 14 metros.
- 16 metros.
- 18 metros.

29. Maria Laura foi a papelaria e, para pagar suas compras deu uma nota de R\$ 50,00 no caixa, recebendo de troco o valor a seguir:



Quanto reais ela gastou na papelaria?

- R\$ 35,00.
- R\$ 38,00.
- R\$ 42,00.
- R\$ 45,00.
- R\$ 48,00.

30. Lucas foi ao mercado e comprou 5 kg de arroz, 4 litros de leite, 500 g de feijão e 300 g de açúcar. Assinale a alternativa que corresponde às mesmas medidas que Lucas comprou de cada alimento.

- 0,05 toneladas de arroz, 400mL de leite, 0,5kg de feijão e 0,3kg de açúcar.
- 0,005 toneladas de arroz, 400mL de leite, 0,5kg de feijão e 0,3kg de açúcar.
- 0,05 toneladas de arroz, 4.000mL de leite, 0,05kg de feijão e 0,03kg de açúcar.
- 0,005 toneladas de arroz, 4.000mL de leite, 0,05kg de feijão e 0,03kg de açúcar.
- 0,005 toneladas de arroz, 4.000mL de leite, 0,5kg de feijão e 0,3kg de açúcar.

31. Segundo registros históricos, o nome Santana de Acaraú é em homenagem à

- Fazenda de propriedade do Padre Silveira
- Senhora Santa Ana e ao rio que corta o município.
- Senhora Santa Ana e ao rio dos Acarás.
- Vila Curral Velho.
- Árvore símbolo do município.

32. O conflito entre a Rússia e a Ucrânia

- já dura três anos.
- tem como pano de fundo questões religiosas.
- acabou com o cessar fogo da Rússia.
- foi motivado pela maior aproximação da Ucrânia com organizações como a Otan e a União Europeia.
- ocorreu porque a Ucrânia anexou a Criméia.

33. Inaugurada em 1996, a ponte João Ananias Vasconcelos possibilitou o escoamento dos produtos agrícolas entre o município de Santana de Acaraú e demais municípios da região.

A respectiva ponte foi construída sobre o rio

- Castanhão.
- Orós.
- Carás.
- Acaraú.
- Cariús.

34. Segundo informações da Secretaria da Segurança Pública e Defesa Social do Ceará, o ano de 2023 começou com o aumento de registros de violência doméstica no Estado, sendo que os números registrados em janeiro e fevereiro são os maiores dos últimos seis anos.

Lei que estabelece punição adequada e coibição de atos de violência doméstica contra a mulher.

- Lei da Mulher.
- Lei Maria da Penha.
- Lei Marielle.
- Lei Margarida Alves.
- Lei Marlene da Penha

35. As Forças Armadas da China disseram ter conduzido exercícios de ataque no mar e no espaço aéreo ao redor de Taiwan neste domingo (25) em resposta ao que afirmam ser uma provocação vinda da ilha governada democraticamente e dos Estados Unidos.

(Fonte: Agência de notícias CNN Brasil, 25 de dezembro de 2022).

A esse respeito é CORRETO afirmar que

- Taiwan contesta veementemente as reivindicações de soberania da China.
- a China quer que Taiwan seja independente.
- Taiwan é uma região governada pelo Japão.
- os Estados Unidos querem que Taiwan seja anexada ao seu território.
- Taiwan reivindica apoio da China.

36. O Fórum Social Mundial (FSM) 2023, com o tema "Democracia, direitos dos povos e do planeta – Outro mundo é possível", foi realizado entre os dias 25 e 28 de janeiro. O Fórum Social Mundial estruturou-se como um espaço internacional para promoção de debates e discussões articulado por movimentos sociais, ONGs e pela comunidade civil.

Dentre s principais objetivos do FSM, está:

- reposicionar o Brasil junto aos investidores globais.
- avaliar as metas do Acordo de Paris.
- contrapor à agenda neoliberal e capitalista do Fórum Econômico Mundial.
- excluir o Brasil do Brics.
- reforçar a globalização e ampliar a participação do Brasil na economia mundial.

37. A exploração mineral é uma das atividades econômicas que mais interferem nas paisagens naturais. Neste contexto, em 2015, o Brasil registrou o rompimento da barragem do Fundão - propriedade da Samarco Mineração S/A, escoando rejeitos de minério de ferro e sílica, matando 19 pessoas e afetando 41 cidades brasileiras. Esse desastre ocorreu no município de:

- Brumadinho, Minas Gerais.
- Mariana, Minas Gerais.
- Colatina, Espírito Santo.
- Governador Valadares, Minas Gerais.
- Rio Doce, Rio de Janeiro.

38. Localizada nas regiões Nordeste, Sudeste e Centro-Oeste, esta bacia hidrográfica abrange os biomas Cerrado, Mata Atlântica e Caatinga, corresponde a, aproximadamente, 7,5% do território brasileiro, com aproveitamento econômico na geração de energia, irrigação, pesca, navegação. Esta descrição refere-se à

- Bacia Araguaia-Tocantins.
- Bacia do Paraná.
- Bacia do São Francisco.
- Bacia do Parnaíba.
- Bacia Amazônica.

39. Desde o final do século XIX, a temperatura média do Planeta subiu mais de 1,1°C, o que implica, segundo especialistas, mudanças no clima. Assim, o painel da Organização das Nações Unidas reuniu-se, no período de 13 a 17 março de 2023, na Suíça, para debater sete anos de pesquisa sobre mudança climática.

São consequências das mudanças climáticas, EXCETO

- secas.
- enchentes.
- derretimento das geleiras.
- efeito estufa.
- aumento da temperatura global.

40. Fenômeno climático que acontece principalmente nas cidades com elevado grau de urbanização, pela impermeabilização do solo, muito cimento, vidro e asfalto, pouca cobertura vegetal.

- Ilhas de calor.
- Metropolização.
- Gentrificação.
- Chuva Ácida.
- La Niña.

CONHECIMENTOS ESPECÍFICOS

41. Leia as afirmativas a seguir sobre as peculiaridades da redação oficial.

- A clareza de digitação, o uso de papéis uniformes e a correta diagramação do texto são indispensáveis à padronização.
- A redação oficial deve conter a individualidade.
- O texto oficial requer o uso do padrão culto da língua.
- As comunicações oficiais devem ser sempre formais.

Marque a opção que apresenta as afirmativas CORRETAS.

- II – III.
- I – II – IV.
- I – III – IV.
- II – III.
- I – II – III – IV.

42. Buscando a clareza na redação oficial, podemos afirmar que a concisão

- faz com que o texto fique grande e com características pessoais.
- faz desaparecer do texto os excessos linguísticos que nada lhe acrescentam.
- possibilita a imprescindível uniformidade dos textos.
- evita a duplicidade de interpretações que poderia decorrer de um tratamento personalista dado ao texto.
- possibilita o texto a usar jargões e gírias.

43. O pronome de tratamento Vossa Excelência é usado para as seguintes autoridades. Marque a alternativa em que ela NÃO é usada.

- Presidente da República.
- Ministros de Estado.
- Juizes.
- Secretários Executivos de Ministérios.
- Vereadores.

44. Leia o trecho a seguir.

“Também chamado de poder regrado, é o Direito Positivo que confere Administração Pública com finalidade de atos de própria competência, impondo os elementos e requisitos para sua formalização. Ele significa dizer que o agente público fica a preso ao que diz a lei, sendo assim o administrador tem o mínimo sobre a liberdade de ação, em caso que desobedeça a lei, o ato é considerado nulo.”

O trecho diz respeito ao poder

- a) regulamentar
- b) disciplinado.
- c) vinculado.
- d) discricionário.
- e) hierárquico.

45. Leia as afirmativas a seguir e marque (V) para as VERDADEIRAS e (F) para as FALSAS.

() Segundo o princípio da moralidade, a Administração Pública está sujeita aos princípios legais, ou seja, às leis ou normas administrativas contidas na Constituição.

() O princípio da impessoalidade, em sua essência, diz respeito à necessidade de o Estado agir de modo imparcial perante terceiros, não podendo beneficiar nem causar danos a pessoas específicas, mas sempre buscando chegar à comunidade ou a um grupo amplo de cidadãos.

() O princípio da publicidade diz respeito à divulgação oficial do ato para conhecimento público e é requisito da eficácia e da moralidade.

() O princípio da eficiência exige que a atividade administrativa seja exercida de maneira eficiente, com rendimento funcional.

Marque a alternativa que contém a sequência CORRETA.

- a) V – F – V – F.
- b) V – V – F – F.
- c) F – V – F – V.
- d) F – V – V – V.
- e) V – F – V – V.

46. A respeito do poder de polícia, assinale a alternativa INCORRETA.

- a) Sua finalidade é proteger o interesse público em sentido amplo.
- b) O poder de polícia administrativa tem como seu objetivo buscar o bem, o direito e a atividade individual que ofereça risco à sociedade ou à segurança da nação.
- c) O poder da polícia é uma forma de reduzir os abusos do direito coletivo.
- d) O poder de polícia abrange a proteção, a moral e os bons costumes, desde a preservação da saúde pública até o controle de publicações, incluindo também segurança nos transportes e segurança nacional.
- e) Os atributos específicos e peculiares ligados ao poder de polícia são três: discricionariedade, autoexecutoriedade e coercibilidade.

47. Leia o excerto a seguir.

“A _____ é a retirada do ato administrativo em decorrência do beneficiário ter descumprido condição tida como indispensável para a manutenção do ato.”

Assinale a alternativa que preenche corretamente a lacuna.

- a) caducidade
- b) convalidação
- c) revogação
- d) anulação
- e) cassação

48. No que diz respeito aos atos administrativos, assinale a alternativa que contém um ato ordinatório.

- a) Pareceres
- b) Atestados
- c) Aprovações.
- d) Ofícios.
- e) Licenças.

49. Leia as afirmativas a seguir.**O processo licitatório tem por objetivos:**

- I. incentivar a inovação e o desenvolvimento nacional sustentável.
- II. evitar contratações com sobrepreço ou com preços manifestamente inexequíveis e superfaturamento na execução dos contratos.
- III. assegurar tratamento isonômico entre os licitantes, bem como a justa competição.
- IV. assegurar a seleção da proposta apta a gerar o resultado de contratação mais vantajoso para a Administração Pública, exceto no que se refere ao ciclo de vida do objeto.

Marque a opção que apresenta as afirmativas CORRETAS.

- a) III – IV.
- b) I – II.
- c) II – III – IV.
- d) I – II – III.
- e) I – II – III – IV.

50. É a modalidade de licitação obrigatória para aquisição de bens e serviços comuns cujo critério de julgamento poderá ser o de menor preço ou o de maior desconto.

- a) Leilão.
- b) Pregão.
- c) Concurso.
- d) Concorrência.
- e) Diálogo competitivo.

51. Marque a alternativa INCORRETA.

Além do vencimento e das vantagens previstas no Regime Jurídico dos Servidores Públicos, serão deferidos aos servidores as seguintes retribuições, gratificações e adicionais:

- a) retribuição pelo exercício de função de direção, chefia e assessoramento.
- b) gratificação natalina.
- c) adicional noturno.
- d) adicional de férias.
- e) gratificação de semestre.

52. Leia as afirmativas a seguir e marque (V) para as VERDADEIRAS e (F) para as FALSAS.**Conceder-se-á ao servidor licença**

- () por motivo de doença em pessoa da família.
- () para atividade política.
- () para capacitação.
- () para desempenho de mandato classista.

Marque a alternativa que contém a sequência CORRETA.

- a) V – V – F – F.
- b) F – V – V – F.
- c) V – F – F – V.
- d) F – F – F – F.
- e) V – V – V – V.

53. Assinale a alternativa que contém um método de arquivamento usado para fazer a organização dos documentos por data.

- a) Eletrônico.
- b) Numérico cronológico.
- c) Numérico simples.
- d) Numérico dígito-terminal.
- e) Geográfico.

54. Segundo o Regime Jurídico dos Servidores Públicos, assinale a alternativa CORRETA.

- Remuneração é o vencimento do cargo efetivo, acrescido das vantagens pecuniárias permanentes estabelecidas em lei.
- O vencimento do cargo efetivo, acrescido das vantagens de caráter permanente, não é irredutível.
- A exoneração de cargo efetivo se dará sempre a pedido do servidor.
- Redistribuição é o deslocamento do servidor, a pedido ou de ofício, no âmbito do mesmo quadro, com ou sem mudança de sede.
- Remoção é o deslocamento do servidor, com o respectivo cargo, para quadro de pessoal de outro órgão ou entidade do mesmo poder, cujos planos de cargos e vencimentos sejam idênticos, observado sempre o interesse da administração.

55. Analise as afirmativas a seguir sobre os princípios fundamentais previstos na Lei Orgânica do Município de Santana do Acaraú e marque a alternativa INCORRETA.

- Firme observância da Constituição da República Federativa do Brasil e da Constituição do Estado do Ceará, mesmo com certas incompatibilidades com a Carta Magna.
- Absoluto respeito aos direitos humanos com garantia de amparo e defesa do idoso, do doente, da criança e da maternidade.
- Garantia de austeridade administrativa e de transparência das ações e de exercício dos poderes municipais, amplamente explicitadas na legislação codificada e ordinária do Município.
- Compromisso de integração no processo de desenvolvimento econômico do País, do Nordeste, do Ceará e desta Região Fisiográfica como fator de melhor distribuição de renda e de eliminação da condição de pobreza.
- A intransigente defesa do interesse nacional da riqueza e patrimônio da Nação, do espaço marítimo e aéreo contra o que não prevalecerão interesses internacionais ou multinacionais.

56. O equipamento presente no escritório, capaz de digitalizar um documento e transferir suas informações a um computador, fazendo cópias digitais de documentos, é denominado

- copiadora.
- scanner.
- notebook.
- celular.
- multifuncional.

57. Leia as afirmativas a seguir.

Em consonância com a Lei Orgânica do Município de Santana do Acaraú, ao Município compete, privativamente,

- elaborar o orçamento, prevendo a receita e fixando a despesa, com base em planejamento adequado.
- promover a proteção do meio ambiente local, observada a legislação e a ação fiscalizadora federal e estadual.
- conceder licença ou autorização para abertura e funcionamento de estabelecimentos industriais, comerciais e similares.
- dispor sobre concessão, permissão e utilização de serviços públicos locais.

Marque a opção que apresenta as afirmativas CORRETAS.

- II – III.
- I – III.
- I – IV.
- II – IV.
- III – IV.

58. O atalho de teclado, usado para selecionar todos os itens em um documento ou em uma janela, é o

- Ctrl + A.
- Ctrl + C.
- Ctrl + Y.
- Ctrl + Shift + C.
- F10.

59. Analise a imagem a seguir.



A ferramenta do Microsoft Word destacada pelo círculo vermelho na imagem acima é usada para

- diminuir o recuo da página.
- criar uma lista de vários níveis.
- criar uma lista numerada.
- criar uma lista com marcadores.
- centralizar o conteúdo na página.

60. O programa que nos permite navegar por páginas, imagens, vídeos e textos, é chamado

- Extranet.
- Intranet.
- Browser.
- Firewall.
- VPN.