

AVANÇASP



PREFEITURA MUNICIPAL DE SÃO
LOURENÇO DA SERRA/SP

CONCURSO PÚBLICO
01/2023

ENFERMEIRO

Leia atentamente as instruções abaixo

1. PROVA E FOLHA DE RESPOSTAS

Além deste Caderno de Prova, contendo 50 (cinquenta) questões objetivas, você receberá do Fiscal de Sala:

- 01 (uma) Folha de Respostas destinada às respostas das questões objetivas. Confira se seus dados estão corretos.

2. TEMPO

- 03 (três) horas é o tempo disponível para realização da prova, já incluído o tempo para marcação da Folha de Respostas da prova objetiva;

- **01 (uma) hora** após o início da prova é possível, retirar-se da sala levando o caderno de prova;

3. INFORMAÇÕES GERAIS

- As questões objetivas têm 05 (cinco) alternativas de resposta (A, B, C, D, E) e somente **uma** delas está correta;
- Verifique se seu caderno está completo, sem repetição de questões ou falhas. Caso contrário, informe imediatamente o Fiscal da Sala, para que sejam tomadas as devidas providências;
- Confira seus dados pessoais na Folha de Respostas, especialmente nome, número de inscrição e documento de identidade e leia atentamente as instruções para preenchimento;
- O preenchimento das respostas da prova objetiva é de sua responsabilidade e não será permitida a troca de Folha de Respostas em caso de erro de marcação pelo candidato;

- Marque, na folha de respostas, com caneta de tinta azul ou preta, a letra correspondente à alternativa que você escolheu.

- Reserve tempo suficiente para o preenchimento de suas respostas. Para fins de avaliação, serão levadas em consideração apenas as marcações realizadas na Folha de Respostas da prova objetiva, não sendo permitido anotar informações relativas às respostas em qualquer outro meio que não seja o caderno de prova;

- Ao se retirar, entregue a Folha de Respostas preenchida e assinada ao Fiscal de Sala.

SERÁ ELIMINADO do presente certame o candidato que:

- a) for surpreendido, durante as provas, em qualquer tipo de comunicação com outro candidato;
- b) portar ou usar, qualquer tipo de aparelho eletrônico (calculadoras, bips/pagers, câmeras fotográficas, filmadoras, telefones celulares, smartphones, tablets, relógios, walkmans, MP3 players, fones de ouvido, agendas eletrônicas, notebooks, palmtops ou qualquer outro tipo de computador portátil, receptores ou gravadores) seja na sala de prova, sanitários, pátios ou qualquer outra dependência do local de prova;
- c) se ausentar da sala em que se realizam as provas levando consigo o Caderno de Questões e/ou a Folha de Respostas;
- d) se recusar a entregar a Folha de Respostas, quando terminar o tempo estabelecido;
- e) não assinar a Lista de Presença e/ou a Folha de Respostas.

LÍNGUA PORTUGUESA
TEXTO

História estranha

Um homem vem caminhando por um parque quando de repente se vê com sete anos de idade. Está com quarenta, quarenta e poucos. De repente dá com ele mesmo chutando uma bola perto de um banco onde está a sua babá fazendo tricô. Não tem a menor dúvida de que é ele mesmo. Reconhece a sua própria cara, reconhece o banco e a babá. Tem uma vaga lembrança daquela cena. Um dia ele estava jogando bola no parque quando de repente aproximou-se um homem e... O homem aproxima-se dele mesmo. Ajoelha-se, põe as mãos nos seus ombros e olha nos seus olhos. Seus olhos se enchem de lágrimas. Sente uma coisa no peito. Que coisa é a vida. Que coisa pior ainda é o tempo. Como eu era inocente. Como meus olhos eram limpos. O homem tenta dizer alguma coisa, mas não encontra o que dizer. Apenas abraça a si mesmo, longamente. Depois sai caminhando, chorando, sem olhar para trás. O garoto fica olhando para a sua figura que se afasta. Também se reconheceu. E fica pensando, aborrecido: quando eu tiver quarenta, quarenta e poucos anos, como eu vou ser sentimental! Vivendo e... Eu sabia fazer pipa e hoje não sei mais. Duvido que se hoje pegasse uma bola de gude conseguisse equilibrá-la na dobra do dedo indicador sobre a unha do polegar, quanto mais jogá-la com a precisão que tinha quando era garoto. Outra coisa: acabo de procurar no dicionário, pela primeira vez, o significado da palavra "gude". Quando era garoto nunca pensei nisso, eu sabia o que era gude. Gude era gude. Juntando-se as duas mãos de um determinado jeito, com os polegares para dentro, e assoprando pelo buraquinho, tirava-se um silvo bonito que inclusive variava de tom conforme o posicionamento das mãos. Hoje não sei mais que jeito é esse. Eu sabia a fórmula de fazer cola caseira. Algo envolvendo farinha e água e muita confusão na cozinha, de onde éramos expulsos sob ameaças. Hoje não sei mais. A gente

começava a contar depois de ver um relâmpago e o número a que chegasse quando ouvia a trovoadas, multiplicado por outro número, dava a distância exata do relâmpago. Não me lembro mais dos números. Ainda no terreno dos sons: tinha uma folha que a gente dobrava e, se ela rachasse de um certo jeito, dava um razoável pistom em miniatura. Nunca mais encontrei a tal folha. E espremendo-se a mão entre o braço e o corpo, claro, tinha-se o chamado trombone axilar, que muito perturbava os mais velhos. Não consigo mais tirar o mesmo som. É verdade que não tenho tentado com muito empenho, ainda mais com o país na situação em que está. Lembro o orgulho com que consegui, pela primeira vez, cuspir corretamente pelo espaço adequado entre os dentes de cima e a ponta da língua de modo que o cuspe ganhasse distância e pudesse ser mirado. Com prática, conseguia-se controlar a trajetória elíptica da cusparada com uma mínima margem de erro. Era puro instinto. Hoje o mesmo feito requereria complicados cálculos de balística, e eu provavelmente só acertaria a frente da minha camisa. Outra habilidade perdida. Na verdade, deve-se revisar aquela antiga frase. É vivendo e desaprendendo. Não falo daquelas coisas que deixamos de fazer porque não temos mais as condições físicas e a coragem de antigamente, como subir em bonde andando — mesmo porque não há mais bondes andando. Falo da sabedoria desperdiçada, das artes que nos abandonaram. Algumas até úteis. Quem nunca desejou ainda ter o cuspe certo de garoto para acertar em algum alvo contemporâneo, bem no olho, e depois sair correndo? Eu já.

Luiz Fernando Veríssimo

QUESTÃO 01

Segundo o autor, as habilidades desenvolvidas na infância, que costumam se perder na vida adulta, são importantes porque:

- (A) São consideradas sabedoria e podem ser úteis, independentemente da fase da vida.
- (B) Elas mantêm o espírito de juventude em cada pessoa.
- (C) São mais importantes que os conhecimentos adquiridos na vida adulta.
- (D) Representam lembranças afetivas.
- (E) Demonstram ainda mais inteligência.

QUESTÃO 02

O trecho "Que coisa é a vida. Que coisa pior ainda é o tempo." se refere:

- (A) Às perdas do autor.
- (B) Ao esquecimento do autor.
- (C) Ao medo do autor de falecer.
- (D) Ao encontro do autor consigo mesmo anos mais novo.
- (E) Ao parque.

QUESTÃO 03

Considere as seguintes sentenças retiradas do texto: I) "Seus olhos se encham de lágrimas"; II) "Tinha uma folha que a gente dobrava e, se ela rachasse de um certo jeito, dava um razoável pistom em miniatura"; III) "E espremendo-se a mão entre o braço e o corpo, claro, tinha-se o chamado trombone axilar". As quatro ocorrências da palavra "se", na ordem em que aparecem, são, respectivamente:

- (A) parte integrante do verbo; conjunção condicional; índice de indeterminação do sujeito; índice de indeterminação do sujeito.
- (B) pronome apassivador; conjunção condicional; pronome reflexivo; pronome reflexivo.
- (C) parte integrante do verbo; conjunção integrante; índice de indeterminação do sujeito; índice de indeterminação do sujeito.
- (D) parte integrante do verbo; conjunção condicional; pronome apassivador; pronome apassivador.
- (E) pronome reflexivo; conjunção integrante; índice de indeterminação do sujeito; pronome reflexivo.

QUESTÃO 04

Considere o excerto "tirava-se um silvo bonito que inclusive variava de tom conforme o posicionamento das mãos." São sinônimos da palavra "silvo":

- (A) Sussurro e zumbido.
- (B) Assobio e zunido.
- (C) Assobio e sibilo.
- (D) Sussurro e mugido.
- (E) Uivo e sibilo.

QUESTÃO 05

Observe as sentenças retiradas do texto: I) "Não tem a menor dúvida de que é ele mesmo." II) "Tem uma vaga lembrança daquela cena." III) "Eu sabia a fórmula de fazer cola caseira." Em relação à regência nominal, assinale a alternativa que apresenta os termos regentes em cada uma das sentenças, respectivamente.

- (A) menor; vaga; eu.
- (B) dúvida; cena; cola.
- (C) dúvida; lembrança; fórmula.
- (D) ele; daquela; caseira.
- (E) dúvida; vaga; fórmula.

QUESTÃO 06

Considere o trecho "Falo da sabedoria desperdiçada, das artes que nos abandonaram. Algumas até úteis." As palavras "falo", "sabedoria", "que" e "até" são, respectivamente, das classes gramaticais:

- (A) substantivo, substantivo, conjunção, advérbio.
- (B) verbo, adjetivo, conjunção, advérbio.
- (C) verbo, substantivo, preposição, substantivo.
- (D) advérbio, adjetivo, preposição, substantivo.
- (E) verbo, substantivo, conjunção, advérbio.

QUESTÃO 07

Assinale a alternativa que apresenta a sentença correta.

- (A) As reuniões são realizadas às terças-feiras.
- (B) Dedicou o livro à ambas as irmãs.
- (C) O envelope foi entregue a empresa.
- (D) Agradeço à Pedro.
- (E) A festa será as 10h.

QUESTÃO 08

Considere as seguintes sentenças: I) Eu me lembro daquela canção. II) Falta-me descanso. III) Esforçar-me-ei para que tudo dê certo. Nas sentenças dadas, o uso do pronome "me" se trata, respectivamente, de:

- (A) próclise, próclise, mesóclise.
- (B) ênclise, próclise, próclise.
- (C) ênclise, ênclise, mesóclise.
- (D) próclise, próclise, ênclise.
- (E) próclise, ênclise, mesóclise.

QUESTÃO 09

Assinale a alternativa que apresenta todas as palavras acentuadas corretamente.

- (A) lingüiça; café; assembléia; fórum.
- (B) herói; enjoo; pêlo; eloquência.
- (C) paranóia; ideia; cajá; jiboia.
- (D) arguição; heroico; saúde; anéis.
- (E) boléia; hifens; tranquilo; frequência.

QUESTÃO 10

Assinale a alternativa que apresenta uma oração subordinada adverbial concessiva.

- (A) Conforme avançavam, percebiam que a trilha desaparecia.
- (B) O evento será cancelado caso não haja verba.
- (C) A fim de acalmar seu cão, cantou uma canção de ninar.
- (D) O atleta não se inscreveu na competição, conquanto quisesse fazê-lo.
- (E) Decidi deixar o casaco em casa, porque não estava ventando.

MATEMÁTICA E RACIOCÍNIO LÓGICO

QUESTÃO 11

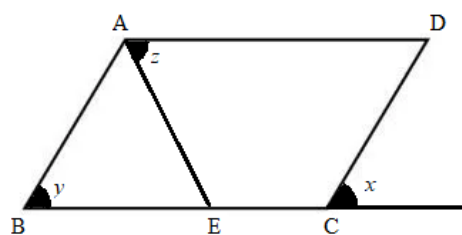
Sabe-se que na antiguidade a necessidade de representar partes de um inteiro resultou no surgimento de um novo conjunto numérico, o conjunto dos números Racionais. Hoje em dia os números fracionários fazem parte do nosso cotidiano, e algumas razões inclusive representam contextos matemáticos notáveis em nossa rotina.

Um bom exemplo é a razão centesimal, que pode simbolizar o conceito de:

- (A) Proporção.
- (B) Medida.
- (C) Porcentagem.
- (D) Juros.
- (E) Velocidade.

QUESTÃO 12

Considere o paralelogramo ABCD e o triângulo ABE. Sabendo que o triângulo é equilátero, os valores em graus dos ângulos x, y e z respectivamente na figura abaixo são:



- (A) 60° , 60° e 40°
- (B) 60° , 60° e 60°.
- (C) 60° , 60° e 50°.
- (D) 40° , 60° e 60°.
- (E) 60° , 40° e 60°.

QUESTÃO 13

Celma trabalha como cozinheira em uma escola. Ela não dispõe de conhecimentos matemáticos, mas sabe preparar as refeições em grande quantidade sem que haja desperdício. A proporção usada por ela para cozinhar o feijão é 1 para 20, considerando as grandezas kg e crianças respectivamente. Tendo em conta que a média de crianças que fazem a refeição na escola diariamente é de 215, a quantidade de feijão consumida nesta escola na semana, em dias de aula, ou seja, de segunda a sexta-feira é:

- (A) 5375 g
- (B) 53750 g.
- (C) 537500 g.
- (D) 5375000 g.
- (E) 53750000 g.

QUESTÃO 14

Na tabela abaixo é possível relacionar cada letra à uma sequência. Sabendo que as sequências atendem um padrão, a opção que indica corretamente os valores que completam a linha correspondente a letra E na tabela é:

A	2	4	6	...
B	4	8	12	...
C	16	32	48	...
D	256	512	768	...
E	-	-	-	...

- (A) 65536, 131070, 196608.
- (B) 65530, 131070, 196608.
- (C) 65536, 131072, 196608.
- (D) 65536, 131072, 262144.
- (E) 65536, 131070, 262140.

QUESTÃO 15

Uma esfiharia resolveu fazer uma pesquisa com seus clientes para saber as preferências em relação aos sabores das esfihas de calabresa, carne e queijo. Ao todo foram ouvidas 555 pessoas, e os resultados dispostos na tabela abaixo mostram que os entrevistados tem preferencias individuais e por 2 sabores.

SABORES	PESSOAS
Calabresa	265
Carne	270
Queijo	280
Calabresa e queijo	126
Carne e queijo	144

Analisando a tabela é correto afirmar que a quantidade de pessoas que gostam apenas de esfiha de queijo é:

- (A) 10.
- (B) 26
- (C) 144
- (D) 149
- (E) 280

QUESTÃO 16

Um professor de matemática propôs o seguinte desafio em sala: Encontrar a medida do maior lado do esquadro que os alunos utilizavam nas aulas de geometria. O esquadro utilizado pelos alunos tem formato de um triângulo retângulo e escaleno. Sabe-se que a razão entre os dois menores lados é 3 para 2, e que a medida do menor lado do esquadro é 10 cm. Logo a medida do maior lado do esquadro é:

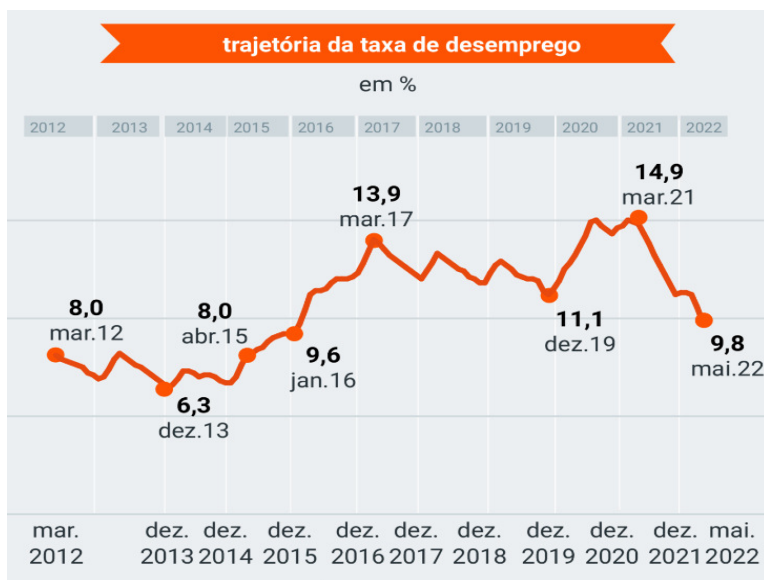
Considere $\sqrt{13} = 3,6$

- (A) 15 cm
- (B) 16 cm
- (C) 18 cm.
- (D) 20 cm
- (E) 22 cm.

QUESTÃO 17

A taxa de desemprego no Brasil caiu para 9,8% em 2022, a menor taxa registrada desde 2016 conforme mostra o gráfico abaixo.

O resultado foi muito melhor que o esperado pelo mercado, e a expectativa é que esse padrão se mantenha em 2023.



Fonte: Poder360.com.br e IBGE

De acordo com dados do IBGE a população atual do Brasil é de aproximadamente 214,3 milhões de pessoas, sendo assim, para que em 2023 o país consiga desacelerar ainda mais essa taxa e superar a menor taxa desde 2012 o total de pessoas desempregadas teria que ser menor que:

- (A) 13.500.900 pessoas.
- (B) 14.000.400 pessoas.
- (C) 20.572.800 pessoas.
- (D) 21.001.400 pessoas.
- (E) 22.632.100 pessoas.

QUESTÃO 18

Considere um retângulo ABCD cujo lado menor mede L e o lado maior mede o dobro do lado menor. A razão entre a área do retângulo e a diagonal D é:

- (A) $\frac{\sqrt{5}}{5}$
- (B) $\frac{L\sqrt{5}}{5}$
- (C) $\frac{5L\sqrt{2}}{5}$
- (D) $\frac{2L\sqrt{5}}{5}$
- (E) $\frac{2L\sqrt{5}}{25}$

QUESTÃO 19

O futebol é um dos esportes mais assistidos no mundo. O Gol é o momento mais ansiado numa partida, e alguns jogadores se destacam por conseguirem fazer muitos gols durante os jogos. A tabela abaixo compara dados de dois jogadores em um campeonato em 2022.

147	Jogos	218
0.71	Gols por jogo	0.79
0.39	Assistências por jogo	0.35
64'	Mins p/ participar de gol	70'
54%	Conversão de chances claras	47%
2.9	Passes decisivos por jogo	1.7
0.7	Grandes chances criadas por jogo	0.5
4.8	Dribles certos por jogo	2.8
58%	Acerto no drible	55%
4.0	Faltas sofridas por jogo	1.4

De acordo com os números da tabela é correto dizer que ao término do campeonato:

- (A) Os dois jogadores juntos fizeram mais de 300 gols.
- (B) A diferença entre o total de gols feitos pelos dois jogadores é menor que 70.
- (C) Um dos jogadores fez menos de 100 gols.
- (D) Cada jogador fez mais de 150 gols.
- (E) Os dois jogadores juntos fizeram menos de 200 gols.

QUESTÃO 20

Considere o ponto W com coordenadas (x, y) solução do sistema abaixo.

$$\begin{cases} 2x - 3y = -4 \\ 5y - x = -5 \end{cases}$$

Para representar esse ponto no plano cartesiano é necessário que suas coordenadas sejam:

- (A) Abscissa positiva e ordenada positiva.
- (B) Abscissa positiva e ordenada negativa.
- (C) Abscissa negativa e ordenada positiva.
- (D) Abscissa negativa e ordenada negativa.
- (E) Abscissa negativa e ordenada nula.

NOÇÕES DE INFORMÁTICA
QUESTÃO 21

Qual é o atalho do MS-Windows 7 para desfazer uma ação?

- (A) Ctrl + X
- (B) Ctrl + L
- (C) Ctrl + Z
- (D) Ctrl + C
- (E) Ctrl + V

QUESTÃO 22

Qual é o atalho do MS-Windows 7 para avançar entre as guias?

- (A) Ctrl + Tab
- (B) Ctrl + Shift + Tab
- (C) Tab
- (D) Shift + Tab
- (E) Alt + letra sublinhada

QUESTÃO 23

Qual é o atalho do MS-Windows 7 para procurar um arquivo ou uma pasta?

- (A) Ctrl + A
- (B) F3
- (C) Alt + Enter
- (D) Alt + F4
- (E) Alt + Barra de espaços

QUESTÃO 24

Qual o tipo de protocolo usado para a comunicação entre computadores na internet?

- (A) HTTP
- (B) SSH
- (C) FTP
- (D) SMTP
- (E) UDP

QUESTÃO 25

Qual dos itens abaixo é a opção correta para a criação de um índice no MS-Word 2016?

- (A) Ir na aba “Design” e selecionar a opção “Índices”
- (B) Ir na aba “Seção” e selecionar a opção “Índices”
- (C) Ir na aba “Referências” e selecionar a opção “Índices”
- (D) Ir na aba “Ferramentas” e selecionar a opção “Índices”
- (E) Ir na aba “Revisar” e selecionar a opção “Índices”

CONHECIMENTOS ESPECÍFICOS**QUESTÃO 26**

Sobre a abordagem do paciente em parada cardiorrespiratória (PCR), analise as afirmativas a seguir.

- I.** A busca de pulso central isoladamente é o marcador mais confiável de PCR.
- II.** Para leigos, recomenda-se iniciar as compressões torácicas apenas após constatar a ausência de pulso central.
- III.** Para profissionais da saúde, a busca por pulso central não deve exceder 10 segundos. Se não houver pulso deve-se iniciar as compressões torácicas imediatamente.

Está(ão) correta(s) a(s) afirmativa(s):

- (A) I e II, apenas.
- (B) III, apenas.
- (C) I, apenas.
- (D) II, apenas.
- (E) I, II e III.

QUESTÃO 27

Ao encaminhar o paciente para o centro cirúrgico, o enfermeiro observou no prontuário o termo “*Angor*”. Assinale a alternativa que expressa o significado desta terminologia.

- (A) Alergia severa.
- (B) Sintomas gripais.
- (C) Transtornos compulsivos.
- (D) Febre alta e intermitente.
- (E) Dor angustiante, com estado de pânico.

QUESTÃO 28

Crises histéricas são consideradas emergências psiquiátricas que podem resultar em situações de risco iminente para o paciente ou outrem. Sobre a intervenção da equipe de saúde nesses casos, analise as afirmativas a seguir e, logo após, marque (V) para verdadeira e (F) para falsa.

- () Comumente, pacientes com dentes cerrados e tendência a aproximação excessiva apresentam risco de agressividade.
- () A restrição ou contenção física deve ocorrer em todos os casos de transtornos psiquiátricos.
- () A restrição física deve ser realizada, preferencialmente, por uma equipe treinada de cinco indivíduos, e durar o mínimo de tempo possível.
- () Durante a contenção, o paciente deve ser acompanhado permanentemente por um dos membros da equipe de enfermagem para sua segurança e conforto.

A sequência está correta em:

- (A) F – F – V – F.
- (B) V – F – V – V.
- (C) V – V – V – V.
- (D) V – F – V – F.
- (E) F – F – F – F.

QUESTÃO 29

Certo enfermeiro acompanha um paciente internado diagnosticado com poliomelite. O profissional tem notado um padrão respiratório ineficaz, relacionado com a fraqueza ou com a paralisia dos músculos respiratórios. Sobre as intervenções da enfermagem nesses casos, assinale a alternativa **INCORRETA**.

- (A) Deve-se manter pérvias as vias respiratórias do cliente, e providenciar uma bandeja de traqueostomia à beira do leito.
- (B) Para evitar úlceras de pressão, deve-se realizar a mudança de decúbito a intervalos frequentes e manter as roupas de cama secas e esticadas.
- (C) Deve-se orientar o cliente a usar chinelos de saltos altos apropriados, ou uma prancha para os pés, a fim de evitar ptose dos pés.
- (D) Em hipótese alguma esses clientes devem receber alimentos por sonda nasogástrica.
- (E) Para evitar a disseminação, deve-se lavar as mãos cuidadosamente após o contato com o cliente, ou com quaisquer secreções e excreções dele.

QUESTÃO 30

O paciente deu entrada na emergência do hospital com perda da capacidade de expressar-se por meio da voz, escrita ou por sinalização; apresentava-se impossibilitado de compreender a linguagem falada ou escrita, em decorrência de uma disfunção dos centros cerebrais. Ainda, o paciente mostrava-se impossibilitado de deglutir. Os profissionais da enfermagem podem expressar-se sobre o quadro desse paciente recorrendo ao seguinte termo técnico:

- (A) Abrasão.
- (B) Histeria.
- (C) Alopecia.
- (D) Afagia.
- (E) Algia.

QUESTÃO 31

O Código de Ética é um instrumento normativo que estabelece os princípios e as condutas esperadas por determinado grupo profissional. No que se refere às penalidades aplicadas aos profissionais da Enfermagem ao cometerem atos de infração, assinale a alternativa correta.

(A) A advertência verbal consiste na admoestação ao infrator, podendo ser de forma reservada ou pública, não havendo obrigatoriedade de registro no prontuário do profissional.

(B) A multa consiste em imposições de pagamentos que variam de 10 (dez) a 60 (sessenta) vezes o valor da anuidade da categoria profissional à qual pertence o infrator, em vigor no ato do pagamento.

(C) A suspensão consiste na proibição do exercício profissional da enfermagem de forma definitiva, e deverá ser divulgada no Diário Oficial da União.

(D) A cassação consiste na perda temporária do direito ao exercício da enfermagem, e deverá ser divulgada no Diário Oficial da União.

(E) A censura consiste em repreensão que será divulgada nas publicações oficiais dos Conselhos Federal e Regional de Enfermagem e em jornais de grande circulação.

QUESTÃO 32

Ao monitorar a condição geral do paciente, o profissional de enfermagem identificou um quadro de bradipneia. Essa condição pode ser constatada por:

(A) Redução no número de movimentos respiratórios.

(B) Aparecimento de feridas na região do acesso venoso.

(C) Extravasamento de sangue no equipo.

(D) Urina contendo sangue.

(E) Fezes acólicas.

QUESTÃO 33

Considere as definições a seguir:

1. Coleção de pus que se forma nos tecidos comprometidos pela infecção microbiana.

2. Funcionamento normal dos órgãos dos sentidos, especialmente da visão e audição.

3. Impossibilidade de falar.

É correto afirmar que as definições fornecidas em 1; 2 e 3 correspondem as seguintes terminologias:

(A) 1. Debridamento; 2. Acuidade; e 3. Anúria.

(B) 1. Abscesso; 2. Colúria; e 3. Colite.

(C) 1. Angina; 2. Cianose; e 3. Apatia.

(D) 1. Abscesso; 2. Acuidade; e 3. Anepia.

(E) 1. Laceração; 2. Alopecia; e 3. Anoxia.

QUESTÃO 34

Para a administração endovenosa, a diluição de Aminofilina (24 mg/mL) precisou ser realizada para que a concentração de 1 mg/mL fosse atingida. Se 100 mL de soro fisiológico for utilizado, o volume requerido da solução estoque (Aminofilina 24 mg/mL, o frasco estoque contém um volume total de 10 mL) será aproximadamente de:

(A) 7,3 mL.

(B) 5,0 mL.

(C) 4,2 mL.

(D) 1,5 mL.

(E) 3,5 mL.

QUESTÃO 35

No que tange às terminologias utilizadas pelos profissionais da saúde, a expressão “Êmese” refere-se à(ao):

- (A) Incontinência urinária.
- (B) Ato de vomitar.
- (C) Perda de sangue pelo nariz.
- (D) Acúmulo de pús em uma cavidade natural.
- (E) Avaliação inicial do paciente.

QUESTÃO 36

No campo de administração de medicamentos e cálculos de diluição, o conhecimento da equivalência e conversões de unidades é fundamental. Acerca do tema, assinale a alternativa correta.

- (A) 1 mililitro = 20 microgotas.
- (B) 1 mililitro = 10 gotas.
- (C) 1 gota = 3 microgotas.
- (D) 1 litro = 10 mililitros.
- (E) mililitro/hora = micrograma/segundo

QUESTÃO 37

As diretrizes de ressuscitação cardiopulmonar (RCP) recomendam que, em adultos, a relação compressão-ventilação seja de:

- (A) 25 compressões torácicas seguidas de 10 ventilações de resgate, durante 40 minutos.
- (B) 35 compressões torácicas seguidas de 5 ventilações de resgate, durante 30 minutos.
- (C) 15 compressões torácicas seguidas de 4 ventilações de resgate.
- (D) 15 compressões torácicas seguidas de 1 ventilação, durante 30 minutos.
- (E) 30 compressões torácicas seguidas de 2 ventilações de resgate (até a chegada do desfibrilador).


QUESTÃO 38

Para uma equipe bem treinada na abordagem do paciente grave, enquanto o enfermeiro realiza o MOV (sigla para monitoração, oxigênio e veia) o médico tira a história do doente enquanto realiza o exame físico. Sobre o procedimento MOV, assinale a alternativa correta.

- (A) O oxigênio suplementar não deve ser oferecido a todo paciente em potencial emergência.
- (B) Para saturação menor que 90 % deve-se utilizar cateter nasal de O₂ com fluxo de 0,1 mL/min.
- (C) Deve-se providenciar o acesso venoso de grosso calibre (jelco calibre 16 ou 18), com preferência pelas veias antecubitais.
- (D) Especialmente nos casos de rebaixamento agudo de nível de consciência, o exame de glicemia capilar não deve ser realizado nesse momento devido aos interferentes biológicos.
- (E) Se a saturação periférica de oxigênio for menor que 90 %, o oxigênio pode ser ofertado por máscara *face shields*.

QUESTÃO 39

A imagem a seguir representa uma boa alternativa para que pacientes analfabetos e crianças expressem a intensidade da dor.



A escala apresentada de faces de dor é nomeada:

- (A) *Yin-Zhang*.
- (B) *Face-Yang*.
- (C) *Chen-Huang*.
- (D) *Wong-Baker*.
- (E) *Zhao-Shell*.

QUESTÃO 40

A principal medida que determina o melhor prognóstico na PCR é o acesso rápido ao desfibrilador externo automático (DEA). Sobre o uso do DEA nos atendimentos de urgência e emergência de vítimas em PCR e as manobras de ressuscitação cardiopulmonar (RCP), assinale a alternativa **INCORRETA**.

- (A) É recomendável que a vítima esteja na posição Sims para o uso do DEA.
- (B) O posicionamento correto do socorrista em relação à vítima é ajoelhado na linha dos ombros do paciente.
- (C) No momento do choque (DEA), o socorrista deve certificar-se de que ninguém está em contato com a vítima.
- (D) Imediatamente após o choque (DEA), deve-se retomar a RCP por 2 minutos, quando o aparelho reavaliará a necessidade de um novo choque.
- (E) Quando houver a mudança do ritmo o aparelho não indica o choque, devendo-se checar o pulso após 2 minutos de RCP.

QUESTÃO 41

Sobre o atendimento de pacientes em choque na urgência e emergência, analise as afirmativas a seguir.

- I.** Choque é uma síndrome caracterizada pela incapacidade do sistema circulatório fornecer oxigênio aos tecidos, levando à disfunção orgânica.
- II.** A Hipotensão arterial é fundamental no diagnóstico de choque, pois sempre estará presente.
- III.** Choque séptico é resultado de uma infecção generalizada.

Está(ão) correta(s) a(s) afirmativa(s):

- (A) I e III, apenas.
- (B) III, apenas.
- (C) I, apenas.
- (D) II, apenas.
- (E) I, II e III.

QUESTÃO 42

Considerando o disposto no Código de Ética dos profissionais de Enfermagem no que se refere às relações profissionais, são proibições da profissão, **EXCETO**:

- (A) Ser conivente com a injúria.
- (B) Realizar a difamação de membro da equipe.
- (C) Promover a calúnia.
- (D) Estar aliado a atos condescendentes.
- (E) Ser conivente com crime.

QUESTÃO 43

Nos termos do Código de Ética dos profissionais de Enfermagem no que tange ao sigilo profissional, analise as afirmativas a seguir.

- I.** O profissional tem a responsabilidade de manter em sigilo qualquer informação confidencial a que tenha acesso em decorrência de sua atividade profissional, salvo nos casos previstos em lei, por ordem judicial ou com a autorização por escrito da pessoa envolvida ou de seu representante legal.
- II.** Em atividade multiprofissional, o fato sigiloso não poderá ser revelado, mesmo quando necessário à prestação da assistência.
- III.** A manutenção do sigilo profissional relacionado a menor de idade não será aplicável quando houver solicitação dos pais ou responsáveis pela revelação da informação.

Está(ão) correta(s) a(s) afirmativa(s):

- (A) I, apenas.
- (B) III, apenas.
- (C) I e II, apenas.
- (D) II, apenas.
- (E) I, II e III.

QUESTÃO 44

A diluição de Amicacina sulfato (250 mg/mL) precisa ser realizada até a concentração de 5 mg/mL e, então, ser administrada por via endovenosa no paciente. Se 100 mL de soro fisiológico for utilizado, o volume do estoque da solução de Amicacina sulfato para a diluição será de:

- (A) 6 mL.
- (B) 2 mL.
- (C) 5 mL.
- (D) 3 mL.
- (E) 4 mL.

QUESTÃO 45

A dengue, doença de notificação compulsória, apresenta alta prevalência no Brasil. Pacientes portadores de dengue apresentam quadros típicos de:

- (A) Plaquetopenia.
- (B) Trombocitose.
- (C) Plaquetofagia.
- (D) Policitemia vera.
- (E) Trombocitemia.

QUESTÃO 46

O enfermeiro atuava na Unidade Básica de Atendimento (UBS) de um município pequeno, e com sérios problemas de saneamento básico. Certo dia, o profissional presenciou o encaminhamento do paciente para a Unidade de Pronto Atendimento com suspeita de uma patologia reportada como Doença de Weil, febre dos pântanos e icterícia hemorrágica. É correto afirmar que essas denominações são sinônimos de:

- (A) Febre maculosa.
- (B) Dengue.
- (C) Chikungunya.
- (D) Leptospirose.
- (E) Febre amarela.

QUESTÃO 47

Sobre o Código de Ética dos profissionais de Enfermagem, assinale a alternativa correta.

- (A) O profissional de enfermagem deve atuar na reabilitação da saúde de todas as formas de vida.
- (B) É dever do profissional assegurar a pessoa assistência de enfermagem, com poucos danos decorrentes de imperícia, negligência ou imprudência.
- (C) É dever do enfermeiro fundamentar suas relações na prudência, solidariedade e na diversidade de opinião e posição ideológica.
- (D) É direito do enfermeiro abster-se da comunicação ao conselho e aos órgãos competentes fatos que infrinjam dispositivos legais e que possam prejudicar o exercício profissional.
- (E) É dever do profissional exercer a profissão com respeito, compromisso e inequidade.

QUESTÃO 48

Certo enfermeiro está acompanhando um paciente que sofreu reversão de parada cardiorrespiratória. Identifique o sinal que **NÃO** indica um prognóstico neurológico ruim após 24 a 72 horas do evento.

- (A) Reflexos oculares ausentes.
- (B) Presença de sinais evocados de tronco cerebral.
- (C) Padrão de sofrimento cortical difuso grave.
- (D) Decerebração.
- (E) Pressão parcial de dióxido de carbono no final da expiração abaixo de 10 mmHg.

QUESTÃO 49

Certo paciente foi recebido na unidade de emergência com quadro hemorrágico ocasionado por trauma. Nessa situação, o estado de choque pode ser classificado como:

- (A) Hipovolêmico.
- (B) Distributivo.
- (C) Cardiogênico.
- (D) Obstrutivo.
- (E) Cardiopata.

QUESTÃO 50

Segundo o Ministério da Saúde, as mulheres são as principais usuárias do Sistema Único de Saúde em atividades de prevenção e tratamento. Sobre as particularidades dos exames destinados à saúde da mulher, em especial os exames das mamas, assinale a alternativa correta.

- (A) A mamografia detecta apenas tumores maiores que 1 cm, sendo contraindicada para detecção de nódulos pequenos.
- (B) Na galactografia injeta-se contraste radioativo dentro da aréola, antes de realizar a mamografia.
- (C) A aspiração por agulha fina não é utilizada para fins de diagnóstico.
- (D) A ultrassonografia é ineficaz para distinguir um cisto mamário cheio de líquido de um tumor sólido.
- (E) Cintilografias são utilizadas para exames histológicos.

