



HOSPITAL REGIONAL DE LAGARTO DA UNIVERSIDADE FEDERAL DE SERGIPE – HRL-UFS
CONCURSO PÚBLICO 04/2016 - EBSERH/HRL-UFS
EDITAL Nº 03 – ÁREA ASSISTENCIAL

NÍVEL MÉDIO/TÉCNICO - TARDE

TÉCNICO EM CITOPATOLOGIA

Nome do Candidato

Inscrição

COMPOSIÇÃO DO CADERNO

Língua Portuguesa 01 a 10

Raciocínio Lógico e Matemático 11 a 15

Legislação Aplicada à EBSERH 16 a 20

Legislação Aplicada ao SUS 21 a 25

Conhecimentos Específicos 26 a 50

INSTRUÇÕES

1. Confira seu nome, o número do seu documento e o número de sua inscrição na Folha de Respostas. Além disso, não se esqueça de conferir seu Caderno de Questões quanto a falhas de impressão e de numeração e se o emprego corresponde àquele para o qual você se inscreveu. Preencha os campos destinados à assinatura e ao número de inscrição. Qualquer divergência comunique ao fiscal.

2. O único documento válido para avaliação é a Folha de Respostas. Só é permitido o uso de caneta esferográfica transparente de cor azul ou preta para o preenchimento desse documento, que deve ser preenchido da seguinte maneira: ●

3. O prazo de realização da prova é de 4 (quatro) horas, incluindo a marcação da Folha de Respostas. Após 60 (sessenta) minutos do início da prova, o candidato estará liberado para utilizar o sanitário ou deixar definitivamente o local de aplicação. Os 3 (três) últimos candidatos só poderão retirar-se da sala juntos.

4. Ao término de sua prova, comunique ao fiscal, devolvendo-lhe a Folha de Respostas, devidamente preenchida e assinada. O candidato poderá levar consigo o Caderno de Questões, desde que aguarde em sala o prazo de realização da prova estabelecido em edital.

5. As provas e os gabaritos preliminares estarão disponíveis no site do Instituto AOCB - www.institutoaocp.org.br, no dia posterior à aplicação da prova.

6. Implicará na eliminação do candidato, caso, durante a realização das provas, qualquer equipamento eletrônico venha emitir ruídos, mesmo que devidamente acondicionado no envelope de guarda de pertences. O NÃO cumprimento a qualquer uma das determinações constantes em Edital, no presente Caderno ou na Folha de Respostas incorrerá na eliminação do candidato.



----- (destaque aqui) -----

Gabarito Rascunho

01	02	03	04	05	06	07	08	09	10	11	12	13	14	15	16	17	18	19	20	21	22	23	24	25
26	27	28	29	30	31	32	33	34	35	36	37	38	39	40	41	42	43	44	45	46	47	48	49	50

SOLIDÃO INTERATIVA

Ronaldo Coelho Teixeira

A primeira vez que vi esse termo foi por meio de um jeca superjôia: Juraíldes da Cruz. Tocantino de Aurora, radicado em Goiânia, Goiás e um dos maiores compositores contemporâneos brasileiros. Não seria pra menos! Afinal, foi ele quem criou o hit que Genésio Tocantins espalhou pelo Brasil por meio do Domingão do Faustão, na TV Globo, em 1999. “Nóis é jeca, mas é joia”, aquele da farinhada, feita da mandioca, da macaxeira ou do aipim, a depender da região brasileira. Sacada de mestre, de quem está sempre antenado ao mundo e aos seus. Juraíldes da Cruz em sua letra, visionária – como tudo o que os gênios, as antenas da raça fazem – já arrepiava: “Tiro o bicho de pé com canivete, mas já tô na internet”. E isso quando a www ainda engatinhava.

Mas com esse achado que agora evoco aqui, o artista quer mesmo é alertar para o mau uso das tecnologias, sobre coisas que o homem cria, mas que geralmente acaba escravo delas. Solidão interativa foi cunhado pelo sociólogo francês Dominique Wolton. Em sua tese, o autor alerta quanto ao cuidado para com o uso da internet, principalmente das redes sociais, chamando a atenção para um detalhe vital no avanço das tecnologias de comunicação: não importam formas e meios de expressão, a comunicação humana não foi, não é e nunca será algo tão simples, sempre vai conter grandeza e dificuldade.

Wolton justifica-se dizendo que a internet é incrível para a comunicação entre pessoas e grupos que tenham os mesmos interesses, mas está longe de ser uma ferramenta de comunicação de coesão entre pessoas e grupos diferentes. E que por isso, a internet não é uma mídia, mas um sistema de comunicação comunitário. Ele prova isso afirmando que podemos passar horas, dias na internet e sermos incapazes de ter uma verdadeira relação humana com quem quer que seja.

A solidão interativa grassa nas redes sociais, especialmente no facebook. São fotos e fotos postadas – a maioria – forjando uma felicidade quando, na verdade, é tudo fake. As mais usuais são aquelas em que o autor se autofotografa – as famosas selfies – e sai espalhando-as de um dia para o outro, quando não, de uma hora para outra.

Tem as gastronômicas. Aquelas em que o autor

antes de comer um prato ou uma iguaria especial, fotografa e já a lança na rede como a dizer que está podendo. Mas aquela comidinha do dia a dia, a da vida real, ele jamais vai postar. Ovo frito? Nem pensar! E aquelas dos momentos felizes? Sim, tem gente que acha que os seus instantes de lazer e diversão têm que, obrigatoriamente, ser vistos por todos. E lá vai um post ao lado do namorado ou namorada, dos amigos, geralmente com ares de forçação de barra. Porque a gaiola do tempo, forjada por nós mesmos, só pode ser aberta pela chave da felicidade plena.

E tem aquela que é emblemática: a mensagem em que o internauta revela o status do seu sentimento. Mas o ápice da solidão interativa está naquela figura que posta alguma coisa e ela mesma vai lá e a curte. De dar dó, não?

Temos milhares de ‘amigos’ nessa cornucópia virtual. Nessa Caixa de Pandora do Século XXI, eis-nos diante de uma incoerente quimera: o autoengano. [...]

O autoengano é peça-chave para a nossa sobrevivência. Mentimos – a partir dos dois meses de idade – não só para os outros, mas, principalmente, para nós mesmos. Mesmo protegidos na redoma da interatividade, continuamos sós, ali, onde apenas a solidão nos alcança. Enquanto teclamos a torto e a direito, sugerindo que estamos sempre ON, a vida verdadeira continua OFF. E nunca nos damos conta de que, no fim, toda a solidão que nos rodeia, essa sim, é real. Porque bytes, bits e pixels não transmitem calor. E o verbo sem o hálito quente é apenas palavra morta.

Adaptado de: < http://lounge.obviousmag.org/espantelho_lirico/2016/08/solidao-interativa.html >.

1. Ronaldo Coelho Teixeira, no texto, discute

- (A) a definição de solidão interativa, com base em Juraíldes da Cruz e Dominique Wolton. Para isso, utiliza experiências pessoais, relatando estar sempre cercado de amigos virtuais, que compartilham os mesmos interesses, publicando apenas as partes positivas dos acontecimentos diários e escondendo a solidão real que enfrenta.
- (B) a utilização da internet em sociedades contemporâneas. Para isso, mostra a visão de outros autores, descrevendo características positivas e negativas desse uso, mostrando que as pessoas estão sempre cercadas de muitos amigos e costumam compartilhar momentos agradáveis e felizes. A partir disso, o autor postula a não existência de uma solidão real e interativa.
- (C) o uso da internet em sociedades modernas. Para isso, associa a sua visão à de outros autores, apontando características essencialmente positivas desse processo interativo. Assim, enfatiza o quanto a internet aproxima grupos com interesses diferentes e mostra o cotidiano real dos indivíduos que a usam.
- (D) o conceito de solidão interativa, cunhado por Dominique Wolton. Para o sociólogo francês, a expressão está relacionada a características psicológicas de indivíduos que trabalham com comunicação, os quais passam grande parte do tempo conectados, enfrentando, diariamente, uma solidão real.
- (E) a relação das pessoas com o uso da internet. Para isso, concilia sua visão à de outros autores, apontando características prioritariamente negativas desse processo interativo. Assim, ressalta o caráter ilusório da comunicação e da expressão virtual, mostrando que, por trás da grande quantidade de amigos e da aparente positividade dos acontecimentos diários, está oculta uma solidão real.

2. Com base na interpretação dos excertos do texto, assinale a alternativa correta.

- (A) Em “o ápice da solidão interativa está naquela figura que posta alguma coisa e ela mesma vai lá e a curte.”, o autor propõe que, na sociedade atual, ter a atitude de curtir as próprias publicações é um gesto admirável que deve ser propagado.
- (B) O excerto “Porque bytes, bits e pixels não transmitem calor. E o verbo sem o hálito quente é apenas palavra morta.” permite afirmar que, apesar de o contato físico ter pontos positivos, ele não supera os benefícios possibilitados pelo contato virtual.

- (C) No trecho “[...] o artista quer mesmo é alertar para o mau uso das tecnologias, sobre coisas que o homem cria, mas que geralmente acaba escravo delas.”, Ronaldo Coelho Teixeira faz uma interpretação da canção de Juraíldes, destacando que não é a internet que é nociva ao indivíduo, mas sim o uso inadequado que é feito dela.
- (D) O autor, no excerto “[...] podemos passar horas, dias na internet e sermos incapazes de ter uma verdadeira relação humana com quem quer que seja.” afirma que, para termos um contato físico mais verdadeiro, é necessário ter um contato virtual por um longo período.
- (E) Com base em “Enquanto teclamos a torto e a direito, sugerindo que estamos sempre ON, a vida verdadeira continua OFF.”, pode-se afirmar que, para que a vida verdadeira esteja sempre ligada, é preciso estar continuamente conectado.

3. Em relação aos verbos destacados a seguir, assinale a alternativa correta.

- (A) No excerto “Juraíldes da Cruz em sua letra visionária [...] já arrepiava: ‘Tiro o bicho de pé com canivete, mas já tô na internet.’”, o verbo em destaque está conjugado na terceira pessoa do singular, no modo indicativo e no tempo pretérito imperfeito.
- (B) Em “E isso quando a www ainda engatinhava.”, o verbo em destaque está conjugado na terceira pessoa do singular, no modo indicativo e no tempo pretérito perfeito.
- (C) No excerto “[...] não importam formas e meios de expressão, a comunicação humana não foi, não é e nunca será algo tão simples [...]”, o verbo em destaque está conjugado na terceira pessoa do plural, no modo subjuntivo e no tempo presente.
- (D) Em “Mesmo protegidos na redoma da interatividade, continuamos sós [...]”, o verbo em destaque está conjugado na primeira pessoa do plural, no modo indicativo e no tempo futuro do presente.
- (E) No trecho “Afinal, foi ele quem criou o hit que Genésio Tocantins espalhou pelo Brasil por meio do Domingão do Faustão [...]”, o verbo em destaque está conjugado na terceira pessoa do singular, no modo indicativo e no tempo pretérito mais-que-perfeito.



4. A partir dos trechos do texto, assinale a alternativa correta.

- (A) Em “A solidão interativa grassa nas redes sociais, especialmente no facebook.”, a vírgula antecede uma conjunção explicativa.
- (B) Em “Enquanto teclamos a torto e a direito, sugerindo que estamos sempre ON, a vida verdadeira continua OFF.”, a vírgula destacada separa o sujeito do verbo.
- (C) Em “[...] a comunicação humana não foi, não é e nunca será algo tão simples [...]”, a vírgula antecede uma conjunção aditiva.
- (D) Em “[...] a internet é incrível para a comunicação entre pessoas e grupos que tenham os mesmos interesses, mas está longe de ser uma ferramenta de comunicação de coesão entre pessoas e grupos diferentes.”, a vírgula antecede conjunção adversativa.
- (E) Em “Final, foi ele quem criou o hit que Genésio Tocantins espalhou pelo Brasil por meio do Domingão do Faustão [...]”, a vírgula marca a presença de um vocativo.

5. Em “Nessa Caixa de Pandora do Século XXI, eis-nos diante de uma incoerente quimera: o autoengano.”, a palavra destacada pode ser substituída, sem prejuízo de sentido, por

- (A) verdade.
- (B) ilusão.
- (C) tristeza.
- (D) constatação.
- (E) situação.

6. No excerto “Wolton justifica-se dizendo que a internet é incrível para a comunicação entre pessoas e grupos que tenham os mesmos interesses, mas está longe de ser uma ferramenta de comunicação de coesão entre pessoas e grupos diferentes. E que por isso, a internet não é uma mídia, mas um sistema de comunicação comunitário.”, os termos destacados são, respectivamente:

- (A) polissílabo paroxítono; trissílabo oxítono.
- (B) trissílabo paroxítono; dissílabo paroxítono.
- (C) dissílabo paroxítono; trissílabo oxítono.
- (D) polissílabo paroxítono; dissílabo oxítono.
- (E) trissílabo paroxítono; dissílabo oxítono.

7. Dentre as alternativas a seguir, assinale a que apresenta a classificação correta do termo destacado.

- (A) Em “Mas aquela comidinha do dia a dia, a da vida real, ele jamaiz vai postar.”, o termo é um advérbio de lugar.
- (B) Em “As mais usuais são aquelas em que o autor se autofotografa – as famosas selfies [...]”, o termo cumpre a função de adjetivo.
- (C) Em “A primeira vez que vi esse termo foi por meio de um jeca superjóiá: Juraildes da Cruz.”: o termo é um pronome demonstrativo.
- (D) Em “E lá vai um post ao lado do namorado ou namorada, dos amigos, geralmente com ares de forçação de barra.”, o termo é uma conjunção aditiva.
- (E) Em “O autoengano é peça-chave para a nossa sobrevivência.”, o termo é uma conjunção integrante.

8. Assinale a alternativa correta, em relação à palavra destacada a seguir: “Wolton justifica-se dizendo que a internet é incrível para a comunicação entre pessoas e grupos que tenham os mesmos interesses [...]”.

- (A) “se”, nesse contexto, é um pronome reflexivo e está em posição mesoclítica.
- (B) “se”, nesse contexto, é um pronome possessivo e está em posição enclítica.
- (C) “se”, nesse contexto, é um pronome demonstrativo e está em posição proclítica.
- (D) “se”, nesse contexto, é um pronome reflexivo e está em posição enclítica.
- (E) “se”, nesse contexto, é um pronome indefinido e está em posição enclítica.



9. Assinale a alternativa correta.

- (A) No excerto, "(...) os seus instantes de lazer e diversão têm que, obrigatoriamente, ser vistos por todos.", o verbo destacado está acentuado, pois concorda com o sujeito, cujo núcleo está no plural.
- (B) A conjugação do verbo destacado a seguir está incorreta, pois ele deveria estar no singular, por concordar com "a comunicação": "[...] a internet é incrível para a comunicação entre pessoas e grupos que tenham os mesmos interesses [...]".
- (C) Em "Aqueles em que o autor antes de comer um prato ou uma iguaria especial, fotografa e já a lança na rede como a dizer que está podendo.", o verbo destacado está no singular, porque concorda com "iguaria especial".
- (D) O termo em destaque no excerto a seguir deveria estar no gênero feminino (comunitária), para concordar com "mídia"; "[...] a internet não é uma mídia, mas um sistema de comunicação comunitário".
- (E) No trecho, "Mesmo protegidos na redoma da interatividade, continuamos sós, ali, onde apenas a solidão nos alcança", o termo destacado deveria estar no plural, pois, sintaticamente, concorda com o pronome oblíquo "nos".

10. O trecho destacado em "Wolton justifica-se dizendo que a internet é incrível para a comunicação entre pessoas e grupos que tenham os mesmos interesses, mas está longe de ser uma ferramenta de comunicação de coesão entre pessoas e grupos diferentes", é uma oração

- (A) coordenada sindética aditiva.
- (B) coordenada sindética adversativa.
- (C) coordenada sindética conclusiva.
- (D) coordenada assindética.
- (E) coordenada sindética explicativa.

- 11. Certa cidade do interior, buscando aumentar o número de passageiros nos ônibus durante os horários de menor movimento, desenvolveu um sistema para a cobrança das passagens. Apenas no horário entre 9h 30min e 11h 30min, haveria um preço diferenciado na tarifa em todos os seus ônibus e cada passageiro pagaria apenas 60% do valor total da passagem (nos demais horários os passageiros pagariam o preço normal da tarifa). José entrou no ônibus as 10h e, imediatamente, pagou R\$2,40 pela passagem. Caso tivesse usado o ônibus as 15h, teria que gastar, com a sua passagem,**
- (A) R\$ 0,96.
- (B) R\$ 1,20.
- (C) R\$ 1,44.
- (D) R\$ 4,00.
- (E) R\$ 6,00.

- 12. Considere os conjuntos A, B e C de modo que: A é composto por todos os números pares entre 1 e 29, B é composto por todos os múltiplos de 3 entre 1 e 29 e C é composto por todos os números primos entre 1 e 29. Assim, sobre a intersecção entre A, B e C, é correto afirmar que**
- (A) é o conjunto formado pelos múltiplos de 6.
- (B) é o conjunto {6, 12, 24}.
- (C) é o conjunto unitário {2}.
- (D) tem todos os elementos entre 1 e 29.
- (E) é o conjunto vazio.

- 13. Observe a sequência de palavras a seguir e, a partir da análise do seu padrão, assinale a alternativa, que melhor se encaixa no lugar de "???"**

(FÉ, PAZ, AMOR, UNIÃO, ÁRVORE, SININHO, ???)

- (A) NATAL.
- (B) PRESENTE.
- (C) ESPERANÇA.
- (D) HARPA.
- (E) ANJO.

14. Se “Toda ação tem uma reação”, é correto afirmar, logicamente, que

- (A) “Alguma ação tem reação”.
- (B) “Nenhuma ação tem reação”.
- (C) “Há ação sem reação”.
- (D) “Há reação sem ação”.
- (E) “Nenhuma reação tem ação”.

15. Arthur jogou uma moeda três vezes e observou a face voltada para cima ao fim de cada movimento. Após o último resultado, afirmou: “Saíram três vezes a face coroa”. Leonardo estava acompanhando cada um dos lançamentos e, ao ouvir isso, acusou Arthur: “MENTIRA!”. Se Leonardo está certo, é correto afirmar que

- (A) saíram três caras.
- (B) não saiu sequer uma coroa.
- (C) ao menos uma não era coroa.
- (D) saíram três coroas.
- (E) saíram duas caras e uma coroa.

LEGISLAÇÃO APLICADA À EBSEERH

16. De acordo com o que estabelece a Lei Federal nº 12.550/2011, assinale a alternativa correta.

- (A) A Empresa Brasileira de Serviços Hospitalares (EBSEERH) tem personalidade jurídica de direito público e patrimônio próprio, é vinculada ao Ministério da Saúde, com prazo de duração de vinte anos, prorrogáveis por igual período, em caso de manutenção das necessidades que a instituiu.
- (B) A EBSEERH não poderá criar subsidiárias para o desenvolvimento de atividades inerentes ao seu objeto social.
- (C) A EBSEERH terá seu capital social dividido em parte sob propriedade da União e parte sob a propriedade da iniciativa privada, vedada a participação de empresas multinacionais.
- (D) É dispensada a licitação para a contratação da EBSEERH pela administração pública para realizar atividades relacionadas ao seu objeto social.
- (E) A EBSEERH, em respeito ao princípio da autonomia universitária, não poderá prestar os serviços relacionados às suas competências mediante contrato com as instituições federais de ensino ou instituições congêneres.

17. Conforme o Estatuto Social da EBSEERH, aprovado pelo Decreto nº 7.661, de 28 de dezembro de 2011, assinale a alternativa correta.

- (A) A EBSEERH será administrada por uma Diretoria Executiva, composta pelo Presidente e até seis Diretores, todos nomeados e destituíveis, a qualquer tempo, pelo Presidente da República, por indicação do Ministro de Estado da Educação.
- (B) A EBSEERH será administrada por uma Diretoria Executiva, composta pelo Presidente e até nove Diretores, todos nomeados e destituíveis, a qualquer tempo, pelo Presidente da República, por indicação do Ministro de Estado da Educação.
- (C) A EBSEERH será administrada por uma Diretoria Executiva, composta pelo Presidente e até três Diretores, todos nomeados e destituíveis, a qualquer tempo, pelo Presidente da República, por indicação do Ministro de Estado da Saúde.
- (D) A EBSEERH será administrada por uma Diretoria Executiva, composta pelo Presidente e até três Diretores, todos nomeados e destituíveis, a qualquer tempo, pelo Ministro de Estado da Saúde, por indicação do Ministro de Estado da Educação.
- (E) A EBSEERH será administrada por uma Diretoria Executiva, composta pelo Presidente e até nove Diretores, todos nomeados e destituíveis, a qualquer tempo, pelo Ministro de Estado da Educação, por indicação do Ministro de Estado da Saúde.

18. De acordo com o que estabelece o Regimento Interno da EBSEERH - 3ª revisão, a respeito da estrutura organizacional da EBSEERH, são órgãos de administração:

- (A) o Conselho de Administração, a Diretoria Executiva, o Conselho Consultivo e a Auditoria Interna.
- (B) o Conselho Consultivo e a Auditoria Interna.
- (C) o Conselho de Administração, a Diretoria Executiva, o Conselho Consultivo e a Comissão de Ética.
- (D) o Conselho de Administração, o Conselho Consultivo e a Comissão de Ética.
- (E) o Conselho de Administração, a Diretoria Executiva e o Conselho Consultivo.

19. De acordo com o que estabelece o Regimento Interno da EBSEERH - 3ª revisão, a respeito do Conselho Consultivo, assinale a alternativa correta.

- (A) O Conselho Consultivo é o órgão permanente da EBSEERH que tem a finalidade de oferecer consultoria e apoio à Diretoria Executiva e ao Conselho de Administração, além de avaliar e fazer sugestões em relação ao papel social da EBSEERH, de acordo com seus objetivos específicos na sociedade.
- (B) O Conselho Consultivo é constituído pelos seguintes membros: o Presidente da EBSEERH, que o preside; dois representantes do Ministério da Educação; dois representantes do Ministério da Saúde; quatro representantes dos usuários dos serviços de saúde dos hospitais universitários federais, filiais da EBSEERH, indicados pelo Conselho Nacional de Saúde.
- (C) Os membros do Conselho Consultivo serão indicados anualmente, pelos respectivos órgãos ou entidades, e designados pelo Ministro de Estado da Saúde, sendo suas investidas feitas mediante registro na ata da primeira reunião de que participarem.
- (D) A atuação de membros da sociedade civil no Conselho Consultivo será remunerada por subsídio equivalente a vinte por cento da remuneração dos Diretores, assegurada, inclusive, a indenização das despesas com locomoção, estadia e alimentação necessárias ao desempenho da função.
- (E) O Conselho Consultivo reunir-se-á, ordinariamente, pelo menos uma vez por semana e, extraordinariamente, a pedido de dois terços dos seus membros ou sempre que convocado pelo Presidente, por sua iniciativa ou por solicitação do Conselho de Administração.

20. De acordo com o que estabelece o Regimento Interno da EBSEERH - 3ª revisão, o Conselho Fiscal, como órgão permanente da EBSEERH, é composto

- (A) por seis membros efetivos e respectivos suplentes, nomeados pelo Ministro de Estado da Educação, sendo: dois membros indicados pelo Ministro de Estado da Educação, dos quais um exercerá a presidência e o outro a vice-presidência; dois membros indicados pelo Ministro de Estado da Saúde; e dois membros indicados pelo Ministro de Estado da Fazenda, como representantes do Tesouro Nacional.
- (B) por três membros efetivos e respectivos suplentes, nomeados pelo Ministro de Estado da Educação, sendo: um membro indicado pelo

Ministro de Estado da Educação, que exercerá a presidência; um membro indicado pelo Ministro de Estado da Saúde; e um membro indicado pelo Ministro de Estado da Fazenda, como representante do Tesouro Nacional.

- (C) por seis membros efetivos e respectivos suplentes, nomeados pelo Ministro de Estado da Educação, sendo: um membro indicado pelo Ministro de Estado da Educação, que exercerá a presidência; três membros indicados pelo Ministro de Estado da Saúde; e dois membros indicados pelo Ministro de Estado da Fazenda, como representantes do Tesouro Nacional.
- (D) por três membros efetivos e respectivos suplentes, nomeados pelo Ministro de Estado da Saúde, sendo: um membro indicado pelo Ministro de Estado da Educação, que exercerá a presidência e dois membros indicados pelo Ministro de Estado da Fazenda, como representante do Tesouro Nacional.
- (E) por seis membros efetivos e respectivos suplentes, nomeados pelo Ministro de Estado da Saúde, sendo: dois membros indicados pelo Ministro de Estado da Educação; três membros indicados pelo Ministro de Estado da Saúde; e um membro indicado pelo Ministro de Estado da Fazenda, como representante do Tesouro Nacional e que exercerá a presidência.

LEGISLAÇÃO APLICADA AO SUS

21. Acerca da participação da iniciativa privada no Sistema Único de Saúde (SUS), de acordo com as disposições constitucionais, assinale a alternativa correta.

- (A) A assistência à saúde é vedada às instituições privadas com fins lucrativos.
- (B) A participação direta ou indireta de empresas ou capitais estrangeiros na assistência à saúde no País, salvo nos casos previstos em lei, é vedada.
- (C) Independentemente de previsão legal, é permitida a participação, desde que indireta, de empresas ou capitais estrangeiros na assistência à saúde no País.
- (D) É vedada a destinação de recursos públicos para auxílios ou subvenções às entidades filantrópicas e às sem fins lucrativos.
- (E) As instituições privadas poderão participar de forma complementar do sistema único de saúde, segundo diretrizes deste, mediante contrato de direito privado, não havendo preferência para as entidades filantrópicas e as sem fins lucrativos.



22. A respeito da direção do Sistema Único de Saúde (SUS), de acordo com o que dispõe a Lei nº 8.080/1990, assinale a alternativa correta.

- (A) A direção do Sistema Único de Saúde (SUS), no âmbito da União, será exercida pelo Presidente da República.
- (B) Em âmbito Municipal, a direção do Sistema Único de Saúde (SUS) será exercida pelo Ministro da Saúde.
- (C) No âmbito dos Estados, a direção do Sistema Único de Saúde (SUS) será exercida pelo Governador.
- (D) Em âmbito Municipal, a direção do Sistema Único de Saúde (SUS) será exercida pelo Prefeito ou, na sua falta, pelo Presidente da Câmara Municipal.
- (E) A direção do Sistema Único de Saúde (SUS), no âmbito da União, será exercida pelo Ministro da Saúde.

23. Assinale a alternativa que apresenta corretamente o percentual recomendado na Resolução nº 453/2012 do Conselho Nacional de Saúde para renovação, a cada eleição, das entidades representativas dos segmentos de representações de usuários, trabalhadores e prestadores de serviços.

- (A) 50%.
- (B) 40%.
- (C) 30%.
- (D) 10%.
- (E) 20%.

24. A respeito da evolução histórica da organização do sistema de saúde no Brasil, assinale a alternativa correta.

- (A) Em 1953, foi criado, pelo presidente da República, Carlos Luz, o Ministério da Saúde, desmembrando-o do Ministério da Educação, tendo como seu primeiro-ministro Antônio Balbino de Carvalho Filho.
- (B) Todo o período anterior à Constituição Federal de 1988 caracterizou-se pela predominância do modelo liberal privado tradicional: assistência médica individual oferecida pelas Santas Casas e instituições de caridade a quem não podia pagar ou por médicos tipicamente liberais, mediante remuneração direta, inexistindo qualquer interferência governamental no setor da saúde.
- (C) No fim de 1975, elegeram-se, em pleitos diretos, vários governadores de oposição ao regime militar e, com eles, passaram a ocupar espaços

políticos e técnicos importantes, nas Secretarias Estaduais de Saúde, participantes do movimento sanitário.

- (D) Em 1975, foi criado o Programa de Interiorização das Ações de Saúde e Saneamento (PIASS), que foi implementado a partir de 1977, abrangendo a região Sudeste do país.
- (E) Após a promulgação da Constituição Federal, em 1988, foi implantado, no Poder Executivo Federal, um arranjo institucional denominado Sistema Unificado e Descentralizado de Saúde (SUDS).

25. De acordo com o Decreto Presidencial nº 7.508/2011, assinale a alternativa que apresenta corretamente o prazo em que o Ministério da Saúde deve consolidar e publicar as atualizações das Relações Nacionais de Ações e Serviços de Saúde – RENASES.

- (A) Anualmente.
- (B) A cada cinco anos.
- (C) A cada três anos.
- (D) A cada dois anos.
- (E) No final de cada exercício financeiro.

CONHECIMENTOS ESPECÍFICOS

26. A técnica de fixação na qual o fixador é injetado no coração com volume de injeção que combina com o fluxo de saída cardíaca e se espalha através do corpo inteiro é denominada

- (A) infiltração.
- (B) branqueamento.
- (C) perfusão.
- (D) tramitação.
- (E) bombeamento.



27. Analise as assertivas e assinale a alternativa que aponta as corretas sobre o processo de fixação dos tecidos.

- I. O paraformaldeído comercial tem sido o fixador mais recomendado para análises imuno-histoquímicas.
- II. Dentre os fixadores aldeídos, o carbowax é o mais usado na rotina histológica devido ao seu baixo custo financeiro, além de ser de fácil preparo.
- III. Quando o formaldeído é exposto à luz e ao oxigênio atmosférico, ocorre a oxidação do formaldeído, formando ácido fórmico que pode se precipitar nos tecidos sob a forma de um pigmento de coloração marrom.
- IV. A formalina tamponada de Carson ou formalina em tampão Millonig é preparada basicamente com formaldeído e cloreto de sódio.

- (A) Apenas I e II.
- (B) Apenas II e III.
- (C) Apenas I e III.
- (D) Apenas II e IV.
- (E) Apenas III e IV.

28. O fixador BLE é indicado para a fixação de larvas e adultos de helmintos a quente. Para preparar esse fixador, um técnico deve dispor de

- (A) hidróxido de alumínio, álcool etílico e anidro.
- (B) metanol, ácido acético e álcool isopropílico.
- (C) ácido clorídrico, água destilada e formaldeído.
- (D) butanol, ácido acético glacial e água destilada.
- (E) álcool etílico, formaldeído e ácido acético glacial.

29. Um técnico está preparando o fragmento de um rim para a confecção de lâminas histológicas. Nessa etapa do processo, ele imergiu o fragmento de tecido, já fixado, em álcool etílico com concentrações crescentes. O técnico está realizando uma etapa denominada

- (A) impregnação.
- (B) coloração.
- (C) clarificação.
- (D) desidratação.
- (E) cintilação.

30. A clarificação visa remover completamente o álcool do interior dos tecidos, preparando-os para as etapas subsequentes. O agente clarificante mais comumente utilizado é o

- (A) xilol.
- (B) formol.
- (C) ácido acético glacial.
- (D) glutaraldeído.
- (E) acetaldeído.

31. Um estagiário recém-contratado em um laboratório deve confeccionar lâminas com amostras de tecidos para estudo. Ele utilizará o Entellan. Para isso, é fundamental que ele saiba que

- (A) nessa técnica as amostras devem estar livres de água.
- (B) essa técnica é utilizada para clarificar tecidos.
- (C) o Entellan deve ser diluído em água para ser utilizado.
- (D) por ser a base de água o Entellan pode reter umidade na amostra.
- (E) para essa técnica é necessário hidratar a amostra.

32. Assinale a alternativa correta sobre a coloração de hematoxilina e eosina.

- (A) A hematoxilina, por seu caráter ácido, cora o citoplasma de rosa.
- (B) Nessa coloração, os núcleos são corados pela eosina, sendo evidenciados em roxo.
- (C) O núcleo e os espaços intercelulares são corados pela eosina, sendo evidenciados em rosa.
- (D) A eosina cora o citoplasma e os espaços intercelulares de roxo.
- (E) Nessa coloração, os núcleos são corados pela hematoxilina, sendo evidenciados em roxo.

33. Um técnico está preparando uma coloração denominada Van Gieson. Essa técnica é utilizada para evidenciar quais estruturas no tecido?

- (A) Lipídeos.
- (B) Feixes musculares.
- (C) Fibras elásticas.
- (D) Ácidos graxos.
- (E) Calcificações.







34. Assinale a alternativa que apresenta somente corantes utilizados na técnica de Papanicolaou.

- (A) Fucsina, fast Green e acetona.
- (B) Lugol, iodo e vermelho de metila.
- (C) Safranina, giemsa azul de toluidina.
- (D) Azul de metila, alumen e PAS.
- (E) Hematoxilina, Orange G e EA-65.

35. Um técnico necessita realizar o desbaste de um tecido fixado em parafina, ou seja, ele realizará

- (A) cortes sucessivos até que se obtenha um corte que abranja todo o tecido a ser analisado.
- (B) cortes sucessivos até encontrar o trecho contendo a menor quantidade de material.
- (C) a imersão do bloco em uma camada extra de parafina para melhorar a qualidade dos cortes.
- (D) a retirada da parafina para poder analisar o tecido.
- (E) cortes sucessivos até encontrar o trecho contendo a maior quantidade de material.

36. Um técnico realizará uma titulação de uma solução de hidróxido de sódio preparada no laboratório. Para esse procedimento, ele irá utilizar qual dos itens apresentados a seguir?

- (A) 
- (B) 
- (C) 
- (D) 

(E)



37. O instrumento de porcelana utilizado em filtração a vácuo que pode ser usado com a função de filtro é

- (A) o funil analítico.
- (B) o funil de buchner.
- (C) o kitassato.
- (D) o gral.
- (E) a cápsula de porcelana.

38. Assinale a alternativa INCORRETA sobre vidrarias e equipamentos de laboratório.

- (A) As vidrarias volumétricas são construídas para conter precisamente um dado volume líquido e não devem ser aquecidas.
- (B) As vidrarias podem ser providas ou não de tampa esmerilhada e normalmente são feitas de vidro resistente e com qualidade química que não altere o produto no seu interior.
- (C) O dessecador é um recipiente fechado hermeticamente, contendo um agente desumidificante, usado para guardar substâncias em atmosfera com baixo índice de umidade.
- (D) O cadinho apresenta paredes finas que não resistem ao atrito nem ao calor e é usado para evaporar líquidos das soluções e na secagem de substâncias em estufas.
- (E) O vidro de relógio é uma peça de porcelana que apresenta paredes finas que não resistem ao atrito, usada para evaporar líquidos das soluções e na secagem de substâncias em estufas.

39. Para preparar 500 ml de uma solução de formaldeído 20%, quantos litros de formaldeído serão utilizados, considerando que o formaldeído é comercializado em solução de 40%.

- (A) 0,200.
- (B) 0,250.
- (C) 0,400.
- (D) 0,500.
- (E) 0,750.

- 40.** Você deve preparar uma solução 1,5 M de ácido pícrico ($C_6H_3N_3O_7$). Para isso, pesará quantos gramas desse ácido?
Dados: H=1; C=12; O=16; N=14.
- (A) 214,6.
(B) 229.
(C) 312.
(D) 343,5.
(E) 374,5.
- 41.** Para preparar 1200 mL de uma solução de ácido sulfúrico 0,5 M, você deve utilizar quantos litros de solução estoque 1,5 M?
- (A) 10.
(B) 0,8.
(C) 2.
(D) 0,4.
(E) 0,3.
- 42.** Preencha as lacunas e assinale a alternativa correta.
A esterilização através do _____ é realizada por meio de um equipamento denominado _____. Nesse método, a temperatura atinge _____°C e é capaz de destruir esporos.
- (A) calor seco / autoclave / 151
(B) vapor sob pressão / estufa / 95
(C) calor seco / forno de Pasteur / 70
(D) método químico / óxido de etileno / 120
(E) calor úmido / autoclave / 121
- 43.** O processo que reduz o número de microrganismos, eliminando grande parte dos contaminantes existentes em um local ou material, e que atua sobre as formas vegetativas, sem atingir necessariamente os esporos, denomina-se
- (A) limpeza.
(B) antissepsia.
(C) desinfecção.
(D) flambagem.
(E) esterilização.
- 44.** O conjunto de estudos e ações destinado a prevenir, controlar, reduzir ou eliminar riscos inerentes às atividades que possam comprometer a saúde humana, animal, vegetal e o meio ambiente é denominado
- (A) segurança do trabalho.
(B) ergonomia.
(C) medidas de contenção.

- (D) barreiras primárias.
(E) biossegurança.

45. A bioética é uma área do conhecimento interdisciplinar cuja finalidade é compreender e resolver questões éticas relacionadas aos avanços tecnológicos da biologia e da medicina e questões que, de alguma forma, influenciam as nossas vidas. A Bioética está apoiada em quatro princípios. São eles:

- (A) honestidade, caridade, bondade e desprendimento.
(B) bondade, tolerância, igualdade e autonomia.
(C) autonomia, não maleficência, beneficência e justiça.
(D) respeito, profissionalismo, avanço tecnológico e honestidade.
(E) beneficência, respeito, profissionalismo e autonomia.

46. Um frasco teve seu rótulo danificado, restando apenas a seguinte imagem.



Para encaminhar esse produto para descarte, é preciso ser cuidadoso, pois ele é

- (A) corrosivo.
(B) irritante.
(C) tóxico.
(D) intoxicante.
(E) comburente.

47. Para a segurança do profissional que trabalha com bactérias patogênicas, é comum manipulá-las em

- (A) regiões próximas à uma luz ultravioleta.
(B) câmara de fluxo laminar com filtro HEPA.
(C) uma capela química ventilada.
(D) uma sala sem ventilação e com temperatura controlada.
(E) uma sala de material contaminado.

48. Riscos ambientais estão presentes nos ambientes de trabalho e são capazes de causar danos à saúde do trabalhador em função de sua natureza, concentração, intensidade ou tempo de exposição. Esses riscos são causados por agentes

- (A) irritantes, corrosivos, contaminantes e fumegantes.
- (B) físicos, químicos, biológicos, ergonômicos e de acidentes.
- (C) causais, previsíveis, letais e danosos.
- (D) inanimados, animados, móveis e imóveis.
- (E) exógenos, endógenos, contaminantes e letais.

49. Diversas simbologias são utilizadas em laboratórios para indicar riscos e perigos. Assinale a alternativa que apresenta apenas simbologias de prevenção de riscos e acidentes.



50. Relacione as colunas e assinale a alternativa com a sequência correta sobre as cores utilizadas em sinalizações em saúde e segurança do trabalho.

- 1. Amarelo.
- 2. Vermelho.
- 3. Verde.
- 4. Laranja.

- () É adotada para sinalizar itens de emergência, como extintores e caixas de alarmes.
- () Caracteriza segurança e está presente em placas de urgência e canalizações de água.
- () Indica cuidado e está presente em fundos de letreiros e bandeiras com sinal de advertência.
- () Está presente em canalizações de ácidos e caixas de dispositivos elétricos.

- (A) 4 – 3 – 2 – 1.
- (B) 2 – 3 – 1 – 4.
- (C) 2 – 3 – 4 – 1.
- (D) 1 – 2 – 3 – 4.
- (E) 3 – 4 – 1 – 2.