



PREFEITURA MUNICIPAL DE PINDAMONHANGABA

ESTADO DE SÃO PAULO

CONCURSO PÚBLICO

112. PROVA OBJETIVA

OFICIAL DE ADMINISTRAÇÃO

- Você recebeu sua folha de respostas e este caderno contendo 50 questões objetivas.
- Confira seus dados impressos na capa deste caderno e na folha de respostas.
- Quando for permitido abrir o caderno, verifique se está completo ou se apresenta imperfeições. Caso haja algum problema, informe ao fiscal da sala para a devida substituição desse caderno.
- Leia cuidadosamente todas as questões e escolha a resposta que você considera correta.
- Marque, na folha de respostas, com caneta de tinta preta, a letra correspondente à alternativa que você escolheu.
- A duração da prova é de 3 horas, já incluído o tempo para o preenchimento da folha de respostas.
- Só será permitida a saída definitiva da sala e do prédio após transcorridos 75% do tempo de duração da prova.
- Deverão permanecer em cada uma das salas de prova os 3 últimos candidatos, até que o último deles entregue sua prova, assinando termo respectivo.
- Ao sair, você entregará ao fiscal a folha de respostas e este caderno.
- Até que você saia do prédio, todas as proibições e orientações continuam válidas.

AGUARDE A ORDEM DO FISCAL PARA ABRIR ESTE CADERNO.

Nome do candidato _____

RG _____

Inscrição _____

Prédio _____

Sala _____

Carteira _____

CONHECIMENTOS GERAIS

LÍNGUA PORTUGUESA

Leia o texto para responder às questões de números **01** a **05**.

Flor-de-maio

Entre tantas notícias do jornal – o crime de Sacopã, o disco voador em Bagé, a nova droga antituberculosa, o andaime que caiu, o homem que matou outro com machado e com foice, o possível aumento do pão – há uma pequenina nota de três linhas, que nem todos os jornais publicaram. É assinada pelo senhor diretor do Jardim Botânico, e diz que a partir do dia 27 vale a pena visitar o Jardim, porque a planta chamada “flor-de-maio” está, efetivamente, em flor.

Meu primeiro movimento, ao ler esse delicado convite, foi deixar a mesa da redação e me dirigir ao Jardim Botânico, contemplar a flor e cumprimentar a administração do horto pelo feliz evento. Mas havia ainda muita coisa para ler e escrever, telefonemas a dar, providências a tomar.

Suspiro e digo comigo mesmo – que amanhã acordarei cedo e irei. Digo, mas não acredito, ou pelo menos desconfio que esse impulso que tive ao ler a notícia ficará no que foi – um impulso de fazer uma coisa boa e simples, que se perde no meio da pressa e da inquietação dos minutos que voam.

No fundo, a minha secreta esperança é de que estas linhas sejam lidas por alguém – uma pessoa melhor do que eu, alguma criatura correta e simples que tire dessa crônica a sua substância, a informação precisa e preciosa: no dia 27 em diante as “flores-de-maio” do Jardim Botânico estão gloriosamente em flor. E que utilize essa informação saindo de casa e indo diretamente ao Jardim Botânico ver a “flor-de-maio”.

Ir só, no fim da tarde, ver a “flor-de-maio”; aproveitar a única notícia boa de um dia inteiro de jornal, fazer a coisa mais bela e emocionante de um dia inteiro da cidade imensa. Se entre vós houver essa criatura, e ela souber por mim a notícia, e for, então eu vos direi que nem tudo está perdido; que a humanidade possivelmente ainda poderá ser salva, e que às vezes ainda vale a pena escrever uma crônica.

(Rubem Braga. *Para gostar de ler*. São Paulo: Ática, 1992, Adaptado)

- 01.** A partir da leitura da crônica, é correto afirmar que a notícia sobre o desabrochar da flor-de-maio
- (A) surpreendeu o autor que, por não se interessar por plantas, procura passar adiante os detalhes a quem se interesse pelo assunto.
 - (B) não foi considerada pelos jornais como algo importante e, portanto, não foi publicada em nenhum meio de comunicação no dia certo.
 - (C) fez o autor se dirigir imediatamente ao Jardim Botânico para cumprimentar o responsável por este acontecimento.
 - (D) foi, segundo o autor, o único fato importante daquele dia, embora os jornais tenham se concentrado em assuntos mais banais.
 - (E) motivou o desejo do autor de ir ao Jardim Botânico para testemunhar algo de belo e emocionante que aconteceu na cidade.
- 02.** A respeito das reflexões feitas pelo autor no texto, é correto afirmar que ele
- (A) considera que vale a pena escrever crônicas se elas servirem para inspirar as pessoas a priorizarem, em seu cotidiano, um acontecimento belo como o florescimento de uma flor-de-maio.
 - (B) vê os leitores como pessoas superiores por não terem tantos compromissos diários que tomam tempo, como textos para ler e escrever e telefonemas para fazer.
 - (C) se mostra sarcástico ao afirmar que a humanidade poderá ser salva se todos os jornais passarem a noticiar os nascimentos das flores em vez de dar notícias ruins.
 - (D) julga que a queda de um andaime e o aumento do preço do pão fazem as pessoas se recolherem em suas casas, enquanto a notícia sobre o nascimento de uma flor as leva a saírem.
 - (E) se mostra orgulhoso por ser o único a notar o nascimento da flor-de-maio e contar o fato para os leitores, ainda que ele não tenha condições de visitar o Jardim Botânico.
- 03.** O trecho – No fundo, a minha secreta esperança é de que estas linhas sejam lidas por alguém... (4º parágrafo) – pode ser assim reescrito, em conformidade com a norma-padrão de regência e emprego dos pronomes relativos:
- (A) No fundo, espero secretamente de que estas linhas sejam lidas por alguém...
 - (B) No fundo, tenho secretamente o desejo cujas estas linhas sejam lidas por alguém...
 - (C) No fundo, secretamente anseio por que estas linhas sejam lidas por alguém...
 - (D) No fundo, tenho secretamente esperanças onde estas linhas sejam lidas por alguém...
 - (E) No fundo, secretamente almejo de que estas linhas sejam lidas por alguém...

04. Assinale a alternativa em que a introdução das vírgulas no trecho foi feita em conformidade com a norma-padrão de pontuação.

- (A) É assinada, pelo senhor diretor, do Jardim Botânico... (1º parágrafo)
- (B) ... e diz que, a partir do dia 27, vale a pena visitar o Jardim... (1º parágrafo)
- (C) Mas havia, ainda muita coisa, para ler e escrever... (2º parágrafo)
- (D) ... desconfio que, esse impulso que tive ao ler a notícia, ficará no que foi... (3º parágrafo)
- (E) ... às vezes, ainda vale a pena, escrever uma crônica. (5º parágrafo)

05. Assinale a alternativa em que a flexão do substantivo composto no plural é feita da mesma forma que ocorre com a palavra “flor-de-maio”.

- (A) beija-flor
- (B) estrela-do-mar
- (C) segunda-feira
- (D) cirurgião-dentista
- (E) bem-me-quer

Leia o texto para responder às questões de números 06 a 10.

OIT: desigualdades de gênero no emprego são maiores do que se pensava

Um novo relatório da Organização Internacional do Trabalho (OIT) revela que as diferenças entre os gêneros no acesso ao emprego e às condições de trabalho são maiores do que se pensava anteriormente. Um novo indicador, desenvolvido pela OIT, capta todas as pessoas sem emprego que estão interessadas em encontrar um emprego. Por esse motivo, ele reflete um quadro muito mais sombrio da situação das mulheres no mundo do trabalho do que a taxa de desemprego mais comumente usada. O documento “Novos dados esclarecem as diferenças de gênero no mercado de trabalho”, indica que 15% das mulheres em idade produtiva em todo o mundo gostariam de trabalhar, mas não têm emprego, em comparação com 10,5% dos homens.

Alacuna de postos de trabalho é particularmente grave nos países em desenvolvimento, onde a proporção de mulheres incapazes de encontrar uma vaga chega a 24,9% nos países de baixa renda. A taxa correspondente para os homens na mesma categoria é de 16,6%, um nível preocupantemente alto, mas significativamente inferior ao das mulheres.

A análise aponta que as responsabilidades pessoais e familiares, incluindo o trabalho de cuidados não remunerado, afetam desproporcionalmente as mulheres. Essas atividades se tornam um impedimento não apenas para uma contratação, mas também para procurar emprego ativamente ou para estarem disponíveis para trabalhos de última hora.

(ONU News. Disponível em: <https://news.un.org/pt/story/2023/03/1810927>. Adaptado)

06. A partir dos dados publicados no relatório da OIT, é possível concluir que

- (A) o acesso ao emprego foi dificultado para as mulheres nos últimos anos em comparação a períodos anteriores.
- (B) 24,9% das pessoas desempregadas nos países em desenvolvimento, atualmente, são mulheres.
- (C) os desequilíbrios de gênero no acesso ao emprego são maiores nos países desenvolvidos.
- (D) 15% das mulheres que não conseguem emprego nos países em desenvolvimento estão em idade produtiva.
- (E) o novo indicador considera como desempregadas um número maior de pessoas quando comparado a outros indicadores.

07. Há palavra empregada em sentido figurado na seguinte alternativa:

- (A) Um novo relatório da Organização Internacional do Trabalho (OIT) revela que as diferenças entre os gêneros no acesso ao emprego... (1º parágrafo).
- (B) Um novo indicador, desenvolvido pela OIT, capta todas as pessoas sem emprego que estão interessadas em encontrar um emprego. (1º parágrafo).
- (C) Por esse motivo, ele reflete um quadro muito mais sombrio da situação das mulheres no mundo do trabalho... (1º parágrafo).
- (D) ... 15% das mulheres em idade produtiva em todo o mundo gostariam de trabalhar... (1º parágrafo).
- (E) ... as responsabilidades pessoais e familiares, incluindo o trabalho de cuidados não remunerado, afetam desproporcionalmente as mulheres. (3º parágrafo).

08. Assinale a alternativa em que a expressão em destaque está corretamente substituída pelo pronome na forma entre parênteses.

- (A) Capta todas **as pessoas** (capta-lhes).
- (B) Ele reflete **um quadro** (ele reflete-lo).
- (C) Novos dados esclarecem **as diferenças** (esclarecem-nas).
- (D) Incapazes de encontrar **uma vaga** (encontrar-na).
- (E) Afetam desproporcionalmente **as mulheres** (afetam-as).

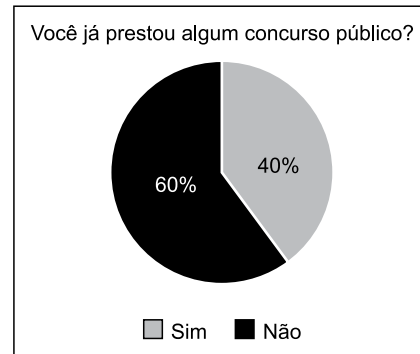
09. Foi reescrito em conformidade com a norma-padrão de concordância o trecho:

- (A) Anteriormente, pensava-se que os desequilíbrios de gênero no acesso ao trabalho fosse menor.
- (B) É captado, com o novo indicador da OIT, todas as pessoas sem emprego que estão interessadas em encontrar um emprego.
- (C) Embora seja considerado alto, a taxa de desemprego entre os homens, de 16,6%, ainda é menor do que a das mulheres.
- (D) As responsabilidades pessoais e familiares e o trabalho de cuidados não remunerado são considerados responsáveis por afetar as mulheres.
- (E) Podem haver certas atividades específicas que se tornam impedimentos para a contratação de mulheres.

10. O sinal indicativo de crase está corretamente empregado na alternativa:

- (A) A participação dos homens no mercado de trabalho deve ser semelhante à das mulheres.
- (B) As mulheres estão aptas à competir por qualquer vaga de emprego, contanto que a sociedade lhes dê oportunidades.
- (C) O direito ao trabalho é inerente à toda mulher, embora em muitos lugares a equidade de gênero ainda seja um desafio.
- (D) O trabalho à que as mulheres aspiram deve levar em consideração também seus direitos reprodutivos.
- (E) Muitas pessoas dedicam-se à pesquisas sobre o impacto do desequilíbrio de gênero na economia dos países.

11. O gráfico representa a distribuição das respostas “sim” e “não” dadas em uma pergunta feita para certa quantidade de pessoas.



Com base nesse gráfico de setores, pretende-se construir um gráfico de colunas. Nesse caso, as colunas representando as respostas devem ter a mesma largura, e a altura da coluna que representa as respostas

- (A) “não” deve corresponder a 1,2 da altura da coluna que representa as respostas “sim”.
- (B) “não” deve corresponder a 1,5 da altura da coluna que representa as respostas “sim”.
- (C) “não” deve corresponder a 1,6 da altura da coluna que representa as respostas “sim”.
- (D) “sim” deve corresponder a 0,8 da altura da coluna que representa as respostas “não”.
- (E) “sim” deve corresponder a 0,4 da altura da coluna que representa as respostas “não”.

12. Para fazer, em determinado período de tempo, o transbordo total de uma substância que ocupa toda a capacidade de um tanque que está a certa altura do solo para outro tanque, maior, que está no solo, abriu-se, totalmente e ao mesmo tempo, 3 das 4 válvulas iguais, uma de cada tubulação com diâmetros também iguais, que ligam ambos os reservatórios. Sabendo-se que todas as válvulas têm a mesma vazão, então, se todas elas tivessem sido totalmente abertas ao mesmo tempo, o período de tempo para o transbordo total do mesmo volume da substância entre os tanques teria diminuído

- (A) em três quartos.
- (B) em dois terços.
- (C) pela metade.
- (D) em dois quintos.
- (E) em um quarto.

13. Um terreno tem forma retangular, com frente medindo 50 m a mais do que sua lateral. Sabendo-se que o perímetro desse terreno é de 380 m, sua área é de
- (A) 8000 m².
 - (B) 8200 m².
 - (C) 8400 m².
 - (D) 8600 m².
 - (E) 8800 m².

14. Considere a seguinte informação, apresentada em um jornal eletrônico:

No período do feriado de Carnaval 2023, a Rodoviária de BH registrou, no intervalo de 12 dias (de quinta-feira, 16/02, a segunda-feira, 27/03), um fluxo aproximado de 257 mil pessoas passando pelo terminal, entre embarques e desembarques. Esse volume representa 15% de crescimento na quantidade de passageiros verificada no mesmo feriado em 2022 [...].

(<https://diariodocomercio.com.br/economia/rodoviaria-de-bh-divulga-dados-consolidados-da-movimentacao-do-feriado-de-carnaval-de-2023/>)

Com base nas informações apresentadas, é correto afirmar que, em 2022, no período em questão, o fluxo aproximado de pessoas passando pelo terminal rodoviário de Belo Horizonte ficou entre

- (A) 218 mil e 220 mil pessoas.
 - (B) 220 mil e 222 mil pessoas.
 - (C) 222 mil e 224 mil pessoas.
 - (D) 224 mil e 226 mil pessoas.
 - (E) 226 mil e 228 mil pessoas.
15. De acordo com uma pesquisa realizada, identificou-se que, em 2023, a cada 3 profissionais que pretendem mudar de emprego, 4 profissionais não pretendem mudar de emprego. Se 518 profissionais participaram dessa pesquisa, a diferença entre o número de profissionais que responderam não pretender mudar de emprego e o número de profissionais que responderam pretender mudar de emprego, em 2023, é igual a
- (A) 74.
 - (B) 86.
 - (C) 92.
 - (D) 110.
 - (E) 130.

16. Dos 40 profissionais que trabalham em certo departamento de uma empresa, alguns ganham 3,5 salários mínimos, 3 profissionais a mais dos que ganham 3,5 salários mínimos, ganham 4 salários mínimos, e os demais, ganham 5 salários mínimos. Se, nesse departamento, a soma de todos os salários desses profissionais é igual a 167 salários mínimos, então a quantidade de profissionais que têm o maior salário é igual a
- (A) 12.
 - (B) 13.
 - (C) 14.
 - (D) 15.
 - (E) 16.
17. Em certa empresa que tem colaboradores de diversas categorias profissionais com regimes de carga horária regidas por diferentes convenções coletivas, há um colaborador que faz 10 minutos de intervalo a cada 40 minutos trabalhados, e outro que faz 10 minutos de intervalo a cada 50 minutos trabalhados. Esses dois profissionais iniciam sua jornada diária à 9h da manhã e trabalham 6 horas por dia, sem pausa para almoço. Supondo-se um dia em que ambos cumpram rigorosamente seus horários de trabalho e pausas, haverá um horário em que ambos iniciarão uma de suas pausas ao mesmo tempo, que será às
- (A) 11h e 50 min.
 - (B) 12h e 20 min.
 - (C) 12h e 50 min.
 - (D) 13h e 20 min.
 - (E) 13h e 50 min.
18. A produção de certa quantidade de um produto é automatizada e efetuada por uma única prensa. Para produzir uma quantidade x de unidades desse produto, essa prensa trabalha, ininterruptamente, ou não, durante 4 horas, 11 minutos e 6 segundos. Pretende-se dividir a quantidade produzida em 3 partes de igual período. Sendo assim, cada parte da produção terá um período de tempo igual a 1 hora,
- (A) 04 minutos e 02 segundos.
 - (B) 15 minutos e 06 segundos.
 - (C) 23 minutos e 42 segundos.
 - (D) 37 minutos e 02 segundos.
 - (E) 44 minutos e 18 segundos.

19. A tabela, construída com informações do município de Pindamonhangaba, divulgadas pelo Instituto Brasileiro de Geografia e Estatística (IBGE), apresenta informações sobre a produção e o valor total da venda da quantidade produzida de alevinos (peixes nos primeiros minutos de vida), nos anos de 2018 e 2021.

Alevinos – Pindamonhangaba		
	Quantidade produzida (milheiros)	Valor total da venda da quantidade produzida (x 1 000)
2018	75	R\$ 12,97
2021	20	R\$ 4,40



(IBGE. Adaptado)

Com base nas informações apresentadas, é correto afirmar que o valor unitário da venda de alevinos, em Pindamonhangaba, de 2018 para 2021, teve:

- (A) um crescimento entre 25% e 30%
 - (B) um crescimento entre 15% e 20%
 - (C) um crescimento entre 5% e 10%
 - (D) um decréscimo entre 45% e 50%
 - (E) um decréscimo entre 65% e 70%
20. Com base em um artigo científico, um analista ambiental precisa identificar o valor y de determinada grandeza, em relação ao valor $x = 64$, de outra grandeza, ambas com suas unidades tradicionais de medida, cuja relação, no referido artigo, é dada pela expressão $y = x^{\frac{2}{3}}$. Neste caso, o valor que ele encontrará para y , na unidade tradicional de medida, é
- (A) 32.
 - (B) 16.
 - (C) 8.
 - (D) 4.
 - (E) 2.

NOÇÕES DE INFORMÁTICA

21. Tem-se as seguintes pastas, exibidas no Explorador de Arquivos do Microsoft Windows 10, ambas em sua configuração original:

Nome	
 1_LAUDOS	
 2_PERICIAS	

Um usuário deseja criar uma pasta, que seja exibida após a pasta 1_LAUDOS e antes da pasta 2_PERICIAS, seguindo a mesma ordenação da imagem anterior. Para isso, essa pasta deve se chamar:

- (A) 11_ABATIMENTOS
 - (B) 01_ABATIMENTOS
 - (C) 02_ABATIMENTOS
 - (D) 1.1_ABATIMENTOS
 - (E) 12_ABATIMENTOS
22. Tem-se a seguinte tabela, criada no Microsoft Word 2016, em sua configuração padrão:

Ao posicionar o cursor do mouse na última célula e pressionar TAB,

- (A) uma nova linha será criada com 1 coluna.
- (B) uma nova linha será criada com 2 colunas.
- (C) uma nova linha será criada com 3 colunas.
- (D) duas novas linhas serão criadas, sendo a primeira com 1 coluna e a segunda com 3 colunas.
- (E) duas novas linhas serão criadas, sendo a primeira com 2 colunas e a segunda com 1 coluna.

23. Tem-se uma planilha no Microsoft Excel 2016, em sua configuração padrão, com o valor 6 preenchido na célula A1, conforme imagem a seguir:

	A
1	6

Assinale a alternativa com o resultado correto, ao preencher na célula B1 a função a seguir.

=SE(A1<20;"A";SE(A1=6;"B";SE(A1>0;"C";SE(A1>=6;"D";"E"))))

- (A) A
 - (B) B
 - (C) C
 - (D) D
 - (E) E
24. Em uma apresentação do Microsoft PowerPoint 2016, em sua configuração original, com 40 slides, todos do mesmo layout, um usuário deseja inserir uma imagem no canto superior direito, que é o brasão da Prefeitura de Pindamonhangaba, em todos os slides. Para fazer isso apenas 1 vez, é necessário inserir a imagem apenas no(a)
- (A) primeiro slide.
 - (B) cabeçalho do primeiro slide.
 - (C) anotação.
 - (D) slide mestre.
 - (E) último slide.
25. Usando o Microsoft Outlook 2016, em sua configuração original, um usuário criou uma mensagem de correio eletrônico com as seguintes características:
- De: Mateus
Para: Natalia
Cc: Bruno, Paula
Cco: Carlos
- Mateus queria que _____ recebesse(m) a mensagem, sem que os demais destinatários soubessem.
- Considerando que a mensagem foi enviada e recebida com sucesso, assinale a alternativa que preenche corretamente a lacuna do texto do enunciado.
- (A) Natália
 - (B) Bruno e Paula
 - (C) Natalia, Bruno e Paula
 - (D) Natália, Carlos e Tatiana
 - (E) Carlos

CONHECIMENTOS ESPECÍFICOS

- 26.** O poder-dever de a Administração Pública controlar seus próprios atos diz respeito ao princípio da
- (A) tutela administrativa.
 - (B) supremacia do interesse público.
 - (C) presunção de legitimidade.
 - (D) segurança jurídica.
 - (E) autotutela.
- 27.** A descentralização administrativa, por meio da criação de entidade da administração indireta, é um exemplo do princípio da
- (A) responsividade.
 - (B) subsidiariedade.
 - (C) responsabilidade civil do Estado.
 - (D) especialidade.
 - (E) indisponibilidade do interesse público.
- 28.** Com base na Lei de Improbidade Administrativa, havendo indícios de ato de improbidade, a autoridade que conhecer dos fatos representará, para as providências necessárias, ao seguinte órgão competente:
- (A) Ministério Público.
 - (B) Tribunal de Contas.
 - (C) Câmara Municipal, Assembleia Legislativa ou Congresso Nacional.
 - (D) Controladoria-Geral.
 - (E) Procuradoria-Geral.
- 29.** Servidores públicos
- (A) celetistas concursados de autarquias não possuem estabilidade.
 - (B) ocupantes de cargo em comissão não estão sujeitos à exoneração *ad nutum*.
 - (C) devem ser concursados para ocupar funções de confiança.
 - (D) temporários são admitidos via concurso público.
 - (E) estatutários recebem Fundo de Garantia sobre Tempo de Serviço (FGTS).
- 30.** Sobre servidores públicos, é correto afirmar que
- (A) são vedadas quaisquer acumulações remuneradas de cargos, empregos e funções públicos.
 - (B) são aposentados compulsoriamente, com proventos proporcionais ao tempo de contribuição, aos 70 anos de idade, ou aos 75 anos de idade, na forma de lei complementar.
 - (C) os estrangeiros não podem ter acesso a cargos, empregos e funções públicos.
 - (D) não poderão perder o cargo após três anos de efetivo exercício os nomeados para cargo de provimento efetivo em virtude de concurso público.
 - (E) é garantida a livre associação sindical aos servidores civis e militares, exercida nos termos e nos limites definidos em lei específica.
- 31.** Configura-se como uma das boas práticas no atendimento ao cidadão
- (A) a linguagem rebuscada.
 - (B) o horário restrito.
 - (C) a escuta passiva.
 - (D) o comportamento reativo.
 - (E) a transparência ativa.
- 32.** Sobre organização do serviço público, é correto afirmar que
- (A) descentralização por outorga origina entidades da administração indireta.
 - (B) serviços locais de gás canalizado são de competência exclusiva dos municípios.
 - (C) serviços públicos próprios podem ser prestados diretamente por meio de concessões e permissões.
 - (D) pelo princípio da continuidade, não se admite que, em nenhuma hipótese, os serviços públicos sofram interrupções.
 - (E) descentralização por colaboração transfere titularidade e execução de um serviço público.

- 33.** Sobre administração pública indireta, é correto afirmar que
- (A) empresas estatais são criadas por lei.
 - (B) autonomia gerencial, orçamentária e financeira poderá ser ampliada mediante contrato.
 - (C) conselhos profissionais são considerados autarquias em regime especial.
 - (D) fundações públicas podem ter apenas regime jurídico de direito privado.
 - (E) autarquias são autorizadas por lei.
- 34.** Uma entidade da administração indireta (i), por meio de seus departamentos (ii), presta determinado serviço público, configurando-se como exemplos, respectivamente, de
- (A) (i) centralização e (ii) concentração.
 - (B) (i) centralização e (ii) desconcentração.
 - (C) (i) descentralização e (ii) desconcentração.
 - (D) (i) descentralização e (ii) concentração.
 - (E) (i) centralização e (ii) descentralização.
- 35.** Respeitados os direitos adquiridos e ressalvada a apreciação judicial, a Administração Pública pode declarar, por motivo de conveniência e oportunidade, que seus atos estão
- (A) caducados.
 - (B) anulados.
 - (C) convalidados.
 - (D) revogados.
 - (E) cassados.
- 36.** É um dos atributos do ato administrativo
- (A) a tipicidade.
 - (B) a finalidade.
 - (C) o termo.
 - (D) o objeto.
 - (E) a condição.
- 37.** Na interdição de um estabelecimento pela Administração Pública, tem-se um exemplo de ato administrativo
- (A) interno.
 - (B) de império.
 - (C) de expediente.
 - (D) de gestão.
 - (E) enunciativo.
- 38.** Com base na Lei nº 8.429/1992, conhecida como Lei de Improbidade Administrativa, é correto afirmar que
- (A) importam em enriquecimento ilícito qualquer ação ou omissão dolosa, que enseje, efetiva e comprovadamente, perda patrimonial, desvio, apropriação, malbaratamento ou dilapidação dos bens ou haveres.
 - (B) causam lesão ao erário a ação ou omissão dolosa que violem os deveres de honestidade, de imparcialidade e de legalidade.
 - (C) atentam contra os princípios da administração pública auferir, mediante a prática de ato doloso, qualquer tipo de vantagem patrimonial indevida em razão do exercício de cargo, de mandato, de função, de emprego ou de atividade.
 - (D) a posse e o exercício de agente público ficam condicionados à apresentação de declaração de imposto de renda, apresentada à Receita Federal, para ser arquivada no serviço de pessoal competente.
 - (E) poderão representar à autoridade administrativa competente para que seja instaurada investigação destinada a apurar a prática de ato de improbidade apenas os cidadãos que estejam em dia com suas obrigações fiscais.
- 39.** Em um órgão público, salvo vedação legal, quando determinada competência passa a ser exercida por servidor hierarquicamente superior, tem-se a
- (A) delegação.
 - (B) usurpação.
 - (C) avocação.
 - (D) função de fato.
 - (E) ab-rogação.

- 40.** Cabe aos municípios, entre outros aspectos, com vistas à excelência no atendimento ao cidadão,
- (A) exigência de reconhecimento de firma de documentos, independentemente de dúvida quanto à autenticidade.
 - (B) presunção da má-fé do usuário do serviço público.
 - (C) comunicação prévia ao consumidor de que o serviço será desligado em virtude de inadimplemento, inclusive os finais de semana.
 - (D) exigência de nova prova sobre fato já comprovado em documentação válida apresentada, por via das dúvidas.
 - (E) divulgação da Carta de Serviços ao Usuário, com atualização periódica e de permanente divulgação.
- 41.** Para promoção da excelência no atendimento ao cidadão e o enfoque na qualidade dos serviços públicos, é correto afirmar que
- (A) a avaliação dos serviços públicos prestados deve ocorrer, no mínimo, a cada ciclo da gestão do feito.
 - (B) a ouvidoria deverá encaminhar a decisão administrativa final ao usuário em até cinco dias úteis.
 - (C) o usuário tem o direito de prestar as informações pertinentes ao serviço prestado quando solicitadas.
 - (D) o quadro geral dos serviços públicos prestados deverá ser publicado e atualizado com periodicidade mensal.
 - (E) cabe ao conselho de usuários o acompanhamento da prestação e da avaliação dos serviços públicos.
- 42.** Na organização de arquivos, é correto afirmar que
- (A) as atividades de protocolo contemplam recebimento, classificação, registro, distribuição, tramitação, expedição e autuação de documentos avulsos.
 - (B) documentos correntes devem ser definitivamente preservados.
 - (C) são criados ou extinguidos modelos de documentos e formulários na fase de destinação.
 - (D) arquivo produzido por uma entidade coletiva, pessoa ou família pode ser misturado aos de outras entidades produtoras, conforme o princípio da proveniência.
 - (E) documentos permanentes aguardam a sua eliminação ou recolhimento para guarda permanente.
- 43.** Na gestão de documentos por meios eletromagnéticos, é correto afirmar que
- (A) a garantia de preservação da integridade, da autenticidade e da confidencialidade de documentos públicos dispensa a utilização da certificação digital.
 - (B) digitalização diz respeito à conversão da fiel imagem de um documento para código digital.
 - (C) os documentos armazenados em meio eletrônico, óptico ou equivalente, em nenhuma hipótese, podem ser eliminados.
 - (D) o documento digital não possui o mesmo valor probatório do documento original.
 - (E) constatada a integridade do documento digital nos termos normativos estabelecidos após a digitalização, o original poderá ser destruído, inclusive os documentos de valor histórico.
- 44.** Quando o legislador confere ao agente público certa margem de liberdade de decisão dentro da lei, tem-se, por definição, um ato administrativo
- (A) vinculado.
 - (B) regulamentador.
 - (C) complexo.
 - (D) discricionário.
 - (E) interno.
- 45.** Quando a Administração Pública pratica um ato sem usar de sua supremacia perante o particular, tem-se, por definição, um ato
- (A) de império.
 - (B) de expediente.
 - (C) de gestão.
 - (D) regulamentador.
 - (E) especial.

46. Leia trecho de ofício de um Ministro de Estado dirigido a outro Ministro de Estado e assinale a alternativa que completa, correta e respectivamente, as lacunas.

A Sua Excelência o Senhor
[Nome]
Ministro de Estado
Esplanada dos Ministérios, Bloco X
70064-900 Brasília/DF

Assunto: Convite

Senhor Ministro,

Convido _____ a participar do lançamento do Ciclo de Debates sobre a Execução do Plano Nacional da Pessoa com Deficiência, a ser realizado em 15 de maio de 2023, às 9 horas, no Auditório da Escola Nacional de Administração Pública. Ressalto que _____ presença será motivo de orgulho para todos os participantes.

_____,
(espaço para assinatura)
[NOME DO SIGNATÁRIO]
[Ministro de Estado]

- (A) Vossa Excelência ... vossa ... Atenciosamente
- (B) Sua Excelência ... sua ... Respeitosamente
- (C) Sua Senhoria ... vossa ... Respeitosamente
- (D) Vossa Excelência ... sua ... Atenciosamente
- (E) Sua Excelência ... vossa ... Respeitosamente
47. Na grafia de local e data em um ofício, deve-se observar o seguinte:
- (A) o dia do mês deve ser grafado em cardinal, se for o primeiro dia do mês.
- (B) o nome da cidade onde foi expedido o documento deve ser seguido de vírgula.
- (C) a presença obrigatória de zero à esquerda do número que indica o dia do mês.
- (D) o nome do mês escrito com letra maiúscula, seguido de vírgula.
- (E) depois da data não deve haver ponto final.

48. Leia o texto a seguir, exemplificado no Manual de Redação da Presidência da República.

“Apurado, com impressionante agilidade e precisão, naquela tarde de 2009, o resultado da consulta à população acriana, verificou-se que a esmagadora e ampla maioria da população daquele distante estado manifestou-se pela efusiva e indubitável rejeição da alteração realizada pela Lei nº 11.662/2008.”

Com relação aos atributos da redação oficial, é correto afirmar que esse texto apresenta, principalmente, a seguinte particularidade:

- (A) peca por falta de concisão.
- (B) apresenta frases bem estruturadas.
- (C) usa termos técnicos com clareza.
- (D) emprega frases curtas.
- (E) é objetivo e coeso.
49. Assinale a alternativa que apresenta uma afirmação correta quanto ao fecho de alguns documentos oficiais.
- (A) Em e-mails profissionais, são considerados fechos oficiais: “Abraços” e “Saudações”.
- (B) Em documento oficial de Deputado Federal a Deputado Federal, o fecho deve ser “Respeitosamente”.
- (C) Em correspondência oficial de Deputado Federal ao Presidente da República, o fecho deve ser “Atenciosamente”.
- (D) Em documento oficial de Ministro de Estado a um Prefeito Municipal, o fecho deve ser “Respeitosamente”.
- (E) Em documento oficial do Vice-Presidente da República a um Deputado Estadual, o fecho deve ser “Atenciosamente”.
50. Assinale a alternativa correta com relação à comunicação oficial “e-mail”.
- (A) Os fechos “Att.”, “Abraços” e “Saudações” são oficiais, portanto, devem ser utilizados em e-mails profissionais.
- (B) Como gênero textual, o e-mail pode ser considerado um documento oficial, assim como o ofício, devendo-se usar uma linguagem informal.
- (C) Como endereço eletrônico utilizado pelos servidores públicos, o e-mail deve ser oficial, utilizando-se a extensão “.gov.br”, por exemplo.
- (D) O e-mail tem valor documental, podendo ser aceito como documento original, não sendo dispensada, em hipótese alguma, a certificação digital que ateste a identidade do remetente.
- (E) Quanto à estrutura de um e-mail, o local e a data devem, necessariamente, fazer parte do corpo dessa comunicação oficial.