

CONCURSO PÚBLICO

031. PROVA OBJETIVA

ANALISTA FISCAL JÚNIOR

- ◆ Você recebeu sua folha de respostas e este caderno contendo 50 questões objetivas.
- ◆ Confira seus dados impressos na capa deste caderno e na folha de respostas.
- ◆ Quando for permitido abrir o caderno, verifique se está completo ou se apresenta imperfeições. Caso haja algum problema, informe ao fiscal da sala para a devida substituição desse caderno.
- ◆ Leia cuidadosamente todas as questões e escolha a resposta que você considera correta.
- ◆ Marque, na folha de respostas, com caneta de tinta preta, a letra correspondente à alternativa que você escolheu.
- ◆ A duração da prova é de 3 horas, já incluído o tempo para o preenchimento da folha de respostas.
- ◆ Só será permitida a saída definitiva da sala e do prédio após transcorrida 1 hora do início da prova.
- ◆ Deverão permanecer em cada uma das salas de prova os 3 últimos candidatos, até que o último deles entregue sua prova, assinando termo respectivo.
- ◆ Ao sair, você entregará ao fiscal a folha de respostas e este caderno.
- ◆ Até que você saia do prédio, todas as proibições e orientações continuam válidas.

AGUARDE A ORDEM DO FISCAL PARA ABRIR ESTE CADERNO.

Nome do candidato _____

RG _____

Inscrição _____

Prédio _____

Sala _____

Carteira _____

CONHECIMENTOS GERAIS

LÍNGUA PORTUGUESA

Leia a tira para responder às questões de números **01** e **02**.



(Bill Waterson, "O Melhor de Calvin". <https://cultura.estadao.com.br/quadrinhos>, 28.01.2022. Adaptado)

01. De acordo com a norma-padrão, as lacunas nas falas da personagem devem ser preenchidas, respectivamente, com:

- (A) vir ... lhe ... nesta
- (B) vê ... lhe ... nessa
- (C) vir ... o ... nesta
- (D) ver ... te ... nessa
- (E) vê ... o ... nesta

02. As informações da tira permitem concluir que a mãe de Calvin

- (A) ficou assombrada com o filho.
- (B) ignorou a criatividade do filho.
- (C) rechaçou o comportamento do filho.
- (D) entrou na brincadeira do filho.
- (E) humilhou o filho pela brincadeira.

Leia o texto para responder às questões de números **03** a **07**.

Cobrar o passaporte

O expressivo recrudescimento da Covid-19 registrado nesta semana no país não apenas reaviva os temores com relação à doença como deixa mais claro do que nunca a importância da vacinação geral, sem a qual o vírus prosseguirá circulando, com risco de produzir novas e mais agressivas cepas.

Nesta sexta (28.01.2022), o Brasil contabilizou nada menos que 257.239 casos confirmados da enfermidade. Com isso, a média móvel de infecções nos últimos sete dias atingiu a marca de 183.203, a maior já registrada desde o início da pandemia.

Nesse cenário, é essencial que se generalize no país a cobrança do passaporte vacinal, medida que a um só tempo aumenta a proteção coletiva e serve como forte incentivo para que mais pessoas se imunizem, reduzindo a transmissão comunitária do patógeno.

Além de compulsório em eventos, estabelecimentos comerciais, repartições públicas, aeroportos e aparelhos culturais, o comprovante de imunização precisa também ser exigido, ao menos para os alunos maiores de 12 anos, nas escolas que agora iniciam o ano letivo, como já ocorre com as vacinas obrigatórias da infância.

Afigura-se preocupante, pois, que apenas sete estados tenham, até o momento, expressado a intenção de requerer a comprovação.

(Editorial. *Folha de S.Paulo*, 28.02.2022. Adaptado)

03. O editorial defende que

- (A) os estados deixem de cobrar a comprovação de vacinação em lugares públicos.
- (B) as escolas tenham liberdade para cobrar ou não a comprovação de vacinas.
- (C) a imunização das crianças seja limitada àquelas vacinas próprias da infância.
- (D) a comprovação da imunização seja cobrada amplamente, inclusive nas escolas.
- (E) a comprovação de imunização fique limitada a alunos com mais de 12 anos.

04. As informações do texto mostram que

- (A) a população deve ser obrigada a ser vacinada, o que evitará a circulação do coronavírus no país, sobretudo nesse momento de volta às aulas presenciais.
- (B) o país vive uma situação menos preocupante graças à vacinação da população, devendo-se priorizar agora o retorno de todas as crianças à escola.
- (C) a cobrança da comprovação de imunização em eventos, estabelecimentos comerciais, repartições públicas, aeroportos e aparelhos culturais deve ser abolida.
- (D) a comprovação da imunização tende a ter pouco impacto na saúde pública, uma vez que o país contabilizou 257.239 casos confirmados de covid.
- (E) a situação do coronavírus no país ainda requer cuidados, devendo-se priorizar a vacinação da população para impedir a circulação de novas cepas.

05. Considere as passagens do texto:

- ... **não apenas** reaviva os temores com relação à doença **como** deixa mais claro do que nunca a importância da vacinação geral... (1º parágrafo)
- ... nas escolas que agora iniciam o ano letivo, **como** já ocorre com as vacinas obrigatórias da infância. (4º parágrafo)
- Afigura-se preocupante, **pois**, que apenas sete estados tenham, até o momento, expressado a intenção de requerer a comprovação. (5º parágrafo)

As conjunções destacadas estabelecem entre as orações, correta e respectivamente, relações de sentido de

- (A) adição, conformidade e conclusão.
- (B) restrição, comparação e explicação.
- (C) oposição, causa e finalidade.
- (D) comparação, conformidade e causa.
- (E) causa, comparação e consequência.


06. Nos trechos – medida que **a um só tempo** aumenta a proteção coletiva e serve como forte incentivo (3º parágrafo) –, – Além de **compulsório** em eventos (4º parágrafo) e – **ao menos** para os alunos maiores de 12 anos – (4º parágrafo) –, as expressões destacadas significam, correta e respectivamente:

- (A) continuamente; arbitrário; antes de tudo.
- (B) simultaneamente; obrigatório; no mínimo.
- (C) eventualmente; dispensável; por certo.
- (D) concomitantemente; facultativo; exceto.
- (E) ocasionalmente; optativo; principalmente.

07. Assinale a alternativa que atende à norma-padrão de concordância.

- (A) Nesta sexta (28.01.2022), no Brasil, foi contabilizado nada menos que 257.239 casos confirmados da enfermidade.
- (B) Nesta sexta (28.01.2022), no Brasil, nada menos que 257.239 casos confirmados da enfermidade foram contabilizados.
- (C) Nesta sexta (28.01.2022), no Brasil, contabilizou-se nada menos que 257.239 casos confirmados da enfermidade.
- (D) Nesta sexta (28.01.2022), no Brasil, fizeram-se a contabilização de nada menos que 257.239 casos confirmados da enfermidade.
- (E) Nesta sexta (28.01.2022), no Brasil, foram contabilizado nada menos que 257.239 casos confirmados da enfermidade.

08. Leia a tira.



(Adão Iturrusgarai, "A vida como ela yeah". Folha de S.Paulo, 29.12.2021)

É correto afirmar que o sentido da tira se estabelece a partir do emprego de termos em sentido

- (A) figurado, sugerindo que os personagens abominam carne de vaca.
- (B) próprio, sugerindo que os personagens vivem bem nos dias de hoje.
- (C) figurado, sugerindo que a vida atual dos personagens piorou.
- (D) próprio, sugerindo que as vacas magras de outrora eram a felicidade.
- (E) figurado, sugerindo que comer osso é tão bom quanto comer carne.

A crise econômica agravada pela pandemia da Covid-19 reforçou estratégias comerciais que _____ pouco tempo ainda eram impensáveis. Frigoríficos da periferia de Fortaleza comercializam até mesmo opções de ossadas de primeira e de segunda. A diferença entre os produtos está na quantidade de carne presente no osso e no preço por quilo.

As ossadas sempre estiveram presentes nos açougues do Nordeste, sendo usadas em caldos, sopas, feijão, entre outros pratos. No entanto, com _____ alta no preço dos alimentos, como a carne, cujo aumento chegou _____ 24,4% em 12 meses em Fortaleza, segundo o Instituto Brasileiro de Geografia e Estatística (IBGE), muitas famílias mais vulneráveis passaram _____ recorrer _____ ossadas como item principal no prato.

(<https://diarionordeste.verdesmares.com.br/>. 25.10.2021. Adaptado)

09. Em conformidade com a norma-padrão, as lacunas do texto devem ser preenchidas, respectivamente, com:

- (A) há ... a ... a ... a ... às
- (B) a ... há ... à ... à ... à
- (C) há ... à ... a ... a ... a
- (D) à ... a ... à ... a ... as
- (E) há ... há ... a ... à ... às

10. Reelaborando-se o enunciado do trecho – A diferença entre os produtos **está** na quantidade de carne presente no osso e no preço por quilo. – para uma perspectiva de hipótese, a forma verbal destacada deve ser substituída por:

- (A) estivera.
- (B) estava.
- (C) esteve.
- (D) estará.
- (E) estaria.

11. Após aplicar um teste, um psicólogo classificou os funcionários de um setor em três perfis psicológicos, conforme tabela a seguir:

Perfil psicológico	Quantidade de funcionários
A	30
B	18
C	24

Em seguida, para realizar uma dinâmica, dividiu essa quantidade de funcionários no maior número possível de grupos que deveriam ter a mesma quantidade de funcionários com a mesma distribuição entre os perfis psicológicos.

Nesse contexto, o número de funcionários em cada grupo foi de

- (A) 18.
- (B) 12.
- (C) 9.
- (D) 6.
- (E) 4.

12. Na correção das questões dissertativas de um concurso, estabeleceu-se como meta para os corretores que corrigissem 360 questões por dia de trabalho, sendo que a jornada determinada era de 8 h. Nessas condições, se um corretor cumprir exatamente a meta em um dia, o tempo médio em segundos que leva para corrigir cada questão é de

- (A) 80.
- (B) 87.
- (C) 90.
- (D) 93.
- (E) 100.

13. Uma promoção em um aplicativo de pagamentos oferecia *cashback* (dinheiro de volta) de R\$ 6,00 por boleto pago com cartão de crédito. Considerando que esse aplicativo cobrava 3% de taxa sobre o valor total do boleto pago com cartão de crédito, alguém que quisesse aproveitar a promoção sem pagar mais de taxa que receber de *cashback* poderia pagar um boleto de até

- (A) R\$ 60,00.
- (B) R\$ 100,00.
- (C) R\$ 180,00.
- (D) R\$ 200,00.
- (E) R\$ 300,00.

14. Sabe-se que o consumo do etanol é mais elevado que o da gasolina e que o percentual de consumo relativo entre os dois combustíveis varia de veículo para veículo. Pensando nisso, uma pessoa resolveu fazer algumas medições de consumo no trajeto da sua casa para o trabalho, conforme indica a tabela a seguir:

Medição	Consumo com etanol	Consumo com gasolina
1	10,5 km/L	14,0 km/L
2	11,0 km/L	14,5 km/L
3	10,9 km/L	12,0 km/L

Considerando que em todas as medições a distância percorrida foi a mesma, então a média de consumo de etanol do carro dessa pessoa representa _____ da média de consumo de gasolina.

O número que preenche corretamente a lacuna é:

- (A) $1/2$.
 (B) $2/3$.
 (C) $7/10$.
 (D) $3/4$.
 (E) $4/5$.
15. Em um memorial de custo, um engenheiro calcula o consumo de combustível das máquinas utilizadas em uma obra. As informações necessárias são organizadas em uma tabela:

Número de máquinas utilizadas na obra	4		
Quantidade de km percorrido por cada máquina por dia	30		
Quantidade de dias trabalhados em um mês	20		
Quantidade de km percorrido por cada máquina com 1 L de óleo diesel	2		
	Posto 1	Posto 2	Posto 3
Preço do óleo diesel	R\$ 4,89	R\$ 4,99	R\$ 5,12

Considerando-se que para o preço do óleo diesel foi utilizado o valor médio entre os três postos considerados, então o gasto mensal referente ao consumo de combustível dessas máquinas é de

- (A) R\$ 1.500,00.
 (B) R\$ 3.000,00.
 (C) R\$ 6.000,00.
 (D) R\$ 12.000,00.
 (E) R\$ 24.000,00.

Para as questões de números 16 a 18, considere a seguinte informação:

A depreciação é todo processo de desvalorização que afeta o valor de um bem com o passar do tempo, como o desgaste e a obsolescência. Ela afeta bens de qualquer tipo [...] e há diversos meios de estipular a depreciação de um bem. [...] A depreciação linear considera que a perda de valor ocorre de forma linear ao longo do tempo. É a forma de depreciação mais básica e mais utilizada por empresas para o cálculo de valor do seu patrimônio. [...] A fórmula de base para o cálculo da depreciação linear de um bem é a seguinte:

$$\text{Depreciação anual} = \frac{\text{Valor de aquisição} - \text{valor residual}}{\text{Anos de vida útil}}$$

(Fonte: conteudos.xpi.com.br. Adaptado)

16. Se uma máquina foi adquirida pelo valor de R\$ 210 mil, possui 30 anos de vida útil estimada e seu valor residual é de R\$ 60 mil, então a sua depreciação anual é de
- (A) R\$ 4 mil.
 - (B) R\$ 5 mil.
 - (C) R\$ 6 mil.
 - (D) R\$ 7 mil.
 - (E) R\$ 8 mil.
17. Sabe-se que a depreciação anual de um computador é $\frac{1}{5}$ do seu valor de aquisição. Se esse computador foi adquirido por R\$ 18 mil e tem vida útil para a empresa estimada em 3 anos, então seu valor residual é de
- (A) R\$ 1,2 mil.
 - (B) R\$ 3,6 mil.
 - (C) R\$ 4,8 mil.
 - (D) R\$ 7,2 mil.
 - (E) R\$ 10,8 mil.
18. Em uma empresa há duas máquinas, M_1 e M_2 cujas taxas de depreciação anual, combinadas, totalizam R\$ 12 mil. O valor total do custo de aquisição das duas máquinas foi de R\$ 142 mil reais, sendo que a máquina M_1 tem valor residual de R\$ 2 mil e seu tempo de vida útil é de 10 anos e a máquina M_2 tem valor residual de R\$ 4 mil e vida útil de 12 anos. Nesse contexto, a taxa de depreciação anual da máquina M_2 é de
- (A) R\$ 6 mil.
 - (B) R\$ 7 mil.
 - (C) R\$ 8 mil.
 - (D) R\$ 9 mil.
 - (E) R\$ 10 mil.

19. Uma empresa foi contratada para executar um projeto com duração de 21 dias. Para isso, são necessárias 12 máquinas trabalhando 8 horas por dia. Entretanto, após uma mudança de cronograma, o prazo para realização do trabalho foi reduzido para 14 dias.

Considerando que a jornada de trabalho será estendida para 9 horas e que as máquinas utilizadas possuem mesmo rendimento, a quantidade de máquinas necessárias para a finalização no prazo previsto é de

- (A) 14.
- (B) 15.
- (C) 16.
- (D) 17.
- (E) 18.

20. Leia o seguinte trecho de uma notícia:

Desperdício de água potável aumenta no Brasil

O país desperdiçou 40% da água potável nos sistemas de distribuição em 2016, o equivalente a 7 mil piscinas olímpicas cheias a cada dia.

(Fonte: g1.globo.com. Adaptado)


Considerando que uma piscina olímpica tem formato de paralelepípedo reto retângulo com 50 m de comprimento, 25 m de largura e 3 m de profundidade, então, diariamente, o total de água potável (em bilhões de litros) nos sistemas de distribuição em 2016 estava entre

- (A) 3 e 4.
- (B) 9 e 10.
- (C) 21 e 22.
- (D) 26 e 27.
- (E) 65 e 66.


21. Assinale a alternativa que apresenta um nome de arquivo válido no Microsoft Windows 10, em sua configuração original.

- (A) Relacao_Funcionarios:2022.txt
- (B) Relação de Funcionários [2022].txt
- (C) "Relação de Funcionários 2022".txt
- (D) Relacao_Funcionarios>2022.txt
- (E) RelacaoFuncionarios*2022.txt

22. Tem-se o seguinte documento criado no Microsoft Word 2016, em sua configuração padrão, com apenas 1 linha, em que o usuário selecionou essa linha por completo e configurou uma borda, a partir do grupo Parágrafo da guia Página Inicial.



Quando o usuário pressiona ENTER no final da linha e digita um texto na linha seguinte, e repete o mesmo procedimento mais uma vez, o resultado é:



Assinale a alternativa que apresenta o formato de borda utilizado para se obter esse resultado.

- (A) Bordas Externas
- (B) Bordas Internas
- (C) Borda Superior
- (D) Borda Inferior
- (E) Todas as Bordas

23. Tem-se a seguinte planilha criada no Microsoft Excel 2016, em sua configuração original.

	A	B	C
1	Situação	Valor Inicial	Valor Final
2	Ativo	2	20

A célula C2 contém a fórmula =SE(XXXXXXX; B2*5;B2*10), e XXXXXXX é uma condição.

Assinale a alternativa que apresenta a condição representada por XXXXXXX

- (A) A2<>"Ativo"
- (B) A2="Ativo"
- (C) B2<=2
- (D) B2=2
- (E) E(A2="Ativo";B2=2)

24. Um analista de recursos humanos estava em Modo de Apresentação no Microsoft PowerPoint 2016, em sua configuração original. Sua apresentação contém 8 slides, sendo que o slide 1 está oculto. Considerando que o analista estava exibindo o slide 4, pressionou ESC e logo em seguida pressionou SHIFT+F5, assinale a alternativa que apresenta o slide que será exibido no Modo de Apresentação.

- (A) 1
- (B) 2
- (C) 4
- (D) 5
- (E) 8

25. Usando o site de pesquisas Google, um usuário precisa realizar uma pesquisa pelo termo exato Companhia Prudentina de Desenvolvimento, mas excluindo dos resultados sites com o termo Concurso.

A forma correta de traduzir essas premissas para o site Google é:

- (A) Companhia Prudentina de Desenvolvimento -concurso
- (B) "Companhia" "Prudentina" "de" "Desenvolvimento" NOT concurso
- (C) "Companhia Prudentina de Desenvolvimento" <>concurso
- (D) "Companhia Prudentina de Desenvolvimento" -concurso
- (E) "Companhia Prudentina de Desenvolvimento -concurso"

CONHECIMENTOS ESPECÍFICOS

- 26.** Ao afirmar que “o nível de detalhamento da escrituração contábil deve estar alinhado às necessidades de informação de seus usuários”, a Norma Contábil quer dizer que
- (A) há um padrão preestabelecido que pode ser adaptado à circunstância do segmento em que a entidade esteja inserida.
 - (B) as entidades deverão seguir um padrão estabelecido para cada segmento ou mercado de atuação.
 - (C) o detalhamento deverá ser adotado em padrão por todas as entidades, independentemente da natureza e do porte, na elaboração da escrituração contábil.
 - (D) o detalhamento dos registros contábeis é diretamente proporcional à complexidade das operações da entidade e dos requisitos de informação a ela aplicáveis.
 - (E) cada entidade seguirá o padrão definido pela classe contábil em que esteja inserida.
- 27.** No que tange aos conceitos básicos de contabilidade, conforme definidos pelas normas contábeis vigentes, é correto afirmar:
- (A) ativo é um recurso econômico presente controlado pela entidade como resultado de eventos futuros.
 - (B) um recurso econômico é um passivo que tem o potencial de produzir custos econômicos futuros.
 - (C) em muitos casos, o conjunto de direitos decorrentes da propriedade legal de bem corpóreo é contabilizado como um único ativo.
 - (D) passivo é uma obrigação futura da entidade de transferir um recurso econômico como resultado de eventos que ocorrerão.
 - (E) o segundo critério para definição de um passivo é que a obrigação não seja transferível como um recurso econômico.
- 28.** De acordo com a norma contábil, “o poder de participar das decisões sobre políticas financeiras e operacionais de uma investida, mas sem que haja o controle individual ou conjunto dessas políticas”, denomina-se
- (A) Controladora.
 - (B) Equivalência patrimonial.
 - (C) Negócio em conjunto.
 - (D) *Joint Venture*.
 - (E) Influência significativa.
- 29.** Uma máquina foi adquirida em janeiro de 2021, todavia instalada para início de sua operação em 1º de junho de 2021. O custo de aquisição dessa máquina foi de R\$ 1.000.000,00, sendo que os custos para instalação foram de R\$ 200.000,00. O engenheiro da companhia calculou a vida útil desse bem em 14 anos e o valor de realização dele é de R\$ 150.000,00. Com base nesses dados, o valor, em Reais, da depreciação acumulada do bem, em 31 de dezembro de 2021, é
- (A) 41.667.
 - (B) 43.750.
 - (C) 48.890.
 - (D) 50.000.
 - (E) 51.230.
- 30.** Uma empresa apresentou as seguintes informações hipotéticas e preliminares.
- Exercício de 2021
 - Receita bruta de vendas: R\$ 190.250,00
 - Impostos sobre vendas: 8% sobre as vendas
 - Outras deduções de vendas: 5% sobre as vendas
 - Os estoques no início do exercício montavam a R\$ 250.123,50
 - As compras do período foram R\$ 140.000,00
 - Os estoques ao final do período eram de R\$ 266.461,00
 - Despesas administrativas e de vendas: R\$ 25.225,00
 - Resultado financeiro líquido positivo foi: R\$ 1.450,00
 - O Imposto de renda e a contribuição social sobre o lucro líquido deverão ser calculados a uma alíquota efetiva de 30%.
- O lucro líquido do exercício, em Reais, é de:
- (A) 12.656,00.
 - (B) 13.140,00.
 - (C) 14.356,00.
 - (D) 15.250,00.
 - (E) 18.080,00.
- 31.** Uma empresa de embalagens plásticas é tributada pelo lucro presumido e está enquadrada na cumulatividade para a apuração de Pis e Cofins. No mês de dezembro de 2021, essa empresa apresentou um faturamento bruto da ordem de R\$ 4.000.000,00.
- Nesse caso, o valor do PIS e COFINS apurados no mês, em Reais, é de:
- (A) 120.000.
 - (B) 146.000.
 - (C) 200.000.
 - (D) 280.000.
 - (E) 370.000.

Considere as informações a seguir, para responder às questões de números **32** e **33**.

Uma empresa de prestação serviços de infraestrutura de sistemas que é tributada pelo lucro presumido registrou um total de receitas no primeiro trimestre de 2021 de R\$ 3.000.0000,00.

32. O valor, em Reais, do Imposto de Renda e do respectivo adicional de Imposto de Renda dessa empresa relativo ao primeiro trimestre de 2021 é:

- (A) 158.000.
- (B) 189.800.
- (C) 210.000.
- (D) 234.000.
- (E) 254.000.

33. O valor da Contribuição Social sobre o Lucro Líquido é de:

- (A) 71.400.
- (B) 82.600.
- (C) 83.100.
- (D) 85.300.
- (E) 86.400.

34. O valor limite, em Reais, estabelecido em lei para dispensa de licitação, no caso de contratação de obras e serviços de engenharia ou de serviços de manutenção de veículos automotores, é:

- (A) 50.000.
- (B) 80.000.
- (C) 100.000.
- (D) 120.000.
- (E) 150.000.

35. De acordo com a lei de responsabilidade fiscal, o valor, em Reais, da despesa total limite de pessoal do Executivo Municipal, levando em consideração que o município apurou uma receita corrente líquida hipotética de R\$ 200.000.000,00 num determinado período de apuração, é:

- (A) 12.000.000.
- (B) 99.000.000.
- (C) 108.000.000.
- (D) 120.000.000.
- (E) 128.000.000.

36. Assinale a alternativa que contém a classificação correta para a receita em que os ingressos de disponibilidade de recursos não foram precedidos de registro de reconhecimento do direito e não constituem obrigações correspondentes.

- (A) Receita orçamentária efetiva.
- (B) Receita orçamentária não efetiva.
- (C) Receita extraorçamentária efetiva.
- (D) Receita extraorçamentária não efetiva.
- (E) Receita econômica.

37. A receita oriunda de multas punitivas aplicadas pelo governo será classificada, segundo a regulamentação, como

- (A) Capital.
- (B) Originária.
- (C) Derivada.
- (D) Condicional.
- (E) Imposta.

38. Em conformidade com o Código Tributário Nacional, o imposto, de competência da União, sobre a propriedade territorial rural tem como fato gerador a propriedade, o domínio útil ou a posse de imóvel por natureza e localização fora da zona urbana do Município. Ante ao exposto, a base de cálculo do imposto é o valor

- (A) de mercado.
- (B) de compra.
- (C) de compra somado à valorização de mercado.
- (D) fundiário.
- (E) declarado no imposto de renda da pessoa física ou jurídica.

- 39.** A contribuição de melhoria cobrada pela União, pelos Estados, pelo Distrito Federal ou pelos Municípios, no âmbito de suas respectivas atribuições, é instituída para fazer face ao custo de obras públicas de que decorra valorização imobiliária, tendo como limite total
- (A) o valor estabelecido em contrato, conforme vencedor da licitação estabelecida nos moldes da Lei nº 8.666/93.
 - (B) o valor orçado pelo ente público, e o repasse ao contribuinte será realizado de acordo com o m² de cada imóvel beneficiado pela melhoria pública.
 - (C) a capacitada contributiva do proprietário do imóvel beneficiado.
 - (D) a Receita de Capital arrecada durante período pela União, pelos Estados, pelo Distrito Federal ou pelos Municípios, durante o período.
 - (E) a despesa realizada e, como limite individual, o acréscimo de valor que da obra resultar para cada imóvel beneficiado.
- 40.** As taxas cobradas pelo poder público, no âmbito de suas respectivas atribuições, têm como fato gerador, entre outros,
- (A) a melhoria realizada em relação ao serviço prestado ao contribuinte.
 - (B) o orçamento do custo da obra.
 - (C) a parcela do custo financiada pelo contribuinte.
 - (D) o exercício regular do poder de polícia, prestado ao contribuinte.
 - (E) a delimitação da zona beneficiada pela taxa.
- 41.** Os créditos adicionais classificam-se em:
- (A) complementares, condicionais e incondicionais.
 - (B) suplementares, especiais e extraordinários.
 - (C) especiais, extraordinários e ordinários.
 - (D) correntes, de capital e empenhados.
 - (E) especiais, complementares e executáveis.
- 42.** Qual o ato que cria para o Estado obrigação de pagamento, pendente ou não, de implemento de condição?
- (A) Nota fiscal do fornecedor.
 - (B) Restos a pagar.
 - (C) Contrato assinado.
 - (D) Pedido de compra.
 - (E) Empenho de despesa.
- 43.** Assinale a alternativa que preenche, correta e respectivamente, as lacunas do texto a seguir.
- Quanto ao adicional de imposto de renda, a parcela do lucro real, presumido ou arbitrado, que exceder o valor resultante da multiplicação de R\$ _____ pelo número de meses do respectivo período de apuração sujeita-se à incidência de adicional de imposto de renda à alíquota de _____.
- (A) 10.000 ... 10%
 - (B) 20.000 ... 10%
 - (C) 240.000 ... 10%
 - (D) 240.000 ... 15%
 - (E) 240.000 ... 34%
- 44.** Uma empresa tributada pelo lucro real e que está enquadrada no regime de não cumulatividade para fins de apuração e recolhimento da COFINS registrou em sua contabilidade as seguintes operações no mês:
- Receita bruta de vendas de mercadorias no valor de R\$ 500.000,00;
 - Compra de produtos e bens utilizados como insumo na produção durante o mês no valor de R\$ 90.000,00;
 - Gasto com energia elétrica no mês corresponde a R\$ 10.000,00;
 - Descontos condicionais referentes ao pagamento na data prevista da duplicata correspondente a R\$ 10.000,00;
 - Valor dos salários pagos no mês R\$ 30.000,00; e
 - Gasto com aluguel do prédio da sede no valor de R\$ 20.000,00.
- O valor do COFINS a ser recolhido no mês, em Reais, será:
- (A) 26.600.
 - (B) 28.500.
 - (C) 28.880.
 - (D) 29.880.
 - (E) 38.000.

45. Assinale a alternativa que relaciona corretamente o princípio orçamentário com a sua respectiva explicação.
- (A) Princípio da versatilidade – o orçamento público deve ser flexível, de maneira a acomodar diferentes necessidades de planejamento, monitoramento e controle dos gastos públicos.
 - (B) Princípio da exclusividade – lei orçamentária não conterá dispositivo estranho à previsão da receita e à fixação da despesa, não se incluindo na proibição a autorização para abertura de créditos suplementares e contratação de operações de crédito.
 - (C) Princípio da anualidade – o orçamento público não conterá previsão de receita tributária cuja vigência deva se iniciar no próprio ano fiscal a que se refere a lei orçamentária anual.
 - (D) Princípio da universalidade – as receitas e despesas devem ser apresentadas no orçamento pelo seu valor bruto, livres de qualquer dedução, que deverá ser desdobrada em rubrica orçamentária diversa.
 - (E) Princípio da eficiência – o orçamento público tem por finalidade a garantia da estabilidade da dívida pública e do atingimento das metas públicas mediante o menor dispêndio possível de recursos da sociedade.
46. O ciclo orçamentário consiste no conjunto de etapas ordenadas necessárias ao atingimento das finalidades do orçamento público, enquanto fenômeno jurídico, político, contábil e econômico. A respeito do ciclo orçamentário, é correto afirmar que este compreende a seguinte etapa, corretamente explicada:
- (A) Planejamento de curto prazo, mediante aprovação do Plano Plurianual, envolvendo o ano presente e os próximos 5 (cinco) exercícios orçamentários.
 - (B) Planejamento de médio prazo, mediante aprovação da Lei de Diretrizes Orçamentárias, contendo os limites máximos para a dívida pública fundada bruta.
 - (C) Execução do orçamento público, mediante as fases de arrecadação e recolhimento das receitas públicas e de empenho, liquidação e pagamento das despesas públicas.
 - (D) Monitoramento e avaliação do orçamento público, mediante realização de auditorias independentes pelos órgãos de controle interno do ente público responsável pela orçamentação.
 - (E) Aprovação do orçamento público, mediante outorga da Lei Orçamentária pelo Poder Executivo, consultados previamente o Tribunal de Contas e o Poder Legislativo.
47. Sobre a previsão e arrecadação das receitas públicas, é correto afirmar, com base na legislação nacional:
- (A) as previsões de receita observarão as normas técnicas e legais, e desconsiderarão os efeitos das alterações na legislação, da variação do índice de preços e do crescimento econômico.
 - (B) as receitas públicas deverão necessariamente ser arrecadadas em instituições bancárias oficiais, sendo vedada a arrecadação de impostos por instituições bancárias privadas.
 - (C) é vedada a previsão de arrecadação de receitas de capital em nível superior à autorização orçamentária de realização de despesas com obras e investimentos.
 - (D) para fins orçamentários, as receitas tributárias se desdobram em receitas próprias, receitas com impostos da competência de outros entes da federação e receitas de contribuições.
 - (E) constituem requisitos essenciais da responsabilidade na gestão fiscal a instituição, previsão e efetiva arrecadação de todos os tributos da competência constitucional do ente da Federação.
48. A Lei de Diretrizes Orçamentárias ganhou destaque ainda maior no Brasil após os anos 2000 como peça de planejamento financeiro e orçamentário. Isto se deve, entre outros fatores, a:
- (A) aprovação da Lei de Responsabilidade Fiscal (Lei Complementar nº 101/2000), trazendo a previsão de diversos itens de planejamento obrigatórios para as leis de diretrizes orçamentárias.
 - (B) repetidos escândalos de corrupção envolvendo a execução do orçamento público, beneficiados pela pouca transparência dos mecanismos de controle e acompanhamento orçamentários.
 - (C) previsão desta lei como instrumento normativo adequado para a abertura de créditos adicionais suplementares e especiais.
 - (D) condição de que investimentos públicos que superem um exercício fiscal apenas possam ser iniciados se incluídos prévia e expressamente na lei de diretrizes orçamentárias.
 - (E) obrigatoriedade de enumeração exaustiva nesta lei da lista de impostos a serem cobrados dos contribuintes no exercício fiscal seguinte, como condição para a validade da cobrança.

49. Sobre a chamada lei orçamentária anual, é correto afirmar:

- (A) em que pese o seu nome, não se trata verdadeiramente de lei em sentido estrito, visto não deter o Poder Legislativo, no presidencialismo brasileiro, poder pleno de emendar a proposta submetida pelo Poder Executivo.
- (B) compreenderá as metas e prioridades da administração pública e estabelecerá as diretrizes de política fiscal e respectivas metas, em consonância com trajetória sustentável da dívida pública.
- (C) deverá obedecer ao quorum de aprovação das leis complementares, ou seja, maioria absoluta do Congresso Nacional, reunido em Assembleia.
- (D) o projeto de lei orçamentária será acompanhado de demonstrativo regionalizado do efeito sobre as receitas e despesas, decorrente de isenções, anistias, remissões, subsídios e benefícios de natureza financeira, tributária e creditícia.
- (E) a Administração não tem o dever de executar as programações orçamentárias contidas na lei orçamentária anual, mas apenas a faculdade de assim proceder, conforme a autorização conferida pelo Poder Legislativo.

50. Assinale a alternativa que relaciona corretamente a despesa pública à sua classificação, segundo a Lei nº 4.320/1964.

- (A) Classificam-se como investimentos as dotações para o planejamento e a execução de obras de engenharia, exceto em relação às despesas com aquisição de imóveis considerados necessários à realização das obras.
- (B) Consideram-se subvenções sociais as transferências destinadas a cobrir despesas de custeio das instituições públicas ou privadas de caráter assistencial ou cultural, sem finalidade lucrativa.
- (C) Classificam-se como despesas de investimentos as despesas com a aquisição de imóveis, ou de bens de capital já em utilização.
- (D) São inversões financeiras as despesas realizadas para pagamento dos juros, amortizações e encargos da dívida pública.
- (E) São transferências correntes as dotações para despesas às quais correspondam contraprestação direta em bens ou serviços, inclusive para contribuições e subvenções destinadas a atender à manutenção de outras entidades de direito público ou privado.

