

AGENTE DE TRÂNSITO

Leia atentamente as instruções abaixo

1. PROVA E FOLHA DE RESPOSTAS

Além deste Caderno de Prova, contendo 40 (quarenta) questões objetivas, você receberá do Fiscal de Sala:

- 01 (uma) Folha de Respostas destinada às respostas das questões objetivas. Confira se seus dados estão corretos.

2. TEMPO

- 03 (três) horas é o tempo disponível para realização da prova, já incluído o tempo para marcação da Folha de Respostas da prova objetiva;

- **01 (uma) hora** após o início da prova é possível, retirar-se da sala levando o caderno de prova;

3. INFORMAÇÕES GERAIS

- As questões objetivas têm 05 (cinco) alternativas de resposta (A, B, C, D, E) e somente **uma** delas está correta;
- Verifique se seu caderno está completo, sem repetição de questões ou falhas. Caso contrário, informe imediatamente o Fiscal da Sala, para que sejam tomadas as devidas providências;
- Confira seus dados pessoais na Folha de Respostas, especialmente nome, número de inscrição e documento de identidade e leia atentamente as instruções para preenchimento;
- O preenchimento das respostas da prova objetiva é de sua responsabilidade e não será permitida a troca de Folha de Respostas em caso de erro de marcação pelo candidato;

- Marque, na folha de respostas, com caneta de tinta azul ou preta, a letra correspondente à alternativa que você escolheu.

- Reserve tempo suficiente para o preenchimento de suas respostas. Para fins de avaliação, serão levadas em consideração apenas as marcações realizadas na Folha de Respostas da prova objetiva, não sendo permitido anotar informações relativas às respostas em qualquer outro meio que não seja o caderno de prova;

- Ao se retirar, entregue a Folha de Respostas preenchida e assinada ao Fiscal de Sala.

SERÁ ELIMINADO do presente certame o candidato que:

- a) for surpreendido, durante as provas, em qualquer tipo de comunicação com outro candidato;
- b) portar ou usar, qualquer tipo de aparelho eletrônico (calculadoras, bips/pagers, câmeras fotográficas, filmadoras, telefones celulares, smartphones, tablets, relógios, walkmans, MP3 players, fones de ouvido, agendas eletrônicas, notebooks, palmtops ou qualquer outro tipo de computador portátil, receptores ou gravadores) seja na sala de prova, sanitários, pátios ou qualquer outra dependência do local de prova;
- c) se ausentar da sala em que se realizam as provas levando consigo o Caderno de Questões e/ou a Folha de Respostas;
- d) se recusar a entregar a Folha de Respostas, quando terminar o tempo estabelecido;
- e) não assinar a Lista de Presença e/ou a Folha de Respostas.

LÍNGUA PORTUGUESA
TEXTO

O Cântico da Terra

Eu sou a terra, eu sou a vida.
Do meu barro primeiro veio o homem.
De mim veio a mulher e veio o amor.
Veio a árvore, veio a fonte.
Vem o fruto e vem a flor.
Eu sou a fonte original de toda vida.
Sou o chão que se prende à tua casa.
Sou a telha da cobertura de teu lar.
A mina constante de teu poço.
Sou a espiga generosa de teu gado
e certeza tranquila ao teu esforço.
Sou a razão de tua vida.
De mim vieste pela mão do Criador,
e a mim tu voltarás no fim da lida.
Só em mim acharás descanso e Paz.
Eu sou a grande Mãe Universal.
Tua filha, tua noiva e desposada.
A mulher e o ventre que fecundas.
Sou a gleba, a gestação, eu sou o amor.
A ti, ó lavrador, tudo quanto é meu.
Teu arado, tua foice, teu machado.
O berço pequenino de teu filho.
O algodão de tua veste
e o pão de tua casa.
E um dia bem distante
a mim tu voltarás.
E no canteiro materno de meu seio
tranquilo dormirás.
Plantemos a roça.
Lavremos a gleba.
Cuidemos do ninho,
do gado e da tulha.
Fartura teremos
e donos de sítio
felizes seremos.

Cora Coralina

QUESTÃO 01

O eu-lírico do texto O Cântico da Terra, de Cora Coralina, é:

- (A) uma mulher apaixonada.
- (B) a própria autora do texto.
- (C) uma personagem da mitologia grega.
- (D) a terra.
- (E) um sentimento.

QUESTÃO 02

Em relação ao gênero, o texto apresentado acima é classificado como:

- (A) poema.
- (B) romance.
- (C) fábula.
- (D) conto.
- (E) novela.

QUESTÃO 03

Considere o seguinte trecho:

<E um dia bem distante
a mim tu voltarás.

E no canteiro materno de meu seio
tranquilo dormirás.=

De forma metafórica, o trecho se refere à:

- (A) morte.
- (B) vida.
- (C) reconciliação de um casal.
- (D) colheita.
- (E) tranquilidade da vida no campo.

QUESTÃO 04

É sinônimo da palavra <gleba=:

- (A) geba.
- (B) colheita.
- (C) milharal.
- (D) estrada.
- (E) terreno.

QUESTÃO 05

Considere a sentença <Do meu barro primeiro veio o homem.= Em relação à classe gramatical, as palavras <meu=, <barro=, <veio= e <o= são, respectivamente:

- (A) artigo, substantivo, verbo, artigo.
- (B) pronome, adjetivo, verbo, pronome.
- (C) pronome, substantivo, verbo, artigo.
- (D) pronome, adjetivo, advérbio, artigo.
- (E) artigo, substantivo, advérbio, pronome.

QUESTÃO 06

Considere as seguintes sentenças:

- I. <Eu sou a grande Mãe Universal.=
- II. <Só em mim acharás descanso e Paz.=

Quanto à regência, os verbos <sou= e <achará= são, respectivamente:

- (A) I. verbo transitivo direto; II. verbo transitivo direto.
- (B) I. verbo de ligação; II. verbo transitivo direto.
- (C) I. verbo de ligação; II. verbo transitivo indireto.
- (D) I. verbo pronominal; II. verbo intransitivo.
- (E) I. verbo intransitivo; II. verbo de ligação.

QUESTÃO 07

Considere as sentenças:

- I. <De mim veio a mulher e veio o amor.=
- II. <Sou a razão de tua vida.=
- III. <A ti, ó lavrador, tudo quanto é meu.=

Os pronomes "mim", "tua" e "ti" nas sentenças dadas são, respectivamente:

- (A) pronome pessoal do caso oblíquo átono, pronome possessivo, pronome pessoal do caso oblíquo tônico.
- (B) pronome pessoal do caso oblíquo tônico, pronome possessivo, pronome pessoal do caso oblíquo tônico.
- (C) pronome pessoal do caso oblíquo tônico, pronome pessoal do caso reto, pronome pessoal do caso oblíquo tônico.
- (D) pronome pessoal do caso reto, pronome possessivo, pronome pessoal do caso reto.
- (E) pronome pessoal do caso oblíquo átono, pronome pessoal do caso oblíquo átono, pronome pessoal do caso oblíquo átono.

QUESTÃO 08

Considere o seguinte excerto:

<E um dia bem distante
a mim tu voltarás.=

Na sentença dada, a palavra <bem> funciona como advérbio, modificando diretamente:

- (A) o substantivo <dia>.
- (B) o verbo <voltarás>.
- (C) o pronome <mim>.
- (D) o adjetivo <distante>.
- (E) o verbo <voltarás> e o pronome <tu>.

QUESTÃO 09

Assinale a alternativa que apresenta a sentença correta em relação ao emprego da crase.

- (A) Ela se referia à ambas as notícias.
- (B) A transportadora entregou a mercadoria ontem, as 11h.
- (C) Enviei uma carta a loja, espero que respondam à ela prontamente.
- (D) Não há motivos para toda àquela discussão.
- (E) Desejo sucesso àquela menina, tão esforçada.

QUESTÃO 10

Assinale a alternativa que apresenta uma oração subordinada adverbial com valor causal.

- (A) Ela merece o prêmio que ganhou, uma vez que batalhou tanto por isso.
- (B) Embora o amasse, não poderia assumir aquele relacionamento.
- (C) Contanto que cumpra os prazos, não terá problemas com o chefe.
- (D) Tudo ficava mais complexo, conforme os dias passavam.
- (E) Assim que terminar o relatório, o enviarei à equipe.

MATEMÁTICA E RACIOCÍNIO LÓGICO
QUESTÃO 11

Observe a sequência a seguir.



Figura 1

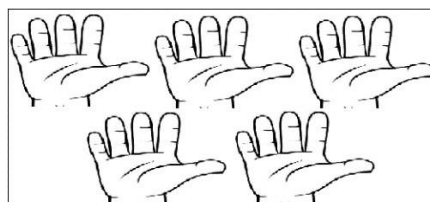


Figura 2

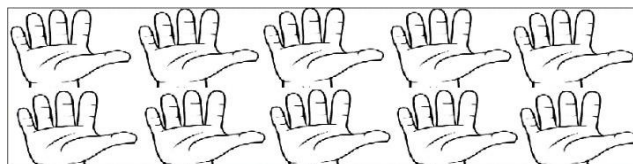


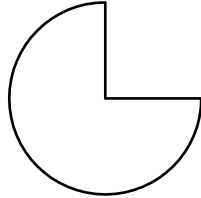
Figura 3

A sequência acima segue um padrão, sendo assim quantos dedos terão na figura 5 ?

- (A) 25
- (B) 26
- (C) 100
- (D) 130
- (E) 150

QUESTÃO 12

A figura abaixo representa três terços de um círculo cujo raio mede 4 cm. A razão entre o perímetro e a área dessa figura é aproximadamente:



- (A) 0,02
- (B) 0,6
- (C) 0,7
- (D) 1,5
- (E) 2,6

QUESTÃO 13

Considere dois ângulos suplementares α e θ . Sabendo que α mede o quádruplo de θ , o ângulo complementar de θ é:

- (A) 30°
- (B) 60°
- (C) 90°
- (D) 150°
- (E) 180°

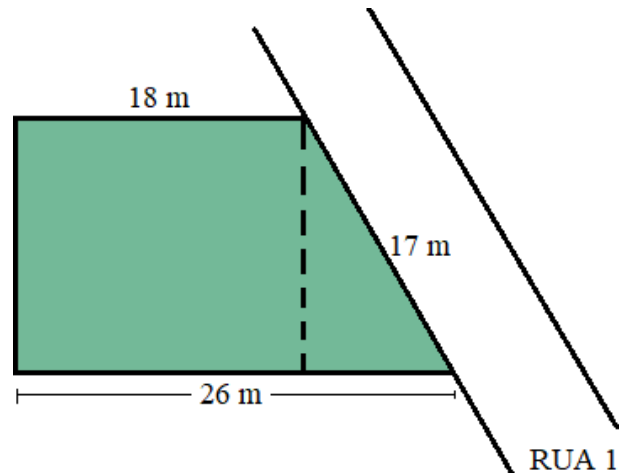
QUESTÃO 14

Em uma fila sabe-se que Pedro está imediatamente atrás de Raul e que Jéssica está imediatamente atrás de Pedro. Se Paulo é o segundo da fila e Maria a última, quantas pessoas há nessa fila?

- (A) 5
- (B) 6
- (C) 7
- (D) 8
- (E) 9

QUESTÃO 15

Murilo comprou um terreno localizado na rua 1, como mostra a figura abaixo. Como estratégia para a construção de sua casa ele resolveu dividir o terreno em duas partes, a linha tracejada na figura é o que separa essas partes. Na área retangular Murilo pretende construir a casa e na área triangular ele reservou como garagem e jardim.



Para fazer orçamentos Murilo precisa das medidas das áreas que foram separadas. Essas medidas correspondem a:

- (A) 135 m^2 e 60 m^2
- (B) 120 m^2 e 60 m^2
- (C) 270 m^2 e 120 m^2
- (D) 270 m^2 e 60 m^2
- (E) 330 m^2 e 120 m^2

NOÇÕES DE INFORMÁTICA**QUESTÃO 16**

Sobre o MS Windows 7, assinale a alternativa que apresenta uma sequência correta de comandos para criar um diretório.

- (A) Clique com o botão direito do mouse em uma área vazia da janela > <Novo= > <Pasta= > Digite um nome para a Pasta > pressione <Enter=.
- (B) Clique com o botão esquerdo do mouse em uma área vazia da janela > <Pasta= > pressione <Enter=.
- (C) Clique com o botão direito do mouse em uma área vazia da janela > <Pasta= > pressione <Enter=.
- (D) Clique com o botão esquerdo do mouse em uma área vazia da janela > <Novo= > <Pasta= > Digite um nome para a Pasta > pressione <Enter=.
- (E) Clique com o botão Direito do mouse em uma área vazia da janela > <Atalho= > pressione <Enter= > <Pasta=.

QUESTÃO 17

Sobre utilização de navegador de Internet, assinale a alternativa que apresenta um conhecido site de busca *online*.

- (A) Wikipédia
- (B) Word
- (C) Excel
- (D) MS-DOS
- (E) Google

QUESTÃO 18

Sobre o MS Excel 2010, assinale a alternativa que apresenta uma sequência correta de comandos para realizar uma soma simples e direta em uma célula da planilha.

- (A) Selecione a célula onde aparecerá o resultado da operação > insira o sinal de adição <+= > digite o primeiro valor > insira de ponto e vírgula <:= > digite o segundo valor > pressione <Enter=.
- (B) Selecione a célula onde aparecerá o resultado da operação > insira o sinal de igualdade <== > digite o primeiro valor > insira o sinal de adição <+= > digite o segundo valor > pressione <Enter=.
- (C) Selecione a célula onde aparecerá o resultado da operação > insira o sinal de igualdade <== > digite o primeiro valor > insira o sinal de subtração <-= > digite o segundo valor > pressione <Enter=.
- (D) Selecione a célula onde aparecerá o resultado da operação > insira o sinal asterisco <*= > digite o primeiro valor > insira o sinal de adição <+= > digite o segundo valor > pressione <Enter=.
- (E) Selecione a célula onde aparecerá o resultado da operação > insira o sinal cerquilha <#=> digite o primeiro valor > insira o sinal de adição <+= > digite o segundo valor > pressione <Enter=.

QUESTÃO 19

Sobre o MS Excel 2010, assinale a alternativa que apresenta uma sequência correta de comandos para realizar uma multiplicação simples e direta na célula C2 da planilha.

(A) Selecione a célula C2 > insira o sinal de igualdade <==> digite o primeiro valor > insira o sinal asterisco <*=> digite o segundo valor > pressione <Enter=.

(B) Selecione a célula C2 > insira o sinal cerquilha <#=> digite o primeiro valor > insira o sinal de ponto e vírgula <;=> digite o segundo valor > pressione <Enter=.

(C) Selecione a célula C2 > insira o sinal de arroba <@=> digite o primeiro valor > insira o sinal de subtração <-=> digite o segundo valor > pressione <Enter=.

(D) Selecione a célula D2 > insira o sinal asterisco <*=> digite o primeiro valor > insira o sinal de adição <+=> digite o segundo valor > pressione <Enter=.

(E) Selecione a célula C2 > insira o sinal cerquilha <#=> digite o primeiro valor > insira o sinal asterisco <*=> digite o segundo valor > pressione <Enter=.

QUESTÃO 20

Sobre utilização de navegador de Internet, assinale a alternativa que apresenta uma sequência correta de comandos para realizar uma pesquisa em um site de busca.

(A) Abra o <MS Word 2016=> Digite o URL do site de busca > Pressione <Enter=> Insira a palavra ou texto a ser pesquisado > pressione <Enter=>.

(B) Abra o <Bloco de Notas=> Digite o URL do site de busca > Pressione <Enter=> Insira a palavra ou texto a ser pesquisado > pressione <Enter=>.

(C) Abra o <MS PowerPoint 2016=> Digite o URL do site de busca > Pressione <Enter=> Insira a palavra ou texto a ser pesquisado > pressione <Enter=>.

(D) Abra o navegador de Internet > Digite o URL do site de busca na barra de endereço do navegador > Pressione <Enter=> Insira a palavra ou texto a ser pesquisado na caixa de pesquisa > Clique em <Pesquisar=> ou pressione <Enter=> Acesse os resultados.

(E) Abra o <MS Excel 2010=> Digite o URL do site de busca > Pressione <Enter=> Insira a palavra ou texto a ser pesquisado > pressione <Enter=>.

CONHECIMENTOS ESPECÍFICOS**QUESTÃO 21**

Assinale a alternativa que completa corretamente a lacuna:

A sinalização será colocada em posição e condições que a tornem perfeitamente visível e _____ durante o dia e a noite, em distância compatível com a segurança do trânsito, conforme normas e especificações do CONTRAN.

- (A) legível
- (B) discreta
- (C) coberta
- (D) sinalizada
- (E) apagada

QUESTÃO 22

De acordo com o artigo 88 do Código de Trânsito Brasileiro. Complete a lacuna.

Nenhuma via pavimentada poderá ser entregue após sua construção, ou reaberta ao trânsito após a realização de obras ou de manutenção, enquanto não estiver devidamente sinalizada, _____ de forma a garantir as condições adequadas de segurança na circulação.

- (A) vertical e horizontalmente.
- (B) Com barreiras de contenção.
- (C) Com semáforos.
- (D) com cones e cavaletes.
- (E) Com pinturas no asfalto.

QUESTÃO 23

Qual documento é exigido pelo órgão executivo de trânsito para a expedição do Certificado de Registro de Veículo, de acordo com o Art. 122 do Código de Trânsito Brasileiro?

- (A) Certificado de registro imobiliário.
- (B) Certificado de registro de armas.
- (C) Nota fiscal fornecida pelo fabricante ou revendedor, ou documento equivalente expedido por autoridade competente.
- (D) Certificado de conclusão de ensino médio.
- (E) Declaração de Imposto de Renda.

QUESTÃO 24

Será obrigatória a expedição de **novo** Certificado de Registro de Veículo quando:

- I - for transferida a propriedade;
 - II - o proprietário mudar o Município de domicílio ou residência;
 - III - houver mudança de categoria;
- (A) Apenas I esta correto.
 - (B) Apenas II esta correto.
 - (C) Apenas III esta correto.
 - (D) Apenas I e II estão corretos.
 - (E) I II e III estão corretos.

QUESTÃO 25

A sinalização acima refere-se à:

- (A) Dê a Preferência
- (B) Proibido Mudar de Faixa ou Pista de Trânsito da Direita para Esquerda.
- (C) Proibido Mudar de Faixa ou Pista de Trânsito da Esquerda para Direita.
- (D) Vire à Esquerda
- (E) Passagem Obrigatória

QUESTÃO 26

Para a expedição do novo Certificado de Registro de Veículo serão exigidos os seguintes documentos: EXCETO

- (A) Certificado de Registro de Veículo anterior;
- (B) Certificado de Licenciamento Anual;
- (C) comprovante de transferência de propriedade, quando for o caso, conforme modelo e normas estabelecidas pelo CONTRAN;
- (D) comprovante de transferência de propriedade, em qualquer hipótese, conforme modelo e normas estabelecidas pelo CONTRAN;
- (E) Certificado de Segurança Veicular e de emissão de poluentes e ruído, quando houver adaptação ou alteração de características do veículo;

QUESTÃO 27



A sinalização acima refere-se à:

- (A) Dê a Preferência
- (B) Proibido Mudar de Faixa ou Pista de Trânsito da Direita para Esquerda.
- (C) Proibido Mudar de Faixa ou Pista de Trânsito da Esquerda para Direita.
- (D) Vire à Esquerda
- (E) Passagem Obrigatória

QUESTÃO 28

Para a expedição do Certificado de Registro de Veículo o órgão executivo de trânsito consultará o cadastro do?

- (A) CPF do proprietário
- (B) CNH do proprietário
- (C) RENAVAM
- (D) Registro de Imóveis
- (E) Cartório de Registro Civil

QUESTÃO 29

Assinale a alternativa correta de acordo com as infrações de trânsito.

- (A) Dirigir veículo sem possuir Carteira Nacional de Habilitação, Permissão para Dirigir ou Autorização para Conduzir Ciclomotor é uma infração grave.
- (B) Dirigir veículo com Carteira Nacional de Habilitação, Permissão para Dirigir ou Autorização para Conduzir Ciclomotor cassada ou com suspensão do direito de dirigir é uma infração média.
- (C) Dirigir veículo com Carteira Nacional de Habilitação ou Permissão para Dirigir de categoria diferente da do veículo que esteja conduzindo é uma infração grave.
- (D) Dirigir veículo com Carteira Nacional de Habilitação vencida há mais de 30 (trinta) dias é uma infração leve.
- (E) Dirigir veículo sem usar lentes corretoras de visão, aparelho auxiliar de audição, de prótese física ou as adaptações do veículo impostas por ocasião da concessão ou da renovação da licença para conduzir é uma infração gravíssima.

QUESTÃO 30

Deixar o condutor, envolvido em acidente sem vítima, de adotar providências para remover o veículo do local, quando necessária tal medida para assegurar a segurança e a fluidez do trânsito, é considerada uma infração de qual gravidade?

- (A) Grave
- (B) Leve
- (C) Média
- (D) Gravíssima
- (E) Não é considerada infração.

QUESTÃO 31

A autoridade de trânsito, na esfera das competências estabelecidas neste Código e dentro de sua circunscrição, deverá aplicar, às infrações nele previstas, as seguintes penalidades:

I - advertência por escrito;

II - multa;

III - suspensão do direito de dirigir;

(A) Apenas I está correto.

(B) Apenas II está correto.

(C) Apenas III está correto.

(D) Apenas I e II estão corretos.

(E) I II e III estão corretos.

QUESTÃO 32

A cada infração cometida são computados os seguintes números de pontos:

I - grave - sete pontos;

II - gravíssima - cinco pontos;

III - média - quatro pontos;

IV - leve - dois pontos.

(A) Apenas I está correto.

(B) Apenas II está correto.

(C) Apenas IV está correto.

(D) Apenas I e III estão corretos.

(E) I e IV estão corretos.

QUESTÃO 33

Qual das alternativas abaixo tem como Penalidade multa e apreensão do veículo.

(A) Conduzir pessoas, animais ou carga nas partes externas do veículo, salvo nos casos devidamente autorizados.

(B) Falsificar ou adulterar documento de habilitação e de identificação do veículo.

(C) Rebocar outro veículo com cabo flexível ou corda, salvo em casos de emergência.

(D) Transitar com o veículo em desacordo com as especificações, e com falta de inscrição e simbologia necessárias à sua identificação, quando exigidas pela legislação.

(E) Deixar o responsável de promover a baixa do registro de veículo irrecuperável ou definitivamente desmontado.

QUESTÃO 34

Qual das alternativas abaixo tem como Penalidade apenas Multa.

(A) Usar indevidamente no veículo aparelho de alarme ou que produza sons e ruído que perturbem o sossego público, em desacordo com normas fixadas pelo CONTRAN.

(B) Conduzir o veículo com o lacre, a inscrição do chassi, o selo, a placa ou qualquer outro elemento de identificação do veículo violado ou falsificado.

(C) Falsificar ou adulterar documento de habilitação e de identificação do veículo.

(D) Retirar do local veículo legalmente retido para regularização, sem permissão da autoridade competente ou de seus agentes.

(E) Deixar o responsável de promover a baixa do registro de veículo irrecuperável ou definitivamente desmontado.

QUESTÃO 35

Em relação à transferência de propriedade de um veículo, qual é o prazo para o proprietário adotar as providências necessárias à efetivação da expedição do novo Certificado de Registro de Veículo, de acordo com o Art. 123, §1º do Código de Trânsito Brasileiro?

- (A) 60 dias.
- (B) 30 dias.
- (C) 90 dias.
- (D) 15 dias.
- (E) Nenhuma das alternativas.

QUESTÃO 36

Transitar pela contramão de direção em vias com **duplo** sentido de circulação, exceto para ultrapassar outro veículo e apenas pelo tempo necessário, respeitada a preferência do veículo que transitar em sentido contrário é considerada uma infração de qual gravidade?

- (A) Grave
- (B) Leve
- (C) Média
- (D) Gravíssima
- (E) Não é considerada infração.

QUESTÃO 37

São consideradas infrações Média, exceto:

- (A) Executar operação de conversão à direita ou à esquerda em locais proibidos pela sinalização.
- (B) Ter seu veículo imobilizado na via por falta de combustível.
- (C) Estacionar o veículo nas esquinas e a menos de cinco metros do bordo do alinhamento da via transversal.
- (D) Parar o veículo nas esquinas e a menos de cinco metros do bordo do alinhamento da via transversal.
- (E) Deixar de deslocar, com antecedência, o veículo para a faixa mais à esquerda ou mais à direita, dentro da respectiva mão de direção, quando for manobrar para um desses lados

QUESTÃO 38

De acordo com as Resoluções do Conselho Nacional de Trânsito. Caso o condutor do veículo seja o responsável pela infração, não seja o proprietário ou o principal condutor do veículo e não seja identificado no ato do cometimento da infração, o proprietário ou principal condutor do veículo deverá indicar o real condutor infrator, por meio de formulário de identificação do condutor infrator, que acompanhará a NA e deverá conter, no mínimo:

I - identificação do órgão autuador;

III- campo para a assinatura do proprietário do veículo;

IV - campo para a assinatura do condutor infrator;

- (A) Apenas I está correto.
- (B) Apenas II está correto.
- (C) Apenas III está correto.
- (D) Apenas I e II estão corretos.
- (E) I II e III estão corretos.

QUESTÃO 39

Complete a lacuna:

As penalidades de suspensão do direito de dirigir e de cassação do documento de habilitação serão aplicadas por decisão fundamentada da autoridade de trânsito competente, em processo _____, assegurado ao infrator amplo direito de defesa.

- (A) administrativo
- (B) civil
- (C) penal
- (D) constitucional
- (E) nenhuma das alternativas completa corretamente a lacuna.

QUESTÃO 40

São consideradas infrações Graves, exceto:

- (A) Ultrapassar veículos em fila, parados em razão de sinal luminoso, cancela, bloqueio viário parcial ou qualquer outro obstáculo, com exceção dos veículos não motorizados.
- (B) Deixar de dar preferência de passagem em interseção não sinalizada, a veículo que vier da direita.
- (C) Deixar de dar preferência de passagem em interseção não sinalizada, a veículo que estiver circulando por rodovia ou rotatória.
- (D) Entrar ou sair de fila de veículos estacionados sem dar preferência de passagem a pedestres e a outros veículos.
- (E) Transitar com o farol desregulado ou com o fecho de luz alta de forma a perturbar a visão de outro condutor.

