

VISITADOR SANITÁRIO

Leia atentamente as instruções abaixo

1. PROVA E FOLHA DE RESPOSTAS

Além deste Caderno de Prova, contendo 40 (quarenta) questões objetivas, você receberá do Fiscal de Sala:

- 01 (uma) Folha de Respostas destinada às respostas das questões objetivas. Confira se seus dados estão corretos.

2. TEMPO

- 03 (três) horas é o tempo disponível para realização da prova, já incluído o tempo para marcação da Folha de Respostas da prova objetiva;

- **01 (uma) hora** após o início da prova é possível, retirar-se da sala levando o caderno de prova;

3. INFORMAÇÕES GERAIS

- As questões objetivas têm 05 (cinco) alternativas de resposta (A, B, C, D, E) e somente **uma** delas está correta;
- Verifique se seu caderno está completo, sem repetição de questões ou falhas. Caso contrário, informe imediatamente o Fiscal da Sala, para que sejam tomadas as devidas providências;
- Confira seus dados pessoais na Folha de Respostas, especialmente nome, número de inscrição e documento de identidade e leia atentamente as instruções para preenchimento;
- O preenchimento das respostas da prova objetiva é de sua responsabilidade e não será permitida a troca de Folha de Respostas em caso de erro de marcação pelo candidato;

- Marque, na folha de respostas, com caneta de tinta azul ou preta, a letra correspondente à alternativa que você escolheu.

- Reserve tempo suficiente para o preenchimento de suas respostas. Para fins de avaliação, serão levadas em consideração apenas as marcações realizadas na Folha de Respostas da prova objetiva, não sendo permitido anotar informações relativas às respostas em qualquer outro meio que não seja o caderno de prova;

- Ao se retirar, entregue a Folha de Respostas preenchida e assinada ao Fiscal de Sala.

SERÁ ELIMINADO do presente certame o candidato que:

- a) for surpreendido, durante as provas, em qualquer tipo de comunicação com outro candidato;
- b) portar ou usar, qualquer tipo de aparelho eletrônico (calculadoras, bips/pagers, câmeras fotográficas, filmadoras, telefones celulares, smartphones, tablets, relógios, walkmans, MP3 players, fones de ouvido, agendas eletrônicas, notebooks, palmtops ou qualquer outro tipo de computador portátil, receptores ou gravadores) seja na sala de prova, sanitários, pátios ou qualquer outra dependência do local de prova;
- c) se ausentar da sala em que se realizam as provas levando consigo o Caderno de Questões e/ou a Folha de Respostas;
- d) se recusar a entregar a Folha de Respostas, quando terminar o tempo estabelecido;
- e) não assinar a Lista de Presença e/ou a Folha de Respostas.

LÍNGUA PORTUGUESA
TEXTO

O Cântico da Terra

Eu sou a terra, eu sou a vida.
Do meu barro primeiro veio o homem.
De mim veio a mulher e veio o amor.
Veio a árvore, veio a fonte.
Vem o fruto e vem a flor.
Eu sou a fonte original de toda vida.
Sou o chão que se prende à tua casa.
Sou a telha da cobertura de teu lar.
A mina constante de teu poço.
Sou a espiga generosa de teu gado
e certeza tranquila ao teu esforço.
Sou a razão de tua vida.
De mim vieste pela mão do Criador,
e a mim tu voltarás no fim da lida.
Só em mim acharás descanso e Paz.
Eu sou a grande Mãe Universal.
Tua filha, tua noiva e desposada.
A mulher e o ventre que fecundas.
Sou a gleba, a gestação, eu sou o amor.
A ti, ó lavrador, tudo quanto é meu.
Teu arado, tua foice, teu machado.
O berço pequenino de teu filho.
O algodão de tua veste
e o pão de tua casa.
E um dia bem distante
a mim tu voltarás.
E no canteiro materno de meu seio
tranquilo dormirás.
Plantemos a roça.
Lavremos a gleba.
Cuidemos do ninho,
do gado e da tulha.
Fatura teremos
e donos de sítio
felizes seremos.

Cora Coralina

QUESTÃO 01

O eu-lírico do texto O Cântico da Terra, de Cora Coralina, é:

- (A) uma mulher apaixonada.
- (B) a própria autora do texto.
- (C) uma personagem da mitologia grega.
- (D) a terra.
- (E) um sentimento.

QUESTÃO 02

Em relação ao gênero, o texto apresentado acima é classificado como:

- (A) poema.
- (B) romance.
- (C) fábula.
- (D) conto.
- (E) novela.

QUESTÃO 03

Considere o seguinte trecho:

<E um dia bem distante
a mim tu voltarás.

E no canteiro materno de meu seio
tranquilo dormirás.=

De forma metafórica, o trecho se refere à:

- (A) morte.
- (B) vida.
- (C) reconciliação de um casal.
- (D) colheita.
- (E) tranquilidade da vida no campo.

QUESTÃO 04

É sinônimo da palavra <gleba=:

- (A) geba.
- (B) colheita.
- (C) milharal.
- (D) estrada.
- (E) terreno.

QUESTÃO 05

Considere a sentença <Do meu barro primeiro veio o homem.= Em relação à classe gramatical, as palavras <meu=, <barro=, <veio= e <o= são, respectivamente:

- (A) artigo, substantivo, verbo, artigo.
- (B) pronome, adjetivo, verbo, pronome.
- (C) pronome, substantivo, verbo, artigo.
- (D) pronome, adjetivo, advérbio, artigo.
- (E) artigo, substantivo, advérbio, pronome.

QUESTÃO 06

Considere as seguintes sentenças:

- I. <Eu sou a grande Mãe Universal.=
- II. <Só em mim acharás descanso e Paz.=

Quanto à regência, os verbos <sou= e <achará= são, respectivamente:

- (A) I. verbo transitivo direto; II. verbo transitivo direto.
- (B) I. verbo de ligação; II. verbo transitivo direto.
- (C) I. verbo de ligação; II. verbo transitivo indireto.
- (D) I. verbo pronominal; II. verbo intransitivo.
- (E) I. verbo intransitivo; II. verbo de ligação.

QUESTÃO 07

Considere as sentenças:

- I. <De mim veio a mulher e veio o amor.=
- II. <Sou a razão de tua vida.=
- III. <A ti, ó lavrador, tudo quanto é meu.=

Os pronomes "mim", "tua" e "ti" nas sentenças dadas são, respectivamente:

- (A) pronome pessoal do caso oblíquo átono, pronome possessivo, pronome pessoal do caso oblíquo tônico.
- (B) pronome pessoal do caso oblíquo tônico, pronome possessivo, pronome pessoal do caso oblíquo tônico.
- (C) pronome pessoal do caso oblíquo tônico, pronome pessoal do caso reto, pronome pessoal do caso oblíquo tônico.
- (D) pronome pessoal do caso reto, pronome possessivo, pronome pessoal do caso reto.
- (E) pronome pessoal do caso oblíquo átono, pronome pessoal do caso oblíquo átono, pronome pessoal do caso oblíquo átono.

QUESTÃO 08

Considere o seguinte excerto:

<E um dia bem distante
a mim tu voltarás.=

Na sentença dada, a palavra <bem> funciona como advérbio, modificando diretamente:

- (A) o substantivo <dia>.
- (B) o verbo <voltarás>.
- (C) o pronome <mim>.
- (D) o adjetivo <distante>.
- (E) o verbo <voltarás> e o pronome <tu>.

QUESTÃO 09

Assinale a alternativa que apresenta a sentença correta em relação ao emprego da crase.

- (A) Ela se referia à ambas as notícias.
- (B) A transportadora entregou a mercadoria ontem, as 11h.
- (C) Enviei uma carta a loja, espero que respondam à ela prontamente.
- (D) Não há motivos para toda àquela discussão.
- (E) Desejo sucesso àquela menina, tão esforçada.

QUESTÃO 10

Assinale a alternativa que apresenta uma oração subordinada adverbial com valor causal.

- (A) Ela merece o prêmio que ganhou, uma vez que batalhou tanto por isso.
- (B) Embora o amasse, não poderia assumir aquele relacionamento.
- (C) Contanto que cumpra os prazos, não terá problemas com o chefe.
- (D) Tudo ficava mais complexo, conforme os dias passavam.
- (E) Assim que terminar o relatório, o enviarei à equipe.

MATEMÁTICA E RACIOCÍNIO LÓGICO
QUESTÃO 11

Observe a sequência a seguir.




Figura 1

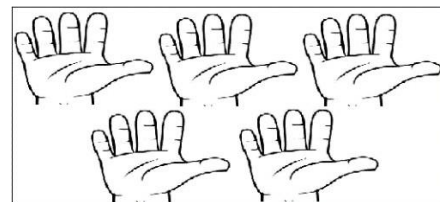


Figura 2

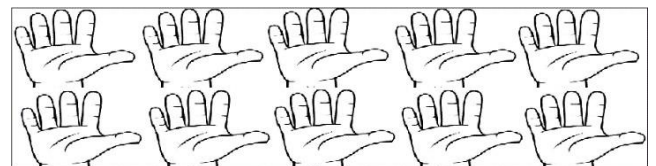


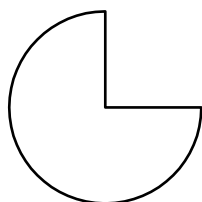
Figura 3

A sequência acima segue um padrão, sendo assim quantos dedos terão na figura 5 ?

- (A) 25
- (B) 26
- (C) 100
- (D) 130
- (E) 150

QUESTÃO 12

A figura abaixo representa três terços de um círculo cujo raio mede 4 cm. A razão entre o perímetro e a área dessa figura é aproximadamente:



- (A) 0,02
- (B) 0,6
- (C) 0,7
- (D) 1,5
- (E) 2,6

QUESTÃO 13

Considere dois ângulos suplementares α e θ . Sabendo que α mede o quádruplo de θ , o ângulo complementar de θ é:

- (A) 30°
- (B) 60°
- (C) 90°
- (D) 150°
- (E) 180°

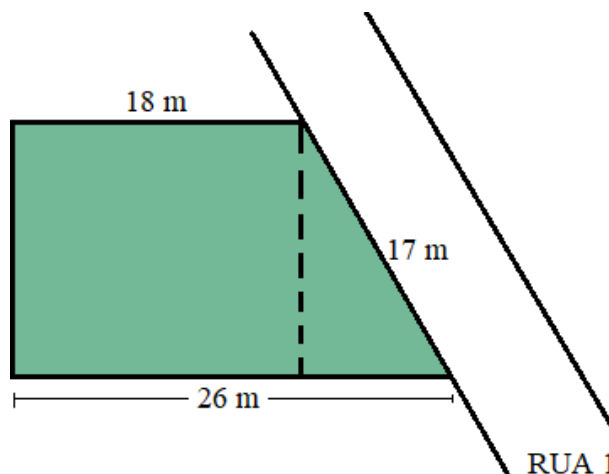
QUESTÃO 14

Em uma fila sabe-se que Pedro está imediatamente atrás de Raul e que Jéssica está imediatamente atrás de Pedro. Se Paulo é o segundo da fila e Maria a última, quantas pessoas há nessa fila?

- (A) 5
- (B) 6
- (C) 7
- (D) 8
- (E) 9

QUESTÃO 15

Murilo comprou um terreno localizado na rua 1, como mostra a figura abaixo. Como estratégia para a construção de sua casa ele resolveu dividir o terreno em duas partes, a linha tracejada na figura é o que separa essas partes. Na área retangular Murilo pretende construir a casa e na área triangular ele reservou como garagem e jardim.



Para fazer orçamentos Murilo precisa das medidas das áreas que foram separadas. Essas medidas correspondem a:

- (A) 135 m^2 e 60 m^2
- (B) 120 m^2 e 60 m^2
- (C) 270 m^2 e 120 m^2
- (D) 270 m^2 e 60 m^2
- (E) 330 m^2 e 120 m^2

NOÇÕES DE INFORMÁTICA**QUESTÃO 16**

Sobre o MS Windows 7, assinale a alternativa que apresenta uma sequência correta de comandos para criar um diretório.

- (A) Clique com o botão direito do mouse em uma área vazia da janela > <Novo= > <Pasta= > Digite um nome para a Pasta > pressione <Enter=.
- (B) Clique com o botão esquerdo do mouse em uma área vazia da janela > <Pasta= > pressione <Enter=.
- (C) Clique com o botão direito do mouse em uma área vazia da janela > <Pasta= > pressione <Enter=.
- (D) Clique com o botão esquerdo do mouse em uma área vazia da janela > <Novo= > <Pasta= > Digite um nome para a Pasta > pressione <Enter=.
- (E) Clique com o botão Direito do mouse em uma área vazia da janela > <Atalho= > pressione <Enter= > <Pasta=.

QUESTÃO 17

Sobre utilização de navegador de Internet, assinale a alternativa que apresenta um conhecido site de busca *online*.

- (A) Wikipédia
- (B) Word
- (C) Excel
- (D) MS-DOS
- (E) Google

QUESTÃO 18

Sobre o MS Excel 2010, assinale a alternativa que apresenta uma sequência correta de comandos para realizar uma soma simples e direta em uma célula da planilha.

- (A) Selecione a célula onde aparecerá o resultado da operação > insira o sinal de adição <+= > digite o primeiro valor > insira de ponto e vírgula <:= > digite o segundo valor > pressione <Enter=.
- (B) Selecione a célula onde aparecerá o resultado da operação > insira o sinal de igualdade <== > digite o primeiro valor > insira o sinal de adição <+= > digite o segundo valor > pressione <Enter=.
- (C) Selecione a célula onde aparecerá o resultado da operação > insira o sinal de igualdade <== > digite o primeiro valor > insira o sinal de subtração <-= > digite o segundo valor > pressione <Enter=.
- (D) Selecione a célula onde aparecerá o resultado da operação > insira o sinal asterisco <*= > digite o primeiro valor > insira o sinal de adição <+= > digite o segundo valor > pressione <Enter=.
- (E) Selecione a célula onde aparecerá o resultado da operação > insira o sinal cerquilha <#=> digite o primeiro valor > insira o sinal de adição <+= > digite o segundo valor > pressione <Enter=.

QUESTÃO 19

Sobre o MS Excel 2010, assinale a alternativa que apresenta uma sequência correta de comandos para realizar uma multiplicação simples e direta na célula C2 da planilha.

- (A) Selecione a célula C2 > insira o sinal de igualdade <==> digite o primeiro valor > insira o sinal asterisco <*=> digite o segundo valor > pressione <Enter=.
- (B) Selecione a célula C2 > insira o sinal cerquilha <#=> digite o primeiro valor > insira o sinal de ponto e vírgula <;=> digite o segundo valor > pressione <Enter=.
- (C) Selecione a célula C2 > insira o sinal de arroba <@=> digite o primeiro valor > insira o sinal de subtração <-=> digite o segundo valor > pressione <Enter=.
- (D) Selecione a célula D2 > insira o sinal asterisco <*=> digite o primeiro valor > insira o sinal de adição <+=> digite o segundo valor > pressione <Enter=.
- (E) Selecione a célula C2 > insira o sinal cerquilha <#=> digite o primeiro valor > insira o sinal asterisco <*=> digite o segundo valor > pressione <Enter=.

QUESTÃO 20

Sobre utilização de navegador de Internet, assinale a alternativa que apresenta uma sequência correta de comandos para realizar uma pesquisa em um site de busca.

- (A) Abra o <MS Word 2016=> Digite o URL do site de busca > Pressione <Enter=> Insira a palavra ou texto a ser pesquisado > pressione <Enter=>.
- (B) Abra o <Bloco de Notas=> Digite o URL do site de busca > Pressione <Enter=> Insira a palavra ou texto a ser pesquisado > pressione <Enter=>.
- (C) Abra o <MS PowerPoint 2016=> Digite o URL do site de busca > Pressione <Enter=> Insira a palavra ou texto a ser pesquisado > pressione <Enter=>.
- (D) Abra o navegador de Internet > Digite o URL do site de busca na barra de endereço do navegador > Pressione <Enter=> Insira a palavra ou texto a ser pesquisado na caixa de pesquisa > Clique em <Pesquisar=> ou pressione <Enter=> Acesse os resultados.
- (E) Abra o <MS Excel 2010=> Digite o URL do site de busca > Pressione <Enter=> Insira a palavra ou texto a ser pesquisado > pressione <Enter=>.

CONHECIMENTOS ESPECÍFICOS**QUESTÃO 21**

Considerando as disposições do Ministério da Saúde sobre Vigilância Epidemiológica e imunizações, assinale a alternativa correta.

- (A) A Vigilância Epidemiológica monitora apenas doenças transmissíveis.
- (B) O principal objetivo da Vigilância Epidemiológica é fornecer tratamento aos indivíduos doentes.
- (C) A Vigilância Epidemiológica não tem por finalidade à prevenção de doenças e agravos transmissíveis.
- (D) As imunizações são uma das principais ferramentas para prevenir doenças infecciosas.
- (E) As vacinas são substâncias que causam a doença que se pretende prevenir, estimulando a produção de anticorpos.

QUESTÃO 22

Segundo a Ministério do Meio Ambiente e Agência Nacional de Águas, são ações que fazem parte do saneamento básico no Brasil, EXCETO:

- (A) Os serviços de abastecimento de água.
- (B) Limpeza urbana.
- (C) Coleta e tratamento de esgotos.
- (D) Coleta e destinação do lixo.
- (E) Controle de surtos e epidemias de doenças.

QUESTÃO 23

De acordo com o Ministério da Saúde, qual das seguintes afirmações é FALSA sobre doenças infectocontagiosas.

- (A) Todas as doenças infectocontagiosas possuem tratamento curativo disponível.
- (B) Para algumas doenças, a transmissão pode ocorrer por via fômites.
- (C) São preveníveis através de medidas de higiene e saneamento básico.
- (D) Algumas doenças infectocontagiosas possuem vacinas disponíveis para prevenção.
- (E) São doenças que podem ser causadas por micro-organismos.

QUESTÃO 24

Trata-se de uma doença infectocontagiosa viral aguda que causa paralisia flácida súbita, geralmente nos membros inferiores. Ela é caracterizada pela flacidez muscular, sensibilidade preservada e falta de reflexos no segmento afetado. A doença foi erradicada no Brasil nos anos 90 graças à política de prevenção, vigilância e controle do Sistema Único de Saúde (SUS). A doença descrita é nomeada:

- (A) Malária.
- (B) Hepatite A.
- (C) Poliomielite.
- (D) Febre amarela.
- (E) Febre tifoide.

QUESTÃO 25

Segundo a legislação vigente, os serviços públicos de saneamento básico serão prestados com base nos seguintes princípios fundamentais, EXCETO:

- (A) Universalização do acesso.
- (B) Integralidade.
- (C) Sustentabilidade econômica.
- (D) Priorização de investimentos na economia primária.
- (E) Abastecimento de água em padrões de potabilidade.

QUESTÃO 26

Sobre o controle sanitário de alimentos no Brasil, analise as afirmativas a seguir.

- I.** No Brasil, há dois setores da Administração Pública que atuam mais diretamente no controle sanitário de alimentos: os setores da agricultura (Ministério da Agricultura, Pecuária e Abastecimento - MAPA) e da saúde (Agência Nacional de Vigilância Sanitária - Anvisa).
- II.** Os órgãos da agricultura no Brasil são responsáveis por fiscalizar as etapas de cultivo, criação de animais e pesca.
- III.** O controle das etapas de processamento e distribuição dos alimentos é uma responsabilidade exclusiva Anvisa, independente da natureza do produto.

De acordo com instruções oficiais do Ministério da Saúde, está correto o que se afirma em:

- (A) II e III, apenas.
- (B) I, II e III.
- (C) II, apenas.
- (D) I, apenas.
- (E) I e II, apenas.

QUESTÃO 27

Considerando as Normativas da Agência Nacional de Vigilância Sanitária acerca das edificações e instalações destinadas aos serviços de alimentação, assinale a alternativa INCORRETA.

- (A) Devem ser projetadas de forma a possibilitar um fluxo ordenado em todas as etapas do preparo dos alimentos.
- (B) Deve-se evitar a separação entre as diferentes atividades por meio de barreiras físicas, fazendo uso de cozinhas integradas aos demais ambientes do estabelecimento.
- (C) Piso, parede e teto devem possuir revestimento liso, impermeável e lavável.
- (D) As edificações devem permitir fácil manutenção, limpeza e, quando for o caso, desinfecção.
- (E) O acesso às instalações deve ser controlado e independente, não comum a outros usos.

QUESTÃO 28

A vacinação em massa da população contribuiu para que muitas doenças comuns no Brasil e no mundo deixassem de ser um problema de saúde pública. São com vacinas disponibilizadas no Sistema Único de Saúde, EXCETO:

- (A) Coqueluche.
- (B) Hepatite B.
- (C) Hepatite A.
- (D) Varicela.
- (E) Leishmaniose.

QUESTÃO 29

São doenças infectocontagiosas, EXCETO:

- (A) Brucelose humana.
- (B) Poliomielite.
- (C) Botulismo.
- (D) Sífilis.
- (E) Sarampo.

QUESTÃO 30

O Programa Nacional de Vigilância da Qualidade da Água para Consumo Humano é nomeado:

- (A) Proaco.
- (B) Pronavia.
- (C) Vigiagua.
- (D) Vigiaco.
- (E) Acovigi.

QUESTÃO 31

De acordo com as normas federais que disciplinam as infrações sanitárias, interromper, suspender ou reduzir, sem justa causa, a produção ou distribuição de medicamentos de tarja vermelha, provocando o desabastecimento do mercado, pode resultar nas seguintes penalidades, EXCETO:

- (A) Advertência pública, publicada no Diário Oficial do Estado, Jornais de grande circulação ou redes sociais oficiais.
- (B) Interdição total ou parcial do estabelecimento.
- (C) Cancelamento do registro do produto.
- (D) Cancelamento do alvará de licenciamento do estabelecimento e/ou multa.
- (E) Cancelamento de autorização para funcionamento da empresa.

QUESTÃO 32

Segundo o Ministério da Saúde, a melhor forma de prevenção da dengue é:

- (A) o isolamento social dos infectados.
- (B) o uso de álcool em gel.
- (C) a vacinação.
- (D) evitar o acúmulo de água parada.
- (E) desincentivar o uso de calhas e piscinas.

QUESTÃO 33

Segundo o Ministério da Saúde, a vigilância epidemiológica da esquistossomose considera como "Área indene sem potencial de transmissão" aquela em que foi comprovada a ausência de _____ de importância epidemiológica na transmissão da doença.

A lacuna é corretamente preenchida por:

- (A) Caramujos.
- (B) Bicho barbeiro.
- (C) Pulga.
- (D) Ratos.
- (E) moscas.

QUESTÃO 34

Sobre as medidas de controle de roedores, analise as afirmativas a seguir.

- I.** O lixo destinado à coleta, quando acondicionado em sacos plásticos fechados e mantidos em contato direto com o solo, não atrai roedores.
- II.** É importante que as ratoeiras já utilizadas tenham resquícios de urina deixada por outro roedor, para que o feromônio deixado atraia novos roedores.
- III.** Dispositivos ultrassônicos podem ser utilizados no combate aos roedores. Geralmente, quando os roedores estão incomodados com os sons produzidos pelos dispositivos, buscam outras áreas para estabelecer suas colônias.

Está correto o que se afirma em:

- (A) I, apenas.
- (B) III, apenas.
- (C) I, II e III.
- (D) I e II, apenas.
- (E) II, apenas.

QUESTÃO 35

Considerando o Manual de Controle de Roedores, da Fundação Nacional de Saúde, analise as afirmativas a seguir e, logo após, marque (V) para verdadeira e (F) para falsa.

- () Leptospirose, peste e as hantavirozes são doenças de importância epidemiológica no Brasil transmitidas por roedores.
- () A presença de ratos em estabelecimentos comerciais pode ser constatada pela presença de manchas contínuas de cor escura junto aos rodapés, próximas aos cantos, sobre canos ou caibros, além da presença de urina e fezes.
- () Os ratos e camundongos possuem baixa capacidade adaptativa e resistente, o que torna sua eliminação facilitada. Ainda, esses animais são facilmente eliminados por venenos convencionais, pois não apresentam qualquer percepção, sinalização ou rejeição a alimentos contaminados.

Assinale a alternativa que apresenta a sequência correta.

- (A) F – V – V.
- (B) V – F – F.
- (C) V – V – F.
- (D) F – F – V.
- (E) V – F – V.

QUESTÃO 36

As infrações sanitárias são investigadas através de um processo administrativo, que começa com a emissão do auto de infração. Sobre o documento auto de infração, nos termos da legislação federal vigente, assinale a alternativa correta.

- (A) Trata-se de um documento emitido pelo infrator.
- (B) É elaborado pela autoridade sanitária que constatou a infração.
- (C) Todos os autos de infração devem ser publicados em edital.
- (D) O documento não requer ciência do autuado ou de testemunhas, apenas a identificação do autuante.
- (E) Ao auto de infração não cabe recurso.

QUESTÃO 37

Considerando a legislação vigente no que tange às condições sanitárias dos estabelecimentos que prestam serviços de alimentação, assinale a alternativa INCORRETA.

- (A) As instalações sanitárias devem possuir lavatórios e estar supridas de produtos destinados à higiene pessoal.
- (B) Devem existir lavatórios exclusivos para a higiene das mãos na área de manipulação, em posições estratégicas em relação ao fluxo de preparo dos alimentos.
- (C) Substâncias odorizantes e ou desodorantes podem ser utilizadas na limpeza das áreas de preparação e armazenamento dos alimentos.
- (D) Em banheiros, os coletores de resíduos devem ser dotados de tampa e acionados sem contato manual.
- (E) A área de preparação do alimento deve ser higienizada quantas vezes forem necessárias e imediatamente após o término do trabalho.

QUESTÃO 38

O Conselho Nacional do Meio Ambiente estabelece o código de cores para a diferenciação dos diferentes tipos de resíduos, como uma medida de identificação dos coletores e transportadores, bem como nas campanhas da coleta seletiva. Considerando a legislação vigente, para a identificação de resíduos orgânicos utiliza-se a cor:

- (A) cinza.
- (B) verde.
- (C) azul.
- (D) marrom.
- (E) branco.

QUESTÃO 39

No exercício da função, o profissional Visitador Sanitário realizou a fiscalização de certo estabelecimento que prestava serviços de alimentação. Em suas anotações constavam as seguintes informações:

1. Os ambientes são arejados e as aberturas externas das áreas de armazenamento e preparo dos alimentos são desprovidas de telas milimetradas.
2. As portas e as janelas são bem ajustadas aos batentes.
3. As portas da área de preparação e armazenamento de alimentos são dotadas de fechamento manual em ótimo estado de conservação.
4. Os ralos não são sifonados.
5. As grelhas dispõem de dispositivos que permitem seu fechamento.

Diante do exposto, o estabelecimento está em desacordo com a Normativa de Boas Práticas para Serviços de Alimentação da Anvisa apenas em:

- (A) 1, 2 e 4, apenas.
- (B) 1, 3 e 4, apenas.
- (C) 2 e 5, apenas.
- (D) 2 e 3, apenas.
- (E) 1, 2, 3 e 5, apenas.

QUESTÃO 40

São compostos utilizados como raticidas no controle de roedores, EXCETO:

- (A) indandiônicos.
- (B) hidroxicumarínicos.
- (C) cumafeno (Warfarina).
- (D) cumaclo.
- (E) goma arábica.

