

# EDUCADOR SOCIAL

## Leia atentamente as instruções abaixo

### 1. PROVA E FOLHA DE RESPOSTAS

Além deste Caderno de Prova, contendo 40 (quarenta) questões objetivas, você receberá do Fiscal de Sala:

- 01 (uma) Folha de Respostas destinada às respostas das questões objetivas. Confira se seus dados estão corretos.

### 2. TEMPO

- 03 (três) horas é o tempo disponível para realização da prova, já incluído o tempo para marcação da Folha de Respostas da prova objetiva;

- **01 (uma) hora** após o início da prova é possível, retirar-se da sala levando o caderno de prova;

### 3. INFORMAÇÕES GERAIS

- As questões objetivas têm 05 (cinco) alternativas de resposta (A, B, C, D, E) e somente **uma** delas está correta;

- Verifique se seu caderno está completo, sem repetição de questões ou falhas. Caso contrário, informe imediatamente o Fiscal da Sala, para que sejam tomadas as devidas providências;

- Confira seus dados pessoais na Folha de Respostas, especialmente nome, número de inscrição e documento de identidade e leia atentamente as instruções para preenchimento;

- O preenchimento das respostas da prova objetiva é de sua responsabilidade e não será permitida a troca de Folha de Respostas em caso de erro de marcação pelo candidato;

- Marque, na folha de respostas, com caneta de tinta azul ou preta, a letra correspondente à alternativa que você escolheu.

- Reserve tempo suficiente para o preenchimento de suas respostas. Para fins de avaliação, serão levadas em consideração apenas as marcações realizadas na Folha de Respostas da prova objetiva, não sendo permitido anotar informações relativas às respostas em qualquer outro meio que não seja o caderno de prova;

- Ao se retirar, entregue a Folha de Respostas preenchida e assinada ao Fiscal de Sala.

#### SERÁ ELIMINADO do presente certame o candidato que:

- a) for surpreendido, durante as provas, em qualquer tipo de comunicação com outro candidato;

- b) portar ou usar, qualquer tipo de aparelho eletrônico (calculadoras, bips/pagers, câmeras fotográficas, filmadoras, telefones celulares, smartphones, tablets, relógios, walkmans, MP3 players, fones de ouvido, agendas eletrônicas, notebooks, palmtops ou qualquer outro tipo de computador portátil, receptores ou gravadores) seja na sala de prova, sanitários, pátios ou qualquer outra dependência do local de prova;

- c) se ausentar da sala em que se realizam as provas levando consigo o Caderno de Questões e/ou a Folha de Respostas;

- d) se recusar a entregar a Folha de Respostas, quando terminar o tempo estabelecido;

- e) não assinar a Lista de Presença e/ou a Folha de Respostas.

**LÍNGUA PORTUGUESA**  
**TEXTO**

**O Cântico da Terra**

Eu sou a terra, eu sou a vida.  
Do meu barro primeiro veio o homem.  
De mim veio a mulher e veio o amor.  
Veio a árvore, veio a fonte.  
Vem o fruto e vem a flor.  
Eu sou a fonte original de toda vida.  
Sou o chão que se prende à tua casa.  
Sou a telha da cobertura de teu lar.  
A mina constante de teu poço.  
Sou a espiga generosa de teu gado  
e certeza tranquila ao teu esforço.  
Sou a razão de tua vida.  
De mim vieste pela mão do Criador,  
e a mim tu voltarás no fim da lida.  
Só em mim acharás descanso e Paz.  
Eu sou a grande Mãe Universal.  
Tua filha, tua noiva e desposada.  
A mulher e o ventre que fecundas.  
Sou a gleba, a gestação, eu sou o amor.  
A ti, ó lavrador, tudo quanto é meu.  
Teu arado, tua foice, teu machado.  
O berço pequenino de teu filho.  
O algodão de tua veste  
e o pão de tua casa.  
E um dia bem distante  
a mim tu voltarás.  
E no canteiro materno de meu seio  
tranquilo dormirás.  
Plantemos a roça.  
Lavremos a gleba.  
Cuidemos do ninho,  
do gado e da tulha.  
Fatura teremos  
e donos de sítio  
felizes seremos.

**Cora Coralina**

**QUESTÃO 01**

O eu-lírico do texto O Cântico da Terra, de Cora Coralina, é:

- (A) uma mulher apaixonada.
- (B) a própria autora do texto.
- (C) uma personagem da mitologia grega.
- (D) a terra.
- (E) um sentimento.

**QUESTÃO 02**

Em relação ao gênero, o texto apresentado acima é classificado como:

- (A) poema.
- (B) romance.
- (C) fábula.
- (D) conto.
- (E) novela.

**QUESTÃO 03**

Considere o seguinte trecho:

“E um dia bem distante  
a mim tu voltarás.  
E no canteiro materno de meu seio  
tranquilo dormirás.”

De forma metafórica, o trecho se refere à:

- (A) morte.
- (B) vida.
- (C) reconciliação de um casal.
- (D) colheita.
- (E) tranquilidade da vida no campo.

**QUESTÃO 04**

É sinônimo da palavra “gleba”:

- (A) geba.
- (B) colheita.
- (C) milharal.
- (D) estrada.
- (E) terreno.

**QUESTÃO 05**

Considere a sentença “Do meu barro primeiro veio o homem.” Em relação à classe gramatical, as palavras “meu”, “barro”, “veio” e “o” são, respectivamente:

- (A) artigo, substantivo, verbo, artigo.
- (B) pronome, adjetivo, verbo, pronome.
- (C) pronome, substantivo, verbo, artigo.
- (D) pronome, adjetivo, advérbio, artigo.
- (E) artigo, substantivo, advérbio, pronome.

**QUESTÃO 06**

Considere as seguintes sentenças:

- I. “Eu sou a grande Mãe Universal.”
- II. “Só em mim acharás descanso e Paz.”

Quanto à regência, os verbos “sou” e “acharás” são, respectivamente:

- (A) I. verbo transitivo direto; II. verbo transitivo direto.
- (B) I. verbo de ligação; II. verbo transitivo direto.
- (C) I. verbo de ligação; II. verbo transitivo indireto.
- (D) I. verbo pronominal; II. verbo intransitivo.
- (E) I. verbo intransitivo; II. verbo de ligação.

**QUESTÃO 07**

Considere as sentenças:

- I. “De mim veio a mulher e veio o amor.”
- II. “Sou a razão de tua vida.”
- III. “A ti, ó lavrador, tudo quanto é meu.”

Os pronomes “mim”, “tua” e “ti” nas sentenças dadas são, respectivamente:

- (A) pronome pessoal do caso oblíquo átono, pronome possessivo, pronome pessoal do caso oblíquo tônico.
- (B) pronome pessoal do caso oblíquo tônico, pronome possessivo, pronome pessoal do caso oblíquo tônico.
- (C) pronome pessoal do caso oblíquo tônico, pronome pessoal do caso reto, pronome pessoal do caso oblíquo tônico.
- (D) pronome pessoal do caso reto, pronome possessivo, pronome pessoal do caso reto.
- (E) pronome pessoal do caso oblíquo átono, pronome pessoal do caso oblíquo átono, pronome pessoal do caso oblíquo átono.

**QUESTÃO 08**

Considere o seguinte excerto:

“E um dia bem distante  
a mim tu voltarás.”

Na sentença dada, a palavra ‘bem’ funciona como advérbio, modificando diretamente:

- (A) o substantivo ‘dia’.
- (B) o verbo ‘voltarás’.
- (C) o pronome ‘mim’.
- (D) o adjetivo ‘distante’.
- (E) o verbo ‘voltarás’ e o pronome ‘tu’.

**QUESTÃO 09**

Assinale a alternativa que apresenta a sentença correta em relação ao emprego da crase.

- (A) Ela se referia à ambas as notícias.
- (B) A transportadora entregou a mercadoria ontem, as 11h.
- (C) Enviei uma carta a loja, espero que respondam à ela prontamente.
- (D) Não há motivos para toda àquela discussão.
- (E) Desejo sucesso àquela menina, tão esforçada.

**QUESTÃO 10**

Assinale a alternativa que apresenta uma oração subordinada adverbial com valor causal.

- (A) Ela merece o prêmio que ganhou, uma vez que batalhou tanto por isso.
- (B) Embora o amasse, não poderia assumir aquele relacionamento.
- (C) Contanto que cumpra os prazos, não terá problemas com o chefe.
- (D) Tudo ficava mais complexo, conforme os dias passavam.
- (E) Assim que terminar o relatório, o enviarei à equipe.

**MATEMÁTICA E RACIOCÍNIO LÓGICO**  
**QUESTÃO 11**

Observe a sequência a seguir.



Figura 1

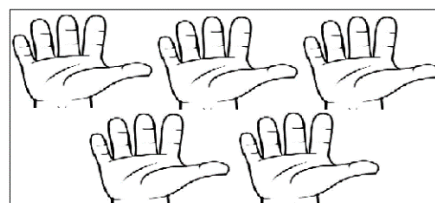


Figura 2

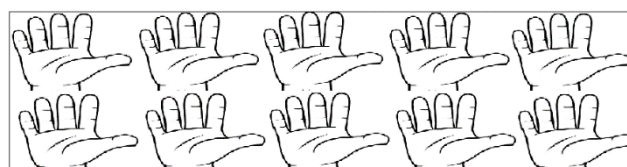


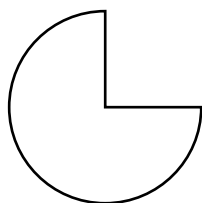
Figura 3

A sequência acima segue um padrão, sendo assim quantos dedos terão na figura 5 ?

- (A) 25
- (B) 26
- (C) 100
- (D) 130
- (E) 150

**QUESTÃO 12**

A figura abaixo representa três terços de um círculo cujo raio mede 4 cm. A razão entre o perímetro e a área dessa figura é aproximadamente:



- (A) 0,02
- (B) 0,6
- (C) 0,7
- (D) 1,5
- (E) 2,6

**QUESTÃO 13**

Considere dois ângulos suplementares  $\alpha$  e  $\theta$ . Sabendo que  $\alpha$  mede o quádruplo de  $\theta$ , o ângulo complementar de  $\theta$  é:

- (A)  $30^\circ$
- (B)  $60^\circ$
- (C)  $90^\circ$
- (D)  $150^\circ$
- (E)  $180^\circ$

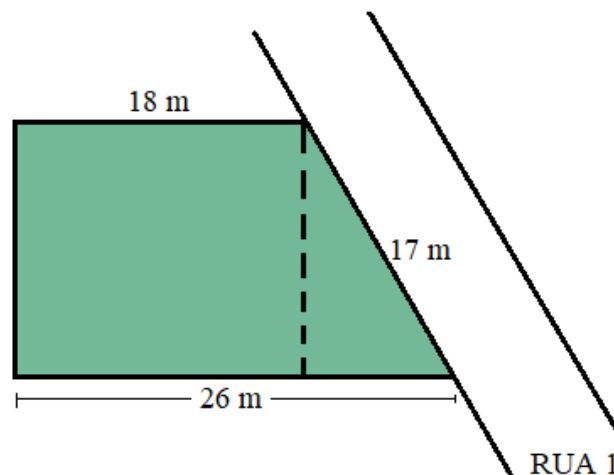
**QUESTÃO 14**

Em uma fila sabe-se que Pedro está imediatamente atrás de Raul e que Jéssica está imediatamente atrás de Pedro. Se Paulo é o segundo da fila e Maria a última, quantas pessoas há nessa fila?

- (A) 5
- (B) 6
- (C) 7
- (D) 8
- (E) 9

**QUESTÃO 15**

Murilo comprou um terreno localizado na rua 1, como mostra a figura abaixo. Como estratégia para a construção de sua casa ele resolveu dividir o terreno em duas partes, a linha tracejada na figura é o que separa essas partes. Na área retangular Murilo pretende construir a casa e na área triangular ele reservou como garagem e jardim.



Para fazer orçamentos Murilo precisa das medidas das áreas que foram separadas. Essas medidas correspondem a:

- (A)  $135 \text{ m}^2$  e  $60 \text{ m}^2$
- (B)  $120 \text{ m}^2$  e  $60 \text{ m}^2$
- (C)  $270 \text{ m}^2$  e  $120 \text{ m}^2$
- (D)  $270 \text{ m}^2$  e  $60 \text{ m}^2$
- (E)  $330 \text{ m}^2$  e  $120 \text{ m}^2$

**NOÇÕES DE INFORMÁTICA****QUESTÃO 16**

Sobre o MS Windows 7, assinale a alternativa que apresenta uma sequência correta de comandos para criar um diretório.

- (A) Clique com o botão direito do mouse em uma área vazia da janela > “Novo” > “Pasta” > Digite um nome para a Pasta > pressione “Enter”.
- (B) Clique com o botão esquerdo do mouse em uma área vazia da janela > “Pasta” > pressione “Enter”.
- (C) Clique com o botão direito do mouse em uma área vazia da janela > “Pasta” > pressione “Enter”.
- (D) Clique com o botão esquerdo do mouse em uma área vazia da janela > “Novo” > “Pasta” > Digite um nome para a Pasta > pressione “Enter”.
- (E) Clique com o botão Direito do mouse em uma área vazia da janela > “Atalho” > pressione “Enter” > “Pasta”.

**QUESTÃO 17**

Sobre utilização de navegador de Internet, assinale a alternativa que apresenta um conhecido site de busca *online*.

- (A) Wikipédia
- (B) Word
- (C) Excel
- (D) MS-DOS
- (E) Google

**QUESTÃO 18**

Sobre o MS Excel 2010, assinale a alternativa que apresenta uma sequência correta de comandos para realizar uma soma simples e direta em uma célula da planilha.

- (A) Selecione a célula onde aparecerá o resultado da operação > insira o sinal de adição “+” > digite o primeiro valor > insira de ponto e vírgula “:” > digite o segundo valor > pressione “Enter”.
- (B) Selecione a célula onde aparecerá o resultado da operação > insira o sinal de igualdade “=” > digite o primeiro valor > insira o sinal de adição “+” > digite o segundo valor > pressione “Enter”.
- (C) Selecione a célula onde aparecerá o resultado da operação > insira o sinal de igualdade “=” > digite o primeiro valor > insira o sinal de subtração “-” > digite o segundo valor > pressione “Enter”.
- (D) Selecione a célula onde aparecerá o resultado da operação > insira o sinal asterisco “\*” > digite o primeiro valor > insira o sinal de adição “+” > digite o segundo valor > pressione “Enter”.
- (E) Selecione a célula onde aparecerá o resultado da operação > insira o sinal cerquilha “#” > digite o primeiro valor > insira o sinal de adição “+” > digite o segundo valor > pressione “Enter”.

**QUESTÃO 19**

Sobre o MS Excel 2010, assinale a alternativa que apresenta uma sequência correta de comandos para realizar uma multiplicação simples e direta na célula C2 da planilha.

- (A) Selecione a célula C2 > insira o sinal de igualdade “=” > digite o primeiro valor > insira o sinal asterisco “\*” > digite o segundo valor > pressione “Enter”.
- (B) Selecione a célula C2 > insira o sinal cerquilha “#” > digite o primeiro valor > insira o sinal de ponto e vírgula “;” > digite o segundo valor > pressione “Enter”.
- (C) Selecione a célula C2 > insira o sinal de arroba “@” > digite o primeiro valor > insira o sinal de subtração “-” > digite o segundo valor > pressione “Enter”.
- (D) Selecione a célula D2 > insira o sinal asterisco “\*” > digite o primeiro valor > insira o sinal de adição “+” > digite o segundo valor > pressione “Enter”.
- (E) Selecione a célula C2 > insira o sinal cerquilha “#” > digite o primeiro valor > insira o sinal asterisco “\*” > digite o segundo valor > pressione “Enter”.

**QUESTÃO 20**

Sobre utilização de navegador de Internet, assinale a alternativa que apresenta uma sequência correta de comandos para realizar uma pesquisa em um site de busca.

- (A) Abra o “MS Word 2016” > Digite o URL do site de busca > Pressione “Enter” > Insira a palavra ou texto a ser pesquisado > pressione “Enter” >.
- (B) Abra o “Bloco de Notas” > Digite o URL do site de busca > Pressione “Enter” > Insira a palavra ou texto a ser pesquisado > pressione “Enter” >.
- (C) Abra o “MS PowerPoint 2016” > Digite o URL do site de busca > Pressione “Enter” > Insira a palavra ou texto a ser pesquisado > pressione “Enter” >.
- (D) Abra o navegador de Internet > Digite o URL do site de busca na barra de endereço do navegador > Pressione “Enter” > Insira a palavra ou texto a ser pesquisado na caixa de pesquisa > Clique em “Pesquisar” ou pressione “Enter” > Acesse os resultados.
- (E) Abra o “MS Excel 2010” > Digite o URL do site de busca > Pressione “Enter” > Insira a palavra ou texto a ser pesquisado > pressione “Enter” >.

**CONHECIMENTOS ESPECÍFICOS****QUESTÃO 21**

De acordo com o Lei Orgânica de Assistência Social. A assistência social rege-se pelos seguintes princípios:

I - supremacia do atendimento às necessidades sociais sobre as exigências de rentabilidade econômica;

II - universalização dos direitos sociais, a fim de tornar o destinatário da ação assistencial alcançável pelas demais políticas públicas;

III - igualdade de direitos no acesso ao atendimento, sem discriminação de qualquer natureza, garantindo-se equivalência às populações urbanas e rurais;

Estão corretas as afirmativas:

- (A) II apenas
- (B) II e III apenas
- (C) III apenas
- (D) I, II e III.
- (E) I e II apenas

**QUESTÃO 22**

Leia

É a unidade pública municipal, de base territorial, localizada em áreas com maiores índices de vulnerabilidade e risco social, destinada à articulação dos serviços socioassistenciais no seu território de abrangência e à prestação de serviços, programas e projetos socioassistenciais de proteção social básica às famílias.

O conceito acima refere-se à:

- (A) Cras
- (B) Creas
- (C) proteção social básica
- (D) proteção social especial
- (E) Suas

**QUESTÃO 23**

Qual é o significado da sigla CRAS, frequentemente utilizado na área da assistência social?

- (A) Centro Regional de Atendimento Social
- (B) Centro de Referência de Assistência Social
- (C) Centro de Recursos e Apoio Social
- (D) Centro de Retorno e Acolhimento Social
- (E) Centro de Reabilitação e Assistência Social

**QUESTÃO 24**

Leia

É a unidade pública de abrangência e gestão municipal, estadual ou regional, destinada à prestação de serviços a indivíduos e famílias que se encontram em situação de risco pessoal ou social, por violação de direitos ou contingência, que demandam intervenções especializadas da proteção social especial.

O conceito acima refere-se à:

- (A) Proteção social especial
- (B) Creas
- (C) Proteção social básica
- (D) Cras
- (E) Suas

**QUESTÃO 25**

Qual é o significado da sigla CREAS, frequentemente utilizado na área da assistência social?

- (A) Centro de Referência Especializado de Assistência Social
- (B) Centro de Recursos Especializados em Assistência Social
- (C) Centro de Recuperação e Assistência Social
- (D) Centro de Registros e Acolhimento Social
- (E) Centro de Reintegração e Assistência Social



**QUESTÃO 26**

Qual o número total de membros e suplentes que compõem o Conselho Nacional de Assistência Social (CNAS)?

- (A) 10
- (B) 15
- (C) 18
- (D) 20
- (E) 25

**QUESTÃO 27**

As instâncias deliberativas do Suas, de caráter permanente e composição paritária entre governo e sociedade civil, são:

I - os Conselhos Municipais de Assistência Social.

II - os Conselhos Estaduais de Assistência Social

III - o Conselho Nacional de Assistência Social;

Está correto o que se afirma em:

- (A) I apenas.
- (B) II apenas.
- (C) I e III apenas.
- (D) I e II apenas.
- (E) Todas as alternativas estão corretas

**QUESTÃO 28**

Qual é o valor mensal do benefício de prestação continuada?

- (A) Meio salário-mínimo
- (B) Um salário-mínimo
- (C) Dois salários-mínimos
- (D) Três salários-mínimos
- (E) Quatro salários-mínimos

**QUESTÃO 29**

De acordo com Lei Orgânica de Assistência Social, complete a lacuna e assinale a alternativa correta.

O benefício de prestação continuada deve ser revisto a cada \_\_\_\_\_ anos para avaliação da continuidade das condições que lhe deram origem.

- (A) 2 (dois) anos
- (B) 3 (três) anos
- (C) 4 (quatro) anos
- (D) 5 (cinco) anos
- (E) 6 (seis) anos

**QUESTÃO 30**

De acordo com o Art. 53 Estatuto da Criança e do Adolescente, complete a lacuna e assinale a alternativa correta.

A criança e o adolescente têm direito à \_\_\_\_\_, visando ao pleno desenvolvimento de sua pessoa, preparo para o exercício da cidadania e qualificação para o trabalho.

- (A) saúde
- (B) lazer
- (C) brincar
- (D) educação
- (E) pular

**QUESTÃO 31**

Quem tem direito ao benefício de prestação continuada?

- (A) Pessoas com renda familiar acima de três salários-mínimos.
- (B) Pessoas com deficiência que comprovem não ter meios de prover sua própria manutenção.
- (C) Idosos com mais de 60 anos.
- (D) Pessoas que recebem aposentadoria.
- (E) Pessoas que possuem imóveis próprios.

**QUESTÃO 32**

Qual é o significado da sigla CNAS?

- (A) Conselho Nacional de Assistência Social
- (B) Coordenação Nacional de Ações Sociais
- (C) Comitê Nacional de Assistência ao Social
- (D) Centro Nacional de Apoio Social
- (E) Conselho Nacional de Assistência ao Serviço Social

**QUESTÃO 33**

De acordo com o Estatuto da Criança e do Adolescente (Lei Federal n.º 8.069/90). Analise as afirmativas abaixo atribuindo (V) para Verdadeira e (F) para Falsa, em seguida assinale a alternativa com a sequência correta

( ) Os hospitais e demais estabelecimentos de atenção à saúde de gestantes, públicos e particulares, são obrigados a manter registro das atividades desenvolvidas, através de prontuários individuais, pelo prazo máximo de dez anos.

( ) Os hospitais e demais estabelecimentos de atenção à saúde de gestantes, públicos e particulares, são obrigados a identificar o recém-nascido mediante o registro de sua impressão plantar e digital e da impressão digital da mãe, sem prejuízo de outras formas normatizadas pela autoridade administrativa competente.

( ) Os hospitais e demais estabelecimentos de atenção à saúde de gestantes, públicos e particulares, são obrigados a manter alojamento conjunto, possibilitando ao neonato a permanência junto à mãe.

- (A) F F F
- (B) V V V
- (C) V F V
- (D) V V F
- (E) F V V

**QUESTÃO 34**

O direito à liberdade compreende os seguintes aspectos:

I - ir, vir e estar nos logradouros públicos e espaços comunitários, ressalvadas as restrições legais;

II - opinião e expressão;

III - crença e culto religioso;

Está correto o que se afirma em:

- (A) I e II apenas.
- (B) II, III apenas.
- (C) III apenas.
- (D) I, II e III.
- (E) II apenas

**QUESTÃO 35**

Qual é a data-base dos aposentados e pensionistas de acordo com o Art. 32 do Estatuto do Idoso (Lei Federal n.º 10.741/03)?

- (A) 1º de janeiro
- (B) 1º de maio
- (C) 7 de setembro
- (D) 12 de outubro
- (E) 25 de dezembro

**QUESTÃO 36**

De acordo com o Estatuto da Criança e do Adolescente Art. 81. É proibida a venda à criança ou ao adolescente de:

I - armas, munições e explosivos;

II - bebidas alcoólicas;

III - bilhetes lotéricos e equivalentes;

Está correto o que se afirma em:

- (A) I e II apenas.
- (B) III apenas.
- (C) II apenas.
- (D) I, II e III.
- (E) I e III apenas.

**QUESTÃO 37**

Quem tem direito à gratuidade nos transportes coletivos públicos urbanos e semi-urbanos, exceto nos serviços seletivos e especiais, quando prestados paralelamente aos serviços regulares de acordo com o Estatuto do Idoso?

- (A) Pessoas com mais de 55 anos.
- (B) Pessoas com 60 anos.
- (C) Pessoas com mais de 65 anos.
- (D) Pessoas com menos de 50 anos.
- (E) não existe idade mínima.

**QUESTÃO 38**

Qual é a penalidade prevista para quem discriminar uma pessoa idosa, impedindo ou dificultando seu acesso a operações bancárias, aos meios de transporte, ao direito de contratar ou por qualquer outro meio ou instrumento necessário ao exercício da cidadania, por motivo de idade, de acordo com o Estatuto do Idoso?

- (A) Advertência verbal
- (B) Multa de 3 a 20 salários mínimos
- (C) Prestação de serviços à comunidade
- (D) Suspensão temporária do direito de dirigir
- (E) Reclusão de 6 (seis) meses a 1 (um) ano e multa.

**QUESTÃO 39**

De acordo com a Norma Operacional Básica do SUAS – NOB/SUAS. Quantos tipos de Gestão o SUAS comporta?

- (A) Um.
- (B) Dois.
- (C) Três.
- (D) Quatro.
- (E) Cinco.

**QUESTÃO 40**

De acordo com a Norma Operacional Básica do SUAS – NOB/SUAS. Art. 5º São diretrizes estruturantes da gestão do SUAS:

- I- controle social e participação popular.
- II- territorialização;
- III- matricialidade sociofamiliar;

- (A) I e II apenas.
- (B) III apenas.
- (C) II apenas.
- (D) I, II e III.
- (E) I e III apenas

