



PREFEITURA MUNICIPAL DE PINDAMONHANGABA

ESTADO DE SÃO PAULO

CONCURSO PÚBLICO

061. PROVA OBJETIVA

AUDITOR DO SUS

- Você recebeu sua folha de respostas e este caderno contendo 50 questões objetivas.
- Confira seus dados impressos na capa deste caderno e na folha de respostas.
- Quando for permitido abrir o caderno, verifique se está completo ou se apresenta imperfeições. Caso haja algum problema, informe ao fiscal da sala para a devida substituição desse caderno.
- Leia cuidadosamente todas as questões e escolha a resposta que você considera correta.
- Marque, na folha de respostas, com caneta de tinta preta, a letra correspondente à alternativa que você escolheu.
- A duração da prova é de 3 horas, já incluído o tempo para o preenchimento da folha de respostas.
- Só será permitida a saída definitiva da sala e do prédio após transcorridos 75% do tempo de duração da prova.
- Deverão permanecer em cada uma das salas de prova os 3 últimos candidatos, até que o último deles entregue sua prova, assinando termo respectivo.
- Ao sair, você entregará ao fiscal a folha de respostas e este caderno.
- Até que você saia do prédio, todas as proibições e orientações continuam válidas.

AGUARDE A ORDEM DO FISCAL PARA ABRIR ESTE CADERNO.

Nome do candidato

RG

Inscrição

Prédio

Sala

Carteira

CONHECIMENTOS GERAIS

LÍNGUA PORTUGUESA

Leia o texto para responder às questões de números **01** a **05**.

Flor-de-maio

Entre tantas notícias do jornal – o crime de Sacopã, o disco voador em Bagé, a nova droga antituberculosa, o andaime que caiu, o homem que matou outro com machado e com foice, o possível aumento do pão – há uma pequenina nota de três linhas, que nem todos os jornais publicaram. É assinada pelo senhor diretor do Jardim Botânico, e diz que a partir do dia 27 vale a pena visitar o Jardim, porque a planta chamada “flor-de-maio” está, efetivamente, em flor.

Meu primeiro movimento, ao ler esse delicado convite, foi deixar a mesa da redação e me dirigir ao Jardim Botânico, contemplar a flor e cumprimentar a administração do horto pelo feliz evento. Mas havia ainda muita coisa para ler e escrever, telefonemas a dar, providências a tomar.

Suspiro e digo comigo mesmo – que amanhã acordarei cedo e irei. Digo, mas não acredito, ou pelo menos desconfio que esse impulso que tive ao ler a notícia ficará no que foi – um impulso de fazer uma coisa boa e simples, que se perde no meio da pressa e da inquietação dos minutos que voam.

No fundo, a minha secreta esperança é de que estas linhas sejam lidas por alguém – uma pessoa melhor do que eu, alguma criatura correta e simples que tire dessa crônica a sua substância, a informação precisa e preciosa: no dia 27 em diante as “flores-de-maio” do Jardim Botânico estão gloriosamente em flor. E que utilize essa informação saindo de casa e indo diretamente ao Jardim Botânico ver a “flor-de-maio”.

Ir só, no fim da tarde, ver a “flor-de-maio”; aproveitar a única notícia boa de um dia inteiro de jornal, fazer a coisa mais bela e emocionante de um dia inteiro da cidade imensa. Se entre vós houver essa criatura, e ela souber por mim a notícia, e for, então eu vos direi que nem tudo está perdido; que a humanidade possivelmente ainda poderá ser salva, e que às vezes ainda vale a pena escrever uma crônica.

(Rubem Braga. *Para gostar de ler*. São Paulo: Ática, 1992, Adaptado)

- 01.** A partir da leitura da crônica, é correto afirmar que a notícia sobre o desabrochar da flor-de-maio
- (A) surpreendeu o autor que, por não se interessar por plantas, procura passar adiante os detalhes a quem se interesse pelo assunto.
 - (B) não foi considerada pelos jornais como algo importante e, portanto, não foi publicada em nenhum meio de comunicação no dia certo.
 - (C) fez o autor se dirigir imediatamente ao Jardim Botânico para cumprimentar o responsável por este acontecimento.
 - (D) foi, segundo o autor, o único fato importante daquele dia, embora os jornais tenham se concentrado em assuntos mais banais.
 - (E) motivou o desejo do autor de ir ao Jardim Botânico para testemunhar algo de belo e emocionante que aconteceu na cidade.
- 02.** A respeito das reflexões feitas pelo autor no texto, é correto afirmar que ele
- (A) considera que vale a pena escrever crônicas se elas servirem para inspirar as pessoas a priorizarem, em seu cotidiano, um acontecimento belo como o florescimento de uma flor-de-maio.
 - (B) vê os leitores como pessoas superiores por não terem tantos compromissos diários que tomam tempo, como textos para ler e escrever e telefonemas para fazer.
 - (C) se mostra sarcástico ao afirmar que a humanidade poderá ser salva se todos os jornais passarem a noticiar os nascimentos das flores em vez de dar notícias ruins.
 - (D) julga que a queda de um andaime e o aumento do preço do pão fazem as pessoas se recolherem em suas casas, enquanto a notícia sobre o nascimento de uma flor as leva a saírem.
 - (E) se mostra orgulhoso por ser o único a notar o nascimento da flor-de-maio e contar o fato para os leitores, ainda que ele não tenha condições de visitar o Jardim Botânico.
- 03.** O trecho – No fundo, a minha secreta esperança é de que estas linhas sejam lidas por alguém... (4º parágrafo) – pode ser assim reescrito, em conformidade com a norma-padrão de regência e emprego dos pronomes relativos:
- (A) No fundo, espero secretamente de que estas linhas sejam lidas por alguém...
 - (B) No fundo, tenho secretamente o desejo cujas estas linhas sejam lidas por alguém...
 - (C) No fundo, secretamente anseio por que estas linhas sejam lidas por alguém...
 - (D) No fundo, tenho secretamente esperanças onde estas linhas sejam lidas por alguém...
 - (E) No fundo, secretamente almejo de que estas linhas sejam lidas por alguém...

04. Assinale a alternativa em que a introdução das vírgulas no trecho foi feita em conformidade com a norma-padrão de pontuação.

- (A) É assinada, pelo senhor diretor, do Jardim Botânico... (1º parágrafo)
- (B) ... e diz que, a partir do dia 27, vale a pena visitar o Jardim... (1º parágrafo)
- (C) Mas havia, ainda muita coisa, para ler e escrever... (2º parágrafo)
- (D) ... desconfio que, esse impulso que tive ao ler a notícia, ficará no que foi... (3º parágrafo)
- (E) ... às vezes, ainda vale a pena, escrever uma crônica. (5º parágrafo)

05. Assinale a alternativa em que a flexão do substantivo composto no plural é feita da mesma forma que ocorre com a palavra “flor-de-maio”.

- (A) beija-flor
- (B) estrela-do-mar
- (C) segunda-feira
- (D) cirurgião-dentista
- (E) bem-me-quer

Leia o texto para responder às questões de números 06 a 10.

OIT: desigualdades de gênero no emprego são maiores do que se pensava

Um novo relatório da Organização Internacional do Trabalho (OIT) revela que as diferenças entre os gêneros no acesso ao emprego e às condições de trabalho são maiores do que se pensava anteriormente. Um novo indicador, desenvolvido pela OIT, capta todas as pessoas sem emprego que estão interessadas em encontrar um emprego. Por esse motivo, ele reflete um quadro muito mais sombrio da situação das mulheres no mundo do trabalho do que a taxa de desemprego mais comumente usada. O documento “Novos dados esclarecem as diferenças de gênero no mercado de trabalho”, indica que 15% das mulheres em idade produtiva em todo o mundo gostariam de trabalhar, mas não têm emprego, em comparação com 10,5% dos homens.

Alacuna de postos de trabalho é particularmente grave nos países em desenvolvimento, onde a proporção de mulheres incapazes de encontrar uma vaga chega a 24,9% nos países de baixa renda. A taxa correspondente para os homens na mesma categoria é de 16,6%, um nível preocupantemente alto, mas significativamente inferior ao das mulheres.

A análise aponta que as responsabilidades pessoais e familiares, incluindo o trabalho de cuidados não remunerado, afetam desproporcionalmente as mulheres. Essas atividades se tornam um impedimento não apenas para uma contratação, mas também para procurar emprego ativamente ou para estarem disponíveis para trabalhos de última hora.

(ONU News. Disponível em: <https://news.un.org/pt/story/2023/03/1810927>. Adaptado)

06. A partir dos dados publicados no relatório da OIT, é possível concluir que

- (A) o acesso ao emprego foi dificultado para as mulheres nos últimos anos em comparação a períodos anteriores.
- (B) 24,9% das pessoas desempregadas nos países em desenvolvimento, atualmente, são mulheres.
- (C) os desequilíbrios de gênero no acesso ao emprego são maiores nos países desenvolvidos.
- (D) 15% das mulheres que não conseguem emprego nos países em desenvolvimento estão em idade produtiva.
- (E) o novo indicador considera como desempregadas um número maior de pessoas quando comparado a outros indicadores.

07. Há palavra empregada em sentido figurado na seguinte alternativa:

- (A) Um novo relatório da Organização Internacional do Trabalho (OIT) revela que as diferenças entre os gêneros no acesso ao emprego... (1º parágrafo).
- (B) Um novo indicador, desenvolvido pela OIT, capta todas as pessoas sem emprego que estão interessadas em encontrar um emprego. (1º parágrafo).
- (C) Por esse motivo, ele reflete um quadro muito mais sombrio da situação das mulheres no mundo do trabalho... (1º parágrafo).
- (D) ... 15% das mulheres em idade produtiva em todo o mundo gostariam de trabalhar... (1º parágrafo).
- (E) ... as responsabilidades pessoais e familiares, incluindo o trabalho de cuidados não remunerado, afetam desproporcionalmente as mulheres. (3º parágrafo).

08. Assinale a alternativa em que a expressão em destaque está corretamente substituída pelo pronome na forma entre parênteses.

- (A) Capta todas **as pessoas** (capta-lhes).
- (B) Ele reflete **um quadro** (ele reflete-lo).
- (C) Novos dados esclarecem **as diferenças** (esclarecem-nas).
- (D) Incapazes de encontrar **uma vaga** (encontrar-na).
- (E) Afetam desproporcionalmente **as mulheres** (afetam-as).

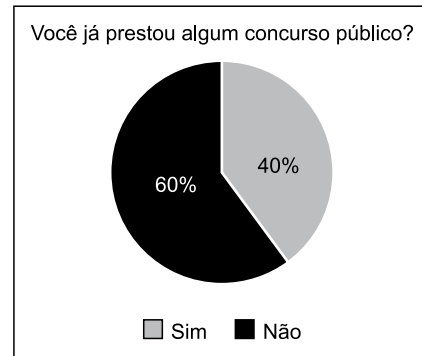
09. Foi reescrito em conformidade com a norma-padrão de concordância o trecho:

- (A) Anteriormente, pensava-se que os desequilíbrios de gênero no acesso ao trabalho fosse menor.
- (B) É captado, com o novo indicador da OIT, todas as pessoas sem emprego que estão interessadas em encontrar um emprego.
- (C) Embora seja considerado alto, a taxa de desemprego entre os homens, de 16,6%, ainda é menor do que a das mulheres.
- (D) As responsabilidades pessoais e familiares e o trabalho de cuidados não remunerado são considerados responsáveis por afetar as mulheres.
- (E) Podem haver certas atividades específicas que se tornam impedimentos para a contratação de mulheres.

10. O sinal indicativo de crase está corretamente empregado na alternativa:

- (A) A participação dos homens no mercado de trabalho deve ser semelhante à das mulheres.
- (B) As mulheres estão aptas à competir por qualquer vaga de emprego, contanto que a sociedade lhes dê oportunidades.
- (C) O direito ao trabalho é inerente à toda mulher, embora em muitos lugares a equidade de gênero ainda seja um desafio.
- (D) O trabalho à que as mulheres aspiram deve levar em consideração também seus direitos reprodutivos.
- (E) Muitas pessoas dedicam-se à pesquisas sobre o impacto do desequilíbrio de gênero na economia dos países.

11. O gráfico representa a distribuição das respostas “sim” e “não” dadas em uma pergunta feita para certa quantidade de pessoas.



Com base nesse gráfico de setores, pretende-se construir um gráfico de colunas. Nesse caso, as colunas representando as respostas devem ter a mesma largura, e a altura da coluna que representa as respostas

- (A) “não” deve corresponder a 1,2 da altura da coluna que representa as respostas “sim”.
- (B) “não” deve corresponder a 1,5 da altura da coluna que representa as respostas “sim”.
- (C) “não” deve corresponder a 1,6 da altura da coluna que representa as respostas “sim”.
- (D) “sim” deve corresponder a 0,8 da altura da coluna que representa as respostas “não”.
- (E) “sim” deve corresponder a 0,4 da altura da coluna que representa as respostas “não”.

12. Para fazer, em determinado período de tempo, o transbordo total de uma substância que ocupa toda a capacidade de um tanque que está a certa altura do solo para outro tanque, maior, que está no solo, abriu-se, totalmente e ao mesmo tempo, 3 das 4 válvulas iguais, uma de cada tubulação com diâmetros também iguais, que ligam ambos os reservatórios. Sabendo-se que todas as válvulas têm a mesma vazão, então, se todas elas tivessem sido totalmente abertas ao mesmo tempo, o período de tempo para o transbordo total do mesmo volume da substância entre os tanques teria diminuído

- (A) em três quartos.
- (B) em dois terços.
- (C) pela metade.
- (D) em dois quintos.
- (E) em um quarto.

13. Um terreno tem forma retangular, com frente medindo 50 m a mais do que sua lateral. Sabendo-se que o perímetro desse terreno é de 380 m, sua área é de
- (A) 8000 m².
 - (B) 8200 m².
 - (C) 8400 m².
 - (D) 8600 m².
 - (E) 8800 m².

14. Considere a seguinte informação, apresentada em um jornal eletrônico:

No período do feriado de Carnaval 2023, a Rodoviária de BH registrou, no intervalo de 12 dias (de quinta-feira, 16/02, a segunda-feira, 27/03), um fluxo aproximado de 257 mil pessoas passando pelo terminal, entre embarques e desembarques. Esse volume representa 15% de crescimento na quantidade de passageiros verificada no mesmo feriado em 2022 [...].

(<https://diariodocomercio.com.br/economia/rodoviaria-de-bh-divulga-dados-consolidados-da-movimentacao-do-feriado-de-carnaval-de-2023/>)

Com base nas informações apresentadas, é correto afirmar que, em 2022, no período em questão, o fluxo aproximado de pessoas passando pelo terminal rodoviário de Belo Horizonte ficou entre

- (A) 218 mil e 220 mil pessoas.
 - (B) 220 mil e 222 mil pessoas.
 - (C) 222 mil e 224 mil pessoas.
 - (D) 224 mil e 226 mil pessoas.
 - (E) 226 mil e 228 mil pessoas.
15. De acordo com uma pesquisa realizada, identificou-se que, em 2023, a cada 3 profissionais que pretendem mudar de emprego, 4 profissionais não pretendem mudar de emprego. Se 518 profissionais participaram dessa pesquisa, a diferença entre o número de profissionais que responderam não pretender mudar de emprego e o número de profissionais que responderam pretender mudar de emprego, em 2023, é igual a
- (A) 74.
 - (B) 86.
 - (C) 92.
 - (D) 110.
 - (E) 130.

16. Dos 40 profissionais que trabalham em certo departamento de uma empresa, alguns ganham 3,5 salários mínimos, 3 profissionais a mais dos que ganham 3,5 salários mínimos, ganham 4 salários mínimos, e os demais, ganham 5 salários mínimos. Se, nesse departamento, a soma de todos os salários desses profissionais é igual a 167 salários mínimos, então a quantidade de profissionais que têm o maior salário é igual a
- (A) 12.
 - (B) 13.
 - (C) 14.
 - (D) 15.
 - (E) 16.
17. Em certa empresa que tem colaboradores de diversas categorias profissionais com regimes de carga horária regidas por diferentes convenções coletivas, há um colaborador que faz 10 minutos de intervalo a cada 40 minutos trabalhados, e outro que faz 10 minutos de intervalo a cada 50 minutos trabalhados. Esses dois profissionais iniciam sua jornada diária à 9h da manhã e trabalham 6 horas por dia, sem pausa para almoço. Supondo-se um dia em que ambos cumpram rigorosamente seus horários de trabalho e pausas, haverá um horário em que ambos iniciarão uma de suas pausas ao mesmo tempo, que será às
- (A) 11h e 50 min.
 - (B) 12h e 20 min.
 - (C) 12h e 50 min.
 - (D) 13h e 20 min.
 - (E) 13h e 50 min.
18. A produção de certa quantidade de um produto é automatizada e efetuada por uma única prensa. Para produzir uma quantidade x de unidades desse produto, essa prensa trabalha, ininterruptamente, ou não, durante 4 horas, 11 minutos e 6 segundos. Pretende-se dividir a quantidade produzida em 3 partes de igual período. Sendo assim, cada parte da produção terá um período de tempo igual a 1 hora,
- (A) 04 minutos e 02 segundos.
 - (B) 15 minutos e 06 segundos.
 - (C) 23 minutos e 42 segundos.
 - (D) 37 minutos e 02 segundos.
 - (E) 44 minutos e 18 segundos.

19. A tabela, construída com informações do município de Pindamonhangaba, divulgadas pelo Instituto Brasileiro de Geografia e Estatística (IBGE), apresenta informações sobre a produção e o valor total da venda da quantidade produzida de alevinos (peixes nos primeiros minutos de vida), nos anos de 2018 e 2021.

Alevinos – Pindamonhangaba		
	Quantidade produzida (milheiros)	Valor total da venda da quantidade produzida (x 1 000)
2018	75	R\$ 12,97
2021	20	R\$ 4,40



(IBGE. Adaptado)

Com base nas informações apresentadas, é correto afirmar que o valor unitário da venda de alevinos, em Pindamonhangaba, de 2018 para 2021, teve:

- (A) um crescimento entre 25% e 30%
 - (B) um crescimento entre 15% e 20%
 - (C) um crescimento entre 5% e 10%
 - (D) um decréscimo entre 45% e 50%
 - (E) um decréscimo entre 65% e 70%
20. Com base em um artigo científico, um analista ambiental precisa identificar o valor y de determinada grandeza, em relação ao valor $x = 64$, de outra grandeza, ambas com suas unidades tradicionais de medida, cuja relação, no referido artigo, é dada pela expressão $y = x^{\frac{2}{3}}$. Neste caso, o valor que ele encontrará para y , na unidade tradicional de medida, é
- (A) 32.
 - (B) 16.
 - (C) 8.
 - (D) 4.
 - (E) 2.

NOÇÕES DE INFORMÁTICA

21. Tem-se as seguintes pastas, exibidas no Explorador de Arquivos do Microsoft Windows 10, ambas em sua configuração original:

Nome	
 1_LAUDOS	
 2_PERICIAS	

Um usuário deseja criar uma pasta, que seja exibida após a pasta 1_LAUDOS e antes da pasta 2_PERICIAS, seguindo a mesma ordenação da imagem anterior. Para isso, essa pasta deve se chamar:

- (A) 11_ABATIMENTOS
 - (B) 01_ABATIMENTOS
 - (C) 02_ABATIMENTOS
 - (D) 1.1_ABATIMENTOS
 - (E) 12_ABATIMENTOS
22. Tem-se a seguinte tabela, criada no Microsoft Word 2016, em sua configuração padrão:

Ao posicionar o cursor do mouse na última célula e pressionar TAB,

- (A) uma nova linha será criada com 1 coluna.
- (B) uma nova linha será criada com 2 colunas.
- (C) uma nova linha será criada com 3 colunas.
- (D) duas novas linhas serão criadas, sendo a primeira com 1 coluna e a segunda com 3 colunas.
- (E) duas novas linhas serão criadas, sendo a primeira com 2 colunas e a segunda com 1 coluna.

23. Tem-se uma planilha no Microsoft Excel 2016, em sua configuração padrão, com o valor 6 preenchido na célula A1, conforme imagem a seguir:

	A
1	6

Assinale a alternativa com o resultado correto, ao preencher na célula B1 a função a seguir.

=SE(A1<20;"A";SE(A1=6;"B";SE(A1>0;"C";SE(A1>=6;"D";"E"))))

- (A) A
 - (B) B
 - (C) C
 - (D) D
 - (E) E
24. Em uma apresentação do Microsoft PowerPoint 2016, em sua configuração original, com 40 slides, todos do mesmo layout, um usuário deseja inserir uma imagem no canto superior direito, que é o brasão da Prefeitura de Pindamonhangaba, em todos os slides. Para fazer isso apenas 1 vez, é necessário inserir a imagem apenas no(a)
- (A) primeiro slide.
 - (B) cabeçalho do primeiro slide.
 - (C) anotação.
 - (D) slide mestre.
 - (E) último slide.
25. Usando o Microsoft Outlook 2016, em sua configuração original, um usuário criou uma mensagem de correio eletrônico com as seguintes características:
- De: Mateus
Para: Natalia
Cc: Bruno, Paula
Cco: Carlos
- Mateus queria que _____ recebesse(m) a mensagem, sem que os demais destinatários soubessem.
- Considerando que a mensagem foi enviada e recebida com sucesso, assinale a alternativa que preenche corretamente a lacuna do texto do enunciado.
- (A) Natália
 - (B) Bruno e Paula
 - (C) Natalia, Bruno e Paula
 - (D) Natália, Carlos e Tatiana
 - (E) Carlos

CONHECIMENTOS ESPECÍFICOS

CONCEITOS FUNDAMENTAIS SOBRE O SUS

26. Considerando a dimensão geográfica do território brasileiro e a variedade de fatores determinantes e condicionantes do processo saúde-doença, que podem atingir a população de formas variadas a depender das condições de habitação, alimentação, saneamento básico, meio ambiente, trabalho, renda, educação lazer e acesso aos bens e serviços essenciais, a Constituição Federal de 1988 definiu que a gestão das ações e serviços de saúde devem estar o mais próximo da realidade local, de forma a ampliar os espaços democráticos, a participação social e o poder local.

Essa definição está relacionada ao princípio do Sistema Único de Saúde denominado

- (A) Integralidade.
- (B) Descentralização.
- (C) Universalidade.
- (D) Participação Social.
- (E) Equidade.

27. O Pacto pela Saúde, preservando e afirmando os princípios do Sistema Únicos de Saúde, foi construído a partir da pactuação de três dimensões: Pacto pela Vida; Pacto em Defesa do SUS; e Pacto de Gestão do SUS.

Assinale a alternativa que contenha duas prioridades que foram estabelecidas no Pacto pela Vida.

- (A) Controle do câncer de colo de útero e de mama e redução da mortalidade infantil neonatal.
- (B) Saúde da população negra e atenção à saúde do idoso.
- (C) Promoção da saúde e atenção à saúde da população de rua.
- (D) Fortalecimento da vigilância de desastres naturais e saúde do homem.
- (E) Redução da mortalidade por acidentes de trânsito e saúde da população indígena.

28. O controle de bens de consumo e da prestação de serviços que, direta ou indiretamente, se relacionem com a saúde faz parte do campo de atuação do SUS, definido na Lei Orgânica de Saúde (Lei nº 8.080/1990). As ações voltadas para atingir esse objetivo são desenvolvidas no âmbito da Vigilância

- (A) Epidemiológica.
- (B) de Controle de Endemias.
- (C) Sanitária.
- (D) em Saúde Ambiental.
- (E) em Saúde do Trabalhador.

29. Determinada pela Constituição Federal e pela Lei nº 8.142/1990, a participação da comunidade de forma institucional é uma conquista do SUS, que torna efetiva a participação de gestores, trabalhadores e usuários na fiscalização e formulação da política pública da saúde.

É correto afirmar sobre o controle social no SUS:

- (A) está diretamente relacionado ao grau de centralização das políticas públicas, visando ao fortalecimento da gestão federal no que se refere ao financiamento.
- (B) a busca pela gestão participativa na política pública de saúde deve envolver os Poderes Legislativo, Executivo e Judiciário.
- (C) conselhos de saúde, conselhos gestores de unidade, conselhos intersetoriais, conferências e assembleias constituem as instâncias colegiadas para o exercício da participação e controle social.
- (D) é condição para o repasse de recursos para o financiamento das ações de saúde da União para os Estados e dos Estados para os Municípios, incluindo a destinação de recursos via emenda parlamentar, a existência de Conselho e Conferência de Saúde.
- (E) a participação popular confere à gestão do SUS transparência, comprometimento com as demandas sociais e ampliação das perspectivas das ações e serviços de saúde, na busca pelo enfrentamento de iniquidades.

30. Assinale a alternativa referente à responsabilidade exclusiva do Ministério da Saúde na gestão das ações de Atenção Básica.

- (A) Ser corresponsável pelo monitoramento das ações de Atenção Básica nos municípios.
- (B) Fortalecer a Estratégia Saúde da Família na rede de serviços como a estratégia prioritária de organização da Atenção Básica.
- (C) Definir e rever periodicamente, de forma pactuada, na Comissão Intergestores Tripartite, as diretrizes da Política Nacional de Atenção Básica.
- (D) Organizar, executar e gerenciar os serviços e ações de Atenção Básica, de forma universal, dentro do seu território.
- (E) Manter atualizado mensalmente o cadastro de equipes, profissionais, carga horária, serviços disponibilizados, equipamentos e outros no Sistema de Cadastro Nacional de Estabelecimentos de Saúde.

31. Estudo da Carga Global de Doenças para o Brasil apontou que no ranking dos principais fatores de risco atribuídos à carga de doenças, o tabaco caiu de segundo lugar em 1990 para quarto lugar em 2015. Medidas focadas na proibição da propaganda do tabaco, proibição do ato de fumar em ambientes fechados, aumento da taxação dos cigarros, aumento do espaço de advertências dos cigarros, são exemplos de ações visando a redução do consumo de cigarro.

Além do enfrentamento ao uso do tabaco e seus derivados, assinale a alternativa que contém outras duas prioridades estabelecidas na Política Nacional de Promoção da Saúde.

- (A) Boas práticas de fabricação de insumos farmacêuticos e Promoção do desenvolvimento sustentável.
- (B) Enfrentamento do uso abusivo de álcool e de outras drogas e Controle e fiscalização de substâncias sob controle especial.
- (C) Simplificação de procedimentos para regularização de produtos de higiene pessoal, cosméticos e perfumes e Práticas corporais e atividades físicas.
- (D) Promoção da mobilidade segura e Promoção da cultura da paz e dos direitos humanos.
- (E) Alimentação adequada e saudável e Reavaliação toxicológica dos ingredientes ativos de agrotóxicos.

32. É correto afirmar sobre o processo de planejamento do SUS:

- (A) deve ser ascendente e integrado, do nível local até o federal, considerando as demandas dos respectivos Conselhos de Saúde.
- (B) os Conselhos de Secretários Estaduais e Municipais de Saúde devem estabelecer as diretrizes para a elaboração dos planos de saúde.
- (C) a Comissão Intergestores Tripartite – CIT tem competência exclusiva na pactuação das etapas do processo e os prazos do planejamento dos municípios.
- (D) o Conselho Nacional de Saúde é responsável pela definição dos indicadores nacionais, estaduais e municipais de garantia de acesso às ações e aos serviços de saúde no âmbito do SUS.
- (E) no planejamento devem ser considerados apenas os serviços e as ações prestados pelo poder público, excluindo-se os serviços prestados pela iniciativa privada.

33. No SUS, a elaboração dos instrumentos de planejamento definidos na legislação é condicionante para a transferência de recursos financeiros.

Assinale a alternativa correta em relação à agenda do gestor sobre o ciclo de planejamento do SUS.

- (A) Os Planos de Saúde devem ser elaborados a cada quatro anos, no último ano da gestão.
- (B) O Projeto de Lei de Diretrizes Orçamentárias deve apresentado ao Poder Executivo Local após a entrega da Programação Anual de Saúde correspondente.
- (C) A Conferência de Saúde deve ser realizada ordinariamente a cada dois anos, por meio da convocação do Poder Legislativo.
- (D) O Relatório Detalhado do Quadrimestre Anterior (RDQA) deve ser apresentado no Conselho de Saúde e na Casa Legislativa da esfera correspondente referente ao quadrimestre anterior.
- (E) O projeto do Plano Plurianual (PPA) deve ser entregue na Casa Legislativa correspondente no último ano de gestão, juntamente com a Lei Orçamentária Anual (LOA).

34. O modo de gestão da Política Nacional de Humanização é centrado no trabalho em equipe, na construção coletiva e em colegiados que garantem o compartilhamento do poder, da análise, da decisão e da avaliação. A diretriz da PNH que considera a gestão uma tarefa coletiva é denominada

- (A) Acolhimento.
- (B) Cogestão.
- (C) Autonomia dos sujeitos.
- (D) Transversalidade.
- (E) Clínica compartilhada.

35. A Estratégia de Saúde da Família propôs o reordenamento da atenção básica, de acordo com os preceitos do SUS, instituindo diversos tipos de equipes.

Sobre as Equipes de Saúde da Família (ESF), é correto afirmar:

- (A) composta por categorias de profissionais da saúde, de diferentes profissões e especialidades, que atuam de maneira integrada para dar suporte clínico, sanitário e pedagógico.
- (B) dentre suas atribuições, contribui para a integralidade do cuidado aos usuários do SUS principalmente por intermédio da ampliação da clínica, auxiliando no aumento da capacidade de análise e de intervenção sobre problemas e necessidades de saúde, tanto em termos clínicos quanto sanitários.
- (C) em áreas de grande dispersão territorial, áreas de risco e vulnerabilidade social, recomenda-se a cobertura de 75% da população.
- (D) cada ESF deve contar com 10(dez) Agentes Comunitários de Saúde (ACS).
- (E) composta, no mínimo, por médico, preferencialmente da especialidade medicina de família e comunidade, enfermeiro, preferencialmente especialista em saúde da família; auxiliar e/ou técnico de enfermagem e ACS.

AUDITORIA

36. Dos itens a seguir, qual poderia ser considerado como irrelevante para fins de desenvolvimento de um plano de auditoria?

- (A) A definição do escopo da auditoria, isto é, de quais processos, áreas ou aspectos da organização serão auditados.
- (B) A identificação dos critérios de auditoria, por meio do estabelecimento de padrões e referências a serem utilizados na avaliação dos processos auditados.
- (C) A análise da equipe de auditoria, avaliando-se as habilidades, competências e responsabilidades de cada membro da equipe.
- (D) O estabelecimento dos objetivos da auditoria, por intermédio da definição clara do que se pretende alcançar com a auditoria.
- (E) O asseguramento do alinhamento ideológico dos auditores que compõem a equipe, em relação aos critérios de avaliação da eficácia da organização auditada.

37. Sobre o chamado “programa de auditoria”, é correto afirmar:

- (A) é o documento que contém as informações necessárias para planejar, executar, revisar e documentar o trabalho de auditoria.
- (B) não deve ser revisado e atualizado durante o processo de auditoria, pois isso prejudica a sua comparabilidade.
- (C) trata-se de um sistema de informação contábil, desenvolvido em plataforma web, que permite registrar em nuvem e de forma colaborativa os achados de auditoria.
- (D) consiste de instrumentos de compliance, tais como regras, políticas, canais de denúncia e códigos de ética e conduta.
- (E) a sua documentação é prescindível para garantir a efetividade da auditoria e a qualidade do trabalho realizado.

38. Para verificar a existência e cobertura de seguros contratados pela empresa, um auditor adotou as seguintes providências:

- I. Solicitou uma lista de todos os seguros contratados pela empresa, incluindo informações sobre as apólices, datas de início e término, seguradoras e valores segurados.
- II. Verificou a documentação das apólices de seguro, incluindo as condições gerais, particulares e especiais, bem como as cláusulas adicionais e as coberturas contratadas.
- III. Confirmou a validade das apólices de seguro com as seguradoras, entrando em contato com elas diretamente ou por meio de um corretor de seguros.
- IV. Verificou se as apólices de seguro estão de acordo com as leis e regulamentações aplicáveis, bem como com as políticas e procedimentos internos da empresa.
- V. Verificou se os prêmios de seguro foram pagos corretamente e se os registros contábeis correspondentes foram devidamente registrados.
- VI. Avaliou a adequação das coberturas de seguro em relação aos riscos da empresa e recomendou possíveis melhorias ou ajustes.
- VII. Verificou se a empresa está cumprindo as obrigações contratuais em relação aos seguros, como notificar a seguradora sobre sinistros e cumprir as condições de cobertura.

Tendo isso em vista, é correto afirmar que

- (A) não cabe aos auditores da organização a verificação quanto à existência e à validade de apólices de seguros.
- (B) o auditor agiu de maneira impertinente ao apresentar recomendações de melhorias ou ajustes nas coberturas contratuais dos seguros contratados pela organização.
- (C) por não possuir especialização jurídica, não compete à auditoria analisar a convergência das apólices de seguro com as leis e regulamentações.
- (D) os procedimentos adotados pelo auditor estão corretos e em conformidade com as melhores práticas para esse tipo de auditoria.
- (E) o auditor deixou de solicitar carta de indenidade da administração, procedimento fundamental para a auditoria de apólices de seguro.

39. Um auditor elaborou documento a ser enviado, pela empresa auditada, ao banco do qual esta é correntista, contendo os seguintes dizeres:

“Prezado(s) Senhor(es)

Exclusivamente para fins de conferência, solicitamos informar, diretamente a empresa de auditoria Fulano Auditores Associados Sociedade Simples, cito à Rua dos Auditores, nº 100, Pindamonhangaba-SP, os saldos ou posições das contas mantidas nesse estabelecimento por nossa empresa, em 31 de dezembro de 2022, dentre: a) contas correntes; b) contas vinculadas, garantidas e especiais; c) títulos descontados, caucionados e em cobrança; d) outras contas. Atenciosamente,”

A respeito dessa situação, é correto afirmar que o documento elaborado pelo auditor se trata de

- (A) selo de auditoria.
- (B) programa de integridade.
- (C) carta de circularização.
- (D) extrato bancário.
- (E) parecer de auditoria.

40. Assinale a alternativa que traz a definição correta de “risco de amostragem” no contexto de uma auditoria.

- (A) É o risco de que um auditor emita uma opinião incorreta sobre as demonstrações financeiras de uma organização.
- (B) É o risco de que uma conclusão incorreta seja tirada com base em uma amostra de transações ou dados, em vez de examinar todas as transações ou dados disponíveis.
- (C) Consiste na decisão de rejeitar uma hipótese nula, quando de fato tal hipótese se mostra como verdadeira.
- (D) Consiste na decisão de não rejeitar uma hipótese nula, quando, na realidade, tal hipótese se mostra falsa.
- (E) Consiste no valor calculado com base na metodologia de valor em risco, que identifica a perda máxima esperada de um investimento realizado.

41. É responsabilidade da auditoria externa no âmbito de uma auditoria de demonstrações financeiras:

- (A) atuar em conformidade com as políticas, normas e diretrizes estabelecidas pela alta administração da organização auditada.
- (B) elaborar as demonstrações contábeis e relatórios legais em conformidade com as normas técnicas vigentes.
- (C) emitir opinião técnica e independente acerca da conformidade das demonstrações financeiras com as normas vigentes e da existência de controles internos eficazes.
- (D) adotar as providências necessárias para a correção dos apontamentos e irregularidades apresentados pela auditoria interna.
- (E) emitir parecer de auditoria com ênfase, sempre que identificadas graves desconformidades nas demonstrações auditadas, em relação à estrutura estabelecida nas normas técnicas.

42. Em relação aos testes de auditoria, é correto afirmar :

- (A) são opcionais, na medida em que o auditor pode obter evidências de auditoria por meio de outros protocolos, tais como amostragem ou eventos subsequentes.
- (B) consistem em uma subespécie dos chamados testes substantivos ou testes de confirmação.
- (C) pressupõem a realização prévia de entrevistas com a administração da entidade organizada, bem como com seus fornecedores e colaboradores.
- (D) os testes de observância são projetados para avaliar a eficácia dos controles internos da organização e se eles estão sendo aplicados de forma consistente.
- (E) os testes projetados para avaliar a eficácia dos canais de denúncia e ouvidoria em uma organização são chamados de testes substantivos.

43. Imagine que um auditor está auditando relatórios elaborados por uma organização pública que opera no setor de saúde. Durante a auditoria, o auditor identifica que a organização possui um programa de pesquisa e desenvolvimento que envolve estudos clínicos com pacientes. Devido à complexidade e aos riscos envolvidos nesse tipo de atividade, o auditor conclui que, para emissão de uma opinião embasada, precisa de uma avaliação especializada de um profissional qualificado em questões regulatórias e éticas envolvidas em estudos clínicos. O auditor solicita, então, a contratação de um especialista farmacêutico com experiência em estudos clínicos para revisar os processos de pesquisa e desenvolvimento da organização e fornecer evidências de suporte para a auditoria.

Em relação a essa situação, é correto afirmar com base nas normas técnicas de auditoria que

- (A) não é possível a contratação de especialistas para suporte ao trabalho do auditor, uma vez que este apenas deve assumir um trabalho de auditoria se tiver conhecimento suficiente para levá-lo até o final.
- (B) a contratação de especialistas para a emissão de opinião exclui eventual responsabilidade do auditor em relação às opiniões embasadas no trabalho deles, ainda que o auditor tenha contribuído com a sua seleção.
- (C) em caso de contratação, o auditor não pode assumir a responsabilidade pelo trabalho do especialista, mas deve avaliar se o trabalho do especialista é suficiente e adequado para os objetivos da auditoria.
- (D) a contratação pode ser realizada, mas o auditor deve tratar como se suas fossem as opiniões do profissional especialista, utilizando em seu parecer de auditoria os trechos que considerar pertinentes do relatório apresentado pelo profissional especialista contratado.
- (E) a utilização de opiniões de terceiros na elaboração de parecer de auditoria, ainda que, adequadamente documentada, é considerada infração ética e está em desconformidade com as normas técnicas de auditoria.

CONTABILIDADE

44. Sabe-se que em 31/12/2022 a empresa Investe Tudo S.A. detém 75% do capital social da empresa Alpha Ltda. Dado isso, assinale a alternativa que indica o valor, em Reais, do investimento na Alpha Ltda, em 31/12/2022, tendo em vista as seguintes informações obtidas pelo contador da Investe Tudo S.A.

- Trata-se um investimento relevante para a Investe em Tudo S.A.
- Capital social da Alpha: R\$ 250.000.
- Capital a integralizar: R\$ 50.000.
- Reserva de capital: R\$ 80.000.
- Reserva de lucros: R\$ 65.000.
- Ajuste de avaliação patrimonial: R\$ 80.000.
- Lucro do exercício: R\$ 60.000.

- (A) 187.500
(B) 250.000
(C) 363.750
(D) 438.750
(E) 485.000

45. Assinale a alternativa que indica o valor, em Reais, a ser contabilizado pelo contador de uma entidade pública, referente as contingências fiscais e trabalhistas envolvendo essa entidade, e que foram avaliadas pela sua área jurídica, com as seguintes classificações de risco de perda, seguindo o estabelecido pelas normas contábeis brasileiras:

Risco de perda:

Classificação conforme área Jurídica"	Reais
Possível	1.525.350,00
Provável	2.650.000,00
Remota	890.000,00
	<u>5.065.350,00</u>

- (A) 890.000
(B) 1.525.350
(C) 2.650.000
(D) 4.175.350
(E) 5.065.350

46. O contador de uma Sociedade Anônima necessita calcular, em 31/12/2022, o valor da destinação do lucro da Companhia para reserva legal. Para tanto, o contador detém das seguintes informações:

Capital social	250.000,00
Reservas de capital	132.000,00
Ações em tesouraria	58.000,00
Ágio na emissão de ações	20.000,00
Reserva legal	45.000,00
Reserva estatutária	25.000,00
Ajuste de avaliação patrimonial	15.000,00
Lucro do exercício	180.000,00

Assinale a alternativa que contenha o valor da reserva legal, em Reais, a ser destinada em 31/12/2022, dessa companhia.

- (A) 5.000
(B) 7.000
(C) 7.500
(D) 8.600
(E) 9.000

47. Calcule o lucro líquido do exercício, em 31/12/2022, e em Reais, com base nas informações a seguir:

- Vendas líquidas do ano: R\$ 5.500.000.
- Impostos sobre vendas: 12% sobre as vendas brutas.
- Devolução de vendas: R\$ 600.000.
- Margem Bruta apresentada no exercício: 35%.
- Despesas Comerciais: R\$ 560.000
- Despesas Administrativas: R\$ 640.000.
- Despesa Financeira: R\$ 150.000.
- Receita Financeira: R\$ 60.000.
- Outras despesas operacionais: R\$ 16.000.
- IR e CSLL foram calculados a uma taxa efetiva de 32%.

- (A) 522.850
(B) 475.970
(C) 432.200
(D) 420.920
(E) 400.120

48. A classificação de uma despesa com material de consumo, de uma entidade pública, conforme preconizado na Lei nº 4.320/64, na contabilidade pública é

- (A) material de estoque, na despesa de capital.
(B) despesa de custeio, na despesa corrente.
(C) subvenção econômico, na transferência corrente.
(D) inversão financeira, na despesa de custeio.
(E) despesa com material de consumo, na despesa corrente.

49. O suprimento de fundos é caracterizado por ser um adiantamento de valores a um servidor para futura prestação de contas, que, por sua vez, constitui uma despesa orçamentária. Nesse sentido, assinale a alternativa que indica a contabilização correta, no momento do empenho da despesa, referente ao adiantamento, tendo o controle como natureza da informação.

- (A) D 6.2.2.1.1.xx.xx Crédito Empenhado liquidado
C 8.2.2.1.3.01.xx Empenho a pagar
- (B) D 2.1.3.1.x.xx.xx Despesas antecipadas (P)
C: 3.2.2.1.1.xx.xx Crédito Disponível
- (C) D 8.2.1.1.2.xx.xx DDR Comprometida por Empenho
C 8.2.1.1.3.xx.xx DDR Comprometida por Liquidação e Entradas Compensatórias
- (D) D 1.1.3.1.x.xx.xx Adiantamentos Concedidos a Pessoal e a Terceiros (P)
C 2.1.8.9.x.xx.xx Outras Obrigações de Curto Prazo – Suprimento de Fundos (F)
- (E) D 8.2.1.1.1.xx.xx Disponibilidade por Destinação de Recursos (DDR)
C 8.2.1.1.2.xx.xx DDR Comprometida por Empenho

50. No que tange às demonstrações contábeis relacionadas ao setor público, é correto afirmar:

- (A) o Balanço Financeiro é composto por três quadros que evidenciam a movimentação financeira, econômica e orçamentária das entidades do setor público.
- (B) o Balanço Patrimonial é a demonstração contábil que evidencia a situação social da entidade pública por meio de contas representativas dos públicos, bem como os atos potenciais, que são registrados em contas de compensação (natureza de informação de patrimonial).
- (C) a DVP será elaborada utilizando-se as classes 3 (variações patrimoniais aumentativas) e 4 (variações patrimoniais diminutivas) do PCASP.
- (D) variações patrimoniais aumentativas financeiras patrimoniais compreendem o somatório das demais variações patrimoniais aumentativas não incluídas nos grupos anteriores, tais como: resultado positivo da equivalência patrimonial, dividendos, etc.
- (E) o Balanço Financeiro evidencia as receitas e despesas orçamentárias, bem como os ingressos e dispêndios extraorçamentários, conjugados com os saldos de caixa do exercício anterior e os que se transferem para o início do exercício seguinte.

