



PREFEITURA MUNICIPAL DE PINDAMONHANGABA

ESTADO DE SÃO PAULO

CONCURSO PÚBLICO

065. PROVA OBJETIVA

CONTADOR

- Você recebeu sua folha de respostas e este caderno contendo 50 questões objetivas.
- Confira seus dados impressos na capa deste caderno e na folha de respostas.
- Quando for permitido abrir o caderno, verifique se está completo ou se apresenta imperfeições. Caso haja algum problema, informe ao fiscal da sala para a devida substituição desse caderno.
- Leia cuidadosamente todas as questões e escolha a resposta que você considera correta.
- Marque, na folha de respostas, com caneta de tinta preta, a letra correspondente à alternativa que você escolheu.
- A duração da prova é de 3 horas, já incluído o tempo para o preenchimento da folha de respostas.
- Só será permitida a saída definitiva da sala e do prédio após transcorridos 75% do tempo de duração da prova.
- Deverão permanecer em cada uma das salas de prova os 3 últimos candidatos, até que o último deles entregue sua prova, assinando termo respectivo.
- Ao sair, você entregará ao fiscal a folha de respostas e este caderno.
- Até que você saia do prédio, todas as proibições e orientações continuam válidas.

AGUARDE A ORDEM DO FISCAL PARA ABRIR ESTE CADERNO.

Nome do candidato _____

RG _____

Inscrição _____

Prédio _____

Sala _____

Carteira _____

CONHECIMENTOS GERAIS

LÍNGUA PORTUGUESA

Leia o texto para responder às questões de números **01** a **05**.

Flor-de-maio

Entre tantas notícias do jornal – o crime de Sacopã, o disco voador em Bagé, a nova droga antituberculosa, o andaime que caiu, o homem que matou outro com machado e com foice, o possível aumento do pão – há uma pequenina nota de três linhas, que nem todos os jornais publicaram. É assinada pelo senhor diretor do Jardim Botânico, e diz que a partir do dia 27 vale a pena visitar o Jardim, porque a planta chamada “flor-de-maio” está, efetivamente, em flor.

Meu primeiro movimento, ao ler esse delicado convite, foi deixar a mesa da redação e me dirigir ao Jardim Botânico, contemplar a flor e cumprimentar a administração do horto pelo feliz evento. Mas havia ainda muita coisa para ler e escrever, telefonemas a dar, providências a tomar.

Suspiro e digo comigo mesmo – que amanhã acordarei cedo e irei. Digo, mas não acredito, ou pelo menos desconfio que esse impulso que tive ao ler a notícia ficará no que foi – um impulso de fazer uma coisa boa e simples, que se perde no meio da pressa e da inquietação dos minutos que voam.

No fundo, a minha secreta esperança é de que estas linhas sejam lidas por alguém – uma pessoa melhor do que eu, alguma criatura correta e simples que tire dessa crônica a sua substância, a informação precisa e preciosa: no dia 27 em diante as “flores-de-maio” do Jardim Botânico estão gloriosamente em flor. E que utilize essa informação saindo de casa e indo diretamente ao Jardim Botânico ver a “flor-de-maio”.

Ir só, no fim da tarde, ver a “flor-de-maio”; aproveitar a única notícia boa de um dia inteiro de jornal, fazer a coisa mais bela e emocionante de um dia inteiro da cidade imensa. Se entre vós houver essa criatura, e ela souber por mim a notícia, e for, então eu vos direi que nem tudo está perdido; que a humanidade possivelmente ainda poderá ser salva, e que às vezes ainda vale a pena escrever uma crônica.

(Rubem Braga. *Para gostar de ler*. São Paulo: Ática, 1992, Adaptado)

- 01.** A partir da leitura da crônica, é correto afirmar que a notícia sobre o desabrochar da flor-de-maio
- (A) surpreendeu o autor que, por não se interessar por plantas, procura passar adiante os detalhes a quem se interesse pelo assunto.
 - (B) não foi considerada pelos jornais como algo importante e, portanto, não foi publicada em nenhum meio de comunicação no dia certo.
 - (C) fez o autor se dirigir imediatamente ao Jardim Botânico para cumprimentar o responsável por este acontecimento.
 - (D) foi, segundo o autor, o único fato importante daquele dia, embora os jornais tenham se concentrado em assuntos mais banais.
 - (E) motivou o desejo do autor de ir ao Jardim Botânico para testemunhar algo de belo e emocionante que aconteceu na cidade.
- 02.** A respeito das reflexões feitas pelo autor no texto, é correto afirmar que ele
- (A) considera que vale a pena escrever crônicas se elas servirem para inspirar as pessoas a priorizarem, em seu cotidiano, um acontecimento belo como o florescimento de uma flor-de-maio.
 - (B) vê os leitores como pessoas superiores por não terem tantos compromissos diários que tomam tempo, como textos para ler e escrever e telefonemas para fazer.
 - (C) se mostra sarcástico ao afirmar que a humanidade poderá ser salva se todos os jornais passarem a noticiar os nascimentos das flores em vez de dar notícias ruins.
 - (D) julga que a queda de um andaime e o aumento do preço do pão fazem as pessoas se recolherem em suas casas, enquanto a notícia sobre o nascimento de uma flor as leva a saírem.
 - (E) se mostra orgulhoso por ser o único a notar o nascimento da flor-de-maio e contar o fato para os leitores, ainda que ele não tenha condições de visitar o Jardim Botânico.
- 03.** O trecho – No fundo, a minha secreta esperança é de que estas linhas sejam lidas por alguém... (4º parágrafo) – pode ser assim reescrito, em conformidade com a norma-padrão de regência e emprego dos pronomes relativos:
- (A) No fundo, espero secretamente de que estas linhas sejam lidas por alguém...
 - (B) No fundo, tenho secretamente o desejo cujas estas linhas sejam lidas por alguém...
 - (C) No fundo, secretamente anseio por que estas linhas sejam lidas por alguém...
 - (D) No fundo, tenho secretamente esperanças onde estas linhas sejam lidas por alguém...
 - (E) No fundo, secretamente almejo de que estas linhas sejam lidas por alguém...

04. Assinale a alternativa em que a introdução das vírgulas no trecho foi feita em conformidade com a norma-padrão de pontuação.

- (A) É assinada, pelo senhor diretor, do Jardim Botânico... (1º parágrafo)
- (B) ... e diz que, a partir do dia 27, vale a pena visitar o Jardim... (1º parágrafo)
- (C) Mas havia, ainda muita coisa, para ler e escrever... (2º parágrafo)
- (D) ... desconfio que, esse impulso que tive ao ler a notícia, ficará no que foi... (3º parágrafo)
- (E) ... às vezes, ainda vale a pena, escrever uma crônica. (5º parágrafo)

05. Assinale a alternativa em que a flexão do substantivo composto no plural é feita da mesma forma que ocorre com a palavra “flor-de-maio”.

- (A) beija-flor
- (B) estrela-do-mar
- (C) segunda-feira
- (D) cirurgião-dentista
- (E) bem-me-quer

Leia o texto para responder às questões de números 06 a 10.

OIT: desigualdades de gênero no emprego são maiores do que se pensava

Um novo relatório da Organização Internacional do Trabalho (OIT) revela que as diferenças entre os gêneros no acesso ao emprego e às condições de trabalho são maiores do que se pensava anteriormente. Um novo indicador, desenvolvido pela OIT, capta todas as pessoas sem emprego que estão interessadas em encontrar um emprego. Por esse motivo, ele reflete um quadro muito mais sombrio da situação das mulheres no mundo do trabalho do que a taxa de desemprego mais comumente usada. O documento “Novos dados esclarecem as diferenças de gênero no mercado de trabalho”, indica que 15% das mulheres em idade produtiva em todo o mundo gostariam de trabalhar, mas não têm emprego, em comparação com 10,5% dos homens.

Alacuna de postos de trabalho é particularmente grave nos países em desenvolvimento, onde a proporção de mulheres incapazes de encontrar uma vaga chega a 24,9% nos países de baixa renda. A taxa correspondente para os homens na mesma categoria é de 16,6%, um nível preocupantemente alto, mas significativamente inferior ao das mulheres.

A análise aponta que as responsabilidades pessoais e familiares, incluindo o trabalho de cuidados não remunerado, afetam desproporcionalmente as mulheres. Essas atividades se tornam um impedimento não apenas para uma contratação, mas também para procurar emprego ativamente ou para estarem disponíveis para trabalhos de última hora.

(ONU News. Disponível em: <https://news.un.org/pt/story/2023/03/1810927>. Adaptado)

06. A partir dos dados publicados no relatório da OIT, é possível concluir que

- (A) o acesso ao emprego foi dificultado para as mulheres nos últimos anos em comparação a períodos anteriores.
- (B) 24,9% das pessoas desempregadas nos países em desenvolvimento, atualmente, são mulheres.
- (C) os desequilíbrios de gênero no acesso ao emprego são maiores nos países desenvolvidos.
- (D) 15% das mulheres que não conseguem emprego nos países em desenvolvimento estão em idade produtiva.
- (E) o novo indicador considera como desempregadas um número maior de pessoas quando comparado a outros indicadores.

07. Há palavra empregada em sentido figurado na seguinte alternativa:

- (A) Um novo relatório da Organização Internacional do Trabalho (OIT) revela que as diferenças entre os gêneros no acesso ao emprego... (1º parágrafo).
- (B) Um novo indicador, desenvolvido pela OIT, capta todas as pessoas sem emprego que estão interessadas em encontrar um emprego. (1º parágrafo).
- (C) Por esse motivo, ele reflete um quadro muito mais sombrio da situação das mulheres no mundo do trabalho... (1º parágrafo).
- (D) ... 15% das mulheres em idade produtiva em todo o mundo gostariam de trabalhar... (1º parágrafo).
- (E) ... as responsabilidades pessoais e familiares, incluindo o trabalho de cuidados não remunerado, afetam desproporcionalmente as mulheres. (3º parágrafo).

08. Assinale a alternativa em que a expressão em destaque está corretamente substituída pelo pronome na forma entre parênteses.

- (A) Capta todas **as pessoas** (capta-lhes).
- (B) Ele reflete **um quadro** (ele reflete-lo).
- (C) Novos dados esclarecem **as diferenças** (esclarecem-nas).
- (D) Incapazes de encontrar **uma vaga** (encontrar-na).
- (E) Afetam desproporcionalmente **as mulheres** (afetam-as).

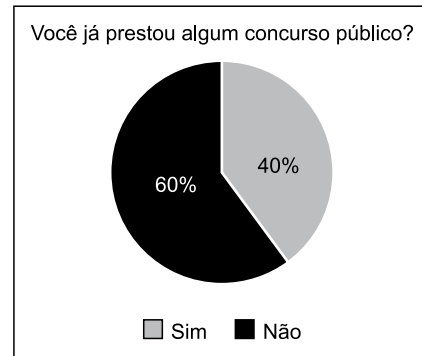
09. Foi reescrito em conformidade com a norma-padrão de concordância o trecho:

- (A) Anteriormente, pensava-se que os desequilíbrios de gênero no acesso ao trabalho fosse menor.
- (B) É captado, com o novo indicador da OIT, todas as pessoas sem emprego que estão interessadas em encontrar um emprego.
- (C) Embora seja considerado alto, a taxa de desemprego entre os homens, de 16,6%, ainda é menor do que a das mulheres.
- (D) As responsabilidades pessoais e familiares e o trabalho de cuidados não remunerado são considerados responsáveis por afetar as mulheres.
- (E) Podem haver certas atividades específicas que se tornam impedimentos para a contratação de mulheres.

10. O sinal indicativo de crase está corretamente empregado na alternativa:

- (A) A participação dos homens no mercado de trabalho deve ser semelhante à das mulheres.
- (B) As mulheres estão aptas à competir por qualquer vaga de emprego, contanto que a sociedade lhes dê oportunidades.
- (C) O direito ao trabalho é inerente à toda mulher, embora em muitos lugares a equidade de gênero ainda seja um desafio.
- (D) O trabalho à que as mulheres aspiram deve levar em consideração também seus direitos reprodutivos.
- (E) Muitas pessoas dedicam-se à pesquisas sobre o impacto do desequilíbrio de gênero na economia dos países.

11. O gráfico representa a distribuição das respostas “sim” e “não” dadas em uma pergunta feita para certa quantidade de pessoas.



Com base nesse gráfico de setores, pretende-se construir um gráfico de colunas. Nesse caso, as colunas representando as respostas devem ter a mesma largura, e a altura da coluna que representa as respostas

- (A) “não” deve corresponder a 1,2 da altura da coluna que representa as respostas “sim”.
- (B) “não” deve corresponder a 1,5 da altura da coluna que representa as respostas “sim”.
- (C) “não” deve corresponder a 1,6 da altura da coluna que representa as respostas “sim”.
- (D) “sim” deve corresponder a 0,8 da altura da coluna que representa as respostas “não”.
- (E) “sim” deve corresponder a 0,4 da altura da coluna que representa as respostas “não”.

12. Para fazer, em determinado período de tempo, o transbordo total de uma substância que ocupa toda a capacidade de um tanque que está a certa altura do solo para outro tanque, maior, que está no solo, abriu-se, totalmente e ao mesmo tempo, 3 das 4 válvulas iguais, uma de cada tubulação com diâmetros também iguais, que ligam ambos os reservatórios. Sabendo-se que todas as válvulas têm a mesma vazão, então, se todas elas tivessem sido totalmente abertas ao mesmo tempo, o período de tempo para o transbordo total do mesmo volume da substância entre os tanques teria diminuído

- (A) em três quartos.
- (B) em dois terços.
- (C) pela metade.
- (D) em dois quintos.
- (E) em um quarto.

13. Um terreno tem forma retangular, com frente medindo 50 m a mais do que sua lateral. Sabendo-se que o perímetro desse terreno é de 380 m, sua área é de
- (A) 8000 m².
 - (B) 8200 m².
 - (C) 8400 m².
 - (D) 8600 m².
 - (E) 8800 m².

14. Considere a seguinte informação, apresentada em um jornal eletrônico:

No período do feriado de Carnaval 2023, a Rodoviária de BH registrou, no intervalo de 12 dias (de quinta-feira, 16/02, a segunda-feira, 27/03), um fluxo aproximado de 257 mil pessoas passando pelo terminal, entre embarques e desembarques. Esse volume representa 15% de crescimento na quantidade de passageiros verificada no mesmo feriado em 2022 [...].

(<https://diariodocomercio.com.br/economia/rodoviaria-de-bh-divulga-dados-consolidados-da-movimentacao-do-feriado-de-carnaval-de-2023/>)

Com base nas informações apresentadas, é correto afirmar que, em 2022, no período em questão, o fluxo aproximado de pessoas passando pelo terminal rodoviário de Belo Horizonte ficou entre

- (A) 218 mil e 220 mil pessoas.
 - (B) 220 mil e 222 mil pessoas.
 - (C) 222 mil e 224 mil pessoas.
 - (D) 224 mil e 226 mil pessoas.
 - (E) 226 mil e 228 mil pessoas.
15. De acordo com uma pesquisa realizada, identificou-se que, em 2023, a cada 3 profissionais que pretendem mudar de emprego, 4 profissionais não pretendem mudar de emprego. Se 518 profissionais participaram dessa pesquisa, a diferença entre o número de profissionais que responderam não pretender mudar de emprego e o número de profissionais que responderam pretender mudar de emprego, em 2023, é igual a
- (A) 74.
 - (B) 86.
 - (C) 92.
 - (D) 110.
 - (E) 130.

16. Dos 40 profissionais que trabalham em certo departamento de uma empresa, alguns ganham 3,5 salários mínimos, 3 profissionais a mais dos que ganham 3,5 salários mínimos, ganham 4 salários mínimos, e os demais, ganham 5 salários mínimos. Se, nesse departamento, a soma de todos os salários desses profissionais é igual a 167 salários mínimos, então a quantidade de profissionais que têm o maior salário é igual a
- (A) 12.
 - (B) 13.
 - (C) 14.
 - (D) 15.
 - (E) 16.
17. Em certa empresa que tem colaboradores de diversas categorias profissionais com regimes de carga horária regidas por diferentes convenções coletivas, há um colaborador que faz 10 minutos de intervalo a cada 40 minutos trabalhados, e outro que faz 10 minutos de intervalo a cada 50 minutos trabalhados. Esses dois profissionais iniciam sua jornada diária à 9h da manhã e trabalham 6 horas por dia, sem pausa para almoço. Supondo-se um dia em que ambos cumpram rigorosamente seus horários de trabalho e pausas, haverá um horário em que ambos iniciarão uma de suas pausas ao mesmo tempo, que será às
- (A) 11h e 50 min.
 - (B) 12h e 20 min.
 - (C) 12h e 50 min.
 - (D) 13h e 20 min.
 - (E) 13h e 50 min.
18. A produção de certa quantidade de um produto é automatizada e efetuada por uma única prensa. Para produzir uma quantidade x de unidades desse produto, essa prensa trabalha, ininterruptamente, ou não, durante 4 horas, 11 minutos e 6 segundos. Pretende-se dividir a quantidade produzida em 3 partes de igual período. Sendo assim, cada parte da produção terá um período de tempo igual a 1 hora,
- (A) 04 minutos e 02 segundos.
 - (B) 15 minutos e 06 segundos.
 - (C) 23 minutos e 42 segundos.
 - (D) 37 minutos e 02 segundos.
 - (E) 44 minutos e 18 segundos.

19. A tabela, construída com informações do município de Pindamonhangaba, divulgadas pelo Instituto Brasileiro de Geografia e Estatística (IBGE), apresenta informações sobre a produção e o valor total da venda da quantidade produzida de alevinos (peixes nos primeiros minutos de vida), nos anos de 2018 e 2021.

Alevinos – Pindamonhangaba		
	Quantidade produzida (milheiros)	Valor total da venda da quantidade produzida (x 1 000)
2018	75	R\$ 12,97
2021	20	R\$ 4,40



(IBGE. Adaptado)

Com base nas informações apresentadas, é correto afirmar que o valor unitário da venda de alevinos, em Pindamonhangaba, de 2018 para 2021, teve:

- (A) um crescimento entre 25% e 30%
 - (B) um crescimento entre 15% e 20%
 - (C) um crescimento entre 5% e 10%
 - (D) um decréscimo entre 45% e 50%
 - (E) um decréscimo entre 65% e 70%
20. Com base em um artigo científico, um analista ambiental precisa identificar o valor y de determinada grandeza, em relação ao valor $x = 64$, de outra grandeza, ambas com suas unidades tradicionais de medida, cuja relação, no referido artigo, é dada pela expressão $y = x^{\frac{2}{3}}$. Neste caso, o valor que ele encontrará para y , na unidade tradicional de medida, é
- (A) 32.
 - (B) 16.
 - (C) 8.
 - (D) 4.
 - (E) 2.

NOÇÕES DE INFORMÁTICA

21. Tem-se as seguintes pastas, exibidas no Explorador de Arquivos do Microsoft Windows 10, ambas em sua configuração original:

Nome	
 1_LAUDOS	
 2_PERICIAS	

Um usuário deseja criar uma pasta, que seja exibida após a pasta 1_LAUDOS e antes da pasta 2_PERICIAS, seguindo a mesma ordenação da imagem anterior. Para isso, essa pasta deve se chamar:

- (A) 11_ABATIMENTOS
(B) 01_ABATIMENTOS
(C) 02_ABATIMENTOS
(D) 1.1_ABATIMENTOS
(E) 12_ABATIMENTOS
22. Tem-se a seguinte tabela, criada no Microsoft Word 2016, em sua configuração padrão:

Ao posicionar o cursor do mouse na última célula e pressionar TAB,

- (A) uma nova linha será criada com 1 coluna.
(B) uma nova linha será criada com 2 colunas.
(C) uma nova linha será criada com 3 colunas.
(D) duas novas linhas serão criadas, sendo a primeira com 1 coluna e a segunda com 3 colunas.
(E) duas novas linhas serão criadas, sendo a primeira com 2 colunas e a segunda com 1 coluna.

23. Tem-se uma planilha no Microsoft Excel 2016, em sua configuração padrão, com o valor 6 preenchido na célula A1, conforme imagem a seguir:

	A
1	6

Assinale a alternativa com o resultado correto, ao preencher na célula B1 a função a seguir.

=SE(A1<20;"A";SE(A1=6;"B";SE(A1>0;"C";SE(A1>=6;"D";"E"))))

- (A) A
(B) B
(C) C
(D) D
(E) E
24. Em uma apresentação do Microsoft PowerPoint 2016, em sua configuração original, com 40 slides, todos do mesmo layout, um usuário deseja inserir uma imagem no canto superior direito, que é o brasão da Prefeitura de Pindamonhangaba, em todos os slides. Para fazer isso apenas 1 vez, é necessário inserir a imagem apenas no(a)
- (A) primeiro slide.
(B) cabeçalho do primeiro slide.
(C) anotação.
(D) slide mestre.
(E) último slide.
25. Usando o Microsoft Outlook 2016, em sua configuração original, um usuário criou uma mensagem de correio eletrônico com as seguintes características:
- De: Mateus
Para: Natalia
Cc: Bruno, Paula
Cco: Carlos
- Mateus queria que _____ recebesse(m) a mensagem, sem que os demais destinatários soubessem.
- Considerando que a mensagem foi enviada e recebida com sucesso, assinale a alternativa que preenche corretamente a lacuna do texto do enunciado.
- (A) Natália
(B) Bruno e Paula
(C) Natalia, Bruno e Paula
(D) Natália, Carlos e Tatiana
(E) Carlos

CONHECIMENTOS ESPECÍFICOS

Os dados que se seguem serão utilizados para responder às questões de números **26** a **30**.

A Confecção PIN é uma empresa do setor têxtil, hipotética, que produz apenas dois produtos. Em 2022, a PIN apresentou as seguintes informações sobre a produção.

Gasto Unitário (em R\$)

Calça jeans

Mão de obra	16,70
Material direto	25,00
Despesa com vendas variáveis	5,00
Quantidades produzidas (em unidades)	10.000
Quantidades vendidas (em unidades)	9.000
Preço de venda (por unidade)	90,00

Camiseta

Mão de obra	8,90
Material direto	13,00
Despesa com vendas variáveis	3,50
Quantidades produzidas (em unidades)	20.000
Quantidades vendidas (em unidades)	17.800
Preço de venda (por unidade)	45,00

Gasto Total (em R\$)

Custo indireto fixo de fabricação	615.000,00
Despesas fixas	54.000,00

Sabe-se que a PIN adota a política de atribuir os custos indiretos fixos de fabricação aos produtos por meio da relação custo total e quantidade total produzida no período, independente da complexidade da produção.

26. O custo unitário da camiseta, pelo Custeio por Absorção, foi, em 2022, em R\$:

- (A) 21,90.
- (B) 25,40.
- (C) 42,40.
- (D) 45,00.
- (E) 52,65.

27. O custo unitário da calça, pelo Custeio Variável, foi, em 2022, em R\$:

- (A) 16,70.
- (B) 25,00.
- (C) 30,00.
- (D) 41,70.
- (E) 90,00.

28. Em 2022, a PIN obteve resultado líquido, para fins de demonstrações contábeis societárias, em R\$,

- (A) negativo, de 1.314.250,00.
- (B) negativo, de 161.300,00.
- (C) positivo, de 1.611.000,00.
- (D) positivo, de 135.180,00.
- (E) positivo, de 296.480,00.

29. A margem de contribuição total da PIN em 2022 foi, em R\$,

- (A) 135.180,00.
- (B) 296.480,00.
- (C) 738.580,00.
- (D) 1.314.520,00.
- (E) 1.611.000,00.

30. Os custos fixos unitários

- (A) aumentam quando a quantidade vendida aumenta.
- (B) diminuem quando a quantidade produzida aumenta.
- (C) diminuem quando a quantidade produzida diminui.
- (D) diminuem quando a quantidade vendida aumenta.
- (E) não aumentam nem diminuem em relação a quantidade produzida.

Os dados a seguir serão utilizados para responder às questões de números 31 a 36.

A Damonhangaba S.A é uma empresa prestadora de serviços que foi fundada em 03 de janeiro de 2021. No dia da assinatura do seu contrato social, seus sócios integralizaram capital social em dinheiro (R\$ 100.000,00) e em imóveis (R\$ 400.000,00) no valor de R\$ 500.000,00.

Sabe-se que no final de 2021, a empresa apresentou lucro líquido de R\$ 2.500,00 e o seguinte Balanço Patrimonial:

Balanço Patrimonial em 31.12.2021

Ativo Circulante

Caixa	5.000,00
Bancos	79.000,00
Clientes	50.000,00
Material de Expediente	15.000,00

Ativo Não Circulante

Imóveis	400.000,00
(-) Depreciação Acumulada	(10.000,00)

Ativo **539.000,00**

Passivo Circulante

Contas a Pagar	10.000,00
Fornecedores	6.500,00
Salários a Pagar	20.000,00

Patrimônio Líquido

Capital Social	500.000,00
Reserva de Lucros	2.500,00

Passivo + PL **539.000,00**

Em 2022, a Damonhangaba:

- a) obteve receita líquida de R\$ 340.000,00, 60% à vista e 40% a prazo
- b) comprou R\$ 10.000,00 em materiais de expediente
- c) assinou e pagou, em janeiro de 2022, por 24 meses, jornal de negócios pelo valor total de R\$ 600,00
- d) reconheceu despesa com assinaturas de jornal no período
- e) apurou custos nos serviços prestados de R\$ 123.500,00, valor que já inclui o material de expediente utilizado.
- f) reconheceu R\$ 10.000,00 de despesa com depreciação
- g) reconheceu R\$ 20.000,00 de despesas gerais adicionais
- h) reconheceu R\$ 105.000,00 de despesas com salários
- i) recebeu R\$ 45.000,00 de clientes
- j) apresentou saldo final de material de expediente de R\$ 8.000,00
- k) apresentou saldo final de salários de R\$ 5.000,00
- l) apresentou saldo nulo de contas a pagar

31. O custo dos materiais de expedientes utilizados no período, em R\$, foi:

- (A) 25.000,00.
- (B) 17.000,00.
- (C) 15.000,00.
- (D) 10.000,00.
- (E) 7.000,00.

32. O resultado líquido de 2022 totalizou, em R\$:

- (A) 81.200,00.
- (B) 91.200,00.
- (C) 100.000,00.
- (D) 186.200,00.
- (E) 216.500,00.

33. O saldo final de clientes em 31.12.2022 foi, em R\$:

- (A) 186.000,00.
- (B) 141.000,00.
- (C) 136.000,00.
- (D) 50.000,00.
- (E) 5.000,00.

34. Em 2022, Damonhangaba S.A pagou R\$ _____ em salários.

Assinale a alternativa que completa corretamente a lacuna.

- (A) 15.000,00
- (B) 20.000,00
- (C) 100.000,00
- (D) 120.000,00
- (E) 125.000,00

35. O valor contábil líquido dos imóveis ao final de 2022 era, em R\$:

- (A) 370.000,00.
- (B) 380.000,00.
- (C) 390.000,00.
- (D) 400.000,00.
- (E) 500.000,00.

36. Em 2021, a liquidez corrente da Damonhangaba S.A foi:

- (A) Entre 0 e 0,99.
- (B) Entre 1 e 1,99.
- (C) Entre 2 e 2,99.
- (D) Entre 3 e 3,99.
- (E) Entre 4 e 4,99.

Uma empresa comercial comprou, à vista, R\$ 670.000,00 em mercadorias para revenda em janeiro de 2023, já que seu saldo de estoque inicial estava nulo. Sabe-se que em virtude do setor, sob essa compra incidiu tributos recuperáveis com alíquota de 13% (ICMS). Em fevereiro de 2023, a empresa vendeu esses produtos por R\$ 1.000.000,00 e sobre esse valor incidiram 15% de tributos sobre faturamento (ICMS).

37. O saldo de estoques em janeiro de 2023 foi, em R\$:

- (A) 291.450,00.
- (B) 300.000,00.
- (C) 335.000,00.
- (D) 391.950,00.
- (E) 582.900,00.

38. O tributo a recolher para autoridade tributária estadual pela empresa comercial será, em R\$:

- (A) 0,00.
- (B) 62.900,00.
- (C) 75.000,00.
- (D) 87.100,00.
- (E) 150.000,00.

39. A evidência de auditoria obtida como resposta por escrito direta para o auditor de um terceiro (a parte que confirma), em papel, no formato eletrônico ou outro meio é o conceito de

- (A) Auditoria interna.
- (B) Escrituração contábil.
- (C) Comprovação.
- (D) Confirmação externa.
- (E) Recálculo.

40. No trabalho de _____, o auditor independente reduz o risco do trabalho para um nível aceitavelmente baixo nas circunstâncias do trabalho como base para a sua conclusão. A conclusão do auditor independente é expressa de forma que transmita a sua opinião sobre o resultado da mensuração ou avaliação de determinado objeto de acordo com os critérios aplicáveis.

Assinale a alternativa que completa corretamente a lacuna.

- (A) asseguarção limitada
- (B) asseguarção razoável
- (C) procedimentos analíticos
- (D) recálculo
- (E) teste de controle interno

41. Um órgão da administração pública apresentou os seguintes dados de uma determinada dotação orçamentária em 31.12 de um determinado ano:

Valores em R\$

Dotação orçamentária	1.500.000,00
Despesa empenhada	1.490.000,00
Despesa liquidada*	1.230.000,00
Despesa paga	800.000,00

* serviços contratados, prestados e aceitos pelo contratante

Serão inscritos em restos a pagar processados, em R\$, o valor de:

- (A) 0,00.
- (B) 430.000,00.
- (C) 800.000,00.
- (D) 1.230.000,00.
- (E) 1.490.000,00.

42. Uma secretaria municipal depositou R\$ 5.000,00 em conta corrente de um servidor para futura prestação de contas em março de um exercício a título de suprimento de fundos. No mesmo exercício, em maio, o servidor devolveu R\$ 1.200,00, os quais não foram utilizados e prestou contas do restante, os quais foram utilizados.

O contador da secretaria deverá, no mês de maio, reconhecer:

- (A) empenho no valor de R\$ 3.800,00.
- (B) entrada de caixa no valor de R\$ 3.800,00.
- (C) saída de caixa de R\$ 1.200,00.
- (D) variação patrimonial aumentativa de R\$ 1.200,00.
- (E) variação patrimonial diminutiva no valor de R\$ 3.800,00.

43. A secretaria municipal de educação de um município localizado no estado de São Paulo adquiriu pelo valor de R\$ 150.000,00 anual, legumes, frutas e verduras de uma cooperativa de produtores localizada no município. Para que os insumos fossem entregues às escolas municipais, a associação cobrou frete de R\$ 15.000,00 anuais.

Sabe-se que em virtude da característica desses produtos, tudo que é adquirido deve ser consumido em um curto espaço de tempo.

Nesse sentido, desconsiderando o efeito de eventuais perdas, pode-se dizer que o custo mensal da secretaria de educação com frutas, legumes e verduras para merenda escolar foi, em R\$:

- (A) 165.000,00.
- (B) 150.000,00.
- (C) 13.750,00.
- (D) 12.500,00.
- (E) 0,00.

44. A secretaria da fazenda de um município apurou uma receita corrente líquida de R\$ 45.000.000,00. O limite de despesa com pessoal total do município no período é de R\$:
- (A) 27.000.000,00.
 - (B) 22.500.000,00.
 - (C) 14.580.000,00.
 - (D) 12.420.000,00.
 - (E) 1.620.000,00.
45. A entrega de recursos correntes ou de capital a outro ente da Federação, a título de cooperação, auxílio ou assistência financeira, que não decorra de determinação constitucional, legal ou os destinados ao Sistema Único de Saúde, é o conceito de
- (A) Convênio.
 - (B) Parceria público-privada.
 - (C) Termo de execução descentralizada.
 - (D) Transferência para o setor privado.
 - (E) Transferência voluntária.
46. O montante total das obrigações financeiras do ente da Federação, assumidas em virtude de leis, contratos, convênios ou tratados e da realização de operações de crédito, para amortização em prazo superior a doze meses, é conceito de
- (A) Dívida pública fundada.
 - (B) Dívida pública integral.
 - (C) Dívida pública mobiliária.
 - (D) Passivo exigível patrimonial.
 - (E) Refinanciamento de dívida mobiliária.
47. Entre outras coisas, o Relatório da Gestão Fiscal contém comparativo com limites dos montantes de
- (A) Variações patrimoniais diminutivas.
 - (B) Renúncia de receita.
 - (C) Despesa corrente total.
 - (D) Concessões de garantias.
 - (E) Cláusulas restritivas de títulos públicos.
48. Tributos, transferências e multas no setor público, sob enfoque patrimonial, representam
- (A) Variação patrimonial aumentativa.
 - (B) Receita de capital.
 - (C) Receita corrente.
 - (D) Integralização de capital.
 - (E) Ajuste de avaliação patrimonial.
49. Sobre Licitações Internacionais, é correto afirmar que
- (A) são proibidas pelo arcabouço jurídico brasileiro.
 - (B) os fornecedores oriundos de países do Mercosul possuem vantagem em relação aos demais fornecedores.
 - (C) o pagamento deverá ser feito em dólar, independente da origem do licitante.
 - (D) o edital deverá estar em conformidade com as diretrizes da política monetária e do comércio exterior e atender às exigências dos órgãos competentes.
 - (E) as garantias de pagamento ao licitante brasileiro serão mais vantajosas do que aquelas oferecidas ao licitante estrangeiro.
50. Os prazos mínimos para apresentação de propostas e lances, contados a partir da data de divulgação do edital de licitação, para serviços e obras quando adotados critérios de menor preço ou de maior desconto são:
- (A) oito dias.
 - (B) dez dias.
 - (C) quinze dias.
 - (D) trinta e cinco dias.
 - (E) sessenta dias.

