



## PREFEITURA MUNICIPAL DE PINDAMONHANGABA

ESTADO DE SÃO PAULO

CONCURSO PÚBLICO

# 066. PROVA OBJETIVA

## CONTROLADOR

- Você recebeu sua folha de respostas e este caderno contendo 50 questões objetivas.
- Confira seus dados impressos na capa deste caderno e na folha de respostas.
- Quando for permitido abrir o caderno, verifique se está completo ou se apresenta imperfeições. Caso haja algum problema, informe ao fiscal da sala para a devida substituição desse caderno.
- Leia cuidadosamente todas as questões e escolha a resposta que você considera correta.
- Marque, na folha de respostas, com caneta de tinta preta, a letra correspondente à alternativa que você escolheu.
- A duração da prova é de 3 horas, já incluído o tempo para o preenchimento da folha de respostas.
- Só será permitida a saída definitiva da sala e do prédio após transcorridos 75% do tempo de duração da prova.
- Deverão permanecer em cada uma das salas de prova os 3 últimos candidatos, até que o último deles entregue sua prova, assinando termo respectivo.
- Ao sair, você entregará ao fiscal a folha de respostas e este caderno.
- Até que você saia do prédio, todas as proibições e orientações continuam válidas.

**AGUARDE A ORDEM DO FISCAL PARA ABRIR ESTE CADERNO.**

Nome do candidato \_\_\_\_\_

RG \_\_\_\_\_

Inscrição \_\_\_\_\_

Prédio \_\_\_\_\_

Sala \_\_\_\_\_

Carteira \_\_\_\_\_



## CONHECIMENTOS GERAIS

### LÍNGUA PORTUGUESA

Leia o texto para responder às questões de números **01** a **05**.

#### *Flor-de-maio*

Entre tantas notícias do jornal – o crime de Sacopã, o disco voador em Bagé, a nova droga antituberculosa, o andaime que caiu, o homem que matou outro com machado e com foice, o possível aumento do pão – há uma pequenina nota de três linhas, que nem todos os jornais publicaram. É assinada pelo senhor diretor do Jardim Botânico, e diz que a partir do dia 27 vale a pena visitar o Jardim, porque a planta chamada “flor-de-maio” está, efetivamente, em flor.

Meu primeiro movimento, ao ler esse delicado convite, foi deixar a mesa da redação e me dirigir ao Jardim Botânico, contemplar a flor e cumprimentar a administração do horto pelo feliz evento. Mas havia ainda muita coisa para ler e escrever, telefonemas a dar, providências a tomar.

Suspiro e digo comigo mesmo – que amanhã acordarei cedo e irei. Digo, mas não acredito, ou pelo menos desconfio que esse impulso que tive ao ler a notícia ficará no que foi – um impulso de fazer uma coisa boa e simples, que se perde no meio da pressa e da inquietação dos minutos que voam.

No fundo, a minha secreta esperança é de que estas linhas sejam lidas por alguém – uma pessoa melhor do que eu, alguma criatura correta e simples que tire dessa crônica a sua substância, a informação precisa e preciosa: no dia 27 em diante as “flores-de-maio” do Jardim Botânico estão gloriosamente em flor. E que utilize essa informação saindo de casa e indo diretamente ao Jardim Botânico ver a “flor-de-maio”.

Ir só, no fim da tarde, ver a “flor-de-maio”; aproveitar a única notícia boa de um dia inteiro de jornal, fazer a coisa mais bela e emocionante de um dia inteiro da cidade imensa. Se entre vós houver essa criatura, e ela souber por mim a notícia, e for, então eu vos direi que nem tudo está perdido; que a humanidade possivelmente ainda poderá ser salva, e que às vezes ainda vale a pena escrever uma crônica.

(Rubem Braga. *Para gostar de ler*. São Paulo: Ática, 1992, Adaptado)

- 01.** A partir da leitura da crônica, é correto afirmar que a notícia sobre o desabrochar da flor-de-maio
- (A) surpreendeu o autor que, por não se interessar por plantas, procura passar adiante os detalhes a quem se interesse pelo assunto.
  - (B) não foi considerada pelos jornais como algo importante e, portanto, não foi publicada em nenhum meio de comunicação no dia certo.
  - (C) fez o autor se dirigir imediatamente ao Jardim Botânico para cumprimentar o responsável por este acontecimento.
  - (D) foi, segundo o autor, o único fato importante daquele dia, embora os jornais tenham se concentrado em assuntos mais banais.
  - (E) motivou o desejo do autor de ir ao Jardim Botânico para testemunhar algo de belo e emocionante que aconteceu na cidade.
- 02.** A respeito das reflexões feitas pelo autor no texto, é correto afirmar que ele
- (A) considera que vale a pena escrever crônicas se elas servirem para inspirar as pessoas a priorizarem, em seu cotidiano, um acontecimento belo como o florescimento de uma flor-de-maio.
  - (B) vê os leitores como pessoas superiores por não terem tantos compromissos diários que tomam tempo, como textos para ler e escrever e telefonemas para fazer.
  - (C) se mostra sarcástico ao afirmar que a humanidade poderá ser salva se todos os jornais passarem a noticiar os nascimentos das flores em vez de dar notícias ruins.
  - (D) julga que a queda de um andaime e o aumento do preço do pão fazem as pessoas se recolherem em suas casas, enquanto a notícia sobre o nascimento de uma flor as leva a saírem.
  - (E) se mostra orgulhoso por ser o único a notar o nascimento da flor-de-maio e contar o fato para os leitores, ainda que ele não tenha condições de visitar o Jardim Botânico.
- 03.** O trecho – No fundo, a minha secreta esperança é de que estas linhas sejam lidas por alguém... (4º parágrafo) – pode ser assim reescrito, em conformidade com a norma-padrão de regência e emprego dos pronomes relativos:
- (A) No fundo, espero secretamente de que estas linhas sejam lidas por alguém...
  - (B) No fundo, tenho secretamente o desejo cujas estas linhas sejam lidas por alguém...
  - (C) No fundo, secretamente anseio por que estas linhas sejam lidas por alguém...
  - (D) No fundo, tenho secretamente esperanças onde estas linhas sejam lidas por alguém...
  - (E) No fundo, secretamente almejo de que estas linhas sejam lidas por alguém...

04. Assinale a alternativa em que a introdução das vírgulas no trecho foi feita em conformidade com a norma-padrão de pontuação.

- (A) É assinada, pelo senhor diretor, do Jardim Botânico... (1º parágrafo)
- (B) ... e diz que, a partir do dia 27, vale a pena visitar o Jardim... (1º parágrafo)
- (C) Mas havia, ainda muita coisa, para ler e escrever... (2º parágrafo)
- (D) ... desconfio que, esse impulso que tive ao ler a notícia, ficará no que foi... (3º parágrafo)
- (E) ... às vezes, ainda vale a pena, escrever uma crônica. (5º parágrafo)

05. Assinale a alternativa em que a flexão do substantivo composto no plural é feita da mesma forma que ocorre com a palavra “flor-de-maio”.

- (A) beija-flor
- (B) estrela-do-mar
- (C) segunda-feira
- (D) cirurgião-dentista
- (E) bem-me-quer

Leia o texto para responder às questões de números 06 a 10.

*OIT: desigualdades de gênero no emprego são maiores do que se pensava*

Um novo relatório da Organização Internacional do Trabalho (OIT) revela que as diferenças entre os gêneros no acesso ao emprego e às condições de trabalho são maiores do que se pensava anteriormente. Um novo indicador, desenvolvido pela OIT, capta todas as pessoas sem emprego que estão interessadas em encontrar um emprego. Por esse motivo, ele reflete um quadro muito mais sombrio da situação das mulheres no mundo do trabalho do que a taxa de desemprego mais comumente usada. O documento “Novos dados esclarecem as diferenças de gênero no mercado de trabalho”, indica que 15% das mulheres em idade produtiva em todo o mundo gostariam de trabalhar, mas não têm emprego, em comparação com 10,5% dos homens.

Alacuna de postos de trabalho é particularmente grave nos países em desenvolvimento, onde a proporção de mulheres incapazes de encontrar uma vaga chega a 24,9% nos países de baixa renda. A taxa correspondente para os homens na mesma categoria é de 16,6%, um nível preocupantemente alto, mas significativamente inferior ao das mulheres.

A análise aponta que as responsabilidades pessoais e familiares, incluindo o trabalho de cuidados não remunerado, afetam desproporcionalmente as mulheres. Essas atividades se tornam um impedimento não apenas para uma contratação, mas também para procurar emprego ativamente ou para estarem disponíveis para trabalhos de última hora.

(ONU News. Disponível em: <https://news.un.org/pt/story/2023/03/1810927>. Adaptado)

06. A partir dos dados publicados no relatório da OIT, é possível concluir que

- (A) o acesso ao emprego foi dificultado para as mulheres nos últimos anos em comparação a períodos anteriores.
- (B) 24,9% das pessoas desempregadas nos países em desenvolvimento, atualmente, são mulheres.
- (C) os desequilíbrios de gênero no acesso ao emprego são maiores nos países desenvolvidos.
- (D) 15% das mulheres que não conseguem emprego nos países em desenvolvimento estão em idade produtiva.
- (E) o novo indicador considera como desempregadas um número maior de pessoas quando comparado a outros indicadores.

07. Há palavra empregada em sentido figurado na seguinte alternativa:

- (A) Um novo relatório da Organização Internacional do Trabalho (OIT) revela que as diferenças entre os gêneros no acesso ao emprego... (1º parágrafo).
- (B) Um novo indicador, desenvolvido pela OIT, capta todas as pessoas sem emprego que estão interessadas em encontrar um emprego. (1º parágrafo).
- (C) Por esse motivo, ele reflete um quadro muito mais sombrio da situação das mulheres no mundo do trabalho... (1º parágrafo).
- (D) ... 15% das mulheres em idade produtiva em todo o mundo gostariam de trabalhar... (1º parágrafo).
- (E) ... as responsabilidades pessoais e familiares, incluindo o trabalho de cuidados não remunerado, afetam desproporcionalmente as mulheres. (3º parágrafo).

08. Assinale a alternativa em que a expressão em destaque está corretamente substituída pelo pronome na forma entre parênteses.

- (A) Capta todas **as pessoas** (capta-lhes).
- (B) Ele reflete **um quadro** (ele reflete-lo).
- (C) Novos dados esclarecem **as diferenças** (esclarecem-nas).
- (D) Incapazes de encontrar **uma vaga** (encontrar-na).
- (E) Afetam desproporcionalmente **as mulheres** (afetam-as).

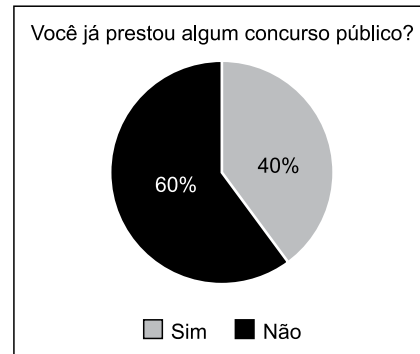
09. Foi reescrito em conformidade com a norma-padrão de concordância o trecho:

- (A) Anteriormente, pensava-se que os desequilíbrios de gênero no acesso ao trabalho fosse menor.
- (B) É captado, com o novo indicador da OIT, todas as pessoas sem emprego que estão interessadas em encontrar um emprego.
- (C) Embora seja considerado alto, a taxa de desemprego entre os homens, de 16,6%, ainda é menor do que a das mulheres.
- (D) As responsabilidades pessoais e familiares e o trabalho de cuidados não remunerado são considerados responsáveis por afetar as mulheres.
- (E) Podem haver certas atividades específicas que se tornam impedimentos para a contratação de mulheres.

10. O sinal indicativo de crase está corretamente empregado na alternativa:

- (A) A participação dos homens no mercado de trabalho deve ser semelhante à das mulheres.
- (B) As mulheres estão aptas à competir por qualquer vaga de emprego, contanto que a sociedade lhes dê oportunidades.
- (C) O direito ao trabalho é inerente à toda mulher, embora em muitos lugares a equidade de gênero ainda seja um desafio.
- (D) O trabalho à que as mulheres aspiram deve levar em consideração também seus direitos reprodutivos.
- (E) Muitas pessoas dedicam-se à pesquisas sobre o impacto do desequilíbrio de gênero na economia dos países.

11. O gráfico representa a distribuição das respostas “sim” e “não” dadas em uma pergunta feita para certa quantidade de pessoas.



Com base nesse gráfico de setores, pretende-se construir um gráfico de colunas. Nesse caso, as colunas representando as respostas devem ter a mesma largura, e a altura da coluna que representa as respostas

- (A) “não” deve corresponder a 1,2 da altura da coluna que representa as respostas “sim”.
- (B) “não” deve corresponder a 1,5 da altura da coluna que representa as respostas “sim”.
- (C) “não” deve corresponder a 1,6 da altura da coluna que representa as respostas “sim”.
- (D) “sim” deve corresponder a 0,8 da altura da coluna que representa as respostas “não”.
- (E) “sim” deve corresponder a 0,4 da altura da coluna que representa as respostas “não”.

12. Para fazer, em determinado período de tempo, o transbordo total de uma substância que ocupa toda a capacidade de um tanque que está a certa altura do solo para outro tanque, maior, que está no solo, abriu-se, totalmente e ao mesmo tempo, 3 das 4 válvulas iguais, uma de cada tubulação com diâmetros também iguais, que ligam ambos os reservatórios. Sabendo-se que todas as válvulas têm a mesma vazão, então, se todas elas tivessem sido totalmente abertas ao mesmo tempo, o período de tempo para o transbordo total do mesmo volume da substância entre os tanques teria diminuído

- (A) em três quartos.
- (B) em dois terços.
- (C) pela metade.
- (D) em dois quintos.
- (E) em um quarto.

13. Um terreno tem forma retangular, com frente medindo 50 m a mais do que sua lateral. Sabendo-se que o perímetro desse terreno é de 380 m, sua área é de
- (A) 8000 m<sup>2</sup>.
  - (B) 8200 m<sup>2</sup>.
  - (C) 8400 m<sup>2</sup>.
  - (D) 8600 m<sup>2</sup>.
  - (E) 8800 m<sup>2</sup>.

14. Considere a seguinte informação, apresentada em um jornal eletrônico:

No período do feriado de Carnaval 2023, a Rodoviária de BH registrou, no intervalo de 12 dias (de quinta-feira, 16/02, a segunda-feira, 27/03), um fluxo aproximado de 257 mil pessoas passando pelo terminal, entre embarques e desembarques. Esse volume representa 15% de crescimento na quantidade de passageiros verificada no mesmo feriado em 2022 [...].

(<https://diariodocomercio.com.br/economia/rodoviaria-de-bh-divulga-dados-consolidados-da-movimentacao-do-feriado-de-carnaval-de-2023/>)

Com base nas informações apresentadas, é correto afirmar que, em 2022, no período em questão, o fluxo aproximado de pessoas passando pelo terminal rodoviário de Belo Horizonte ficou entre

- (A) 218 mil e 220 mil pessoas.
  - (B) 220 mil e 222 mil pessoas.
  - (C) 222 mil e 224 mil pessoas.
  - (D) 224 mil e 226 mil pessoas.
  - (E) 226 mil e 228 mil pessoas.
15. De acordo com uma pesquisa realizada, identificou-se que, em 2023, a cada 3 profissionais que pretendem mudar de emprego, 4 profissionais não pretendem mudar de emprego. Se 518 profissionais participaram dessa pesquisa, a diferença entre o número de profissionais que responderam não pretender mudar de emprego e o número de profissionais que responderam pretender mudar de emprego, em 2023, é igual a
- (A) 74.
  - (B) 86.
  - (C) 92.
  - (D) 110.
  - (E) 130.

16. Dos 40 profissionais que trabalham em certo departamento de uma empresa, alguns ganham 3,5 salários mínimos, 3 profissionais a mais dos que ganham 3,5 salários mínimos, ganham 4 salários mínimos, e os demais, ganham 5 salários mínimos. Se, nesse departamento, a soma de todos os salários desses profissionais é igual a 167 salários mínimos, então a quantidade de profissionais que têm o maior salário é igual a
- (A) 12.
  - (B) 13.
  - (C) 14.
  - (D) 15.
  - (E) 16.
17. Em certa empresa que tem colaboradores de diversas categorias profissionais com regimes de carga horária regidas por diferentes convenções coletivas, há um colaborador que faz 10 minutos de intervalo a cada 40 minutos trabalhados, e outro que faz 10 minutos de intervalo a cada 50 minutos trabalhados. Esses dois profissionais iniciam sua jornada diária à 9h da manhã e trabalham 6 horas por dia, sem pausa para almoço. Supondo-se um dia em que ambos cumpram rigorosamente seus horários de trabalho e pausas, haverá um horário em que ambos iniciarão uma de suas pausas ao mesmo tempo, que será às
- (A) 11h e 50 min.
  - (B) 12h e 20 min.
  - (C) 12h e 50 min.
  - (D) 13h e 20 min.
  - (E) 13h e 50 min.
18. A produção de certa quantidade de um produto é automatizada e efetuada por uma única prensa. Para produzir uma quantidade  $x$  de unidades desse produto, essa prensa trabalha, ininterruptamente, ou não, durante 4 horas, 11 minutos e 6 segundos. Pretende-se dividir a quantidade produzida em 3 partes de igual período. Sendo assim, cada parte da produção terá um período de tempo igual a 1 hora,
- (A) 04 minutos e 02 segundos.
  - (B) 15 minutos e 06 segundos.
  - (C) 23 minutos e 42 segundos.
  - (D) 37 minutos e 02 segundos.
  - (E) 44 minutos e 18 segundos.

19. A tabela, construída com informações do município de Pindamonhangaba, divulgadas pelo Instituto Brasileiro de Geografia e Estatística (IBGE), apresenta informações sobre a produção e o valor total da venda da quantidade produzida de alevinos (peixes nos primeiros minutos de vida), nos anos de 2018 e 2021.

Alevinos – Pindamonhangaba		
	Quantidade produzida (milheiros)	Valor total da venda da quantidade produzida (x 1 000)
2018	75	R\$ 12,97
2021	20	R\$ 4,40

(IBGE. Adaptado)



Com base nas informações apresentadas, é correto afirmar que o valor unitário da venda de alevinos, em Pindamonhangaba, de 2018 para 2021, teve:

- (A) um crescimento entre 25% e 30%
  - (B) um crescimento entre 15% e 20%
  - (C) um crescimento entre 5% e 10%
  - (D) um decréscimo entre 45% e 50%
  - (E) um decréscimo entre 65% e 70%
20. Com base em um artigo científico, um analista ambiental precisa identificar o valor  $y$  de determinada grandeza, em relação ao valor  $x = 64$ , de outra grandeza, ambas com suas unidades tradicionais de medida, cuja relação, no referido artigo, é dada pela expressão  $y = x^{\frac{2}{3}}$ . Neste caso, o valor que ele encontrará para  $y$ , na unidade tradicional de medida, é
- (A) 32.
  - (B) 16.
  - (C) 8.
  - (D) 4.
  - (E) 2.



## NOÇÕES DE INFORMÁTICA

21. Tem-se as seguintes pastas, exibidas no Explorador de Arquivos do Microsoft Windows 10, ambas em sua configuração original:

Nome	
 1_LAUDOS	
 2_PERICIAS	

Um usuário deseja criar uma pasta, que seja exibida após a pasta 1\_LAUDOS e antes da pasta 2\_PERICIAS, seguindo a mesma ordenação da imagem anterior. Para isso, essa pasta deve se chamar:

- (A) 11\_ABATIMENTOS  
(B) 01\_ABATIMENTOS  
(C) 02\_ABATIMENTOS  
(D) 1.1\_ABATIMENTOS  
(E) 12\_ABATIMENTOS
22. Tem-se a seguinte tabela, criada no Microsoft Word 2016, em sua configuração padrão:


Ao posicionar o cursor do mouse na última célula e pressionar TAB,

- (A) uma nova linha será criada com 1 coluna.  
(B) uma nova linha será criada com 2 colunas.  
(C) uma nova linha será criada com 3 colunas.  
(D) duas novas linhas serão criadas, sendo a primeira com 1 coluna e a segunda com 3 colunas.  
(E) duas novas linhas serão criadas, sendo a primeira com 2 colunas e a segunda com 1 coluna.

23. Tem-se uma planilha no Microsoft Excel 2016, em sua configuração padrão, com o valor 6 preenchido na célula A1, conforme imagem a seguir:

	A
1	6

Assinale a alternativa com o resultado correto, ao preencher na célula B1 a função a seguir.

=SE(A1<20;"A";SE(A1=6;"B";SE(A1>0;"C";SE(A1>=6;"D";"E"))))

- (A) A  
(B) B  
(C) C  
(D) D  
(E) E
24. Em uma apresentação do Microsoft PowerPoint 2016, em sua configuração original, com 40 slides, todos do mesmo layout, um usuário deseja inserir uma imagem no canto superior direito, que é o brasão da Prefeitura de Pindamonhangaba, em todos os slides. Para fazer isso apenas 1 vez, é necessário inserir a imagem apenas no(a)
- (A) primeiro slide.  
(B) cabeçalho do primeiro slide.  
(C) anotação.  
(D) slide mestre.  
(E) último slide.
25. Usando o Microsoft Outlook 2016, em sua configuração original, um usuário criou uma mensagem de correio eletrônico com as seguintes características:
- De: Mateus  
Para: Natalia  
Cc: Bruno, Paula  
Cco: Carlos
- Mateus queria que \_\_\_\_\_ recebesse(m) a mensagem, sem que os demais destinatários soubessem.
- Considerando que a mensagem foi enviada e recebida com sucesso, assinale a alternativa que preenche corretamente a lacuna do texto do enunciado.
- (A) Natália  
(B) Bruno e Paula  
(C) Natalia, Bruno e Paula  
(D) Natália, Carlos e Tatiana  
(E) Carlos

## CONHECIMENTOS ESPECÍFICOS

### DIREITO CONSTITUCIONAL

26. Suponha que lei complementar disponha caber ao Vice Presidente da República coordenar as reuniões do Conselho da República. Sabendo que a Constituição Federal determina, no artigo 79, Parágrafo Único, que o Vice Presidente poderá ter fixadas, por lei complementar, atribuições adicionais àquelas estabelecidas no texto constitucional, é correto afirmar que, se lei ordinária viesse a dispor que a coordenação das reuniões do Conselho da República fosse feita pelo Ministro do Planejamento, isto
- (A) seria plenamente constitucional, pois cabe ao Poder Legislativo estabelecer, mediante lei, a organização e atribuições dos órgãos integrantes do Poder Executivo.
  - (B) violaria o espaço constitucional reservado à lei complementar, na medida em que não se admite que uma lei ordinária possa revogar o estabelecido por lei complementar, em matéria a ela reservada.
  - (C) seria inconstitucional, pois a Constituição prevê de forma taxativa que a coordenação dos trabalhos do Conselho da República seja feita pelo Ministro da Defesa, como representante do Presidente da República.
  - (D) seria mera decorrência do princípio geral de direito *lex posterior derogat priori*, segundo o qual lei posterior revoga lei anterior com ela em contradição, devendo a nova regra valer a partir do término da *vacatio legis* da nova lei.
  - (E) violaria o espaço constitucional reservado à lei complementar, na medida em que o quórum qualificado de dois terços para a sua aprovação impede a sua posterior modificação por maioria simples dos Deputados e Senadores.
27. Compete privativamente ao Senado Federal
- (A) resolver definitivamente sobre tratados, acordos ou atos internacionais que acarretem encargos ou compromissos gravosos ao patrimônio nacional.
  - (B) aprovar o estado de defesa e a intervenção federal, autorizar o estado de sítio, ou suspender qualquer uma dessas medidas.
  - (C) sustar os atos normativos do Poder Executivo que exorbitem do poder regulamentar ou dos limites de delegação legislativa.
  - (D) dispor sobre limites e condições para a concessão de garantia da União em operações de crédito externo e interno.
  - (E) escolher dois terços dos membros do Tribunal de Contas da União.
28. A respeito da intervenção nos municípios brasileiros decretada com base na Constituição Federal, é correto afirmar que
- (A) cabe apenas aos Estados intervir nos municípios localizados em seus respectivos territórios, não detendo a União competência para tal tipo de intervenção.
  - (B) admite-se a intervenção no caso de deixar de ser paga, sem motivo de força maior, por dois anos consecutivos, a dívida flutuante.
  - (C) não se admite a intervenção pela não aplicação do mínimo exigido da receita municipal na manutenção e desenvolvimento do ensino.
  - (D) depende de requerimento específico dirigido pela União ao Supremo Tribunal Federal.
  - (E) cessados os motivos da intervenção, as autoridades afastadas de seus cargos em nenhuma circunstância a estes voltarão.
29. Sobre os instrumentos de política urbana previstos na Constituição Federal, é correto afirmar que
- (A) a desapropriação por não cumprimento da função social da propriedade urbana deve ser feita mediante prévia indenização em dinheiro, após cumprimento do devido processo administrativo no qual se assegure o direito ao contraditório e à ampla defesa.
  - (B) não se admite a aprovação de Plano Diretor Estratégico em municípios com menos de 20000 (vinte mil) habitantes, exceto quando se tratar de estância turística ou de área situada em zona de manejo ambiental permanente.
  - (C) quem possuir como sua área de até 250 m<sup>2</sup>, por cinco anos, ininterruptamente e sem oposição, utilizando-a para sua moradia, poderá adquirir a sua propriedade, desde que atendidos os demais requisitos legais.
  - (D) é vedado ao Poder Público municipal, conforme lei específica federal, exigir do proprietário do solo urbano não edificado, subutilizado ou não utilizado, que promova seu adequado aproveitamento.
  - (E) os mecanismos do parcelamento ou edificação compulsórios, previstos na Constituição de 1967, não foram recepcionados pela Constituição de 1988, por se tratar de instrumentos típicos do período autoritário ditatorial.

## DIREITO ADMINISTRATIVO

30. Tradicionalmente, buscam-se distinguir os atos administrativos, ligados à função administrativa, dos atos de governo, relacionados à função política. Historicamente, pode-se dizer que esta dicotomia se justificava pelo seguinte objetivo, que não mais se coaduna integralmente com a vigente ordem constitucional:

- (A) distinguir os atos realizados para atingimento do interesse público em sentido primário e sentido secundário.
- (B) afastar os atos de governo (atos políticos) do controle judicial aplicável aos atos administrativos.
- (C) identificar os atos sujeitos à legalidade estrita e os atos sujeitos à legalidade em sentido comum.
- (D) distinguir entre atos de direito público interno e os atos de direito público internacional.
- (E) afastar os atos administrativos do controle político aplicável aos atos de governo.

31. Segundo a teoria \_\_\_\_\_ a validade de um ato administrativo depende da correspondência entre as razões nele expostas e a existência concreta dos fatos que ensejaram a sua edição.

Assinale a alternativa que preenche corretamente a lacuna do texto.

- (A) dos motivos determinantes
- (B) do desvio de poder
- (C) dos motivos infringentes
- (D) do *détournement du pouvoir*
- (E) do controle de juridicidade

32. Segundo a Lei nº 9.784/1999, a Administração Pública obedecerá, no âmbito dos processos administrativos, dentre outros, aos princípios da:

- (A) legalidade, finalidade, motivação, arbitrariedade e razoabilidade.
- (B) legalidade, modicidade, contraditório e preferência às micro e pequenas empresas.
- (C) proporcionalidade, moralidade, ampla defesa, contraditório e segurança jurídica.
- (D) pertinência, economicidade, desenvolvimento sustentável, interesse público e eficiência.
- (E) sustentabilidade, privacidade, eficácia, publicidade e pragmatismo.

33. A \_\_\_\_\_ implica a extinção do direito. Na \_\_\_\_\_, tem-se a extinção da pretensão. Por fim, na \_\_\_\_\_, tem-se a extinção de uma faculdade processual.

Assinale a alternativa que preenche, correta e respectivamente, as lacunas do texto.

- (A) decadência ... preclusão ... prescrição
- (B) decadência ... interrupção ... prescrição
- (C) coisa julgada ... decadência ... prescrição
- (D) decadência ... prescrição ... preclusão
- (E) preclusão ... coisa julgada ... decadência

## DIREITO FINANCEIRO E TRIBUTÁRIO

34. Imagine que determinado município dispôs, no seu Plano Plurianual, a respeito do planejamento para a educação básica da seguinte maneira:

### PX1 – Acesso à educação básica de qualidade

**Objetivo X1.1.** Democratizar o acesso à educação básica de qualidade do território municipal.

**Indicador X1.1.1.** Percentual de crianças em idade escolar básica não matriculadas na rede pública ou privada de ensino.

**Periodicidade:** Quadrimestral

**Interpretação:** Melhor quando baixo

**Situação atual:** 30%

**Meta:** 10%

#### Ações:

**Ação X1.1.1.1.** Construção de 2 novas creches municipais.

**Ação X1.1.1.2.** Subsídio tarifário ao transporte público escolar de crianças e acompanhantes.

#### Valores Envolvidos:

**Ação X1.1.1.1.** R\$ 10 milhões (Ano 1) / R\$ 10 milhões (Ano 2) / R\$ 30 milhões (Ano 3) / R\$ 10 milhões (Ano 4)

**Ação X1.1.1.2.** R\$ 5 milhões (Ano 1) / R\$ 5 milhões (Ano 2) / R\$ 5 milhões (Ano 3) / R\$ 5 milhões (Ano 4)

É correto afirmar que o trecho revela exemplo da seguinte espécie orçamentária:

- (A) orçamento de capital.
- (B) orçamento base-zero.
- (C) orçamento inercial.
- (D) orçamento programa.
- (E) orçamento por desempenho.

35. A respeito do conceito de dívida pública, empréstimos públicos e suas espécies, é correto afirmar, com base na legislação nacional, que

- (A) os precatórios judiciais não pagos durante a execução do orçamento em que houverem sido incluídos integram a dívida consolidada, para fins de aplicação dos limites ao endividamento público.
- (B) o refinanciamento da dívida mobiliária consiste na emissão de títulos de capitalização para rolagem do principal da dívida acrescido dos juros vencidos e não pagos.
- (C) a dívida pública mobiliária corresponde ao montante total, apurado sem duplicidade, das obrigações financeiras do ente da Federação para amortização em prazo superior a doze meses.
- (D) a dívida pública flutuante corresponde ao montante total, apurado sem duplicidade, das obrigações financeiras do ente da Federação para amortização em prazo superior a doze meses.
- (E) a dívida pública consolidada consiste no montante da dívida pública representada por títulos emitidos pela União, inclusive os do Banco Central do Brasil, Estados e Municípios.

36. É correto afirmar que o artigo 146 do Código Tributário Nacional, transcrito a seguir, possui relação direta com o princípio tributário do(a):

*“Art. 146. A modificação introduzida, de ofício ou em consequência de decisão administrativa ou judicial, nos critérios jurídicos adotados pela autoridade administrativa no exercício do lançamento somente pode ser efetivada, em relação a um mesmo sujeito passivo, quanto a fato gerador ocorrido posteriormente à sua introdução.”*

- (A) anualidade.
- (B) decadência.
- (C) segurança jurídica.
- (D) moralidade.
- (E) igualdade.

37. A Prefeitura do Município “X” decidiu criar, mediante lei, taxa de fiscalização ambiental, atribuindo o poder de fiscalizar, arrecadar e cobrar o tributo a uma autarquia municipal especial criada pela mesma lei. A respeito desta decisão, é correto afirmar com base na legislação nacional tributária que

- (A) a decisão não está em conformidade com a legislação, pois a competência tributária para a instituição de tributos é indelegável e compreende as funções de arrecadação, fiscalização e cobrança.
- (B) a atribuição dos poderes de cobrança da taxa à nova autarquia compreenderá as garantias e os privilégios processuais que, de outra forma, competiriam à própria Prefeitura para fins da cobrança da taxa.
- (C) a decisão não viola a legislação nacional, na medida em que a competência tributária pode ser delegada a outro ente da própria Administração Pública, mediante lei.
- (D) não é possível a criação de taxa de fiscalização ambiental pela Prefeitura municipal, pois carecem os municípios de competência para a criação de taxas em razão do exercício do poder de polícia.
- (E) não é possível a vinculação de taxa pela Prefeitura a uma autarquia, pois as taxas devem seguir o chamado princípio da “não afetação”, que impede a vinculação do seu produto a órgão, fundo ou entidade.

#### CONTROLE INTERNO E EXTERNO

38. Em uma determinada empresa *startup*, as atividades de cotação de preços dos insumos necessários ao negócio, contratação, aprovação do recebimento do produto e agendamento do pagamento ao fornecedor são realizadas por uma mesma pessoa. Considerando as melhores práticas de gestão de riscos para um adequado ambiente de controle, é correto afirmar sobre esta situação que

- (A) é compatível com a situação de uma empresa inovadora e de pequeno porte, como normalmente são as *startups*, por oferecer o menor custo em comparação ao nível de controle necessário.
- (B) a ausência de segregação de funções em atividades de alto risco de desconformidade, como são as atividades de seleção de fornecedores e de realização de pagamentos, revela um ambiente de controles internos frágeis.
- (C) revela claramente uma preferência pela utilização de ferramentas de gestão e avaliação de riscos consistentes com estruturas matriciais de organização, em contraposição a estruturas hierárquicas, típicas de órgãos públicos.
- (D) representa desconformidade em relação ao previsto em lei, uma vez que se exige legalmente das organizações públicas e privadas no Brasil especialização da área de compras em relação às demais áreas.
- (E) é reveladora de um ambiente maduro de gestão de riscos, contando com controles internos apropriados à sua dimensão e à dinâmica veloz dos negócios digitais, que requerem processos flexíveis e adaptáveis.

39. Ainda em relação à situação descrita na questão anterior, é correto afirmar que a eventual decisão da empresa de criação de alçadas de aprovação de pagamentos a serem realizados, conforme o seu valor, seria uma iniciativa ligada diretamente ao seguinte componente dos controles internos:
- (A) gestão de riscos.
  - (B) informação.
  - (C) comunicação.
  - (D) atividades de controle.
  - (E) monitoramento.
40. Assinale a alternativa que traz a correta definição de “ambiente de controle”, como componente dos controles internos de uma organização.
- (A) Refere-se ao tom estabelecido pela administração em relação à importância do controle interno dentro da organização. Ele inclui fatores como a cultura organizacional, o comprometimento da administração com o controle interno e a integridade e ética dos funcionários.
  - (B) Envolve a identificação e análise dos riscos que podem afetar o cumprimento dos objetivos da organização. Isso permite que a administração desenvolva medidas de controle apropriadas para lidar com esses riscos.
  - (C) São as políticas e procedimentos que a administração implementa para reduzir os riscos identificados na avaliação de risco. Isso inclui medidas como controles preventivos, detecção de erros e fraudes, segregação de funções e monitoramento.
  - (D) Envolve a coleta, processamento e disseminação de informações relevantes para a tomada de decisões. Também inclui a comunicação eficaz com as partes interessadas relevantes sobre questões de controle interno.
  - (E) Refere-se à supervisão contínua do sistema de controle interno pela administração. Isso envolve avaliações periódicas para garantir que os controles internos estejam funcionando conforme o planejado e que as mudanças no ambiente externo ou interno sejam devidamente refletidas nos controles internos.
41. O controle externo no Brasil é exercido pelo Poder Legislativo com auxílio do Tribunal de Contas competente, conforme a esfera da Federação. A este respeito, é correto afirmar que
- (A) o Tribunal de Contas da União não exerce nenhum tipo de competência sobre atos executados por outros entes da União que não o governo federal.
  - (B) os conselhos profissionais, por serem considerados autarquias, de maneira geral, não se submetem à competência dos tribunais de contas.
  - (C) os tribunais de contas exercem fiscalização contábil, financeira, orçamentária, operacional e também patrimonial.
  - (D) os tribunais de contas não possuem funções consultivas, mas apenas repressivas, não lhes cabendo, portanto, atuar de forma preventiva.
  - (E) as decisões dos tribunais de contas no Brasil não estão sujeitas à revisão pelo Poder Judiciário, tornando-se definitivas após análise do seu plenário.
42. Sobre a Lei Complementar nº 101/2000 (“Lei de Responsabilidade Fiscal”), é correto afirmar que
- (A) não se aplica às empresas estatais que realizem atividade econômica em regime de concorrência no mercado, sem monopólio.
  - (B) não se aplica às empresas estatais prestadoras de serviços públicos concessionados em regime de monopólio legal ou natural.
  - (C) prevê de forma minuciosa sobre temas fiscais a serem tratados a cada ano pelo ente público por intermédio da proposição da lei de diretrizes orçamentárias.
  - (D) estabelece limites à realização de operações de crédito por estados e municípios, em proporção da sua receita corrente líquida.
  - (E) estabelece limites à realização de operações de crédito por estados e municípios, em proporção da sua receita líquida real.
43. Segundo dispõe a Lei Orgânica do Tribunal de Contas do Estado de São Paulo (Lei Complementar nº 709/1993),
- (A) os sucessores dos gestores ou responsáveis abrangidos pela competência do Tribunal responderão somente até o limite do valor do patrimônio a eles transferido.
  - (B) os responsáveis por entidades jurídicas de direito privado que recebam contribuições parafiscais e prestem serviço de interesse público ou social não estão sujeitos à competência do Tribunal.
  - (C) o Tribunal, em suas decisões, levará em conta a responsabilidade objetiva dos ordenadores ou gestores de despesa.
  - (D) o Conselheiro fica dispensado de fazer declaração pública de bens, no ato da posse e no término do exercício do cargo.
  - (E) o Tribunal emitirá parecer, até o último dia do semestre ao do seu recebimento, sobre a prestação anual de contas da administração financeira dos Municípios.

## AUDITORIA NO SETOR PÚBLICO

44. A respeito da atividade de auditoria no setor público, é correto afirmar que
- (A) cabe ao chamado controle externo, exercido pelas controladorias gerais, no âmbito de cada Poder.
  - (B) abrange apenas a chamada auditoria de demonstrações contábeis, não abarcando a chamada auditoria operacional.
  - (C) tem como um de seus objetivos contribuir para o aperfeiçoamento da Administração Pública, por meio da apresentação de recomendações aos gestores públicos responsáveis.
  - (D) tem por principal função detectar eventuais fraudes cometidas no âmbito da gestão pública, promovendo a responsabilização dos envolvidos e a recuperação dos valores desviados.
  - (E) identifica-se com o papel das corregedorias no âmbito da Administração Pública, cabendo à auditoria a atividade correccional e disciplinar.

45. A Câmara de Vereadores de certo Município recebeu parecer prévio do Tribunal de Contas do Estado no qual está inserido o Município, recomendando a rejeição das contas apresentadas pelo Prefeito. A respeito desta situação hipotética, é correto afirmar que
- (A) caso a Câmara de Vereadores não aprecie as contas do Prefeito até o encerramento da respectiva sessão legislativa, as contas serão tacitamente aprovadas.
  - (B) caso a Câmara de Vereadores não aprecie as contas do Prefeito até o encerramento da respectiva sessão legislativa, as contas serão tacitamente rejeitadas.
  - (C) o parecer do Tribunal de Contas é vinculante, de maneira que se encaminha à Câmara de Vereadores para mera ciência e avaliação quanto à aplicação de eventuais sanções.
  - (D) a competência para a apreciação, mediante parecer prévio, de contas apresentadas por Prefeito municipal é do respectivo Tribunal de Contas dos Municípios e não do Tribunal de Contas do Estado.
  - (E) o parecer prévio só deixará de prevalecer por decisão de 2/3 (dois terços) dos membros da Câmara Municipal.

46. Em relação aos atos de admissão de pessoal e de concessão de aposentadorias e pensões, é correto afirmar sobre a competência dos Tribunais de Contas que
- (A) não lhes cabe apreciar a legalidade e a moralidade dos atos de admissão de pessoal comissionado, pois estes são admissíveis e demissíveis *ad nutum*.
  - (B) excluem-se da exigência de análise para fins de registro as melhorias posteriores das aposentadorias e pensões que não alterem o fundamento legal do ato concessório.
  - (C) a concessão de pensões, ao contrário dos processos de concessão de aposentadorias, prescinde de análise do tribunal de contas quanto à legalidade.
  - (D) a abertura de concurso público para admissão de pessoal por tempo determinado deve ser previamente homologada pelo tribunal de contas.
  - (E) excluem-se da competência dos tribunais de contas os atos de admissão de pessoal no âmbito das empresas estatais não dependentes.

## CONTABILIDADE PÚBLICA

Utilize os dados a seguir para responder às questões de números 47 e 48.

Uma entidade hipotética do setor público publicou as seguintes informações, retiradas da sua Demonstração do Fluxo de Caixa do último exercício, em R\$:

Alienação de Bens: 3.450.000,00  
Amortização de dívidas: 130.000,00  
Aquisição de ativo não circulante: 1.300.000,00  
Concessão de empréstimos e financiamentos: 780.000,00  
Operações de crédito: 345.000,00  
Pessoal e demais despesas: 1.200.000,00  
Receita tributária: 10.567.000,00  
Transferências concedidas: 3.000.000,00  
Transferências recebidas: 2.800.000,00

47. O Fluxo de Caixa Líquido das atividades de investimento da entidade pública, em R\$, totalizou
- (A) 0,00
  - (B) 520.000,00
  - (C) 1.370.000,00
  - (D) 2.150.000,00
  - (E) 2.670.000,00
48. O Fluxo de Caixa Líquido das atividades de financiamento da entidade pública, em R\$, totalizou
- (A) 0,00
  - (B) 215.000,00
  - (C) 520.000,00
  - (D) 2.150.000,00
  - (E) 5.540.000,00

**49.** Um município do estado de São Paulo estima que irá receber R\$ 23.450.000,00 em IPTU no próximo exercício, conforme aprovado em sua LOA. Sabe-se que nos últimos anos, em média, 2,5% dos contribuintes aptos não pagaram o tributo.

Considerando essa informação, o contador do ente deverá realizar o seguinte registro contábil no sistema patrimonial:

- (A) ajuste de avaliação patrimonial de R\$ 586.250,00, relativa ao crédito de liquidação duvidosa.
- (B) integralização de capital no valor de R\$ 23.450.000,00, em virtude do imposto lançado e devido pelo contribuinte.
- (C) receita orçamentária realizada no valor de R\$ 22.863.750,00, em virtude de receita tributária.
- (D) variação patrimonial diminutiva no valor de R\$ 22.863.750,00, em virtude de receita tributária.
- (E) variação patrimonial diminutiva no valor de R\$ 586.250,00, relativa a crédito de liquidação duvidosa.

**50.** Quando a assembleia de acionistas de uma empresa pública declara o pagamento de dividendos para o ente federativo controlador, os dividendos deverão ser reconhecidos no sistema patrimonial do ente como:

- (A) Integralização de capital.
- (B) Receita orçamentária corrente.
- (C) Receita orçamentária de capital.
- (D) Reserva de capital.
- (E) Variação Patrimonial Aumentativa.

