

Operador de Máquinas

- Confira devidamente o material (CADERNO DE QUESTÕES e CARTÃO DE RESPOSTAS); se houver falha, solicite a substituição ao fiscal.
- Este caderno de questões está assim constituído:

DISCIPLINAS	Nº QUESTÕES
Português	08
Matemática	08
Legislação e Conhecimentos Gerais	06
Conhecimentos Específicos	08

- Após conferir seus dados no cartão de respostas (NOME, Nº da INSCRIÇÃO e CARGO), assine no local indicado.
- O CARTÃO DE RESPOSTAS, não poderá conter rabisco e/ou rasura, tampouco poderá ser substituído, devendo ser conservado em segurança durante a realização da prova. Os dados do cartão deverão ser conferidos pelo candidato, que também deve preenchê-lo e assiná-lo, no local correto, com atenção e à caneta esferográfica (ponta grossa, tinta azul ou preta e material transparente), **uma vez que o cartão de respostas é o único documento válido e utilizado para a correção da prova objetiva.**
- Se o CARTÃO DE RESPOSTAS contiver maior número de alternativas e/ou de questões, preencha apenas as correspondentes à sua prova; as demais ficam em branco.
- Durante a realização da prova, não é permitida a comunicação entre candidatos nem a utilização de máquina calculadora e/ou similares, livros, anotações, réguas de cálculo, impressos ou qualquer outro material de consulta.
- O tempo de duração da prova objetiva será de **até 3 horas**, incluído o tempo para assinatura e preenchimento do Cartão de Respostas. O candidato somente poderá levar consigo seu caderno de questões **após 1 hora** contada do efetivo início das provas. Por questões de segurança, o candidato que sair antes de uma hora contada do efetivo início das provas devolverá ao fiscal da sala, além do cartão de respostas, o caderno de questões.
- Em todas as questões de legislação desta prova (se houver), serão consideradas as emendas e/ou alterações da legislação com entrada em vigor até a publicação do edital. Na prova de Português será exigida a norma ortográfica atualmente em vigor. Para responder às questões de Informática (se houver), a menos que seja informado o contrário, considerar que os programas mencionados se encontram na versão Português-BR e em sua configuração padrão de instalação, possuem licença de uso, o mouse está configurado para destros, um clique ou duplo clique correspondem ao botão esquerdo do mouse, e teclar corresponde à operação de pressionar uma tecla e, rapidamente, liberá-la, acionando-a apenas uma vez.
- Ao final dos trabalhos, **DEVOLVA** ao Fiscal da sala o CARTÃO DE RESPOSTAS devidamente preenchido e assinado.
- Ao final da prova objetiva, os três últimos candidatos de cada sala de prova deverão permanecer no recinto, a fim de acompanhar os fiscais até a coordenação para o lacre dos envelopes, quando, então, poderão retirar-se do local, simultaneamente, após concluído.

Direitos autorais reservados à Objetiva Concursos Ltda. Proibida a reprodução, ainda que parcial, sem autorização prévia.

Boa Prova!

Seriedade e ética: nós acreditamos nesses valores.

Nome do(a) Candidato(a)

Nº de inscrição

PORTUGUÊS

Minha terra

Saí menino de minha terra.
Passei trinta anos longe dela.
De vez em quando me diziam:
Sua terra está completamente mudada,
Tem avenidas, arranha-céus...
É hoje uma bonita cidade!

Meu coração ficava pequenino.

Revi afinal o meu Recife.
Está de fato completamente mudado.
Tem avenidas, arranha-céus.
É hoje uma bonita cidade.

Diabo leve quem pôs bonita a minha terra!
(Fonte: Manuel Bandeira)

1) Em relação ao texto, analisar os itens abaixo:

- I. Manuel Bandeira aprova as mudanças em sua terra, Recife, devido à sua nova beleza.
- II. Ao retornar para sua terra, Manuel Bandeira não encontrou mudanças significativas.
- III. As avenidas e os arranha-céus representam o desenvolvimento da terra de Manuel Bandeira.

Está(ão) CORRETO(S):

- a) Somente o item III.
 - b) Somente o item I.
 - c) Somente os itens I e II.
 - d) Todos os itens.
-

2) Nos versos “Revi afinal o meu Recife./Está de fato completamente mudado./Tem avenidas, arranha-céus./É hoje uma bonita cidade.”, as palavras sublinhadas representam os tempos verbais, respectivamente:

- a) Presente | Presente | Presente.
 - b) Passado | Passado | Passado.
 - c) Passado | Presente | Presente.
 - d) Presente | Passado | Presente.
-

3) Em “O leão estava caçando.”, ao passar os termos sublinhados para o feminino, tem-se:

- a) A leã.
 - b) A leoa.
 - c) A leona.
 - d) A leiona.
-

4) Assinalar a alternativa em que a ortografia está INCORRETA:

- a) Puxar.
 - b) Mexer.
 - c) Enxergar.
 - d) Enxer.
-

5) Na frase “O comportamento do rapaz era completamente desagradável.”, a palavra sublinhada tem como antônimo:

- a) Detestável.
 - b) Adorável.
 - c) Insuportável.
 - d) Enfadonho.
-

6) Das palavras abaixo, assinalar a alternativa em que a separação silábica está INCORRETA:

- a) De-scer.
 - b) Di-a.
 - c) Co-o-pe-ra-ção.
 - d) A-ni-mais.
-

7) Assinalar a alternativa em que a palavra sublinhada deveria ser acentuada para estar CORRETAMENTE grafada e empregada:

- a) A genialidade dele é admirável.
 - b) O juiz está atarefado.
 - c) A secretaria não foi trabalhar.
 - d) São muitos perigos na estrada.
-

8) Na frase “Eis a nossa lista para a feira: brócolis, cenoura, beterraba e rabanete.”, as vírgulas foram utilizadas para:

- a) Demonstrar surpresa.
 - b) Encerrar a frase.
 - c) Representar pensamento.
 - d) Enumerar elementos.
-

MATEMÁTICA

9) Renato empilhou 19 caixas com 6 dúzias de pares de sapato em cada uma. Assinalar a quantidade de pares de sapato que a pilha contém:

- a) 985
 - b) 1.136
 - c) 1.368
 - d) 1.586
-

10) O chefe de uma tropa escoteira entregou 3 cordas para os escoteiros. Uma tinha 100 metros de comprimento, a segunda, 120 metros, e a terceira, 150 metros. Ele ordenou aos escoteiros que cortassem as cordas, em pedaços iguais, no maior comprimento possível e que não sobrasse nada. Sendo assim, qual deve ser o tamanho máximo dos pedaços de corda:

- a) 10m
- b) 12m
- c) 15m
- d) 18m

11) Considerando-se a transformação de números fracionários em números decimais e vice-versa, numerar a 2ª coluna de acordo com a 1ª e, após, assinalar a alternativa que apresenta a sequência CORRETA:

- (1) 79/1.000
- (2) 79
- (3) 790
- () 790.000/1.000
- () 0,079
- () 790/10

- a) 3 - 1 - 2.
- b) 1 - 2 - 3.
- c) 1 - 3 - 2.
- d) 2 - 1 - 3.

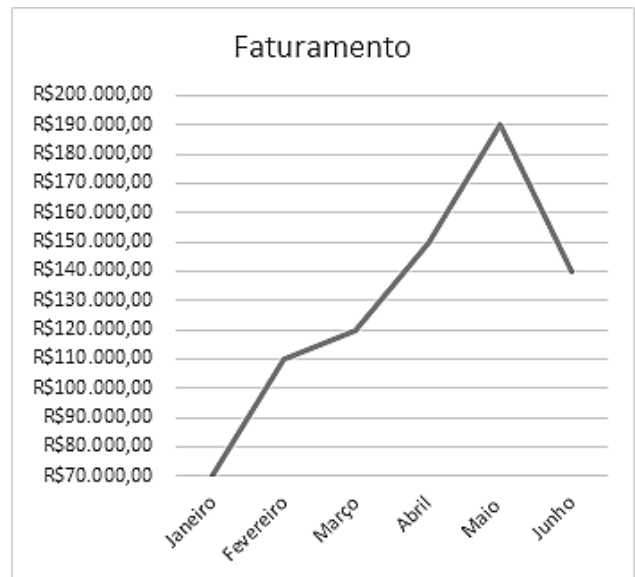
12) Pedro decide comprar 12 unidades de rosas para presentear sua mãe, sendo que cada rosa custa R\$ 8,50. Para compras acima de 10 unidades de rosas, o cliente recebe um desconto de 10% sobre o valor total de sua compra. Desse modo, assinalar a alternativa que indica CORRETAMENTE o valor do desconto recebido por Pedro:

- a) R\$ 1,70
- b) R\$ 8,50
- c) R\$ 10,20
- d) R\$ 10,50

13) João tem R\$ 20,00, e Augusto, R\$ 25,00. Para que ambos fiquem com o mesmo valor, Augusto deverá dar a João:

- a) R\$ 5,00
- b) R\$ 4,00
- c) R\$ 3,50
- d) R\$ 2,50

14) Observar o gráfico abaixo, relativo aos faturamentos de determinada empresa:




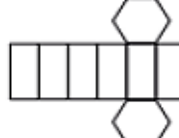


O mês que apresenta o menor aumento do faturamento em relação ao anterior é:

- a) Maio.
- b) Abril.
- c) Março.
- d) Fevereiro.

15) Assinalar a alternativa cuja figura representa a planificação da pirâmide hexagonal representada abaixo:



- a) 
- b) 
- c) 
- d) 

16) Em uma caixa, foram colocadas 14 bolas amarelas, 6 bolas verdes, 8 bolas azuis e 12 bolas vermelhas. O número mínimo de bolas a serem tiradas da caixa, de modo aleatório, para ter-se certeza absoluta de que sairá uma vermelha, é:

- a) 25
- b) 21
- c) 33
- d) 29

LEGISLAÇÃO E CONHECIMENTOS GERAIS

17) De acordo com a Lei Orgânica do Município, analisar os itens abaixo:

- I. São bens públicos municipais todas as coisas móveis, os direitos e as ações, os inventos e as criações intelectuais que a qualquer título pertençam ao Município.
- II. Ao Município cabe exercer a guarda e a vigilância dos bens privados.

- a) Os itens I e II estão corretos.
- b) Somente o item I está correto.
- c) Somente o item II está correto.
- d) Os itens I e II estão incorretos.

18) Conforme a Lei Orgânica do Município, marcar C para as afirmativas Certas, E para as Erradas e, após, assinalar a alternativa que apresenta a sequência CORRETA:

- () Os cargos, os empregos e as funções públicas municipais são acessíveis apenas aos brasileiros natos.
- () A Administração Pública Municipal observará os princípios da legalidade, da impessoalidade, da moralidade e da publicidade.

- a) C - C.
- b) C - E.
- c) E - C.
- d) E - E.

19) Considerando-se a Constituição Federal, assinalar a alternativa que preenche a lacuna abaixo CORRETAMENTE:

São direitos sociais a educação, a saúde, a alimentação, o trabalho, a moradia, o transporte, o _____, a segurança, a previdência social, a proteção à maternidade e à infância, a assistência aos desamparados, na forma desta Constituição.

- a) compromisso
- b) lazer
- c) intercâmbio
- d) descanso

20) A respeito das atitudes corretas durante e após prestar atendimento ao público em órgão público, marcar C para as afirmativas Certas, E para as Erradas e, após, assinalar a alternativa que apresenta a sequência CORRETA:

- () O atendente, entre outras qualidades, precisa ser proativo e ter a capacidade de realizar atividades que sejam necessárias.
- () O servidor público deve ser transparente, no sentido de transmitir confiança, honestidade e segurança ao prestar informações e orientações ao usuário.
- () O servidor público deve sempre prestar os atendimentos com apatia para com o cidadão.

- a) C - C - E.
- b) E - E - C.
- c) C - E - E.
- d) E - C - C.

21) O Decreto nº 10.977, de 23 de fevereiro de 2022, estabeleceu regras sobre a nova Carteira de Identidade Nacional (CIN). Entre as principais mudanças promovidas, é CORRETO destacar:

- a) Documento emitido exclusivamente em formato digital.
- b) Substituirá o passaporte.
- c) Documento único para todo o território brasileiro.
- d) O registro geral terá sete dígitos, sendo quatro letras e três algarismos.

22) O congestionamento nas grandes cidades é um dos principais fatores da falta de mobilidade. Uma forma de ajudar a melhorar a mobilidade urbana é:

- a) Aumentar as tarifas de ônibus e metrô.
- b) Remover semáforos e lombadas.
- c) Incentivar a compra de automóveis.
- d) Investir em transporte coletivo.

CONHECIMENTOS ESPECÍFICOS

23) A Resolução CONTRAN nº 975, de 18 de julho de 2022, que dispõe sobre o Registro Nacional Positivo de Condutores (RNPC), define que o cadastro do condutor será excluído do RNPC:

- a) Quando a Carteira Nacional de Habilitação do cadastrado estiver vencida a menos de 30 dias.
- b) Quando o cadastrado tiver o direito de dirigir suspenso.
- c) Por solicitação de terceiros.
- d) Somente quando existir autorização prévia do cadastrado.

24) Entre os componentes presentes no sistema de alimentação dos tratores agrícolas, o copo de sedimentação, que tem como principal função decantar a água contida no combustível, fica estrategicamente localizado antes do(a):

- a) Tubo ladrão.
- b) Retorno do bico.
- c) Tanque de combustível.
- d) Bomba alimentadora.

25) Dispositivos auxiliares são itens inseridos na via ou em obstáculos próximos a ela, tornando mais eficiente e seguro o trânsito de veículos automotores e pedestres. A respeito dos aspectos legais dos dispositivos auxiliares, marcar C para as afirmativas Certas, E para as Erradas e, após, assinalar a alternativa que apresenta a sequência CORRETA:

- () Os dispositivos auxiliares são utilizados para substituir a sinalização padronizada.
- () Isolados, os dispositivos auxiliares têm função de regulamentar a circulação nas vias públicas.
- () Dispositivos auxiliares delimitadores são dispositivos utilizados para orientar o condutor quanto aos limites do espaço destinado ao rolamento e a sua separação em faixas de trânsito.

- a) C - C - E.
- b) E - E - C.
- c) C - E - E.
- d) C - C - C.

26) Considerando-se as normas gerais de circulação e de conduta, o condutor deverá:

- I. A todo momento, ter domínio de seu veículo, dirigindo-o com atenção e cuidados indispensáveis à segurança do trânsito.
- II. Ceder a passagem sempre que estiver conduzindo veículo mais lento e de maior porte.
- III. Verificar a existência e as boas condições de funcionamento dos equipamentos de uso obrigatório antes de colocar o veículo em circulação nas vias públicas.
- IV. Guardar distância de segurança lateral e frontal entre o seu e os demais veículos.

Está(ão) CORRETO(S):

- a) Somente um item.
- b) Somente dois itens.
- c) Somente três itens.
- d) Todos os itens.

27) Em acidentes de trânsito, o socorrista, para evitar que a situação se agrave, precisa sinalizar o local do acidente, visando evitar novas eventualidades como atropelamentos. Para isso, uma das medidas que ele pode adotar é:

- a) Desligar a chave de ignição e/ou os cabos da bateria dos veículos acidentados.
- b) Acionar o pisca-alerta de veículos próximos ao local.
- c) Acionar o socorro especializado.
- d) Verificar se a vítima está se comunicando claramente.

28) O motor do veículo é a fonte de energia de locomoção do automóvel. Ele é responsável por converter a energia calorífica produzida pela combustão da gasolina em qual tipo de energia?

- a) Mecânica.
- b) Solar.
- c) Nuclear.
- d) Atômica.

29) A Segurança do Trabalho pode ser entendida como o conjunto de medidas adotadas visando minimizar os acidentes de trabalho e as doenças ocupacionais, bem como proteger a integridade e a capacidade de trabalho das pessoas envolvidas. Quais são as condições que, presentes no ambiente de trabalho, comprometem a integridade física e/ou a saúde do trabalhador, além da segurança das instalações e dos equipamentos?

- a) Condições de segurança.
- b) Condições relativas.
- c) Condições gerais.
- d) Condições inseguras.

30) São considerados materiais recicláveis todos aqueles que, após sofrerem uma transformação, física ou química, podem ser recuperados, seja na forma original, seja como matéria-prima, sendo passíveis de retorno ao ciclo produtivo. A respeito do descarte dos materiais recicláveis, marcar C para as afirmativas Certas, E para as Erradas e, após, assinalar a alternativa que apresenta a sequência CORRETA:

- () Embalagens plásticas derivadas de reagentes químicos não devem ser recicladas.
- () Papéis de escritório são produtos recicláveis, mesmo que triturados.
- () Devemos separar corretamente os resíduos recicláveis dos orgânicos antes de fazer o descarte.

- a) C - C - C.
- b) E - E - C.
- c) C - E - E.
- d) E - C - C.