



## PREFEITURA DE GUARULHOS

ESTADO DE SÃO PAULO

CONCURSO PÚBLICO

### 001. PROVA OBJETIVA

#### Guarda Civil Municipal – Grau "A" – Categoria 1 – 3ª Classe do Nível I (Feminino e Masculino)

- ◆ Você recebeu sua folha de respostas e este caderno contendo 40 questões objetivas.
- ◆ Confira seus dados impressos na capa deste caderno e na folha de respostas.
- ◆ Quando for permitido abrir o caderno, verifique se está completo ou se apresenta imperfeições. Caso haja algum problema, informe ao fiscal da sala para a devida substituição desse caderno.
- ◆ Leia cuidadosamente todas as questões e escolha a resposta que você considera correta.
- ◆ Marque, na folha de respostas, com caneta de tinta azul ou preta, a letra correspondente à alternativa que você escolheu.
- ◆ A duração da prova é de 3 horas, já incluído o tempo para o preenchimento da folha de respostas.
- ◆ Só será permitida a saída definitiva da sala e do prédio após transcorridos 75% do tempo de duração da prova.
- ◆ Deverão permanecer em cada uma das salas de prova os 3 últimos candidatos, até que o último deles entregue sua prova, assinando termo respectivo.
- ◆ Ao sair, você entregará ao fiscal a folha de respostas e este caderno.
- ◆ Até que você saia do prédio, todas as proibições e orientações continuam válidas.

**AGUARDE A ORDEM DO FISCAL PARA ABRIR ESTE CADERNO.**

Nome do candidato \_\_\_\_\_

RG \_\_\_\_\_

Inscrição \_\_\_\_\_

Prédio \_\_\_\_\_

Sala \_\_\_\_\_

Carteira \_\_\_\_\_

## CONHECIMENTOS GERAIS

### LÍNGUA PORTUGUESA

Leia o texto, para responder às questões de números **01** a **10**.

#### *A era da dispersão*

Leio que nós, brasileiros, gastamos três horas e 42 minutos todos os dias nas redes sociais. Pouco mais de dez horas na internet, sendo metade disso em um telefone celular.

Há quem diga que não vê nenhum problema nisso. A sobrecarga de informação é um fato do nosso tempo e é natural que percamos um pouco do dia separando o joio do trigo. Há quem vá mais longe e diga que a dispersão no mundo digital pode ser mesmo um modo de vida.

Sou dos que desconfiam que há um problema bastante grave aí, que em geral costumamos empurrar para debaixo do tapete.

Talvez eu ache isso porque sou professor. Percebo o efeito destruidor sobre a atenção dos alunos pela simples presença de um celular em sala de aula. Uma pesquisa mostra que levamos até 23 minutos para retomar a atenção quando somos interrompidos. Se fossem dez ou quinze minutos, isso não faria lá grande diferença. Esse não é o ponto central.

O ponto é que andamos em meio a uma guerra. Quem faz o alerta é um ex-estrategista do Google, James Williams, que trabalhava na empresa exatamente na área de “programação persuasiva”. Era pago para criar estratégias de “captura” da atenção das pessoas. Em um dado momento, percebeu que ele mesmo havia perdido o controle. A partir daí, deu um tempo. Foi estudar em Oxford e tentar decifrar o problema.

Ele diz que vivemos uma epidemia. Que há uma indústria inteira focada em capturar aquilo que cada um de nós tem de mais importante: nosso tempo e nossa atenção. Captura voluntária, feita com técnicas sofisticadas de inteligência artificial. O tempo de atenção de cada indivíduo passou a ser milimetricamente monitorado. Tornou-se, ele mesmo, o produto. Há um velho conceito de “liberdade como autodomínio” em jogo aí, e é precisamente isso, a retomada do controle sobre nossa própria atenção, que Williams enxerga como o “grande desafio da nossa época”.

A informação foi, no passado, um bem escasso. No filme “Relatos do Mundo”, Tom Hanks faz o papel de um veterano que ganha a vida lendo notícias de jornal em teatros e igrejas nas pequenas cidades do Velho Oeste. A atenção, à época, era abundante, diante da informação rarefeita. A coisa hoje se inverteu. A informação se tornou abundante e a atenção, um recurso escasso. Acessamos muito mais informação do que precisamos. Ela vem de maneira caótica, em boa parte mesquinha, feita de qualquer besteira capaz de capturar nossa atenção.

(Fernando Schüller. <https://veja.abril.com.br/coluna/fernando-schuler/a-era-da-dispersao/>. 22.01.22. Adaptado)

**01.** O autor do texto discute

- (A) o avanço tecnológico dos telefones celulares, fator determinante para a ampliação do acesso a informações jornalísticas.
- (B) a disposição cada vez menos velada de alguns governos em dificultar o acesso a informações políticas e econômicas sensíveis.
- (C) a preocupação das empresas de comunicação digital com a perda gradual do interesse de internautas pelas redes sociais.
- (D) o uso de tecnologias de comunicação como estratégia para aumentar o interesse de alunos pelos assuntos discutidos em aula.
- (E) o tempo excessivo gasto pelos usuários na internet acessando conteúdos estrategicamente criados para atrair a atenção.

**02.** Na frase que inicia o quinto parágrafo, “o ponto é que andamos em meio a uma guerra”, a referência a “uma guerra” tem o propósito de enfatizar, no contexto, a ideia de que

- (A) os empregados têm se voltado cada vez mais contra as empresas de comunicação digital.
- (B) os internautas têm questionado insistentemente a banalidade do conteúdo das redes sociais.
- (C) as empresas ligadas às redes sociais apresentam discordâncias sobre a forma de atrair usuários.
- (D) as empresas de comunicação digital travam uma disputa acirrada pela atenção dos internautas.
- (E) os internautas estão muito resistentes às técnicas usadas por empresas que querem atraí-los.

**03.** Há emprego de palavra ou expressão em sentido figurado na seguinte passagem do texto:

- (A) Leio que nós, brasileiros, gastamos três horas e 42 minutos todos os dias nas redes sociais. (1º parágrafo)
- (B) Pouco mais de dez horas na internet, sendo metade disso em um telefone celular. (1º parágrafo)
- (C) ... é natural que percamos um pouco do dia separando o joio do trigo. (2º parágrafo)
- (D) ... levamos até 23 minutos para retomar a atenção quando somos interrompidos. (4º parágrafo)
- (E) Acessamos muito mais informação do que precisamos. (último parágrafo)

04. Conforme aponta o autor, diante da determinação das empresas em manter nosso interesse voltado aos conteúdos veiculados na rede,

- (A) passa-se a contar com uma oportunidade sem precedentes de tirar proveito da internet em favor do ensino escolar.
- (B) melhorar a capacidade de interagir por meio das ferramentas digitais torna-se algo imprescindível aos internautas.
- (C) ganha-se com a melhora substancial da qualidade das informações diariamente veiculadas por meio das mídias digitais.
- (D) surge a ocasião de se superar a perspectiva preconceituosa que vincula a internet a conteúdos pouco relevantes.
- (E) conseguir recuperar o domínio da nossa própria atenção desponta como um dos principais desafios da atualidade.

05. No contexto do último parágrafo, expressam ideias que se opõem os termos destacados em:

- (A) A **atenção**, à época, era abundante, diante da **informação** rarefeita.
- (B) A informação se tornou **abundante** e a atenção, um recurso **escasso**.
- (C) **Acessamos** muito mais informação do que **precisamos**.
- (D) Ela vem de maneira **caótica**, em boa parte **mesquinha**...
- (E) ... feita de qualquer **besteira** capaz de capturar nossa **atenção**.

06. Assinale a alternativa em que o termo destacado é empregado para intensificar o sentido da palavra a que se refere.

- (A) ... a dispersão no mundo digital pode ser **mesmo** um modo de vida. (2º parágrafo)
- (B) Sou dos que desconfiam que há um problema **bastante** grave aí... (3º parágrafo)
- (C) **Talvez** eu ache isso porque sou professor. (4º parágrafo)
- (D) ... que trabalhava na empresa **exatamente** na área de "programação persuasiva". (5º parágrafo)
- (E) ... que Williams enxerga **como** o "grande desafio da nossa época". (6º parágrafo)

Para responder às questões de números 07 e 08, considere a passagem:

Há quem vá mais longe e diga que a dispersão no mundo digital pode ser mesmo um modo de vida.

Sou dos que desconfiam que há um problema bastante grave aí, que em geral costumamos empurrar para debaixo do tapete.

07. A ideia de oposição que se estabelece entre as duas passagens permanece preservada com a introdução, no segundo parágrafo, da seguinte expressão em destaque:

- (A) **Entretanto** sou dos que desconfiam que há um problema bastante grave aí...
- (B) **Conforme** sou dos que desconfiam que há um problema bastante grave aí...
- (C) **Porque** sou dos que desconfiam que há um problema bastante grave aí...
- (D) **Por isso** sou dos que desconfiam que há um problema bastante grave aí...
- (E) **De modo que** sou dos que desconfiam que há um problema bastante grave aí...

08. Assinale a alternativa em que a redação do 3º parágrafo permanece em conformidade com a norma-padrão de pontuação após o acréscimo de vírgulas ao texto original para isolar uma expressão.

- (A) Sou dos que, desconfiam, que há um problema bastante grave aí, que em geral costumamos empurrar para debaixo do tapete.
- (B) Sou dos que desconfiam, que há, um problema bastante grave aí, que em geral costumamos empurrar para debaixo do tapete.
- (C) Sou dos que desconfiam que há, um problema, bastante grave aí, que em geral costumamos empurrar para debaixo do tapete.
- (D) Sou dos que desconfiam que há um problema bastante grave aí, que, em geral, costumamos empurrar para debaixo do tapete.
- (E) Sou dos que desconfiam que há um problema bastante grave aí, que em geral, costumamos empurrar, para debaixo do tapete.

09. Assinale a alternativa em que a frase redigida a partir do texto está em conformidade com a norma-padrão de concordância verbal e nominal.

- (A) Já são em grande número os brasileiros que dispõem de telefones com acesso à internet.
- (B) É comum atribuir às informações disponibilizada na internet o caráter de futilidade.
- (C) As distrações com a internet resultam em prejuízos especialmente para o ensino escolar.
- (D) O uso excessivo da internet pode tornar dispersivos as pessoas de diferentes idades.
- (E) As informações publicadas em jornais e revistas disputa espaço com o conteúdo da internet.

10. Considere o trecho a seguir, redigido a partir das informações do texto.

São muito variadas as informações disponíveis na rede \_\_\_\_\_ os internautas gastam cada vez mais tempo, sendo-\_\_\_\_\_ necessário, para isso, apenas dispor de um telefone celular \_\_\_\_\_ mão. De olho nesse público, as empresas desenvolvem novas estratégias para aumentar o tempo de controle sobre os usuários, bombardeando-\_\_\_\_\_ com tal quantidade de conteúdo que eles sequer encontram tempo para \_\_\_\_\_.

Em conformidade com a norma-padrão, as lacunas presentes no trecho devem ser preenchidas, respectivamente, com:

- (A) com as quais ... lhes ... à ... os ... filtrá-la
- (B) pelas quais ... lhes ... a ... lhes ... filtrá-la
- (C) com as quais ... os ... à ... os ... filtrar-lhes
- (D) nas quais ... os ... à ... lhes ... filtrá-la
- (E) as quais ... lhes ... a ... os ... filtrar-lhes

11. Das 30 vagas disponíveis no estacionamento de uma repartição pública, 60% têm sido ocupadas diariamente pelos funcionários que vão ao trabalho dirigindo os seus próprios carros. Se metade desses funcionários deixar de ir de carro para o trabalho, o número de vagas ocupadas diariamente pelos funcionários que vão ao trabalho dirigindo os seus próprios carros será igual a

- (A) 12.
- (B) 11.
- (C) 10.
- (D) 9.
- (E) 8.

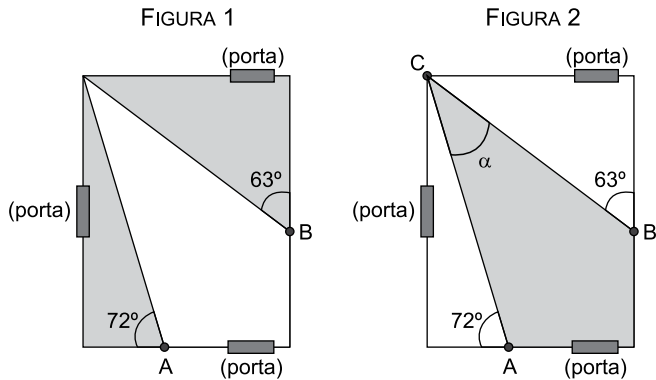
12. A tabela a seguir apresenta os valores aproximados de energia de alguns tipos de munição:

Munição	Energia (joules)
.22 LR	155
.380 AUTO	260
9MM LUGER	460
.40 S&W	650
.45 AUTO	730

Com base nessas informações, é correto afirmar que a munição

- (A) .380 AUTO possui exatamente 95 joules a mais que a munição .22 LR.
- (B) 9MM LUGER tem energia superior ao triplo da energia da munição .22 LR.
- (C) .40 S&W tem energia correspondente a exatamente 2,5 vezes a energia da munição .380 AUTO.
- (D) .45 AUTO tem energia correspondente a exatamente 4,5 vezes a energia da munição .22 LR.
- (E) .40 S&W possui exatamente 120 joules a menos que a munição .45 AUTO.

13. Para monitoramento de um salão de forma retangular, foram instaladas, inicialmente, as câmeras A e B, com ângulos de visão de  $72^\circ$  e  $63^\circ$ , respectivamente, posicionadas conforme representado, fora de escala, na figura 1, cobrindo as regiões sombreadas nessa figura. Contudo, para que a área do salão pudesse ser totalmente coberta pelo sistema de monitoramento, deverá ser instalada uma terceira câmera C, posicionada de acordo com a figura 2 (fora de escala), cobrindo a região sombreada nessa figura.



Baseado no fato de que a soma dos ângulos internos de qualquer triângulo é igual a  $180^\circ$ , o responsável pela instalação da câmera concluiu que a câmera C deverá ter ângulo de visão de medida  $\alpha$  igual a

- (A)  $55^\circ$ .  
 (B)  $52^\circ$ .  
 (C)  $50^\circ$ .  
 (D)  $48^\circ$ .  
 (E)  $45^\circ$ .
14. Um Guarda Civil Municipal dispõe de certa quantidade  $x$  de cartuchos, que devem ser guardados em caixas. Se forem colocados 20 cartuchos por caixa, serão necessárias 3 caixas a mais do que seriam necessárias se fossem colocados 30 cartuchos por caixa, não sobrando cartuchos fora das caixas em ambos os casos. Então, descobrindo  $x$ , é correto afirmar que, se os  $x$  cartuchos fossem colocados em caixas com 45 cartuchos em cada, seriam necessárias

- (A) 3 caixas.  
 (B) 4 caixas.  
 (C) 5 caixas.  
 (D) 6 caixas.  
 (E) 7 caixas.

15. A tabela a seguir apresenta os números de roubos, por mês, registrados junto à Polícia em certa cidade, durante o primeiro semestre de 2021:

Mês	Número de roubos registrados
Janeiro	275
Fevereiro	305
Março	288
Abril	222
Mai	280
Junho	310

Calculando a média aritmética simples dos números de roubos registrados por mês a partir dos valores apresentados na tabela, para o período de janeiro a junho de 2021, obteremos o valor médio de

- (A) 280 roubos registrados por mês.
- (B) 285 roubos registrados por mês.
- (C) 290 roubos registrados por mês.
- (D) 295 roubos registrados por mês.
- (E) 298 roubos registrados por mês.

## R A S C U N H O

## ATUALIDADES

16. O Congresso Nacional aprovou, em 21.12.2021, o Orçamento da União para 2022. O Projeto de Lei do Congresso Nacional (PLN 19/2021) seguiu para a sanção presidencial com as modificações aprovadas por deputados federais e senadores. O presidente, conforme publicação no Diário Oficial da União em 31.12.2021, alterou um dos itens orçamentários por meio da Medida Provisória (MP) 1091/2021.

(Senado. Disponível em <https://bitlybr.com/ibDDL9kw>. Acesso em 13.01.2022. Adaptado)

Considerando a citada MP, é correto afirmar que o

- (A) Auxílio Brasil vai atender 14,7 milhões de brasileiros.
- (B) Vale gás bancará um botijão de gás por mês para 5,5 milhões de famílias.
- (C) Fundo Eleitoral e Partidário aprovado chega a R\$ 5,7 bilhões.
- (D) salário-mínimo aprovado, para vigorar a partir de 1º de janeiro de 2022, é de R\$ 1.212,00.
- (E) reajuste para o funcionalismo público federal foi fixado em 5% para todos os servidores.

17. Em meados de dezembro de 2021, cerca de 220 mil pessoas de 51 cidades foram surpreendidas pelas fortes chuvas que causaram ferimento em mais de 260 pessoas, desabrigaram mais 6.300 e desalojaram aproximadamente 15 mil habitantes da região. Mais de 10 pessoas faleceram.

(EBC. Disponível em <https://bitly.com/DHBUSLY>. Acesso em 22.12.2021. Adaptado)

As cidades atingidas pertencem ao estado

- (A) do Maranhão.
- (B) da Bahia.
- (C) de Pernambuco.
- (D) de Sergipe.
- (E) do Ceará.

18. O deputado e ex-líder estudantil Gabriel Boric, de esquerda, ganhou o segundo turno das eleições presidenciais do Chile, neste domingo (19.12.21). Seu oponente, o advogado José Antônio Kast, de extrema direita, reconheceu a vitória de seu adversário.

(CNN-Brasil. Disponível em <https://bitly.com/HvNxu06>. Acesso em 22.12.2021. Adaptado)

O novo presidente chileno promete

- (A) reviver o legado do ex-presidente Augusto Pinochet.
- (B) reduzir impostos de empresas privadas que explorem o cobre.
- (C) implementar leis contra o aborto e o casamento de pessoas do mesmo sexo.
- (D) condenar os chilenos denunciados por corrupção no caso Odebrecht.
- (E) impedir o avanço do autoritarismo e do conservadorismo no país.

19. A China autorizou a retomada das importações de carne bovina brasileira, a partir desta quarta-feira (15.12.2021). A suspensão da compra de carne do Brasil teve início em 4 de setembro.

(EBC. Disponível em: <https://bitly.com/fzmpLPd>. Acesso em 20.12.2021. Adaptado)

A China deixou de importar carne brasileira porque

- (A) houve desentendimento político entre o presidente brasileiro e o primeiro-ministro chinês.
- (B) os produtores brasileiros pretendiam aumentar o valor da arroba da carne em 25%.
- (C) foram identificados dois casos de bovinos com Encefalopatia Espongiforme Bovina (EEB).
- (D) foi descoberto um surto de febre aftosa em animais abatidos em frigoríficos de Minas Gerais.
- (E) é signatária de um protocolo mundial que condena o desmatamento para dar lugar a pastagens.




20. A Coreia do Norte, em meados de dezembro de 2021, proibiu a população de demonstrar sinais de felicidade por 11 dias. As restrições incluem a proibição explícita de dar risadas ou consumir bebidas alcoólicas durante o período.

(g1. Disponível em <https://bitly.com/ceoNhWE>. Acesso em 21.12.2021. Adaptado)

A medida decretada por Kim Jong-un faz parte

- (A) das homenagens pelos 10 anos da morte de Kim Jong-il, pai do atual mandatário norte-coreano.
- (B) da tentativa do governo de reduzir a circulação do corona vírus pelo ar, nos locais de trabalho e no seio familiar.
- (C) das comemorações religiosas em homenagem a Suryong (Dirigente Supremo) título reservado ao seu avô, Kim Il-sung.
- (D) do combate ao surto de h3n2, que já atingiu 60% da população, com reflexos na produção industrial.
- (E) das homenagens ao nascimento do primogênito do Presidente Supremo da Nação.


21. Considere os arquivos a seguir, apresentados no Explorador de Arquivos de uma pasta do Microsoft Windows 10, em sua configuração original, na qual a indicação de ordenação foi propositalmente removida da imagem.

Nome	Data de modificação	Tipo	Tamanho
 Modelo.docx	21/09/2021 15:18	Documento do Microsoft Word	17 KB
 Listagem.xlsx	08/12/2021 12:47	Planilha do Microsoft Excel	27 KB
 Ocorrências.xlsx	13/01/2022 23:03	Planilha do Microsoft Excel	223 KB

Da forma como os arquivos estão sendo exibidos, eles estão ordenados

- (A) pelo nome, ordenação crescente.
- (B) pela data, ordenação decrescente.
- (C) pelo tamanho, ordenação decrescente.
- (D) pelo tamanho, ordenação crescente.
- (E) pelo nome, ordenação decrescente.

22. Tem-se o seguinte documento criado no Microsoft Word 2016, em sua configuração padrão, com 3 linhas, todas com alinhamento à direita e com as marcas de parágrafo ativadas.



Assinale a alternativa que indica a(s) linha(s) em que, ao digitar uma letra após a palavra Universidade, o texto continua na mesma linha, sem quebra de linha.

- (A) 1, apenas.
- (B) 2, apenas.
- (C) 3, apenas.
- (D) 2 e 3, apenas.
- (E) 1 e 2, apenas.

23. No Microsoft Excel 2016, em sua configuração original, um usuário criou uma planilha e inseriu na célula A5 a fórmula =CONT.SE(A1:C3;"<5"), obtendo o resultado 4. Assinale a alternativa com a imagem da planilha que produz esse resultado.

(A)

	A	B	C
1	3	2	6
2	7	8	2
3	9	9	3

(B)

	A	B	C
1	3	2	6
2	7	8	2
3	A	-1	3

(C)

	A	B	C
1	A	B	C
2	D	E	F
3	G	H	I

(D)

	A	B	C
1	5	4	5
2	4	5	4
3	5	4	4

(E)

	A	B	C
1	4	0	4
2	0	4	0
3	4	0	0

24. Em uma apresentação criada no Microsoft PowerPoint 2016, em sua configuração padrão, um usuário pressionou a tecla F5 e iniciou o Modo de Apresentação, exibindo assim o slide 1. O usuário pressionou a tecla ENTER 4 vezes e somente na quinta vez em que pressionou essa tecla, o slide 2 foi exibido. Isso significa que

- (A) existem 4 transições de slides configuradas no slide 1.
- (B) existe 1 transição de slide configurada no slide 1 e também 3 transições de slides configuradas no slide 2.
- (C) o slide 2 tem 4 transições de slides configuradas.
- (D) existem 4 animações no slide 2, configuradas com clique no mouse.
- (E) existem 4 animações no slide 1, configuradas com clique no mouse.

25. Um usuário está navegando na Internet usando o navegador Google Chrome, versão 96, e está com 4 abas abertas, sendo que a aba 3 é a ativa. Ao pressionar \_\_\_\_\_+F4, apenas a aba 3 é fechada. Considerando que os sites não têm nenhum formulário e que a operação é executada com sucesso, assinale a alternativa que preenche corretamente a lacuna do texto.

- (A) ALT
- (B) SHIFT
- (C) CTRL
- (D) TAB
- (E) F1

### CONHECIMENTOS ESPECÍFICOS

26. Nos termos da Constituição Federal, todos são iguais perante a lei, sem distinção de qualquer natureza, garantindo-se aos brasileiros e aos estrangeiros residentes no País a inviolabilidade do direito à vida, à liberdade, à igualdade, à segurança e à propriedade, entre outros, nos termos seguintes:

- (A) A prisão de qualquer pessoa e o local onde se encontra serão comunicados imediatamente ao juiz competente e à família do preso ou à pessoa por ele indicada.
- (B) Todos podem reunir-se pacificamente, sem armas, em locais abertos ao público, desde que não frustrem outra reunião anteriormente convocada para o mesmo local, sendo apenas exigida autorização da autoridade competente.
- (C) A prática do racismo constitui crime inafiançável e imprescritível, sujeito à pena de detenção, nos termos da lei.
- (D) Ninguém será preso senão em flagrante delito ou por ordem escrita e fundamentada de autoridade de polícia judiciária competente, salvo nos casos de transgressão militar ou crime propriamente militar, definidos em lei.
- (E) A casa é asilo inviolável do indivíduo, ninguém nela podendo penetrar sem consentimento do morador, salvo, exclusivamente, na hipótese de prestar socorro.



- 27.** Nos termos da Constituição Federal, no que concerne às polícias penais, é correto afirmar que
- (A) são, atualmente, responsáveis pela apuração das infrações penais ocorridas no interior dos estabelecimentos penais.
  - (B) são vinculadas ao Ministério da Justiça.
  - (C) são, atualmente, responsáveis pelo policiamento ostensivo nas áreas externas dos estabelecimentos penais.
  - (D) a sua criação ocorreu com a promulgação da Constituição Federal em 1988.
  - (E) cabe a elas a segurança dos estabelecimentos penais.
- 28.** Nos termos do Código Penal, é correto afirmar que a conduta de induzir ou instigar alguém a se automutilar é
- (A) um fato atípico em razão de ausência de previsão legal.
  - (B) uma causa de aumento de pena no crime de lesão corporal.
  - (C) um crime no Código Penal, com pena de reclusão.
  - (D) uma qualificadora do crime de homicídio.
  - (E) uma causa de aumento de pena do crime de instigação ao suicídio.
- 29.** Nos termos do Código Penal, é correto afirmar que a conduta de “perseguir alguém, reiteradamente e por qualquer meio, ameaçando-lhe a integridade física ou psicológica, restringindo-lhe a capacidade de locomoção ou, de qualquer forma, invadindo ou perturbando sua esfera de liberdade ou privacidade” é
- (A) um fato atípico em razão de ausência de previsão legal.
  - (B) um crime apenado com reclusão que somente se procede mediante representação.
  - (C) uma causa de aumento de pena no crime de constrangimento ilegal.
  - (D) uma forma de violência psicológica apenada com detenção.
  - (E) uma qualificadora no crime de ameaça.
- 30.** Nos termos do Código de Processo Penal, apresentado o preso à autoridade competente, ouvirá esta o condutor e colherá, desde logo, sua assinatura, entregando a este cópia do termo e recibo de entrega do preso. É correto afirmar que a falta de testemunhas da infração
- (A) não impedirá o auto de prisão em flagrante, mas, nesse caso, com o condutor, deverão assiná-lo pelo menos duas pessoas que hajam testemunhado a apresentação do preso ao juiz competente.
  - (B) impedirá a elaboração do auto de prisão em flagrante, devendo a autoridade de polícia judiciária competente providenciar a elaboração de relatório consignando a situação, o qual será assinado pelo condutor e por pelo menos duas pessoas que hajam testemunhado a apresentação do preso à autoridade.
  - (C) impedirá a elaboração do auto de prisão em flagrante, devendo a autoridade de polícia judiciária competente providenciar a elaboração de relatório consignando a situação, o qual será assinado pelo condutor e por pelo menos quatro pessoas que hajam testemunhado a apresentação do preso à autoridade.
  - (D) não impedirá o auto de prisão em flagrante, mas, nesse caso, com o condutor, deverão assiná-lo pelo menos duas pessoas que hajam testemunhado a apresentação do preso à autoridade.
  - (E) não impedirá o auto de prisão em flagrante, mas, nesse caso, com o condutor, deverão assiná-lo pelo menos quatro pessoas que hajam testemunhado a apresentação do preso à autoridade.
- 31.** Nos termos do Código de Processo Penal, é correto afirmar
- (A) que, após receber o auto de prisão em flagrante, no prazo máximo de até 48 (quarenta e oito) horas após a realização da prisão, o juiz deverá promover audiência de custódia com a presença do acusado.
  - (B) que, na audiência de custódia, o juiz poderá, fundamentadamente, manter a prisão em flagrante ou, entendendo a necessidade de convertê-la em prisão preventiva, deverá remeter sua decisão ao Tribunal de Justiça.
  - (C) que, após receber o auto de prisão em flagrante, no prazo máximo de até 24 (vinte e quatro) horas após a realização da prisão, o delegado de polícia deverá promover audiência de custódia com a presença do acusado.
  - (D) que, na audiência de custódia, o juiz deverá, fundamentadamente, relaxar a prisão ilegal ou conceder liberdade provisória, com ou sem fiança.
  - (E) que, transcorridas 12 (doze) horas após a prisão em flagrante, a não realização de audiência de custódia sem motivação idônea ensejará também a ilegalidade da prisão.

- 32.** Nos termos da Lei nº 8.069, de 13 de julho de 1990 (Estatuto da Criança e do Adolescente), assinale a alternativa que contempla um crime que possui modalidade culposa.
- (A) Privar a criança ou o adolescente de sua liberdade, procedendo à sua apreensão sem estar em flagrante de ato infracional ou inexistindo ordem escrita da autoridade judiciária competente.
  - (B) Deixar a autoridade policial responsável pela apreensão de criança ou adolescente de fazer imediata comunicação à autoridade judiciária competente e à família do apreendido ou à pessoa por ele indicada.
  - (C) Submeter criança ou adolescente sob sua autoridade, guarda ou vigilância a vexame ou a constrangimento.
  - (D) Deixar a autoridade competente, sem justa causa, de ordenar a imediata liberação de criança ou adolescente, tão logo tenha conhecimento da ilegalidade da apreensão.
  - (E) Deixar o médico, enfermeiro ou dirigente de estabelecimento de atenção à saúde de gestante de identificar corretamente o neonato e a parturiente, por ocasião do parto.
- 33.** Com relação aos crimes previstos na Lei nº 10.741, de 1º de outubro de 2003 (Estatuto do Idoso), é correto afirmar que
- (A) os crimes são todos de ação penal pública condicionada.
  - (B) não constitui crime a negativa de crédito motivada por superendividamento do idoso.
  - (C) alguns crimes são culposos.
  - (D) existem alguns crimes de ação penal privada.
  - (E) os crimes são todos apenados com reclusão.
- 34.** Assinale a alternativa que contempla um crime inafiançável previsto na Lei nº 10.826, de 22 de dezembro de 2003 (Estatuto do Desarmamento).
- (A) Disparo de arma de fogo.
  - (B) Posse irregular de arma de fogo de uso permitido.
  - (C) Omissão de cautela.
  - (D) Posse ou porte ilegal de arma de fogo de uso restrito.
  - (E) Comércio ilegal de arma de fogo.
- 35.** Nos termos da Lei nº 11.340, de 07 de agosto de 2006 (Lei “Maria da Penha”), a conduta que configure calúnia, difamação ou injúria é compreendida como uma forma de violência
- (A) patrimonial.
  - (B) psicológica.
  - (C) moral.
  - (D) física.
  - (E) sexual.
- 36.** Nos termos da Lei nº 13.869, de 5 de setembro de 2019 (Lei de abuso de autoridade), é correto afirmar que
- (A) a legislação contempla crimes de ação penal pública condicionada e incondicionada.
  - (B) a perda do cargo não poderá ser aplicada como um efeito da condenação.
  - (C) a divergência na interpretação de lei ou na avaliação de fatos e provas não configura abuso de autoridade.
  - (D) submeter o preso capturado em flagrante delito a interrogatório policial durante o período de repouso noturno é considerado crime.
  - (E) a prestação de serviços à comunidade não é considerada uma pena substitutiva das privativas de liberdade.
- 37.** Nos termos da Lei nº 13.022, de 08 de agosto de 2014 (Estatuto Geral das Guardas Municipais), é correto afirmar que
- (A) incumbe à guarda municipal o policiamento ostensivo e preventivo uniformizado.
  - (B) a estrutura hierárquica da guarda municipal poderá utilizar denominação idêntica à das forças militares.
  - (C) o policiamento ostensivo é um dos princípios mínimos de atuação da guarda municipal.
  - (D) as guardas municipais poderão ficar sujeitas a regulamentos disciplinares de natureza militar.
  - (E) é competência geral das guardas municipais a proteção de bens, serviços, logradouros públicos municipais e instalações do Município.
- 38.** Nos termos da Lei nº 13.022, de 08 de agosto de 2014 (Estatuto Geral das Guardas Municipais), é correto afirmar que, entre outros, é um requisito básico para investidura em cargo público na guarda municipal
- (A) idade mínima de 18 (dezoito) anos.
  - (B) não possuir tatuagens em qualquer região do corpo.
  - (C) ter, no mínimo, descalço e descoberto, 1,60 m de altura, se do sexo masculino.
  - (D) ser portador da CNH – categoria “B” ou superior expedida pelo DENATRAN e dentro do prazo de validade.
  - (E) ter, no mínimo, descalço e descoberto, 1,55 m de altura, se do sexo feminino.

39. Nos termos da Lei Municipal nº 7792, de 20 de dezembro de 2019, é correto afirmar que
- (A) o 2º inspetor é considerado categoria 8 do nível 2.
  - (B) o Inspetor Chefe é considerado categoria 8 do nível 1.
  - (C) o Classe Distinta é considerado categoria 3 do nível 4.
  - (D) o Classe Especial é considerado categoria 4 do nível 1.
  - (E) o 1º inspetor é considerado categoria 5 do nível 2.
40. Nos termos da Lei Municipal nº 7792, de 20 de dezembro de 2019, é correto afirmar que o
- (A) Corregedor da Guarda Civil Municipal e o Corregedor Adjunto da Guarda Civil Municipal serão indicados pelo Chefe do Executivo, dentre servidores ocupantes de cargos e titulares de empregos públicos da carreira, a partir da Categoria 8, do Nível II.
  - (B) Corregedor da Guarda Civil Municipal e o Corregedor Adjunto da Guarda Civil Municipal serão indicados pelo Chefe do Executivo, dentre servidores ocupantes de cargos e titulares de empregos públicos da carreira, a partir da Categoria 7, do Nível III, para o cargo de Corregedor da Guarda Civil Municipal e, a partir da Categoria 6, do Nível II para o cargo de Corregedor Adjunto da Guarda Civil Municipal, desde que sejam graduados por instituição de ensino reconhecida pelo Ministério da Educação (MEC), em qualquer área de formação e não possuam sanções administrativas e disciplinares nos últimos dois anos da data da nomeação.
  - (C) Inspetor Geral da Guarda Civil Municipal será indicado pelo Chefe do Executivo, dentre os servidores ocupantes de cargos e titulares de empregos públicos da carreira, a partir da Categoria 6, do Nível I.
  - (D) Comandante Geral da Guarda Civil Municipal e o Subcomandante da Guarda Civil Municipal serão indicados pelo Chefe do Executivo, dentre servidores ocupantes de cargos e titulares de empregos públicos da carreira, das Categorias 6 e 7, do Nível III, para o cargo de Comandante Geral da Guarda Civil Municipal e a partir da Categoria 5, do Nível II, para o cargo de Subcomandante da Guarda Civil Municipal, desde que sejam graduados por instituição de ensino reconhecida pelo Ministério da Educação (MEC), em qualquer área de formação.
  - (E) Inspetor Geral da Guarda Civil Municipal será indicado pelo Chefe do Executivo, dentre os servidores ocupantes de cargos e titulares de empregos públicos da carreira, a partir da Categoria 4, do Nível I.

