

AVANÇASP



PREFEITURA MUNICIPAL DE RIO
CLARO/SP

**CONCURSO PÚBLICO
01/2023**

MÉDICO AMBULATORIAL

Leia atentamente as instruções abaixo

1. PROVA E FOLHA DE RESPOSTAS

Além deste Caderno de Prova, contendo 50 (cinquenta) questões objetivas, você receberá do Fiscal de Sala:

- 01 (uma) Folha de Respostas destinada às respostas das questões objetivas. Confira se seus dados estão corretos.

2. TEMPO

- 03 (três) horas é o tempo disponível para realização da prova, já incluído o tempo para marcação da Folha de Respostas da prova objetiva;

- **01 (uma) hora** após o início da prova é possível, retirar-se da sala levando o caderno de prova;

3. INFORMAÇÕES GERAIS

- As questões objetivas têm 05 (cinco) alternativas de resposta (A, B, C, D, E) e somente **uma** delas está correta;
- Verifique se seu caderno está completo, sem repetição de questões ou falhas. Caso contrário, informe imediatamente o Fiscal da Sala, para que sejam tomadas as devidas providências;
- Confira seus dados pessoais na Folha de Respostas, especialmente nome, número de inscrição e documento de identidade e leia atentamente as instruções para preenchimento;
- O preenchimento das respostas da prova objetiva é de sua responsabilidade e não será permitida a troca de Folha de Respostas em caso de erro de marcação pelo candidato;

- Marque, na folha de respostas, com caneta de tinta azul ou preta, a letra correspondente à alternativa que você escolheu.

- Reserve tempo suficiente para o preenchimento de suas respostas. Para fins de avaliação, serão levadas em consideração apenas as marcações realizadas na Folha de Respostas da prova objetiva, não sendo permitido anotar informações relativas às respostas em qualquer outro meio que não seja o caderno de prova;

- Ao se retirar, entregue a Folha de Respostas preenchida e assinada ao Fiscal de Sala.

SERÁ ELIMINADO do presente certame o candidato que:

- a) for surpreendido, durante as provas, em qualquer tipo de comunicação com outro candidato;
- b) portar ou usar, qualquer tipo de aparelho eletrônico (calculadoras, bips/pagers, câmeras fotográficas, filmadoras, telefones celulares, smartphones, tablets, relógios, walkmans, MP3 players, fones de ouvido, agendas eletrônicas, notebooks, palmtops ou qualquer outro tipo de computador portátil, receptores ou gravadores) seja na sala de prova, sanitários, pátios ou qualquer outra dependência do local de prova;
- c) se ausentar da sala em que se realizam as provas levando consigo o Caderno de Questões e/ou a Folha de Respostas;
- d) se recusar a entregar a Folha de Respostas, quando terminar o tempo estabelecido;
- e) não assinar a Lista de Presença e/ou a Folha de Respostas.

LÍNGUA PORTUGUESA
TEXTO

Cachorro também sonha? Saiba o que diz veterinária e como agir diante de possíveis pesadelos

Patinhas agitadas, orelhas inquietas e movimentos com o focinho. Esses são alguns dos sinais que podem indicar que seu pet está passando por uma experiência muito comum entre os humanos: sonhos e até pesadelos durante o sono. Segundo a médica veterinária Amanda Pellizzer, não há comprovação científica sobre cães e gatos vivenciarem sonhos, mas as similaridades do padrão de sono animal com o dos humanos indica que sim, é possível que pets também deixem a imaginação "voar" enquanto descansam. E por que o sono de animais e humanos é parecido? De acordo com Pellizzer, tanto os mamíferos quanto os humanos apresentam as fases REM (mais profunda) e não REM (mais superficial) de sono. Na primeira, acontecem os movimentos dos olhos, músculos e patinhas, e os cães podem até latir ou uivar. Com o que os pets sonham? Possivelmente, com as experiências e aprendizados que tiveram durante o dia. Já os pesadelos podem ser baseados em traumas e medos que os animais apresentam.

Se o cão tiver pesadelo, devo acordar? Não. A médica veterinária explica que, ao ser acordado abruptamente, o animal pode ficar nervoso e confuso, então o ideal é esperar o pesadelo passar. "Se começar a ficar muito tenso, você verá que o animal está angustiado durante esse suposto sonho ou pesadelo, o ideal seria chamar ele, não tocar, não acordar pegando nele. A gente não sabe a reação que ele vai ter, inclusive ele pode morder", afirma Pellizzer.

Quanto tempo os pets dormem? Para os cães, o tempo de sono é de 12 a 14 horas por dia, enquanto os gatos dormem cerca de 12 a 16 horas. "O sono deles é mais fracionado, porque o ciclo do sono, as fases do sono, são menores", explica a médica veterinária. "Os cães têm hábitos diurnos, e os gatos têm hábitos noturnos, mas isso não significa que o gatinho não possa tirar um cochilo mais à noite e os cães não possam tirar um cochilo durante o dia". Quando devo me preocupar com o sono do meu

pet? Tanto dormir menos quanto dormir demais podem ser sinais de problemas hormonais ou neurológicos, diz Pellizzer. Além disso, mudanças de rotina ou de local podem interferir no sono dos animais. "Tende a melhorar com o passar do tempo porque ele vai se acostumar com essa nova rotina, esse novo ambiente, esse novo pet ou filho que foi inserido na família", explica. Já a apneia, quando a respiração do pet para durante o sono, é um cenário mais grave e deve ser acompanhado de perto pelos tutores. A doença é comum em cães e gatos de focinho curto e, caso aconteça com muita frequência, a recomendação é que um médico veterinário seja consultado.

Portal G1

QUESTÃO 01

Segundo o texto, em relação às diferentes fases do sono:

- (A) apenas os cães apresentam as fases profunda e superficial do sono.
- (B) apenas os humanos apresentam as fases profunda e superficial do sono.
- (C) mamíferos, em geral, apresentam as fases profunda e superficial do sono.
- (D) cães e gatos não apresentam diferenças nas fases profunda e superficial do sono.
- (E) apenas os gatos apresentam as fases profunda e superficial do sono.

QUESTÃO 02

No excerto "caso aconteça com muita frequência, a recomendação é que um médico veterinário seja consultado", a oração subordinada no início do período exprime um significado:

- (A) comparativo.
- (B) concessivo.
- (C) condicional.
- (D) causal.
- (E) adversativo.

QUESTÃO 03

Considere o excerto “Patinhas agitadas, orelhas inquietas e movimentos com o focinho.” Em relação à classe gramatical, as palavras “inquietas”, “movimentos”, “com”, “o” e “focinho” são, respectivamente:

- (A) adjetivo, substantivo, preposição, artigo e substantivo.
- (B) adjetivo, substantivo, conjunção, artigo e adjetivo.
- (C) substantivo, substantivo, conjunção, artigo e substantivo.
- (D) substantivo, substantivo, preposição, pronome e adjetivo.
- (E) adjetivo, substantivo, preposição, pronome e adjetivo.

QUESTÃO 04

Considere o seguinte excerto: “Esses são alguns dos sinais que podem indicar que seu pet está passando por uma experiência muito comum entre os humanos.” Os pronomes “esses” e “seu”, no trecho apresentado, são, respectivamente:

- (A) pronome reflexivo e pronome pessoal.
- (B) pronome demonstrativo e pronome possessivo.
- (C) pronome demonstrativo e pronome pessoal.
- (D) pronome relativo e pronome possessivo.
- (E) pronome reflexivo e pronome possessivo.

QUESTÃO 05

Considere as sentenças:

I. “O sono deles é mais fracionado”

II. “Os cães têm hábitos diurnos”

Em relação à regência, os verbos “é” e “têm” são, respectivamente:

- (A) verbo de ligação e verbo transitivo direto.
- (B) verbo transitivo direto e verbo transitivo indireto.
- (C) verbo de ligação e verbo de ligação.
- (D) verbo transitivo direto e verbo transitivo direto.
- (E) verbo de ligação e verbo intransitivo.

QUESTÃO 06

Considere o excerto: “Quanto tempo os pets dormem?” Na sentença dada, a palavra “quanto” é um(a):

- (A) conjunção.
- (B) advérbio.
- (C) pronome interrogativo.
- (D) substantivo.
- (E) pronome relativo.

QUESTÃO 07

Considere o seguinte excerto: “é possível que pets também deixem a imaginação "voar" enquanto descansam.” Neste contexto, os verbos “deixem” e “descansam” estão conjugados, respectivamente, no(s) modo(s):

- (A) subjuntivo e indicativo.
- (B) indicativo e subjuntivo.
- (C) indicativo e indicativo.
- (D) subjuntivo e subjuntivo.
- (E) indicativo e imperativo.

QUESTÃO 08

Assinale a alternativa que apresenta palavras flexionadas apenas em número.

- (A) cartazes, senhores.
- (B) ajudantes; crentes.
- (C) moças; populares.
- (D) parlamentares; coordenadoras.
- (E) roteiristas; governadores.

QUESTÃO 09

Assinale a alternativa que apresenta a sentença incorreta ortograficamente.

- (A) Aquiesceu às exigências do árbitro.
- (B) Eram exímios enxadristas tchecos.
- (C) A governanta não passou incólume, expiou por suas faltas.
- (D) A página continha cláusulas exíguas e a rúbrica do inquilino.
- (E) Enrobusteciam-se para não mais estar sob o jugo dos senhores.

QUESTÃO 10

Assinale a alternativa que apresenta a palavra correta em relação ao emprego do hífen.

- (A) co-responsável.
- (B) inter-municipal.
- (C) inter-regional.
- (D) ultra-secreto.
- (E) super-abundância.

MATEMÁTICA E RACIOCÍNIO LÓGICO
QUESTÃO 11

Uma peça representa 30% do preço de venda de um determinado produto. Esta peça sofreu um aumento de preço na fábrica de 25%. O vendedor está disposto a diminuir seu lucro para manter o preço de venda constante. Neste caso, quantos por cento o preço da peça passará a representar do preço de venda?

- (A) 30%.
- (B) 24%.
- (C) 27,5%.
- (D) 37,5%.
- (E) 19.2%.

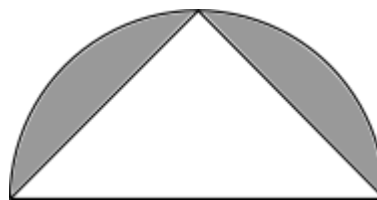
QUESTÃO 12

Numa turma de 40 alunos, sabe-se que a média das notas dos meninos foi 6,5 e a média das notas das meninas foi 7,5. Além disso, sabe-se que a média total foi 7,2. Qual a soma das notas de todos os meninos da turma?

- (A) 260.
- (B) 78.
- (C) 28.
- (D) 12.
- (E) 210.

QUESTÃO 13

A figura abaixo mostra um triângulo isósceles inscrito numa semicircunferência de diâmetro d



Indique a área da região sombreada:

- (A) $8d^2(\pi - 1)$.
- (B) $\frac{d^2}{16}(\pi - 2)$.
- (C) $\frac{d^2}{2}\left(\frac{\pi}{4} - 2\right)$.
- (D) $\frac{d^2}{4}(2\pi - 1)$.
- (E) $\frac{d^2}{8}(\pi - 2)$.

QUESTÃO 14

Uma equipe de pintura foi contratada para pintar um conjunto de 56 prédios. O gerente sabe que uma equipe com 13 pessoas leva 5 dias para terminar um único prédio do mesmo tipo. Quantos dias uma equipe com 26 pintores levará para terminar o serviço?

- (A) 140.
- (B) 124.
- (C) 112.
- (D) 156.
- (E) 146.

QUESTÃO 15

Cinco cadeiras são postas formando um círculo para sentarem as 5 amigas: Ana, Bianca, Carla, Daniele e Erica. Sabe-se que:

- I – Ana está do lado de Bianca;
II – Carla está ao lado de Daniele e não está ao lado de Ana;
III – Daniele não está ao lado de Bianca, nem de Ana;

Nessa situação, Erica senta ao lado de:

- (A) Ana e Daniele.
(B) Ana e Carla.
(C) Carla e Bianca.
(D) Bianca e Daniele.
(E) Carla e Daniele.

QUESTÃO 16

Observe a seguinte sequência numérica:

24, 30, 33, 39, 51, 57, ...

Qual o número mais próximo elemento desta sequência?

- (A) 60.
(B) 66.
(C) 69.
(D) 63.
(E) 72.

QUESTÃO 17

Um acionista decide investir 70% do seu capital num investimento de mais baixo risco, cuja taxa de juros é 8% ao ano, e o restante num investimento de mais alto risco, porém com uma taxa de 16% ao ano. Neste caso, qual a taxa global de juros ao ano sob o capital total do acionista?

- (A) 9,8%.
(B) 12,4%.
(C) 12,0%.
(D) 10,4%.
(E) 10,8%.

QUESTÃO 18

Cinco amigos, André, Bruno, Carlos, Diego e Enzo escreveram seus nomes num pedaço de papel e colocaram numa caixa escura. Depois, cada um aleatoriamente tirou um papel de dentro da caixa. Eles então afirmam:

Enzo: Eu tirei André;

Diego: André tirou Enzo;

Carlos: Eu tirei Bruno;

Bruno: André mente ou eu não tirei Diego;

André: Bruno mente ou Carlos não tirou Diego;

Sabendo que apenas um deles não fala a verdade, quem Diego tirou?

- (A) André.
(B) Bruno.
(C) Carlos.
(D) Diego.
(E) Enzo.

QUESTÃO 19

A tabela abaixo mostra a pontuação dos três melhores atletas do ano de 2023 em torneios de Xadrez:

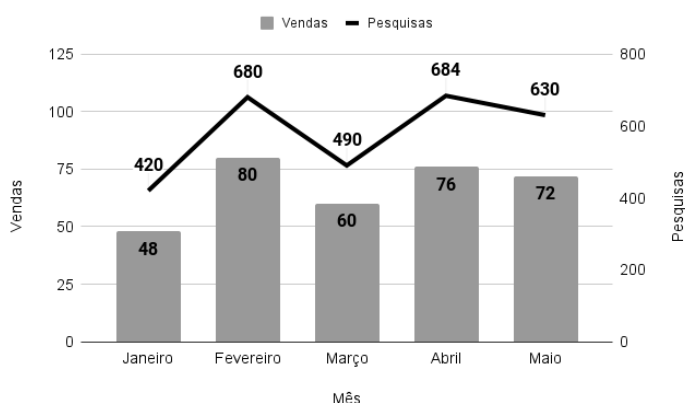
Torneio	Atleta		
	Santos	Souza	Silva
Municipal	10	10	9
Estadual	11	9	11
Regional	15	11	10
Nacional	9	10	11

Para o cálculo do ranking anual, as pontuações nas partidas têm pesos diferentes. Os campeonatos Municipal, Estadual, Regional e Nacional têm peso 2, 5, 8 e 15, respectivamente. Nestas circunstâncias, indique o 1º, 2º e 3º lugar no ranking de 2023, nesta ordem:

- (A) Silva, Souza, Santos.
- (B) Silva, Santos, Souza.
- (C) Souza, Santos, Silva.
- (D) Santos, Souza, Silva.
- (E) Santos, Silva, Souza.

QUESTÃO 20

Um site de vendas de bilhetes de cinema online criou uma métrica chamada de taxa de conversão, que é a percentagem do número de vendas de bilhetes de um dado filme, em relação ao número de pesquisas por aquele filme na sua plataforma. O gráfico abaixo mostra essas duas quantidades durante os meses de Janeiro à Maio:



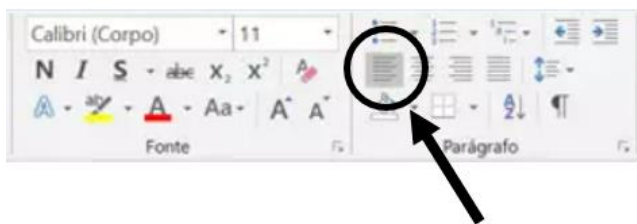
Analisando o gráfico, assinale a alternativa **incorreta**:

- (A) A taxa de conversão de Janeiro foi igual a de Maio.
- (B) Fevereiro teve a maior taxa de conversão.
- (C) A taxa de conversão de Fevereiro foi maior que a de Abril.
- (D) A taxa de conversão de Abril foi 11,11%.
- (E) Março teve a maior taxa de conversão.

NOÇÕES DE INFORMÁTICA

QUESTÃO 21

Analise a imagem a seguir:



Acerca do item destacado na imagem, é possível afirmar:

- (A) Permite que conteúdo selecionado fique à esquerda, de forma que a margem esquerda seja reta, enquanto a margem direita pode ser irregular, criando assim uma borda delimitada à esquerda.
- (B) Permite ajustar o espaçamento entre as linhas de um parágrafo, tornando o texto mais compacto ou espaçado.
- (C) Permite adicionar espaço extra antes ou depois de um parágrafo, alterando a aparência geral do documento.
- (D) Permite a alteração do tamanho da fonte utilizada no documento.
- (E) Permite dividir o texto em colunas, útil para criar layouts de jornais, revistas ou panfletos.

QUESTÃO 22

Acerca do MS - Word 2016, analise as alternativas abaixo e assinale a que apresenta corretamente o comando para alinhar o texto selecionado à direita.

- (A) CTRL + Y.
- (B) CTRL + C.
- (C) CTRL + Q.
- (D) CTRL + V.
- (E) CTRL + G.

QUESTÃO 23

Sobre a função “tachado” no MS - Word, assinale a alternativa correta:

- (A) Utilizada para converter o texto selecionado em letras maiúsculas e minúsculas, ou aplicar um estilo de capitalização específico.
- (B) Quando utilizada, tem uma aparência mais escura e mais espessa em comparação com o texto normal, o que o torna visualmente destacado.
- (C) Ao aplicar o tachado em um texto, ele fica marcado com uma linha no meio, dando uma impressão de que está riscado ou removido, embora ainda visível.
- (D) Pode ser usado para marcar partes específicas do texto onde deseja adicionar notas.
- (E) Permite escolher diferentes cores para realçar o texto.

QUESTÃO 24

Acerca do MS - Excel 2016, analise a fórmula a seguir e assinale a alternativa que dispõe corretamente acerca da sua função.

=PROC(valor_procurado;matriz)

- (A) Esta função é utilizada para somar os valores nas células.
- (B) Esta função é utilizada quando for necessário analisar uma única linha ou coluna e localizar um valor na mesma posição em uma segunda linha ou coluna.
- (C) Esta função é utilizada retornar o número de dias entre duas datas.
- (D) Esta função é utilizada para retornar um valor agregado do cubo.
- (E) Esta função é utilizada para retornar um valor se uma condição for verdadeira e outro valor se for falsa.

QUESTÃO 25

Analise o trecho a seguir e assinale a alternativa que o define corretamente:

“Trata-se de uma ferramenta amplamente utilizada em ambientes acadêmicos, profissionais e pessoais para criar documentos, escrever artigos, preparar relatórios, fazer trabalhos escolares, entre outras tarefas. Ele também é com outros aplicativos compatíveis da suíte Office, permitindo que os documentos sejam facilmente compartilhados e editados por outros usuários do software ou programas de processamento de texto compatíveis.”

- (A) PowerPoint.
- (B) Excel.
- (C) Tradutor.
- (D) Teams.
- (E) Word.

CONHECIMENTOS ESPECÍFICOS**QUESTÃO 26**

Constituição da República Federativa do Brasil. A ordem social tem como base o primado do trabalho, e como objetivo o bem-estar e:

- (A) a justiça sociais
- (B) Harmonia igualitária
- (C) Bem-viver justo
- (D) Equidade coletiva
- (E) Solidariedade inclusiva

QUESTÃO 27

Com base na Lei 8080/1990. Art. 4º. Quem constitui o Sistema Único de Saúde (SUS):

- (A) Apenas órgãos e instituições públicas federais.
- (B) Apenas órgãos e instituições públicas estaduais e municipais.
- (C) Órgãos e instituições públicas federais, estaduais e municipais, da Administração direta e indireta e das fundações mantidas pelo Poder Público
- (D) Órgãos e instituições privadas, desde que regulamentadas pelo Poder Público.
- (E) Apenas fundações mantidas pelo Poder Público.

QUESTÃO 28

Insuficiência renal é a condição na qual os rins perdem a capacidade de efetuar suas funções básicas. A insuficiência renal pode ser aguda (IRA), quando ocorre súbita e rápida perda da função renal, ou crônica (IRC), quando esta perda é lenta, progressiva e irreversível.

Os sintomas de insuficiência renal aguda podem incluir:

- I - Diminuição da produção de urina, embora, ocasionalmente, a urina permaneça normal;
 - II - Retenção de líquidos, causando inchaço nas pernas, tornozelos ou pés;
 - III - Náusea e vômitos
- Estão corretas as afirmativas:

- (A) I, II e III.
- (B) II apenas
- (C) II e III, apenas
- (D) I apenas
- (E) III apenas

QUESTÃO 29

A seguridade social compreende um conjunto integrado de ações de iniciativa dos Poderes Públicos e da sociedade, destinadas a assegurar os direitos relativos à saúde, à previdência e à assistência social. Compete ao Poder Público, nos termos da lei, organizar a seguridade social, com base nos seguintes objetivos. Exceto:

- (A) uniformidade e equivalência dos benefícios e serviços às populações urbanas e rurais.
- (B) seletividade e distributividade na prestação dos benefícios e serviços.
- (C) irredutibilidade do valor dos benefícios.
- (D) equidade na forma de participação no custeio.
- (E) descentralização, com direção única em cada esfera de governo.

QUESTÃO 30

Segundo a Lei 8142/1990, qual o significado da sigla (Conass):

- (A) Conselho Nacional de Assuntos da Saúde
- (B) Conselho Nacional de Secretários de Saúde
- (C) Comitê Nacional de Ações e Serviços de Saúde
- (D) Comitê Nacional de Administração do Sistema de Saúde
- (E) Conselho Nacional de Acompanhamento do Sistema Único de Saúde

QUESTÃO 31

Com base na Lei 8080/1990. A articulação das políticas e programas, a cargo das comissões intersetoriais, abrangerá, em especial, as seguintes atividades:

- I - alimentação e nutrição;
- II saneamento e meio ambiente;
- III - vigilância sanitária e farmacoepidemiologia;

Estão corretas as afirmativas:

- (A) I, II e III.
- (B) II apenas
- (C) II e III, apenas
- (D) I apenas
- (E) III apenas

QUESTÃO 32

De acordo com o Decreto Federal nº 7.508/2011, como é definida a Rede de Atenção à Saúde?

- (A) Conjunto de medidas para reduzir custos no sistema de saúde.
- (B) Conjunto de ações e serviços de saúde articulados em níveis de complexidade decrescente.
- (C) Conjunto de ações e serviços de saúde articulados em níveis de complexidade crescente, com a finalidade de garantir a integralidade da assistência à saúde.
- (D) Conjunto de ações exclusivas para determinados grupos de pacientes.
- (E) Conjunto de serviços de saúde que atuam de forma isolada e independente.

QUESTÃO 33

Animais peçonhentos são reconhecidos como aqueles que produzem ou modificam algum veneno e possuem algum aparato para injetá-lo na sua presa ou predador. Entre as alternativas abaixo, podemos considerar animais peçonhentos, EXCETO:

- (A) Serpentes venenosas.
- (B) Escorpiões.
- (C) Abelhas e vespas.
- (D) Aranhas.
- (E) Cachorro.

QUESTÃO 34

Assinale a alternativa que descreve corretamente o conceito de Insuficiência Cardíaca:

- (A) Uma condição em que o coração está funcionando perfeitamente e bombeando sangue eficientemente.
- (B) Uma síndrome clínica caracterizada pelo excesso de atividade física, levando o coração a uma fadiga temporária.
- (C) Um distúrbio em que o coração não consegue suprir as necessidades do corpo, comprometendo o funcionamento do organismo, e quando não tratada adequadamente, reduzindo a qualidade de vida e a sobrevida.
- (D) Uma condição transitória causada por estresse emocional que resulta em alterações temporárias na função cardíaca.
- (E) Uma resposta natural do coração a mudanças climáticas, onde ocorre uma diminuição temporária da força contrátil do músculo cardíaco.

QUESTÃO 35

De acordo com o Decreto Federal nº 7.508/2011. A Relação Nacional de Medicamentos Essenciais (RENAME) é responsável por:

- (A) Definir o preço dos medicamentos comercializados fora país.
- (B) Selecionar e padronizar medicamentos indicados para atendimento de doenças ou de agravos no âmbito do SUS.
- (C) Regular a venda de medicamentos em farmácias privadas.
- (D) Fornecer medicamentos gratuitos apenas para pacientes internados em hospitais públicos.
- (E) Estabelecer os horários de funcionamento das farmácias públicas.

QUESTÃO 36

Dos anti-hipertensivos disponíveis, são classificados como diuréticos poupadores de potássio os seguintes:

- (A) Clortalidona e Hidroclorotiazida.
- (B) Alisquireno e Indapamina.
- (C) Piretanida e Bumetanida.
- (D) Furosemida e Espironolactona.
- (E) Triantereno e Amilorida.

QUESTÃO 37

Leia:

“Atuam sobre a musculatura da parede vascular, promovendo relaxamento muscular com consequente vasodilatação e redução da resistência vascular periférica. São utilizados em associação com diuréticos e/ou betabloqueadores”

Os principais representantes do grupo de anti-hipertensivos descrito, acima, são:

- (A) Telmisartana e Valsartana.
- (B) Anlodipino e Nifedipino.
- (C) Metildopa e Clonidina.
- (D) Hidralazina e Minoxidil.
- (E) Enalapril e Captopril.

QUESTÃO 38

Dos hipoglicemiantes orais, as Tiazolidenidonas têm como principal mecanismo de ação:

- (A) Estimular a secreção de insulina estimulada por elevação aguda da glicose.
- (B) Diminuir produção hepática de glicose.
- (C) Facilitar a captação periférica de glicose.
- (D) Bloqueio enzimático da conversão de carboidratos no intestino.
- (E) Estimula a secreção de insulina em resposta à refeição.

QUESTÃO 39

São condições patológicas mais comuns nas anemias microcíticas/hipocrômicas, exceto:

- (A) deficiência crônica de ferro.
- (B) mielofibrose.
- (C) hemorragia crônica.
- (D) talassemias menor.
- (E) anemia sideroblástica.

QUESTÃO 40

Com base na Lista Nacional de Doenças de Notificação Compulsória, não é doença de notificação compulsória semanal a seguinte:

- (A) Leptospirose.
- (B) Doença de Creutzfeldt-Jakob (DCJ).
- (C) Doença de Chagas Crônica.
- (D) Tuberculose.
- (E) Hanseníase.

QUESTÃO 41

Das recomendações de preenchimento das Declarações de Óbito - DO, atente-se aos itens:

I - A Declaração de Óbito é impressa em papel especial carbonado, em quatro vias e, antes de ser preenchida, o conjunto deverá ser destacado do bloco.

II – Deve-se evitar deixar campos em branco, colocando o código correspondente a Ignorado, ou um traço (-), quando não se conhecer a informação solicitada ou não se aplicar ao item correspondente.

III - O médico é o responsável por todas as informações contidas na DO. Não deve assinar uma Declaração de Óbito em branco ou deixar declarações previamente assinadas; deve verificar se todos os itens de identificação estão devida e corretamente preenchidos.

É correto o que se afirma em:

- (A) I, apenas.
- (B) I e II, apenas.
- (C) I e III, apenas.
- (D) II e III, apenas.
- (E) I, II e III.

QUESTÃO 42

Das instruções de preenchimento da DO, considere a alternativa correta:

- (A) É composta por dez blocos de variáveis.
- (B) O Bloco VIII é destinado a mortes por causas externas.
- (C) O Bloco X é destinado a mortes por causas inconclusivas.
- (D) O Bloco IV é destinado ao preenchimento pelo Enfermeiro responsável pelo setor (quando óbito hospitalar).
- (E) O Bloco VI é destinado a mortes que ocorreram em residência.

QUESTÃO 43

Os inibidores de entrada são uma nova classe de medicamentos que impedem a entrada do vírus HIV nas células de defesa do organismo, impedindo a sua reprodução. No caso específico do _____, sua atuação se baseia no bloqueio dos receptores CCR5 (proteína localizada na superfície dos macrófagos - células do sistema imunológico) impedindo a entrada do HIV e a infecção destas células.

Assinale a alternativa que preenche, corretamente, a lacuna do texto:

- (A) Zidovudina (AZT).
- (B) Maraviroc (MRV).
- (C) Enfuvirtida (T20).
- (D) Dolutegravir (DTG).
- (E) Efavirenz (EFZ).

QUESTÃO 44

Dos componentes da Estratégia pelo Fim da Tuberculose (TB), trazidos pelo Ministério da Saúde, o Pilar 1 discorre sobre Prevenção e Cuidado Integrado e Centrado no Paciente. Não é ação ligada a esse Pilar:

- (A) Pesquisa para otimizar a implantação e impacto, e promoção de inovações.
- (B) Atividades colaborativas TB-HIV e manejo de outras comorbidades.
- (C) Tratamento preventivo para pessoas com alto risco de adoecimento e vacina contra a tuberculose.
- (D) Tratamento de todos os casos de tuberculose, incluindo casos de tuberculose drogaresistente e apoio ao paciente.
- (E) Diagnóstico precoce, teste de sensibilidade antimicrobiano universal, investigação sistemática dos contatos e das populações mais vulneráveis.

QUESTÃO 45

Dos antirretrovirais utilizados no tratamento da Aids, é classificado como inibidor de fusão:

- (A) Zidovudina (AZT).
- (B) Maraviroc (MRV).
- (C) Enfuvirtida (T20).
- (D) Dolutegravir (DTG).
- (E) Efavirenz (EFZ).

QUESTÃO 46

Das interações medicamentosas dos fármacos antiTB, a Isoniazida associada à Carbamazepina tem o seguinte efeito de interação:

- (A) Indução de toxicidade neurológica.
- (B) Aumenta a hepatotoxicidade.
- (C) Reduz a absorção da isoniazida.
- (D) Bradirritmia.
- (E) Potencialização da ação nefrotóxica.

QUESTÃO 47

Sobre as Extrassístoles Ventriculares, considere os itens:

I - podem resultar do disparo de focos de automatismo ectópico ou de reentrada.

II – são despolarizações que aparecem em um dos ventrículos antes do próximo impulso vindo nó AV.

III - a condução, por se tratar de foco ectópico, é mais lenta, produzindo complexos QRS de formas alargadas e variadas e seguidas de pausas compensatórias até a próxima onda P.

É correto o que se afirma em:

- (A) I, apenas.
- (B) I e II, apenas.
- (C) I e III, apenas.
- (D) II e III, apenas.
- (E) I, II e III.

QUESTÃO 48

De acordo com o Ministério da Saúde, o ECG normal não exclui a presença de obstrução coronariana. Entretanto, algumas alterações indicam ou sugerem a presença de doença isquêmica. Observe a imagem e descrição da mesma, indicando o tipo de alteração:



Infradesnivelamento do ponto J e do segmento ST, com concavidade superior desse segmento nas derivações correspondentes à área isquêmica.

Fonte:

<https://linhasdecuidado.saude.gov.br/portal/informacao-agudo-do-miocardio/interpretacao-do-ecg-derivações/#pills-alteracoes-isquemicas>

- (A) Áreas inativas.
- (B) Alterações sugestivas de isquemia subepicárdica.
- (C) Alterações sugestivas de isquemia subendocárdica.
- (D) Alterações da repolarização ventricular sugestivas de corrente de lesão subepicárdica.
- (E) Alterações sugestivas de corrente de lesão subendocárdica.

QUESTÃO 49

Para uma paciente de 36 anos, sexualmente ativa, com diagnóstico de Infecção do Trato Urinário, o Clínico prescreveu uma quinolona por 14 dias. O fármaco prescrito foi:

- (A) Linezolida.
- (B) Azitromicina.
- (C) Levofloxacino.
- (D) Cefuroxima.
- (E) Nitrofurantoína.

QUESTÃO 50

Um dos princípios do Sistema Único de Saúde, trazidos pela Lei 8080/90 (Art. 7º inciso XI), discorre sobre a conjugação dos recursos financeiros, tecnológicos, materiais e humanos da União, dos Estados, do Distrito Federal e dos Municípios na:

- (A) hierarquização da rede de serviços de saúde.
- (B) prestação de serviços de assistência à saúde da população.
- (C) alocação de recursos e orientação programática.
- (D) preservação da autonomia das pessoas.
- (E) conjugação dos recursos financeiros, tecnológicos, materiais e humanos.

