

**CONCURSO PÚBLICO**  
PREFEITURA MUNICIPAL DE DOURADOS - MS

EDITAL Nº 01/2023

**ASSISTENTE ADMINISTRATIVO**

**Duração:** 4h00min (quatro horas)

**Leia atentamente as instruções abaixo:**

**01** Você recebeu do fiscal o seguinte material:

a) Este caderno, com 60 (sessenta) questões da Prova Objetiva, sem repetição ou falha, conforme distribuição abaixo:

CONHECIMENTOS BÁSICOS			CONHECIMENTOS ESPECÍFICOS
LÍNGUA PORTUGUESA	RACIOCÍNIO LÓGICO	NOÇÕES DE INFORMÁTICA	
1 a 15	16 a 25	26 a 35	36 a 60

b) Um Cartão de Respostas destinado às respostas das questões objetivas.

- 02** Verifique se este material está em ordem e se o seu nome e número de inscrição conferem com os que aparecem no Cartão de Respostas. Caso contrário, notifique imediatamente o fiscal.
- 03** Após a conferência, o candidato deverá assinar no espaço próprio do Cartão de Respostas, com caneta esferográfica de tinta na cor azul ou preta.
- 04** No Cartão de Respostas da prova objetiva, a marcação da alternativa correta deve ser feita cobrindo a letra correspondente ao número da questão e preenchendo todo o espaço interno, com caneta esferográfica de tinta na cor azul ou preta, de forma contínua e densa.

Exemplo:  A  B  C  D

- 05** Para cada uma das questões objetivas, são apresentadas 4 (quatro) alternativas classificadas com as letras (A, B, C e D), mas só uma responde adequadamente à questão proposta. Você só deve assinalar uma alternativa. A marcação em mais de uma alternativa anula a questão, mesmo que uma das respostas esteja correta.
- 06** O candidato poderá entregar seu Cartão de Respostas, seu Caderno de Questões e retirar-se da sala de prova somente depois de decorrida 1 (uma) hora do início da prova. O candidato que insistir em sair da sala de prova, descumprindo o aqui disposto, deverá assinar o Termo de Ocorrência declarando sua desistência do Concurso, que será lavrado pelo Coordenador do Local.
- 07** Ao candidato, será permitido levar seu CADERNO DE QUESTÕES a partir de 1 (uma) hora para o término da prova e desde que permaneça em sala até esse momento.
- 08** Não será permitida a cópia de gabarito no local de prova. Ao terminar a prova de Conhecimentos, o candidato entregará obrigatoriamente o seu CARTÃO DE RESPOSTAS e o seu CADERNO DE QUESTÕES ao fiscal de sala, ressalvado o estabelecido em Edital.
- 09** Reserve os 30 (trinta minutos finais para marcar seu Cartão de Respostas. Os rascunhos e as marcações assinaladas no Caderno de Questões não serão levados em consideração.
- 10** Os 3 (três) últimos candidatos permanecerão sentados até que todos concluem a prova ou que termine o seu tempo de duração, devendo assinar a ata de sala e retirar-se juntos.

## LÍNGUA PORTUGUESA

Leia o texto a seguir:

### **Nova vacina da dengue chega a clínicas privadas na semana que vem; saiba quanto custará**

*Produto é o segundo imunizante contra a doença a receber registro no Brasil, mas o primeiro de uso amplo na população independentemente de infecção prévia pelo vírus; eficácia em testes clínicos foi de 80%*

Aprovada pela Agência Nacional de Vigilância Sanitária (Anvisa) em março, a vacina contra a dengue da farmacêutica japonesa Takeda deve estar disponível nas clínicas privadas de vacinação a partir da semana que vem, ao custo de R\$ 350 a R\$ 500 por dose, informou a Associação Brasileira de Clínicas de Vacinas (ABCVAC). O imunizante, batizado de Qdenga, teve eficácia de 80% nos estudos clínicos.

É a segunda vacina contra a doença a receber registro no Brasil, mas a primeira de uso amplo na população independentemente de infecção prévia pelo vírus da dengue. Isso porque a primeira, do laboratório francês Sanofi Pasteur e aprovada no País em 2015, só pode ser aplicada em quem já contraiu algum sorotipo da dengue porque aumenta a ocorrência da forma grave da doença em pessoas nunca antes infectadas pelo vírus.

A vacina da Sanofi Pasteur tem ainda como limitação a faixa etária para qual é indicada: 9 aos 45 anos, enquanto a Qdenga pode ser usada por pessoas de 4 a 60 anos. O imunizante da empresa japonesa protege contra os quatro sorotipos do vírus transmitido pelo mosquito *Aedes aegypti*.

Por definição da Anvisa, a vacina deverá ser administrada via subcutânea em esquema de duas doses, com intervalo de três meses entre as aplicações. Com isso, o preço do esquema completo de vacinação ficará entre R\$ 700 e R\$ 1 mil no Brasil.

Os preços máximos foram definidos pela Câmara de Regulação do Mercado de Medicamentos (CMED) e variam de acordo com a carga tributária de cada Estado. Esses valores referem-se ao valor que poderá ser cobrado pelo laboratório farmacêutico ao vender o produto para clínicas privadas. No caso do Estado de São Paulo, o preço definido pela CMED é de R\$ 379,40.

O valor final ao consumidor é acrescido ainda, segundo a ABCVAC, do serviço prestado no estabelecimento: atendimento, triagem, análise da caderneta de vacinação, orientações pré e pós-vacina, entre outros.

O Ministério da Saúde ainda não definiu se a vacina será disponibilizada no Sistema Único de Saúde (SUS). Para que isso aconteça, o produto deve passar por avaliação da Comissão Nacional de Incorporação de Tecnologias no SUS (Conitec) em processo que costuma levar ao menos seis meses e que avalia não só a eficácia e a segurança do produto, mas também seu custo-benefício.

#### *Histórico*

De acordo com a Takeda, os estudos clínicos da Qdenga tiveram 28 mil participantes, com acompanhamento de mais de quatro anos dos voluntários da última fase do estudo. Além da eficácia

geral de 80,2%, o imunizante alcançou 90,4% de proteção contra hospitalizações pela doença 18 meses após a vacinação. A Qdenga é feita com vírus vivo atenuado do sorotipo 2 da dengue.

“A demonstração da eficácia da vacina Qdenga tem suporte principalmente nos resultados de um estudo de larga escala, de fase 3, randomizado e controlado por placebo, conduzido em países endêmicos para dengue com o objetivo de avaliar a eficácia, segurança e imunogenicidade da vacina”, justificou a Anvisa ao anunciar a aprovação, em março.

A Takeda entrou com pedido de registro na Anvisa em 2021. O processo, segundo a agência, foi demorado porque foram solicitados dados complementares. A vacina “segue sujeita ao monitoramento de eventos adversos por meio de ações de farmacovigilância sob a responsabilidade da empresa”.

A vacina do Instituto Butantan, única a entrar na fase final de estudos além dos produtos da Sanofi e Takeda, registrou 79,6% de eficácia nos testes de fase 3, conforme dados preliminares, mas só deverá ter sua pesquisa concluída e resultados finais conhecidos em 2024.

Fonte: <https://www.estadao.com.br/saude/nova-vacina-da-dengue-chega-a-clinicas-privadas-na-semana-que-vem-dose-custara-de-350-a-500-nprm/>. Acesso em 22/06/2023

1. O objetivo do texto é:

- A) convencer o leitor a comprar a vacina japonesa Qdenga, para se proteger da dengue
- B) informar o leitor acerca de um avanço científico, que poderá trazer benefícios para a população
- C) criticar o valor das vacinas produzidas contra dengue, considerando que são de alto custo para a população brasileira
- D) alertar para os perigos de vacinas que ainda não foram suficientemente testadas, com eficácia total ainda não comprovada

2. Segundo o texto, a vacina do laboratório Sanofi Pasteur distingue-se da vacina produzida pela farmacêutica Takeda em alguns aspectos. Uma das diferenças é que a vacina francesa:

- A) é o primeiro imunizante de uso amplo na população, independentemente de infecção prévia pelo vírus
- B) só deve ser aplicada a quem já contraiu a dengue, não sendo indicada para quem nunca foi infectado pelo vírus
- C) custará um valor menor aos cofres públicos, caso o governo queira imunizar toda população brasileira em um esquema vacinal completo
- D) registrou 79,6% de eficácia nos testes da fase 3, comparando-se aos níveis de eficácia das vacinas produzidas pelo Instituto Butantan e pela farmacêutica Takeda

3. Segundo o texto, para a vacina contra dengue ser aprovada e disponibilizada pelo SUS, é necessário que:

- A) o custo seja baixo e apresente eficiência e segurança
- B) o custo seja baixo e apresente segurança e eficiência média
- C) o custo seja compatível com os benefícios da vacina e apresente segurança e eficiência medianas
- D) o custo seja compatível com os benefícios da vacina e apresente eficiência e segurança comprovadas

Leia o trecho a seguir para responder as questões de 4 a 7:

A vacina da Sanofi Pasteur tem ainda como limitação a faixa etária para qual é indicada: 9 aos 45 anos, **enquanto** a Qdenga pode ser usada por pessoas de 4 a 60 anos. O imunizante da empresa japonesa protege contra os quatro sorotipos do vírus transmitido pelo mosquito *Aedes aegypti*. (3º parágrafo)

4. Esse trecho lista algumas características de duas vacinas utilizadas contra a dengue. Considerando essa informação, o trecho pode ser classificado como predominantemente:

- A) injuntivo
- B) narrativo
- C) descritivo
- D) argumentativo

5. Esse trecho utiliza uma técnica que relaciona duas informações por meio de:

- A) conclusão
- B) comparação
- C) generalização
- D) particularização

6. No trecho destacado, o conectivo destacado veicula a noção de:

- A) causa
- B) tempo
- C) condição
- D) contraste

7. No trecho destacado, há um par de sinônimos que pode ser identificado em:

- A) vacina x imunizante
- B) pessoas x sorotipos
- C) imunizante x vírus
- D) vacina x sorotipo

8. No trecho “A vacina da Sanofi Pasteur tem ainda como limitação a faixa etária para **qual** é indicada” (3º parágrafo), o elemento destacado substitui o termo:

- A) vacina
- B) Sanofi
- C) limitação
- D) faixa etária

9. No trecho “O valor final ao consumidor é acrescido ainda, **segundo** a ABCVAC, do serviço prestado no estabelecimento: atendimento, triagem, análise da caderneta de vacinação, orientações pré e pós-vacina, entre outros” (6º parágrafo), o termo destacado veicula a noção de:

- A) ordem
- B) quantidade
- C) conformidade
- D) consequência

10. No título do texto (“Nova vacina da dengue **chega** a clínicas privadas na semana que vem; **saiba** quanto custará”), as formas verbais “chega” e “saiba” estão respectivamente no:

- A) presente do indicativo e imperativo afirmativo
- B) presente do subjuntivo e presente do indicativo
- C) futuro do subjuntivo e futuro do presente do indicativo
- D) futuro do presente do indicativo e imperativo afirmativo

11. No trecho “Os preços máximos foram definidos pela Câmara de Regulação do Mercado de Medicamentos (CMED) e variam **de acordo com** a carga tributária de cada Estado” (5º parágrafo), o termo destacado poderia ser substituído, sem prejuízo de sentido, por:

- A) apesar de
- B) consoante
- C) a despeito de
- D) com o objetivo de

12. No trecho “De acordo com a Takeda, os estudos clínicos da Qdenga tiveram 28 mil participantes, com acompanhamento de mais de quatro anos dos voluntários da última fase do estudo” (8º parágrafo), há:

- A) uma oração absoluta
- B) uma oração coordenada assindética e uma oração assindética
- C) uma oração subordinada adverbial conformativa e uma oração principal
- D) uma oração subordinada adverbial conformativa, uma oração principal e uma coordenada sindética aditiva

13. No trecho “No caso do Estado de São Paulo, o preço definido pela CMED é de [...]” (5º parágrafo), a vírgula foi empregada para isolar:

- A) um aposto explicativo
- B) uma enumeração de itens
- C) um adjunto adverbial deslocado
- D) uma oração coordenada assindética

14. Na palavra **MONITORAMENTO**, o elemento destacado é um sufixo com função e sentido semelhantes ao encontrado na palavra:

- A) tormento
- B) momento
- C) compartimento
- D) arredondamento

15. A palavra CLÍNICA é acentuada pela mesma regra que justifica a acentuação da palavra:

- A) órgão
- B) bênção
- C) orégano
- D) exceção

## RACIOCÍNIO LÓGICO

**16.** A partir do terceiro, todos os termos da sequência (1, 1, 3, 5, 9, 15, 25, 41, n) são determinados por um padrão lógico. O valor de **n** é:

- A) 61
- B) 63
- C) 65
- D) 67

**17.** Em fevereiro de 2023, o salário de João foi 15% superior ao de janeiro deste ano. Logo, em relação ao salário de fevereiro, o salário de janeiro foi **x** % menor. O valor de **x** é:

- A) 250/23
- B) 250/29
- C) 300/23
- D) 300/29

**18.** Uma parede de **x** m<sup>2</sup> foi pintada por Roberto. Ao término de uma hora de trabalho, Roberto tinha concluído 3/8 da pintura. Porém, se tivesse pintado mais 28 m<sup>2</sup>, teria concluído, nessa primeira hora, 2/3 do trabalho. O valor de **x** é:

- A) 92
- B) 96
- C) 102
- D) 106

**19.** Uma sorveteria vende sorvete de apenas dois sabores: pitaia e kiwi. Uma pesquisa realizada com **x** fregueses dessa sorveteira comprovou que 3/4 deles consomem o sabor pitaia e que o sabor kiwi é consumido por 4/5 dos fregueses. Se 121 fregueses consomem os dois sabores, a soma dos algarismos do número **x** é:

- A) 4
- B) 5
- C) 6
- D) 7

**20.** Pedro quer formar uma senha usando todas as 5 letras do seu nome, sem repetir nenhuma delas. Nessa senha, que deve começar e terminar com uma vogal, todas as letras devem ser usadas, e as letras P e D devem estar juntas. O número máximo de senhas que Pedro pode formar nessas condições corresponde a:

- A) 6
- B) 8
- C) 10
- D) 12

**21.** A recepcionista de um laboratório afirmou ao Sr. Machado:

*“Para que possa realizar o exame, o senhor deve possuir o pedido do exame original em mãos ou tê-lo enviado antecipadamente por e-mail”.*

Dessa forma, o Sr. Machado não poderá realizar o exame se:

- A) não possuir o pedido do exame original em mãos ou não o tiver enviado antecipadamente por *e-mail*
- B) não possuir o pedido do exame original em mãos e não o tiver enviado antecipadamente por *e-mail*
- C) possuir o pedido do exame original em mãos, mas não o tiver enviado antecipadamente por *e-mail*
- D) não possuir o pedido do exame original em mãos, mas tê-lo enviado antecipadamente por *e-mail*

**22.** Uma pessoa, durante uma conversa a respeito de trânsito, argumentou corretamente que “Se um carro está chegando a uma rotatória, então deve dar a preferência àqueles que já estão na rotatória”.

Uma afirmação logicamente equivalente a essa é a seguinte:

- A) Se um carro não está chegando a uma rotatória, então não deve dar a preferência àqueles que já estão na rotatória.
- B) Se um carro deve dar a preferência àqueles que já estão na rotatória, então não está chegando a uma rotatória.
- C) Se um carro está chegando a uma rotatória, então não deve dar a preferência àqueles que já estão na rotatória.
- D) Um carro não está chegando a uma rotatória ou deve dar a preferência àqueles que já estão na rotatória.

**23.** Um professor de raciocínio lógico tinha seis tópicos disponíveis para escolher dois deles para elaborar questões. Eles estão listados na tabela a seguir.

Proposições	Conectivos	Arranjos
Combinações	Permutações	Probabilidade

Ele pediu para sua filha pequena escolher, ao acaso, dois desses tópicos. A probabilidade de a escolha somente conter tópicos listados na segunda linha da tabela é igual a:

- A) 0,05
- B) 0,10
- C) 0,20
- D) 0,25

**24.** George afirmou que “Se eu tiver muito dinheiro, então abro uma cafeteria”. Do ponto de vista lógico, da afirmação de George é possível concluir corretamente que:

- A) se George não abrir uma cafeteria, então não tem muito dinheiro
- B) se George não tiver muito dinheiro, então não abre uma cafeteria
- C) se George não tiver muito dinheiro, então abre uma cafeteria
- D) se George abrir uma cafeteria, então tem muito dinheiro

**25.** Em uma sessão de fotos para uma formatura, o fotógrafo dividiu os sete formandos em dois grupos, um de três e outro de quatro pessoas. Primeiro, colocou o grupo de três formandos em fila indiana e tirou uma foto de todas as filas possíveis, permutando os integrantes desse grupo. Em seguida, fez o mesmo com o outro grupo, de quatro pessoas: tirou uma foto de cada fila possível, a partir da permutação dos seus integrantes. Se para cada fila, o fotógrafo gastou 20 segundos para tirar a foto, a diferença em minutos, entre o tempo gasto com o grupo maior e o grupo menor, correspondeu a:

- A) 2
- B) 4
- C) 6
- D) 8

## NOÇÕES DE INFORMÁTICA

**26.** Os dispositivos de armazenamento SSD (Solid State Drive) são muito comuns hoje em dia nos computadores desktop e notebooks. Com relação à transferência de dados, um dispositivo SSD:

- A) realiza apenas saída de dados do computador
- B) realiza apenas entrada de dados para o computador
- C) realiza entrada e saída de dados com o computador
- D) não é capaz de realizar atividades de entrada ou de saída

**27.** No Windows 10, a fragmentação faz com que seu disco rígido faça um trabalho extra que pode afetar o desempenho do computador. Os dispositivos removíveis de armazenamento, como *pendrives*, também podem ficar fragmentados. Para resolver esse problema, pode-se usar o Desfragmentador de Disco do Windows, cuja função é:

- A) marcar os arquivos que estão fragmentados para que sejam copiados quando for realizado o *backup*
- B) reorganizar os dados para que os discos e as unidades possam funcionar de maneira mais eficiente
- C) remover arquivos que não tenham tido acesso há muito tempo para otimizar o acesso ao disco
- D) copiar todos os dados para dois ou mais discos diferentes e distribuir o acesso entre eles

**28.** Um usuário de um sistema Linux precisa saber quais são os arquivos que estão no diretório atual. Para isso, ele pode usar o comando:

- A) vi
- B) ln
- C) wc
- D) ls





**29.** Cada sistema operacional tem um sistema de arquivos padrão, com suas características próprias. Uma característica do NTFS, sistema de arquivos padrão do Windows 10 em sua versão 64 bits, é:

- A) limitar o nome de um arquivo em, no máximo, 8 caracteres alfanuméricos
- B) obrigar que nomes de arquivos contenham um ponto e uma extensão
- C) permitir que, dentro de uma pasta, sejam criadas outras pastas
- D) limitar em 10 o número de pastas na raiz de um disco rígido

**30.** Em uma versão atual do Microsoft Word em português, quando se executa um clique duplo com o *mouse* sobre uma palavra, ela é:

- A) excluída
- B) selecionada
- C) centralizada
- D) copiada para a área de transferência

**31.** Na versão atual do Microsoft Excel em português, para aplicar a aparência de uma seleção específica em outro conteúdo no documento, pode-se usar o comando representado pelo ícone:

- A) 
- B) 
- C) 
- D) 

**32.** Um dos importantes aspectos de segurança de dados é a realização periódica de um *backup* dos arquivos do computador. Um *backup* tem a principal função de:

- A) remover do meio de armazenamento atual todos os arquivos que contenham vírus
- B) ocultar os arquivos importantes para que estejam protegidos de invasões sofridas pelo computador
- C) criptografar os arquivos do meio de armazenamento corrente para que sejam acessados apenas pelo dono
- D) copiar os arquivos para outro meio de armazenamento para que possam ser recuperados em caso de falha de *hardware*

**33.** A identificação de um computador na Internet é feita através de:

- A) sua placa mãe
- B) seu endereço IP
- C) sua porta de comunicação
- D) seu número de série da CPU

**34.** Para tentar verificar se um determinado computador está conectado à rede e respondendo requisições, pode-se utilizar o utilitário básico para verificação de redes:

- A) sysadm
- B) regedit
- C) ping
- D) sfc

**35.** Um usuário precisa configurar seu programa cliente de correio eletrônico. Para isso, deve, nas telas de configuração do programa, informar o servidor responsável por fazer o envio de e-mails e o servidor de onde serão obtidos os e-mails recebidos, configurando respectivamente os protocolos:

- A) TCP e IP
- B) POP e NTP
- C) SNMP e ARP
- D) SMTP e IMAP

## CONHECIMENTOS ESPECÍFICOS

**36.** O nível organizacional de uma empresa cuja abrangência envolve toda a administração e tem como característica de amplitude de tempo ser determinada pelo longo prazo denomina-se:

- A) tático
- B) operacional
- C) institucional
- D) intermediário

**37.** O tipo de estrutura de uma organização que deriva em maximizar sua eficiência e tem como uma de suas características a multiplicidade de contatos entre supervisores e executores é conhecida como:

- A) funcional
- B) matricial
- C) militar
- D) linear

**38.** A função administrativa que se distribui por todos os níveis hierárquicos de uma organização, pois está relacionada diretamente à atuação sobre o relacionamento interpessoal do administrador com seus subordinados, denomina-se:

- A) gestão
- B) direção
- C) controle
- D) planejamento

**39.** Com relação à teoria motivacional proposta por Maslow, as necessidades que exigem satisfação cíclica para garantir a sobrevivência do indivíduo, como alimentação e habitação, denominam-se:

- A) sociais
- B) pessoais
- C) higiênicas
- D) fisiológicas

**40.** Na administração de estoques, as organizações utilizam métodos de previsões para terem a possibilidade de estimar o consumo esperado de determinado material. Quanto à natureza, os métodos qualitativos são baseados em:

- A) cálculos matemáticos
- B) ferramentas estatísticas
- C) estimativas de diretores
- D) programação de produção

**41.** A quantidade de itens que uma organização tem em estoque e que garante que o atendimento do almoxarifado não irá sofrer problemas de continuidade, enquanto se aguarda a chegada do novo lote durante o tempo de reposição, denomina-se:

- A) lote de compra
- B) ponto de pedido
- C) estoque mínimo
- D) estoque de segurança

**42.** A avaliação de desempenho analisa e mensura de forma sistemática o desempenho de uma pessoa na organização, por meio de métodos modernos e tradicionais. Um método de avaliação de desempenho considerado moderno é a:

- A) escala gráfica
- B) escolha forçada
- C) lista de verificação
- D) participativa por objetivos

**43.** O documento oficial emanado por uma autoridade competente que determina providências de caráter administrativo, impõe normas ou contém instruções sobre aplicação de leis é conhecido como:

- A) portaria
- B) notificação
- C) proposição
- D) ordem de serviço

**44.** Na redação de um texto oficial, a parte que contém a justificativa do ato, podendo ser de ordem moral, jurídica ou material, denomina-se:

- A) exposição
- B) preâmbulo
- C) dispositivo
- D) corroboração

**45.** O método de arquivamento direto, em que o elemento principal a ser considerado é o local ou a sua procedência, é conhecido como:

- A) variadex
- B) numérico
- C) geográfico
- D) ideográfico

**46.** O ato administrativo que ocorre automaticamente, sem a necessidade de qualquer edição de outro ato para que sua condição seja declarada como ato consumado, denomina-se:

- A) pendente
- B) exaurido
- C) anulável
- D) nulo

**47.** Com relação aos agentes públicos, aqueles que exercem determinada atividade pública por sua conta e risco, em nome próprio, sob uma permanente fiscalização, são conhecidos como agentes:

- A) terceirizados
- B) profissionais
- C) temporários
- D) delegados

**48.** Segundo a Lei Complementar Municipal nº 107/2006, o retorno à atividade do servidor aposentado por invalidez, a pedido ou a *ex officio*, quando por perícia médica oficial for declarado insubsistente o motivo de sua aposentadoria, denomina-se:

- A) reversão
- B) recondução
- C) readaptação
- D) reintegração

**49.** De acordo com a Lei Complementar Municipal nº 107/2006, o prazo para o servidor entrar em exercício, após a posse, é de:

- A) 30 dias
- B) 20 dias
- C) 15 dias
- D) 10 dias

**50.** Conforme dispõe a Lei Complementar Municipal nº 310/2016, o servidor, durante o estágio probatório, terá o seu desempenho avaliado na seguinte periodicidade:

- A) semestralmente
- B) trimestralmente
- C) bimestralmente
- D) anualmente

**51.** O princípio administrativo de modelo gerencial, relacionado à forma de atuação do agente público, que privilegia a aferição de resultados no intuito de alcançar melhores metas na prestação dos serviços públicos, denomina-se:

- A) eficiência
- B) moralidade
- C) razoabilidade
- D) impessoalidade

**52.** De acordo com a Lei nº 14.133/2021, pode-se considerar auxiliar das licitações e das contratações o seguinte procedimento:

- A) o desempenho
- B) o credenciamento
- C) o diálogo competitivo
- D) a dação em pagamento

**53.** Segundo a Lei nº 10.520/2002, o prazo de validade das propostas, caso não houver outro fixado no edital, será de:

- A) 15 dias
- B) 30 dias
- C) 60 dias
- D) 90 dias

**54.** Segundo a Lei nº 8.666/93, os atos de um procedimento licitatório se desenvolvem por uma sequência lógica que pode ser separada em duas fases: preparatória e executória. Um ato que é considerado como pertencente à fase preparatória é a:

- A) homologação do resultado
- B) estimativa de contratação
- C) impugnação do edital
- D) adjudicação do objeto

**55.** De acordo com a Lei Federal nº 8.429/1992, deixar de prestar contas quando o agente público esteja obrigado a fazê-lo importa atos de improbidade administrativa que:

- A) causam prejuízo ao erário
- B) criam vantagem econômica
- C) acarretam enriquecimento ilícito
- D) atentam contra os princípios da administração pública

**56.** De acordo com a Lei de Responsabilidade Fiscal, a divulgação do relatório de gestão fiscal aos municípios, com população inferior a 50 mil habitantes, poderá ter periodicidade:

- A) anual
- B) bimestral
- C) trimestral
- D) semestral

**57.** A Lei de Responsabilidade Fiscal define limites globais para gastos com despesas de pessoal no setor público para os entes federativos. Em se tratando de municípios, esses limites de gastos serão de:

- A) 60%
- B) 50%
- C) 45%
- D) 40%

**58.** De acordo com a Lei Orgânica do Município de Dourados, é de competência privativa desse Município:

- A) delimitar o perímetro urbano
- B) preservar as florestas, a fauna e a flora
- C) legislar sobre assuntos de interesse local
- D) proporcionar os meios de acesso à educação e à ciência

**59.** Em matéria de fiscalização contábil, financeira e orçamentária, a responsabilidade em emitir parecer prévio sobre as contas do prefeito do município de Dourados, com o auxílio do Tribunal de Contas, é:

- A) do controle interno
- B) do controle externo
- C) do presidente da Câmara Municipal
- D) da mesa diretora da Câmara Municipal

**60.** Segundo a Lei Orgânica do Município de Dourados, o prazo para os agentes públicos proferirem uma decisão conclusiva de sua competência é de:

- A) 5 dias
- B) 10 dias
- C) 15 dias
- D) 20 dias