

**NÍVEL FUNDAMENTAL**

(AGENTE DE COZINHA E SERVIÇOS OPERACIONAIS, OFICIAL DE MANUTENÇÃO – PEDREIRO,  
ALMOXARIFE, AGENTE DE APOIO OPERACIONAL)

Códigos: 200 a 203

**LEIA COM ATENÇÃO AS SEGUINTE INSTRUÇÕES**

1. Este caderno contém as questões da **Prova Objetiva**.
2. Use a Folha de Respostas (versão do Candidato) reproduzida ao final deste caderno apenas para marcar o Gabarito.
3. Ao receber a **Folha de Respostas da Prova Objetiva**:
  - Confira seu nome, número de inscrição e cargo.
  - Assine, **A TINTA**, no espaço próprio indicado.

4. **ATENÇÃO:** transcreva no espaço apropriado da sua **FOLHA DE RESPOSTAS**, com sua caligrafia usual, mantendo as letras maiúsculas e minúsculas, desconsiderando aspas e autoria, a seguinte frase:

**“A dúvida é o princípio da sabedoria.”** Aristóteles

**ATENÇÃO:**

**FOLHA DE RESPOSTAS SEM ASSINATURA NÃO TEM VALIDADE.**

5. Ao transferir as respostas para a **Folha de Respostas**:

01  <sup>A</sup>  <sup>B</sup>  <sup>C</sup>  <sup>D</sup> • use apenas caneta esferográfica azul ou preta.

02  <sup>A</sup>  <sup>B</sup>  <sup>C</sup>  <sup>D</sup> • preencha, sem forçar o papel, toda a área reservada à letra correspondente à resposta solicitada em cada questão.

03  <sup>A</sup>  <sup>B</sup>  <sup>C</sup>  <sup>D</sup> • assinale somente **uma** alternativa em cada questão.

04  <sup>A</sup>  <sup>B</sup>  <sup>C</sup>  <sup>D</sup> Sua resposta **NÃO** será computada se houver marcação de mais de uma alternativa, questões não assinaladas ou rasuras.

**NÃO DEIXE NENHUMA QUESTÃO SEM RESPOSTA.**

A **Folha de Respostas** não deve ser dobrada, amassada ou rasurada.

**ATENÇÃO:** Período de Sigilo – Não será permitido ao candidato se ausentar em definitivo da sala de provas antes de decorridas 2 (duas) horas do início das provas. O tempo de duração das provas abrange a assinatura da Folha de Respostas e a transcrição das respostas do Caderno de Questões da Prova Objetiva (Folha de Respostas e rascunho) para o Caderno definitivo. Os candidatos não poderão utilizar, em hipótese alguma, lapiseira, corretivos, lápis, lápis-borracha ou outro material distinto do constante em Edital. Quaisquer acessórios como óculos escuros, boné, chapéu, gorro, lenço ou similares não terão seu uso permitido. As instruções constantes no Caderno de Questões e na Folha de Resposta, bem como as orientações e instruções expedidas pela FUNDEP durante a realização das provas, complementam o Edital e deverão ser rigorosamente observadas e seguidas pelo candidato. Será proibida, durante a realização das provas, qualquer espécie de consulta ou comunicação entre os candidatos ou entre estes e pessoas estranhas, oralmente ou por escrito, assim como não será permitido o uso de livros, códigos, manuais, impressos, anotações ou quaisquer outros meios e ainda, fazer uso ou portar, mesmo que desligados, telefone celular, relógios, pagers, beep, agenda eletrônica, calculadora, walkman, notebook, palmtop, gravador, transmissor/receptor de mensagens de qualquer tipo ou qualquer outro equipamento eletrônico. Findo o horário-limite para a realização da prova, o candidato deverá entregar a Folha de Respostas da Prova Objetiva, devidamente preenchida e assinada, ao Aplicador de Sala, assim como o Caderno de Provas. Os três últimos candidatos deverão permanecer na sala até que o último candidato termine sua prova, devendo todos assinar a Ata de Ocorrências da sala, atestando a idoneidade da fiscalização das provas, retirando-se da sala de prova de uma só vez.

O Caderno de Questões e o gabarito da Prova Objetiva serão divulgados no endereço eletrônico [www.gestaodeconcursos.com.br](http://www.gestaodeconcursos.com.br), no primeiro dia útil subsequente à data de realização da prova.

**DURAÇÃO MÁXIMA DA PROVA: 4 (QUATRO) HORAS**

# ATENÇÃO

Sr.(a) Candidato(a),

Antes de começar a fazer a prova, confira se este caderno contém, ao todo, **30 (trinta)** questões de múltipla escolha, cada uma constituída de 4 (quatro) alternativas de respostas, assim distribuídas: 10 (dez) questões de **Língua Portuguesa**, 10 (dez) questões de **Matemática** e 10 (dez) questões de **Conhecimentos Gerais**, todas perfeitamente legíveis.

Havendo algum problema, informe **imediatamente** ao aplicador de provas para que ele tome as providências necessárias.

Caso não observe essa recomendação, não lhe caberá qualquer reclamação ou recursos posteriores.

## LÍNGUA PORTUGUESA

**INSTRUÇÃO:** Leia o texto I a seguir, para responder às questões de 1 a 4.

### TEXTO I

#### Pesquisa aponta sotaque mineiro como mais charmoso do Brasil

O jeitinho mineiro de conversar foi eleito o mais charmoso e cativante de todo o país, aponta uma pesquisa feita em várias regiões do Brasil pela Preply — plataforma dedicada ao aprendizado de idiomas.

Para desvendar como cada pronúncia regional é percebida pelas outras pessoas, a plataforma entrevistou, entre 19 e 25 de maio, 700 internautas: 15% deles do Sul; 44% do Sudeste; 8% do Centro-Oeste; 8% do Norte; e 25% do Nordeste. Mulheres representam 52%, e homens, 48%.

De acordo com os entrevistados, Rio de Janeiro, Bahia e Minas Gerais são os estados nacionais com os jeitos de falar mais marcantes. Liderando o *ranking* de “sotaque dos sonhos”, a maneira como se fala no Rio de Janeiro é a mais aspirada pelo restante do Brasil.

Os sotaques mais inconfundíveis do país segundo brasileiros  
Classificados em uma escala de 1 a 10, sendo 10 o mais bem colocado

Posição	Sotaque	Pontuação
1	Fluminense	10
2	Baiano	8.8
3	Mineiro	7.4
4	Gaúcho	6.9
5	Paulista	5.8
6	Cearense	4.2
7	Pernambucano	3.4
8	Catarinense	2.6

Os sotaques mais inconfundíveis (foto: Preply/Divulgação)

Quando o assunto são os sotaques mais marcantes, as respostas da pesquisa reforçaram a máxima de que é possível reconhecer um fluminense em qualquer canto do mundo. O jeito de falar típico dos residentes do Rio de Janeiro — cuja marca é a pronúncia do “s” em uma espécie de “chiado” e as vogais mais abertas — foi o grande destaque do *ranking* das pronúncias inconfundíveis, após uma disputa acirrada com os baianos e mineiros.

Também compõem o pódio das variações regionais mais notáveis a dos gaúchos e a dos paulistas, ambas bastante peculiares em relação aos outros estados. Isso porque enquanto no Rio Grande do Sul são comuns as ênfases nas últimas vogais das palavras, geralmente acompanhadas do pronome “tu” em vez de “você”, o grande diferencial dos paulistas está na pronúncia “puxada” da letra R.

Como indicaram os entrevistados, a maneira de pronunciar as palavras em Minas Gerais é, disparada, a mais sexy de todo o país. Nem mesmo os baianos, cuja pontuação chegou a alçá-los à segunda posição, foram capazes de abalar o sucesso nacional dos residentes da terra do pão de queijo. Veja abaixo:

Os sotaques mais charmosos do país segundo brasileiros  
Classificados em uma escala de 1 a 10, sendo 10 o mais bem colocado

Posição	Sotaque	Pontuação
1	Mineiro	10
2	Baiano	8.6
3	Fluminense	8.3
4	Gaúcho	7.4
5	Paulista	6.2
6	Pernambucano	5.2
7	Catarinense	4.8
8	Cearense	4.5

Os sotaques mais charmosos (foto: Preply/Divulgação)  
Disponível em: [https://www.em.com.br/app/noticia/gerais/2023/06/17/interna\\_gerais,1508529/pesquisa-aponta-sotaque-mineiro-como-mais-charmoso-do-brasil.shtml?utm\\_source=onesignal&utm\\_medium=push](https://www.em.com.br/app/noticia/gerais/2023/06/17/interna_gerais,1508529/pesquisa-aponta-sotaque-mineiro-como-mais-charmoso-do-brasil.shtml?utm_source=onesignal&utm_medium=push)  
Acesso em: 17 jun. 2023.

### QUESTÃO 1

De acordo com o texto I, é correto afirmar que a plataforma dedicada ao aprendizado de idiomas

- A) decidiu que o falar mineiro se destaca no país.
- B) determinou a pontuação dos sotaques brasileiros.
- C) definiu que o falar fluminense é o mais desejado no país.
- D) divulgou os estados do Brasil com sotaques marcantes.

### QUESTÃO 2

Considerando-se a construção desse texto, é incorreto afirmar que, no segundo parágrafo do texto, o autor apresenta

- A) a variação linguística dos entrevistados.
- B) a quantidade de indivíduos entrevistados.
- C) o percentual de internautas por região.
- D) o percentual de internautas por sexo.

### QUESTÃO 3

De acordo com a estruturação desse texto, é correto afirmar que

- A) no terceiro parágrafo, são apontados os três estados brasileiros com sotaques nacionais insignificantes.
- B) no terceiro e quarto parágrafos, o falar do Rio de Janeiro é apontado como um dos sotaques mais proeminentes.
- C) no quinto parágrafo, são registrados os estados brasileiros com as variações nacionais mais respeitadas.
- D) no sexto parágrafo, é enaltecido o sucesso dos baianos e o das palavras usadas no território de Minas Gerais.

#### QUESTÃO 4

Considerando os dois quadros apresentados no texto I, assinale a alternativa correta.

- A) A marca dos falares baiano e paulista faz com que ocupem o quinto e o segundo lugar, nessa ordem, nos *rankings*, conforme o quadro 1.
- B) Liderando o *ranking* de sotaques inconfundíveis e atraentes estão o mineiro e o fluminense, respectivamente, conforme o quadro 2.
- C) O sucesso do falar do Rio Grande do Sul ocupa o mesmo lugar no *ranking* das pronúncias sedutoras e inconfundíveis nos quadros 1 e 2.
- D) Os últimos lugares dos sotaques mais aspirados pelos brasileiros são os falares catarinense e cearense, conforme o quadro 2.

#### QUESTÃO 5

Assinale a alternativa em que a concordância verbal está correta.

- A) Chegou mais cedo do que o esperado as encomendas enviadas pela loja.
- B) Um bando de estudantes fazia uma batucada em frente à janela do síndico.
- C) Mais de uma mulher quiseram trocar as mercadorias compradas pela internet.
- D) O escritor com seus assessores resolveu mudar a data do lançamento do livro.

#### QUESTÃO 6

Em relação à concordância verbal, assinale a alternativa em que uma das duas formas está incorreta.

- A) Faltou entusiasmo e competência na equipe de futebol.  
Faltaram entusiasmo e competência na equipe de futebol.
- B) A maioria dos jornalistas aprovou a matéria publicada.  
A maioria dos jornalistas aprovaram a matéria publicada.
- C) Construiu-se a base de sociedades democráticas no mundo.  
Construíram-se a base de sociedades democráticas no mundo.
- D) Fomos nós quem votou nos candidatos eleitos em nosso país.  
Fomos nós quem votamos nos candidatos eleitos em nosso país.

**INSTRUÇÃO:** Leia o texto II a seguir para responder às questões de 7 a 9.

#### TEXTO II

O *Aedes aegypti* é um mosquito com hábitos oportunistas. Por qual razão? É um mosquito doméstico, que vive dentro ou ao redor de domicílios ou de outros locais frequentados por pessoas, como estabelecimentos comerciais, escolas ou igrejas, por exemplo. Tem hábitos preferencialmente diurnos e alimenta-se de sangue humano, sobretudo ao amanhecer e ao entardecer. Mas ele também pode picar à noite. [...] Por ser um mosquito que vive perto do homem, sua presença é mais comum em áreas urbanas, e a infestação é mais intensa em regiões com alta densidade populacional – principalmente, em espaços urbanos com ocupação desordenada, onde as fêmeas têm mais oportunidades para alimentação e dispõem de mais criadouros para desovar. A infestação do mosquito é sempre mais intensa no verão, em função da elevação da temperatura e da intensificação de chuvas – fatores que propiciam a eclosão de ovos do mosquito.

Disponível em: <https://www.ioc.fiocruz.br/dengue/textos/opportunista.html>. Acesso em: 17 jun. 2023.

#### QUESTÃO 7

Com base no texto, é incorreto afirmar que o *Aedes aegypti* é um mosquito

- A) com costumes oportunistas, que prefere viver em áreas urbanas.
- B) com preferência a lugares escuros, que evita estações chuvosas.
- C) que se nutre de sangue humano durante o dia e de noite.
- D) que vive próximo a pessoas em regiões mais povoadas.

#### QUESTÃO 8

Assinale a alternativa em que o termo destacado se classifica como objeto direto.

- A) O *Aedes aegypti* é **um mosquito com hábitos oportunistas**.
- B) Ele não deixa **a oportunidade passar**.
- C) A infestação do mosquito é **sempre mais intensa** no verão.
- D) Essa ação depende sobretudo **do empenho da população**.

#### QUESTÃO 9

Em relação ao seu tipo, o texto II é predominantemente

- A) descritivo, porque se caracteriza pela presença de adjetivos e pelo emprego de verbos que indicam estado.
- B) dissertativo, porque se caracteriza pelas sequências de enunciados de identificação de fenômenos encadeados por relações lógicas.
- C) instrutivo, ou injuntivo porque se caracteriza pela presença de instruções, aconselhamentos, regras com verbos no modo imperativo.
- D) narrativo, porque se caracteriza pela unidade temática em que os acontecimentos são ordenados uma sucessão cronológica.

## QUESTÃO 10

Assinale a alternativa em que o emprego do sinal de crase está de acordo com norma-padrão da Língua Portuguesa.



Disponível em: <https://agramaticaemextincao.blogspot.com/2017/12/uma-analise-das-primeiras-imagens.html>. Acesso em: 16 jun. 2023.



Disponível em: <https://www.tumblr.com/gabrielpluis/99049178691/>. Acesso em: 16 jun..2023



Disponível em: <http://esportes.terra.com.br/lance/rio-2016-chineses-vao-a-todas-as-semis-em-evento-teste-do-badminton,68fc87a1696c9efe8446e58b0981658fn22luntj.html>. Acesso em: 16 jun.2023



Disponível em: <https://bancariosriodosul.com.br/default.php?pg=noticia&p1=10856>. Acesso em: 16 jun. 2023

## MATEMÁTICA

### QUESTÃO 11

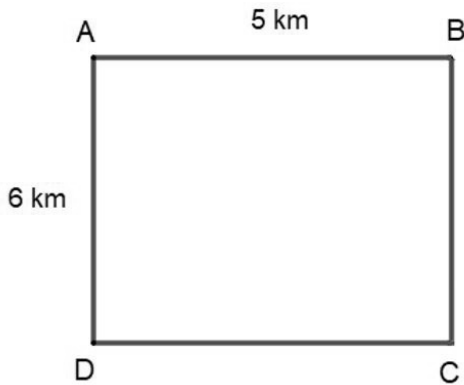
Carlos está realizando uma viagem de Belo Horizonte à cidade de Uberlândia. O município de Uberlândia está a 150 quilômetros da capital do estado. Após percorrer  $\frac{1}{3}$  da viagem, ele fez uma parada.

Quantos quilômetros restam para Carlos concluir a viagem?

- A) 30 km.
- B) 50 km.
- C) 100 km.
- D) 120 km.

### QUESTÃO 12

Um posto móvel da Polícia Militar é responsável por atender às ocorrências de um determinado bairro, cuja área está representada no retângulo ABCD a seguir.



As dimensões dessa área foram destacadas na figura. Qual a área total desse bairro?

- A) 21 km<sup>2</sup>.
- B) 30 km<sup>2</sup>.
- C) 36 km<sup>2</sup>.
- D) 45 km<sup>2</sup>.

### QUESTÃO 13

No supermercado "Precinho", 100 gramas de arroz custam R\$ 0,47. Ana comprou um pacote de 2 quilogramas (kg).

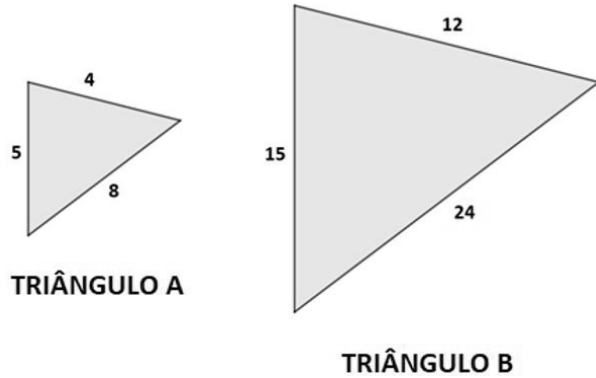
Quanto Ana pagou por esse pacote?

- A) R\$ 9,30.
- B) R\$ 9,40.
- C) R\$ 9,50.
- D) R\$ 9,60.

### QUESTÃO 14

Se as medidas dos três lados de dois triângulos distintos forem proporcionais, é correto dizer que eles são semelhantes.

Por exemplo, os dois triângulos a seguir, com suas dimensões em centímetros, são semelhantes, com razão de proporção igual a 3.



Assinale a alternativa que apresenta corretamente um triângulo semelhante ao triângulo A, com razão de proporção 2. (Considere que as medidas dos lados estão todas em centímetros)

- A) 

Um triângulo com lados 6, 9 e 15.
- B) 

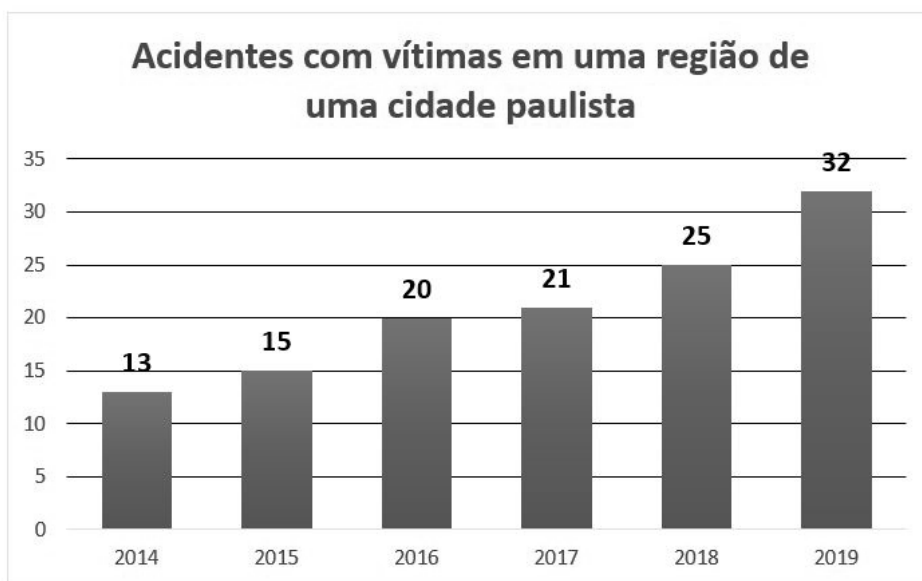
Um triângulo com lados 8, 10 e 16.
- C) 

Um triângulo com lados 7, 11 e 17.
- D) 

Um triângulo com lados 9, 12 e 18.

### QUESTÃO 15

O gráfico a seguir apresenta os registros de acidentes com vítimas, por ano, em uma região de um município paulista.



Considerando as informações do gráfico, é correto afirmar:

- A) No ano de 2017, ocorreram menos de 20 acidentes com vítimas.
- B) Houve menos de 10 acidentes com vítimas no ano de 2014.
- C) Do ano de 2015 para o ano de 2019, o número de acidentes com vítimas mais que dobrou.
- D) Somados os acidentes com vítimas de 2016 e 2018, obtém-se um número menor que 40.

### QUESTÃO 16

Para higienizar hortaliças como alface e rúcula, recomenda-se utilizar uma mistura de 15 mL (uma colher de sopa) para cada litro (1 L) de água e deixá-las de molho em um recipiente com essa mistura.

Se um recipiente possui 6 L de água, quantos mililitros (mL) de água sanitária devem ser acrescentados para preparar essa mistura higienizadora?

- A) 60 mL.
- B) 150 mL.
- C) 180 mL.
- D) 90 mL.

### QUESTÃO 17

A cozinheira Iraci foi à feira livre comprar ingredientes para suas receitas. Os preços de alguns produtos da feira foram listados na tabela a seguir.

PRODUTO	PREÇO POR QUILOGRAMA (kg)
Limão	R\$ 0,80
Beterraba	R\$ 1,60
Cebola	R\$ 1,80
Abobrinha	R\$ 1,50
Cenoura	R\$ 2,00

Iraci comprou 2 kg de cebola e 1 kg de beterraba, usando uma nota de R\$ 20,00. Qual foi o troco recebido por ela?

- A) R\$ 13,80.
- B) R\$ 14,80.
- C) R\$ 15,80.
- D) R\$ 16,80.

### QUESTÃO 18

O delegado de um comando da Polícia Militar designou 78 de seus soldados para uma operação em uma região de tráfico de drogas. Sabe-se que esses soldados correspondem a 50% (ou seja, metade) do total de soldados desse comando.

Quantos soldados, ao todo, esse comando possui?

- A) 104.
- B) 117.
- C) 156.
- D) 195.

### QUESTÃO 19

Qual a média aritmética dos números 29, 30 e 31?

- A) 30.
- B) 29.
- C) 31.
- D) 32.

### QUESTÃO 20

Segundo dados recentes, a cidade de Uberlândia possui uma população de, aproximadamente, 800 000 habitantes.

Sabendo que a cada km<sup>2</sup> (área de um quilômetro quadrado) dessa cidade vivem cerca de 160 habitantes, qual é a área aproximada da cidade de Uberlândia?

- A) 1 600 km<sup>2</sup>.
- B) 8 000 km<sup>2</sup>.
- C) 12 800 km<sup>2</sup>.
- D) 5 000 km<sup>2</sup>.

## CONHECIMENTOS GERAIS

### QUESTÃO 21

Estudos [...] apontam que o uso excessivo de telas em crianças e adolescentes é capaz de gerar danos na saúde mental, como aumento da depressão, solidão, ansiedade e falta de sono.

Disponível em: <https://www1.folha.uol.com.br/equilibrioesaude/2023/05/cerebro-imaturo-torna-criancas-e-jovens-vulneraveis-a-perigos-das-redes-sociais-entenda.shtml>. Acesso em: 27 maio 2023. [Fragmento]

Diante desse cenário, a recomendação médica sobre o uso de celulares por crianças e adolescentes é

- A) controle do tempo e formas de uso.
- B) fazer uso conforme recomendação médica.
- C) limitar o uso apenas a funções escolares.
- D) proibição de uso até se tornar adulto.

### QUESTÃO 22

Em Uberlândia, os cidadãos podem acompanhar os gastos públicos executados pela Prefeitura Municipal por meio

- A) da Câmara Municipal.
- B) da Controladoria Geral do Município.
- C) do Portal da Transparência.
- D) da Secretaria de Governo e Comunicação.

### QUESTÃO 23

Minas Gerais enfrenta um aumento alarmante de casos e mortes relacionados às doenças transmitidas pelo mosquito *Aedes aegypti*. De acordo com a última atualização divulgada pela Secretaria de Estado de Saúde (SES), Uberlândia é o município com o maior número de mortes por dengue, registrando dez vítimas fatais, além de 18.722 casos confirmados.

Disponível em: <https://regionalzao.com.br/2023/05/26/surto-de-doencas-transmitidas-pelo-aedes-aegypti-em-minas-gerais-preocupa-autoridades/>. Acesso em: 28 maio 2023. [Fragmento]

Além da dengue, o mosquito *Aedes aegypti* também transmite

- A) Chikungunya e Zika vírus.
- B) Chikungunya e Covid-19.
- C) Covid-19 e gripe.
- D) gripe e Zika vírus.

### QUESTÃO 24

As pessoas que escolheram viver, ou moram há muito tempo em Uberlândia, mas não nasceram na cidade, são conhecidas como

- A) uberlandino.
- B) uberlandense.
- C) uberlandinhense.
- D) uberlandinense.

### QUESTÃO 25

[O] Espaço da Biblioteca Pública Municipal criado para atender às crianças e jovens com acervo específico para o público infanto-juvenil [...] recebeu o nome de Vovó Caximbó em homenagem a Maria Inês Mendonça, a Vovó Caximbó.

Maria Inês Mendonça, [...] muito conhecida pela personagem Vovó Caximbó, é uma das figuras mais famosas no ramo das artes em Uberlândia e região.

Disponível em: <https://www.uberlandia.mg.gov.br/prefeitura/secretarias/cultura-e-turismo/centro-municipal-de-cultura/>. Acesso em: 10 jun. 2023. [Fragmento]

A personagem Vovó Caximbó surgiu como

- A) contadora de histórias.
- B) guardiã da memória afetiva de Uberlândia.
- C) quituteira e quitandeira.
- D) representação da afetividade dos idosos.



### QUESTÃO 26

O principal problema de uma Fake News é a disseminação desse tipo de informação. Um estudo feito pelo Instituto de Tecnologia de Massachusetts (MIT) mostrou que essas notícias falsas se espalham 70% mais rápido do que as verdadeiras.

Disponível em: <https://www.security.ufrj.br/dicas/fake-news-como-identificar-e-evitar-a-disseminacao/>. Acesso em: 13 jun. 2023. [Fragmento]

As Fake News, notícias falsas, se espalham mais rapidamente que as verdadeiras por meio de

- A) imprensa televisiva.
- B) jornais sensacionalistas.
- C) programas de rádio.
- D) redes sociais.

### QUESTÃO 27

O distrito de Uberlândia, cuja denominação significa “gente bonita”, é

- A) Cruzeiro dos Peixotos.
- B) Martinésia.
- C) Miraporanga.
- D) Tapuirama.

### QUESTÃO 28

O Brasil detém o maior percentual de eletricidade limpa do G20 (Grupo dos países mais ricos do mundo) (89%) e é líder na América Latina em geração de energia a partir de fontes renováveis.

Disponível em: <https://oglobo.globo.com/um-so-planeta/noticia/2023/05/em-risco-de-extincao-arara-azul-de-lear-freia-projeto-eolico-na-bahia.ghtml>. Acesso em: 5 jun. 2023. [Fragmento]

São consideradas energias limpas aquelas que

- A) não causam danos ao meio ambiente.
- B) não poluem a atmosfera.
- C) têm o Brasil como líder mundial de produção.
- D) são originárias de fontes fósseis.

### QUESTÃO 29

A transmissão não é feita de pessoa para pessoa e acontece após a picada do carrapato, que deve ficar cerca de quatro horas grudado na pele. O problema é que os micuins — carrapatos jovens e pequenos — também são transmissores e são difíceis de serem vistos a olho nu. O principal foco de concentração da doença no Brasil é na região Sudeste.

Disponível em: <https://www.uol.com.br/vivabem/noticias/redacao/2023/06/15/quais-sao-os-tipos-de-febres-que-existem-no-mundo-e-as-mais-perigosas.htm?cmpid=copiaecola>. Acesso em: 16 jun. 2023. [Fragmento]

O texto faz referência a uma doença transmitida pela picada do carrapato estrela, que é conhecida como febre

- A) aftosa.
- B) amarela.
- C) maculosa.
- D) tifoide.

### QUESTÃO 30

A área externa do Centro Municipal de Cultura que abriga feiras gastronômicas, feiras de artesanato e apresentações artísticas das diversas linguagens, recebeu o nome da dupla caipira mais querida da região: Pena Branca e Xavantinho.

Disponível em: <https://uberground.com.br/centro-municipal-de-cultura-leva-vivacidade-ao-centro-de-uberlandia/>. Acesso em: 10 jun. 2023. [Fragmento]

Os verdadeiros nomes da dupla Pena Branca e Xavantinho, que tem sua origem musical em Uberlândia, são

- A) Alexandre Pires e Fernando Pires.
- B) Diego Félix Pereira e Elias Anderson de Souza.
- C) José Ramiro Sobrinho e Ranulfo Ramiro da Silva.
- D) Vinicius Félix de Miranda e José Roberto Ferreira.



# FOLHA DE RESPOSTAS (VERSÃO DO CANDIDATO)

1	A	B	C	D	16	A	B	C	D
	<input type="checkbox"/>	<input type="checkbox"/>	<input type="checkbox"/>	<input type="checkbox"/>		<input type="checkbox"/>	<input type="checkbox"/>	<input type="checkbox"/>	<input type="checkbox"/>
2	A	B	C	D	17	A	B	C	D
	<input type="checkbox"/>	<input type="checkbox"/>	<input type="checkbox"/>	<input type="checkbox"/>		<input type="checkbox"/>	<input type="checkbox"/>	<input type="checkbox"/>	<input type="checkbox"/>
3	A	B	C	D	18	A	B	C	D
	<input type="checkbox"/>	<input type="checkbox"/>	<input type="checkbox"/>	<input type="checkbox"/>		<input type="checkbox"/>	<input type="checkbox"/>	<input type="checkbox"/>	<input type="checkbox"/>
4	A	B	C	D	19	A	B	C	D
	<input type="checkbox"/>	<input type="checkbox"/>	<input type="checkbox"/>	<input type="checkbox"/>		<input type="checkbox"/>	<input type="checkbox"/>	<input type="checkbox"/>	<input type="checkbox"/>
5	A	B	C	D	20	A	B	C	D
	<input type="checkbox"/>	<input type="checkbox"/>	<input type="checkbox"/>	<input type="checkbox"/>		<input type="checkbox"/>	<input type="checkbox"/>	<input type="checkbox"/>	<input type="checkbox"/>
6	A	B	C	D	21	A	B	C	D
	<input type="checkbox"/>	<input type="checkbox"/>	<input type="checkbox"/>	<input type="checkbox"/>		<input type="checkbox"/>	<input type="checkbox"/>	<input type="checkbox"/>	<input type="checkbox"/>
7	A	B	C	D	22	A	B	C	D
	<input type="checkbox"/>	<input type="checkbox"/>	<input type="checkbox"/>	<input type="checkbox"/>		<input type="checkbox"/>	<input type="checkbox"/>	<input type="checkbox"/>	<input type="checkbox"/>
8	A	B	C	D	23	A	B	C	D
	<input type="checkbox"/>	<input type="checkbox"/>	<input type="checkbox"/>	<input type="checkbox"/>		<input type="checkbox"/>	<input type="checkbox"/>	<input type="checkbox"/>	<input type="checkbox"/>
9	A	B	C	D	24	A	B	C	D
	<input type="checkbox"/>	<input type="checkbox"/>	<input type="checkbox"/>	<input type="checkbox"/>		<input type="checkbox"/>	<input type="checkbox"/>	<input type="checkbox"/>	<input type="checkbox"/>
10	A	B	C	D	25	A	B	C	D
	<input type="checkbox"/>	<input type="checkbox"/>	<input type="checkbox"/>	<input type="checkbox"/>		<input type="checkbox"/>	<input type="checkbox"/>	<input type="checkbox"/>	<input type="checkbox"/>
11	A	B	C	D	26	A	B	C	D
	<input type="checkbox"/>	<input type="checkbox"/>	<input type="checkbox"/>	<input type="checkbox"/>		<input type="checkbox"/>	<input type="checkbox"/>	<input type="checkbox"/>	<input type="checkbox"/>
12	A	B	C	D	27	A	B	C	D
	<input type="checkbox"/>	<input type="checkbox"/>	<input type="checkbox"/>	<input type="checkbox"/>		<input type="checkbox"/>	<input type="checkbox"/>	<input type="checkbox"/>	<input type="checkbox"/>
13	A	B	C	D	28	A	B	C	D
	<input type="checkbox"/>	<input type="checkbox"/>	<input type="checkbox"/>	<input type="checkbox"/>		<input type="checkbox"/>	<input type="checkbox"/>	<input type="checkbox"/>	<input type="checkbox"/>
14	A	B	C	D	29	A	B	C	D
	<input type="checkbox"/>	<input type="checkbox"/>	<input type="checkbox"/>	<input type="checkbox"/>		<input type="checkbox"/>	<input type="checkbox"/>	<input type="checkbox"/>	<input type="checkbox"/>
15	A	B	C	D	30	A	B	C	D
	<input type="checkbox"/>	<input type="checkbox"/>	<input type="checkbox"/>	<input type="checkbox"/>		<input type="checkbox"/>	<input type="checkbox"/>	<input type="checkbox"/>	<input type="checkbox"/>

AO TRANSFERIR ESSAS MARCAÇÕES PARA A FOLHA DE RESPOSTAS,  
OBSERVE AS INSTRUÇÕES ESPECÍFICAS DADAS NA CAPA DA PROVA.

**USE CANETA ESFEROGRÁFICA AZUL OU PRETA.**

**ATENÇÃO:  
AGUARDE AUTORIZAÇÃO  
PARA VIRAR O CADERNO DE PROVA.**