



Concurso Público para provimento dos cargos do quadro de pessoal
da Prefeitura Municipal de Cidade Ocidental – GO

FISCAL DE POSTURAS

CADERNO DE QUESTÕES

29/10/2023

DISCIPLINA	QUESTÕES
Língua Portuguesa	01 a 10
Matemática	11 a 20
Atualidades e História, Geografia e Conhecimentos Gerais de Goiás e de Cidade Ocidental – GO	21 a 25
Noções de Informática	26 a 30
Conhecimentos Específicos do Cargo	31 a 50

SOMENTE ABRA ESTE CADERNO QUANDO AUTORIZADO

LEIA ATENTAMENTE AS INSTRUÇÕES

Atenção: Transcreva no espaço designado da sua FICHA DE IDENTIFICAÇÃO, com sua caligrafia usual, considerando as letras maiúsculas e minúsculas, a seguinte frase:

Pedras jogadas ao chão.

1. Quando for autorizado abrir o caderno de questões, verifique se ele está completo ou se apresenta imperfeições gráficas que possam gerar dúvidas. Se isso ocorrer, solicite outro exemplar ao(a) fiscal de sala.
2. Este caderno é composto por questões de múltipla escolha. Cada questão apresenta quatro alternativas de respostas, das quais apenas uma é a correta.
3. O cartão-resposta é personalizado e não será substituído em caso de erro no preenchimento. Ao recebê-lo, confira se seus dados estão impressos corretamente. Se houver erro de impressão, notifique o(a) fiscal de sala.
4. Preencha, integralmente, um alvéolo por questão, utilizando caneta de tinta AZUL ou PRETA, fabricada em material transparente. A questão deixada em branco, com rasura ou com marcação dupla terá pontuação ZERO.

CONCURSO PÚBLICO

Leia o Texto 1 para responder às questões de 01 a 04.

Texto 1

Quem frequenta os restaurantes de culinária japonesa já deve ter reparado em um alimento alaranjado (ou rosa) em forma de palitinho no meio das saladas. Apesar de muitos acharem que é caranguejo, o kani-kama, como esses palitinhos são chamados, é preparado com carne processada de diversos frutos do mar, inclusive caranguejo. Geralmente, é feito de polpa de peixe branco misturada com amido, clara de ovo e outros ingredientes. Dependendo do tipo, pode ter conservantes e corantes e é considerado um alimento processado. Para se ter uma ideia, o kani-kama é conhecido como salsicha do mar, devido às grandes quantidades de componentes artificiais.

Disponível em:

<<https://www.uol.com.br/vivabem/noticias/redacao/2023/09/01/kani-kama-e-caranguejo-mesmo-e-saudavel.htm>>. Acesso em: 02 set. 2023. [Adaptado].

QUESTÃO 01

A alcunha “salsicha do mar” para o kani-kama é uma conotação

- (A) publicitária.
- (B) científica.
- (C) pejorativa.
- (D) atrativa.

QUESTÃO 02

No segmento “como esses palitinhos são chamados”, o pronome demonstrativo é

- (A) anafórico.
- (B) catafórico.
- (C) espacial.
- (D) temporal.

QUESTÃO 03

No segmento “Apesar de muitos acharem que é caranguejo”, usa-se o recurso sintático da

- (A) condição.
- (B) finalidade.
- (C) causa.
- (D) concessão.

QUESTÃO 04

No segmento “devido às grandes quantidades de componentes artificiais”, a crase entre o artigo e a preposição está marcada pelo seguinte acento ou sinal diacrítico:

- (A) agudo.
- (B) grave.
- (C) circunflexo.
- (D) til.

Leia o Texto 2 para responder às questões de 05 a 08.

Texto 2**Para baixo e avante!**

O mundo tá muito errado e não precisamos do ChatGPT para resolver nossos problemas

Você tá descendo uma pirambeira numa mobilete, sem freio, em direção a um abismo. Aí chega um pessoal e propõe “Vamos botar uma turbina nessa joça!”. É mais ou menos o que tá rolando com a Inteligência Artificial. O mundo tá virado pro lado errado: aumentar a eficiência no percurso só vai nos fazer despencar mais rápido.

Vai vendo: na revista New Yorker da semana passada tem uma matéria apavorante sobre plástico e microplásticos. Entre a Califórnia e o Havaí surgiu um lixão flutuante com 1,6 milhão de quilômetros quadrados. Uma ilha gigante, maior que o estado do Amazonas, feita de garrafas PET, sacolas de supermercado, potinhos de iogurte, embalagens de miojo, enfim, esses itens realmente essenciais para a subsistência do *Homo sapiens*.

Disponível em:

<<https://www1.folha.uol.com.br/colunas/antonioprata/2023/07/para-baixo-e-avante.shtml>>. Acesso em: 30 ago. 2023. [Adaptado].

QUESTÃO 05

O gênero do texto, pelo estilo, tema e estrutura do excerto é

- (A) notícia.
- (B) crônica.
- (C) editorial.
- (D) reportagem.

QUESTÃO 06

Na relação entre o título e o subtítulo do texto, considerando-se o excerto, encontra-se o seguinte paradoxo:

- (A) a humanidade não tem tecnologia suficiente e isso é a razão da nossa crise.
- (B) a inteligência artificial vai superar os seres humanos e a crise aumentará.
- (C) a tecnologia é o problema, abandoná-la seria a solução de nossas dificuldades.
- (D) a evolução tecnológica vai acelerar nossos erros sem melhorar a situação.

QUESTÃO 07

A cena apocalíptica inicial é marcada pelo uso da linguagem

- (A) coloquial.
- (B) formal.
- (C) escatológica.
- (D) técnica.

QUESTÃO 08

Apesar de seu tom irônico, o segundo parágrafo do texto é fortemente argumentativo pelo uso enfático da

- (A) nomeação dos responsáveis listados.
- (B) explicação detalhada das causas.
- (C) descrição dos elementos poluentes.
- (D) indicação da fonte da informação.

QUESTÃO 09

A frase que segue as regras de concordância verbo-nominais, de acordo com a gramática normativa, é:

- (A) Antes do final do ano, foi adotado em todo o estado, sob a forma da Lei, novas regras de saneamento básico e de distribuição de água tratada.
- (B) Paralisado desde o governo anterior, sob a alegação de falta de recursos, a construção do novo complexo hospitalar, previsto há mais de cinco anos, foi retomado.
- (C) Sob o efeito de fortes chuvas, foram interrompidas as obras da BR 153, iniciadas no mês passado, entre Goiânia e Brasília.
- (D) Foi assinada no dia de ontem, pelo Secretário de Obras do Município, finalmente, as últimas emendas deixadas em aberto por seu antecessor.

QUESTÃO 10

Na frase “O pai nunca deixou de cuidar do filho em sua casa”, há o seguinte problema linguístico:

- (A) ambiguidade sintática.
- (B) pleonasma vicioso.
- (C) cacofonia chula.
- (D) desvio ortográfico.

RASCUNHO

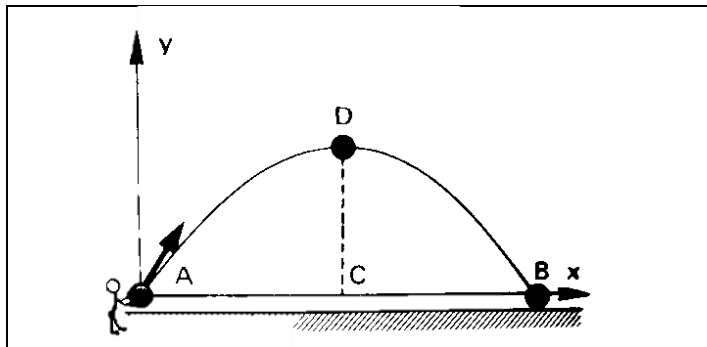
QUESTÃO 11

Considere que um objeto caindo livremente percorre 5m no primeiro segundo, 15m no segundo seguinte e 25m no terceiro segundo. Nessa sequência, qual será o percurso total percorrido após 8 segundos?

- (A) 300 m.
 (B) 310 m.
 (C) 320 m.
 (D) 330 m.

QUESTÃO 12

Sabe-se que a trajetória de um corpo lançado obliquamente, desprezados os efeitos do ar, é uma parábola. Um corpo lançado a partir do solo (observado na figura a seguir) descreve uma parábola de equação $y = 120x - 4x^2$, onde x e y estão medidas em metros.

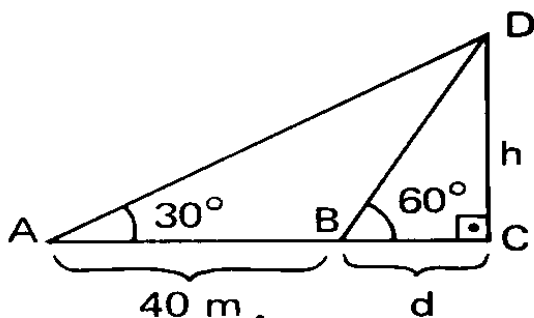


A altura máxima atingida pelo corpo é de

- (A) 900 m.
 (B) 800 m.
 (C) 700 m.
 (D) 600 m.

QUESTÃO 13

Um observador, em A, vê uma torre vertical CD, sob um ângulo de 30° e, caminhando até B, passa a vê-la sob um ângulo de 60° , conforme a figura a seguir.



Sendo $AB = 40$ metros, qual é a altura h da torre CD ?

- (A) $10\sqrt{3}$ m.
 (B) $15\sqrt{3}$ m.
 (C) $20\sqrt{3}$ m.
 (D) $25\sqrt{3}$ m.

QUESTÃO 14

Um famoso instituto de pesquisa mostrou que um trabalhador que recebe um salário bruto de R\$ 6.500,00 por mês é tributado em 13,3%. Se esse mesmo trabalhador possui um gasto de R\$ 4.800,00 por mês com escola, supermercado, plano de saúde, plano de internet e outros serviços, deverá pagar 31,5% de tributos sobre o valor dos produtos e serviços que consome. Dessa forma, qual será o percentual total aproximado do salário gasto com tributos?

- (A) 31%.
 (B) 33%.
 (C) 35%.
 (D) 37%.

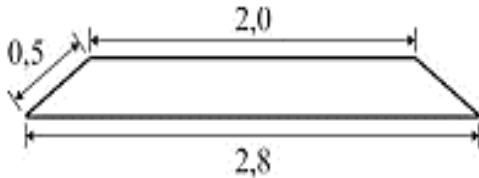
QUESTÃO 15

Ao preencher uma ficha cadastral para admissão em uma empresa, os candidatos deveriam possuir ensino médio ou ensino superior, ambos completos. Compareceram 500 candidatos com ensino médio completo e 100 candidatos com ensino superior completo. Na prova de Língua Portuguesa, a média aritmética geral, considerando todos os candidatos, foi 4,0. Mas, considerando apenas os candidatos com ensino médio completo, a média cai para 3,8. Então, a média dos candidatos com curso superior completo, na prova de Língua Portuguesa, foi

- (A) 5,2.
 (B) 5,0.
 (C) 6,2.
 (D) 6,0.

QUESTÃO 16

Em uma estrada de ferro, os dormentes e os trilhos são assentados sobre uma base composta basicamente por brita. Essa base (ou lastro) tem uma seção trapezoidal. A base menor do trapézio, que é isósceles, tem 2 m, a base maior tem 2,8 m e as arestas laterais têm 50 cm de comprimento, conforme representado na figura abaixo.



Qual a área desse trapézio?

- (A) 1,2 m².
 (B) 0,72 m².
 (C) 2,4 m².
 (D) 1,44 m².

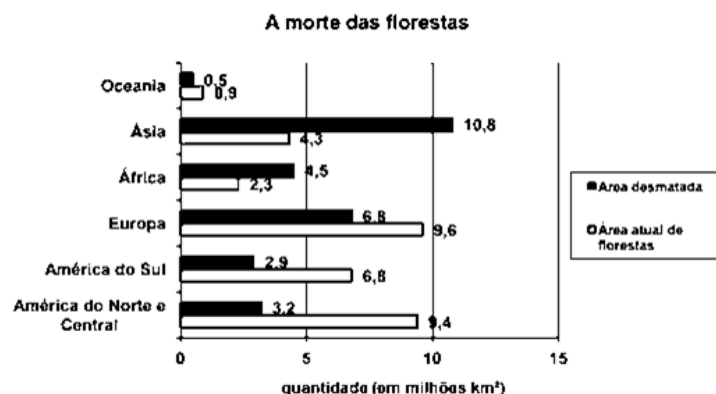
QUESTÃO 17

Uma casquinha de sorvete é um cone de altura 10 cm e raio da base 2 cm. Coloca-se neste cone duas medidas de sorvete com forma esférica e raio 2 cm. Ao derreter o sorvete, qual será o volume que transbordará da casquinha?

- (A) 16π cm³.
 (B) 12π cm³.
 (C) 10π cm³.
 (D) 8π cm³.

QUESTÃO 18

Um estudo sobre o estado das florestas do planeta e o que foi devastado pela ocupação humana foi feito por uma ONG que monitora o desmatamento nos continentes periodicamente e os dados estão representados no gráfico a seguir.



De acordo com os dados presentes nesse gráfico, qual é a diferença entre a área atual das florestas e a área desmatada?

- (A) 4,6 milhões km².
 (B) 28,7 milhões km².
 (C) 33,3 milhões km².
 (D) 62 milhões km².

QUESTÃO 19

O valor racional de x que satisfaz a equação $\frac{1}{x} + \frac{2}{x+1} + \frac{4}{x-3} = 0$ é:

- (A) $\frac{3}{7}$
 (B) $\frac{7}{3}$
 (C) $-\frac{7}{3}$
 (D) $-\frac{3}{7}$

QUESTÃO 20

Os valores de x que satisfazem a inequação $\left| \frac{x-2}{x+3} \right| < 1$ são:

- (A) $x > \frac{1}{2}$
 (B) $x > -\frac{1}{2}$
 (C) $x > \frac{3}{2}$
 (D) $x > -\frac{3}{2}$

RASCUNHO

QUESTÃO 24

Leia a charge a seguir.



Disponível em: <<https://diplomatique.org.br/wp-content/uploads/2018/05/uber.jpg>>. Acesso em: 31 de ago. 2023.

A escravidão, legalmente abolida no Brasil, não significou o fim de toda forma de exploração humana nas relações de trabalho. Verifica-se, mesmo assim, um aumento no número de pessoas que têm trabalhos precarizados, acarretando graves consequências econômicas e sociais, como exemplifica a charge ao apresentar

- (A) o risco do trabalho com aplicativos de viagem.
- (B) as condições de trabalhos autônomos no país.
- (C) o retorno gradual do sistema escravagista no país.
- (D) a possibilidade de cada pessoa ser seu próprio patrão.

RASCUNHO**QUESTÃO 25**

Leia o texto a seguir.

Em virtude da grande quantidade de rejeitos e da velocidade em que foram liberados, a lama destruiu grande parte da vegetação local e causou a morte de diversas espécies de animais. É importante salientar que a região abrigava uma grande área remanescente da Mata Atlântica, um bioma com grande biodiversidade. Houve, portanto, uma enorme perda. De acordo com o Instituto Estadual de Florestas (IEF) a área da vegetação impactada representa 147,38 hectares.

Disponível em: <<https://mundoeducacao.uol.com.br/biologia/desastre-ambiental>>. Acesso em: 18 ago. 2021.

Considerado um dos maiores desastres ambientais da história do Brasil, o rompimento de barragem de uma importante mineradora causou danos irreparáveis, desde a morte de pessoas até a destruição material de comunidades inteiras e de um dos mais importantes rios da região Sudeste. O acidente em questão refere-se a

- (A) Ouroana, em Rio Verde.
- (B) Serra da Mesa, em Minaçu.
- (C) Brumadinho, em Mariana.
- (D) Guilherme Pontes, em Sairé.

RASCUNHO

QUESTÃO 26

Uma das formas de desinstalar um programa do sistema operacional Windows é utilizando o item "Programa e Recursos", que pode ser acessado através do

- (A) Painel de Controle.
- (B) Painel de Recursos.
- (C) Painel de Configurações.
- (D) Painel de Programas.

QUESTÃO 27

O *Paint* é um editor gráfico simples e poderoso com uma variedade de usos. O que é possível fazer com esse aplicativo?

- (A) Importar e editar arquivos de áudio.
- (B) Fazer edições rápidas em imagens e fotos.
- (C) Importar e editar vídeos.
- (D) Criar animações complexas com quadros-chave.

QUESTÃO 28

Os nomes de arquivo do Windows são divididos em duas partes por um ponto: a primeira é o nome do arquivo e a segunda é uma extensão de três ou quatro caracteres. As extensões dizem ao computador qual aplicativo criou ou pode abrir o arquivo. A extensão que instrui o computador que o arquivo é de formato de documento portátil é

- (A) potx.
- (B) psd.
- (C) png.
- (D) pdf.

QUESTÃO 29

O processador de texto Microsoft Word possui um recurso para incluir equações matemáticas. A função "Inserir equação" no Word permite

- (A) criar e editar planilhas de modelo simples.
- (B) inserir desenhos e imagens tridimensionais.
- (C) criar e editar fotos para catálogos publicitários.
- (D) criar e editar equações matemáticas complexas.

QUESTÃO 30

O atalho de teclado é uma tecla ou um conjunto de teclas que quando pressionadas fornecem uma maneira alternativa de fazer algo que você normalmente faria com um mouse. Na família de sistemas operacionais Microsoft Windows, a combinação de teclas que apaga um item selecionado sem movê-lo para a Lixeira primeiro é

- (A) Ctrl + Delete
- (B) Shift + Delete
- (C) Tecla do logotipo do Windows + D
- (D) Alt + D

RASCUNHO

QUESTÃO 31

O Código de Posturas 727, de 2009, entre outras disposições, trata da conservação da fauna, flora, arborização e áreas verdes. Com relação à arborização, de acordo com o código de posturas,

- (A) particulares poderão remover árvores da porta de suas casas, desde que seja imprescindível.
- (B) corte de árvores em logradouros públicos é de responsabilidade da prefeitura local.
- (C) uso de árvores como suporte de produtos, sem nelas causar danos, pode ser feito por vendedores ambulantes.
- (D) replantio de novas mudas é opcional em casos de remoção de árvores situadas em logradouro público.

QUESTÃO 32

O Código de Posturas 727, de 2009, determina que, caso um edifício cujo laudo de perícia técnica alerte para o risco de ruir, o Poder Público deverá

- (A) interditar o edifício.
- (B) iniciar a demolição do prédio em 72 horas.
- (C) processar o proprietário do edifício por construção irregular.
- (D) dar um prazo de 48 horas para que o prédio seja desocupado.

QUESTÃO 33

Com relação à higiene dos logradouros públicos, o Código de Posturas 727, de 2009, menciona em seu texto que

- (A) as edificações podem lançar águas servidas para logradouro público quando não houver sistema de coleta local.
- (B) a queima de detritos ou objetos, em qualquer quantidade, deverá ser feita nos quintais dos moradores, sendo vedada a queima em lotes baldios.
- (C) a condução de doentes portadoras de moléstias infectocontagiosas no município de Cidade Ocidental é autorizada desde que se façam cumprir as precauções de higiene para fins de tratamento.
- (D) a remoção de resíduos, detritos e impurezas dispostos, por autorização, nos logradouros públicos é de responsabilidade da prefeitura, por meio de concessão de municipalidade.

QUESTÃO 34

A Lei nº 1.146/2018 regulamenta as feiras livres no município de Cidade Ocidental. De acordo com essa lei, é permitido ao feirante

- (A) estacionar ou parar para carga/descarga no galpão da feira.
- (B) cadastrar duas pessoas adicionais para serem responsáveis por sua banca na sua ausência.
- (C) ter, no máximo, quatro faltas consecutivas sem apresentar justificativa à fiscalização de posturas.
- (D) obter a concessão de mais de uma licença ao mesmo feirante, na mesma feira, desde que comercialize produtos diferentes.

QUESTÃO 35

Para a comercialização de carnes nas feiras, sem contaminação do produto, medidas de higiene são necessárias. Para tanto, recomenda-se

- (A) vender carnes embaladas em embalagem descartável.
- (B) oferecer carnes provenientes de abatedores caseiros.
- (C) higienizar as mãos para manuseio do dinheiro e das carnes.
- (D) impermeabilizar mesas ou locais onde houver manipulação das carnes.

QUESTÃO 36

A Lei nº 1.284/2021 trata da regularização fundiária de núcleos e assentamentos irregulares, com a finalidade de dotar seus moradores da titulação do terreno. Pode requerer a regularização fundiária

- (A) a OAB.
- (B) o CREA.
- (C) o Tribunal de Justiça.
- (D) o Ministério Público.

QUESTÃO 37

Para a regularização fundiária, é necessário que o projeto urbanístico da área contenha obras de infraestrutura consideradas essenciais. É considerada obra essencial

- (A) a pavimentação.
- (B) o sistema de coleta de água pluvial.
- (C) o sistema de coleta e tratamento do esgotamento sanitário.
- (D) a infraestrutura para implantação de escola e creche.

QUESTÃO 38

A Lei nº 1.101/2018 trata da regularização de obras em desacordo com o plano diretor, do código de obras e edificações e ocupação do solo do município de Cidade Ocidental. É documento obrigatório que faz parte do processo de regularização das obras

- (A) a declaração de renda.
- (B) a licença ambiental.
- (C) a outorga de uso de água.
- (D) o projeto estrutural, com ART ou RRT.

QUESTÃO 39

De acordo com lei municipal, todos os edifícios do município de Cidade Ocidental devem ser acessíveis. Um instrumento que auxilia no acesso de pessoas com deficiência às edificações é

- (A) a plataforma móvel.
- (B) o elevador adequado.
- (C) a cadeira de rodas motorizada.
- (D) a rampa com acionamento elétrico.

QUESTÃO 40

A Lei nº 1.101/2018 prescreve que para a emissão do alvará de aceite da edificação é necessário

- (A) promover medidas compensatórias quando a taxa de permeabilidade estiver em desacordo com a legislação.
- (B) demolir construções erigidas sobre as divisas laterais e/ou nos fundos do terreno.
- (C) ter aberturas para terrenos vizinhos, desde que estejam em concordância com o código de posturas.
- (D) regularizar as unidades autônomas em uma mesma edificação, conjuntamente.

QUESTÃO 41

Ruídos podem causar transtornos tanto aos seres humanos quanto aos animais, causando problemas auditivos, problemas no sono, irritação e outros. Considerando a contenção de ruídos, o Código de Posturas permite

- (A) sons ou ruídos no interior de veículos de transporte coletivo.
- (B) explosões nos finais de semana, quando necessárias.
- (C) vozes ou sons mecânicos usados em propaganda eleitoral, de acordo com a lei.
- (D) sons diversos nas imediações de escolas, cinemas, teatros e templos religiosos, quando em funcionamento.

QUESTÃO 42

Prédios desprovidos de marquise podem ter incidência de luz solar em seu interior que prejudiquem o interior da edificação, os produtos expostos ou mesmo a habitação humana. Portanto, toldos, fixos ou móveis, poderão ser instalados nos edifícios desprovidos de marquise, de acordo com o Código de Posturas, desde que

- (A) tenham o pé direito máximo de 3 m.
- (B) sejam apoiados em armações de alvenaria ou concreto armado.
- (C) tenham complementos visuais colocados nas cabeceiras, quando instalados no piso térreo.
- (D) estejam limitados à largura do passeio.

QUESTÃO 43

De acordo com a NBR 9050, "as áreas de qualquer espaço ou edificação de uso público ou coletivo devem ser servidas de uma ou mais rotas acessíveis. As edificações residenciais multifamiliares e conjuntos habitacionais" devem ser acessíveis

- (A) em suas áreas comuns.
- (B) nos barriletes.
- (C) nas casas de máquinas.
- (D) nas centrais de gás.

QUESTÃO 44

Pessoas com deficiência de locomoção têm maior dificuldade de se evadirem de uma edificação e, conseqüentemente, de utilizarem a rota de fuga preparada para uma saída emergencial. No intuito de auxiliar as pessoas com deficiência motora, as portas de corredores, acessos, áreas de resgate, escadas de emergência e descargas integrantes de rotas de fugas acessíveis devem ser dotadas de

- (A) visor de vidro.
- (B) sinalização tátil.
- (C) soleira de metal.
- (D) barras antipânico.

QUESTÃO 45

Símbolos gráficos também são utilizados para indicação de elementos presentes em uma edificação, como sistemas de combate a incêndio, elétricos, locais como sanitários, rota de fuga e outros. O símbolo internacional de acesso indica elementos acessíveis ou utilizáveis por pessoas com deficiência

- (A) visual.
- (B) auditiva.
- (C) tátil.
- (D) motora.

QUESTÃO 46

A rota de fuga serve para direcionar os ocupantes de uma edificação para os pontos mais próximos de evacuação. Para tanto, a rota de fuga ser provida de

- (A) extintores de incêndio.
- (B) placas indicativas.
- (C) cadeira de rodas.
- (D) pessoas treinadas para orientar a evacuação.

QUESTÃO 47

Para que seja concedida a licença de funcionamento pela prefeitura, o prédio e as instalações de todo e qualquer estabelecimento comercial, industrial e prestador de serviços deverão

- (A) ter seus equipamentos, mobiliários e produtos já instalados.
- (B) ser providos de sistema contábil.
- (C) ser previamente fiscalizados pelos órgãos competentes.
- (D) apresentar laudo técnico por profissional habilitado.

QUESTÃO 48

O grande volume de veículos presentes nas cidades faz com que locais particulares de guarda e estacionamento de veículos se façam presentes, auxiliando a desafogar a necessidade de locais de estacionamento público. Mesmo sendo um local particular, o Poder Público deve atuar no sentido de fiscalizar esses locais. Assim, o licenciamento de locais para estacionamento e guarda particular de veículos só poderá ocorrer se o terreno estiver

- (A) pavimentado.
- (B) escriturado.
- (C) murado.
- (D) sinalizado.

QUESTÃO 49

Danos ambientais devem ter a ação do Poder Público sanados rapidamente, pois podem tornar-se de grande monta ou mesmo ficarem irreversíveis, prejudicando o meio ambiente e, conseqüentemente, a população. As autoridades incumbidas da fiscalização ou inspeção para controle ambiental terão acesso às instalações capazes de causar dano ambiental

- (A) a qualquer dia e hora.
- (B) em dias úteis, até 18 h.
- (C) em horário definido em notificação.
- (D) no momento da ocorrência do dano ambiental.

QUESTÃO 50

A poluição do ar pode causar irritação nos olhos, nos pulmões, e se permanecer por um longo período, trazer danos irreversíveis para a saúde humana. O Poder Público, para agir no sentido de coibir as ações que causem a poluição do ar e fazer o seu controle, deve

- (A) cadastrar as fontes causadoras de poluição atmosféricas.
- (B) determinar instalação de equipamentos para reduzir a emissão de poluentes.
- (C) paralisar as atividades poluentes até que o problema seja solucionado.
- (D) apresentar índices aceitáveis de poluentes e dar prazo para que sejam atendidos.

RASCUNHO