

Agente de Combate às Endemias (AMBOS)

Antes de iniciar a prova, leia as instruções:

1. Para fazer a prova, você recebeu:

- este caderno de prova;
- um cartão de respostas.

2. Confira:

- **no cartão de respostas:** nome, número e cargo, emprego ou função da sua inscrição.
- **no caderno de prova:** cargo, emprego ou função da sua inscrição e quantidade de questões.

Este caderno contém: **40 questões**

Duração da prova: **3 horas**

- Incluído o tempo para o preenchimento do cartão de respostas.
- Levar caderno: após **1 hora de prova**.
- Por questões de segurança, o candidato que sair antes desse tempo devolverá ao fiscal da sala, além do cartão de respostas, o caderno de prova.

3. Verifique, no caderno de prova, se:

- faltam folhas e se a sequência e a quantidade de questões estão corretas.
- há imperfeições gráficas que possam causar dúvidas.

4. **Comunique imediatamente ao fiscal qualquer irregularidade! Não serão admitidas reclamações posteriores.**

5. A interpretação das questões é parte integrante da prova, não sendo permitidas perguntas relacionadas ao conteúdo aos fiscais.

6. Não é permitido qualquer tipo de consulta durante a realização da prova, tampouco empréstimo de materiais e comunicação entre os candidatos.

7. **O cartão de respostas é o único documento válido e utilizado para a correção da prova objetiva.** Preencha-o com cuidado, marcando apenas uma alternativa para cada questão.

8. Não rabisque, rasure, amasse ou dobre o cartão de respostas. É vedada a substituição do cartão de respostas decorrente de erro do candidato.

9. Ao concluir a prova, permaneça em seu lugar e comunique ao fiscal de sala, aguardando autorização para entregar o material.

10. Ao terminar a prova, entregue ao fiscal o cartão de respostas devidamente preenchido e assinado.

11. Os três últimos candidatos devem permanecer em sala a fim de acompanhar o fechamento do material.

Fraudar ou tentar fraudar concursos públicos é crime previsto no art. 311-A do Código Penal.

Nome do Candidato:

Nº de Inscrição:

PORTUGUÊS | 10 QUESTÕES

Prioridades

Muito do que gastamos (e nos desgastamos) nesse consumismo feroz podia ser negociado com a gente mesmo: uma hora de alegria em troca daquele sapato. Uma tarde de amor em troca da prestação do carro do ano; um fim de semana em família em lugar daquele trabalho extra que está me matando e ainda por cima detesto.

Não sei se sou otimista demais, ou fora da realidade. Mas, _____ medida que fui gostando mais do meu jeans, camiseta e mocassins, me agitando menos, querendo ter menos, fui ficando mais tranquila e mais divertida. Sapato e roupa simbolizam bem mais do que isso que são: representam uma escolha de vida, uma postura interior.

Nunca fui modelo de nada, graças a Deus. Mas amadurecer me obrigou _____ fazer muita faxina nos armários da alma e na bolsa também. Resistir _____ certas tentações é burrice; mas fugir de outras pode ser crescimento, e muito mais alegria.

Cada um que examine o baú de suas prioridades e faça a arrumação que quiser ou puder.

Que seja para aliviar a vida, o coração e o pensamento — não para inventar de acumular ali mais alguns compromissos estéreis e mortais.

(LUFT, Lya. — adaptado.)

1) Assinalar a alternativa que preenche as lacunas do texto CORRETAMENTE:

- a) à | a | a
- b) a | a | a
- c) à | à | a
- d) a | à | a

2) “Prioridades” é um texto classificado como uma crônica. Sobre o que a autora fala nesses parágrafos?

- a) A crônica incentiva a doação de roupas em campanhas de arrecadação.
- b) O texto apresenta uma reflexão sobre o consumismo e também em relação ao tempo.
- c) O texto trata sobre o amadurecimento pessoal e consequente aumento nas compras.
- d) O texto destaca a importância da doação de roupas a entidades assistenciais.

3) A palavra “amadurecer”, sublinhada no 3º parágrafo do texto, é classificada, quanto ao número de sílabas, como:

- a) Monossílabo.
- b) Dissílabo.
- c) Trissílabo.
- d) Polissílabo.

4) Se trocarmos a palavra “trabalho”, sublinhada no 1º parágrafo, pelo seu plural “trabalhos”, quantas outras palavras deverão ser alteradas também, a fim de se manter a concordância?

- a) Uma.
- b) Duas.
- c) Três.
- d) Quatro.

5) Ler o trecho a seguir e assinalar a alternativa que traz o sentido da parte sublinhada, nesse contexto:

Os colegas passaram horas discutindo o plano secreto. Ficaram tramando sorrateiramente no canto da sala.

- a) Conversando amigavelmente, por passatempo.
- b) Planejando abertamente, de forma clara.
- c) Contando histórias inventadas, imaginadas.
- d) Planejando secretamente, de maneira dissimulada.

6) Identificar o erro na construção a seguir e assinalar a alternativa que o descreve e corrige:

Devem haver muitos animais espalhados na floresta junto às formigas.

- a) “Devem” deve ser substituído por “Deve”.
- b) “Haver” deve ser substituído por “haverem”.
- c) “Junto” deve ser substituído por “juntos”.
- d) “Às” deve ser substituído por “as”.

MATEMÁTICA | 8 QUESTÕES

7) Considerando-se a função das vírgulas usadas nas frases, numerar a 2ª coluna de acordo com a 1ª e, após, assinalar a alternativa que apresenta a sequência CORRETA:

- (1) Separar palavras em uma enumeração.
 (2) Separar a explicação de um termo anterior.
 (3) Separar um termo cuja função é chamar alguém.
- () Pedro gosta de bolos de chocolate, morango, baunilha e creme.
 () João, você poderia desligar a luz?
 () Marta, a irmã de Paulo, comprou um carro novo.

- a) 2 - 1 - 3.
 b) 3 - 1 - 2
 c) 3 - 2 - 1
 d) 1 - 3 - 2.

8) Analisar as palavras abaixo quanto ao uso de “x” e “ch”:

(1) Bru__a	(3) En__urrada
(2) Fe__o	(4) __uva

Quais palavras devem ter suas lacunas preenchidas com “x”?

- a) 1 e 2.
 b) 1 e 3.
 c) 2 e 4.
 d) 3 e 4.

9) Em relação ao emprego dos porquês, assinalar a alternativa CORRETA:

- a) Havíamos explicado detalhadamente o porquê de nossa reivindicação.
 b) Porque as atividades foram suspensas no decorrer da semana de provas?
 c) Aqueles internos fugiram porquê?
 d) A utilização de novos procedimentos começaria na segunda, por que não havia tempo nesta semana.

10) Sobre a conjugação do verbo “pôr”, assinalar a alternativa em que a forma verbal está INCORRETA, não podendo substituir a expressão sublinhada:

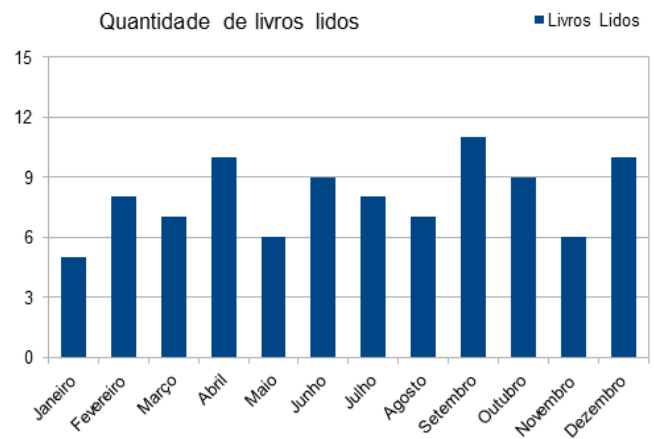
A prova marcada pela professora pôs toda a turma a estudar sem parar.

- a) porá
 b) poria
 c) pora
 d) pusera

11) Uma das salas de trabalho de uma empresa tem formato quadrado de área medindo 20,25m². Qual é a medida do perímetro dessa sala?

- a) 18m
 b) 20,25m
 c) 16m
 d) 24,50m

12) O gráfico abaixo mostra o número de livros lidos por um grupo de estudantes ao longo de um ano:



Analisando-se o gráfico, o mês em que mais livros foram lidos foi o mês de:

- a) Abril.
 b) Dezembro.
 c) Junho.
 d) Setembro.

13) No censo 2010 do IBGE, uma cidade tinha aproximadamente 32.000 habitantes. No censo 2022, a população passou para aproximadamente 40.000 habitantes. É CORRETO afirmar que, nessa cidade, no período, houve crescimento populacional de:

- a) 8%
 b) 20%
 c) 25%
 d) 32%

14) Marcar C para as afirmativas Certas, E para as Erradas e, após, assinalar a alternativa que apresenta a sequência CORRETA:

- () O dobro de 18 menos a quarta parte de 16 é 32.
- () A quinta parte de 20 mais o dobro de três é 12.
- () O triplo de 6 menos a metade de 8 é 10.

- a) C - C - C.
- b) C - E - E.
- c) E - C - C.
- d) E - E - E.

15) Lucas costuma comprar 9 pães para o café da manhã de sua família e gasta sempre R\$ 6,00. Ao receber visitas em sua casa, ele verifica que precisará comprar 21 pães. Mantendo-se essa proporção, para comprar os 21 pães, Lucas gastará:

- a) R\$ 9,00
- b) R\$ 12,00
- c) R\$ 14,00
- d) R\$ 18,00

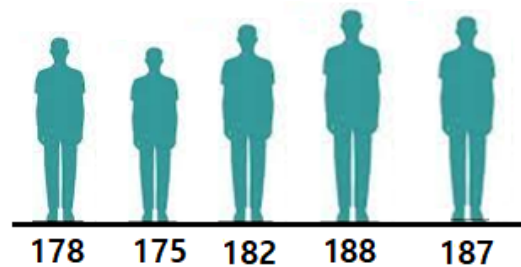
16) Um casal está planejando ter quatro filhos durante o casamento. Eles desejam que, independentemente da ordem, entre esses quatro filhos, exatamente dois sejam meninos e que os outros dois sejam meninas. Considerando-se que a probabilidade de ser menino e a de ser menina são iguais, qual a probabilidade de esse casal ter exatamente dois meninos e duas meninas?

- a) $3/8$
- b) $1/16$
- c) $1/4$
- d) $1/2$

17) Uma loja tem dois modelos de celulares em promoção: o Modelo A custa R\$ 2.000,00 e tem um desconto de 15% à vista, enquanto o Modelo B custa R\$ 1.800,00 e tem um desconto de 10% à vista. Qual é a diferença de preço entre os dois modelos quando comprados à vista?

- a) R\$ 200,00
- b) R\$ 160,00
- c) R\$ 80,00
- d) R\$ 40,00

18) Em uma equipe de futsal, as alturas dos cinco jogadores da equipe, em centímetros, são:



A altura média dessa equipe é de:

- a) 1,81m
- b) 1,82m
- c) 1,83m
- d) 1,84m

CONHECIMENTOS GERAIS | 6 QUESTÕES

19) Em áreas urbanas, qual das seguintes é a principal fonte de emissão do monóxido de carbono, um gás inodoro e incolor, que é um poluente atmosférico?

- a) A queima de lixo doméstico.
- b) As emissões industriais.
- c) A agricultura orgânica.
- d) Os veículos automotores.

20) Qual das seguintes tecnologias envolve a capacidade de sistemas computacionais aprenderem com dados e melhorarem seu desempenho ao longo do tempo?

- a) Aprendizado de máquina.
- b) Computação quântica.
- c) Realidade virtual.
- d) Biologia sintética.

21) Das seguintes, qual é a forma mais apropriada e segura de descartar medicamentos vencidos, considerando-se a proteção do meio ambiente e a saúde pública?

- a) No lixo comum, desde que estejam em suas embalagens originais.
- b) Na rede de esgoto doméstico, pois será tratado nas estações de tratamento.
- c) Na rede de esgoto sanitário, em pequenas quantidades.
- d) Em pontos de coleta específicos, como farmácias e hospitais, que garantem a disposição adequada e a prevenção da contaminação ambiental.

22) Um usuário está enviando um e-mail importante para um cliente e deseja que os seus colegas de trabalho recebam a cópia e possam ver a lista completa de destinatários. Qual é a melhor prática em relação ao campo para inclusão do endereço de e-mail dos seus colegas ao enviar esse e-mail?

- a) Usar o campo "Para".
- b) Usar o campo "Cc".
- c) Incluir todos os destinatários no corpo da mensagem de e-mail.
- d) Incluir todos os destinatários no campo "Assunto" do e-mail.

23) No contexto da Lei Geral de Proteção de Dados Pessoais (LGPD), o consentimento para o uso e o armazenamento de cookies em sites tornou-se uma obrigação. Em relação aos cookies, é CORRETO afirmar que eles têm como objetivo primordial:

- a) Monitorar a localização dos usuários.
- b) Criptografar todas as comunicações online.
- c) Coletar informações pessoais para fins de marketing.
- d) Proporcionar um acesso mais rápido aos serviços.

24) Um usuário está preparando um documento no Microsoft Word 2016 que contém uma tabela longa com várias colunas. No entanto, a tabela é tão ampla que não cabe na orientação padrão de página. Qual orientação de página o usuário deve escolher para tentar melhor acomodar essa tabela em uma única página?

- a) Retrato.
- b) Paisagem.
- c) Moderada.
- d) Espelhada.

LEGISLAÇÃO | 6 QUESTÕES

25) A Constituição Federal veda a incorporação de vantagens à remuneração do cargo efetivo em determinados casos. Sobre as vantagens vedadas, analisar os itens abaixo:

- I. Vantagens de caráter temporário.
- II. Vantagens vinculadas ao exercício de função de confiança.
- III. Vantagens de cargo em comissão.

Estão CORRETOS:

- a) Somente os itens I e II.
- b) Somente os itens I e III.
- c) Somente os itens II e III.
- d) Todos os itens.

26) À luz da Lei Orgânica do Município, sobre os princípios aos quais a Administração Pública Municipal deve obedecer, assinalar a alternativa INCORRETA:

- a) Legalidade.
- b) Publicidade.
- c) Impessoalidade.
- d) Proporcionalidade.

27) Segundo a Lei Orgânica do Município, a política urbana tem por objetivo ordenar o pleno desenvolvimento das funções sociais da cidade e da propriedade urbana, mediante algumas diretrizes. Entre as diretrizes, está a ordenação e o controle do uso do solo, de forma a evitar, entre outros:

- I. A proximidade de usos incompatíveis ou inconvenientes.
- II. A utilização adequada dos imóveis urbanos.
- III. A poluição e a degradação ambiental.

Está(ão) CORRETO(S):

- a) Somente o item I.
- b) Somente o item II.
- c) Somente os itens I e III.
- d) Somente os itens II e III.

28) Considerando-se a Lei Orgânica do Município, ao Vereador, como legítimo representante do povo, empossado no cargo, impõem-se as seguintes exigências, EXCETO:

- a) Legislar em causa própria.
- b) Não se omitir nunca na defesa dos interesses do Município.
- c) Assinar as atas e os atos de sua responsabilidade.
- d) Residência e domicílio no Município.

29) Conforme o disposto na Lei Orgânica do Município, para garantir a gestão democrática da cidade, deverão ser utilizados, entre outros, os seguintes instrumentos:

- I. Órgãos colegiados de política urbana municipal.
- II. Conferências sobre assuntos de interesse urbano municipal.
- III. Debates, audiências e consultas públicas.

Está(ão) CORRETO(S):

- a) Somente o item I.
- b) Somente o item II.
- c) Somente os itens I e III.
- d) Todos os itens.

30) De acordo com a Lei Municipal nº 2.076/2023, que dispõe sobre a criação de cargos e outras providências, assinalar a alternativa que preenche a lacuna abaixo CORRETAMENTE:

No interesse da administração, como ferramenta de gestão, poder-se-á adotar o(a) _____ para execução de tarefas, projetos, programas, dentre outros, de relevância para o serviço público.

- a) pagamento de gratificação
- b) banco de horas
- c) período das férias
- d) acumulação de cargos

CONHECIMENTOS ESPECÍFICOS | 10 QUESTÕES

31) De acordo com a Resolução nº 588/2018 — Política Nacional de Vigilância em Saúde, qual termo designa tanto os processos geradores quanto as características das populações e dos territórios que têm maiores dificuldades em absorver os impactos decorrentes de diferentes e variados graus de eventos de risco?

- a) Regionalização.
- b) Precariedade.
- c) Vulnerabilidade.
- d) Negligência.

32) Em conformidade com a Lei nº 8.080/1990 — Lei Orgânica da Saúde, numerar a 2ª coluna de acordo com a 1ª e, após, assinalar a alternativa que apresenta a sequência CORRETA:

- (1) Incluída no campo de atuação do SUS.
- (2) Excluída do campo de atuação do SUS.

- () A fiscalização e a inspeção de água para consumo humano.
- () A definição e a operacionalização das ações de assistência social.
- () A execução da política de sangue e seus derivados.
- () A vigilância nutricional e a orientação alimentar.

- a) 1 - 1 - 2 - 2.
- b) 1 - 2 - 1 - 1.
- c) 2 - 1 - 1 - 2.
- d) 2 - 2 - 1 - 1.

33) Evitar acúmulo de água parada em pneus, pratinhos de plantas, garrafas e, ainda, manter a caixa d'água coberta são medidas de segurança à saúde pública cujo objetivo é:

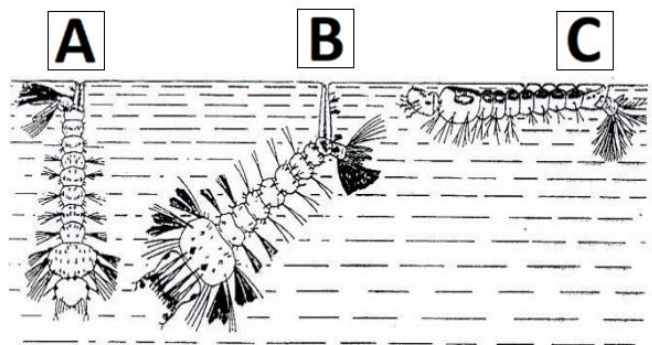
- a) Eliminar criadouros de mosquitos *Aedes spp.*, vetor este que pode transmitir doenças como dengue, zika e chikungunya.
- b) Promoção da proliferação de criadouros eficientes para a proliferação de mosquitos causadores de doenças.
- c) Transmissão direta de malária por ingestão de água contaminada.
- d) Facilitação da proliferação de bactérias causadoras de doenças de transmissão vetorial, como zika e dengue.

34) A respeito da visita domiciliar, uma das principais ações executadas pelos Agentes de Combate às Endemias (ACE), marcar C para as afirmativas Certas, E para as Erradas e, após, assinalar a alternativa que apresenta a sequência CORRETA:

- () As visitas domiciliares são frequentemente conduzidas sem um plano prévio, já que o território de atuação dos ACE é imprevisível e impossibilita o planejamento.
- () O número diário de visitas domiciliares é fixo, independentemente do tamanho dos imóveis, das condições climáticas e da situação epidemiológica do município.
- () Durante o processo de vistoria aos imóveis, é essencial a participação ativa dos moradores/proprietários para identificar e eliminar criadouros potenciais do mosquito transmissor da dengue.

- a) C - C - E.
- b) E - E - C.
- c) C - E - C.
- d) E - C - E.

35) É comum as pessoas confundirem o *Aedes aegypti* com outros mosquitos. Por isso, saber identificar as características do mosquito transmissor da dengue é fundamental para a adoção de medidas de controle. As larvas dos diferentes mosquitos podem ser facilmente identificadas pelo comportamento de respiração em relação à superfície de água (perpendicular, diagonal e paralela), ou pela presença e forma do sifão respiratório (curto, alongado e sem sifão).



Qual das imagens ilustra características típicas da larva do mosquito da dengue respirando na superfície da água?

- a) Imagem A.
- b) Imagem B.
- c) Imagem C.
- d) Nenhuma.

36) Em relação ao controle do *Aedes aegypti*, marcar C para as afirmativas Certas, E para as Erradas e, após, assinalar a alternativa que apresenta a sequência CORRETA:

- () O controle mecânico tem como principais atividades a proteção, a destruição ou a destinação adequada de criadouros do mosquito.
- () O controle químico consiste no uso de substâncias químicas — inseticidas — para o controle do vetor nas fases larvária e adulta.
- () O Agente de Combate às Endemias (ACE) é o profissional responsável pela execução das atividades de combate ao vetor realizadas nos imóveis.

- a) C - C - C.
- b) E - E - C.
- c) C - E - C.
- d) E - C - E.

37) No ano de 2022, o Brasil bateu o recorde de mortes por dengue, ultrapassando em cerca de 400% os falecimentos computados em todo o ano de 2021. Sobre o assunto, analisar os itens abaixo:

- I. O método para a prevenção e o controle de arboviroses urbanas, como a dengue, dá-se pelo manejo integrado de vetores.
- II. Atualmente, a melhor maneira de prevenção para a dengue é a manutenção anual do calendário vacinal contra a doença.
- III. O combate preventivo e de controle do *Aedes aegypti* visa à redução de infestação dos mosquitos por meio da eliminação de seus criadouros.
- IV. O método correto de prevenir mortes por dengue seria o uso indiscriminado de inseticidas tóxicos, sem considerar os riscos à saúde humana e ao meio ambiente.

Estão CORRETOS:

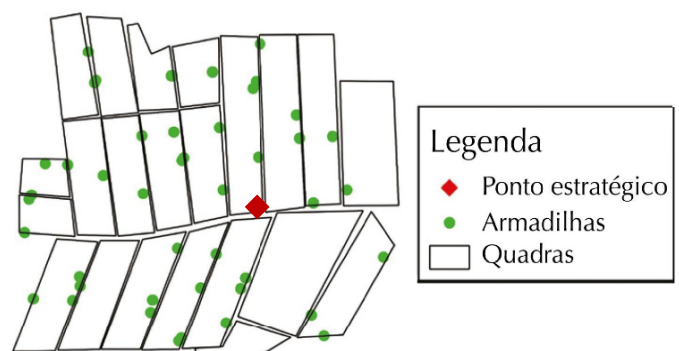
- a) Somente os itens I e II.
- b) Somente os itens I e III.
- c) Somente os itens I, III e IV.
- d) Somente os itens II, III e IV.

38) Considerando-se as diretrizes nacionais para prevenção e controle da dengue, quanto às instruções para pesquisa larvária, marcar C para as afirmativas Certas, E para as Erradas e, após, assinalar a alternativa que apresenta a sequência CORRETA:

- () O agente deve portar dois pesca-larvas; um para uso em depósitos com água de consumo humano; outro, para os demais depósitos.
- () A inspeção com o pesca-larva é uma técnica adequada no caso da coleta em pneus.
- () Ao usar o pesca-larvas, deve-se, de início, sacudir o recipiente inspecionado, agitando a água e fazendo com que as larvas e pupas se refugiem no fundo dos depósitos.

- a) C - C - E.
- b) E - E - C.
- c) C - E - C.
- d) E - C - E.

39) A imagem abaixo ilustra a localização espacial de ovitampas instaladas segundo área de risco do ponto estratégico:



Qual das seguintes áreas representa tipicamente um ponto estratégico (PE)?

- a) Residência domiciliar.
- b) Escola.
- c) Posto de saúde.
- d) Borracharia.

40) Em relação à abordagem familiar no território da atenção primária à saúde, assinalar a alternativa CORRETA:

- a) A assistência à saúde no domicílio busca o des zelo e o desprezo às necessidades da família em sua integralidade.
- b) A visita domiciliar sistematiza um grupo de ações que buscam viabilizar o cuidado a pessoas com algum nível de necessidade no estado de saúde.
- c) O cuidado domiciliar deve ser realizado exclusivamente por médicos ou enfermeiros, por envolver diversos fatores no processo de saúde-doença.
- d) Para que ocorra a abordagem domiciliar do enfermo, não se faz necessário consentimento da família.