

**ENGENHEIRO –
FORMAÇÃO ENGENHARIA ELÉTRICA**

Códigos: 024-A, 024-B, 024-D, 024-F, 024-G, 024-H, 024-I e 025-A

ABRA APENAS QUANDO AUTORIZADO.**Leia com atenção as seguintes instruções:**

- Este caderno contém as **45 questões** da Prova Objetiva, composta por: 15 questões de Língua Portuguesa, 10 questões de Matemática e Raciocínio Lógico, 5 questões de Informática Básica e 15 questões de Conhecimentos Específicos.
Caso haja algum problema em seu caderno de provas, informe ao aplicador de provas.
- As informações / instruções dadas no dia da prova complementam o edital.
- Durante as provas, não é permitido o uso de dispositivos eletrônicos de qualquer tipo e celulares, assim como relógios e materiais de consulta.
- Use a Folha de Respostas (versão do candidato) reproduzida no final do Caderno de Provas apenas para marcar seu Gabarito. Esse rascunho somente poderá ser destacado pelo aplicador de provas.
- Na **Folha de Respostas**:
 - Confira seu nome, número de inscrição e cargo.
 - Assine, A TINTA, no espaço próprio indicado.
 - Transcreva a seguinte frase, com sua caligrafia usual, mantendo as letras maiúsculas e minúsculas, desconsiderando aspas e autoria:

“A necessidade que é a mãe da invenção.”

Platão
- A Folha de Respostas deve ser assinada e não deve ser dobrada, amassada ou rasurada.
- Ao transferir as respostas para a Folha de Respostas:
 - Use somente caneta AZUL ou PRETA, preenchendo toda a área reservada à letra correspondente à resposta solicitada em cada questão, conforme o modelo:

01	<input checked="" type="checkbox"/>	<input type="checkbox"/>	<input type="checkbox"/>	<input type="checkbox"/>
----	-------------------------------------	--------------------------	--------------------------	--------------------------
 - Assinale somente uma alternativa em cada questão e não deixe nenhuma questão sem resposta.
- Sua prova e Folha de Respostas poderão ser entregues somente após o término do período de sigilo: 2 horas.
- Sua resposta **NÃO** será computada se houver marcação de mais de uma alternativa, questões não assinaladas ou rasuradas.
- Ao entregar sua prova, recolha seus objetos, deixe a sala de provas e, em seguida, o prédio. Até deixar as dependências do local de prova, continuam válidas as proibições do uso de aparelhos eletrônicos e celulares, bem como não lhe é mais permitido o uso dos sanitários.
- O Caderno de Questões da Prova Objetiva e os gabaritos serão divulgados no endereço eletrônico www.gestaodeconcursos.com.br, no dia subsequente à data da prova.

**DURAÇÃO TOTAL DAS PROVAS,
INCLUINDO TRANSCRIÇÃO DA
FOLHA DE RESPOSTAS:
QUATRO HORAS**

Escreva seu nome completo de forma legível.

NOME: _____

INSTRUÇÃO: Leia o texto I para responder às questões de 1 a 7.

TEXTO I

Varrer as redes sociais para debaixo do tapete não é solução

O Brasil caminha para fechar o ano com mais de 171 milhões de usuários de redes sociais, de acordo com o portal de estatísticas *Statista*. Desse contingente, fazem parte crianças e jovens que, mesmo sem idade para oficialmente criarem contas e perfis nas plataformas, têm algum tipo de contato com o conteúdo que transita por elas. Diante desse fato, há dois caminhos possíveis: proibir ou educar. A proibição, embora tentadora, significa ignorar que pré-adolescentes e adolescentes já estão expostos ao que as redes sociais têm de melhor e de pior, sem que necessariamente estejam preparados para fazer essa distinção. Educar é trabalhoso, mas talvez seja a solução mais efetiva diante daquilo que parece um caminho sem volta: a influência de novas tecnologias digitais na maneira como nos comunicamos, interagimos com o mundo e vivemos.

A Secretaria de Educação do Estado de São Paulo decidiu bloquear o uso de redes sociais e *streamings* (como Netflix e Globoplay) nas escolas estaduais, argumentando que a restrição visa “garantir um ambiente adequado para o aprendizado e evitar usos considerados inapropriados e / ou excessivo de redes, que podem prejudicar a qualidade da conexão e interferir no andamento das atividades pedagógicas”.

Enxergar tais plataformas apenas como obstáculo é, de certa forma, se eximir da responsabilidade de guiar seu uso consciente e crítico. É privar os estudantes do acesso a conteúdos que podem enriquecer as aulas e torná-las mais conectadas com a realidade em que vivem. É dificultar o exercício da autoexpressão, já que jovens poderiam usar as redes de maneira positiva para mobilizar e engajar a comunidade escolar na resolução de problemas de sua região. Isso não significa uma defesa incondicional das redes. Pelo contrário: só poderemos participar da construção de um ecossistema digital melhor se pudermos conhecê-lo, entendendo a engrenagem por trás das plataformas, seu modelo de negócios, o *modus operandi* dos algoritmos, o papel dos influenciadores e tantos outros fenômenos que, feliz ou infelizmente, já fazem parte de nossas vidas. [...] Hoje, currículos são construídos levando em consideração a relevância da internet em nossas vidas e a necessidade de “desvendá-la”, de modo a minimizar os riscos e ampliar as oportunidades de quem está conectado. [...]

Educar para as redes proporcionará aos estudantes um olhar mais crítico para consumir as informações que por elas transitam e responsabilidade para produzir e compartilhar conteúdos, entendendo o alcance que sua voz pode ter. A construção de tais competências é também pilar para que as crianças e jovens de hoje se tornem adultos mais conscientes do poder da comunicação, aptos a compreender que as redes sociais podem ser usadas para propagar *fake news* e discurso de ódio, mas também para o exercício da cidadania e a diversidade de vozes numa sociedade cada vez mais conectada.

Num país de tamanha desigualdade como o Brasil, não se pode ignorar que uma parte dos estudantes sequer conta com internet estável nas escolas. Ainda assim, ignorar a existência das redes sociais não é uma boa solução — e pode, inclusive, ampliar a distância entre os jovens que têm a oportunidade de vivenciá-las com criticidade e aqueles que simplesmente não têm a chance de discuti-las em um ambiente mais seguro e mediado por educadores. Nesse caso, educar é melhor do que proibir.

MACHADO, Daniela. Disponível em: <https://www1.folha.uol.com.br/educacao/2023/03/varrer-as-redes-sociais-para-debaixo-do-tapete-nao-e-solucao.shtml>. Acesso em: 11 jun. 2023. [Fragmento adaptado]

QUESTÃO 1

Assinale a alternativa em que o fragmento se relaciona diretamente com a ideia expressa de modo figurado no título do texto.

- A) “Hoje, currículos são construídos levando em consideração a relevância da internet em nossas vidas e a necessidade de “desvendá-la.”
- B) “Enxergar tais plataformas apenas como obstáculo é, de certa forma, se eximir da responsabilidade de guiar seu uso consciente e crítico.”
- C) “Num país de tamanha desigualdade como o Brasil, não se pode ignorar que uma parte dos estudantes sequer conta com internet estável nas escolas.”
- D) “O Brasil caminha para fechar o ano com mais de 171 milhões de usuários de redes sociais, de acordo com o portal de estatísticas *Statista*.”

QUESTÃO 2

Em relação à norma-padrão escrita da língua portuguesa, assinale a alternativa em que a reescrita do enunciado está correta.

- A) Diante desse fato, há dois caminhos possíveis. Diante desse fato, existem dois caminhos possíveis.
- B) Desse contingente, fazem parte crianças e jovens [...]. Desse contingente, faz parte crianças e jovens [...].
- C) [...] a restrição visa garantir um ambiente adequado [...]. [...] a restrição visa a garantir a um ambiente adequado [...].
- D) [...] a distância entre os jovens que têm a oportunidade de vivenciá-las [...]. [...] a distância entre os jovens que tem a oportunidade de vivenciá-las [...].

QUESTÃO 3

Assinale a alternativa que apresenta ideia central defendida no texto.

- A) As crianças e adolescentes devem ser educados e preparados para distinguir o que há de melhor e pior nas redes sociais.
- B) As novas tecnologias digitais influenciam no modo como as crianças e adolescentes vivem e interagem com o mundo.
- C) No Brasil, existem milhões de usuários de redes sociais sem idade para oficialmente criarem contas e perfis nas plataformas.
- D) O conteúdo das plataformas é aberto a todos, e os adolescentes já estão expostos ao que é veiculado pelas redes sociais.

QUESTÃO 4

Leia este trecho.

A Secretaria de Educação do Estado de São Paulo decidiu bloquear o uso de redes sociais e *streamings* (como Netflix e Globoplay) nas escolas estaduais, argumentando que a restrição visa “garantir um ambiente adequado para o aprendizado e evitar usos considerados inapropriados e / ou excessivo de redes, que podem prejudicar a qualidade da conexão e interferir no andamento das atividades pedagógicas”.

Com base na pontuação empregada nesse trecho, é correto afirmar que

- A) os parênteses foram usados para intercalar uma circunstância acessória ao texto.
- B) as vírgulas foram empregadas para indicar a separação de orações coordenadas.
- C) as aspas foram utilizadas para distinguir uma citação direta do restante do texto.
- D) a barra oblíqua em “e / ou” é um sinal gráfico para indicar a inexistência de opções.

QUESTÃO 5

Em relação aos argumentos apresentados no texto, assinale a alternativa em que não há opinião do autor no trecho.

- A) “[...] só poderemos participar da construção de um ecossistema digital melhor se pudermos conhecê-lo [...]”.
- B) “[Enxergar tais plataformas apenas como obstáculo] é privar os estudantes do acesso a conteúdos que podem enriquecer as aulas [...]”.
- C) “Educar para as redes proporcionará aos estudantes um olhar mais crítico para consumir as informações que por elas transitam [...]”.
- D) “A Secretaria de Educação do Estado de São Paulo decidiu bloquear o uso de redes sociais e *streamings* [...] nas escolas estaduais [...]”.

QUESTÃO 6

A palavra entre parênteses não é sinônima da palavra destacada no trecho extraído do texto em:

- A) “[...] **engajar** a comunidade escolar na resolução de problemas de sua região.” (recrudescer)
- B) “Isso não significa uma defesa **incondicional** das redes.” (absoluta)
- C) “[...] entendendo a **engrenagem** por trás das plataformas [...].” (organização)
- D) “[...] entendendo o **alcance** que sua voz pode ter.” (extensão)

QUESTÃO 7

Assinale a alternativa em que o termo ou expressão em destaque, ao ser substituído(a) pelo termo ou expressão entre parênteses, altera o sentido original do texto.

- A) “A proibição, **embora** tentadora, significa ignorar [...].” (conquanto)
- B) “**Ainda assim**, ignorar a existência das redes sociais não é uma boa solução [...].” (Não obstante)
- C) “Educar é trabalhoso, **mas** talvez seja a solução [...].” (porque)
- D) “**Pelo contrário**: só poderemos participar da construção de um ecossistema [...].” (Longe disso)

QUESTÃO 8

É correto afirmar que, no período

- A) “Um verbete de **dicionário** tem o papel de registrar a existência das palavras”, o vocábulo destacado exerce a função sintática de núcleo do sujeito.
- B) “Um verbete de dicionário **tem o papel de registrar a existência das palavras**”, o trecho destacado classifica-se como predicado verbo-nominal.
- C) “Um verbete de dicionário tem o papel **de registrar** a existência das palavras”, o termo destacado tem a função sintática de objeto indireto.
- D) “Um verbete de dicionário tem o papel de registrar a **existência** das palavras”, o vocábulo destacado tem a função sintática de núcleo do objeto direto.

QUESTÃO 9

Parônimas são as palavras que têm grafia e pronúncia parecidas, mas significados diferentes.

Assinale a alternativa em que estão corretos, entre parênteses, os significados das palavras parônimas.

- A) cumprimento (extensão) / comprimento (saudação)
- B) absolver (inocentar) / absorver (consumir)
- C) discriminar (inocentar) / descriminar (distinguir)
- D) expiar (observar) / espiar (sofrer castigo)

QUESTÃO 10

Mobiliário e acondicionamento: as melhores opções para armazenagem de documentos bibliográficos

Para um bom acondicionamento dos documentos bibliográficos, é preciso conhecer suas características físicas como formato, dimensão, peso e as características químicas do suporte material. Também é preciso conhecer a tipologia do mobiliário, as propriedades físico-químicas do material e a adequação em relação ao objeto. Evite a superlotação das prateleiras e gavetas, uma vez que é necessária a circulação de ar nas áreas de armazenagem. Esteja atento ao peso de um documento sobre outro. Os livros não podem ter contato direto com as paredes, mantenha-os em posição vertical nas prateleiras, preferencialmente separados por tamanho. Quando forem muito grandes e pesados, os livros devem ser armazenados em posição horizontal, a fim de que encontrem o apoio necessário.

Quando esses cuidados não são tomados, compromete-se a encadernação das obras. [...] A circulação de ar é imprescindível. Não guarde encadernações de papel e de tecido junto com as de couro porque a acidez e os óleos do couro, em contato com o papel e o tecido, aceleram a deterioração deles.

DENARDI, Regina. Síntese da obra: BECK, Ingrid; OGDEN, Sherelyn. **Armazenagem e Manuseio**. Rio de Janeiro: Projeto Conservação Preventiva em Bibliotecas e Arquivos. Rio de Janeiro: Arquivo Nacional, 2001. [Fragmento]

Considerando-se que os textos podem apresentar mais de uma tipologia, é correto afirmar que, além de características descritivas, nesse texto, estão presentes sequências

- A) argumentativas
- B) conversacionais.
- C) instrucionais.
- D) narrativas.

QUESTÃO 11

Leia este texto.

Neste artigo são apresentados os resultados de uma pesquisa sobre o fenômeno da pós-verdade e **suas** implicações para a Ciência da Informação enquanto um objeto de estudo. São apresentadas diferentes visões sobre o fenômeno: **as** que o enquadram na perspectiva de um fenômeno cultural ou político, e **as** que o correlacionam a outros fenômenos ou fatores. **A seguir**, apresenta-se a maneira como a Ciência da Informação definiu, historicamente, seus objetos de pesquisa, bem como as teorias e métodos para os estudar. Do confronto entre **as duas discussões**, propõe-se a necessidade de adaptações no âmbito da Ciência da Informação, para o desenvolvimento de categorias de análise que possam estudar de maneira adequada o fenômeno da pós-verdade: não como um problema tecnológico ou humano, mas como um processo da ordem da cultura.

ÁVILA, Carlos Alberto. A pós-verdade como desafio central para a ciência da informação contemporânea. **Em Questão**, Porto Alegre, v. 27, n. 1, p. 13-29, jan./abr. 2021. Disponível em: <http://dx.doi.org/10.19132/1808-5245271.13-29>. Acesso em: 10 jun. 2023.

Considerando a construção desse texto, analise as relações dos termos destacados no contexto em que se inserem. Com base na referenciação, é incorreto afirmar que

- A) a expressão “A seguir” corresponde à “Adiante”, e remete à progressão do estudo realizado.
- B) o pronome “as” pode ser substituído por “aquelas”, mantendo-se o sentido original do texto.
- C) o pronome possessivo “suas” remete ao termo “implicações da pós-verdade” e a ele se refere.
- D) o termo “as duas discussões” refere-se aos debates sobre os fenômenos cultural e político.

QUESTÃO 12

Leia este texto.

Capítulo Primeiro

Do título

[...]

Não consultes dicionários. Casmurro não está aqui no sentido que eles lhe dão, mas no que lhe pôs o vulgo de homem calado e metido consigo. Dom veio por ironia, para atribuir-me fumos de fidalgo. Tudo por estar cochilando! Também não achei melhor título para a minha narração; se não tiver outro daqui até o fim do livro, vai este mesmo. [...]

Capítulo Segundo

Do livro

Agora que expliquei o título, passo a escrever o livro. Antes disso, porém, digamos os motivos que me põem a pena na mão.

ASSIS, Machado de. **Dom Casmurro**. Disponível em: <http://www.dominiopublico.gov.br/download/texto/bv00180a.pdf>. Acesso em: 8 jun. 2023.

A função de linguagem predominante nesse texto de Machado de Assis é a função

- A) emotiva, porque o narrador emprega verbos e pronomes na primeira pessoa do singular.
- B) apelativa, porque o narrador tem o propósito de influenciar o comportamento do público leitor.
- C) referencial, porque o narrador dá ênfase a fato e acontecimento com vistas a informar o leitor.
- D) metalinguística, porque o narrador dirige-se ao leitor usando da escrita para tratar do ato de escrever.

INSTRUÇÃO: Leia o texto II para responder às questões de 13 e 14.

TEXTO II

Um dicionário descritivo tem como papel registrar a existência e o significado das palavras de uma língua e identificar devidamente suas conotações.

As palavras vulgares ou ofensivas estão nos nossos dicionários porque também fazem parte do léxico de uma língua. Nossos verbetes contêm etiquetas que refletem o emprego vulgar ou ofensivo de tais palavras.

Acompanhamos a evolução da linguagem ofensiva através dos tempos e integramos as mudanças verificadas, de maneira a retratar uma língua tal como ela é usada. As alterações que fazemos fundamentam-se em observações empíricas coletadas e analisadas pela nossa equipe de pesquisa linguística.

Ficamos sempre gratos quando nossos utilizadores nos informam de casos que parecem não estar de acordo com nossos rigorosos padrões de qualidade, seja porque as sensibilidades culturais vão se alterando, seja por outras razões.

Disponível em: <https://languages.oup.com/google-dictionary-pt/>. Acesso em: 10 jun.2021

QUESTÃO 13

Em relação às ideias apresentadas na construção do texto II, assinale a afirmativa correta.

- A) No primeiro parágrafo, o autor apresenta o papel da descrição do dicionário específico voltado a palavras e termos não figurados.
- B) No segundo parágrafo, o autor condena a presença de palavras corriqueiras do léxico que compõem verbetes nos dicionários.
- C) No terceiro parágrafo, o autor explica o método de integração da linguagem ofensiva no dicionário para expor o uso da língua.
- D) No quarto parágrafo, o autor manifesta sua gratidão com a apatia dos utilizadores pelos erros que fogem ao padrão de qualidade.

QUESTÃO 14

Leia este trecho.

“As alterações que fazemos fundamentam-se em observações empíricas coletadas e analisadas pela nossa equipe de pesquisa linguística.”

Em relação às classes de palavras, é correto afirmar que

- A) “alterações” e “observações” são substantivos concretos.
- B) “fazemos” e “fundamentam-se” são verbos transitivos diretos.
- C) “coletadas” e “analisadas” são verbos conjugados no presente do indicativo.
- D) “empíricas” e “linguística” são adjetivos, e “nossa” é pronome adjetivo.

QUESTÃO 15

Em relação ao Novo Acordo Ortográfico, é incorreto afirmar que se emprega, obrigatoriamente, o hífen

- A) após os prefixos **ex-**, **sota-**, **vice-**, **vizo-**. Ex.: ex-mulher, sota-piloto, soto-mestre, vice-campeão, vizo-rei.
- B) após os prefixos tônicos acentuados **pré-** e **pós-**, quando o segundo elemento tem sentido por si só na língua. Ex.: pré-bizantino, pós-graduação.
- C) com os advérbios **mal** e **bem**, quando formam uma unidade com significado e o segundo elemento começa por vogal. Ex.: mal-estar, bem-aventurado.
- D) quando o segundo elemento começa com **s** ou **r**. Exemplo: anti-religioso, anti-semita, contra-regra, infra-som.

MATEMÁTICA E RACIOCÍNIO LÓGICO

QUESTÃO 16

Marta, a faxineira da casa de Cláudio, fez um comentário, limpando a garagem: “Odeio dias de chuva, pois eles sempre deixam a garagem encharcada”.

Pessoas da família ouviram o que disse Marta e fizeram suas réplicas.

Adriano: “Realmente, nas últimas semanas foram 5 dias de chuva, e em todos eles a garagem ficou encharcada”.

Bruna: “De fato, sempre que a garagem não está encharcada, significa que não choveu”.

Cláudio: “Discordo, pois no mês passado a garagem encharcou em um dia que não era de chuva”.

Assinale a alternativa correspondente ao significado lógico dos três comentários.

- A) Adriano concordou com Marta e provou que ela estava certa, enquanto Cláudio fez um comentário incapaz de refutá-la.
- B) Cláudio refutou Marta, enquanto Bruna concordou com ela e fez um comentário equivalente ao da faxineira.
- C) Se Marta está correta em sua afirmação, então o que disse Bruna necessariamente está correto também.
- D) Os três comentários, de Adriano, Bruna e Cláudio, podem ser todos verdadeiros simultaneamente.

QUESTÃO 17

Conselheiro Lafaiete é uma cidade do interior de Minas Gerais, um dos estados do Brasil. Nesse contexto, analise as afirmativas a seguir.

- I. Toda pessoa nascida em Conselheiro Lafaiete é nascida em Minas Gerais e nascida no Brasil.
- II. Toda pessoa nascida em Minas Gerais é nascida no Brasil ou nascida em Conselheiro Lafaiete.
- III. O conjunto formado pelas pessoas nascidas em Conselheiro Lafaiete, pelas pessoas nascidas em Minas Gerais e pelas pessoas nascidas no Brasil possui mais elementos do que o conjunto de pessoas nascidas no Brasil.
- IV. Para uma pessoa não ser nascida no Brasil, basta ela não ser nascida em Conselheiro Lafaiete nem nascida em Minas Gerais.
- V. Existem pessoas nascidas em Minas Gerais que não são nascidas em Conselheiro Lafaiete e não são nascidas no Brasil.

A quantidade de afirmativas necessariamente verdadeiras é:

- A) 1.
- B) 2.
- C) 3.
- D) 4.

QUESTÃO 18

Duas pessoas, Aline (no ponto A) e Bernardo (no ponto B), se posicionam de pé, uma de frente para a outra, a 20 metros de distância entre si. Ambas giram 90° no sentido anti-horário, em torno de um eixo vertical, sem deixar os respectivos pontos A e B. Após o giro, os dois andam 10 metros para frente e param.

Qual a distância entre Aline e Bernardo, em metros, após os movimentos descritos?

- A) 20.
- B) $20\sqrt{2}$.
- C) 40.
- D) $40\sqrt{2}$.

QUESTÃO 19

Uma padaria utiliza uma mistura de farinhas na fabricação de seus pães: 75% de farinha de trigo branca (tradicional) e 25% de farinha de trigo integral. O custo da farinha de trigo branca é de R\$ 4,00 o quilograma, enquanto o custo da farinha de trigo integral é de R\$ 6,00 o quilograma.

Qual o custo médio por kg da mistura de farinhas de trigo utilizada nos pães dessa padaria?

- A) R\$ 4,25.
- B) R\$ 4,50.
- C) R\$ 4,75.
- D) R\$ 5,00.

QUESTÃO 20

Paulo possui pares de meias de quatro cores em sua gaveta. 6 pares de meias são brancos, 8 são pretos, 4 são azuis e 3 são marrons. Ele quer escolher dois pares de meias de cores diferentes para colocar em uma mochila de viagem.

Considerando que cada par de meias fica unido entre si, quantos pares de meias Paulo deverá tirar da gaveta, no mínimo, para garantir que pelo menos dois deles são de cores diferentes da forma que ele deseja?

- A) 4.
- B) 5.
- C) 8.
- D) 9.

QUESTÃO 21

Uma disciplina de um curso de pós-graduação é ministrada em 20 semanas. O professor realiza uma avaliação a cada semana, e a nota final dos alunos é a média aritmética obtida por cada um deles nas 20 provas. Isabela começou mal a disciplina, obtendo nota 0 (zero) nas quatro primeiras avaliações. Na quinta avaliação, ela conseguiu 40 pontos. Na sexta, sua nota foi 42, e passou a aumentar sucessivamente 2 pontos a cada avaliação, até a última do semestre.

Qual foi a nota final de Isabela na disciplina?

- A) 33.
- B) 44.
- C) 55.
- D) 66.

QUESTÃO 22

A professora de uma escola infantil observou que:

- sempre que chove nos dias de aula, Fernando ou Cauã chegam molhados às aulas;
- sempre que chove, o trânsito no bairro da escola fica muito complicado;
- Alice se atrasa sempre que o trânsito fica complicado no bairro da escola.

Considerando verdadeiras as afirmativas anteriores, é correto afirmar que

- A) se Fernando e Cauã chegam secos à escola em determinado dia, então Alice não chega atrasada nesse mesmo dia.
- B) se o trânsito está complicado no bairro da escola certo dia, então Fernando ou Cauã, nesse dia, chegarão molhados.
- C) é possível que em certo dia Alice se atrase, não tenha chovido, Fernando tenha chegado seco na escola, e Cauã, molhado.
- D) é possível que Alice se atrase em um dia de chuva e tanto Fernando quanto Cauã cheguem secos à escola nesse dia.

QUESTÃO 23

Um letreiro luminoso possui as letras CEMIG operadas de forma independente. Cada letra pode ficar totalmente iluminada por uma das cores: verde, vermelho, azul, amarelo, branco e roxo. Na operação manual do letreiro, há 5 botões, cada um responsável por trocar a cor de uma das 5 letras. Cada vez que o botão de uma letra é acionado, a cor muda, respeitando sempre a ordem listada anteriormente. Por exemplo, um toque no botão da letra C pode mudar sua cor de vermelho para azul, ou de branco para roxo, e assim por diante; um toque no botão da letra G pode mudar a sua cor de verde para azul, ou de amarelo para branco, ou de roxo para verde, etc. O letreiro se encontra com as seguintes cores em um certo momento:

C	E	M	I	G
ROXO	AZUL	AZUL	AMARELO	BRANCO

Um funcionário irá, manualmente, acionar os botões de modo a colocar todas as letras de uma mesma cor. Ele fará isso com o menor número possível de toques nos botões.

Qual cor irá iluminar o letreiro após essa ação do funcionário?

- A) Amarelo.
- B) Azul.
- C) Branco.
- D) Roxo.

QUESTÃO 24

Uma urna contém 9 bolas, sendo 5 azuis e 4 vermelhas. Uma pessoa sorteia ao acaso duas dessas bolas simultaneamente.

Qual é a probabilidade de que essas bolas sejam de cores diferentes?

- A) $\frac{4}{9}$.
- B) $\frac{4}{5}$.
- C) $\frac{5}{9}$.
- D) $\frac{9}{5}$.

QUESTÃO 25

Toda quarta-feira, Diego tem uma lista com 7 atividades rotineiras: deixar o cachorro para tomar banho no petshop, buscar o cachorro no petshop após o banho, ir ao banco pagar contas, comprar carnes no açougue, comprar hortaliças no sacolão, lavar o carro. Como o açougue e o sacolão ficam lado a lado, essas duas atividades acontecem sempre em sequência, para aproveitar a viagem. Ou seja, ou ele vai ao sacolão imediatamente após o açougue ou vice-versa.

De quantas maneiras diferentes Diego pode ordenar as 7 atividades rotineiras de sua quarta-feira?

- A) 6!
- B) 7!
- C) 2.6!
- D) $\frac{6!}{2}$

INFORMÁTICA BÁSICA

QUESTÃO 26

Com relação aos conceitos de Informática Básica, analise as afirmativas a seguir.

- I. Um Gigabyte é composto por 1.024 Megabytes.
- II. As memórias do tipo RAM aumentam a capacidade de armazenamento de arquivos do computador.
- III. São exemplos de serviços ofertados pela internet: web e e-mail.

Estão corretas as afirmativas

- A) I e II, apenas.
- B) I e III, apenas.
- C) II e III, apenas.
- D) I, II e III.

QUESTÃO 27

Considerando o Microsoft Office 365 Desktop em português do Brasil, assinale a alternativa que apresenta o caminho correto para definir margens personalizadas em um documento.

- A) Design > Temas > Margens
- B) Design > Tamanho > Margens personalizadas
- C) Layout > Tamanho > Margens
- D) Layout > Margens > Margens personalizadas

QUESTÃO 28

O Microsoft Office 365 possui uma série de funcionalidades que facilitam a realização do trabalho em equipe em um determinado documento. Em relação aos recursos de compartilhamento e coautoria, analise as afirmativas a seguir.

- I. A colaboração em tempo real está disponível apenas na versão web do Microsoft Word.
- II. O usuário pode optar por acompanhar apenas suas próprias mudanças no controle de alterações.
- III. O compartilhamento de documentos pode ser feito apenas para documentos presentes no Microsoft OneDrive.

Estão corretas as afirmativas

- A) I e II, apenas.
- B) I e III, apenas.
- C) II e III, apenas.
- D) I, II e III.

QUESTÃO 29

Considere a planilha a seguir, elaborada no Microsoft Excel 365 em português do Brasil.

	A	B	C	D
1	Livros	Livraria A	Livraria B	Livraria C
2	Harry Potter e a Pedra Filosofal	35	40	38
3	A Culpa é das Estrelas	28	32	30
4	Dom Casmurro	42	36	39
5		42		

Nessa planilha, o valor da célula B5 foi calculado pela fórmula =MÁXIMO(\$B\$2:\$B\$4). Suponha que alguém tenha copiado a célula B5 (CTRL + C) e a colado na célula D5 (CTRL + V).

Assinale a alternativa que apresenta o valor presente na célula D5.

- A) 42
- B) 40
- C) 39
- D) 35

QUESTÃO 30

Fake news são notícias falsas ou enganosas que são criadas e divulgadas por golpistas com o objetivo de enganar, manipular ou desinformar as pessoas. Elas podem se espalhar rapidamente por meio de diferentes canais de comunicação, como mídias sociais, *sites*, aplicativos de mensagens e até mesmo veículos de imprensa. Sua finalidade envolve geralmente influenciar a opinião pública, distorcer fatos, promover interesses pessoais, políticos, econômicos ou ideológicos.

Assinale a alternativa correspondente ao golpe da internet por trás da propagação de *fake news*.

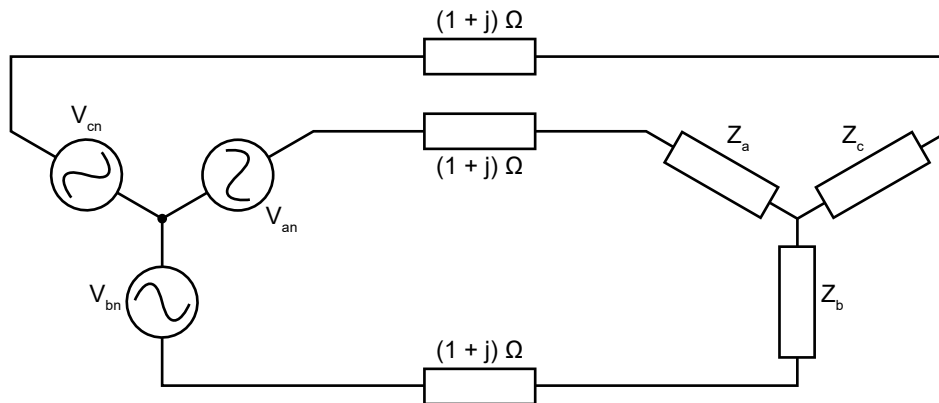
- A) Furto de identidade (*Identity theft*)
- B) Fraude de antecipação de recursos (*Advance fee fraud*)
- C) *Phishing*
- D) Boato (*Hoax*)

CONHECIMENTOS ESPECÍFICOS

ENGENHEIRO – FORMAÇÃO ENGENHARIA ELÉTRICA

QUESTÃO 31

Considere o circuito trifásico desequilibrado, operando em 60 Hz, conforme a figura a seguir. As tensões das fontes são $V_{an} = 127 \angle 0^\circ \text{ V}$, $V_{bn} = 127 \angle -120^\circ \text{ V}$, $V_{cn} = 127 \angle 120^\circ \text{ V}$. As impedâncias de linha são equilibradas e iguais a $(1+j) \Omega$. As impedâncias da carga são $Z_a = Z_b = 12+6j \Omega$ e $Z_c = 9+6j \Omega$.



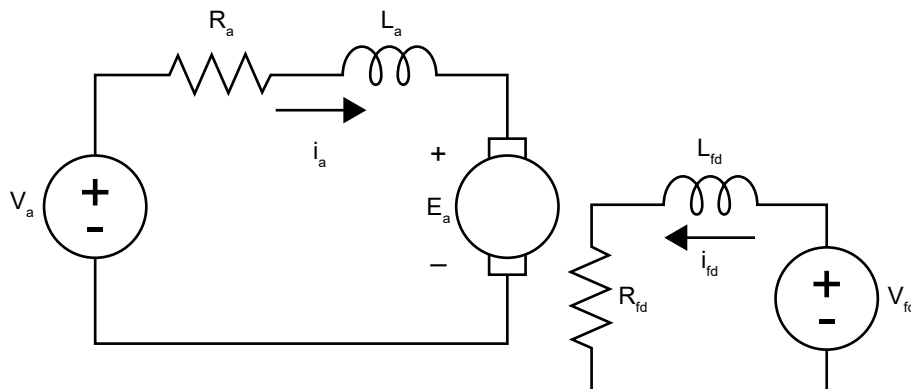
A corrente de linha na fase a (i_a) é:

- A) $i_a = 8,6 \angle -33^\circ \text{ A}$
- B) $i_a = 8,6 \angle -28,3^\circ \text{ A}$
- C) $i_a = 9,5 \angle -26,6^\circ \text{ A}$
- D) $i_a = 9,1 \angle -30,2^\circ \text{ A}$

QUESTÃO 32

A figura a seguir mostra o circuito equivalente de uma máquina de corrente contínua, 5 hp, 240 V, 16,2 A, 1220 rpm. A constante de velocidade da máquina é $K\phi = 1,8 \text{ V/rad/s}$. Além disso, os parâmetros do circuito equivalente são:

$R_a = 0,6 \Omega$, $L_a = 12 \text{ mH}$, $R_{fd} = 240 \Omega$ e $L_{fd} = 120 \text{ H}$.



Se a máquina é alimentada com tensões nominais e a corrente de armadura é igual a 10 A, a velocidade da máquina (n), em rotações por minuto é:

- A) $n = 1241 \text{ rpm}$
- B) $n = 1222 \text{ rpm}$
- C) $n = 1220 \text{ rpm}$
- D) $n = 1273 \text{ rpm}$

QUESTÃO 33

Analise as figuras a seguir.

Figura 1

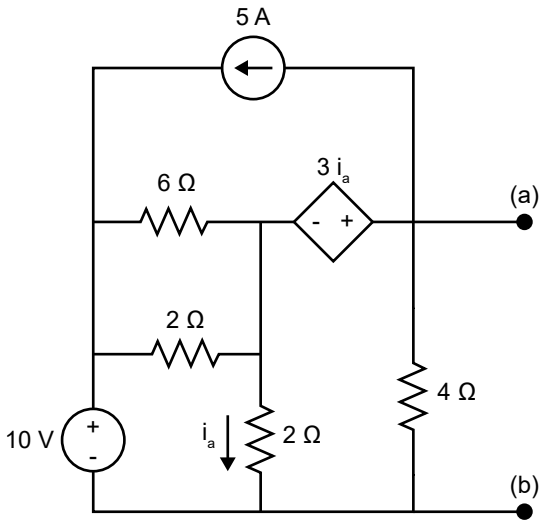
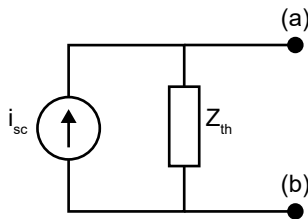


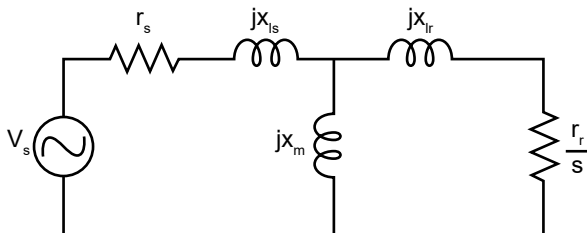
Figura 2



Considerando que o circuito da figura 2 é o equivalente de Norton do circuito ilustrado na figura 1, o valor de Z_{th} é igual a:

- A) $Z_{th} = 4,0 \Omega$
- B) $Z_{th} = 3,0 \Omega$
- C) $Z_{th} = 0,7 \Omega$
- D) $Z_{th} = 1,3 \Omega$

INSTRUÇÃO: Para responder às questões 34 e 35, considere a figura a seguir, que ilustra o circuito equivalente por fase de uma máquina de indução trifásica de 50 hp, 60 Hz, 4 polos, 460 V, 1705 rpm.



Os parâmetros do circuito equivalente são:

$r_s = 0,087 \Omega$, $x_{ls} = x_{lr} = 0,302 \Omega$, $x_m = 13,08 \Omega$ e $r_r = 0,2 \Omega$.

O escorregamento é representado por s .

QUESTÃO 34

Se a máquina opera com um escorregamento $s = 0,028$, a corrente suprida pela fonte de alimentação (V_s) é igual a:

- A) $i_s = 71,5 \angle -32^\circ \text{ A}$
- B) $i_s = 39,42 \angle -31,7^\circ \text{ A}$
- C) $i_s = 51,5 \angle 0^\circ \text{ A}$
- D) $i_s = 41,27 \angle -32^\circ \text{ A}$

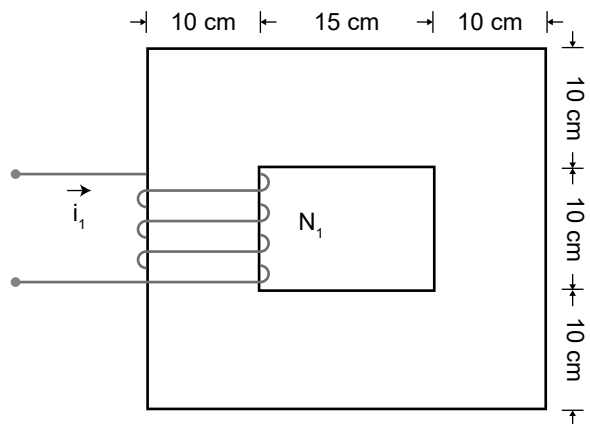
QUESTÃO 35

Se a máquina opera com um escorregamento $s = 0,056$, o fator de potência nos terminais da fonte de alimentação é igual a:

- A) $fp = 0,91$ atrasado
- B) $fp = 0,94$ indutivo
- C) $fp = 0,99$ indutivo
- D) $fp = 0,91$ adiantado

QUESTÃO 36

A figura a seguir ilustra o perfil de um circuito magnético, com profundidade igual a 10 cm. A permeabilidade relativa do material é $\mu_r = 2000$, o número de espiras é $N_1 = 300$, e a corrente que circula no enrolamento é $i_1 = 1\text{A}$. A permeabilidade do vácuo é $\mu_0 = 4\pi \times 10^{-7} \text{ H/m}$.



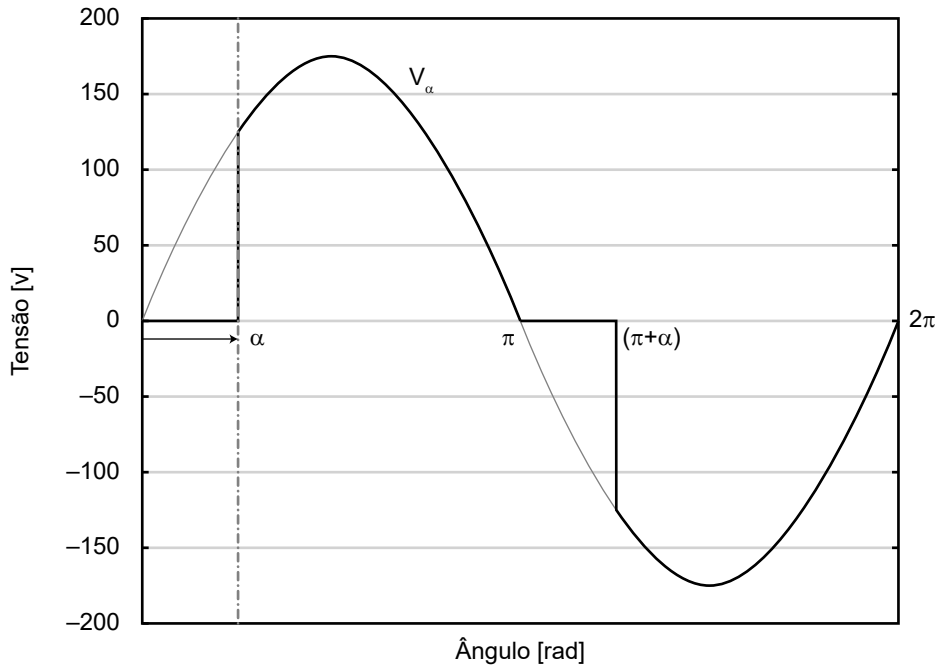
Desprezando o efeito de saturação magnética e a dispersão de fluxo, a indutância nos terminais do enrolamento é:

- A) $L = 1,6 \text{ mH}$
- B) $L = 2,5 \text{ mH}$
- C) $L = 8,4 \text{ mH}$
- D) $L = 2,51 \text{ mH}$

QUESTÃO 37

Considere a forma de onda da tensão de saída (V_a) de um conversor eletrônico, conectado a uma rede monofásica com tensão eficaz de 127 V. O conversor opera com um ângulo de disparo igual a α .

Analise a figura a seguir.

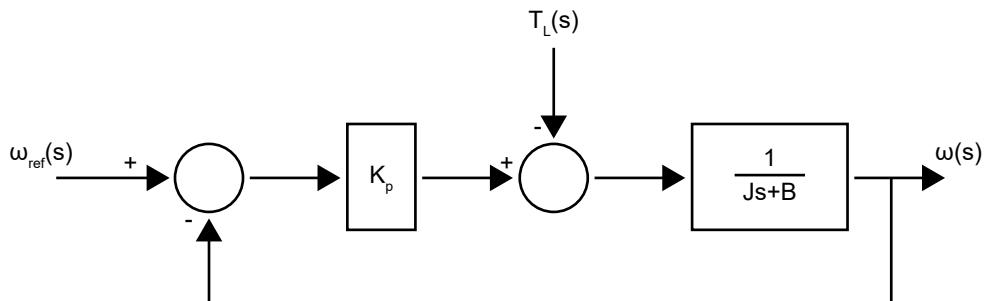


O valor eficaz da tensão (V_{rms}), em função do ângulo α , é igual a:

- A) $V_{rms} = 180 \sqrt{\frac{1}{2} + \frac{1}{4\pi} \text{sen}(\alpha)}$
- B) $V_{rms} = \frac{180}{\sqrt{2}} \sqrt{1 - \alpha + \frac{1}{2\pi} \text{sen}(\alpha)}$
- C) $V_{rms} = \frac{180}{\sqrt{2}} \sqrt{1 - \alpha + \frac{1}{2\pi} \text{sen}(2\alpha)}$
- D) $V_{rms} = \frac{180}{\sqrt{2}} \sqrt{1 + \alpha + \frac{1}{2\pi} \text{sen}(2\alpha)}$

QUESTÃO 38

A figura a seguir ilustra o diagrama em blocos, no domínio de Laplace, de um sistema realimentado.



Para uma entrada ω_{ref} nula e uma entrada T_L em degrau, com magnitude A, o valor de regime permanente da saída $\omega(t)$ é:

- A) $\frac{A}{K_p + B}$
- B) $\frac{A}{K_p}$
- C) 0
- D) A

QUESTÃO 39

Com relação ao critério das áreas iguais, aplicado na análise de sistemas elétricos, assinale com V as afirmativas verdadeiras e com F as falsas.

- () O critério das áreas iguais é utilizado para a determinação da estabilidade de um sistema de energia elétrica, quando da ocorrência de contingências, particularmente as faltas, sejam elas trifásicas, bifásicas ou monofásicas.
- () O critério das áreas iguais é um método alternativo à solução numérica da equação de oscilação (*swing equation*) para a análise de estabilidade em situações que envolvam um gerador conectado ao barramento infinito ou a outro gerador.
- () Entre as informações que podem ser obtidas pela aplicação do critério das áreas iguais está o tempo crítico de interrupção da falta.
- () A aplicação do critério das áreas iguais pressupõe a consideração de que a potência mecânica no eixo do gerador se mantém constante durante todo o período de análise.

Assinale a sequência correta.

- A) V F V V
- B) F V F F
- C) V F F F
- D) F V V V

QUESTÃO 40

Com base na Norma Brasileira ABNT NBR 5410, assinale com V as afirmativas verdadeiras e com F as falsas.

- () O esquema de aterramento TN-S é aquele no qual as funções de neutro e de proteção são combinadas em um único condutor, na totalidade do esquema.
- () O esquema de aterramento TT é aquele que possui um ponto da alimentação diretamente aterrado, estando as massas da instalação ligadas a eletrodo(s) de aterramento eletricamente distintos do eletrodo de aterramento da alimentação.
- () Instalações elétricas em que o neutro da alimentação é aterrado por impedância é considerado esquema IT, desde que as massas da instalação sejam ligadas a um mesmo eletrodo de aterramento, o qual é distinto do eletrodo de aterramento da alimentação.
- () No esquema de aterramento TN-C, o neutro e o condutor de proteção são conectados em um mesmo eletrodo de aterramento, mas as massas podem ser conectadas a eletrodos de aterramento diferentes.

Assinale a sequência correta.

- A) V F V V
- B) F V V F
- C) V V F V
- D) F V F F

QUESTÃO 41

Com base na Norma Brasileira ABNT NBR 5410, numere a COLUNA II de acordo com a COLUNA I, indicando as definições corretas para os esquemas de aterramento.

COLUNA I

1. TN-S
2. TN-C-S
3. TN-C
4. IT
5. TT

COLUNA II

- () Aterramento no qual as funções de neutro e de proteção são combinadas em um único condutor, na totalidade do esquema.
- () Esquema de aterramento que possui um ponto da alimentação diretamente aterrado, estando as massas da instalação ligadas a eletrodo(s) de aterramento eletricamente distintos do eletrodo de aterramento da alimentação.
- () Instalações elétrica em que o neutro da alimentação é isolado ou aterrado por impedância.
- () Esquema de aterramento no qual o condutor neutro e o condutor de proteção são distintos.
- () Aterramento no qual as funções de neutro e proteção são combinadas em um único condutor em uma parte do circuito.

Assinale a sequência correta.

- A) 3 2 5 4 1
- B) 4 1 5 3 2
- C) 3 5 4 1 2
- D) 2 5 1 3 4

QUESTÃO 42

Com base na Norma Brasileira ABNT NBR 5410, assinale a alternativa incorreta.

- A) Em qualquer ponto de utilização de uma instalação elétrica, a queda de tensão verificada não deve ser superior a 7%, calculados a partir dos terminais de saída do gerador, no caso de grupo gerador próprio.
- B) Quedas de tensão superiores a 7% podem ser permitidas para equipamentos com correntes de partida elevada, durante o período de partida.
- C) Para o cálculo da queda de tensão em um circuito, deve ser utilizada a corrente de projeto do circuito, não se considerando as correntes de ordem harmônica superiores à 17ª ordem.
- D) Em qualquer ponto de utilização de uma instalação elétrica, a queda de tensão verificada não deve ser superior a 7%, calculados a partir dos terminais secundários do transformador MT/BT, no caso de transformador de propriedade da unidade consumidora.

QUESTÃO 43

Com base na Norma Brasileira ABNT NBR 5410, assinale com V as afirmativas verdadeiras e com F as falsas.

- () O uso de dispositivos de proteção de corrente diferencial-residual não é reconhecido como proteção adicional contra choques elétricos, mas como proteção obrigatória, a partir da versão de 2004 da norma.
- () Os dispositivos de proteção de corrente diferencial-residual devem possuir correntes diferenciais-residuais nominais inferiores a 10 mA.
- () É obrigatório o uso de dispositivos de proteção de corrente diferencial-residual em residências, em locais como área de serviço e cozinha.
- () No que se refere a tomadas de corrente, a exigência de proteção adicional por dispositivo de proteção de corrente diferencial-residual de alta sensibilidade se aplica apenas a tomadas com correntes nominais até de 32 A.

Assinale a sequência correta.

- A) F F V V
- B) V V F F
- C) V F F V
- D) F V F F

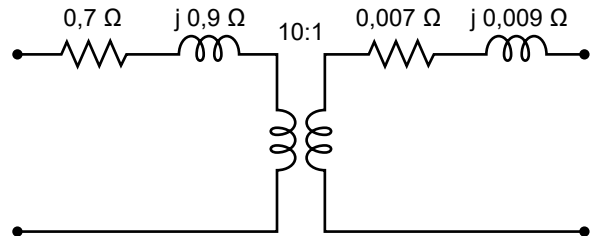
QUESTÃO 44

Com base na Resolução Normativa ANEEL nº 1.000, de 07 de dezembro de 2021, alterada pela REN ANEEL nº 1.059, de 07 de fevereiro de 2023, assinale a alternativa incorreta.

- A) Uma usina geradora de energia solar fotovoltaica com potência de 2,5 MW, conectada ao sistema de distribuição de energia elétrica por meio de instalações da unidade consumidora, é considerada minigeração distribuída.
- B) O Sistema de Compensação de Energia Elétrica (SCEE) é o sistema no qual energias ativa ou reativa são injetadas pelas unidades consumidoras com microgeração ou minigeração distribuída na rede da distribuidora local, para posterior utilização para compensar o consumo de energia ou contabilizar como crédito.
- C) Uma unidade consumidora do grupo B, não participante do Sistema de Compensação de Energia Elétrica, atendida por rede trifásica, será faturada pela distribuidora de energia em, no mínimo, 100 kWh.
- D) O excedente de energia é a diferença positiva entre a energia elétrica injetada e a energia elétrica consumida por unidade consumidora com microgeração ou minigeração distribuída, apurada por posto tarifário a cada ciclo de faturamento.

QUESTÃO 45

Um transformador monofásico de 25 kVA e 2400:240 V é utilizado para alimentação de uma carga em baixa tensão, que opera com a corrente nominal do transformador e com um fator de potência de 0,8 indutivo. O primário do transformador é conectado a um alimentador com tensão de 2400 V, relação X/R igual a 5 e potência de curto-circuito igual a 1 MVA. O circuito equivalente do transformador é ilustrado na figura a seguir.



Desprezando a corrente de excitação e as perdas magnéticas, a tensão sobre os terminais da carga (V_L) será:

- A) $V_L = 237,7 \angle -0,15^\circ \text{ V}$
- B) $V_L = 236,8 \angle -0,6^\circ \text{ V}$
- C) $V_L = 233,3 \angle -1,14^\circ \text{ V}$
- D) $V_L = 240 \angle 0^\circ \text{ V}$

FOLHA DE RESPOSTAS (VERSÃO DO CANDIDATO)

1	A	B	C	D	24	A	B	C	D
	<input type="checkbox"/>	<input type="checkbox"/>	<input type="checkbox"/>	<input type="checkbox"/>		<input type="checkbox"/>	<input type="checkbox"/>	<input type="checkbox"/>	<input type="checkbox"/>
2	A	B	C	D	25	A	B	C	D
	<input type="checkbox"/>	<input type="checkbox"/>	<input type="checkbox"/>	<input type="checkbox"/>		<input type="checkbox"/>	<input type="checkbox"/>	<input type="checkbox"/>	<input type="checkbox"/>
3	A	B	C	D	26	A	B	C	D
	<input type="checkbox"/>	<input type="checkbox"/>	<input type="checkbox"/>	<input type="checkbox"/>		<input type="checkbox"/>	<input type="checkbox"/>	<input type="checkbox"/>	<input type="checkbox"/>
4	A	B	C	D	27	A	B	C	D
	<input type="checkbox"/>	<input type="checkbox"/>	<input type="checkbox"/>	<input type="checkbox"/>		<input type="checkbox"/>	<input type="checkbox"/>	<input type="checkbox"/>	<input type="checkbox"/>
5	A	B	C	D	28	A	B	C	D
	<input type="checkbox"/>	<input type="checkbox"/>	<input type="checkbox"/>	<input type="checkbox"/>		<input type="checkbox"/>	<input type="checkbox"/>	<input type="checkbox"/>	<input type="checkbox"/>
6	A	B	C	D	29	A	B	C	D
	<input type="checkbox"/>	<input type="checkbox"/>	<input type="checkbox"/>	<input type="checkbox"/>		<input type="checkbox"/>	<input type="checkbox"/>	<input type="checkbox"/>	<input type="checkbox"/>
7	A	B	C	D	30	A	B	C	D
	<input type="checkbox"/>	<input type="checkbox"/>	<input type="checkbox"/>	<input type="checkbox"/>		<input type="checkbox"/>	<input type="checkbox"/>	<input type="checkbox"/>	<input type="checkbox"/>
8	A	B	C	D	31	A	B	C	D
	<input type="checkbox"/>	<input type="checkbox"/>	<input type="checkbox"/>	<input type="checkbox"/>		<input type="checkbox"/>	<input type="checkbox"/>	<input type="checkbox"/>	<input type="checkbox"/>
9	A	B	C	D	32	A	B	C	D
	<input type="checkbox"/>	<input type="checkbox"/>	<input type="checkbox"/>	<input type="checkbox"/>		<input type="checkbox"/>	<input type="checkbox"/>	<input type="checkbox"/>	<input type="checkbox"/>
10	A	B	C	D	33	A	B	C	D
	<input type="checkbox"/>	<input type="checkbox"/>	<input type="checkbox"/>	<input type="checkbox"/>		<input type="checkbox"/>	<input type="checkbox"/>	<input type="checkbox"/>	<input type="checkbox"/>
11	A	B	C	D	34	A	B	C	D
	<input type="checkbox"/>	<input type="checkbox"/>	<input type="checkbox"/>	<input type="checkbox"/>		<input type="checkbox"/>	<input type="checkbox"/>	<input type="checkbox"/>	<input type="checkbox"/>
12	A	B	C	D	35	A	B	C	D
	<input type="checkbox"/>	<input type="checkbox"/>	<input type="checkbox"/>	<input type="checkbox"/>		<input type="checkbox"/>	<input type="checkbox"/>	<input type="checkbox"/>	<input type="checkbox"/>
13	A	B	C	D	36	A	B	C	D
	<input type="checkbox"/>	<input type="checkbox"/>	<input type="checkbox"/>	<input type="checkbox"/>		<input type="checkbox"/>	<input type="checkbox"/>	<input type="checkbox"/>	<input type="checkbox"/>
14	A	B	C	D	37	A	B	C	D
	<input type="checkbox"/>	<input type="checkbox"/>	<input type="checkbox"/>	<input type="checkbox"/>		<input type="checkbox"/>	<input type="checkbox"/>	<input type="checkbox"/>	<input type="checkbox"/>
15	A	B	C	D	38	A	B	C	D
	<input type="checkbox"/>	<input type="checkbox"/>	<input type="checkbox"/>	<input type="checkbox"/>		<input type="checkbox"/>	<input type="checkbox"/>	<input type="checkbox"/>	<input type="checkbox"/>
16	A	B	C	D	39	A	B	C	D
	<input type="checkbox"/>	<input type="checkbox"/>	<input type="checkbox"/>	<input type="checkbox"/>		<input type="checkbox"/>	<input type="checkbox"/>	<input type="checkbox"/>	<input type="checkbox"/>
17	A	B	C	D	40	A	B	C	D
	<input type="checkbox"/>	<input type="checkbox"/>	<input type="checkbox"/>	<input type="checkbox"/>		<input type="checkbox"/>	<input type="checkbox"/>	<input type="checkbox"/>	<input type="checkbox"/>
18	A	B	C	D	41	A	B	C	D
	<input type="checkbox"/>	<input type="checkbox"/>	<input type="checkbox"/>	<input type="checkbox"/>		<input type="checkbox"/>	<input type="checkbox"/>	<input type="checkbox"/>	<input type="checkbox"/>
19	A	B	C	D	42	A	B	C	D
	<input type="checkbox"/>	<input type="checkbox"/>	<input type="checkbox"/>	<input type="checkbox"/>		<input type="checkbox"/>	<input type="checkbox"/>	<input type="checkbox"/>	<input type="checkbox"/>
20	A	B	C	D	43	A	B	C	D
	<input type="checkbox"/>	<input type="checkbox"/>	<input type="checkbox"/>	<input type="checkbox"/>		<input type="checkbox"/>	<input type="checkbox"/>	<input type="checkbox"/>	<input type="checkbox"/>
21	A	B	C	D	44	A	B	C	D
	<input type="checkbox"/>	<input type="checkbox"/>	<input type="checkbox"/>	<input type="checkbox"/>		<input type="checkbox"/>	<input type="checkbox"/>	<input type="checkbox"/>	<input type="checkbox"/>
22	A	B	C	D	45	A	B	C	D
	<input type="checkbox"/>	<input type="checkbox"/>	<input type="checkbox"/>	<input type="checkbox"/>		<input type="checkbox"/>	<input type="checkbox"/>	<input type="checkbox"/>	<input type="checkbox"/>
23	A	B	C	D					
	<input type="checkbox"/>	<input type="checkbox"/>	<input type="checkbox"/>	<input type="checkbox"/>					

AO TRANSFERIR ESSAS MARCAÇÕES PARA A FOLHA DE RESPOSTAS,
OBSERVE AS INSTRUÇÕES ESPECÍFICAS DADAS NA CAPA DA PROVA.

USE CANETA ESFEROGRÁFICA AZUL OU PRETA.



Segundo a Lei nº 9.610/1998, reproduções de natureza não pedagógicas das questões desta prova estão proibidas.