



CONCURSO PÚBLICO
PREFEITURA MUNICIPAL DE PRIMAVERA DO LESTE - MT

EDITAL Nº 01.001/2023

FISCAL DE OBRAS E POSTURA

Duração: 4h (quatro horas)

Leia atentamente as instruções abaixo:

- 01** Você recebeu do fiscal o seguinte material:
a) Este caderno, com 50 (cinquenta) questões da Prova Objetiva, sem repetição ou falha, conforme distribuição abaixo:

CONHECIMENTOS BÁSICOS				CONHECIMENTOS ESPECÍFICOS
LÍNGUA PORTUGUESA	RACIOCÍNIO LÓGICO E MATEMÁTICO	CONHECIMENTOS GERAIS E LEGISLAÇÃO	NOÇÕES DE INFORMÁTICA	
1 a 10	11 a 15	16 a 20	21 a 30	31 a 50

- b) Um Cartão de Respostas destinado às respostas das questões objetivas.

- 02** Verifique se este material está em ordem e se o seu nome, RG, cargo e número de inscrição conferem com os dados que aparecem no Cartão de Respostas. Caso contrário, notifique imediatamente o fiscal.
- 03** Após a conferência, o candidato deverá assinar no espaço próprio do Cartão de Respostas, com caneta esferográfica de tinta na cor azul ou preta.
- 04** No Cartão de Respostas da prova objetiva, a marcação da alternativa correta deve ser feita cobrindo a letra correspondente ao número da questão e preenchendo todo o espaço interno, com caneta esferográfica de tinta na cor azul ou preta, de forma contínua e densa.

Exemplo: A B C D

- 05** Para cada uma das questões objetivas, são apresentadas 4 (quatro) alternativas classificadas com as letras (A, B, C e D), mas só uma responde adequadamente à questão proposta. Você só deve assinalar uma alternativa. A marcação em mais de uma alternativa anula a questão, mesmo que uma das respostas esteja correta.
- 06** O candidato poderá entregar seu Cartão de Respostas, seu Caderno de Questões e retirar-se da sala de prova somente depois de decorrida 1 (uma) hora do início da prova. O candidato que insistir em sair da sala de prova, descumprindo o aqui disposto, deverá assinar o Termo de Ocorrência declarando sua desistência do Concurso, que será lavrado pelo Coordenador do Local.
- 07** Ao candidato, será permitido levar seu CADERNO DE QUESTÕES a partir de 1 (uma) hora para o término da prova e desde que permaneça em sala até esse momento.
- 08** Não será permitida a cópia de gabarito no local de prova. Ao terminar a prova de Conhecimentos, o candidato entregará obrigatoriamente o seu CARTÃO DE RESPOSTAS e o seu CADERNO DE QUESTÕES ao fiscal de sala, ressalvado o estabelecido em Edital.
- 09** Reserve os 30 (trinta) minutos finais para marcar seu Cartão de Respostas. Os rascunhos e as marcações assinaladas no Caderno de Questões não serão levados em consideração.
- 10** Os 3 (três) últimos candidatos permanecerão sentados até que todos concluem a prova ou que termine o seu tempo de duração, devendo assinar a ata de sala e retirar-se juntos.

LÍNGUA PORTUGUESA

Leia o texto a seguir:

Para onde vai o mercado da música?

Gilberto Menezes Côrtes

As mudanças culturais causadas pela internet e a difusão do “streaming” via celular abalaram o mundo musical, aborda estudo da *Goldman Sachs*, que prevê transformações ainda mais estruturais na indústria da música. Caro leitor, não sei se você já parou para pensar há quantos anos não compra um CD? Rememorando com os meus botões, acho que há uns 20 anos. Parece evidente que o “streaming” mudou radicalmente o modo de consumo da música. A aferição do sucesso está no interesse do público pelos shows ao vivo.

Dois fatos desta semana chamam a atenção para comprovar como se faz sucesso nesse mercado: as vendas de ingressos para as apresentações de Paul McCartney, aos 81 anos, no Brasil em dezembro, se esgotaram em várias cidades. Em sentido oposto, a cantora Simone Bittencourt, grande sucesso no país nos anos 80 e 90, teve um show cancelado em São José dos Campos (SP), por falta de público. A cantora baiana, de 74 anos, pôs à venda 1.400 ingressos. Sem retorno de público, amargou prejuízo de R\$ 100 mil.

Para onde vai o som

Segundo a *Goldman Sachs Research*, a indústria da música está à beira de outra grande mudança estrutural. Apesar da indústria ainda não conseguir monetizar totalmente seu conteúdo, com os serviços de streaming de música obtendo menos receita para cada música transmitida, os analistas do banco de investimentos esperam que o setor cresça e capture novas oportunidades de negócios. A projeção é de que a receita global de música gravada cresça 7,5% em 2023 (contra 7,3% na previsão anterior), com taxa de crescimento anual composta de 8,6% entre 2023 e 2030 (a curva quase não mudou).

À medida que as barreiras à criação e distribuição de música diminuíram, o número de músicas lançadas em plataformas de “streaming” disparou. O consumo de “streams” de música aumentou 2,5 vezes desde 2017. Isso seria uma ótima notícia para as gravadoras, não fosse o fato de que a receita por “stream” caiu 20% neste período. E a receita da música, derivada da despesa das pessoas em entretenimento, está hoje bem abaixo do nível de 1998.

A receita média por usuário em serviços pagos de “streaming” de música encolheu 40% desde 2016. O declínio veio quando serviços de “streaming” como *Apple Music* e *Spotify* introduziram planos familiares, diminuindo preços para usuários agrupados.

O X da questão, segundo a Goldman Sachs, é saber como essa tensão entre consumo e preço provavelmente se desenrolará daqui para frente. As primeiras evidências sugerem que as plataformas de “streaming” podem ter mais poder de precificação do que demonstraram nos anos anteriores. Recentemente, várias das principais plataformas de “streaming” de música promoveram aumentos de preços em seus serviços padrão pela 1ª vez em uma década. Por ora esses aumentos de preços tiveram impacto insignificante ou nenhum impacto na receita das plataformas.

Fonte: <https://www.jb.com.br/columnistas/o-outro-lado-da-moeda/2023/08/1045467-para-onde-vai-o-mercado-da-musica.html>. Acesso em 30/08/2023

1. De acordo com o texto, o mercado musical:

- A) passou a ser dominado exclusivamente pelas plataformas de “streaming”
- B) tem sido muito rentoso, já que os lucros com serviços pagos por “streaming” têm sido crescentes
- C) foi bastante impactado pela internet, especialmente pelo aumento de músicas em plataformas de “streaming”
- D) sofreu profundas transformações, a ponto de os artistas já não conseguirem lucros por meio de apresentações e shows

2. Por meio da leitura do texto, pode-se inferir que o futuro do mercado musical:

- A) provavelmente envolverá menos pirataria cibernética, haja vista os crescentes mecanismos tecnológicos de controle
- B) certamente retornará ao clássico comércio de CDs, que voltarão a ser vendidos em maior escala
- C) sem dúvida será dominado pelas plataformas de “streaming”, cada vez mais rentosas
- D) é incerto, já que a tensão entre consumo e preço ainda poderá sofrer alterações

3. Em “**Apesar da** indústria ainda não conseguir monetizar totalmente seu conteúdo, com os serviços de streaming de música obtendo menos receita para cada música transmitida, os analistas do banco de investimentos esperam que o setor cresça e capture novas oportunidades de negócios” (3º parágrafo), o conector exprime noção semântica de:

- A) causa
- B) condição
- C) concessão
- D) consequência

4. “As mudanças culturais causadas pela internet e a difusão do “streaming” via celular **abalaram** o mundo musical” (1º parágrafo). Caso o verbo destacado estivesse no futuro do pretérito, essa frase seria:

- A) “As mudanças culturais causadas pela internet e a difusão do “streaming” via celular **abalavam** o mundo musical”
- B) “As mudanças culturais causadas pela internet e a difusão do “streaming” via celular **abalariam** o mundo musical”
- C) “As mudanças culturais causadas pela internet e a difusão do “streaming” via celular **abalarão** o mundo musical”
- D) “As mudanças culturais causadas pela internet e a difusão do “streaming” via celular **abalam** o mundo musical”

5. “Rememorando com os meus botões, acho que **há** uns 20 anos” (1º parágrafo). De acordo com a norma-padrão da língua portuguesa, outra maneira de reescrever a frase destacada seria:

- A) “Rememorando com os meus botões, acho que **tem** uns 20 anos”
- B) “Rememorando com os meus botões, acho que **têm** uns 20 anos”
- C) “Rememorando com os meus botões, acho que **faz** uns 20 anos”
- D) “Rememorando com os meus botões, acho que **fazem** uns 20 anos”

6. No trecho “O X da questão, **segundo a Goldman Sachs**, é saber como essa tensão entre consumo e preço provavelmente se desenrolará daqui para frente” (6º parágrafo), o termo destacado tem a função de indicar:

- A) conformidade
- B) enumeração
- C) comparação
- D) explicação

7. Em “A **aferição** do sucesso está no **interesse** do público pelos shows ao vivo” (1º parágrafo), as duas palavras destacadas pertencem:

- A) à mesma classe palavras, já que são dois adjetivos
- B) à mesma classe palavras, já que são dois substantivos
- C) a classes de palavras diferentes, já que “aferição” é substantivo e “interesse” é adjetivo
- D) a classes de palavras diferentes, já que “aferição” é adjetivo e “interesse” é substantivo

8. Em “**À medida que** as barreiras à criação e distribuição de música diminuíram, o número de músicas lançadas em plataformas de ‘streaming’ disparou” (4º parágrafo), o conector destacado introduz uma oração subordinada adverbial:

- A) comparativa
- B) proporcional
- C) temporal
- D) causal

9. No trecho “Caro leitor, não sei se você já parou para pensar há quantos anos não compra um CD?” (1º parágrafo), a vírgula foi utilizada para:

- A) isolar um vocativo
- B) indicar um aposto
- C) enumerar elementos
- D) coordenar uma oração

10. Em “**Rememorando com os meus botões**, acho que há uns 20 anos” (1º parágrafo), o trecho destacado indica um uso mais informal da linguagem. Uma reescrita dessa expressão, em um nível maior de formalidade, sem alteração significativa de sentido, seria:

- A) “Fazendo de conta”
- B) “Tergiversando”
- C) “Traduzindo”
- D) “Refletindo”

RACIOCÍNIO LÓGICO

11. Alessandro devia realizar duas etapas de uma determinada tarefa em no máximo x horas. Para realizar a etapa 1, ele gastou $\frac{1}{5}$ do tempo disponível. Para realizar a etapa 2, ele gastou $\frac{5}{6}$ do tempo restante, finalizando, assim, a tarefa 26 minutos antes do prazo máximo.

Desse modo, o valor de x corresponde a:

- A) 2,15
- B) 2,45
- C) 3,15
- D) 3,25

12. Em um grupo de 95 pessoas, 38 são divertidos, 38 são caridosos e 38 não são caridosos nem divertidos.

Se x representa a quantidade de pessoas desse grupo que são caridosas e divertidas e y é a quantidade de pessoas que não são caridosas, então x é igual a:

- A) $y/2$
- B) $y/3$
- C) $2y$
- D) $3y$

13. Todos os termos da sequência (0, 1, 1, 3, 4, 1, 5, x) foram obtidos segundo um determinado padrão, sempre em operações que envolvem o número 19.

O valor de x é:

- A) 1
- B) 2
- C) 3
- D) 4

14. Em uma loja, o preço de uma camisa é 20% maior que o preço de uma bermuda, cujo preço é 25% menor do que o preço de um tênis.

Portanto, o preço dessa camisa é M % menor do que o preço desse tênis. O valor de M é igual a:

- A) 6
- B) 8
- C) 10
- D) 12

15. De um grupo formado por oito profissionais, quatro deles formarão uma equipe para realizar uma determinada tarefa. Dos quatro escolhidos, um será o coordenador e outro será o seu assistente.

Considerando que todos os profissionais podem ocupar qualquer um desses dois cargos, o número máximo de equipes distintas corresponde a:

- A) 840
- B) 850
- C) 860
- D) 880

CONHECIMENTOS GERAIS E LEGISLAÇÃO

16. Considerado um marco na política internacional, foi o primeiro tratado internacional cujo compromisso era reduzir os gases de efeito estufa.

O texto refere-se ao protocolo de:

- A) Kyoto
- B) Montreal
- C) Cartagena
- D) Ouro Preto

17. De acordo com Fundação Getúlio Vargas (FGV), 9 dos 10 municípios com as maiores rendas médias são produtores de soja.

(Disponível em: <https://primaveradoleste.cliquef5.com.br/noticias/primavera-do-leste-e-a-cidade-mais-rica-do-estado-de-mato-grosso/329769>. Acesso em 30/08/23)

O cálculo da renda média das pessoas residentes em determinado espaço geográfico indica:

- A) a concentração de renda de uma determinada população
- B) o grau de desigualdade de uma determinada população
- C) a proteção do emprego de uma determinada população
- D) o nível econômico de uma determinada população

18. “Por isso mesmo, o ‘coronelismo’ é sobretudo um compromisso, uma troca de proveitos entre o poder público, progressivamente fortalecido, e a decadente influência social dos chefes locais, notadamente dos senhores de terras. Não é possível, pois, compreender o fenômeno sem referência à nossa estrutura agrária, que fornece a base de sustentação das manifestações de poder privado ainda tão visíveis no interior do Brasil.”

(LEAL, Vítor Nunes. Coronelismo, enxada e voto. São Paulo: Cia das Letras, 2012, p. 23.)

Como características e práticas do fenômeno do Coronelismo, que predominou durante a República Oligárquica no Brasil, pode-se destacar:

- A) a troca de favores entre a população sertaneja, miserável, excluída de seus direitos e os comandantes do Exército brasileiro
- B) o elevado grau de consciência política da população sertaneja, mesmo vivendo em condições de completa pobreza e miséria
- C) a centralização política e administrativa que marcou toda a Primeira República, governada pelos grandes proprietários de terras
- D) uma série de práticas de controle político e social, como o voto de cabresto, o curral eleitoral e as inúmeras fraudes eleitorais

19. “Para a América Latina, o crash nos Estados Unidos simplesmente fechou as portas de seu principal mercado consumidor de matérias-primas, além de estancar o fluxo de investimentos e produtos estrangeiros.”

(BRENER, Jayme. 1929: *A crise que mudou o mundo*. São Paulo: Ática, 1996, p. 36.)

Logo que assumiu o governo, Getúlio Vargas adotou como prioridade:


- A) incentivar o extrativismo do látex na Floresta Amazônica, para a produção da borracha
- B) promover a atração de investimentos estrangeiros no país, concedendo incentivos fiscais
- C) promover o desenvolvimento industrial brasileiro, em bases nacionalistas, com investimentos estatais
- D) fazer a reforma agrária, para incentivar a diversificação da produção da economia brasileira, para além da cafeicultura

20. À luz dos direitos e das garantias fundamentais, certo é que a atual Constituição Federal de 1988 assegura aos reconhecidamente pobres, a título gratuito, na forma da lei, o seguinte:

- A) registro civil de nascimento e certidão de óbito
- B) registro civil de nascimento e certidão negativa de protesto
- C) registro civil de nascimento e certidão de registro de imóveis
- D) registro civil de nascimento e certidão de concordata e recuperação de empresa

INFORMÁTICA

21. Na conexão de uma impressora multifuncional via cabo USB a um microcomputador versão desktop, a instalação requer um cabo com dois conectores. Os conectores estão indicados na figura:



22. No uso dos recursos do Word 2013 BR (x64), enquanto um atalho de teclado tem por função copiar o trecho de um texto selecionado para a área de transferência, outro se destina a colar o trecho de texto da área de transferência para o local onde se encontra o cursor do mouse. Esses atalhos de teclado são, respectivamente:

- A) Ctrl + X e Ctrl + Z
- B) Ctrl + E e Ctrl + Y
- C) Ctrl + C e Ctrl + V
- D) Ctrl + F e Ctrl + G

23. As planilhas PL1 e PL2 mostradas em (a) e em (b) fazem parte de um mesmo arquivo PRIMAVERA.XLSX, tendo sido criadas no Excel 2013 BR (x64).

(a)

	A	B	C	D	E
1					
2					
3	Planilha PL1		2023		
4					
5	18	Valor a ser transportado para PL2 :			
6	17				
7	13	Média =	16		

(b)

	A	B	C	D	
1					
2					
3	Planilha PL2		2023		
4					
5	Valor transportado de PL1 :				
6					
				16	

- I. Na planilha PL1 em (a), foi inserida, em D7, uma fórmula que determina a média aritmética de todos os números em A5, A6 e A7.
- II. Na planilha PL2 em (b), foi inserida, em C6, uma fórmula que transfere o valor de D7 em PL1 para C6 em PL2.

As fórmulas inseridas em D7 (de PL1) e, em C6 (de PL2), são, respectivamente:

- A) =MÉDIA(A5:A7) e =PL1&D7
- B) =MÉDIA(A5:A7) e =PL1!D7
- C) =MED(A5:A7) e =PL1&D7
- D) =MED(A5:A7) e =PL1!D7


24. Um funcionário da Prefeitura de Primavera do Leste – MT está montando uma apresentação de slides no Powerpoint do pacote Office 365 BR. Durante essa atividade, ele selecionou o slide 3 e acionou uma guia da Barra de Menu que mostrou na Faixa de Opções os recursos da figura,



utilizados na apresentação. Ao final, resolveu inserir um novo slide em branco, o que foi possível por meio da execução de um atalho de teclado. Nessas condições, a guia da Barra de Menu e o atalho de teclado são, respectivamente:

- A) Animações e Ctrl + M
- B) Transições e Ctrl + M
- C) Animações e Ctrl + I
- D) Transições e Ctrl + I

25. No uso dos recursos do Windows 10 BR (x64) em um notebook, um funcionário da Prefeitura de Primavera do Leste – MT deseja realizar a conexão via cabo ethernet à internet e, para isso, ele deve buscar um ícone que se encontra na Barra de Notificação, localizada no canto inferior direito da tela do monitor de vídeo. Esse ícone é



26. Atualmente, as redes de computadores padrão Ethernet cabeadas são implementadas fisicamente por meio de uma topologia que apresenta duas vantagens: a rede permanece ativa, mesmo que uma máquina esteja em pane, e novos nós à rede podem ser adicionados sem ter que interromper o seu funcionamento. Sob o aspecto físico, essa topologia é conhecida como:

- A) anel
- B) estrela
- C) hierárquica
- D) barramento

27. O Google Meet é uma plataforma que permite a realização de reuniões on-line pela internet, inclusive com o apoio e uso de arquivos de vídeo. Nesse contexto, são formatos de vídeo suportados pelo Google Meet:

- A) .mp4, .exe e .vp8
- B) .mp3, .mov e .vp8
- C) .mp3, .exe e .wmv
- D) .mp4, .mov e .wmv

28. No que se refere à organização e ao gerenciamento de arquivos, é possível pressionar uma tecla de função sobre o nome de um arquivo, no gerenciador Explorer do sistema operacional Windows 10 BR, com o objetivo de renomear esse arquivo. A tecla de função é:

- A) F2
- B) F3
- C) F4
- D) F5

29. A segurança da informação representa atualmente um dos assuntos mais importantes dentro da área de TI de uma empresa, uma vez que a informação é um dos bens mais preciosos de uma organização. Entre os princípios básicos da segurança da informação, enquanto um está associado à propriedade que garante a uma informação não ser modificada de forma não autorizada, outro está relacionado à propriedade que garante que apenas as pessoas com a devida autorização possam ter acesso a uma informação. Esses dois princípios são denominados, respectivamente:

- A) usabilidade e disponibilidade
- B) confiabilidade e autenticidade
- C) interatividade e acessibilidade
- D) integridade e confidencialidade

30. No contexto da segurança da informação, o *backup* é muito importante, pois permite que uma informação seja recuperada em caso de dano ou perda dos dados originais. Entre os tipos de *backup*, aquele que copia os arquivos criados ou modificados desde o último *backup* normal, não os marcando como arquivos que passaram pelo processo de *backup*, é conhecido como:

- A) otimizado
- B) diferencial
- C) distribuído
- D) incremental

CONHECIMENTOS ESPECÍFICOS

31. As obras realizadas no Município de Primavera do Leste – MT são submetidas à fiscalização do Município e seus responsáveis devem respeitar o disposto no Código de Obras do Município. Assim, em qualquer período de execução da obra, o órgão competente da Prefeitura pode exigir do responsável pela obra a exibição de plantas, cálculos e detalhes que julgue necessários, cabendo ao responsável apresentá-los, inicialmente, em um prazo de até:

- A) 5 dias
- B) 10 dias
- C) 15 dias
- D) 30 dias

32. É bastante comum a presença de mezaninos em edificações comerciais com o objetivo de ampliar o espaço disponível para, por exemplo, o estoque de mercadorias. De acordo com o Código de Obras do Município de Primavera do Leste - MT, o pé-direito da parte superior e da parte inferior de um mezanino são de, no mínimo:

- A) 2,10 m e 2,50 m
- B) 2,10 m e 3,00 m
- C) 2,50 m e 2,50 m
- D) 2,50 m e 3,00 m

33. De acordo com a nº Lei 497/98 do Município de Primavera do Leste – MT, a zona caracterizada por ter uso predominantemente residencial, com média densidade populacional, carência de equipamentos públicos, infraestrutura consolidada, podendo, no local, serem desenvolvidas atividades caracterizadas como comércio e serviços vicinais e de locais, é denominada:

- A) ZC-1
- B) ZR-1
- C) ZR-2
- D) ZR-3

34. Um imóvel residencial encontra-se em zona ZR-1 no Município de Primavera do Leste, conforme apresentado esquematicamente na figura a seguir:



Para essa edificação, o valor mínimo para X é de:

- A) 3,0 m
- B) 5,0 m
- C) 8,0 m
- D) 10,0 m

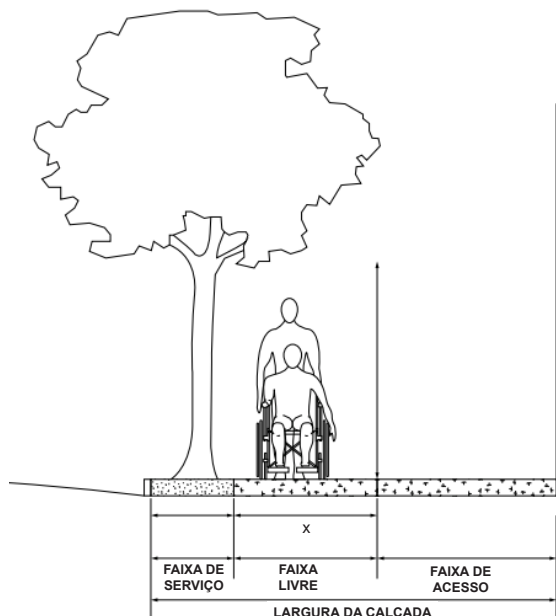
35. No Município de Primavera do Leste, a licença para execução de uma obra em logradouro público deve ser requerida com antecedência mínima de:

- A) 1 mês
- B) 2 meses
- C) 3 meses
- D) 6 meses

36. Se o agente de uma obra cumprir todos os requisitos necessários para obter a licença de construção, o Administrador Público é obrigado a concedê-la baseando-se no seu poder:

- A) Vinculado
- B) Disciplinar
- C) Discricionário
- D) Regulamentar

37. A figura a seguir apresenta a representação esquemática,



em corte, de uma calçada.

A largura mínima da faixa livre para atender aos critérios de acessibilidade apresentados na NBR 9050 é de:

- A) 0,70 m
- B) 0,80 m
- C) 1,00 m
- D) 1,20 m

38. Na construção de uma escada, deseja-se que os degraus sejam compatíveis com o critério de acessibilidade proposto na NBR 9050. Sabendo que, por questões construtivas, o espelho de cada degrau é de 18 cm, um possível valor para o piso desses degraus é:

- A) 25 cm
- B) 26 cm
- C) 28 cm
- D) 30 cm

39. Para medições de níveis de pressão sonora em ambientes internos a edificações, os pontos de medição devem se situar, pelo menos, a:

- A) 0,3 m de paredes, teto e piso e 0,5 m de janelas, portas ou entradas de ar
- B) 0,5 m de paredes, teto e piso e 0,5 m de janelas, portas ou entradas de ar
- C) 0,5 m de paredes, teto e piso e 1 m de janelas, portas ou entradas de ar
- D) 0,6 m de paredes, teto e piso e 1 m de janelas, portas ou entradas de ar

40. A avaliação sonora de um ambiente interno de uma edificação é realizada pela comparação de seus níveis de pressão sonora representativos, com os respectivos valores de referência para ambientes internos de uma edificação. Desse modo, a avaliação pelo método simplificado é realizada pela comparação:

- A) dos níveis de pressão sonora equivalente (L_{Aeq}), máximo (L_{ASmax}) e do nível NC (L_{NC}), representativos do ambiente, com os respectivos valores de RL_{Aeq} , RL_{ASmax} e RL_{NC} .
- B) apenas dos níveis de pressão sonora equivalente (L_{Aeq}) e máximo (L_{ASmax}), representativos do ambiente, com os respectivos valores de RL_{Aeq} e RL_{ASmax} .
- C) apenas dos níveis de pressão máxima (L_{ASmax}) e do nível NC (L_{NC}), representativos do ambiente, com os respectivos valores de RL_{ASmax} e RL_{NC} .
- D) apenas do nível de pressão sonora equivalente (L_{Aeq}), representativo do ambiente, com o respectivo valor de RL_{Aeq} .

41. O instrumento básico da política de desenvolvimento urbano do Município de Primavera do Leste é o/a:

- A) Código de Posturas
- B) Plano Diretor Participativo
- C) Lei de Parcelamento do Solo Urbano
- D) Declaração de Liberdade Econômica

42. De acordo com o Código de Posturas do Município de Primavera do Leste, a utilização de equipamentos sonoros fixos para fins de propagandas em logradouros e passeios públicos é:

- A) permitida tanto na frente como no interior dos estabelecimentos, desde que respeitados os limites e horários da lei
- B) proibida no interior, mas permitida na frente dos estabelecimentos, desde que respeitados os limites e horários da lei
- C) proibida na frente, mas permitida no interior dos estabelecimentos, desde que respeitados os limites e horários da lei
- D) proibida tanto na frente como no interior dos estabelecimento

43. A subdivisão de uma gleba em lotes, com aproveitamento do sistema viário existente e registrado, não implicando a abertura de novas vias e nem modificação das vias existentes, é denominada:

- A) loteamento
- B) zoneamento
- C) parcelamento
- D) desmembramento

44. Observe os objetivos listados a seguir, extraídos de um trecho da seção “Da Área Urbana” do capítulo “Do Zoneamento”, do Plano Diretor Participativo do Município de Primavera do Leste:

I - reverter e implantar novos usos e atividades, inclusive o habitacional;

II - requalificar a paisagem;

III - estabelecer um controle ambiental eficiente;

IV - valorizar e proteger o patrimônio cultural.

Esses objetivos estão relacionados à Zona:

- A) Residencial
- B) de Qualificação Urbana
- C) de Expansão Residencial
- D) de Reestruturação Urbana

45. Segundo a classificação hierárquica de comércios e serviços do Município de Primavera do Leste, um tipo de atividade que pode ser considerada como “Setorial” é o:

- A) clube
- B) cinema
- C) comércio atacadista
- D) posto de combustível

46. O processo de realização de um loteamento urbano junto à prefeitura de Primavera do Leste é composto de vários procedimentos.

Após o recebimento de um parecer favorável para o projeto de loteamento, a expedição do alvará de loteamento requer ainda uma série de projetos, dentre os quais é incluído o projeto de:

- A) terraplenagem e tratamento superficial triplo em todas as vias do loteamento
- B) terraplenagem e tratamento superficial simples em todas as vias do loteamento
- C) terraplenagem em todas as vias do loteamento, não sendo necessário projeto de asfaltamento
- D) locação, indicando a largura das vias do loteamento, não sendo necessários projetos de terraplenagem e asfaltamento

47. Alvará de localização de um estabelecimento comercial poderá ser cassado, embasado em processo próprio e assegurada a ampla defesa, no caso em que:

- A) houver lucro superior ao estabelecido em lei
- B) for exercida atividade diferente da licenciada
- C) for comprovado que o proprietário não reside no município
- D) houver emprego de mão de obra inferior ao mínimo exigido

48. O direito de preempção, estabelecido na Seção VIII da Lei nº 19.257, de 10 de julho de 2001, confere ao Poder Público municipal:

- A) liberdade para definir o uso – residencial, comercial ou industrial – de um lote público
- B) possibilidade de conceder a um ente privado o direito de utilização de uma área pública
- C) preferência para aquisição de imóvel urbano objeto de alienação onerosa entre particulares
- D) autoridade para desapropriar uma construção privada que esteja localizada no trajeto de uma via pública planejada

49. Um exemplo de evidência que impede um indivíduo que mora em um imóvel urbano de adquiri-lo por usucapião é:

- A) o imóvel possuir mais do que 200 m²
- B) o imóvel ser ocupado há apenas 7 anos
- C) o indivíduo morar com mais de uma pessoa
- D) o indivíduo ser proprietário de um imóvel rural

50. Uma medida provisória realizada pelo Poder Executivo configura-se como um ato:

- A) nem administrativo tampouco da Administração
- B) administrativo e da Administração ao mesmo tempo
- C) administrativo, mas não um ato da Administração
- D) da Administração, não um ato administrativo